













سال تحصیلی: ۸۹-۸۸  
تاریخ امتحان: ۸۹/۲/۲۴  
ساعت امتحان: صبح برافق  
مدت امتحان: ۹۰ دقیقه  
شماره صفحه: ۱

با سمه تعالی



سوال درس: زبان انگلیسی  
پایه: سوم  
دوره: راهنمایی  
رشته: -

نام و نام خانوادگی: دانش آموز/ داوطلب آزاد..... کشور: ..... شهر: .....

بارم	ردیف								
Spelling	الف								
(۲)	املا) املای درست تصاویر را به طور کامل بنویسید: (۲ نمره)								
	<table border="1"> <tr> <td></td> <td></td> <td></td> <td></td> </tr> <tr> <td>t-ger</td> <td>s-im</td> <td>ru-ner</td> <td>ac-ident</td> </tr> </table>					t-ger	s-im	ru-ner	ac-ident
									
t-ger	s-im	ru-ner	ac-ident						
(۴)	ب کلمات ناقص زیر را کامل کنید: 5- we went there last su - mer 7-I get up before s -nrise. 9- May I t - rn on the TV? 11- They live in a small t -wn. 6-she was c -oking dinner. 8-It may ra -n tonight. 10-He is a good spe - ker. 12-We have four g -ests today.								
(۲)	پ واژگان کلمه ی ناهماهنگ از نظر معنی را مشخص کنید 13- milk      water      garden      tea 14-football      match      tennis      ping- pong 15-German      Arabic      writer      French 16- park      ticket      bookshop      hospital								
(۲)	ت جملات زیر را با استفاده از معلومات خود کامل کنید: 17- There are a lot of ..... in the sky. 18- My friend isn't thin. She is ..... 19-We buy ..... from the butchers. 20- We go by bus because its very .....								
(۲)	ث جملات زیر را با استفاده از کلمات داده شده کامل کنید(یک کلمه اضافی است) (busy-the country- dishes- center-animals) 21- Camels aren't wild ..... 22- They will go to..... Tomorrow. 23- She was washing the dirty..... 24- They went to the shopping.....								
(۲)	ج متضاد کلمات ستون A را از ستون B پیدا کرده بنویسید A 25-begin ( ) 26-slowly ( ) 27-before ( ) 28-take off ( ) B a-after b-finish c-put on d-quickly								

نمره کتبی: ..... نمره شفاهی/ عملی: ..... جمع نمره به عدد: ..... به حروف: ..... نام و نام خانوادگی مصحح: ..... امضاء




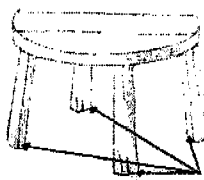
سال تحصیلی: ۸۸-۸۹  
 تاریخ امتحان: ۸۹، ۳، ۲۴  
 ساعت امتحان: ۱۰ صبح تا ۱۱ صبح  
 مدت امتحان: ۹۰ دقیقه  
 شماره صفحه: ۲

با اسمہ تعالیٰ



سوال درس: زبان انگلیسی  
 پایه: سوم  
 دوره: راهنمایی  
 رشته: -

نام و نام خانوادگی: دانش آموز/ داوطلب آزاد..... کشور: ..... شهر: .....

بارم	ردیف	سوال
(۱)	ب	<p>29-He can ..... the bicycle.</p> <p>30- They went to Abadan by.....</p>
		 
(۱)	ح	<p>31- I will p - - - her a letter.</p> <p>32- She needs some m - - - -.</p>
structure	نکات دستوری	
(۲)	خ	<p>33-We ..... have a test next Monday.</p> <p>34-They ..... watching TV between 7 and 8.</p> <p>35- Did you ..... Your sister ? yes , I saw her.</p> <p>36- I need a glass . Give ..... a glass.</p>
(۲)	د	<p>37- left - home - at 7 - my father - yesterday. ....</p> <p>38- study - you - should - your lessons -? .....</p>
(۲)	ذ	<p>39-Where was she going yesterday?                  .....</p> <p>40-What are these?                  .....</p>
		 
(۴)	ر	<p>41- He (buy - bought - buys) five books last week.</p> <p>42- I ( never goes -go never -never go) to school late.</p> <p>43- They will go to the library (every day - yesterday - soon)</p> <p>44- He is a bad player . He plays (well- badly- carefully)</p> <p>45- May I (leave - leaves - leaving)the class.</p> <p>46-(How many - How much )people are there in the mosque?</p>

نمره کتبی: ..... نمره شفاهی/ عملی: ..... جمع نمره به عدد: ..... به حروف: ..... نام و نام خانوادگی مصحح: ..... امضاء

سال تحصیلی: ۸۸-۸۹  
 تاریخ امتحان: ۲۴ شهریور ۸۹  
 ساعت امتحان: ۱۰ صبح به اوقات عصر  
 مدت امتحان: ۹۰ دقیقه  
 شماره صفحه: ۳

با اسمہ تعالیٰ



سوال درس: زبان انگلیسی  
 پایه: سوم  
 دوره: راهنمایی  
 رشته: -

نام و نام خانوادگی: دانش آموز/ داوطلب آزاد..... کشور: ..... شهر: .....

بارم		ردیف												
	47- There is (a little –many – a few) butter on the plate. 48- Do you like your brother? Yes , I like ( her –him – them )													
conve rsatio n		مکالمه												
(۲)	49-..... - No I won't. 50- ..... - Why? 51- ..... - Will you go to the park tomorrow? 52- ..... - Because I will help my mother.	ز مکالمه ی به هم ریخته زیر را مرتب کنید												
(۲)	53- A: What time .... you ....tobed? B:I went to bed at 10. 54- A: Where does he work? B:..... ..... in the library.	س مکالمه ی زیر را کامل کنید.												
read ing		درک مطلب												
(۳)		ش حرف مربوط به هر تصویر را مقابل جمله ی مربوط به آن بنویسید												
	<table border="1"> <tr> <td>A</td> <td></td> <td>B</td> <td></td> <td>C</td> <td></td> </tr> <tr> <td>D</td> <td></td> <td>E</td> <td></td> <td>F</td> <td></td> </tr> </table>	A		B		C		D		E		F		
A		B		C										
D		E		F										
	55- He is eating an apple.(     ) 56-He broke a glass this morning.(     ) 57- It is a dictionary.(     ) 58- He is putting on his clothes.(     ) 59-He has a headache.(     ) 60-He is doing his homework.(     )													

نمره کتبی: ..... نمره شفاهی/ عملی: ..... جمع نمره به عدد: ..... به حروف: ..... نام و نام خانوادگی مصحح: ..... امضاء

سوال درس زبان انگلیسی

پایه: سوم

دوره: راهنمایی

رشته: -

با سمه تعالی



سال تحصیلی: ۸۸-۸۹

تاریخ امتحان: ۸۹، ۳، ۲۴

ساعت امتحان: ۱۰ صبح به افق تهران

مدت امتحان: ۹۰ دقیقه

شماره صفحه: ۴

نام و نام خانوادگی: دانش آموز/ داوطلب آزاد ..... کشور: ..... شهر: .....

بارم	ردیف	
	ص	متن زیر به دقت بخوانید و به سوالات داده شده جواب دهید Mr Taban is a driver . He usually drives carefully .He and his family live in Tabriz. He has two children, Ali and Mina. They are good students. They will go to their uncle's house next month . He lives in Shiraz. They will stay there for a week . Their uncle is very kind . They will enjoy their visit very much.
(۲)	ص-۱	با توجه به متن بالا جملات را با کلمات مناسب کامل کنید 61- His children are ..... students. 62- Their uncle is very ..... 63- Mr Taban lives in ..... 64- They will go to Shiraz.....
(۱/۵)	ص-۲	با توجه به متن پاسخ درست را با (True) و پاسخ غلط را با (False) نشان دهید. 65- They will stay in their uncle's house. ( ) 66- Mr Taban lives in Shiraz. ( ) 67- He has four children. ( )
(۱/۵)	ص-۳	با توجه به متن پاسخ صحیح را انتخاب کنید 68- Mr Taban drives (slowly- carefully- carelessly)
(۲)	ص-۴	با توجه به متن پاسخ کامل دهید 69- What is Mr Taban? ..... 70- Where will they go next month? .....
pronunciation	تلفظ	
(۱)	ض	در هر گروه از کلمات داده شده کلمه ی ناهماهنگ را از نظر تلفظ مشخص کنید 71- face- place - picture - city ..... 72- pray - happy - ready - baby .....

نمره کتبی: ..... نمره شفاهی/ عملی: ..... جمع نمره به عدد: ..... به حروف: ..... نام و نام خانوادگی مصحح: ..... امضاء













سال تحصیلی: ۸۸-۸۹  
تاریخ امتحان: ۸۹/۲/۲۴  
ساعت امتحان: ۰۰:۰۰ صبح به این ترتیب  
مدت امتحان: ۹۰ دقیقه  
شماره صفحه: ۱

با سمه تعالی



سوال درس: زبان انگلیسی  
پایه: سوم  
دوره: راهنمایی  
رشته: -

نام و نام خانوادگی: دانش آموز/ داوطلب آزاد ..... کشور: ..... شهر: .....

بارم	ردیف										
Spelling	الف										
(۲)	<p>املا) املای درست تصاویر را به طور کامل بنویسید: (۲ نمره)</p> <table border="1"> <tr> <td></td> <td></td> <td></td> <td></td> </tr> <tr> <td>t-ger</td> <td>s-im</td> <td>ru-ner</td> <td>ac-ident</td> </tr> </table>					t-ger	s-im	ru-ner	ac-ident		
											
t-ger	s-im	ru-ner	ac-ident								
(۴)	<p>ب</p> <p>کلمات ناقص زیر را کامل کنید:</p> <p>5- we went there last su - mer 6-she was c -oking dinner. 7-I get up before s -nrise. 8-It may ra -n tonight. 9- May I t - rn on the TV? 10-He is a good spe - ker. 11- They live in a small t -wn. 12-We have four g -ests today.</p>										
(۲)	<p>پ</p> <p>وازگان</p> <p>کلمه ی ناهماهنگ از نظر معنی را مشخص کنید</p> <p>13- milk      water      garden      tea 14-football      match      tennis      ping- pong 15-German      Arabic      writer      French 16- park      ticket      bookshop      hospital</p>										
(۲)	<p>ت</p> <p>جملات زیر را با استفاده از معلومات خود کامل کنید:</p> <p>17- There are a lot of ..... in the sky. 18- My friend isn't thin. She is ..... 19-We buy ..... from the butchers. 20- We go by bus because its very .....</p>										
(۲)	<p>ث</p> <p>جملات زیر را با استفاده از کلمات داده شده کامل کنید(یک کلمه اضافی است) (busy-the country- dishes- center-animals)</p> <p>21- Camels aren't wild ..... 22- They will go to..... Tomorrow. 23- She was washing the dirty..... 24- They went to the shopping.....</p>										
(۲)	<p>ج</p> <p>متضاد کلمات ستون A را از ستون B پیدا کرده بنویسید</p> <table border="1"> <tr> <td>A</td> <td>B</td> </tr> <tr> <td>25-begin ( )</td> <td>a-after</td> </tr> <tr> <td>26-slowly ( )</td> <td>b-finish</td> </tr> <tr> <td>27-before ( )</td> <td>c-put on</td> </tr> <tr> <td>28-take off ( )</td> <td>d-quickly</td> </tr> </table>	A	B	25-begin ( )	a-after	26-slowly ( )	b-finish	27-before ( )	c-put on	28-take off ( )	d-quickly
A	B										
25-begin ( )	a-after										
26-slowly ( )	b-finish										
27-before ( )	c-put on										
28-take off ( )	d-quickly										

نمره کتبی: ..... نمره شفاهی/ عملی: ..... جمع نمره به عدد: ..... به حروف: ..... نام و نام خانوادگی مصحح: ..... امضاء





سال تحصیلی: ۸۸-۸۹  
 تاریخ امتحان: ۱۳۸۹/۳/۲۴  
 ساعت امتحان: ۱۰ صبح به وقت تهران  
 مدت امتحان: ۹۰ دقیقه  
 شماره صفحه: ۲

با سمه تعالی ۲.



سوال درس: زبان انگلیسی  
 پایه: سوم  
 دوره: راهنمایی  
 رشته: -

نام و نام خانوادگی: دانش آموز/ داوطلب آزاد ..... کشور: ..... شهر: .....

بارم	ردیف
(۱)	چ
29-He can ..... the bicycle.	با توجه به تصاویر جملات را کامل کنید 30- They went to Abadan by.....
	
(۱)	ح
31- I will p - - - her a letter. 32- She needs some m - - - -.	در جاهای خالی کلمه ی مناسب بنویسید. (اولین حرف کلمه داده شده است)
structure	نکات دستوری
(۲)	خ
33-We ..... have a test next Monday. 34-They ..... watching TV between 7 and 8. 35- Did you ..... Your sister ? yes , I saw her. 36- I need a glass . Give ..... a glass.	جاهای خالی را با دانش گرامری خود کامل کنید
(۲)	د
37- left - home - at 7 - my father - yesterday. .... 38- study - you - should - your lessons - ? .....	با کلمات به هم ریخته ی زیر جمله ی صحیح بسازید.
(۲)	ذ
39-Where was she going yesterday? ..... 	با توجه به تصاویر پاسخ کامل دهید. 40-What are these? ..... 
(۴)	ر
41- He (buy - bought - buys) five books last week. 42- I ( never goes -go never -never go) to school late. 43- They will go to the library (every day - yesterday - soon) 44- He is a bad player . He plays (well- badly- carefully) 45- May I (leave - leaves - leaving)the class. 46-(How many - How much )people are there in the mosque?	پاسخ صحیح را انتخاب کنید

نمره کتبی: ..... نمره شفاهی/ عملی: ..... جمع نمره به عدد: ..... به حروف: ..... نام و نام خانوادگی مصحح: ..... امضاء

سوال درس: زبان انگلیسی  
پایه: سوم  
دوره: راهنمایی  
رشته: -

با سمه تعالی ۲



سال تحصیلی: ۸۹-۸۸  
تاریخ امتحان: ۸۹، ۳، ۲۴  
ساعت امتحان: ۱۵ صبح به افق شهر  
مدت امتحان: ۹۰ دقیقه  
شماره صفحه: ۳

نام و نام خانوادگی: دانش آموز / داوطلب آزاد ..... کشور: ..... شهر: .....

بارم		ردیف												
	47- There is (a little – many – a few) butter on the plate . 48- Do you like your brother? Yes , I like ( her – him – them )													
conve rsatio n		مکالمه												
(۲)	49-..... - No I won't . 50- ..... - Why? 51- ..... - Will you go to the park tomorrow? 52- ..... - Because I will help my mother.	ز مکالمه ی به هم ریخته زیر را مرتب کنید												
(۲)	53- A: What time .... you .... tobed? B: I went to bed at 10. 54- A: Where does he work? B: ..... in the library.	س مکالمه ی زیر را کامل کنید.												
read ing		درک مطلب												
(۳)	حرف مربوط به هر تصویر را مقابل جمله ی مربوط به آن بنویسید	ش												
	<table border="1"> <tr> <td>A</td> <td></td> <td>B</td> <td></td> <td>C</td> <td></td> </tr> <tr> <td>D</td> <td></td> <td>E</td> <td></td> <td>F</td> <td></td> </tr> </table>	A		B		C		D		E		F		
A		B		C										
D		E		F										
	55- He is eating an apple.( ) 56- He broke a glass this morning.( ) 57- It is a dictionary.( ) 58- He is putting on his clothes.( ) 59- He has a headache.( ) 60- He is doing his homework.( )													

نمره کتبی: ..... نمره شفاهی / عملی: ..... جمع نمره به عدد: ..... به حروف: ..... نام و نام خانوادگی مصحح: ..... امضاء

سوال درس زبان انگلیسی  
 پایه سوم  
 دوره راهنمایی  
 رشته: -

باسمه تعالی



سال تحصیلی: ۸۹-۸۸  
 تاریخ امتحان: ۱۳۸۹/۳/۲۴  
 ساعت امتحان: ۹۰ دقیقه  
 مدت امتحان: ۹۰ دقیقه  
 شماره صفحه: ۴

نام و نام خانوادگی: دانش آموز/ داوطلب آزاد..... کشور: ..... شهر: .....





ردیف	بارم	سوال
ص		متن زیر را به دقت بخوانید و به سوالات داده شده جواب دهید Mr Taban is a driver . He usually drives carefully .He and his family live in Tabriz. He has two children, Ali and Mina . They are good students . They will go to their uncle's house next month . He lives in shiraz. They will stay there for a week . Their uncle is very kind . They will enjoy their visit very much.
ص-۱	(۲)	با توجه به متن بالا جملات را با کلمات مناسب کامل کنید 61- His children are ..... students. 62- Their uncle is very ..... 63- Mr Taban lives in ..... 64- They will go to shiraz.....
ص-۲	(۱/۵)	با توجه متن پاسخ درست را با (True) و پاسخ غلط را با (False) نشان دهید. 65- They will stay in their uncle's house. ( ) 66- Mr Taban lives in shiraz. ( ) 67- He has four children.( )
ص-۳	(/۵)	با توجه به متن پاسخ صحیح را انتخاب کنید 68- Mr Taban drives (slowly- carefully- carelessly)
ص-۴	(۲)	با توجه به متن پاسخ کامل دهید 69- What is Mr taban? ..... 70- Where will they go next month? .....
تلفظ	pronunciation	
ض	(۱)	در هر گروه از کلمات داده شده کلمه ی ناهماهنگ را از نظر تلفظ مشخص کنید 71- face- place – picture – city ..... 72- pray – happy – ready – baby .....

نمره کتبی: ..... نمره شفاهی/ عملی: ..... جمع نمره به عدد: ..... به حروف: ..... نام و نام خانوادگی مصحح: ..... امضاء





نام و نام خانوادگی: دانش آموز/ داوطلب آزاد..... کشور: ..... شهر: .....

بارم	ردیف
Spelling	الف
(۲)	املا (املاي درست تصاویر را به طور کامل بنویسید: (۲ نمره)
 t-ger  s-im  ru-ner  ac-ident	
(۴)	ب کلمات ناقص زیر را کامل کنید: 5- we went there last su – mer 7-I get up before s -nrise. 9- May I t – rn on the TV? 11- They live in a small t –wn. 6-she was c -oking dinner. 8-It may ra -n tonight. 10-He is a good spe – ker. 12-We have four g –ests today.
(۲)	پ واژگان کلمه ی ناهماهنگ از نظر معنی را مشخص کنید 13- milk      water      garden      tea 14-football      match      tennis      ping- pong 15-German      Arabic      writer      French 16- park      ticket      bookshop      hospital
(۲)	ت جملات زیر را با استفاده از معلومات خود کامل کنید: 17- There are a lot of ..... in the sky. 18- My friend isn't thin. She is ..... 19-We buy ..... from the butchers. 20- We go by bus because its very .....
(۲)	ث جملات زیر را با استفاده از کلمات داده شده کامل کنید(یک کلمه اضافی است) (busy-the country- dishes- center-animals) 21- Camels aren't wild ..... 22- They will go to..... Tomorrow. 23- She was washing the dirty..... 24- They went to the shopping.....
(۲)	ج متضاد کلمات ستون A را از ستون B پیدا کرده بنویسید A 25-begin ( ) 26-slowly ( ) 27-before ( ) 28-take off ( ) B a-after b-finish c-put on d-quickly





سال تحصیلی: ۸۸-۸۹  
 تاریخ امتحان: ۸۹، ۳، ۲۴  
 ساعت امتحان: ۵۰ صبح یازدهم تا  
 مدت امتحان: ۹۰ دقیقه  
 شماره صفحه: ۲

با سمه تعالی



سوال درس: زبان انگلیسی  
 پایه: سوم  
 دوره: راهنمایی  
 رشته: -

نام و نام خانوادگی: دانش آموز/ داوطلب آزاد ..... کشور: ..... شهر: .....

بارم	ردیف
(۱)	چ
29-He can ..... the bicycle.	با توجه به تصاویر جملات را کامل کنید 30- They went to Abadan by.....
	
(۱)	ح
31- I will p - - - her a letter. 32- She needs some m - - - -	در جاهای خالی کلمه ی مناسب بنویسید. (اولین حرف کلمه داده شده است)
structure	نکات دستوری
(۲)	خ
33-We ..... have a test next Monday. 34-They ..... watching TV between 7 and 8. 35- Did you ..... Your sister ? yes , I saw her. 36- I need a glass . Give ..... a glass.	جاهای خالی را با دانش گرامری خود کامل کنید
(۲)	د
37- left – home – at 7 – my father – yesterday. 38- study – you – should – your lessons - ?	با کلمات به هم ریخته ی زیر جمله ی صحیح بسازید.
(۲)	ذ
39-Where was she going yesterday? ..... 	با توجه به تصاویر پاسخ کامل دهید. 40-What are these? ..... 
(۴)	ر
41- He (buy – bought – buys) five books last week. 42- I ( never goes –go never –never go) to school late. 43- They will go to the library (every day – yesterday – soon) 44- He is a bad player . He plays (well- badly- carefully) 45- May I (leave – leaves – leaving)the class. 46-(How many – How much )people are there in the mosque?	پاسخ صحیح را انتخاب کنید

نمره کتبی: ..... نمره شفاهی/ عملی: ..... جمع نمره به عدد: ..... به حروف: ..... نام و نام خانوادگی مصحح: ..... امضاء

سوال درس: زبان انگلیسی  
پایه: سوم  
دوره: راهنمایی  
رشته: -

با ستمه تعالی



سال تحصیلی: ۸۹-۸۸  
تاریخ امتحان: ۲۴، ۳۰، ۸۹  
ساعت امتحان: ۱۰ صبح به وقت شهر  
مدت امتحان: ۹۰ دقیقه  
شماره صفحه: ۳

نام و نام خانوادگی: دانش آموز / داوطلب آزاد ..... کشور: ..... شهر: .....

بارم		ردیف
	47- There is (a little – many – a few) butter on the plate . 48- Do you like your brother? Yes , I like ( her –him – them )	
conversations		مکالمه
(۲)	49-..... - No I won't . 50-..... - Why? 51-..... - Will you go to the park tomorrow? 52-..... - Because I will help my mother.	مکالمه ی به هم ریخته زیر را مرتب کنید
(۲)	53- A: What time .... you ....to bed? ..... B: I went to bed at 10. 54- A: Where does he work? B:..... ..... in the library.	مکالمه ی زیر را کامل کنید.
reading		درک مطلب
(۳)		ش
حرف مربوط به هر تصویر را مقابل جمله ی مربوط به آن بنویسید		
A		B
	C	
D		E
	F	
55- He is eating an apple.(     ) 56- He broke a glass this morning.(     ) 57- It is a dictionary.(     ) 58- He is putting on his clothes.(     ) 59- He has a headache.(     ) 60- He is doing his homework.(     )		

نمره کتبی: ..... نمره شفاهی / عملی: ..... جمع نمره به عدد: ..... به حروف: ..... نام و نام خانوادگی مصحح: ..... امضاء

سوال درس: زبان انگلیسی  
پایه: سوم  
دوره: ترم اول  
رشته: -

با سمه تعالی



سال تحصیلی: ۸۸-۸۹  
تاریخ امتحان: ۸۹، ۳، ۲۴  
ساعت امتحان: ۱۰ صبح به وقت شهر  
مدت امتحان: ۹۰ دقیقه  
شماره صفحه: ۴

نام و نام خانوادگی: دانش آموز / داوطلب آزاد ..... کشور: ..... شهر: .....

ردیف	بارم	سوال
ص		متن زیر را به دقت بخوانید و به سوالات داده شده جواب دهید Mr Taban is a driver . He usually drives carefully .He and his family live in Tabriz. He has two children, Ali and Mina . They are good students . They will go to their uncle's house next month . He lives in Shiraz. They will stay there for a week . Their uncle is very kind . They will enjoy their visit very much.
ص-۱	(۲)	با توجه به متن بالا جملات را با کلمات مناسب کامل کنید 61- His children are ..... students. 62- Their uncle is very .....
ص-۲	(۱/۵)	با توجه به متن پاسخ درست را با (True) و پاسخ غلط را با (False) نشان دهید. 65- They will stay in their uncle's house. ( ) 66- Mr Taban lives in Shiraz. ( ) 67- He has four children. ( )
ص-۳	(۱/۵)	با توجه به متن پاسخ صحیح را انتخاب کنید 68- Mr Taban drives (slowly- carefully- carelessly)
ص-۴	(۲)	با توجه به متن پاسخ کامل دهید 69- What is Mr Taban? ..... 70- Where will they go next month? .....
تلفظ	pronunciation	
ض	(۱)	در هر گروه از کلمات داده شده کلمه ی ناهماهنگ را از نظر تلفظ مشخص کنید 71- face- place - picture - city ..... 72- pray - happy - ready - baby .....

نمره کتبی: ..... نمره شفاهی / عملی: ..... جمع نمره به عدد: ..... به حروف: ..... نام و نام خانوادگی مصحح: ..... امضاء



جمهوری اسلامی ایران  
MINISTRY OF EDUCATION  
OF ISLAMIC REPUBLIC OF IRAN

نام و نام خانوادگی دانش آموز :

کشور :

شهر :

سوال

بارم

\*\* دیکته ( ۶ نمره )

الف: کلمات ناقص زیر را کامل کنید.

( ۴ )

1. He had a car ac-ident yesterday. 2. I got up after sunr-se. 3. I do my i-b well. 4. We eat bread and ch- -se for breakfast. 5. She bought a diction-ry. 6. She washed the d-rty clothes. 7. He is a c-reful driver. 8. He drives slo-ly.

ب: با توجه به تصاویر کلمات ناقص زیر را کامل کنید.

( ۲ )



a) fl- - - r



b) he- dac-e



c) on- ons



d) tr- - n

\*\* واژگان ( ۸ نمره )

پ: در هر قسمت کلمه ی نامناسب را مشخص کنید.

( ۲ )

1. milk- tea- eat- coffee
2. driver- grade- butcher- worker
3. German- French- Arabic- Africa
4. bookshop- tiger- kitchen- garden

ت: با کلمات داده شده جملات زیر را کامل کنید.

river / expensive / planes / heavy / news

( ۲ )

1. There are two .....in the sky.
2. The traffic is always very .....in this street.
3. The water of this.....is very cold. Don't swim in it.
4. I have some good .....for you.

ث: با استفاده از دانش زبانی خود جملات زیر را کامل کنید.



سال تحصیلی: ۸۸-۸۹
تاریخ امتحان: ۸۹, ۳, ۲۴
ساعت امتحان: ۱۴ عصر ۱۳:۳۰
مدت امتحان: ۸۰ دقیقه
شماره صفحه: ۲

سوال درس: زبان انگلیسی
پایه: سوم
دوره: راهنما
رشته: -

نام و نام خانوادگی دانش آموز / داوطلب آزاد : ..... کشور : ..... شهر : .....

1. Horse is the name of an .....

2. An hour is sixty .....

(۲) 3. My father's sister is my .....

4. Your car is not cheap. It is .....

ج: گزینه مناسب را انتخاب کنید.

1. We are watching a TV program about .....animals in Africa.

a. wild      b. thin      c. dear      d. hard

(۲) 2. I was tired and I .....for thirty minutes.

a. waited      b. arrived      c. enjoyed      d. rested

3. My .....are my father and my mother.

a. brothers      b. parents      c. sisters      d. uncles

4. Where did you .....your summer? In Shiraz.

a. stand      b. speak      c. spend      d. spring

\*\*دستور (۱۰ نمره)

ج: گزینه مناسب را انتخاب کنید.

1. This is .....

a. tree tall      b. very tall tree      c. a tall tree      d. very tall trees

(۴) 2. Her brother wants a ball. Please give .....a ball.

a. her      b. him      c. she      d. he

3. Were there .....men in the office?

a. many      b. much      c. little      d. a

4. She .....make a cake last night.

a. doesn't      b. don't      c. did      d. didn't

5. They .....wake up before 7 o'clock yesterday.

a. don't      b. didn't      c. aren't      d. weren't



سوال درس :	زبان انگلیسی
پایه :	سوم
دوره :	راهنیان
رشته :	-

سال تحصیلی :	۸۸-۸۹
تاریخ امتحان :	۸۹، ۳، ۲۴
ساعت امتحان :	۱۲ عصر تا ۱۴
مدت امتحان :	۸۰ دقیقه
شماره صفحه :	۳

نام و نام خانوادگی دانش آموز / داوطلب آزاد : ..... کشور : ..... شهر : .....

6. What was your uncle .....in the library?  
 a. do                      b. does                      c. doing                      d. did

7. Hassan can .....German well.  
 a. speak                      b. speaking                      c. speaks                      d. spoke

8. He worked.....yesterday.  
 a. easy                      b. bad                      c. quick                      d. hard

ج : با هر گروه از کلمات زیر یک جمله صحیح بسازید.

1. sometimes/ Tuesdays / in /on/ are / the office / they / . /

(۲) 2. the class / when / your teacher / will / begin / ? /



خ : با توجه به تصویر پاسخ دهید.

1. What is this boy doing?

(۲) 2. What did he eat?



د : افعال داخل پرانتز را به صورت صحیح به کار ببرید.

1. Did you .....the letters yesterday? ( post)

2. You can .....the door now. ( open)

3. They were .....football this morning. (play)

(۲) 4. Reza .....his prayers at 7 last night. ( say)

\*\*مکالمه (۴ نمره)

ذ : پاسخ هر سوال را از عبارتهای سمت راست انتخاب کنید.

1. Is this woman Mahdi's mother?                      a. No, we'll go next week.

2. Were there two women here?                      b. Yes, I was.

(۴) 3. Will you go to the country tomorrow?                      c. Yes, she is.



سوال درس: زبان انگلیسی
پایه: سوم
دوره: راهنمای
رشته: -

سال تحصیلی: ۸۸-۸۹
تاریخ امتحان: ۲۴, ۲۳, ۲۲, ۲۱
ساعت امتحان: ۱۲ عصر (فوق از)
مدت امتحان: ۸۵ دقیقه
شماره صفحه: ۳

نام و نام خانوادگی دانش آموز / داوطلب آزاد: ..... کشور: ..... شهر: .....

4. What did you do?

d. No, there weren't.

e. We played football.

\*\* تلفظ ( ۲ نمره )

ر: کلمه ای که از لحاظ تلفظ با بقیه فرق می کند را مشخص کنید.

1. a. needed      b. wanted      c. traveled      d. waited  
2. a. dear      b. hear      c. bread      d. near

(۲)

\*\* درک مطلب (۱۰ نمره)

ز: متن زیر را بخوانید و به سؤالات آن پاسخ دهید.

Parvin is a nurse. Her father, Mr Javadi, is a doctor. Her mother is a teacher. She teaches English. Mr Javadi works in a hospital. It is near their house. He walks to the hospital every morning. He goes there with Parvin because she works there, too. Parvin has two brothers. They are Ali and Amir. They are students. They go to school at a quarter to seven every morning. They go there by bus.

الف: به سؤالات زیر پاسخ کامل دهید.

1. What is Parvin's mother?  
2. Where does Parvin work?  
3. Does Parvin go to work by bus?  
۴. When do Parvin's brothers go to school?

(۴)

ب: با توجه به متن پاسخ صحیح را انتخاب کنید.

5. Ali's sister is a .....  
a. doctor      b. teacher      c. student      d. nurse  
6. Ali and his brother go to school at .....  
a. 6:45      b. 7:15      c. 6:40      d. 6:50

(۲)

پ: با توجه به متن جملات زیر را کامل کنید.

(۲)

7. There are .....people in Javadi family.  
8. Amir's father works in a .....






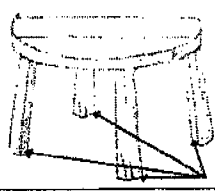
سال تحصیلی: ۸۸-۸۹  
 تاریخ امتحان: ۱۳۸۹/۲/۲۳  
 ساعت امتحان: ۵ صبح یا فاق شهر  
 مدت امتحان: ۶۰ دقیقه  
 شماره صفحه: ۲

با اسمہ تعالیٰ



سوال درس: زبان انگلیسی  
 پایه: سوم  
 دوره: راهنمایی  
 رشته: -





نام و نام خانوادگی: دانش آموز/داوطلب آزاد..... کشور: ..... شهر: .....

ردیف	بازم	نکات دستوری
بج	با توجه به تصاویر جملات را کامل کنید 29-He can ..... the bicycle.  30- They went to Abadan by..... 	
ح	در جاهای خالی کلمه ی مناسب بنویسید. (اولین حرف کلمه داده شده است) 31- I will p - - - her a letter. 32- She needs some m - - - .	
خ	جاهای خالی را با دانش گرامری خود کامل کنید 33-We ..... have a test next Monday. 34-They ..... watching TV between 7 and 8. 35- Did you ..... Your sister ? yes , I saw her. 36- I need a glass . Give ..... a glass.	
د	با کلمات به هم ریخته ی زیر جمله ی صحیح بسازید. 37- left - home - at 7 - my father - yesterday. .... 38- study - you - should - your lessons -? .....	
ذ	با توجه به تصاویر پاسخ کامل دهید. 39-Where was she going yesterday?  40-What are these? 	
ر	پاسخ صحیح را انتخاب کنید 41- He (buy - bought - buys) five books last week. 42- I ( never goes -go never -never go) to school late. 43- They will go to the library (every day - yesterday - soon) 44- He is a bad player . He plays (well- badly- carefully) 45- May I (leave - leaves - leaving)the class. 46-(How many - How much )people are there in the mosque?	

نمره کتبی: ..... نمره شفاهی/عملی: ..... جمع نمره به عدد: ..... به حروف: ..... نام و نام خانوادگی مصحح: ..... امضاء



نام و نام خانوادگی: دانش آموز/ داوطلب آزاد..... کشور: ..... شهر: .....

بارم	ردیف
Spelling	الف
(۲)	املا (املا) املای درست تصاویر را به طور کامل بنویسید: (۲ نمره)
 t-ger  s-im  ru-ner  ac-ident	
(۴)	ب کلمات ناقص زیر را کامل کنید: 5- we went there last su - mer 7-I get up before s -nrise. 9- May I t - rn on the TV? 11- They live in a small t -wn. 6-she was c -okıng dinner. 8-It may ra -n tonight. 10-He is a good spe - ker. 12-We have four g -ests today.
(۲)	پ واژگان کلمه ی ناهماهنگ از نظر معنی را مشخص کنید 13- milk      water      garden      tea 14-football      match      tennis      ping- pong 15-German      Arabic      writer      French 16- park      ticket      bookshop      hospital
(۲)	ت جملات زیر را با استفاده از معلومات خود کامل کنید: 17- There are a lot of ..... in the sky. 18- My friend isn't thin. She is ..... 19-We buy ..... from the butchers. 20- We go by bus because its very .....
(۲)	ث جملات زیر را با استفاده از کلمات داده شده کامل کنید (یک کلمه اضافی است) (busy-the country- dishes- center-animals) 21- Camels aren't wild ..... 22- They will go to..... Tomorrow. 23- She was washing the dirty..... 24- They went to the shopping.....
(۲)	ج متضاد کلمات ستون A را از ستون B پیدا کرده بنویسید A 25-begin ( ) 26-slowly ( ) 27-before ( ) 28-take off ( ) B a-after b-finish c-put on d-quickly

با سمة تعالی



سوال درس: زبان انگلیسی  
پایه: سوم  
دوره: راهنمایی  
رشته: -

سال تحصیلی: ۸۸-۸۹  
تاریخ امتحان: ۸۹، ۳، ۲۴  
ساعت امتحان: ۱۰ صبح تا ۱۱ صبح  
مدت امتحان: ۹۰ دقیقه  
شماره صفحه: ۴

نام و نام خانوادگی: دانش آموز/ داوطلب آزاد..... کشور: ..... شهر: .....

ردیف	بارم	متن سوال
ص		متن زیر به دقت بخوانید و به سوالات داده شده جواب دهید Mr Taban is a driver . He usually drives carefully .He and his family live in Tabriz. He has two children, Ali and Mina . They are good students . They will go to their uncle's house next month . He lives in shiraz. They will stay there for a week . Their uncle is very kind . They will enjoy their visit very much.
ص-۱	(۲)	با توجه به متن بالا جملات را با کلمات مناسب کامل کنید 61- His children are ..... students. 62- Their uncle is very ..... 63- Mr Taban lives in ..... 64- They will go to shiraz.....
ص-۲	(۱/۵)	با توجه متن پاسخ درست را با (True) و پاسخ غلط را با (False) نشان دهید. 65- They will stay in their uncle's house. ( ) 66- Mr Taban lives in shiraz. ( ) 67- He has four children. ( )
ص-۳	(۱/۵)	با توجه به متن پاسخ صحیح را انتخاب کنید 68- Mr Taban drives (slowly- carefully- carelessly)
ص-۴	(۲)	با توجه به متن پاسخ کامل دهید 69- What is Mr taban? ..... 70- Where will they go next month? .....
تلفظ	pronunciation	
ض	(۱)	در هر گروه از کلمات داده شده کلمه ی ناهماهنگ را از نظر تلفظ مشخص کنید 71- face- place - picture - city ..... 72- pray - happy - ready - baby .....

نمره کتبی: ..... نمره شفاهی/ عملی: ..... جمع نمره به عدد: ..... به حروف: ..... نام و نام خانوادگی مصحح: ..... امضاء

با سمة تعالی



سوال درس: زبان انگلیسی  
پایه: سوم  
دوره: راهنمایی  
رشته: -

سال تحصیلی: ۸۹-۸۸  
تاریخ امتحان: ۲۴، ۳۰، ۸۹  
ساعت امتحان: صبح ۱۰ دقیقه  
مدت امتحان: ۹۰ دقیقه  
شماره صفحه: ۲

نام و نام خانوادگی: دانش آموز/داوطلب آزاد..... کشور:..... شهر:.....

بازم	ردیف
47- There is (a little --many -- a few) butter on the plate . 48- Do you like your brother? Yes , I like ( her --him -- them )	







conve rsatio n	مکالمه
----------------------	--------

(۲)	مکالمه ی به هم ریخته زیر را مرتب کنید	ز
49-.....	- No I wont .	
50-.....	- Why?	
51-.....	- Will you go to the park tomorrow?	
52-.....	- Because I will help my mother.	

(۲)	مکالمه ی زیر را کامل کنید.	س
53- A: What time .... you ....tobed? B:I went to bed at 10.		
54- A: Where does he work? B:..... .. in the library.		

read ing	درک مطلب
-------------	-------------

(۳) حروف مربوط به هر تصویر را مقابل جمله ی مربوط به آن بنویسید

A 	B 	C 
D 	E 	F 

- 55- He is eating an apple.(     )
- 56-He broke a glass this morning.(     )
- 57- It is a dictionary.(     )
- 58- He is putting on his clothes.(     )
- 59-He has a headache.(     )
- 60-He is doing his homework.(     )

نمره کتبی: نمره شفاهی/عملی: جمع نمره به عدد:..... به حروف:..... نام و نام خانوادگی مصحح:..... امضاء

سال تحصیلی: ۸۸-۸۹

نوبت امتحانی: ۲۴، ۳، ۱۹

اصحیح بر وفق مقرران




پایه:	سوم
دوره:	راهپیمایی
رشته:	-

قابل توجه طراحان: ۱- لطفاً پاسخ سوالات بطور کامل قید گردد. (با ذکر ریز بارم) ۲- از دادن آدرس بعنوان مثال (مراجعه به متن ص ۲۰ و یا ... کتاب خودداری شود).

ردیف	بارم	سوال	پاسخ
۱	۱	1-tiger 2-swim 3-runner 4-accident.	از ۱ تا ۴: هر مورد ۱۰ دقیقه
۲	۴	5-summer 6-cooking 7-sunrise 8-rain 9-turn 10-speaker 11-town 12-guests	کلمات را در جملات مناسب بنویسید: هر مورد ۱۰ دقیقه
۳	۲	13-garden 14-match 15-writer 16-ticket	کلمه مناسب بنویسید: هر مورد ۱۰ دقیقه
۴	۲	17-stars 18-fat 19-near 20-cheap	جمله‌ها را با کلمات مناسب تکمیل کنید: هر مورد ۱۰ دقیقه
۵	۲	21-animals 22-the country 23-dishes 24-center	جمله‌ها را با کلمات مناسب تکمیل کنید: هر مورد ۱۰ دقیقه
۶	۲	25-(b) finish 26-(d) quickly 27-(a) after 28-(c) upon	مقدمات مناسب بنویسید: هر مورد ۱۰ دقیقه
۷	۱	29-ride 30-train	با کلمات مناسب، مقادیر مناسب بنویسید: هر مورد ۱۰ دقیقه
۸	۱	31-post 32-money	در جملات مناسب کلمات مناسب بنویسید: هر مورد ۱۰ دقیقه
۹	۲	33-will 34-were 35-see 36-me	جاه‌ها را با کلمات مناسب تکمیل کنید: هر مورد ۱۰ دقیقه
۱۰	۲	37-My father left home at 7 yesterday. 38-Should you study your lessons?	با کلمات مناسب جمله‌ها را تکمیل کنید: هر مورد ۱۰ دقیقه
۱۱	۲	39-she was going to school yesterday. 40-These (they) are the legs of the table.	با کلمات مناسب مقادیر مناسب بنویسید: هر مورد ۱۰ دقیقه
۱۲	۴	41-bought 42-never go 43-soon 44-badly 45-leave 46-How many 47-a little 48-him	با کلمات مناسب جاه‌ها را تکمیل کنید: هر مورد ۱۰ دقیقه
۱۳	۲	49-Will you go to the park tomorrow? 50-No, I won't 51-Why 52-because, I will help my mother.	جمله‌ها را با کلمات مناسب تکمیل کنید: هر مورد ۱۰ دقیقه
۱۴	۲	53-did-go 54-he-works	کلمات مناسب بنویسید: هر مورد ۱۰ دقیقه
۱۵	۳	55-F 56-C 57-A 58-E 59-D 60-B	حرف مناسب بنویسید: هر مورد ۱۰ دقیقه
۱۶	۲	61-good 62-kind 63-Tabriz 64-next month	کلمات مناسب بنویسید: هر مورد ۱۰ دقیقه
۱۷	۱,۰	65-T 65-F 67-F	True یا False بنویسید: هر مورد ۱۰ دقیقه
۱۸	۱,۰	68-carefully	با کلمات مناسب جاه‌ها را تکمیل کنید: هر مورد ۱۰ دقیقه
۱۹	۲	69-He is a driver 70-They will go to Shiraz next month.	با کلمات مناسب جاه‌ها را تکمیل کنید: هر مورد ۱۰ دقیقه
۲۰	۱	71-picture 72-play	کلمات مناسب بنویسید: هر مورد ۱۰ دقیقه

توجه: در هر مورد ۱۰ دقیقه

سال تحصیلی: ۱۳۸۸/۸۹ تاریخ امتحان: ۱۹/۳/۸۹ ساعت امتحان: ۱۰ صبح به وقت تهران مدت امتحان: ۴۵ دقیقه	باسمه تعالی  اداره کل آموزش و پرورش مدارس خارج از کشور	راهنمای سوالات درس قرآن پایه: سوم دوره: راهنمایی
--	---	--

ردیف	بارم	سؤال
۱	۰/۲۵	غ
۲	۰/۲۵	بلی
۳	۰/۲۵ ۰/۲۵	الف) آتش سوزان ب) بشتابید
۴	۰/۲۵	فَلْيَتَوَكَّلِ
۵	۰/۵	آنها افراد با تقوا هستند.
۶	۰/۲۵	(ب)
۷	۰/۵	ضایع نمی کند - نیکوکاران
۸	۱	یکتا پرست - جایگاه - نزد - مسیحی
۹	۲/۵	الف) ترسی بر آنها نیست. ۰/۵ ب) مخفی نیست بر خدا. ۰/۵ ج) آموزش بخواهید از سوی پروردگارتان. ۰/۷۵ د) شتاب می کنند در کارهای خوب. ۰/۷۵
۱۰	۴	الف) و فکر می کنند در آفرینش آسمانها و زمین. ۱ ب) قطعاً خدا بشارت می دهد تو را به حضرت عیسی. ۱ ج) قطعاً منت گذاشت خدا بر مومنان. ۱ د) پس بشارت ده آنها را به عذابی دردناک. ۱

سوالات امتحان درس قرآن

پایه : سوم

دوره : راهنمایی

باسمه تعالی



اداره کل آموزش و پرورش  
مدارس خارج از کشور

سال تحصیلی : ۱۳۸۸/۸۹

تاریخ امتحان : ۱۳/۳/۸۹

ساعت امتحان : ۱۰ صبح به وقت تهران

مدت امتحان : ۴۵ دقیقه

شماره صفحه : ۱

نام و نام خانوادگی دانش آموز:

کشور:

شهر:

ردیف	سوال ها	بارم
۱	کلمه «نصیر» به معنی سرپرست است . ص <input type="checkbox"/> غ <input type="checkbox"/>	۰/۲۵
۲	آیا ترجمه صحیح کلمه «خَلَّتْ» «گذشته» می باشد؟ بلی <input type="checkbox"/> خیر <input type="checkbox"/>	۰/۲۵
۳	ترجمه صحیح را × بزنید: الف) سَعِير: بازگشت <input type="checkbox"/> آتش سوزان <input type="checkbox"/> ب) سَارِعُوا: از یکدیگر سبقت بگیرید <input type="checkbox"/> بشتابید <input type="checkbox"/>	۰/۲۵ ۰/۲۵
۴	باتوجه به ترجمه، کلمه مناسب را برای عبارت قرآنی پیدا کنید. وَعَلَى اللَّهِ ..... الْمُؤْمِنُونَ : ( فَلْيَتَوَكَّلِ - تَوَكَّلْتُ ) و بر خدا پس باید توکل کنند مومنان .	۰/۲۵
۵	ترجمه عبارت دارای نکته ای است که آموختید و بایک خط مشخص شده عبارت را معنی کنید . ( اُولَئِكَ هُمُ الْمُتَّقُونَ )	۰/۵
۶	ترجمه مناسب را انتخاب کنید : فَاغْفِرْ لِلَّذِينَ تَابُوا . الف) پس می آمرزد کسانی را که توبه می کنند <input type="checkbox"/> ب) پس پیامرز کسانی را که توبه کردند <input type="checkbox"/>	۰/۲۵

نمره کتبی :

نمره شفاهی :

به عدد :

به حروف :

نام و نام خانوادگی مصحح :

امضاء



ترجمه را کامل کنید :

۰/۵

۷

انَّ اللّٰهَ لَا يُضِيعُ أَجْرَ الْمُحْسِنِينَ .

قطعا خدا..... پاداش..... را

با توجه به ترجمه های داده شده معنی مناسب را بنویسید .

۱

۸

( مسیحی - جایگاه - کار ناپسند - یکتاپرست - نزد )

حَتِيفٌ : مَآوَى : لُدُنٌ : نَصْرَانِيٌّ :

ترکیبات قرآنی را ترجمه کنید ؟

۲/۵

۹

الف ( لَا خَوْفٌ عَلَيْهِمْ . ۰/۵

ب ( لَا يَخْفَى عَلَى اللَّهِ . ۰/۵

ج ( اسْتَغْفِرُوا رَبَّكُمْ . ۰/۷۵

د ( يُسَارِعُونَ فِي الْخَيْرَاتِ . ۰/۷۵

عبارات قرآنی را ترجمه کنید .

الف ( وَيَتَفَكَّرُونَ فِي خَلْقِ السَّمَاوَاتِ وَالْأَرْضِ . ۱


ب ( إِنَّ اللَّهَ يُبَشِّرُكُمْ بِكَلِمَةٍ مِنْهُ . ۱

ج ( لَقَدْ مَنَّ اللَّهُ عَلَى الْمُؤْمِنِينَ . ۱

د ( فَبَشِّرْهُمْ بِعَذَابٍ أَلِيمٍ . ۱

« در پناه قرآن موفق باشید »



سال تحصیلی: ۱۳۸۸/۸۹	<p style="text-align: center;">باسمه تعالی</p>  <p style="text-align: center;">اداره کلی آموزش و پرورش مدارس خارج از کشور</p>	سوالات امتحان درس قرآن
تاریخ امتحان: ۱۳۹۳/۱		پایه: سوم
ساعت امتحان: ۱۰ صبح به وقت تهران		دوره: راهنمایی
مدت امتحان: ۲۵ دقیقه		
شماره صفحه: ۲		

۰/۵	<p>ترجمه را کامل کنید:</p> <p>۷ انَّ اللّٰهَ لَا يُضِيعُ أَجْرَ الْمُحْسِنِينَ . قطعاً خدا..... پاداش..... را</p>
۱	<p>با توجه به ترجمه های داده شده معنی مناسب را بنویسید . ( مسیحی - جایگاه - کار ناپسند - یکتاپرست - نزد ) حَنِيفٌ : ..... مَأْوَى : ..... لَبِئْسَ : ..... نَصْرَانِيٌّ :</p>
۲/۵	<p>ترکیبات قرآنی را ترجمه کنید ؟</p> <p>الف ) لَا خَوْفٌ عَلَيْهِمْ . ۰/۵ ب ) لَا يَخْفَى عَلَى اللَّهِ . ۰/۵ ج ) اسْتَغْفِرُوا رَبَّكُمْ . ۰/۷۵ د ) يُسَارِعُونَ فِي الْخَيْرَاتِ . ۰/۷۵</p>
۳	<p>عبارات قرآنی را ترجمه کنید .</p> <p>الف ) وَيَتَفَكَّرُونَ فِي خَلْقِ السَّمَاوَاتِ وَالْأَرْضِ . ۱ ب ) انَّ اللّٰهَ يُبَشِّرُكَ بِكَلِمَةٍ مِنْهُ . ۱ ج ) لَقَدْ مَنَّ اللَّهُ عَلَى الْمُؤْمِنِينَ . ۱ د ) قَبَسْرَهُمْ بِعَذَابِ آلِيمٍ . ۱</p> <p style="text-align: center;">« در پناه قرآن موفق باشید »</p>

باسمه تعالی



اداره کل آموزش و پرورش  
مدارس خارج از کشور

سوالات امتحان درس قرآن

پایه: سوم

دوره: راهنمایی

سال تحصیلی: ۱۳۸۸/۸۹

تاریخ امتحان: ۸۹، ۳، ۱

ساعت امتحان: ۱۰ صبح به وقت تهران

مدت امتحان: ۴۵ دقیقه

شماره صفحه: ۱

نام و نام خانوادگی دانش آموز: کشور: شهر:

ردیف	سوالها	بارم
۱	کلمه «نَصِير» به معنی سرپرست است. <input type="checkbox"/> ص <input type="checkbox"/> غ	۰/۲۵
۲	آیا ترجمه صحیح کلمه «خَلَّت» «گذشته» می باشد؟ <input type="checkbox"/> بلی <input type="checkbox"/> خیر	۰/۲۵
۳	ترجمه صحیح را × بزنید: الف) سَعِير: <input type="checkbox"/> بازگشت <input type="checkbox"/> آتش سوزان ب) سَارِعُوا: <input type="checkbox"/> از یکدیگر سبقت بگیرید <input type="checkbox"/> بشتابید	۰/۲۵ ۰/۲۵
۴	باتوجه به ترجمه، کلمه مناسب را برای عبارت قرآنی پیدا کنید. وَعَلَى اللَّهِ ..... الْمُؤْمِنُونَ: ( فَلْيَتَوَكَّلِ -- تَوَكَّلْتُ ) و برخدا پس باید توکل کنند مومنان .	۰/۲۵
۵	ترجمه عبارت دارای نکته ای است که آموختید و بایک خط مشخص شده عبارت را معنی کنید. ( اُولَئِكَ هُمُ الْمُتَّقُونَ )	۰/۵
۶	ترجمه مناسب را انتخاب کنید: فَاغْفِرِ لِلَّذِينَ تَابُوا . الف) پس می آمرزد کسانی را که توبه می کنند <input type="checkbox"/> ب) پس بیامرز کسانی را که توبه کردند <input type="checkbox"/>	۰/۲۵

نمره کتبی: نمره شفاهی: به عدد: به حروف: نام و نام خانوادگی مصحح: امضاء



سال تحصیلی: ۱۳۸۸/۸۹

تاریخ امتحان: ۱۳/۳/۸۹

ساعت امتحان: ۱۰ صبح به وقت تهران

مدت امتحان: ۴۵ دقیقه

ردیف	بارم	سؤال
۱	۰/۲۵	غ
۲	۰/۲۵	بلی خ
۳	۰/۲۵ ۰/۲۵	الف) آتش سوزان ب) بشتابید
۴	۰/۲۵	فَلْيَتَوَكَّلِ
۵	۰/۵	آنها افراد با تقوا هستند .
۶	۰/۲۵	( ب )
۷	۰/۵	ضایع نمی کند - نیکوکاران
۸	۱	یکتا پرست - جایگاه - نزد - مسیحی
۹	۲/۵	الف) ترسی بر آنها نیست . ۰/۵ ب) مخفی نیست بر خدا . ۰/۵ ج) آمرزش بخواهید از سوی پروردگارتان . ۰/۷۵ د) شتاب می کنند در کارهای خوب . ۰/۷۵
۱۰	۴	الف) و فکر می کنند در آفرینش آسمانها و زمین . ۱ ب) قطعاً خدا بشارت می دهد تو را به حضرت عیسی . ۱ ج) قطعاً منت گذاشت خدا بر مومنان . ۱ د) پس بشارت ده آنها را به عذابی دردناک . ۱



درس: قرآن

سوم

راهنمایی

الف

خرداد ماه ۱۳۸۷

با سمه تعالی  
وزارت آموزش و پرورش  
دفتر مدارس خارج از کشور

سال تحصیلی: ۸۷-۱۳۸۶  
تاریخ امتحان: ۱۳۸۷/۳/۱  
ساعت امتحان: ۱۰ صبح به وقت تهران  
مدت امتحان: ۸۰ دقیقه  
شماره صفحه: ۱

نام خانوادگی دانش آموز / داوطلب آزاد: ..... کشور: ..... شهر: .....

بارم	دیف	سوال									
۱۰	۱	<p>دانش آموزان عزیز: آزمون ۱۰ نمره دارد، با توکل بر خدا و دقت تمام به سوالات پاسخ دهید. موفق باشید</p> <p>گزینه صحیح را انتخاب کنید:</p> <p>معنی کدام کلمه غلط است؟</p> <p>الف) اِسْتَفْرُوا : آمرزش بخواهید <input type="checkbox"/></p> <p>ب) اِسْتَفْرُوا : آمرزش بخواهید <input type="checkbox"/></p> <p>ج) نَعَمْ : چه خوب است <input type="checkbox"/></p> <p>د) نَعَمْ : بلی <input type="checkbox"/></p> <p>ترجمه ی عبارت « مِنْهُمْ الْمُؤْمِنُونَ » کدام یک از این گزینه هاست؟</p> <p>الف) بعضی از آنها با ایمان هستند. <input type="checkbox"/></p> <p>ب) ایمان از سوی آنها است. <input type="checkbox"/></p> <p>ج) بعضی از آنها ایمان آوردند. <input type="checkbox"/></p> <p>د) بعضی از شما با ایمان هستید. <input type="checkbox"/></p>									
۱۰	۲	<p>جدول را کامل کنید:</p> <table border="1"> <thead> <tr> <th>عبارت قرآنی</th> <th>ترجمه نادرست</th> <th>ترجمه صحیح</th> </tr> </thead> <tbody> <tr> <td>و الله بما تعملون بصيرٌ</td> <td>و خدا به آنچه می دانید داناست</td> <td>.....</td> </tr> </tbody> </table>	عبارت قرآنی	ترجمه نادرست	ترجمه صحیح	و الله بما تعملون بصيرٌ	و خدا به آنچه می دانید داناست	.....			
عبارت قرآنی	ترجمه نادرست	ترجمه صحیح									
و الله بما تعملون بصيرٌ	و خدا به آنچه می دانید داناست	.....									
۲۵	۳	<p>زیر کلمه نا هماهنگ از نظر معنا، خط بکشید:</p> <p>« لا تُزِغْ - لا يَخْلِفُ - لا يَخْفَى - لا أَعْلَمُ »</p>									
۱	۴	<p>جدول را با توجه به کلماتی که با فطی مشخص شده، معنی کنید:</p> <table border="1"> <thead> <tr> <th>ردیف</th> <th>جمله</th> <th>معنی</th> </tr> </thead> <tbody> <tr> <td>۱</td> <td>وَ الْكِتَابِ الَّذِي نَزَّلَ عَلَيَّ رِسُولِهِ</td> <td></td> </tr> <tr> <td>۲</td> <td>وَ أَنْتُمْ مُسْلِمُونَ</td> <td></td> </tr> </tbody> </table>	ردیف	جمله	معنی	۱	وَ الْكِتَابِ الَّذِي نَزَّلَ عَلَيَّ رِسُولِهِ		۲	وَ أَنْتُمْ مُسْلِمُونَ	
ردیف	جمله	معنی									
۱	وَ الْكِتَابِ الَّذِي نَزَّلَ عَلَيَّ رِسُولِهِ										
۲	وَ أَنْتُمْ مُسْلِمُونَ										
۱۰	۵	<p>صمیم و غلط بودن ترکیب های زیر را مشخص نمایید:</p> <p>۱- فَأَعْفُ غَنَةً ← (( پس او را عفو کن )) ص <input type="checkbox"/> غ <input type="checkbox"/></p> <p>۲- صَدَقَ الْمُرْسَلُونَ. ← (( پیامبر راست گفت. )) ص <input type="checkbox"/> غ <input type="checkbox"/></p>									



سوال درس: قرآن

پایه: سوم

دوره: راهنمایی

گروه: الف

نوبت: خرداد ماه ۱۳۸۷

با سمه تعالی

وزارت آموزش و پرورش

دفتر مدارس خارج از کشور

سال تحصیلی: ۸۷-۱۳۸۶

تاریخ امتحان: ۱۳۸۷/۳/۱

ساعت امتحان: ۱۰ صبح به وقت تهران

مدت امتحان: ۸۰ دقیقه

شماره صفحه: ۲

کشور: ..... / شهر: .....

نام و نام خانوادگی دانش آموز/ داوطلب آزاد: .....

معنی کلمات را از بین کلمات داده شده پیدا کنید و بنویسید: ( دو کلمه اضافی است)

صبر کنید - مساوی - راه - باز نشست - توبه کنید - توبه کردند

معنی	کلمه	معنی	کلمه
.....	تَصْبِرُوا	.....	سواء
.....	مَصِير	.....	تابوا

ترکیب های زیر را کامل کنید:

..... (.....)	←	أَيُّبَتُونَ .
..... (.....)	←	أَكْثَرُ النَّاسِ .
..... (از خوبی)	←	و مَا تُثَقِّقُوا مِنْ خَيْرٍ .
..... (.....)	←	عَاقِبَةُ الْمُكَذِّبِينَ .

جایگاه: الف) مَثْوَى  ب) مَأْوَى  ج) مَقَام  د) هر سه مورد صحیح است.  ۷۵

با توجه به آیات و عبارات قرآنی، ترجمه ها را کامل نمایید:

☑  إِنَّ اللَّهَ لَا يُضِيعُ أَجْرَ الْمُحْسِنِينَ . ( قَطْعاً خُدا ..... پاداش ..... )

ترجمه « إِذَا جَاءَ نَصْرُ اللَّهِ وَالْفَتْحُ » کدام گزینه است؟

الف) هنگامی که یاری خدا و پیروزی بیاید.  ب) هنگامی که یاری خدا و پیروزی آمد.

ترجمه « فَمَنْ عَفَا وَأَصْلَحَ » کدام گزینه است؟

الف) پس هر کس عفو کرد و کار نیک کرد.  ب) پس اگر عفو کنی و کار نیک کردی.

آیات را ترجمه کنید:

سَارِعُوا إِلَى مَغْفِرَةٍ مِنْ رَبِّكُمْ )  
 كُنْتُمْ خَيْرَ أُمَّةٍ أُخْرِجَتْ لِلنَّاسِ . )  
 قُلْ إِنَّمَا بَأْسُنَا بِالنَّاصِرِينَ . )  
 قُلْ إِنَّمَا بَأْسُنَا بِالنَّاصِرِينَ . )

سؤال درسی: قرآن  
بایه: سوم  
دوره: زراعتی  
رشته: -



سال تحصیلی: ۸۸-۸۹  
تاریخ امتحان: ۸۹/۳/۱  
ساعت امتحان: ۱۶:۰۰ عصر تا ۱۷:۰۰  
مدت امتحان: ۳۵ دقیقه  
شماره صفحه: ۱

نام و نام خانوادگی دانش آموز / داوطلب آزاد : ..... کشور : ..... شهر : .....

بارم	ردیف	سؤال
۱۵	۱	<p>(أَلَا بِذِكْرِ اللَّهِ تَطْمَئِنُّ الْقُلُوبُ) "آنگاه باشید همانا دل ها به یاد خدا آرام می گیرد." ترجمه ی صحیح این عبارت را علامت بزنید: "فَاغْفِرْ لِلَّذِينَ تَابُوا" الف) پس می آمرزد کسانی را که توبه می کنند. <input type="checkbox"/> ب) پس بیا مرز کسانی را که توبه کردند. <input type="checkbox"/></p>
۱۵	۲	<p>ترجمه ی عبارت قرآنی زیر را کامل کنید: "وَإِنْ تَوَمَّنُوا وَتَتَّقُوا فَلَكُمْ أَجْرٌ عَظِيمٌ" و اگر ایمان بیاورید و ..... پس برای شما ..... است.</p>
۱	۳	<p>معنی کلمات را مقابل آن بنویسید: اتَّبِعُوا (.....) بِشَعِيرٍ (.....) إِصْطَفَى (.....) سَمِعْنَا (.....)</p>
۱	۴	<p>هرگاه فعل ماضی پس از کلماتی مانند "إِنْ ، إِذَا ، مَنْ ، لَوْ ... " که معنای شرط می دهند، بیاید به صورت میضارع معنا می شود. با توجه به این توضیح عبارت قرآنی زیر را ترجمه کنید: "مَنْ عَمِلَ صَالِحًا فَلِنَفْسِهِ" .....</p>
۳	۵	<p>ترکیب های زیر را معنی کنید: الف) لَا يُخْلِفُ اللَّهُ: (.....) ب) وَجَنَّتْكُمْ بَأْيَةٍ: (.....) ج) مِنْ لَدُنْكَ تَصِيرًا: (.....) د) وَشَهِدُوا عَلَيَّ أَنْفُسِهِمْ: (.....) ه) وَصَدَقَ الْمُرْسَلُونَ: (.....) و) وَلَا هُمْ يَحْزَنُونَ: (.....)</p>

ادامه در صفحه ی دوم



نام و نام خانوادگی: دانش آموز/داوطلب آزاد..... کشور: ..... شهر: .....

ردیف	نام و نام خانوادگی: دانش آموز/داوطلب آزاد..... کشور: ..... شهر: .....
۱	الف) اعداد اول بین ۳۰ الی ۴۰ را به روش غربال تعیین کنید. ب) عبارت روبرو را به صورت یک عدد تواندار بنویسید. $\frac{8^5 \times 8^4}{2^9} =$
۲	الف) حاصل عبارت $\sqrt{81 \times 49}$ کدام است؟ ۱۶(۱)      ۲(۲)      ۵۶(۳)      ۶۳(۴) ب) جذر عدد $\frac{39}{7}$ را تا یک رقم اعشار بدست آورید و باقیمانده را مشخص کنید.
۳	الف) کدام گزینه صحیح است؟ ۱) $-(-5) \in \mathbb{N}$ ۲) $\mathbb{N} \subseteq \mathbb{Z} \subseteq \mathbb{Q} \subseteq \mathbb{R}$ ۳) $\sqrt{2} \in \mathbb{Q}$ ۴) $\frac{5}{4} \in \mathbb{Z}$ ب) مجموعه ی زیر را با علائم ریاضی بنویسید. $\{15, 16, 17, \dots\} =$ پ) مجموعه ی زیر را روی محور اعداد نمایش دهید. $A = \{x   -2 \leq x \leq 5\}$
۴	حاصل عبارتهای زیر را بدست آورید. الف) $(\frac{-7}{5} - \frac{-4}{5}) \times (+\frac{1}{9}) =$ ب) $(-\frac{25}{14}) \div (-\frac{15}{7}) =$
۵	اگر $\vec{a} = 3i + j$ باشد الف) بردار $\vec{a}$ را به صورت مختصات بنویسید. ب) ضرب روبرو را انجام دهید. پ) جمع بردارهای زیر را رسم کنید. 

سوال درس: ریاضی و رسم  
پایه: سوم  
دوره: راهنمایی  
رشته: عمومی

با سمه تعالی



سال تحصیلی: ۸۹-۸۸  
تاریخ امتحان: ۳، ۲، ۸۹  
ساعت امتحان: ۱۰ صبح  
مدت امتحان: ۱۲۰ دقیقه  
شماره صفحه: ۴ از ۴

نام و نام خانوادگی: دانش آموز/ داوطلب آزاد..... کشور: ..... شهر: .....

ردیف	بارم	سوال						
۶	۰/۱۵ ۰/۱۵ ۰/۱۵	الف) عبارت روبرو را ساده کنید. ب) ضرب روبرو را انجام دهید. پ) جای خالی را کامل کنید. $10a + 4ab + 7a - 14ab =$ $(+7b)(-3b) =$ $(a-5)(a-6) = a^2 - \dots - 5a + \dots$						
۷	۰/۱۵ ۰/۱۷۵	الف) از ۷ برابر عددی ۵ واحد کم می کنیم. حاصل برابر است با ۹. آن عدد کدام است؟ ۱۴(۱)      ۲(۲)      ۱(۳)      ۷(۴) ب) معادله ی روبرو را حل کنید. $16x - 5 = 6x + 25$						
۸	۰/۱۷۵ ۰/۱۲۵	الف) خط d به معادله $y = 2x + 3$ را در دستگاه مختصات رسم کنید. <table border="1" style="display: inline-table; vertical-align: middle;"> <tr><td>x</td><td></td></tr> <tr><td>y</td><td></td></tr> <tr><td>[x]</td><td>[y]</td></tr> </table> ب) معادله خطی بنویسید که با خط d موازی باشد و از مبدا مختصات بگذرد.	x		y		[x]	[y]
x								
y								
[x]	[y]							
۹	۰/۱۵ ۰/۱۵	الف) شیب و عرض از مبدا خط $4x + 2y = 10$ را مشخص کنید. ب) خط به معادله $y = -3$ را رسم کنید.						
۱۰	۱	مسئله زیر را از طریق دستگاه معادله های خطی ( دو مجهولی ) حل کنید. وزن ۲ پیمانه کوچک و ۳ پیمانه بزرگ برابر با ۷ کیلوگرم و وزن ۴ پیمانه کوچک و ۱ پیمانه بزرگ برابر با ۹ کیلوگرم است. وزن هر پیمانه را پیدا کنید.						

نمره کتبی: ..... نمره شفاهی/ عملی: ..... جمع نمره به عدد: ..... به حروف: ..... نام و نام خانوادگی مصحح: ..... امضاء



سال تحصیلی: ۸۸-۸۹  
 تاریخ امتحان: ۳۰ اردیبهشت ۱۳۸۹  
 ساعت امتحان: ۱۰ صبح به وقت تهران  
 مدت امتحان: ۱۲۰ دقیقه  
 شماره صفحه: ۴ از ۴

با اسمه تعالی



سوال درس: ریاضی - نهم  
 پایه: سوم  
 دوره: راهنمایی  
 رشته: عمومی

نام و نام خانوادگی: دانش آموز/ داوطلب آزاد ..... کشور: ..... شهر: .....

ردیف ۱۱

بازم ۰/۵

جای خالی را کامل کنید.

ردیف ۱۲

الف) نمرات ماهانه علی در درس ریاضی در نوبت دوم به ترتیب  $14/5$  و  $17$  و  $14/5$  است. نمره مستمر او را حساب کنید. (میانه نمرات)

ب) در جدول زیر جای خالی را کامل کنید.

دسته	خط نشان	فراوانی	متوسط دسته	متوسط فراوانی
۱۶-۲۰				۷۲

هندسه

ردیف ۱

الف) کدام یک از اشکال زیر منتظم است؟  
 (۱) لوزی (۲) مستطیل (۳) متوازی الاضلاع (۴) مربع

ب) فاصله یک نقطه تا مرکز یک دایره ۴ سانتی متر و شعاع دایره ۵ سانتی متر است. نقطه در ..... دایره قرار دارد.  
 (۱) داخل (۲) خارج (۳) روی (۴) مرکز

ب) در کدام مثلث مجذور یک ضلع برابر با جمع مجذورات دو ضلع دیگر است؟  
 (۱) متساوی الاضلاع (۲) قائم الزاویه (۳) متساوی الساقین (۴) هر مثلث

ردیف ۲

جمله صحیح را با (ص) و جمله غلط را با (غ) مشخص کنید.  
 الف) در حالتی که خط و دایره یک نقطه مشترک دارند، خط بر دایره مماس است.  
 ب) از گردش یک مثلث قائم الزاویه دور یک ضلعش جسمی به نام کره تشکیل می شود.

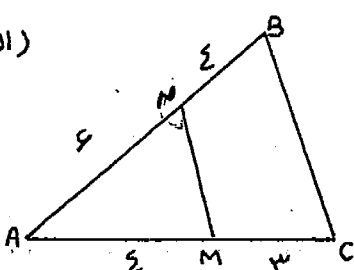
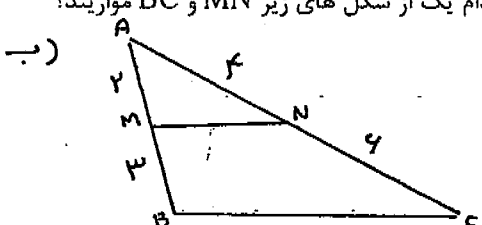
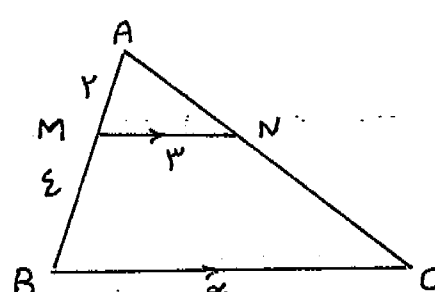
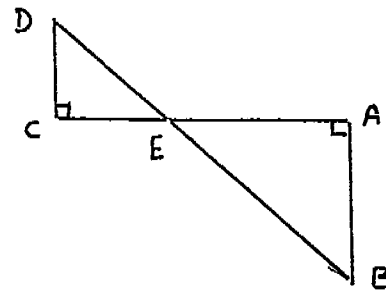
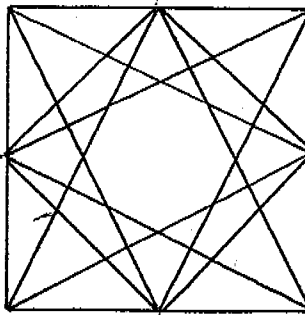
ردیف ۳

در شکل های زیر با توجه به اندازه های داده شده، اندازه های خواسته شده را بنویسید.

$\widehat{BC} =$        $\hat{A} =$



نام و نام خانوادگی: دانش آموز / داوطلب آزاد ..... کشور: ..... شهر: .....

بارم	ردیف	سوال
۱۵	۴	الف) در کدام یک از شکل های زیر MN و BC موازیند؟ (الف)  (ب) 
۱۷۵		ب) در شکل زیر اندازه ی X را بدست آورید. (MN موازی BC)
		
۱/۲۵	۵	در شکل زیر دلیل تشابه دو مثلث را بنویسید سپس جای خالی را کامل کنید.  $\Rightarrow \frac{AB}{\dots} = \frac{\dots}{EC}$
۱۷۵	۶	حجم کره ای به شعاع ۳ سانتی متر را بدست آورید. (نوشتن رابطه ای حجم کره الزامی است)
۱		«رسم» مربعی به ضلع ۱۰ سانتی متر رسم کنید. وسط هر ضلع را مشخص کنید سپس مانند نمونه کامل کنید. 



اصح برافق تران

۲- از دادن آدرس بعنوان مثال (مراجعه به متن ص ۲۰ و یا ... کتاب خودداری شود).  
 قابل توجه طراحان: ۱- لطفاً پاسخ سوالات بطور کامل قید گردد (با ذکر ریز بارم)

۱۲- الف)  $\frac{17+14d+14d}{3} = \frac{34}{3} = 11\frac{1}{3}$   $\frac{1}{20}$   
 متوسط  $\frac{18}{20}$   
 نزاعی  $\frac{2}{20}$

۷- الف) گزینه ۲  $\frac{1}{20}$   
 ب)  $19x - 4x = 25 + 5$   $\frac{1}{20}$   
 $15x = 30$   $\frac{1}{20}$   
 $x = \frac{30}{15} = 2$   $\frac{1}{20}$

۱- الف)  $\frac{37}{20}$  و  $\frac{31}{20}$   $\frac{1}{20}$   
 ب)  $\frac{8^9}{2^9} = 4^9$   $\frac{1}{20}$

۱- الف) گزینه ۵  $\frac{1}{20}$   
 ب) گزینه ۱  $\frac{1}{20}$   
 ج) گزینه ۲  $\frac{1}{20}$

۸- الف)  $\frac{1}{20}$   

x	0	1
y	3	5

۲- الف) گزینه ۴  $\frac{1}{20}$   

x	39	70
y	-34	37
z	-349	

 $9 \times 2 = 12$   $\frac{1}{20}$   
 $12 \times 3 = 36$   $\frac{1}{20}$

۲- الف) ص  $\frac{1}{20}$  ج  $\frac{1}{20}$

۹- الف)  $\frac{1}{20}$   
 $2x + y = 5 \Rightarrow y = -2x + 5$

۳- الف) گزینه ۲  $\frac{1}{20}$   
 $\{x \mid x \in \mathbb{Z}, 14 < x\}$   $\frac{1}{20}$   
 $\frac{1}{20}$

۳-  $\widehat{BC} = 10^\circ$   $\widehat{A} = 50^\circ$   $\frac{1}{20}$   
 $x^2 = 19 + 12 = 259 + 144$   $\frac{1}{20}$   
 $x^2 = 400$   $x = \sqrt{400} = 20$   $\frac{1}{20}$

۴- الف)  $\frac{1}{20}$   
 $2x + y = 5$   
 $2x + 3y = 10$   
 $-2y = -5 \Rightarrow y = \frac{5}{2}$   
 $2x + \frac{5}{2} = 5 \Rightarrow 2x = \frac{5}{2} \Rightarrow x = \frac{5}{4}$

۵- الف)  $\frac{1}{20}$   
 $\frac{-7+4}{5} = -\frac{3}{5}$  و  $\frac{-3}{5} \times \frac{1}{9} = -\frac{3}{45} = -\frac{1}{15}$   $\frac{1}{20}$   
 $(-\frac{25}{14}) \times (-\frac{7}{10}) = +\frac{175}{140} = +\frac{5}{4}$   $\frac{1}{20}$

۴- الف) شکل  $\frac{1}{20}$   
 $\frac{1}{3} = \frac{2}{6} \Rightarrow 12 = 12$   $\frac{1}{20}$   
 $\frac{1}{4} = \frac{2}{8}$   $\frac{1}{20}$

۱۰-  $\frac{1}{20}$   
 $2x + 3y = 7$   
 $4x + 2y = 9$   
 $-2x - 4y = -14$   
 $4x + 2y = 9$   
 $-2y = -5 \Rightarrow y = \frac{5}{2}$   
 $2x + 3(\frac{5}{2}) = 7 \Rightarrow 2x + \frac{15}{2} = 7 \Rightarrow 2x = 7 - \frac{15}{2} = \frac{14-15}{2} = -\frac{1}{2} \Rightarrow x = -\frac{1}{4}$

۵- الف)  $\frac{1}{20}$   
 $\vec{a} = \begin{bmatrix} 3 \\ 1 \end{bmatrix}$   $\frac{1}{20}$   
 $\begin{bmatrix} +54 \\ -24 \end{bmatrix}$   $\frac{1}{20}$   
 $\frac{1}{20}$

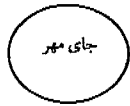
۵-  $\frac{1}{20}$   
 $\triangle ABE \sim \triangle ECD$   
 $\frac{AB}{EC} = \frac{AE}{EC}$   $\frac{1}{20}$

۱۱-  $\frac{1}{20}$   
 $2x + 1 = 9$   
 $2x = 8$   
 $x = \frac{8}{2} = 4$   $\frac{1}{20}$

۶- الف)  $\frac{1}{20}$   
 $14a - 10ab$   $\frac{1}{20}$   
 $-21b^2$   $\frac{1}{20}$   
 $a^2 - 9a + 2a + 3$   $\frac{1}{20}$

۶-  $\frac{1}{20}$   
 $V = \frac{F}{P} \times R^3$   $\frac{1}{20}$   
 $V = \frac{F}{P} \times 3 \times 14 \times 3 = 117 \times 3 \text{ am}^3$   $\frac{1}{20}$

نام و نام خانوادگی:	باسمه تعالی	تاریخ: ۱۳۸۸/۳/۳
نام پدر:	اداره کل مدارس خارج از کشور	نام دبیر: پارسا
نام درس: ریاضی	سرپرستی مدارس جمهوری اسلامی ایران در امارات عربی متحده	تعداد صفحه: ۴
شعبه ی کلاس:	مجمع آموزشی شارجه ( دوره راهنمایی ) خرداد ماه ۸۹	مدت پاسخگویی: ۱۲۰ دقیقه



نمره با عدد:	نمره با حروف:	نام و نام خانوادگی مصحح و امضا:
--------------	---------------	---------------------------------

بارم	دیف
۲۵	۱
۲۵	۲
۱	۳
۱/۵	۴
۱	۵
۱/۷۵	۶
۱۵	۷
۱۵	۷

از گزینه های زیر کدام عدد هم بر ۵ و هم بر ۲ بخش پذیر است؟  
 الف) ۱۵۴      ب) ۲۰۰      ج) ۲۰۸      د) ۵۰۵

مجذور عدد  $\frac{1}{3}$  برابر است با:  
 الف)  $\frac{1}{6}$       ب)  $\frac{1}{9}$       ج)  $\frac{3}{6}$       د)  $\frac{2}{6}$

جاهای خالی را با کلمات مناسب پر کنید.  
 الف) تنها عدد زوج اول، عدد ..... است.  
 ب) بزرگترین مقسوم علیه هر عدد ..... است.  
 ج) هر که دو مقدار طوری تغییر کنند که همواره مقدار آنها ثابت بماند می گوئیم این دو مقدار ..... هستند.  
 د) ۱ تن برابر است با ..... کیلوگرم.

ابتدا بزرگترین مقسوم علیه مشترک دو عدد ۹۳ و ۵۱ را بدست آورده سپس ک. م. م آنها را به دست آورید.

مجموعه مقسوم علیه های عدد ۲۴ را نوشته سپس نمودار مقسوم علیه های آن را رسم کنید.

الف) حاصل عبارت زیر را به دست آورید.

$$6^2 + 5^2 - 1^4 =$$

ب) حاصل عبارات زیر را به صورت یک عدد تواندار بنویسید.

$$\left(\frac{2}{5}\right)^4 \times \left(\frac{4}{10}\right)^3 =$$

$$(5,1)^2 \times \left(5\frac{1}{10}\right) \times \left(\frac{5,1}{1}\right)^6 =$$

الف) مقدار X را به دست آورید.

$$\frac{12}{x} = \frac{16}{24}$$

۱۵	$\frac{۸۱ \times ۲۵}{۶۳ \times ۲۱} =$	۸ کسر زیر را ساده کنید.												
۱/۵	$\frac{۷}{۸} \div \left( \frac{۳}{۸} - \frac{۲}{۱۰} \right) =$ $\frac{۶}{۷} - \frac{۲}{۳} + ۱ =$	۹ حاصل عبارات زیر را به دست آورده و حاصل را تا حد امکان ساده کنید.												
۱	$۷۱/۹ \overline{) ۳۶}$	۱۰ حاصل تقسیم زیر را تا دو رقم اعشار در خارج قسمت بدست آورید.												
۱/۲۵		۱۱ برای تهیه ی رنگ بنفش دو رنگ قرمز و آبی را با نسبت ۴ و ۳ مخلوط میکنیم. برای تهیه ۴۲ کیلوگرم رنگ بنفش چند کیلوگرم از هر کدام نیاز داریم؟												
۱۵		۱۲ متناظر با بردار زیر یک جمع بنویسید.												
۱	$(-۱۸) + (+۱۱) =$ $(+۱۵) + (+۷) =$	۱۳ حاصل جمعهای زیر را به دست آورده هر جا لازم است قرینه یابی کنید.												
۱	$(-۱۴) - (+۳) =$	۱۴ حاصل تفریقهای زیر را به دست آورید.												
۱/۵		۱۵ دمای هوای همدان ۷ درجه زیر صفر است. و دمای هوای تهران ۵ درجه گرم تر از دمای هوای همدان می باشد، دمای هوای تهران چند درجه است؟												
۱/۷۵	<table border="1"> <thead> <tr> <th>عدد</th> <th>تقریب</th> <th>قطع شده</th> <th>گرد شده</th> </tr> </thead> <tbody> <tr> <td>۲۳۸</td> <td>۱۰۰</td> <td></td> <td></td> </tr> <tr> <td>۱۳۷/۸۷</td> <td>۰/۱</td> <td></td> <td></td> </tr> </tbody> </table>	عدد	تقریب	قطع شده	گرد شده	۲۳۸	۱۰۰			۱۳۷/۸۷	۰/۱			۱۶ جدول زیر را کامل کنید.
عدد	تقریب	قطع شده	گرد شده											
۲۳۸	۱۰۰													
۱۳۷/۸۷	۰/۱													

۱۷ نمودار خط شکسته ی دمای هوای تهران در ۶ ماه سال رسم شده است.



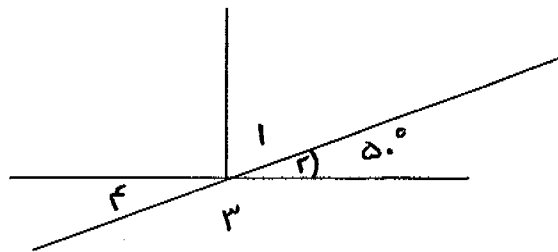
الف) حد اکثر دما در چه ماهی بوده است؟

ب) تغییرات شدید دما در بین چه ماههایی بوده است؟

ج) در چه ماهی دمای هوا ۹ درجه بوده است؟

۱ جای خالی را با کلمات مناسب پر کنید.  
 الف) فاصله دو نقطه A و B برابر است با ..... پاره خط AB .  
 ب) واحد اندازه گیری زاویه ..... است .  
 ج) هر نقطه که روی ..... یک پاره خط باشد، فاصله آن از دو سر پاره خط به یک اندازه است.  
 د) از یک نقطه ..... خط میگذرد .

۲ در شکل مقابل اندازه زاویه های خواسته شده را به دست آورید.



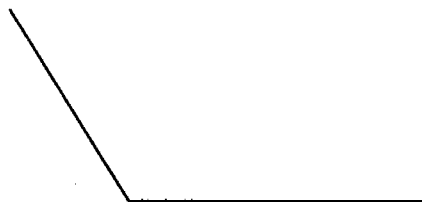
$\hat{2} = 50^\circ$        $\hat{1} = \dots\dots\dots$   
 $\hat{4} = \dots\dots\dots$        $\hat{3} = \dots\dots\dots$

۳ مثلث ABC را با مشخصات زیر رسم کنید.

$\hat{A} = 60^\circ$        $AB = 3 \text{ cm}$        $AC = 2/5 \text{ cm}$

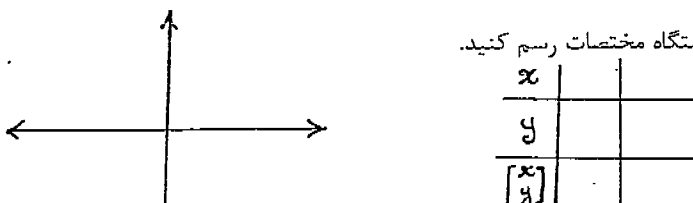
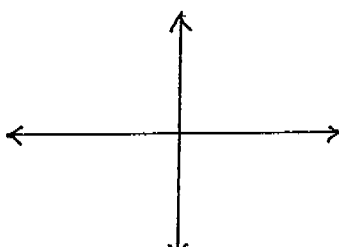
۴ الف) پاره خطی به طول ۴ سانتی متر رسم کرده سپس با استفاده از پرگار و خط کش عمود منصف آن را رسم کنید.

ب) به وسیله ی پرگار و خط کش نیمساز زاویه زیر را به دست آورید.





نام و نام خانوادگی: دانش آموز/ داوطلب آزاد..... کشور: ..... شهر: .....

ردیف	پارم	سوال
۶	۰/۵ ۰/۵ ۰/۵	الف) عبارت روبرو را ساده کنید. ب) ضرب روبرو را انجام دهید. پ) جای خالی را کامل کنید. $10a + 4ab + 7a - 14ab =$ $(+7b)(-3b) =$ $(a - 5)(a - 6) = a^2 - \dots - 5a + \dots$
۷	۰/۵ ۰/۷۵	الف) از ۷ برابر عددی ۵ واحد کم می کنیم. حاصل برابر است با ۹. آن عدد کدام است؟ $14(1)$ $2(2)$ $1(3)$ $7(4)$ ب) معادله ی روبرو را حل کنید. $16x - 5 = 6x + 25$
۸	۰/۷۵ ۰/۲۵	الف) خط $d$ به معادله $y = 2x + 3$ را در دستگاه مختصات رسم کنید. ب) معادله خطی بنویسید که با خط $d$ موازی باشد و از مبدا مختصات بگذرد. 
۹	۰/۵ ۰/۵	الف) شیب و عرض از مبدا خط $4x + 2y = 10$ را مشخص کنید. ب) خط به معادله $y = -3$ را رسم کنید. 
۱۰	۱	مسئله زیر را از طریق دستگاه معادله های خطی ( دو مجهولی ) حل کنید. وزن ۲ پیمانه کوچک و ۳ پیمانه بزرگ برابر با ۷ کیلوگرم و وزن ۴ پیمانه کوچک و ۱ پیمانه بزرگ برابر با ۹ کیلوگرم است. وزن هر پیمانه را پیدا کنید.

سوال درس: ریاضی و رسم  
 پایه: سوم  
 دوره: راهنمایی  
 رشته: عمومی

با سمه تعالی



سال تحصیلی: ۸۹-۸۸  
 تاریخ امتحان: ۳، ۲، ۸۹  
 ساعت امتحان: ۱۵ صبح به وقت  
 مدت امتحان: ۱۲۰ دقیقه  
 شماره صفحه: ۳ از ۴

نام و نام خانوادگی: دانش آموز/ داوطلب آزاد..... کشور: ..... شهر: .....

ردیف ۱۱

بازم -۱۵

جای خالی را کامل کنید.

ردیف ۱۲

الف) نمرات ماهانه علی در درس ریاضی در نوبت دوم به ترتیب  $14/5$  و  $17$  و  $13/5$  است. نمره مستمر او را حساب کنید: (میانگین نمرات)

ب) در جدول زیر جای خالی را کامل کنید.

دسته	خط نشان	فر اوانی	متوسطه دسته	متوسط فر اوانی
۱۶-۲۰				۷۲

هندسه

ردیف ۱

الف) کدام یک از اشکال زیر منتظم است؟  
 (۱) لوزی (۲) مستطیل (۳) متوازی الاضلاع (۴) مربع

ب) فاصله یک نقطه تا مرکز یک دایره ۴ سانتی متر و شعاع دایره ۵ سانتی متر است. نقطه در..... دایره قرار دارد.  
 (۱) داخل (۲) خارج (۳) روی (۴) مرکز

پ) در کدام مثلث مجذور یک ضلع برابر با جمع مجذورات دو ضلع دیگر است؟  
 (۱) متساوی الاضلاع (۲) قائم الزویه (۳) متساوی الساقین (۴) هر مثلث

ردیف ۲

جمله صحیح را با (ص) و جمله غلط را با (غ) مشخص کنید.  
 الف) در حالتی که خط و دایره یک نقطه مشترک دارند، خط بر دایره مماس است.  
 ب) از گردش یک مثلث قائم الزویه دور یک ضلعش جسمی به نام کره تشکیل می شود.

ردیف ۳

در شکل های زیر با توجه به اندازه های داده شده، اندازه های خواسته شده را بنویسید.

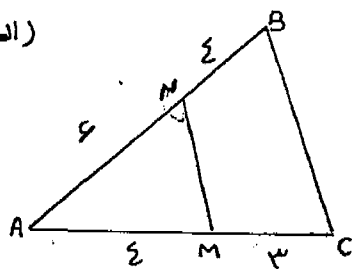
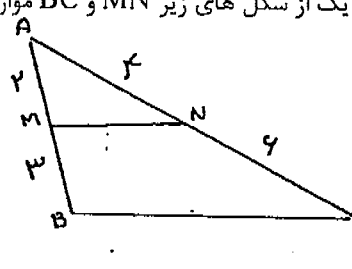
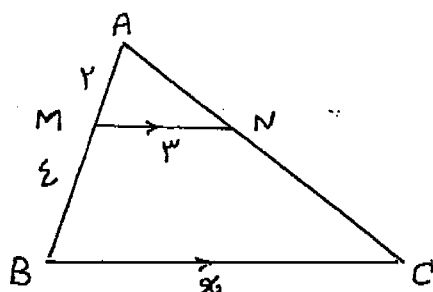
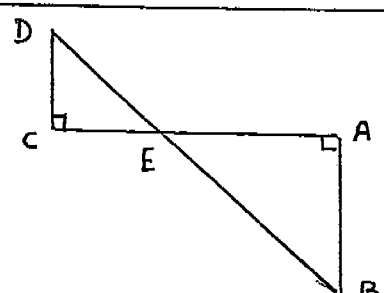
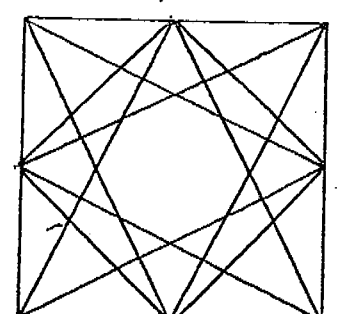
۱۲ ۱۶ x

$\widehat{BC} =$        $\widehat{A} =$





نام و نام خانوادگی: دانش آموز/ داوطلب آزاد..... کشور: ..... شهر: .....

بارم	ردیف	سوال
۰/۱۵	۴	الف) در کدام یک از شکل های زیر MN و BC موازیند؟ (الف)  (ب) 
۰/۷۵	۵	ب) در شکل زیر اندازه ی X را بدست آورید. (MN موازی BC) 
۱/۲۵	۵	در شکل زیر دلیل تشابه دو مثلث را بنویسید سپس جای خالی را کامل کنید.  $\Rightarrow \frac{AB}{\dots} = \frac{\dots}{EC}$
۰/۷۵	۶	حجم کره ای به شعاع ۳ سانتی متر را بدست آورید. (نوشتن رابطه ای حجم کره الزامی است)
۱		«رسم» مربعی به ضلع ۱۰ سانتی متر رسم کنید و وسط هر ضلع را مشخص کنید سپس مانند تصویر کاس کنید. 



نام و نام خانوادگی: دانش آموز/ داوطلب آزاد..... کشور: ..... شهر: .....

ردیف	سوال	بارم
۱	الف) اعداد اول بین ۳۰ الی ۴۰ را به روش غربال تعیین کنید. ب) عبارت روبرو را به صورت یک عدد تواندار بنویسید.	۰/۱۵ ۰/۱۵
۲	الف) حاصل عبارت $\sqrt{۸۱ \times ۴۹}$ کدام است؟ ب) جذر عدد $۳۹/۷$ را تا یک رقم اعشار بدست آورید و باقیمانده را مشخص کنید.	۰/۱۲۵ ۰/۱۲۵
۳	الف) کدام گزینه صحیح است؟ ب) مجموعه ی زیر را با علائم ریاضی بنویسید. پ) مجموعه ی زیر را روی محور اعداد نمایش دهید.	۰/۱۲۵ ۰/۱۵ ۰/۱۵
۴	حاصل عبارتهای زیر را بدست آورید.	۰/۱۲۵ ۰/۱۲۵
۵	الف) بردار $\vec{a} = ۲i + j$ باشد. ب) ضرب روبرو را انجام دهید. پ) جمع بردارهای زیر را رسم کنید.	۰/۱۲۵ ۰/۱۵ ۰/۱۲۵

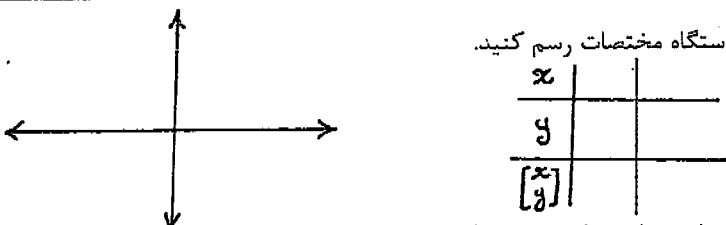
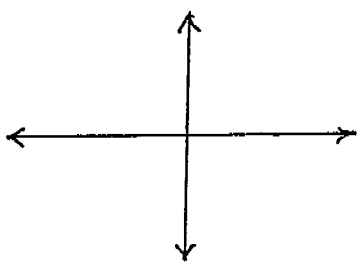
سوال درس: ریاضی و رسم  
پایه: سوم  
دوره: راهنمایی  
رشته: عمومی

با ستمه تعالی



سال تحصیلی: ۸۸-۸۹  
تاریخ امتحان: ۳، ۲، ۱۹  
ساعت امتحان: ۱۰ دقیقه  
مدت امتحان: ۱۲۰ دقیقه  
شماره صفحه: ۴ از ۴

نام و نام خانوادگی: دانش آموز/داوطلب آزاد..... کشور: ..... شهر: .....

ردیف	بارم	سوال
۶	۰/۵ ۰/۵ ۰/۵	الف) عبارت روبرو را ساده کنید. $10a + 4ab + 7a - 14ab =$ ب) ضرب روبرو را انجام دهید. $(+7b)(-3b) =$ پ) جای خالی را کامل کنید. $(a - 5)(a - 6) = a^2 - \dots - 5a + \dots$
۷	۰/۵ ۰/۷۵	الف) از ۷ برابر عددی ۵ واحد کم می کنیم. حاصل برابر است با ۹. آن عدد کدام است؟ ۱۴(۱)      ۲(۲)      ۱(۳)      ۷(۴) ب) معادله ی روبرو را حل کنید. $16x - 5 = 6x + 25$
۸	۰/۷۵ ۰/۲۵	الف) خط d به معادله $y = 2x + 3$ را در دستگاه مختصات رسم کنید.  ب) معادله خطی بنویسید که با خط d موازی باشد و از مبدا مختصات بگذرد.
۹	۰/۵ ۰/۵	الف) شیب و عرض از مبدا خط $4x + 2y = 10$ را مشخص کنید. ب) خط به معادله $y = -3$ را رسم کنید. 
۱۰	۱	مسئله زیر را از طریق دستگاه معادله های خطی (دو مجهولی) حل کنید. وزن ۲ پیمانه کوچک و ۳ پیمانه بزرگ برابر با ۷ کیلوگرم و وزن ۴ پیمانه کوچک و ۱ پیمانه بزرگ برابر با ۹ کیلوگرم است. وزن هر پیمانه را پیدا کنید.

نمره کتبی: ..... نمره شفاهی/عملی: ..... جمع نمره به عدد: ..... به حروف: ..... نام و نام خانوادگی مصحح: ..... امضاء



نام و نام خانوادگی: دانش آموز/ داوطلب آزاد..... کشور: ..... شهر: .....

ردیف ۱۱. جای خالی را کامل کنید.

۱۲ الف) نمرات ماهانه علی در درس ریاضی در نوبت دوم به ترتیب  $14/5$  و  $17$  و  $14/5$  است. نمره مستمر او را حساب کنید. (میانه نمرات)

ب) در جدول زیر جای خالی را کامل کنید.

دسته	خط نشان	فراوانی	متوسطه دسته	متوسط فراوانی
۱۶-۲۰				۷۲

هندسه

۱ الف) کدام یک از اشکال زیر منتظم است؟  
 (۱) لوزی (۲) مستطیل (۳) متوازی الاضلاع (۴) مربع

ب) فاصله یک نقطه تا مرکز یک دایره ۴ سانتی متر و شعاع دایره ۵ سانتی متر است. نقطه در..... دایره قرار دارد.  
 (۱) داخل (۲) خارج (۳) روی (۴) مرکز

پ) در کدام مثلث مجذور یک ضلع برابر با جمع مجذورات دو ضلع دیگر است؟  
 (۱) متساوی الاضلاع (۲) قائم الزاویه (۳) متساوی الساقین (۴) هر مثلث

۲ جمله صحیح را با (ص) و جمله غلط را با (غ) مشخص کنید.  
 الف) در حالتی که خط و دایره یک نقطه مشترک دارند، خط بر دایره مماس است.  
 ب) از گردش یک مثلث قائم الزاویه دور یک ضلعش جسمی به نام کره تشکیل می شود.


۳ در شکل های زیر با توجه به اندازه های داده شده، اندازه های خواسته شده را بنویسید.

$\widehat{BC} =$        $\widehat{A} =$



نام و نام خانوادگی: دانش آموز/ داوطلب آزاد ..... کشور: ..... شهر: .....

بارم	ردیف	سوال
۰۱۵	۴	الف) در کدام یک از شکل های زیر $BC$ و $MN$ موازیند؟ ب) در شکل زیر اندازه ی $x$ را بدست آورید. ( $MN$ موازی $BC$ ) 
۰۱۷۵	۵	در شکل زیر دلیل تشابه دو مثلث را بنویسید سپس جای خالی را کامل کنید. 
۰۱۷۵	۶	حجم کره ای به شعاع ۳ سانتی متر را بدست آورید. (نوشتن رابطه ای حجم کره الزامی است)
۱		«رسم» برای به ضلع ها سائتی رسم کنید و در هر ضلع را مشخص کنید سپس مانند نمونه طایر کنید. 

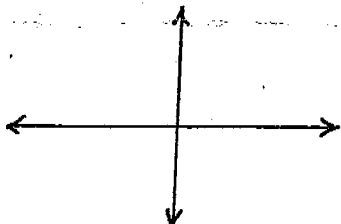
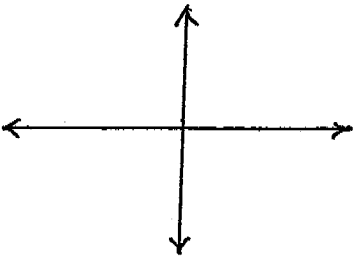


نام و نام خانوادگی: دانش آموز / داوطلب آزاد ..... کشور: .....

ردیف	سوال	پاسخ
۱	الف) اعداد اول بین ۳۰ الی ۴۰ را به روش غربال تعیین کنید. ب) عبارت روبرو را به صورت یک عدد تواندار بنویسید.	$\frac{8^5 \times 8^4}{2^9} =$
۲	الف) حاصل عبارت $\sqrt{81 \times 49}$ کدام است؟ ب) جذر عدد $39/7$ را تا یک رقم اعشار بدست آورید و باقیمانده را مشخص کنید.	الف) ۱۶ (۱)      ۲ (۲)      ۵۶ (۳)      ۶۳ (۴) ب) $39/7 \approx 5.5714$
۳	الف) کدام گزینه صحیح است؟ ب) مجموعه ی زیر را با علائم ریاضی بنویسید. پ) مجموعه ی زیر را روی محور اعداد نمایش دهید.	الف) (۱) $-(-5) \in \mathbb{N}$ (۲) $\mathbb{N} \subset \mathbb{Z} \subset \mathbb{Q} \subset \mathbb{R}$ (۳) $\sqrt{2} \in \mathbb{Q}$ (۴) $\frac{5}{4} \in \mathbb{Z}$ ب) $\{15, 16, 17, \dots\}$ پ) $A = \{x   -2 \leq x \leq 5\}$
۴	حاصل عبارتهای زیر را بدست آورید.	الف) $(\frac{-7}{5} - \frac{-4}{5}) \times (+\frac{10}{9}) =$ ب) $(-\frac{25}{14}) \div (-\frac{15}{7}) =$
۵	الف) بردار $\vec{a}$ را به صورت مختصات بنویسید. ب) ضرب روبرو را انجام دهید. پ) جمع بردارهای زیر را رسم کنید.	الف) $\vec{a} = 3i + j$ باشد ب) $(-8) \times \begin{bmatrix} -7 \\ +3 \end{bmatrix} =$ پ)



نام و نام خانوادگی: دانش آموز / داوطلب آزاد ..... کشور: ..... شهر: .....

بارم	ردیف	سوال						
۰/۵	۶	الف) عبارت روبرو را ساده کنید. ب) ضرب روبرو را انجام دهید. پ) جای خالی را کامل کنید.						
۰/۵		$10a + fab + 7a - 14ab =$ $(+7b)(-3b) =$						
۰/۵		$(a - 5)(a - 6) = a^2 - \dots - 5a + \dots$						
۰/۵	۷	الف) از ۷ برابر عددی ۵ واحد کم می کنیم. حاصل برابر است با ۹. آن عدد کدام است؟ ب) معادله ی روبرو را حل کنید.						
۰/۷۵		$16x - 5 = 6x + 25$						
۰/۷۵	۸	الف) خط d به معادله $y = 2x + 3$ را در دستگاه مختصات رسم کنید. ب) معادله خطی بنویسید که با خط d موازی باشد و از مبدا مختصات بگذرد.						
۰/۲۵								
۰/۲۵		<table border="1" data-bbox="742 1153 957 1310"> <tr> <td>x</td> <td></td> </tr> <tr> <td>y</td> <td></td> </tr> <tr> <td><math>\begin{bmatrix} x \\ y \end{bmatrix}</math></td> <td></td> </tr> </table>	x		y		$\begin{bmatrix} x \\ y \end{bmatrix}$	
x								
y								
$\begin{bmatrix} x \\ y \end{bmatrix}$								
۰/۱۵	۹	الف) شیب و عرض از مبدا خط $4x + 2y = 10$ را مشخص کنید. ب) خط به معادله $y = -3$ را رسم کنید.						
۰/۱۵								
۱	۱۰	مسئله زیر را از طریق دستگاه معادله های خطی ( دو مجهولی ) حل کنید. وزن ۲ پیمانه کوچک و ۳ پیمانه بزرگ برابر با ۷ کیلوگرم و وزن ۴ پیمانه کوچک و ۱ پیمانه بزرگ برابر با ۹ کیلوگرم است. وزن هر پیمانه را پیدا کنید.						

سال تحصیلی: ۸۸-۸۹  
 تاریخ امتحان: ۳۰ شهریور ۸۹  
 ساعت امتحان: ۱۰ صبح  
 مدت امتحان: ۱۲۰ دقیقه  
 شماره صفحه: ۳ از ۴



با سمه تعالی



سوال درس: ریاضی و رسم  
 پایه: سوم  
 دوره: راهنمایی  
 رشته: عمومی

نام و نام خانوادگی: دانش آموز/ داوطلب آزاد ..... کشور: .....

ردیف ۱۱

جای خالی را کامل کنید.

۱۲ الف) نمرات ماهانه علی در درس ریاضی در نوبت دوم به ترتیب  $14/5$  و  $17$  و  $14/5$  است. نمره مستمر او را حساب کنید. (میگین نمرت)

ب) در جدول زیر جای خالی را کامل کنید.

دسته	خط نشان	فراوانی	متوسطه دسته	متوسط فراوانی
۱۶-۲۰				۷۲

هندسه

۱ الف) کدام یک از اشکال زیر منتظم است؟  
 (۱) لوزی (۲) مستطیل (۳) متوازی الاضلاع (۴) مربع

ب) فاصله یک نقطه تا مرکز یک دایره ۴ سانتی متر و شعاع دایره ۵ سانتی متر است. نقطه در ..... دایره قرار دارد.  
 (۱) داخل (۲) خارج (۳) روی (۴) مرکز

پ) در کدام مثلث مجذور یک ضلع برابر با جمع مجذورات دو ضلع دیگر است؟  
 (۱) متساوی الاضلاع (۲) قائم الزاویه (۳) متساوی الساقین (۴) هر مثلث

۲ جمله صحیح را با (ص) و جمله غلط را با (غ) مشخص کنید.  
 الف) در حالتی که خط و دایره یک نقطه مشترک دارند، خط بر دایره مماس است.  
 ب) از گردش یک مثلث قائم الزاویه دور یک ضلعش جسمی به نام کره تشکیل می شود.

۳ در شکل های زیر با توجه به اندازه های داده شده، اندازه های خواسته شده را بنویسید.

۱  $\widehat{BC} =$        $\widehat{A} =$





۱- لطفاً پاسخ سوالات بطور کامل قید گردد (با ذکر ریز بارم) ۲- از دادن آدرس بعنوان مثال (مراجعه به متن ص ۲۰ و یا ... کتاب خودداری شود).

ردیف بارم

۱- ذکر دو مورد از شش مورد زیر هر مورد ۲۵

- ۱- کاغذ نامه
- ۲- قلمی که با آن نامه نوشته می شود
- ۳- حاشیه نذاری
- ۴- نشانه گذاری
- ۵- پر هیز از کلمات محاوره
- ۶- رعایت در اشتباه کلمات و عبارات ضامی

۲- الف) صحیح ۲۵ ب) غلط ۲۵

۳- رعایت اختصار ۱۵

۴- اصلی، عمده ۲۵ جزئیات ۲۵

۵- ب) ضروری است ۱۵

۶- با نظر همکاران محترم (به نسبت اصلی نامه رعایت شود) ۵ رانر

۷- با نظر همکاران محترم ۵ رانر

۸- شامل مقاله، داستان، شعر، گزارش یا مصعبه، اخبار، درسه، لطیفه ای ابرس، معما و جدول کلمات متقاطع است. در ذکر هر مورد هر مورد ۲۵ / ۵۰

۹- با نظر همکاران ارجمند ۱۰

۱۰- با نظر همکاران مثال: چاه تحقیق راه طولانی هر مورد ۲۵

انشا ۱۲

انشا با نظر همکاران عزیز تصحیح شود. مواردی که در پایین صفحه سوالات در انشا که در آره شده است. مورد تصحیح محترم قرار گیرد.

پایان



سوال درس : انشا و نگارش

پایه : سوم

دوره : راهنمایی

رشته : عمومی

سال تحصیلی : ۱۳۸۸/۸۹

تاریخ امتحان : ۱۳۸۹ / ۳ / ۵

ساعت امتحان : ۱۰ صبح به وقت تهران

مدت امتحان : ۶۰ دقیقه

شماره صفحه : ۱

نام و نام خانوادگی دانش آموز / داوطلب آزاد:

کشور:

شهر:

ردیف	سوال	بارم
۱	الف) نگارش (۸نمره) در نوشتن نامه به چه مواردی باید توجه کرد؟ (۲مورد)	۰/۵
۲	کدام يك از موارد زیر صحیح و کدام يك غلط است؟ الف) محل تبر، بالای نامه و در گوشه ي سمت راست است. ( ) ب) استفاده از رنگ های تند و رنگ قرمز نامه را مؤدبانه ترمی کند. ( )	۰/۵
۳	ذریعہ های رسمی و اداری ..... ضروری است.	۰/۵
۴	در خلاصه نویسی باید مطالب ..... متن را ذکر کنیم و از نوشتن ..... چشم پوشیم.	۰/۵
۵	ثبت واقعیات در گزارش نویسی ..... الف) لازم نیست. (ب) ضروری است. (ج) مهم نیست.	۰/۵
۶	نامه ای به مسؤول کتاب خانه ای بنویسید و از او درخواست کنید که شماره ای عضویت آن کتاب خانه در آورد.	۱/۵
۷	گزارشی از چگونگی برگزاری مراسم صبحگاه در مدرسه ي خود را در سه سطر بنویسید.	۱/۵
۸	يك روزنامه ي دیواری شامل چه قسمت هایی است؟ (۴مورد)	۱
۹	بیت مقابل را با نثر ساده و روان بازنویسی کنید. «نام نیکو گریمانۀ زادمی به کزو ماند سراي زرنگار»	۱
۱۰	برای اسم های زیر صفت مناسب بنویسید. ---چاه..... راه.....	۰/۵
	ب) انشا (۱۲ نمره)	
۱۲	از سه موضوع زیر یکی را انتخاب کنید و درباره ي آن انشایی بنویسید. ۱_ خلاصه ي یکی از درس های کتاب راکه تا کنون خوانده اید بنویسید. ۲_ گزارشی از یکی از مکان هایی که در طول سال تحصیلی بازدید کرده اید بنویسید. ۳_ یکی از زیبایی های طبیعی محل زندگی خود را توصیف کنید. مناسب و منطقی مطالب باهم قابل توجه: درک و فهم و پروراندن موضوع، ارتباط منطقی، نوآوری و ابتکار، رعایت نشانه گذاری و نکات دستوری، خوانایی و پاکیزگی در نوشتن انشا مهم است.	۱۲

سال تحصیلی: ۱۳۸۸/۸۹	باسمه تعالی  اداره کل آموزش و پرورش مدارس خارج از کشور	سوال درس: انشا و نگارش
تاریخ امتحان: ۱۳۸۹ / ۳ / ۱۵		پایه: سوم
ساعت امتحان: ۱۰ صبح به وقت تهران		دوره: راهنمایی
مدت امتحان: ۶۰ دقیقه		رشته: عمومی
شماره صفحه: ۱		

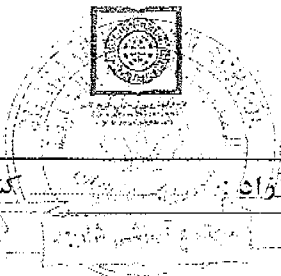
ردیف	سوال	کشور:	شهر:	نام و نام خانوادگی دانش آموز / داوطلب آزاد:
۱	الف) نگارش (۸ نمره) در نوشتن نامه به چه مواردی باید توجه کرد؟ (۲ مورد)			
۲	کدام یک از موارد زیر صحیح و کدام یک غلط است؟ الف) محل تبر، بالای نامه و در گوشه ی سمت راست است. ( ) ب) استفاده از رنگ های تندورنگ قرمز نامه را مؤدبانه ترمی کند. ( )			
۳	دزنامه های رسمی و اداری ..... ضروری است.			
۴	در خلاصه نویسی باید مطالب ..... متن را ذکر کنیم و از نوشتن ..... چشم پوشیم.			
۵	الف) لازم نیست. (ب) ضروری است. (ج) مهم نیست.			
۶	نامه ای به مسؤول کتاب خانه ای بنویسید و از او درخواست کنید که شماره به عضویت آن کتاب خانه درآورد.			
۷	گزارشی از چگونگی برگزاری مراسم صبحگاه در مدرسه ی خود را در سه سطر بنویسید.			
۸	یک روزنامه ی دیواری شامل چه قسمت هایی است؟ (۴ مورد)			
۹	بیت مقابل را با نثر ساده و روان بازنویسی کنید. «نام نیکو گر بماند ز آدمی به کزو ماند سراي زرنگار»			
۱۰	برای اسم های زیر صفت مناسب بنویسید. ---چاه..... راه.....			
۱۲	ب) انشا (۲ نمره) از سه موضوع زیر یکی را انتخاب کنید و درباره ی آن انشایی بنویسید. ۱_ خلاصه ی یکی از درس های کتاب را که تاکنون خوانده اید بنویسید. ۲_ گزارشی از یکی از مکان هایی که در طول سال تحصیلی بازدید کرده اید بنویسید. ۳_ یکی از زیبایی های طبیعی محل زندگی خود را توصیف کنید. مناسب و منطقی مطالب باهم قابل توجه: درک و فهم و پروراندن موضوع، ارتباط منطقی، نوآوری و ابتکار، رعایت نشانه گذاری و نکات دستوری، خوانایی و پاکیزگی در نوشتن انشا مهم است.			

باسمه تعالی  وزارت آموزش عالی و آموزش عالی سازمان سنجش آموزش ایران	سوال درس : انشا و نگارش پایه : سوم دوره : راهنمایی رشته : عمومی	سال تحصیلی : ۱۳۸۸/۸۹ تاریخ امتحان : ۱۳۸۹ / ۳ / ۱۵ ساعت امتحان : ۱۰ صبح به وقت تهران مدت امتحان : ۶۰ دقیقه شماره صفحه : ۱
--	--	--

ردیف	سوال	بارم	نام و نام خانوادگی دانش آموز / داوطلب آزاد:	کشور:	شهر:
۱	الف) نگارش (۸ نمره) در نوشتن نامه به چه مواردی باید توجه کرد؟ (۲ مورد)	۰/۵			
۲	کدام يك از موارد زیر صحیح و کدام يك غلط است؟ الف) محل تمبر، بالاي نامه و در گوشه ي سمت راست است. ( ) ب) استفاده از رنگ های تند و رنگ قرمز نامه را مؤدبانه ترمي کند. ( )	۰/۵			
۳	در نامه های رسمي و اداري ..... ضروري است.	۰/۵			
۴	در خلاصه نویسی باید مطالب ..... متن را ذکر کنیم و از نوشتن ..... چشم پوشیم.	۰/۵			
۵	ثبت واقعیات در گزارش نویسی ..... الف) لازم نیست. (ب) ضروري است. (ج) مهم نیست.	۰/۵			
۶	نامه ای به مسؤول کتاب خانه ای بنویسید و از او درخواست کنید که شماره به عضویت آن کتاب خانه درآورد.	۱/۵			
۷	گزارشی از چگونگی برگزاری مراسم صبحگاه در مدرسه ي خود را در سه سطر بنویسید.	۱/۵			
۸	يك روزنامه ي ديوارى شامل چه قسمت هاى است؟ (۴ مورد)	۱			
۹	بیت مقابل را با نثر ساده و روان بازنویسی کنید. «نام نیکو گریمانند ز آدمی به کزو ماند سراي ز رنگار»	۱			
۱۰	برای اسم های زیر صفت مناسب بنویسید. ---چاه..... راه.....	۰/۵			
<b>ب) انشا (۱۲ نمره)</b>					
۱۲	از سه موضوع زیر یکی را انتخاب کنید و درباره ي آن انشایی بنویسید. ۱_ خلاصه ي يکي از درس های کتاب راکه تا کنون خوانده اید بنویسید. ۲_ گزارشی از یکی از مکان هایي که در طول سال تحصیلی بازدید کرده اید بنویسید. ۳_ یکی از زیبایی های طبیعی محل زندگی خود را توصیف کنید. مناسب و منطقی مطالب باهم" قابل توجه: درک و فهم و پروراندن موضوع، ارتباط منطقی، نوآوری و ابتکار، رعایت نشانه گذاری و نکات دستوری، خوانایی و پاکیزگی در نوشتن انشا مهم است.				

سال تحصیلی: ۸۸-۸۹  
 تاریخ امتحان: ۸۹/۳/۵  
 ساعت امتحان: ۱۷:۰۰ تا ۱۸:۰۰  
 مدت امتحان: ۷۰ دقیقه  
 شماره صفحه: ۱

سئوال درسی: نگارش و انشا  
 پایه: سوم  
 دوره: راهنمایی  
 رشته:



نام و نام خانوادگی دانش آموز/ داوطلب آواذ: ..... کشور: ..... شهر: .....

بارم	ردیف	سئوال
۱	۱	در جاهای خالی عبارت زیر واژه ی مناسب بنویسید. الف) نامه یکی از ارزان ترین و آسان ترین راه های ..... است. ب) ..... یکی از راه های کسب مهارت در نویسندگی است.
۱	۲	هنر نامه شامل چند بخش است؟ نام ببرید.
۱	۳	گزارش چه نوع نوشته ای است و ثبت چه چیزی در آن ضروری است؟
۱	۴	به جای واژه هایی که زیر آن ها خط کشیده شده است، واژه مناسب دیگری بگذارید. دانشی مردان و فرزانه گانی در زمینه های گوناگون معارف بشری، از شهر های فرهنگ پرور خرابیان برخاستند.
۱	۵	یک روزنامه ی دیواری شامل چه مطالبی است؟ (۴ مورد).
۱	۶	عبارت نا تمام زیر را در یک بند چهار جمله ای کامل کنید: وقتی که از دور چشمم به گنبد و گلدسته های حرم امام رضا (ع) افتاد.....
۲	۷	زیبا ترین و شیرین ترین خاطره ی خود را در چهار سطر بنویسید.

سال تحصیلی: ۸۹-۸۸
تاریخ امتحان: ۸، ۳، ۸۹
ساعت امتحان: ۱۰ صبح
مدت امتحان: ۵۰ دقیقه
شماره‌ی صفحه: ۱



سؤال درس: حرفه و فن
پایه: سوم
دوره: راهنمایی
رشته:

نام و نام خانوادگی دانش آموز/ داوطلب آزاد: ..... کشور: .....

شهر: .....

ردیف

سوالات کامل کردنی

۱ در راه سازی اگر تپه ای را بر داریم اصطلاحا به آن ..... گفته می شود

۲ هنگام آب کشی لباس های پشمی و یا فتنی می توان از کمی سرکه یا آمونیاک استفاده کرد تا لباس ها حالت ..... به خود بگیرند

۳ به مربای که از میوه ی له شده و شکر تهیه می شود ..... می گویند

۴ آبریان یکی از عمده ترین منابع تامین ..... مورد نیاز بدن انسان است

سوالات صحیح و غلط

۵ پهن برگان برای کاغذ سازی نسبت به سوزنی برگان مناسب ترند ص ( ) غ ( )

۶ سیستم های فرعی برای انجام دادن بخشی از وظیفه ی سیستم اصلی ایجاد می شوند ص ( ) غ ( )

۷ برای تقویت میدان مغناطیسی حلقه های سیم را روی یک هسته ی آهنی می پیچند ص ( ) غ ( )

۸ زمان هرس کردن درختان بعد از خواب زمستانه است ص ( ) غ ( )

گزینه صحیح را با علامت \* مشخص کنید

۹ قارچ ها جزو کدام نوع از عوامل تخریب کننده چوب است

الف) شیمیایی      ب) بیولوژیکی      ج) مکانیکی      د) فیزیکی

۱۰ کدام یک از درختان زیر استفاده از میوه و چوب آن ها است

الف) خرما      ب) گردو      ج) سپیدار      د) گردو

۱۱ کدام نوع لکه می توان از استون استفاده کرد

الف) جوهر      ب) لکه ی جوهر      ج) لکه ی لاک ناخن      د) لکه ی آدامس

۱۲ کلید تبدیل شامل چه قسمت های است ؟

ادامه در صفحه دو





سال تحصیلی: ۸۸-۸۹

تاریخ امتحان: ۸، ۳، ۸۹

ساعت امتحان: ۱۵ صبح تا اوق ظهر

مدت امتحان: ۵۰ دقیقه

شماره‌ی صفحه: ۲



سؤال درس: حرفه و فن

پایه: سوم

دوره: راهنمایی

رشته:

نام و نام خانوادگی دانش آموز/ داوطلب آزاد: ..... کشور: .....

شهر: .....

۱۳	وظیفه کلاف (شناز) در ساختمان چیست؟	۱۵
۱۴	نام دیگر جعبه دنده چیست و کار آن را بنویسید؟	۱۷۵
۱۵	ماهیان پرورشی را از نظر دمای آب به چند گروه تقسیم می کنند؟	۱۵
۱۶	سه مورد از موارد بهداشتی برای پیش گیری از بروز بیماری در کندو را بنویسید	۱۷۵
۱۷	انواع روش های آبیاری درختان را نام ببرید	۱۷۵
۱۸	بسته بندی مواد غذایی را تعریف کنید	۱۵
۱۹	در پرورش ماهیان گرمابی چگونه می توان تولید غذای زنده را افزایش داد؟	۱۵
۲۰	اساس کار خشک کردن میوه و سبزی چیست؟ هدف از آن را بنویسید.	۱۵

موفق باشید

نمره ی کتبی ..... نمره ی شفاهی / عملی: ..... جمع نمره: به عدد ..... به حروف ..... نام و نام خانوادگی مصصح: ..... امضاء





سال تحصیلی ۸۸-۸۹

نوبت امتحانی: ۱۹۳۸

۱۵ صبح به وقت تهران

قابل توجه طرآخان: ۱- لطفاً پاسخ سئوالات به طور کامل قید گردد (با ذکر ریز بارم) ۲- از دادن آدرس به عنوان مثال (مراجعه به متن ص ۲۰ و یا ... کتاب خودداری شود)

بارم	کلید سئوالات حرفه دفن سوم راهنمای	ردیف
	سئوالات کامل کردنی	
	۱) خاک برداری ۱۲۵    ۲) نمندی ۱۲۵    ۳) مارمالاد ۱۲۵    ۴) پروتیین ۱۲۵	
	سئوالات صحیح و غلط	
	۵-غ ۱۲۵    ۶-ص ۱۲۵    ۷-ص ۱۲۵    ۸-غ ۱۲۵	
	سئوالات چهار گزینه ای	
	۹-ب ۱۲۵    ۱۰-ج ۱۲۵    ۱۱-ج ۱۲۵	
	۱۱- کلید تبدیل دارای یک پیچ مشترک ۱۲۵ و دو پیچ غیر مشترک است ۱۲۵	
	۱۲- کلاف نیروهای ناشی از زلزله را ۱۲۵ بر پیکره ی ساختمان را به زمین منتقل واز ریختن دیوار ها جلوگیری می کند ۱۲۵	
	۱۳- جعبه دنده یا گیر بکس ۱۲۵ که در آن تعدادی دنده برای سرعت و قدرتهای مختلف تعبیه شده است ۱۵	
	۱۴- ماهیان گرمابی ۱۲۵    ماهیان سردابی ۱۲۵	
	۱۶- نظافت کندو و محل آن ۱۲۵    ضد عفونی کردن ابزار زنبور داری بعد از هر بازدید ۱۲۵    نگه داری کندو در محل خشک به ویژه زمستان ۱۲۵	
	۱۷- آبیاری کرتی (غرقابی) ۱۲۵    آبیاری تشکی ۱۲۵    آبیاری تحت فشار ۱۲۵	
	۱۸- بسته بندی عبارت است از پوششی که سلامت کالای محتوای خود را ۱۲۵ از مرحله تولید تا مصرف حفظ کند ۱۲۵	
	۱۹- شخم زدن ۱۲۵    کوددهی ۱۲۵	
	۲۰- اساس کار خشک کردن میوه و سبزی این است که رطوبت محصول <sup>کامرس</sup> یابد ۱۲۵ واز فساد آن جلوگیری شود ۱۲۵	

سال تحصیلی : ۸۸-۸۹
تاریخ امتحان : ۸، ۳، ۸۹
ساعت امتحان : ۱۰ صبح به وقت تهران
مدت امتحان : ۵۰ دقیقه
شماره‌ی صفحه : ۲



سؤال درس: حرفه و فن
پایه : سوم
دوره : راهنمایی
رشته :

نام و نام خانوادگی دانش آموز/ داوطلب آزاد : .....

کشور : .....

شهر : .....

۱۵	وظیفه کلاف (شناژ) در ساختمان چیست ؟	۱۳
۱۷۵	نام دیگر جعبه دنده چیست و کار آن را بنویسید ؟	۱۴
۱۵	ماهیان پرورشی را از نظر دمای آب به چند گروه تقسیم می کنند ؟	۱۵
۱۷۵	سه مورد از موارد بهداشتی برای پیش گیری از بروز بیماری در کندو را بنویسید	۱۶
۱۷۵	انواع روش های آبیاری درختان را نام ببرید	۱۷
۱۵	بسته بندی مواد غذایی را تعریف کنید	۱۸
۱۵	در پرورش ماهیان گرمابی چگونه می توان تولید غذای زنده را افزایش داد ؟	۱۹
۱۵	اساس کار خشک کردن میوه و سبزی چیست ؟ هدف از آن را بنویسید.	۲۰

موفق باشید

نمره‌ی کتبی : نمره‌ی شفاهی / عملی : جمع نمره : به عدد ..... به حرف ..... نام و نام خانوادگی مصصح : ..... امضاء

سال تحصیلی: ۸۹-۸۸
تاریخ امتحان: ۸، ۳، ۸۹
ساعت امتحان: ۱۰ صبح به وقت تهران
مدت امتحان: ۵۰ دقیقه
شماره‌ی صفحه: ۱



سؤال درس: حرفه و فن
پایه: سوم
دوره: راهنمایی
رشته:

نام و نام خانوادگی دانش آموز/ داوطلب آزاد: ..... کشور: .....

## سوالات کامل کردنی

ردیف

۱	در راه سازی اگر تپه ای را بر داریم اصطلاحاً حا به آن ..... گفته می شود	۱۲۵
۲	هنگام آب کشی لیا پس های پشمی و بافتنی می توان از کمی سرکه یا آمونیاک استفاده کرد تا لباس ها حالت ..... به خود بگیرند	۱۲۵
۳	به مربای که از میوه ی له شده و شکر تهیه می شود ..... می گویند	۱۲۵
۴	آبزیان یکی از عمده ترین منابع تامین ..... مورد نیاز بدن انسان است	۱۲۵

## سوالات صحیح و غلط

۵	پهن برگان برای کاغذ سازی نسبت به سوزنی برگان مناسب ترند ص ( ) غ ( )	۱۲۵
۶	سیستم های فرعی برای انجام دادن بخشی از وظیفه ی سیستم اصلی ایجاد می شوند ص ( ) غ ( )	۱۲۵
۷	برای تقویت میدان مغناطیسی حلقه های سیم را روی یک هسته ی آهنی می پیچند ص ( ) غ ( )	۱۲۵
۸	زمان هرس کردن درختان بعد از خواب زمستانه است ص ( ) غ ( )	۱۲۵

## گزینه صحیح را با علامت \* مشخص کنید

۹	قارچ ها جزو کدام نوع از عوامل تخریب کننده چوب است الف) شیمیایی      ب) بیولوژیکی      ج) مکانیکی      د) فیزیکی	۱۲۵
۱۰	هدف از پرورش کدام یک از درختان زیر استفاده از میوه و چوب آن ها است الف) سیب      ب) خرما      ج) گردو      د) سپیدار	۱۲۵
۱۱	برای پاک کردن کدام نوع لکه می توان از استون استفاده کرد الف) لکه ی جوهر      ب) لکه ی جوهر      ج) لکه ی لاک ناخن      د) لکه ی آدامس	۱۲۵
۱۲	ساختمان داخلی کلید تبدیل شامل چه قسمت های است ؟	۱۵

ادامه در صفحه دو

سال تحصیلی: ۸۸-۸۹
تاریخ امتحان: ۸، ۳، ۸۹
ساعت امتحان: ۱۰ صبح به وقت تهران
مدت امتحان: ۵۰ دقیقه
شماره‌ی صفحه: ۱



سؤال درس: حرفه و فن
پایه: سوم
دوره: راهتمایی
رشته:

نام و نام خانوادگی دانش آموز/ داوطلب آزاد: ..... کشور: .....

ردیف	سوالات کامل کردنی
۱	در راه سازی اگر تپه ای را بر داریم اصطلاحا حا به آن ..... گفته می شود
۲	هنگام آب کشی لباس های پشمی و بافتنی می توان از کمی سرکه یا آمونیاک استفاده کرد تا لباس ها حالت ..... به خود نگیرند
۳	به مربای که از میوه ی له شده و شکر تهیه می شود ..... می گویند
۴	آبزیان یکی از عمده ترین منابع تامین ..... مورد نیاز بدن انسان است
سوالات صحیح و غلط	
۵	پهن برگان برای کاغذ سازی نسبت به سوزنی برگان مناسب ترند ص ( ) غ ( )
۶	سیستم های فرعی برای انجام دادن بخشی از وظیفه ی سیستم اصلی ایجاد می شوند ص ( ) غ ( )
۷	برای تقویت میدان مغناطیسی حلقه های سیم را روی یک هسته ی آهنی می پیچند ص ( ) غ ( )
۸	زمان هرس کردن درختان بعد از خواب زمستانه است ص ( ) غ ( )
گزینه صحیح را با علامت * مشخص کنید	
۹	قارچ ها جزو کدام نوع از عوامل تخریب کننده چوب است الف) شیمیایی      ب) بیولوژیکی      ج) مکانیکی      د) فیزیکی
۱۰	هدف از پرورش کدام یک از درختان زیر استفاده از میوه و چوب آن ها است الف) سیب      ب) خرما      ج) گردو      د) سپیدار
۱۱	برای پاک کردن کدام نوع لکه می توان از استون استفاده کرد الف) لکه ی جوهر      ب) لکه ی جوهر      ج) لکه ی لاک ناخن      د) لکه ی آدامس
۱۲	ساختمان داخلی کلید تبدیل شامل چه قسمت های است ؟ ادامه در صفحه دو

سال تحصیلی: ۸۸-۸۹

تاریخ امتحان: ۸، ۳، ۸۹

ساعت امتحان: ۱۵ صبح به وقت تهران

مدت امتحان: ۵۰ دقیقه

شماره‌ی صفحه: ۲



وزارت آموزش عالی و تحقیقات علمی  
 وزارت آموزش عالی و تحقیقات علمی  
 وزارت آموزش عالی و تحقیقات علمی

سؤال درس: حرفه و فن

پایه: سوم

دوره: راهتمایی

رشته:

کشور:

نام و نام خانوادگی دانش آموز/ داوطلب آزاد:

شهر:

۱۳	وظیفه کلاف (شناژ) در ساختمان چیست؟	۱۵
۱۴	نام دیگر جعبه دنده چیست و کار آن را بنویسید؟	۱۷۵
۱۵	ماهیان پرورشی را از نظر دمای آب به چند گروه تقسیم می کنند؟	۱۵
۱۶	سه مورد از موارد بهداشتی برای پیش گیری از بروز بیماری در کندو را بنویسید	۱۷۵
۱۷	انواع روش های آبیاری درختان را نام ببرید	۱۷۵
۱۸	بسته بندی مواد غذایی را تعریف کنید	۱۵
۱۹	در پرورش ماهیان گرمابی چگونه می توان تولید غذای زنده را افزایش داد؟	۱۵
۲۰	اساس کار خشک کردن میوه و سبزی چیست؟ هدف از آن را بنویسید.	۱۵

موفق باشید

نمره ی کتبی ..... نمره ی شفاهی / عملی : جمع نمره : به عدد ..... به حروف ..... نام و نام خانوادگی مصحح : ..... امضاء

سال تحصیلی: ۸۹-۸۸

تاریخ امتحان: ۸، ۱۳، ۸۹

ساعت امتحان: ۱۰ صبح به وقت ایران

مدت امتحان: ۵۰ دقیقه

شماره صفحه: ۱



سؤال درسی: حرفه و فن

پایه: سوم

دوره: راهنمایی

رشته:

نام و نام خانوادگی دانش آموز/ داوطلب آزاد: .....

کشور: .....

شهر: .....

## سوالات کامل کردنی

ردیف

۱ در راه سازی اگر تپه ای را بر داریم اصطلاحاً به آن ..... گفته می شود /۲۵

۲ هنگام آب کشی لباس های پشمی و بافتنی می توان از کمی سرکه یا آمونیاک استفاده کرد تا لباس ها حالت ..... به خود بگیرند /۲۵

۳ به مربای که از میوه ی له شده و شکر تهیه می شود ..... می گویند /۲۵

۴ آبیان یکی از عمده ترین منابع تامین ..... مورد نیاز بدن انسان است /۲۵

## سوالات صحیح و غلط

۵ پهن برگان برای کاغذ سازی نسبت به سوزنی برگان مناسب ترند ص ( ) غ ( ) /۲۵

۶ سیستم های فرعی برای انجام دادن بخشی از وظیفه ی سیستم اصلی ایجاد می شوند ص ( ) غ ( ) /۲۵

۷ برای تقویت میدان مغناطیسی حلقه های سیم را روی یک هسته ی آهنی می پیچند ص ( ) غ ( ) /۲۵

۸ زمان هرس کردن درختان بعد از خواب زمستانه است ص ( ) غ ( ) /۲۵

## گزینه صحیح را با علامت \* مشخص کنید

۹ قارچ ها جزو کدام نوع از عوامل تخریب کننده چوب است  
الف) شیمیایی      ب) بیولوژیکی      ج) مکانیکی      د) فیزیکی /۲۵

۱۰ هدف از پرورش کدام یک از درختان زیر استفاده از میوه و چوب آن ها است  
الف) سیب      ب) خرما      ج) گردو      د) سپیدار /۲۵

۱۱ برای پاک کردن کدام نوع لکه می توان از استون استفاده کرد  
الف) لکه ی جوهر      ب) لکه ی جوهر      ج) لکه ی لاک ناخن      د) لکه ی آدامس /۲۵

۱۲ ساختمان داخلی کلید تبدیل شامل چه قسمت های است ؟ /۵

ادامه در صفحه دو



جمهوری اسلامی ایران  
ISLAMIC REPUBLIC OF IRAN

سؤال درس: حرفه و فن

پایه: سوم

دوره: راهنمایی

رشته:

سال تحصیلی: ۸۸-۸۹

تاریخ امتحان: ۸۹، ۳، ۸

ساعت امتحان: ۱۵ صبح به وقت تهران

مدت امتحان: ۵۰ دقیقه

شماره‌ی صفحه: ۲

نام و نام خانوادگی دانش آموز / داوطلب آزاد: ..... کشور: .....

۱۳	وظیفه کلاف (شناز) در ساختمان چیست؟	۱۵
۱۴	نام دیگر جعبه دندبه چیست و کار آن را بنویسید؟	۱۷۵
۱۵	ماهیان پرورشی را از نظر دمای آب به چند گروه تقسیم می کنند؟	۱۵
۱۶	سه مورد از موارد بهداشتی برای پیش گیری از بروز بیماری در کندو را بنویسید	۱۷۵
۱۷	انواع روش های آبیاری درختان را نام ببرید	۱۷۵
۱۸	بسته بندی مواد غذایی را تعریف کنید	۱۵
۱۹	در پرورش ماهیان گرمایی چگونه می توان تولید غذای زنده را افزایش داد؟	۱۵
۲۰	اساس کار خشک کردن میوه و سبزی چیست؟ هدف از آن را بنویسید.	۱۵

موفق باشید

نمره ی کتبی ..... نمره ی شفاهی / عملی: ..... جمع نمره: به عدد ..... به حروف ..... نام و نام خانوادگی مصحح: ..... امضاء

باسمه تعالی



سوال درس : حرفه و فن

پایه : سوم

دوره : راهنمایی

رشته :

سال تحصیلی : ۸۹ - ۱۳۸۸

تاریخ امتحان : ۸۹ / ۳ / ۸

ساعت امتحان : ۱۴ عصر به آفاق تهران

مدت امتحان : ۵۰ دقیقه

شماره صفحه : ۱

نمون برگ شماره ۱

ردیف	سوال	بارم
۱	<p>نام و نام خانوادگی دانش آموز: ..... کشور: ..... شهر: .....</p> <p>- در سوالات زیر پاسخ صحیح را انتخاب کنید .</p> <p>A- به کدام یک از گروه های غذایی ، « غذای پایه » می گویند ؟</p> <p>الف) میوه ها <input type="checkbox"/> ب) نان و غلات <input type="checkbox"/> ج) گوشت و حبوبات <input type="checkbox"/> د) شیر و ماست <input type="checkbox"/></p> <p>B- هدف از پرورش کدام یک از درختان زیر ، « تولید میوه و چوب » است ؟</p> <p>الف) آفاقیا <input type="checkbox"/> ب) سپیدار <input type="checkbox"/> ج) سیب <input type="checkbox"/> د) گردو <input type="checkbox"/></p>	۰/۱۵
۲	<p>- جاهای خالی را با کلمات مناسب کامل کنید .</p> <p>الف) رشد و تکامل کودک به دو عامل « وراثت » و « ..... » بستگی دارد .</p> <p>ب) از پختن بعضی از میوه ها به صورت درسته یا خرد شده ..... به دست می آید .</p>	۰/۱۵
۳	<p>- جملات صحیح و غلط را مشخص کنید .</p> <p>الف) چوب سوزنی برگان برای کاغذ سازی مناسب تر است . ( )</p> <p>ب) ماهیان سردابی را در استخر های خاکی پرورش می دهند . ( )</p>	۰/۱۵
۴	<p>- دو اصل مهم بهداشتی در تولید محصولات فناوری را بنویسید .</p>	۰/۱۵
۵	<p>- دو قسمت اصلی موتور الکتریکی را نام ببرید .</p>	۰/۱۵
۶	<p>- کار موتور اتومبیل چیست ؟</p>	۰/۱۵
۷	<p>- وظیفه ی کلاف (شناز) در ساختمان چیست ؟</p>	۰/۱۵
۸	<p>- در راه سازی منظور از « خاک برداری » چیست ؟</p>	۰/۱۵

نمره کتبی : ..... نمره شفاهی / عملی : ..... جمع نمره : به عدد ..... به حروف ..... نام و نام خانوادگی مصحح : ..... امضاء



باسمه تعالی



سوال درس: حرفه و فن

پایه: سوم

دوره: راهنمایی

رشته:

سال تحصیلی: ۸۹-۱۳۸۸

تاریخ امتحان: ۸۹, ۳, ۸

ساعت امتحان: ۱۲ عصر به وقت ایران

مدت امتحان: ۵۰ دقیقه

شماره صفحه: ۲

نمون برگ شماره ۱

نام و نام خانوادگی دانش آموز:		کشور:	شهر:
ردیف	سوال	بارم	
۹	- چرا نوجوانان به انرژی بیشتری نیاز دارند؟	۰/۱۵	
۱۰	- چگونه می توان « لگه ی جوهر » را از روی پارچه ی رنگی پاک کرد؟	۰/۱۵	
۱۱	- روش صحیح اتو کردن لباس های پشمی را بنویسید .	۰/۱۵	
۱۲	- منظور از درختان « دو پایه » چیست ؟	۰/۱۵	
۱۳	- « طرح کاشت » درختان در یک باغ ، با توجه به چه عواملی طراحی می گردد؟ (۲ مورد)	۰/۱۵	
۱۴	- مراحل دوره ی زندگی کرم ابریشم را کامل کنید. { ۱- تخم      ۲- .....      ۳- شفیره      ۴- ..... }	۰/۱۵	
۱۵	- هدف از دادن شربت تشویقی به زنبورهای عسل چیست؟	۰/۱۵	
۱۶	- فواید بسته بندی کردن مواد غذایی را بنویسید . ( ۲ مورد)	۰/۱۵	
۸	جمع		
« موفق باشید »			

سال تحصیلی: ۸۸-۸۹

نوبت امتحانی: ۱۰ صبح

۸۹/۳/۱۰



درس: دینی

دوره: راهنمایی

پایه: سوم

رشته: —

صفحه ی : دوم

مصحح محترم! در صورتی که ( مفهوم مطلب ) بیان شود ، ( نمره ) منظور گردد .

بارم	شرح پاسخ
۰/۷۵	و : به سؤالات زیر پاسخ دهید : ۲۴- متون قرآن کریم (۰/۲۵) سنت پیامبر اسلام (۰/۲۵) گنجینه ی سخنان اهل بیت (۰/۲۵)
۱	۲۵- الف- جهاد ابتدایی ب- جهاد دفاعی
۱	۲۶- ۱- قرآن و عترت ( اهل بیت پیامبر ) مرجع و مایه ی هدایت و سعادت مردم هستند و لازم است مسلمانان در طول حیات خویش به آنان مراجعه کنند و سعادت زندگی دنیا و آخرت خود را در پناه آنان تأمین نمایند . ( ۰/۵ ) ۲- قرآن و عترت جدایی ناپذیرند و راهگشای مشکلات فردی و اجتماعی مسلمانان خواهند بود . ( ۰/۵ ) تذکر : ( نیازی به این که تمام مطلب نوشته شود نیست و از هر کدام ، قسمتی نوشته شود نمره داده شود.)
۱	۲۷- هنگام به رختخواب رفتن «سی و سه مرتبه سبحان الله (۰/۲۵) سی و سه مرتبه الحمد لله (۰/۲۵) سی و چهار مرتبه الله اکبر (۰/۲۵)» بگویند . - حضور یک خدمتکار (۰/۲۵)
۱	۲۸- تا از نزدیک اعمال و رفت و آمدهای ایشان را زیر نظر بگیرد . می خواست او را از یارانش که در مدینه بودند ، دور سازد . ( هر يك از جمله ها که نوشته شود ، تمامی نمره داده شود )
۱	۲۹- اول نیت (۰/۲۵) دوم شستن سر و گردن (۰/۲۵) سوم شستن کامل طرف راست بدن (۰/۲۵) چهارم شستن کامل طرف چپ بدن (۰/۲۵)
۱	۳۰- خاک پاک - ریگ - کلوخ - سنگ پاک - سنگ گچ - سنگ آهک - غبار پاک (گرد و خاک) - گل تذکر : ( چهار مورد از موارد فوق و هر مورد (۰/۲۵) نمره )
۱	۳۱- اول - خون زخم و جراحت و دمل . دوم - خون کمتر از درهم . سوم - لباس های کوچک تذکر : ( دو مورد از موارد سه گانه ی فوق و یا مصداق ها و مثال های مربوط به آن ها . )
۱	۳۲- ۱- دریافت احکام و معارف دین از جانب خدا و ابلاغ آن به مردم . ( ۰/۵ ) ۲- نظام بخشیدن به جامعه در محدوده ی همین احکام و معارف . ( ۰/۵ )
۲۰	جمع نمره

سال تحصیلی: ۸۹-۸۸

نوبت امتحانی: صبح بهار

۸۹، ۳/۱۵



جمهوری اسلامی ایران  
مجلس شورای اسلامی

درس: دینی

دوره: راهنمایی

پایه: سوم

رشته: \_\_\_\_\_

صفحه ی: اول

مصحح محترم! در صورتی که (مفهوم مطلب) بیان شود، (نمره) منظور گردد.

پارم

شرح پاسخ

الف: معنی آیه ی زیر را بنویسید:

۱- و کسانی که خشم خود را فرو می برند (۰/۵) و از مردم در می گذارند (۰/۵) و خدا نیکوکاران را دوست می دارد (۰/۵)

۱/۵

ب: درستی یا نادرستی جمله های زیر را مشخص کنید: (هر مورد ۰/۲۵ نمره)

۲- ص - ۳- ص - ۴- غ - ۵- ص - ۶- غ

۱/۲۵

ج: گزینه ی صحیح را مشخص نمایید: (هر مورد ۰/۵ نمره)

۷- الف) امام سجاد

۸- د) الف و ج

۹- ج) با اصرار مردم

۱۰- د) تمام موارد

۱۱- ب) موجب جلب توجه مردان نامحرم می شود

۱۲- ب) حرام است

۱۳- ب) جاری

۳/۵

د: جمله ها ی زیر را با کلمات مناسب کامل کنید: (هر مورد ۰/۲۵ نمره)

۱۴- شعب ابوطالب

۱۵- نماز = اخلاق نیکو

۱۶- خدا - مؤمنان

۱۷- شیعه - سنی

۱/۷۵

ه: سوالات کوتاه پاسخ:

۱۸- هجرت پیامبر اکرم از مکه به مدینه (یثرب) (۰/۵)

۱۹- فقیهان از جانب پیامبران امین امت هستند. (۰/۵)

۲۰- خاتواده (۰/۵)

۲۱- خشم خدا (۰/۵)

۲۲- رحمت خدا به افراد نیکوکار بسیار نزدیک است. (۰/۵)

۲۳- توحید - معاد - نبوت (۰/۷۵)

۳/۲۵



سال تحصیلی: ۸۸-۸۹  
تاریخ امتحان: ۸۹/۳/۱۵  
ساعت امتحان: ۱۰ صبح - ۱۲ ظهر  
مدت امتحان: ۷۰ دقیقه  
شماره‌ی صفحه: اول

سوال درس: دینی  
پایه: سوم  
دوره: راهنمایی  
رشته: \_\_\_\_\_

نام و نام خانوادگی دانش آموز/ داوطلب آزاد: \_\_\_\_\_ کشور: \_\_\_\_\_ شهر: \_\_\_\_\_

ردیف	شرح سؤال	بارم
۱	الف: معنی آیه ی زیر را بنویسید: ﴿ وَ الْكَاطِمِينَ أَلْمِظَةَ وَالْعَافِينَ عَنِ النَّاسِ وَاللَّهُ يُحِبُّ الْمُحْسِنِينَ ﴾	۱/۵
۲	ب: درستی یا نادرستی جمله های زیر را مشخص کنید: (هر مورد ۰/۲۵ نمره) ارتباط مخصوصی که میان علت و معلول برقرار است، علت نام دارد.	۱/۲۵
۳	پیش بینی های انسان به دلیل علت باوری است.	
۴	کسانی که راه خیر و شر را به انسان می نمایند و از آینده ی او در جهان آخرت خبر دارند، امانان هستند.	
۵	نتیجه ی دومین پیمان عقبه، فراهم شدن هجرت پیامبر صلی الله علیه و آله به یثرب بود.	
۶	وقتی مسلمان ها از رسول خدا ﷺ چاره خواستند، به آنان فرمود که به حبشه هجرت کنند.	
۷	ج: گزینه ی صحیح را مشخص نمایید: (هر مورد ۰/۵ نمره) دعا و مناجات، روش مبارزاتی کدام یک از امامان معصوم علیهم السلام بود؟	۳/۵
۸	الف) امام سجاد علیه السلام <input type="checkbox"/> (ب) امام علی علیه السلام <input type="checkbox"/> (ج) امام صادق علیه السلام <input type="checkbox"/> (د) امام کاظم علیه السلام <input type="checkbox"/> در برهان علت به چه چیز نظر می کنیم؟ الف) ذات و هستی پدیده ها <input type="checkbox"/> (ب) نظم و هماهنگی میان پدیده ها <input type="checkbox"/> ج) نیاز ویژه ای که هر پدیده به علت ندارد <input type="checkbox"/> (د) الف و ج <input type="checkbox"/>	
۹	حضرت علی علیه السلام چگونه به خلافت رسید؟ الف) با انتخاب شورای شش نفره <input type="checkbox"/> (ب) با معرفی ابوبکر <input type="checkbox"/> ج) با اصرار مردم <input type="checkbox"/> (د) با معرفی عثمان <input type="checkbox"/>	
۱۰	افرادی که از پذیرفتن قوانین جامعه اسلامی سرباز زده و از اطاعت رهبر خارج شده اند، در اصطلاح چه می گویند؟ الف) اهل بغی <input type="checkbox"/> (ب) بغات <input type="checkbox"/> (ج) خوارج <input type="checkbox"/> (د) تمام موارد <input type="checkbox"/>	
۱۱	کدام مورد، آثار حجاب و عفت زنان را بیان نمی کند؟ الف) موجب تقویت بنیان خانواده می شود <input type="checkbox"/> (ب) موجب جلب توجه مردان نامحرم می شود <input type="checkbox"/> ج) سبب حفظ ارزش زن می شود <input type="checkbox"/> (د) از ابتذال و تباهی او جلوگیری می کند <input type="checkbox"/>	
۱۲	حکم خوراندن عین نجس به اطفال چیست؟ الف) مباح است <input type="checkbox"/> (ب) حرام است <input type="checkbox"/> (ج) مکروه است <input type="checkbox"/> (د) جایز است <input type="checkbox"/>	
۱۳	آب باران که در جایی جمع شده باشد، هنگام نزول باران حکم کدام آب را دارد؟ الف) چشمه <input type="checkbox"/> (ب) جاری <input type="checkbox"/> (ج) قلیل <input type="checkbox"/> (د) کُر <input type="checkbox"/>	



سال تحصیلی: ۸۸-۸۹  
تاریخ امتحان: ۸۹/۳/۱۰  
ساعت امتحان: ۱۰ صبح به وقت تهران  
مدت امتحان: ۷۰ دقیقه  
شماره‌ی صفحه: دوم

سئوال درم: دینی  
پایه: سوم  
دوره: راهنمایی  
رشته:

نام و نام خانوادگی دانش آموز/ داوطلب آزاد: ..... کشور: ..... شهر: .....

بارم	شرح سؤال	ردیف
۰/۲۵	د: جمله‌ها ی زیر را با کلمات مناسب کامل کنید: پیامبر صلی الله علیه و آله مدت سه سال در ..... محصور بود.	۱۴
۰/۵	اولین چیزی که در قیامت محاسبه می شود، ..... است و زیباترین چیزی که انسان با خود می برد، ..... است.	۱۵
۰/۵	در معامله ای که مؤمنان با خدا می کنند، خریدار، ..... و فروشنده، ..... هستند.	۱۶
۰/۵	مسلمانان به دو دسته ی بزرگ ..... و ..... تقسیم می شوند.	۱۷
۰/۵	ه: سوالات کوتاه پاسخ: مبدأ تاریخ اسلامی چیست؟ .....	۱۸
۰/۵	پیامبر صلی الله علیه و آله در باره ی فقیهان چه فرموده است؟ .....	۱۹
۰/۵	در اسلام، محبوب ترین بنیان اجتماعی کدام است؟ .....	۲۰
۰/۵	شدیدترین عذاب روز قیامت چیست؟ .....	۲۱
۰/۵	ابوذر در پاسخ این سؤال چه گفت؟ «پس رحمت خدا چه می شود»؟ .....	۲۲
۰/۷۵	سه اصل اساسی که پیامبران، انسان ها را به ایمان آوردن به آن ها فرا می خوانند، کدام اند؟ (فقط نام ببرید)	۲۳
۰/۷۵	و: به سوالات زیر پاسخ دهید: منابع غنی و فقه شیعه از سه منبع مهم سرچشمه می گیرد؛ این سه منبع کدام اند؟ .....	۲۴



سال تحصیلی: ۸۸-۸۹  
تاریخ امتحان: ۱۵ / ۳ / ۸۹  
ساعت امتحان: ۱۵ صبح به وقت تهران  
مدت امتحان: ۷۰ دقیقه  
شماره‌ی صفحه: سوم

نام و نام خانوادگی دانش آموز/ داوطلب آزاد: \_\_\_\_\_

کشور: \_\_\_\_\_ شهر: \_\_\_\_\_

ردیف	شرح سؤال	بارم
۲۵	بیان کنید جنگ های زیر، کدام نوع جهاد بوده است؟ الف - جنگ های مسلمانان با حکومت های خودکامه ی ایران و روم در صدر اسلام : ب - جنگ احزاب و احد : .....	۱
۲۶	دو نکته از نکاتی را که از حدیث ثقلین در می یابیم ، بیان کنید . .....	۱
۲۷	پیامبر علیه السلام و اله چه نكری را به حضرت فاطمه ی زهرا علیه السلام و علی بن ابی طالب علیه السلام آموخت ؟ و مداومت بر این گونه اذکار را از چه چیز سودمندتر دانست ؟ .....	۱
۲۸	هدف مأمون از ترتیب دادن سفر امام رضا علیه السلام به خراسان چه بود ؟ .....	۱
۲۹	در غسل ترتیبی چهار عمل واجب است ؛ آن ها را به ترتیب بیان کنید . .....	۱
۳۰	تیمم بر چه چیزهایی صحیح است ؟ ( چهار مورد ) .....	۱
۳۱	به طور خلاصه بیان کنید در چه مواردی لازم نیست بدن و لباس نمازگزار پاک باشد ؟ ( دو مورد ) .....	۱
۳۲	دو مسؤلیت اساسی پیامبر را بیان کنید . .....	۱
۲۰	<b>جمع نمره</b>	

نمره ی کتبی : \_\_\_\_\_

نمره ی شفاهی/ عملی : \_\_\_\_\_

جمع نمره ، به عدد : \_\_\_\_\_

به حروف : \_\_\_\_\_

نام و نام خانوادگی مصحح : \_\_\_\_\_

امضاء : \_\_\_\_\_

سال تحصیلی: ۸۹-۸۸
تاریخ امتحان: ۸۹/۳/۱۵
ساعت امتحان: ۱۵ صبح به وقت تهران
مدت امتحان: ۷۰ دقیقه
شماره‌ی صفحه: اول



سؤال درس: دینی
پایه: سوم
دوره: راهنمایی
رشته: _____

نام و نام خانوادگی دانش آموز/ داوطلب آزاد : \_\_\_\_\_ کشور : \_\_\_\_\_ شهر : \_\_\_\_\_

ردیف	شرح سؤال	بارم
۱	الف: معنی آیه ی زیر را بنویسید: ﴿ وَ الْكَاطِمِينَ الْغَيْظَ وَالْعَافِينَ عَنِ النَّاسِ وَاللَّهُ يُحِبُّ الْمُحْسِنِينَ ﴾	۱/۵
۲	ب: درستی یا نادرستی جمله های زیر را مشخص کنید: (هر مورد ۰/۲۵ نمره) ارتباط مخصوصی که میان علت و معلول برقرار است، علّیت نام دارد.	۱/۲۵
۳	پیش بینی های انسان به دلیل علت باوری است.	
۴	کسانی که راه خیر و شر را به انسان می نمایانند و از آینده ی او در جهان آخرت خبر دارند، امامان هستند.	
۵	نتیجه ی دومین پیمان عقبه، فراهم شدن هجرت پیامبر ﷺ به یثرب بود.	
۶	وقتی مسلمان ها از رسول خدا ﷺ چاره خواستند، به آنان فرمود که به حبشه هجرت کنند.	
۷	ج: گزینه ی صحیح را مشخص نمایید: (هر مورد ۰/۵ نمره) دعا و مناجات، روش مبارزاتی کدام یک از امامان معصوم <small>علیهم السلام</small> بود؟	
۸	الف) امام سجاد <small>علیه السلام</small> <input type="checkbox"/> ب) امام علی <small>علیه السلام</small> <input type="checkbox"/> ج) امام صادق <small>علیه السلام</small> <input type="checkbox"/> د) امام کاظم <small>علیه السلام</small> <input type="checkbox"/> در برهان علّیت به چه چیز نظر می کنیم؟	
۹	الف) ذات و هستی پدیده ها <input type="checkbox"/> ب) نظم و هماهنگی میان پدیده ها <input type="checkbox"/> ج) نیاز ویژه ای که هر پدیده به علت کدارد <input type="checkbox"/> د) الف و ج <input type="checkbox"/> حضرت علی <small>علیه السلام</small> چگونه به خلافت رسید؟	
۱۰	الف) با انتخاب شورای شش نفره <input type="checkbox"/> ب) با معرفی ابوبکر <input type="checkbox"/> ج) با اصرار مردم <input type="checkbox"/> د) با معرفی عثمان <input type="checkbox"/> افرادی که از پذیرفتن قوانین جامعه اسلامی سرباز زده و از اطاعت رهبر خارج شده اند، در اصطلاح چه می گویند؟	۳/۵
۱۱	الف) اهل بغی <input type="checkbox"/> ب) بغات <input type="checkbox"/> ج) خوارج <input type="checkbox"/> د) تمام موارد <input type="checkbox"/> کدام مورد، آثار حجاب و عفت زنان را بیان نمی کند؟	
۱۲	الف) موجب تقویت بنیان خانواده می شود <input type="checkbox"/> ب) موجب جلب توجه مردان نامحرم می شود <input type="checkbox"/> ج) سبب حفظ ارزش زن می شود <input type="checkbox"/> د) از ابتدال و تباهی او جلوگیری می کند <input type="checkbox"/> حکم خوراندن عین نجس به اطفال چیست؟	
۱۳	الف) مباح است <input type="checkbox"/> ب) حرام است <input type="checkbox"/> ج) مکروه است <input type="checkbox"/> د) جایز است <input type="checkbox"/> آب باران که در جایی جمع شده باشد، هنگام نزول باران حکم کدام آب را دارد؟	
	الف) چشمه <input type="checkbox"/> ب) جاری <input type="checkbox"/> ج) قلیل <input type="checkbox"/> د) کُر <input type="checkbox"/>	



سال تحصیلی: ۸۸-۸۹  
تاریخ امتحان: ۱۰/۳/۸۹  
ساعت امتحان: ۱۰ صبح برانج تبرا  
مدت امتحان: ۷۰ دقیقه  
شماره‌ی صفحه: دوم

سوال درس: دینی  
پایه: سوم  
دوره: راهنمایی  
رشته: \_\_\_\_\_

نام و نام خانوادگی دانش آموز/ داوطلب آزاد: ..... کشور: ..... شهر: .....

ردیف	شرح سؤال	بارم
۱۴	د: جمله‌ها ی زیر را با کلمات مناسب کامل کنید: پیامبر مصلی الله علیه و آله مدت سه سال در ..... محصور بود.	۰/۲۵
۱۵	اولین چیزی که در قیامت محاسبه می شود، ..... است و زیباترین چیزی که انسان با خود می برد، ..... است.	۰/۵
۱۶	در معامله ای که مؤمنان با خدا می کنند، خریدار، ..... و فروشنده، ..... هستند.	۰/۵
۱۷	مسلمانان به دو دسته ی بزرگ ..... و ..... تقسیم می شوند.	۰/۵
۱۸	ه: سوالات کوتاه پاسخ: مبدأ تاریخ اسلامی چیست؟	۰/۵
۱۹	پیامبر مصلی الله علیه و آله در باره ی فقیهان چه فرموده است؟	۰/۵
۲۰	در اسلام، محبوب ترین بنیان اجتماعی کدام است؟	۰/۵
۲۱	شدیدترین عذاب روز قیامت چیست؟	۰/۵
۲۲	ابوذر در پاسخ این سؤال چه گفت؟ (( پس رحمت خدا چه می شود ))؟	۰/۵
۲۳	سه اصل اساسی که پیامبران، انسان ها را به ایمان آوردن به آن ها فرا می خوانند، کدام اند؟ (فقط نام ببرید)	۰/۷۵
۲۴	و: به سوالات زیر پاسخ دهید: منابع غنی و فقه شیعه از سه منبع مهم سرچشمه می گیرد؛ این سه منبع کدام اند؟	۰/۷۵





سال تحصیلی: ۸۸-۸۹
تاریخ امتحان: ۱۰ / ۳ / ۸۹
ساعت امتحان: ۱۰ صبح به وقت ایران
مدت امتحان: ۷۰ دقیقه
شماره‌ی صفحه: سوم

سوال درس: دینی
پایه: سوم
دوره: راهنمایی
رشته: _____

نام و نام خانوادگی دانش آموز/ داوطلب آزاد: ..... کشور: ..... شهر: .....

ردیف	شرح سوال	بارم
۲۵	بیان کنید جنگ های زیر، کدام نوع جهاد بوده است؟ الف - جنگ های مسلمانان با حکومت های خودکامه ی ایران و روم در صدر اسلام : ب - جنگ احزاب و احد :	۱
۲۶	دو نکته از نکاتی را که از حدیث ثقلین در می یابیم ، بیان کنید .	۱
۲۷	پیامبر صلی الله علیه و آله چه ذکری را به حضرت فاطمه ی زهرا علیها السلام و علی بن ابی طالب علیه السلام آموخت ؟ و مداومت بر این گونه اذکار را از چه چیز سودمندتر دانست ؟	۱
۲۸	هدف مأمون از ترتیب دادن سفر امام رضا علیه السلام به خراسان چه بود ؟	۱
۲۹	در غسل ترتیبی چهار عمل واجب است ؛ آن ها را به ترتیب بیان کنید .	۱
۳۰	تیمم بر چه چیزهایی صحیح است ؟ ( چهار مورد )	۱
۳۱	به طور خلاصه بیان کنید در چه مواردی لازم نیست بدن و لباس نمازگزار پاک باشد ؟ ( دو مورد )	۱
۳۲	دو مسؤلیت اساسی پیامبر را بیان کنید .	۱
۲۰	جمع نمره	

نمره ی کتبی :

نمره ی شفاهی/ عملی :

جمع نمره ، به عدد :

به حروف :

نام و نام خانوادگی مصحح :

امضاء :

سال تحصیلی: ۸۹-۸۸
تاریخ امتحان: ۸۹/۳/۱۰
ساعت امتحان: ۱۰ صبح به افق تهران
مدت امتحان: ۶۰ دقیقه
صفحه شماره: ۱



سازمان اسناد و کتابخانه ملی  
جمهوری اسلامی ایران

سوال درس: دینی طرح جامع
پایه: سوم
دوره: راهنمایی
رشته:

نام و نام خانوادگی دانش آموز / داوطلب آزاد: ..... کشور: ..... شهر: .....

ردیف	سوال	بارم
۱	با هم اندیشیدن را ..... گویند.	+۵
۲	مدت غیبت ..... امام زمان (عج) ..... سال طول کشید که تا سال ۲۶ هجری ادامه داشت.	+۵
۳	روز فصل یعنی روز ..... در پیش است، در این روز ..... و ..... از هم منفک می شوند.	+۷۵
۴	اولین چیزی که در قیامت مورد محاسبه قرار می گیرد ..... است و زیبا ترین چیزی که با خود به جهان آخرت می برد ..... است.	+۵
۵	پیمان دوم مسلمانان با پیامبر (ص) در ..... بود و تعداد ..... از مسلمانان ..... با پیامبر (ص) دیدار کردند.	+۷۵
۶	جهاد داخلی نوعی جهاد ..... است.	+۵
۷	حضرت عیسی (ع) می فرماید: ..... شدیدترین عذاب در روز قیامت است. الف- خشم خدا <input type="checkbox"/> ب- قهر خدا <input type="checkbox"/> ج- عذاب دردناک <input type="checkbox"/> د- هیچکدام <input type="checkbox"/>	+۵
۸	در هجرت به مدینه پیامبر اسلام سه روز در این غار مخفی بودند. الف - ثور <input type="checkbox"/> ب- حرا <input type="checkbox"/>	+۵
۹	چه کسانی از طرف پیامبر اسلام (ص) امین امت شمرده شده اند؟ الف- شهدا <input type="checkbox"/> ب- امامان <input type="checkbox"/> ج- فقها <input type="checkbox"/> د- صلحا <input type="checkbox"/>	+۵
۱۰	نخستین بانوی رشیدی که در اسلام به شهادت رسید، چه کسی بود؟	+۵
۱۱	ارزشمندترین بنیان نزد خداوند چیست؟	+۵
۱۲	توشه سفر آخرت چیست؟	+۷۵
۱۳	قیام علیه چه کسانی از اصلی ترین برنامه انبیاء در طول تاریخ می باشد؟	+۷۵



وزارت علوم، تحقیقات و فناوری  
سازمان سنجش و ارزشیابی تحصیلی

سوال درس: دینی طرح جامع

پایه: سوم

دوره: راهنمایی

رشته:

نام و نام خانوادگی دانش آموز / داوطلب آزاد: ..... کشور: ..... شهر: .....

سه اصل اساسی که پیامبران انسان را به ایمان آوردن به آنها فرا می خوانند، کدامند؟

ردیف	سوال	بارم
۱۴	سه اصل اساسی که پیامبران انسان را به ایمان آوردن به آنها فرا می خوانند، کدامند؟	۰/۷۵
۱۵	توضیح دهید شهادت یعنی چه؟	۰/۵
۱۶	منابع معارف و فقه شیعه را بنویسید.	۰/۷۵
۱۷	پیامبر اسلام (ص) درباره کارکردن و به دست آوردن روزی حلال چه فرمودند؟	۰/۷۵
۱۸	ثمرات و فایده پوشش زن در جامعه چیست؟ بنویسید.	۱
۱۹	تقلید یعنی چه؟ شرح دهید.	۱
۲۰	پیامبر اسلام عامل بدبختی مردم را چه می دانند؟	۰/۷۵
۲۱	پیامبر اسلام درباره دانش حضرت علی (ع) چه می فرمایند؟ بنویسید.	۱
۲۲	توضیح دهید اصحاب یمین و اصحاب شمال چه کسانی هستند؟	۱/۵
۲۳	راه های ثابت شدن نجاست را بنویسید.	۱/۵
۲۴	برهان علیت را شرح دهید؟	۱/۵
۲۵	جهاد را لغتاً و اصطلاحاً توضیح دهید.	۱/۵

نمره کتبی ..... نمره شفاهی / عملی: جمع نمره: به عدد: ..... به حروف: ..... نام و نام خانوادگی مصحح: ..... امضاء



سال تحصیلی: ۸۸-۸۹
تاریخ امتحان: ۸۹/۳/۱۵
ساعت امتحان: ۱۵ صبح به وقت تهران
مدت امتحان: ۷۰ دقیقه
شماره‌ی صفحه: اول

سئوال درس: دینی
پایه: سوم
دوره: راهنمایی
رشته: _____

نام و نام خانوادگی دانش آموز/ داوطلب آزاد : \_\_\_\_\_ کشور : \_\_\_\_\_ شهر : \_\_\_\_\_

بارم	شرح سوال	ردیف
۱/۵	الف: معنی آیه ی زیر را بنویسید : ﴿ وَ الْكَافِرِينَ الْعَظِيمِ وَالْعَافِينَ عَنِ النَّاسِ وَاللَّهُ يُحِبُّ الْمُحْسِنِينَ ﴾	۱
۱/۲۵	ب: درستی یا نادرستی جمله های زیر را مشخص کنید : ( هر مورد ۰/۲۵ نمره ) ارتباط مخصوصی که میان علت و معلول برقرار است ، علّیت نام دارد . پیش بینی های انسان به دلیل علت باوری است . کسانی که راه خیر و شر را به انسان می نمایند و از آینده ی او در جهان آخرت خبر دارند ، امامان هستند . نتیجه ی دومین پیمان عقبه ، فراهم شدن هجرت پیامبر صلی الله علیه و آله به یثرب بود . وقتی مسلمان ها از رسول خدا ﷺ چاره خواستند ، به آنان فرمود که به حبشه هجرت کنند .	۲ ۳ ۴ ۵ ۶
۳/۵	ج: گزینه ی صحیح را مشخص نمایید : ( هر مورد ۰/۵ نمره ) دعا و مناجات ، روش مبارزاتی کدام یک از امامان معصوم <small>علیهم السلام</small> بود ؟ الف) امام سجاد <small>علیه السلام</small> ب) امام علی <small>علیه السلام</small> ج) امام صادق <small>علیه السلام</small> د) امام کاظم <small>علیه السلام</small> در برهان علّیت به چه چیز نظر می کنیم ؟ الف) ذات و هستی پدیده ها    ب) نظم و هماهنگی میان پدیده ها ج) نیاز ویژه ای که هر پدیده به علت کدارد    د) الف و ج حضرت علی <small>علیه السلام</small> چگونه به خلافت رسید ؟ الف) با انتخاب شورای شش نفره    ب) با معرفی ابوبکر ج) با اصرار مردم    د) با معرفی عثمان افرادی که از پذیرفتن قوانین جامعه اسلامی سرباز زده و از اطاعت رهبر خارج شده اند، در اصطلاح چه می گویند ؟ الف) اهل بغی    ب) بغات    ج) خوارج    د) تمام موارد کنام مورد، آثار حجاب و عفت زنان را بیان نمی کند ؟ الف) موجب تقویت بنیان خانواده می شود    ب) موجب جلب توجه مردان نامحرم می شود ج) سبب حفظ ارزش زن می شود    د) از ابتذال و تباهی او جلوگیری می کند حکم خوراندن عین نجس به اطفال چیست ؟ الف) مباح است    ب) حرام است    ج) مکروه است    د) جایز است آب باران که در جایی جمع شده باشد ، هنگام نزول باران حکم کدام آب را دارد ؟ الف) چشمه    ب) جاری    ج) قلیل    د) کُر	۷ ۸ ۹ ۱۰ ۱۱ ۱۲ ۱۳



سال تحصیلی : ۸۸-۸۹
تاریخ امتحان : ۸۹/۳/۱۰
ساعت امتحان : ۱۰ صبح به وقت تهران
مدت امتحان : ۷۰ دقیقه
شماره‌ی صفحه : دوم

سئوال درس : دینی
پایه : سوم
دوره : راهنمایی
رشته : _____

نام و نام خانوادگی دانش آموز/ داوطلب آزاد : \_\_\_\_\_ کشور : \_\_\_\_\_ شهر : \_\_\_\_\_

ردیف	شرح سؤال	بارم
۱۴	د : جمله های زیر را با کلمات مناسب کامل کنید : پیامبر صلی الله علیه و آله مدت سه سال در ..... محصور بود .	۰/۲۵
۱۵	اولین چیزی که در قیامت محاسبه می شود ، ..... است و زیباترین چیزی که انسان با خود می برد ، ..... است .	۰/۵
۱۶	در معامله ای که مؤمنان با خدا می کنند ، خریدار ، ..... و فروشنده ، ..... هستند .	۰/۵
۱۷	مسلمانان به دو دسته ی بزرگ ..... و ..... تقسیم می شوند .	۰/۵
۱۸	ه : سوالات کوتاه پاسخ : مبدأ تاریخ اسلامی چیست ؟ .....	۰/۵
۱۹	پیامبر صلی الله علیه و آله در باره ی فقیهان چه فرموده است ؟ .....	۰/۵
۲۰	در اسلام ، محبوب ترین بنیان اجتماعی کدام است ؟ .....	۰/۵
۲۱	شدیدترین عذاب روز قیامت چیست ؟ .....	۰/۵
۲۲	ابوذر در پاسخ این سؤال چه گفت ؟ « پس رحمت خدا چه می شود » ؟ .....	۰/۵
۲۳	سه اصل اساسی که پیامبران ، انسان ها را به ایمان آوردن به آن ها فرا می خوانند ، کدام اند ؟ ( فقط نام ببرید ) .....	۰/۷۵
۲۴	و : به سوالات زیر پاسخ دهید : منابع غنی و فقه شیعه از سه منبع مهم سرچشمه می گیرد ؛ این سه منبع کدام اند ؟ .....	۰/۷۵



سال تحصیلی : ۸۸-۸۹
تاریخ امتحان : ۱۰ / ۳ / ۸۹ ن
ساعت امتحان : ۱۰ صبح به وقت تهران
مدت امتحان : ۷۰ دقیقه
شماره ی صفحه : سوم

سئوال درس : دینی
پایه : سوم
دوره : راهنمایی
رشته : _____

نام و نام خانوادگی دانش آموز/ داوطلب آزاد : ..... کشور : ..... شهر : .....

ردیف	شرح سؤال	بارم
۲۵	بیان کنید جنگ های زیر، کدام نوع جهاد بوده است ؟ الف - جنگ های مسلمانان با حکومت های خودکامه ی ایران و روم در صدر اسلام : ..... ب - جنگ اهزاب و احد : .....	۱
۲۶	دو نکته از نکاتی را که از حدیث ثقلین در می یابیم ، بیان کنید .	۱
۲۷	پیامبر الله علیه و آله چه ذکری را به حضرت فاطمه ی زهرا علیه السلام و علی بن ابی طالب علیه السلام آموخت ؟ و مداومت بر این گونه اذکار را از چه چیز سودمندتر دانست ؟	۱
۲۸	هدف مأمون از ترتیب دادن سفر امام رضا علیه السلام به خراسان چه بود ؟	۱
۲۹	در غسل ترتیبی چهار عمل واجب است ؛ آن ها را به ترتیب بیان کنید .	۱
۳۰	تیمم بر چه چیزهایی صحیح است ؟ ( چهار مورد )	۱
۳۱	به طور خلاصه بیان کنید در چه مواردی لازم نیست بدن و لباس نمازگزار پاک باشد ؟ ( دو مورد )	۱
۳۲	دو مسؤولیت اساسی پیامبر را بیان کنید .	۱
۲۰	<b>جمع نمره</b>	

نمره ی کتبی : ..... نمره ی شفاهی/ عملی : ..... جمع نمره ، به عدد : ..... به حروف : .....  
نام و نام خانوادگی مصحح : ..... امضاء : .....



مجلس شورای اسلامی  
جمهوری اسلامی ایران

سوال درس: دینی طرح جامع

پایه: سوم

دوره: راهنمایی

رشته:

نام و نام خانوادگی دانش آموز / داوطلب آزاد: ..... کشور: ..... شهر: .....

ردیف	سوال	بارم
۱	با هم اندیشیدن را ..... گویند.	۰/۵
۲	مدت غیبت ..... امام زمان (عج) ..... سال طول کشید که تا سال ۲۶۰ هجری ادامه داشت.	۰/۵
۳	روز فصل یعنی روز ..... در پیش است، در این روز ..... و ..... از هم منفک می شوند.	۰/۷۵
۴	اولین چیزی که در قیامت مورد محاسبه قرار می گیرد ..... است و زیبا ترین چیزی که با خود به جهان آخرت می برد ..... است.	۰/۵
۵	پیمان دوم مسلمانان با پیامبر (ص) در ..... بود و تعداد ..... از مسلمانان ..... با پیامبر (ص) دیدار کردند.	۰/۷۵
۶	جهاد داخلی نوعی جهاد ..... است.	۰/۵
۷	حضرت عیسی (ع) می فرماید: ..... شدیدترین عذاب در روز قیامت است. الف- خشم خدا <input type="checkbox"/> ب- قهر خدا <input type="checkbox"/> ج- عذاب دردناک <input type="checkbox"/> د- هیچکدام <input type="checkbox"/>	۰/۵
۸	در هجرت به مدینه پیامبر اسلام سه روز در این غار مخفی بودند. الف - ثور <input type="checkbox"/> ب- حرا <input type="checkbox"/>	۰/۵
۹	چه کسانی از طرف پیامبر اسلام (ص) امین امت شمرده شده اند؟ الف- شهدا <input type="checkbox"/> ب- امامان <input type="checkbox"/> ج- فقها <input type="checkbox"/> د- صلحا <input type="checkbox"/>	۰/۵
۱۰	نخستین بانوی رشیدی که در اسلام به شهادت رسید، چه کسی بود؟	۰/۵
۱۱	ارزشمندترین بنیان نزد خداوند چیست؟	۰/۵
۱۲	توشه سفر آخرت چیست؟	۰/۷۵
۱۳	قیام علیه چه کسانی از اصلی ترین برنامه انبیاء در طول تاریخ می باشد؟	۰/۷۵



نام و نام خانوادگی دانش آموز / داوطلب آزاد : ..... کشور : ..... شهر : .....

ردیف	سه اصل اساسی که پیامبران انسان را به ایمان آوردن به آنها فرا می خوانند، کدامند؟	پارم
۱۴		۰/۷۵
۱۵	توضیح دهید شهادت یعنی چه؟	۰/۵
۱۶	منابع معارف و فقه شیعه را بنویسید.	۰/۷۵
۱۷	پیامبر اسلام (ص) درباره کارکردن و به دست آوردن روزی حلال چه فرمودند؟	۰/۷۵
۱۸	ثمرات و فایده پوشش زن در جامعه چیست؟ بنویسید.	۱
۱۹	تقلید یعنی چه؟ شرح دهید.	۱
۲۰	پیامبر اسلام عامل بدبختی مردم را چه می دانند؟	۰/۷۵
۲۱	پیامبر اسلام درباره دانش حضرت علی (ع) چه می فرمایند؟ بنویسید.	۱
۲۲	توضیح دهید اصحاب یمین و اصحاب شمال چه کسانی هستند؟	۱/۵
۲۳	راه های ثابت شدن نجاست را بنویسید.؟	۱/۵
۲۴	برهان علیت را شرح دهید؟	۱/۵
۲۵	جهاد را لفظاً و اصطلاحاً توضیح دهید.	۱/۵

نمره کتبی : نمره شفاهی / عملی : جمع نمره : به عدد : ..... به حروف : ..... نام و نام خانوادگی مصحح : ..... امضاء

۲۰





نام و نام خانوادگی دانش آموز/ داوطلب آزاد: \_\_\_\_\_ کشور: \_\_\_\_\_ شهر: \_\_\_\_\_

ردیف	شرح سؤال	بارم
۱	الف: معنی آیه ی زیر را بنویسید: ﴿وَ الْكَافِرِينَ الْعَظِيمِ وَالْعَافِينَ عَنِ النَّاسِ وَاللَّهُ يُحِبُّ الْمُحْسِنِينَ﴾	۱/۵
۲	ب: درستی یا نادرستی جمله های زیر را مشخص کنید: (هر مورد ۰/۲۵ نمره) ارتباط مخصوصی که میان علت و معلول برقرار است، علت نام دارد.	۱/۲۵
۳	پیش بینی های انسان به دلیل علت باوری است.	
۴	کسانی که راه خیر و شر را به انسان می نمایند و از آینده ی او در جهان آخرت خبر دارند، امامان هستند.	
۵	نتیجه ی دومین پیمان عقبه، فراهم شدن هجرت پیامبر ﷺ به یثرب بود.	
۶	وقتی مسلمان ها از رسول خدا ﷺ چاره خواستند، به آنان فرمود که به حبشه هجرت کنند.	
۷	ج: گزینه ی صحیح را مشخص نمایید: (هر مورد ۰/۵ نمره) دعا و مناجات، روش میانه رازی کدام یک از امامان معصوم علیهم السلام بود؟	۰/۳/۵
۸	الف) امام سجاد علیه السلام <input type="checkbox"/> (ب) امام علی علیه السلام <input type="checkbox"/> (ج) امام صادق علیه السلام <input type="checkbox"/> (د) امام کاظم علیه السلام <input type="checkbox"/> در برهان علت به چه چیز نظر می کنیم؟	
۹	الف) ذات و هستی پدیده ها <input type="checkbox"/> (ب) نظم و هماهنگی میان پدیده ها <input type="checkbox"/> ج) نیاز ویژه ای که هر پدیده به علت ندارد <input type="checkbox"/> (د) الف و ج <input type="checkbox"/> حضرت علی علیه السلام چگونه به خلافت رسید؟	
۱۰	الف) با انتخاب شورای شش نفره <input type="checkbox"/> (ب) با معرفی ابوبکر <input type="checkbox"/> ج) با اصرار مردم <input type="checkbox"/> (د) با معرفی عثمان <input type="checkbox"/> افرادی که از پذیرفتن قوانین جامعه اسلامی سرباز زده و از اطاعت رهبر خارج شده اند، در اصطلاح چه می گویند؟	
۱۱	الف) اهل بغی <input type="checkbox"/> (ب) بغات <input type="checkbox"/> (ج) خوارج <input type="checkbox"/> (د) تمام موارد <input type="checkbox"/> کدام مورد، آثار حجاب و عفت زنان را بیان نمی کند؟	
۱۲	الف) موجب تقویت بنیان خانواده می شود <input type="checkbox"/> (ب) موجب جلب توجه مردان نامحرم می شود <input type="checkbox"/> ج) سبب حفظ ارزش زن می شود <input type="checkbox"/> (د) از ابتذال و تباهی او جلوگیری می کند <input type="checkbox"/> حکم خوراندن عین نجس به اطفال چیست؟	
۱۳	الف) مباح است <input type="checkbox"/> (ب) حرام است <input type="checkbox"/> (ج) مکروه است <input type="checkbox"/> (د) جایز است <input type="checkbox"/> آب باران که در جایی جمع شده باشد، هنگام نزول باران حکم کدام آب را دارد؟ الف) چشمه <input type="checkbox"/> (ب) جاری <input type="checkbox"/> (ج) قلیل <input type="checkbox"/> (د) کُر <input type="checkbox"/>	



سال تحصیلی : ۸۸-۸۹  
 تاریخ امتحان : ۱۳۸۹/۳/۱۰  
 ساعت امتحان : ۱۰ صبح به وقت تهران  
 مدت امتحان : ۷۰ دقیقه  
 شماره ی صفحه : دوم

سئوال درس : دینی  
 پایه : سوم  
 دوره : راهنمایی  
 رشته :

نام و نام خانوادگی دانش آموز/ داوطلب آزاد : ..... کشور : ..... شهر : .....

بارم	شرح سوال	ردیف
۰/۲۵	د : جمله ها ی زیر را با کلمات مناسب کامل کنید : پیامبر صلی الله علیه و آله مدت سه سال در ..... محصور بود .	۱۴
۰/۵	اولین چیزی که در قیامت محاسبه می شود ، ..... است و زیباترین چیزی که انسان با خود می برد ، ..... است .	۱۵
۰/۵	در معامله ای که مؤمنان با خدا می کنند ، خریدار ، ..... و فروشنده ، ..... هستند .	۱۶
۰/۵	مسلمانان به دو دسته ی بزرگ ..... و ..... تقسیم می شوند .	۱۷
۰/۵	ه : سوالات کوتاه پاسخ : مبدأ تاریخ اسلامی چیست ؟ .....	۱۸
۰/۵	پیامبر صلی الله علیه و آله در باره ی فقیهان چه فرموده است ؟ .....	۱۹
۰/۵	در اسلام ، محبوب ترین بنیان اجتماعی کدام است ؟ .....	۲۰
۰/۵	شدیدترین عذاب روز قیامت چیست ؟ .....	۲۱
۰/۵	ابوذر در پاسخ این سوال چه گفت ؟ « پس رحمت خدا چه می شود » ؟ .....	۲۲
۰/۷۵	سه اصل اساسی که پیامبران ، انسان ها را به ایمان آوردن به آن ها فرا می خوانند ، کدام اند ؟ ( فقط نام ببرید ) ..... .....	۲۳
۰/۷۵	و : به سوالات زیر پاسخ دهید : منابع غنی و فقه شیعه از سه منبع مهم سرچشمه می گیرد ؛ این سه منبع کدام اند ؟ .....	۲۴



سال تحصیلی : ۸۸-۸۹
تاریخ امتحان : ۱۰ / ۳ / ۸۹
ساعت امتحان : ۱۰ صبح تا ۱۲ ظهر
مدت امتحان : ۷۰ دقیقه
شماره‌ی صفحه : سوم

سئوال درس: دینی
پایه : سوم
دوره : راهنمایی
رشته : _____

نام و نام خانوادگی دانش آموز/ داوطلب آزاد : ..... کشور : ..... شهر : .....

ردیف	شرح سؤال	پارم
۲۵	بیان کنید جنگ های زیر، کدام نوع جهاد بوده است ؟ الف - جنگ های مسلمانان با حکومت های خودکامه ی ایران و روم در صدر اسلام : ..... ب - جنگ احزاب و احد : .....	۱
۲۶	دو نکته از نکاتی را که از حدیث ثقلین در می یابیم ، بیان کنید .	۱
۲۷	پیامبر صلوات الله علیه ، چه نکری را به حضرت فاطمه ی زهرا علیه السلام و علی بن ابی طالب علیه السلام آموخت ؟ و مداومت بر این گونه اذکار را از چه چیز سودمندتر دانست ؟	۱
۲۸	هدف مأمون از ترتیب دادن سفر امام رضا علیه السلام به خراسان چه بود ؟	۱
۲۹	در غسل ترتیبی چهار عمل واجب است ؛ آن ها را به ترتیب بیان کنید .	۱
۳۰	تیمم بر چه چیزهایی صحیح است ؟ ( چهار مورد )	۱
۳۱	به طور خلاصه بیان کنید در چه مواردی لازم نیست بدن و لباس نمازگزار پاک باشد ؟ ( دو مورد )	۱
۳۲	دو مسؤلیت اساسی پیامبر را بیان کنید .	۱
۲۰	<b>جمع نمره</b>	

نمره ی کتبی :

نمره ی شفاهی / عملی :

جمع نمره ، به عدد :

به حروف :

نام و نام خانوادگی مصحح :

امضاء :

با همه تعالی



سال تحصیلی: ۸۸-۸۹  
تاریخ امتحان: ۸۹/۲/۳۰  
ساعت امتحان: ۹:۰۰ عصر  
مدت امتحان: ۵۰ دقیقه  
شماره صفحه: ۱

سوال درس: دینی  
پایه: سوم  
دوره: رانمایی  
رشته:

نام و نام خانوادگی: دانش آموز/ داوطلب آزاد..... کشور: ..... شهر: ..

ردیف	سوال	پارم
۱	رحمت خدایه چه کسانی نزدیک است؟ الف) نیکوکاران <input type="checkbox"/> ب) فجار <input type="checkbox"/> ج) ستم‌دیگان <input type="checkbox"/> د) محرومان <input type="checkbox"/>	۰/۵
۲	پیامبر چه کسی را برای تبلیغ دین اسلام به مدینه فرستاد؟ الف) مصعب <input type="checkbox"/> ب) علی <input type="checkbox"/> ج) عبادین صامت <input type="checkbox"/> د) اسعدین زراره <input type="checkbox"/>	۰/۵
۳	به دفاع از حقوق انسان های محروم و شرافت انسانی چه جهادی می گویند؟ الف) جهاد داخلی <input type="checkbox"/> ب) جهاد ابتدایی <input type="checkbox"/> ج) جهاد بانفس <input type="checkbox"/> د) جهاد دفاعی <input type="checkbox"/>	۰/۵
۴	برای درمان بودن از خشم خداوند در روز قیامت چه باید کرد؟ الف) عبادت کنیم <input type="checkbox"/> ب) کار کنیم <input type="checkbox"/> ج) مهربان باشیم <input type="checkbox"/> د) خشم خود را کنترل کنیم <input type="checkbox"/>	۰/۵
۵	جاهای خالی را با کلمه مناسب کامل کنید: الف) به راه روشی که خداوند برای زندگی انسانها برگزیده..... می گویند. ب) مسلمانان به دو گروه بزرگ..... و..... تقسیم می شوند	۰/۷۵
۶	صحیح و یا غلط بودن جملات زیر را مشخص نمایید: الف) هدایت انسان و هسته پادام هر دو هدایت اختیاری است. <input type="radio"/> ص <input type="radio"/> غ ب) ابوبکر در شب هجرت در یسرتیری پیامبر اسلام خوابید. <input type="radio"/> ص <input type="radio"/> غ ج) آفتاب از مطهرات می باشد. <input type="radio"/> ص <input type="radio"/> غ د) آنچه وضو باطل می کند تیمم بدل از وضو راه باطل می کند. <input type="radio"/> ص <input type="radio"/> غ ذ) زن مردمی توانند با لباس ابریشم و انگشتر طلا نماز بخوانند <input type="radio"/> ص <input type="radio"/> غ	۱/۲۵
۷	چرا در مورد خداشناسی به بیان برهان می پردازیم؟	۱

نمره کتبی: ..... نمره شفاهی/ عملی: ..... جمع نمره به عدد: ..... به حروف: ..... نام و نام خانوادگی مصحح: ..... امضاء: .....

بِسْمِ اللَّهِ الرَّحْمَنِ الرَّحِيمِ



سال تحصیلی: ۸۸-۸۹  
تاریخ امتحان: ۸۹/۲/۱۵  
ساعت امتحان: ۱۴:۰۰ صبح تا ۱۶:۰۰  
مدت امتحان: ۵۰ دقیقه  
شماره صفحه: ۲

سوال درس: دینی  
پایه: سوم  
دوره: راهنمایی  
رشته:

نام و نام خانوادگی: دانش آموز/ داوطلب آزاد..... کشور: ..... شهر: .....

ردیف	سوال	بارم
۸	چهارچیز مهم که به فرموده پیامبر در روز قیامت مورد سوال قرار می گیرد را بنویسید؟	۲
۹	سه اصل که همه ی ادیان آسمانی بر آن استوارند را نام ببرید؟	۰/۷۵
۱۰	آداب پذیرش دین اسلام چیست؟	۲
۱۱	احادیث را بابت توجه به چه چیز تفسیر کرد؟	۰/۵
۱۲	در معامله ی مومن با خدا جنس چیست؟ و بهای معامله چیست؟	۰/۵
۱۳	خشم پیامبر چگونه بود؟ و ایشان برای چه اموری خشمگین می شدند؟	۱
۱۴	آیه (( وَوَصَّيْنَا الْإِنْسَانَ بِالذِّكْرِ الْإِحْسَانِ )) را ترجمه کنید؟	۰/۷۵
۱۵	حجاب و عفت زنان چه آثاری را در جامعه به دنبال دارد؟	۱

نمره کتبی: ..... نمره شفاهی/ عملی: ..... جمع نمره به عدد: ..... به حروف: ..... نام و نام خانوادگی مصحح: ..... امضاء

با همه تعالی



سال تحصیلی: ۸۸-۸۹  
تاریخ امتحان: ۸۹/۳/۳۰  
ساعت امتحان: ۷ عصر تا ۸:۳۰  
مدت امتحان: ۹۰ دقیقه  
شماره صفحه: ۳

سوال درس: دینی  
پایه: سوم  
دوره: راهنمایی  
رشته:

نام و نام خانوادگی: دانش آموز/ داوطلب آزاد ..... کشور: .... شهر: .....

ردیف	سوال	بارم
۱۶	سخن پیامبر درباره ی کمال و آگاهی حضرت علی (ع) را بنویسید؟	۱/۵
۱۷	دومسئولیت اساسی پیامبر را بنویسید؟	۲
۱۸	چهار عمل واجب در غسل ترتیبی را بنویسید؟	۲
۱۹	بر خورد اهل سنت و شیعه با دشمنان قرآن و اسلام چگونه باید باشد؟	۱

سر بلند باشید

نمره کتبی: ..... نمره شفاهی/ عملی: ..... جمع نمره به عدد: ..... به حروف: ..... نام و نام خانوادگی مصحح: ..... امضاء

سال تحصیلی: ۸۸-۸۹  
 تاریخ امتحان: ۱۳۸۹/۲/۲۰  
 ساعت امتحان: ۱۰۰ دقیقه  
 شماره صفحه: ۱

باسمه تعالی



سوال درس: علوم تجربی  
 پایه: سوم  
 دوره: راهنمایی  
 رشته:

نام و نام خانوادگی: دانش آموز / داوطلب آزاد ..... کشور: ..... شهر: .....

ردیف	سوال	بارم
۱	• جملات زیر را با استفاده از جدول لغات داده شده ، کامل کنید . ( داروین - کمتر - کووالانسی - یونی - صاعقه - لامارک )	۱
۱	به نیروی جاذبه ای که اتم ها را در یک مولکول کنار هم نگاه می دارد، پیوند ..... می گویند.	
۲	به نظر ..... استفاده یا استفاده نکردن از اندام ها ، عامل بروز تغییر در گونه هاست.	
۳	هرچه انرژی مفید ماشینی کمتر باشد ، بازده ماشین ..... است .	
۴	تخلیه ی الکتریکی بین ابر باردار و زمین را ..... می گویند .	
۱	• جملات صحیح را با (ص) و جملات غلط را با (غ) مشخص کنید.	
۵	تعداد فسیل تشکیل شده در خشکی بسیار کمتر از دریاهاست. ( )	
۶	هورمون انسولین باعث افزایش قند خون می شود. ( )	
۷	نوع عمل ماهیچه ی قلبی، غیر ارادی است. ( )	
۸	پیام عصبی از آکسون به سمت دندریت ها است. ( )	
۱	• پاسخ صحیح را با علامت (x) مشخص کنید.	
۹	کدام گزینه ، نشان دهنده ی سرعت انجام کار است؟ الف) کار <input type="checkbox"/> ب) بازده <input type="checkbox"/> ج) توان <input type="checkbox"/> د) مزیت مکانیکی <input type="checkbox"/>	
۱۰	نسبت دادن صفاتی به خود که در واقع فاقد آن هستیم ، کدام واکنش دفاعی می باشد؟ الف) جبران نقص <input type="checkbox"/> ب) دلیل تراشی <input type="checkbox"/> ج) خیال بافی <input type="checkbox"/> د) جایگزینی <input type="checkbox"/>	
۱۱	شخصی با وزن خود در حالت های زیر بر روی سطح زمین فشار وارد می کند. فشار در کدام حالت بیش تر است؟ الف) بر روی کف پا می ایستد <input type="checkbox"/> ب) بر روی انگشت شست پا می ایستد <input type="checkbox"/> ج) روی زمین می نشیند <input type="checkbox"/> د) روی زمین می خوابد <input type="checkbox"/>	
۱۲	کدام یک از غده های زیر ، فعالیت سایر غده های بدن را تنظیم می کند؟ الف) فوق کلیه <input type="checkbox"/> ب) تیروئید <input type="checkbox"/> ج) لوزالمعده <input type="checkbox"/> د) هیپوفیز <input type="checkbox"/>	
۱	• من چیستم ؟	
۱۳	جزیی از منظومه ی شمسی هستم که منشأ گرمای من ، واکنش های هسته ای است. ( )	
۱۴	من می توانم وجود بار الکتریکی در یک جسم را نشان دهم. ( )	
۱۵	من شدت جریان الکتریکی مدار را اندازه گیری می کنم. ( )	
۱۶	طناب محکم سفید رنگی هستم که ماهیچه را به استخوان متصل می کنم. ( )	

نمره کتبی: ..... نمره شفاهی / عملی: ..... جمع نمره به عدد: ..... به حروف: ..... نام و نام خانوادگی مصحح: ..... امضاء

سوال درس: علوم تجربی  
 پایه: سوم  
 دوره: راهنمایی  
 رشته:

با سمة تعالی



سال تحصیلی: ۸۸-۸۹  
 تاریخ امتحان: ۱۳۸۹/۳/۲۰  
 ساعت امتحان: ۱۰ صبح  
 مدت امتحان: ۸۰ دقیقه  
 شماره صفحه: ۳

نام و نام خانوادگی: دانش آموز/ داوطلب آزاد..... کشور: ..... شهر: .....

ردیف	بارم	سوال
	۱	• جواب سوالات را از قسمت مقابل آن پیدا کرده و در داخل پرانتز بنویسید.
۱۷		اباکتری ها به این روش تولید مثل می کنند. ( الف) مادگی
۱۸		دانه ی گرده در این قسمت از گل قرار دارد. ( ب) گامت
۱۹		به سلول های جنسی گفته می شود. ( ج) بساک
۲۰		قسمت حجیم تر آن را تخمدان می گویند. ( د) دو نیم شدن
	۰/۷۵	• به سوالات زیر پاسخ کوتاه بدهید.
۲۱		جزایر قوسی در اثر برخورد کدام نوع ورقه های سنگ کره ایجاد می شود؟
۲۲		هر چه تعداد زلزله های کوچک در یک منطقه بیشتر باشد، بهتر است. دلیل آن چیست؟
۲۳		ستاره ی (الف) از ستاره ی (ب) پر نور تر است. اگر جرم هر دو یکسان باشد، کدام به زمین نزدیک تر است؟
		• به سوالات پاسخ کامل بدهید .
۲۴	۰/۵	بزرگ ترین زرد پی بدن چه نام دارد؟
۲۵	۰/۷۵	عدد اتمی یک عنصر ۱۲ و عدد جرمی آن ۲۵ است. (الف) این اتم چند نوترون دارد؟ (ب) این اتم در حالت خنثی چند الکترون و چند پروتون دارد؟
۲۶	۰/۵	اتم بریلیم ( Be ) دارای ۴ پروتون و ۵ نوترون است. در کنار نماد شیمیایی آن عدد اتمی و عدد جرمی را نشان دهید
۲۷	۰/۷۵	اگر میوه ی خشک شده ای را در آب قرار دهیم، پر از آب می شود. آیا میوه رشد کرده است؟ دلیل بیاورید.
۲۸	۰/۷۵	الف) در شکل مقابل سوزن به چه روشی آهن ربا شده است؟ ب) قطب های آهن ربای تیغه ای را بر روی شکل مشخص کنید؟
۲۹	۰/۷۵	شکل زیر سلول عصبی (نورون) را نشان می دهد. قسمت های مشخص شده را نام گذاری کنید. -۱ -۲ -۳

نمره کتبی: ..... نمره شفاهی/ عملی: ..... جمع نمره به عدد: ..... به حروف: ..... نام و نام خانوادگی مصحح: ..... امضاء



سوال درس: علوم تجربی  
 پایه: سوم  
 دوره: راهنمایی  
 رشته:

با سمه تعالی



سال تحصیلی: ۸۹-۸۸  
 تاریخ امتحان: ۱۳۸۹/۳/۲۰  
 ساعت امتحان: ۱۰ صبح به وقت تهران  
 مدت امتحان: ۸۰ دقیقه  
 شماره صفحه: ۳

نام و نام خانوادگی: دانش آموز/ داوطلب آزاد..... کشور: ..... شهر: .....

ردیف	بارم	سوال
۳۰	۰/۷۵	الف) الکترون آزاد را تعریف کنید. ب) تعداد الکترون های آزاد در میله ی پلاستیکی بیشتر است یا در میله ی مسی؟
۳۱	۰/۵	الف) کلسیم و فسفر: ب) رشته های پروتئینی: هر یک از مواد زیر مقاومت استخوان را در برابر چه عاملی افزایش می دهند؟
۳۲	۱	الف) ماهی ها : ب) پرندگان: ج) پستانداران: د) دوزیستان: نوع لقاح را در هر گروه از جانوران زیر مشخص کنید.
۳۳	۱	الف) هر یک از منابع طبیعی زیر جزء کدام گروه تجدید شدنی یا تجدید نشدنی قرار دارند. ا) معادن فلزات) (ب) محصولات دامی) (ج) درختان) ب) بارانی که گاز های اسیدی در آن حل شده باشند، چه نام دارد؟
در حل مسائل نوشتن فرمول و جایگزینی اعداد الزامی است.		
۳۴	۱	یک کار گر هنگام بلند کردن یک اتومبیل با جک روغنی ۶۰۰۰ ژول کار را در مدت ۳۰ ثانیه انجام می دهد. توان او چه قدر است؟
۳۵		اگر وزن جعبه ی زیر ۴۰۰ نیوتن باشد، فشار وارد بر سطح زیرین آن چند پاسکال است؟ ۱متر ۴متر

نمره کتبی: ..... نمره شفاهی/ عملی: ..... جمع نمره به عدد: ..... به حروف: ..... نام و نام خانوادگی مصحح: ..... امضاء

سال تحصیلی: ۸۸-۸۹  
 تاریخ امتحان: ۱۳۸۷/۲/۲۰  
 ساعت امتحان: ۱۰ صبح به وقت تهران  
 مدت امتحان: ۸۰ دقیقه  
 شماره صفحه: ۱

با اسمہ تعالیٰ



سوال درس: علوم تجربی  
 پایه: سوم  
 دوره: راهنمایی  
 رشته:

نام و نام خانوادگی: دانش آموز/ داوطلب آزاد..... کشور: ..... شهر: .....

بارم	ردیف	سوال
۱	۱	• جملات زیر را با استفاده از جدول لغات داده شده، کامل کنید. (داروین-کمتر-کووالانسی-یونی-صاعقه-لامارک)
	۱	به نیروی جاذبه ای که اتم ها را در یک مولکول کنار هم نگاه می دارد، پیوند..... می گویند.
	۲	به نظر..... استفاده یا استفاده نکردن از اندام ها، عامل بروز تغییر در گونه هاست.
	۳	هرچه انرژی مفید ماشینی کمتر باشد، بازده ماشین..... است.
	۴	تخلیه ی الکتریکی بین ابر یاردار و زمین را..... می گویند.
۱	۱	• جملات صحیح را با (ص) و جملات غلط را با (غ) مشخص کنید.
	۵	تعداد فسیل تشکیل شده در خشکی بسیار کمتر از دریاهاست. ( )
	۶	هورمون انسولین باعث افزایش قند خون می شود. ( )
	۷	نوع عمل ماهیچه ی قلبی، غیر ارادی است. ( )
	۸	پیام عصبی از آکسون به سمت دندریت ها است. ( )
۱	۱	• پاسخ صحیح را با علامت (×) مشخص کنید.
	۹	کدام گزینه، نشان دهنده ی سرعت انجام کار است؟ الف) کار <input type="checkbox"/> ب) بازده <input type="checkbox"/> ج) توان <input type="checkbox"/> د) مزیت مکانیکی <input type="checkbox"/>
	۱۰	نسبت دادن صفاتی به خود که در واقع فاقد آن هستیم، کدام واکنش دفاعی می باشد؟ الف) جبران نقص <input type="checkbox"/> ب) دلیل تراشی <input type="checkbox"/> ج) خیال بافی <input type="checkbox"/> د) جایگزینی <input type="checkbox"/>
	۱۱	شخصی با وزن خود در حالت های زیر بر روی سطح زمین فشار وارد می کند. فشار در کدام حالت بیش تر است؟ الف) بر روی کف پا می ایستد <input type="checkbox"/> ب) بر روی انگشت شست پا می ایستد <input type="checkbox"/> ج) روی زمین می نشیند <input type="checkbox"/> د) روی زمین می خوابد <input type="checkbox"/>
	۱۲	کدام یک از غده های زیر، فعالیت سایر غده های بدن را تنظیم می کند؟ الف) فوق کلیه <input type="checkbox"/> ب) تیروئید <input type="checkbox"/> ج) لوز المعده <input type="checkbox"/> د) هیپوفیز <input type="checkbox"/>
۱		• من چیستم؟
	۱۳	جزیی از منظومه ی شمسی هستم که منشأ گرمای من، واکنش های هسته ای است. ( )
	۱۴	من می توانم وجود بار الکتریکی در یک جسم را نشان دهم. ( )
	۱۵	من شدت جریان الکتریکی مدار را اندازه گیری می کنم. ( )
	۱۶	طناب محکم سفید رنگی هستم که ماهیچه را به استخوان متصل می کنم. ( )

نمره کتبی: ..... نمره شفاهی/ عملی: ..... جمع نمره به عدد: ..... به حروف: ..... نام و نام خانوادگی مصحح: ..... امضاء

سوال درس: علوم تجربی  
پایه: سوم  
دوره: راهنمایی  
رشته:

بِسْمِ اللَّهِ الرَّحْمَنِ الرَّحِيمِ



سال تحصیلی: ۸۸-۸۹  
تاریخ امتحان: ۱۳۸۹/۳/۲۰  
ساعت امتحان: ۰۱ صبح  
مدت امتحان: ۸۰ دقیقه  
شماره صفحه: ۲

نام و نام خانوادگی: دانش آموز/ داوطلب آزاد..... کشور: ..... شهر: .....

ردیف	بارم	سوال
	۱	• جواب سوالات را از قسمت مقابل آن پیدا کرده و در داخل پرانتز بنویسید.
۱۷		اباکتری ها به این روش تولید مثل می کنند. ( الف) مادگی
۱۸		دانه ی گرده در این قسمت از گل قرار دارد. ( ب) گامت
۱۹		به سلول های جنسی گفته می شود. ( ج) بساک
۲۰		قسمت حجیم تر آن را تخمدان می گویند. ( د) دو نیم شدن
	۰/۷۵	• به سوالات زیر پاسخ کوتاه بدهید.
۲۱		جزایر قوسی در اثر برخورد کدام نوع ورقه های سنگ کره ایجاد می شود؟
۲۲		هر چه تعداد زلزله های کوچک در یک منطقه بیشتر باشد، بهتر است. دلیل آن چیست؟
۲۳		ستاره ی (الف) از ستاره ی (ب) پر نور تر است. اگر جرم هر دو یکسان باشد، کدام به زمین نزدیک تر است؟
		• به سوالات پاسخ کامل بدهید.
۲۴	۰/۵	بزرگ ترین زرد پی بدن چه نام دارد؟
۲۵	۰/۷۵	عدد اتمی یک عنصر ۱۲ و عدد جرمی آن ۲۵ است. الف) این اتم چند نوترون دارد؟ ب) این اتم در حالت خنثی چند الکترون و چند پروتون دارد؟
۲۶	۰/۵	اتم بریلیم ( Be ) دارای ۴ پروتون و ۵ نوترون است. در کنار نماد شیمیایی آن عدد اتمی و عدد جرمی را نشان دهید
۲۷	۰/۷۵	اگر میوه ی خشک شده ای را در آب قرار دهیم، پر از آب می شود. آیا میوه رشد کرده است؟ دلیل بیاورید.
۲۸	۰/۷۵	الف) در شکل مقابل سوزن به چه روشی آهن ربا شده است؟ ب) قطب های آهن ربا ی تیغه ای را بر روی شکل مشخص کنید؟
۲۹	۰/۷۵	شکل زیر سلول عصبی (نورون) را نشان می دهد. قسمت های مشخص شده را نام گذاری کنید.

نمره کتبی: ..... نمره شفاهی/ عملی: ..... جمع نمره به عدد: ..... به حروف: ..... نام و نام خانوادگی مصحح: ..... امضاء

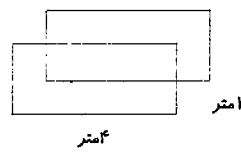
با بسمه تعالی



سوال درس: علوم تجربی  
پایه: سوم  
دوره: راهنمایی  
رشته:

سال تحصیلی: ۸۹-۸۸  
تاریخ امتحان: ۱۳۸۹/۲/۲۰  
ساعت امتحان: ۱۰ صبح  
مدت امتحان: ۸۰ دقیقه  
شماره صفحه: ۳

نام و نام خانوادگی: دانش آموز/ داوطلب آزاد..... کشور: ..... شهر: .....

ردیف	بارم	سوال
۳۰	۰/۷۵	الف) الکترون آزاد را تعریف کنید. ب) تعداد الکترون های آزاد در میله ی پلاستیکی بیشتر است یا در میله ی مسی؟
۳۱	۰/۵	الف) کلسیم و فسفر: ب) رشته های پروتئینی: هر یک از مواد زیر مقاومت استخوان را در برابر چه عاملی افزایش می دهند؟
۳۲	۱	الف) ماهی ها : ب) پرندگان: ج) پستانداران: د) دوزیستان: نوع لقاح را در هر گروه از جانوران زیر مشخص کنید.
۳۳	۱	الف) هر یک از منابع طبیعی زیر جزء کدام گروه تجدید شدنی یا تجدید نشدنی قرار دارند. ب) بارانی که گاز های اسیدی در آن حل شده باشند، چه نام دارد؟ ا) معادن فلزات) (ب) محصولات دامی) (ج) درختان)
		در حل مسائل نوشتن فرمول و جایگزینی اعداد الزامی است.
۳۴	۱	یک کار گر هنگام بلند کردن یک اتومبیل با جک روغنی ۶۰۰ ژول کار را در مدت ۳۰ ثانیه انجام می دهد. توان او چه قدر است؟
۳۵		اگر وزن جعبه ی زیر ۴۰۰ نیوتن باشد، فشار وارد بر سطح زیرین آن چند پاسکال است؟ 

نمره کتبی: ..... نمره شفاهی/ عملی: ..... جمع نمره به عدد: ..... به حروف: ..... نام و نام خانوادگی مصحح: ..... امضاء

سوال درس: علوم تجربی  
پایه: سوم  
دوره: راهنمایی  
رشته:

با ستم تعالی



سال تحصیلی: ۸۸-۸۹  
تاریخ امتحان: ۱۳۸۹/۲/۲۰  
ساعت امتحان: ۱۰ صبح  
مدت امتحان: ۸۰ دقیقه  
شماره صفحه: ۱

نام و نام خانوادگی: دانش آموز/ داوطلب آزاد..... کشور: ..... شهر: .....

ردیف	سوال	بارم
۱	• جملات زیر را با استفاده از جدول لغات داده شده ، کامل کنید . ( داروین - کمتر - کووالانسی - یونی - صاعقه - لامارک )	۱
۱	به نیروی جاذبه ای که اتم ها را در یک مولکول کنار هم نگاه می دارد، پیوند ..... می گویند.	
۲	به نظر ..... استفاده یا استفاده نکردن از اندام ها ، عامل بروز تغییر در گونه هاست.	
۳	هرچه انرژی مفید ماشینی کمتر باشد ، بازده ماشین ..... است .	
۴	تخلیه ی الکتریکی بین ابر باردار و زمین را ..... می گویند .	
۱	• جملات صحیح را با (ص) و جملات غلط را با (غ) مشخص کنید .	
۵	تعداد فسیل تشکیل شده در خشکی بسیار کمتر از دریاهاست. ( )	
۶	هورمون انسولین باعث افزایش قند خون می شود. ( )	
۷	نوع عمل ماهیچه ی قلبی، غیر ارادی است. ( )	
۸	پیام عصبی از آکسون به سمت دندریت ها است. ( )	
۱	• پاسخ صحیح را با علامت (x) مشخص کنید .	
۹	کدام گزینه ، نشان دهنده ی سرعت انجام کار است؟ الف) کار <input type="checkbox"/> ب) بازده <input type="checkbox"/> ج) توان <input type="checkbox"/> د) مزیت مکانیکی <input type="checkbox"/>	
۱۰	نسبت دادن صفاتی به خود که در واقع فاقد آن هستیم ، کدام واکنش دفاعی می باشد؟ الف) جبران نقص <input type="checkbox"/> ب) دلیل تراشی <input type="checkbox"/> ج) خیال بافی <input type="checkbox"/> د) جایگزینی <input type="checkbox"/>	
۱۱	شخصی با وزن خود در حالت های زیر بر روی سطح زمین فشار وارد می کند. فشار در کدام حالت بیش تر است؟ الف) بر روی کف پا می ایستد <input type="checkbox"/> ب) بر روی انگشت شست پا می ایستد <input type="checkbox"/> ج) روی زمین می نشیند <input type="checkbox"/> د) روی زمین می خوابد <input type="checkbox"/>	
۱۲	کدام یک از غده های زیر ، فعالیت سایر غده های بدن را تنظیم می کند؟ الف) فوق کلیه <input type="checkbox"/> ب) تیروئید <input type="checkbox"/> ج) لوز المعده <input type="checkbox"/> د) هیپوفیز <input type="checkbox"/>	
۱	• من چیستم ؟	
۱۳	جزیی از منظومه ی شمسی هستیم که منشأ گرمای من ، واکنش های هسته ای است. ( )	
۱۴	من می توانم وجود بار الکتریکی در یک جسم را نشان دهم. ( )	
۱۵	من شدت جریان الکتریکی مدار را اندازه گیری می کنم. ( )	
۱۶	طناب محکم سفید رنگی هستیم که ماهیچه را به استخوان متصل می کنیم. ( )	

نمره کتبی: ..... نمره شفاهی/ عملی: ..... جمع نمره به عدد: ..... به حروف: ..... نام و نام خانوادگی مصحح: ..... امضاء

با سمه تعالی



سوال درس علوم تجربی  
پایه: سوم  
دوره: راهنمایی  
رشته:

سال تحصیلی: ۸۹-۸۸  
تاریخ امتحان: ۱۳۸۹/۲/۲۰  
ساعت امتحان: ۰۰ صبح  
مدت امتحان: ۸۰ دقیقه  
شماره صفحه: ۲


نام و نام خانوادگی: دانش آموز/ داوطلب آزاد ..... کشور: ..... شهر: .....

ردیف	پارم	سوال
		• جواب سوالات را از قسمت مقابل آن پیدا کرده و در داخل پرانتز بنویسید.
۱۷		اباکتری ها به این روش تولید مثل می کنند. ( الف) مادگی
۱۸		دانه ی گرده در این قسمت از گل قرار دارد. ( ب) گامت
۱۹		به سلول های جنسی گفته می شود. ( ج) بساک
۲۰		قسمت حجیم تر آن را تخمدان می گویند. ( د) دو نیم شدن
	۰/۷۵	• به سوالات زیر پاسخ کوتاه بدهید.
۲۱		جزایر قوسی در اثر برخورد کدام نوع ورقه های سنگ کره ایجاد می شود؟
۲۲		هر چه تعداد زلزله های کوچک در یک منطقه بیشتر باشد، بهتر است. دلیل آن چیست؟
۲۳		ستاره ی (الف) از ستاره ی (ب) پر نور تر است. اگر جرم هر دو یکسان باشد، کدام به زمین نزدیک تر است؟
		• به سوالات پاسخ کامل بدهید.
۲۴	۰/۵	بزرگ ترین زرد پی بدن چه نام دارد؟
۲۵	۰/۷۵	عدد اتمی یک عنصر ۱۲ و عدد جرمی آن ۲۵ است. الف) این اتم چند نوترون دارد؟ ب) این اتم در حالت خنثی چند الکترون و چند پروتون دارد؟
۲۶		اتم بریلیم ( Be ) دارای ۴ پروتون و ۵ نوترون است. در کنار نماد شیمیایی آن عدد اتمی و عدد جرمی را نشان دهید.
۲۷	۰/۷۵	اگر میوه ی خشک شده ای را در آب قرار دهیم، پر از آب می شود. آیا میوه رشد کرده است؟ دلیل بیاورید.
۲۸	۰/۷۵	الف) در شکل مقابل سوزن به چه روشی آهن ربا شده است؟ ب) قطب های آهن ربای تیغه ای را بر روی شکل مشخص کنید؟
۲۹	۰/۷۵	شکل زیر سلول عصبی (نورون) را نشان می دهد. قسمت های مشخص شده را نام گذاری کنید.

نمره کتبی: ..... نمره شفاهی/ عملی: ..... جمع نمره به عدد: ..... به حروف: ..... نام و نام خانوادگی مصحح: ..... امضاء

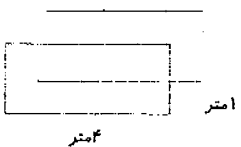
سوال درس: علوم تجربی  
 پایه: سوم  
 دوره: راهنمایی  
 رشته:

با سمه تعالی



سال تحصیلی: ۸۹-۸۸  
 تاریخ امتحان: ۱۳۸۹/۲/۲۰  
 ساعت امتحان: ۱۰ صبح  
 مدت امتحان: ۸۰ دقیقه  
 شماره صفحه: ۳

نام و نام خانوادگی: دانش آموز/ داوطلب آزاد ..... کشور: ..... شهر: .....

ردیف	بارم	سوال
۳۰	۰/۷۵	الف) الکترون آزاد را تعریف کنید. ب) تعداد الکترون های آزاد در میله ی پلاستیکی بیشتر است یا در میله ی مسی؟
۳۱	۰/۵	الف) کلسیم و فسفر: (ب) رشته های پروتئینی: هر یک از مواد زیر مقاومت استخوان را در برابر چه عاملی افزایش می دهند؟
۳۲	۱	الف) ماهی ها: (ب) پرندگان: (ج) پستانداران: (د) دوزیستان: نوع لقاح را در هر گروه از جانوران زیر مشخص کنید.
۳۳	۱	الف) هر یک از منابع طبیعی زیر جزء کدام گروه تجدید شدنی یا تجدید نشدنی قرار دارند. ا) معادن فلزات ( ) (ب) محصولات دامی ( ) (ج) درختان ( ) ب) بارانی که گاز های اسیدی در آن حل شده باشند، چه نام دارد؟ در حل مسائل نوشتن فرمول و جایگزینی اعداد الزامی است»
۳۴	۱	یک کار گر هنگام بلند کردن یک اتومبیل با جک روغنی ۶۰۰۰ ژول کار را در مدت ۳۰ ثانیه انجام می دهد. توان او چه قدر است؟
۳۵		اگر وزن جعبه ی زیر ۴۰۰ نیوتن باشد، فشار وارد بر سطح زیرین آن چند پاسکال است؟ 

نمره کتبی: ..... نمره شفاهی/ عملی: ..... جمع نمره به عدد: ..... به حروف: ..... نام و نام خانوادگی مصحح: ..... امضاء

باسمه تعالی



سوال درس: علوم تجربی

پایه: سوم

دوره: زاهنمایی

رشته:

سال تحصیلی: ۸۹-۸۸
تاریخ امتحان: ۲۰، ۳، ۸۹
ساعت امتحان: ۱۶ عصر به وقت تهران
مدت امتحان: ۸۰ دقیقه
شماره صفحه: ۱

نمون برگ شماره ۱

نام و نام خانوادگی دانش آموز:

کشور:

شهر:

ردیف

سوال

بارم

A- جواب صحیح را با علامت  مشخص کنید. (انمره)

۱- در کدامیک از حالت های زیر فشار وارد به سطح زمین بیشتر است وقتی شخصی روی .....  
الف - زمین بنشیند  ب - یک پا بایستد  ج - دوپا بایستد  د - زمین دراز بکشد

۲- پوشاندن واقعیت نلخوشایندی که نمی خواهیم برای دیگران آشکار شود چه نام دارد؟  
الف - انکار  ب - جایگزینی  ج - جبران نقص  د - خیالبافی

۳- کدام پدیده زمین شناسی در تمام حاشیه ورقه های سازنده سنگ کره زمین به وجود می آید.  
الف - ایجاد کوه  ب - بوجود آمدن جزایر قوسی  ج - زلزله  د - ایجاد گودال عمیق اقیانوسی

۴- قرقره ثابت به وسیله ..... به ما کمک می کند.  
الف - افزایش نیرو  ب - تغییر جهت نیرو  ج - افزایش سرعت و مسافت اثر نیرو  د - هر سه

B- جاهای خالی را با کلمات مناسب پر کنید. (۱ نمره)

۵- سرعت انجام کار را ..... گویند. (بازده - توان - مزیت مکانیکی)

۶- واحد اندازه گیری شدت جریان ..... نام دارد. (آمپر - ولت - اهم)

۷- استخوانی شدن غضروف ها از دوران ..... شروع می شود. (کودکی - نوجوانی - جنینی)

۸- به ترکیب بیج و گوه ..... گفته می شود. (رنده - سطح شیب دار - مته)

C- جملات صحیح را با (ص) و جملات غلط را با (غ) مشخص کنید. (۱ نمره)

۹- محصولات دامی از منابع طبیعی تجدیدشده هستند.

۱۰- کلسیم و فسفر باعث مقاومت استخوان در برابر ضربه می شوند.

۱۱- هر چه دمای گاز درون ظرف در بسته کمتر شود فشار بر دیواره ظرف بیشتر می شود.

۱۲- عمل اسپرم سازی در دمایی کمتر از دمای معمولی بدن انجام می شود.

امضاء

جمع نمره: به عدد..... به حروف..... نام و نام خانوادگی مصحح:

نمره کتبی: نمره شفاهی / عملی:



باسمه تعالی



سوال دومی: علوم تجربی

پایه: سوم

دوره: زاهتمایی

رشته:

سال تحصیلی: ۸۸-۸۹

تاریخ امتحان: ۸۹/۳/۲۰

ساعت امتحان: ۱۲ عصر به افق تهران

مدت امتحان: ۸۰ دقیقه

شماره صفحه: ۲

نمون برگ شماره ۱

D- به سوالات زیر پاسخ دهید.

۱۳ - میوه در گیاهان از تغییر کدام بخش گل ایجاد می شود؟ (۰/۲۵ نمره)

۱۴ - هورمون های جنسی که در تخمدان تولید می شود را نام ببرید؟ (۰/۵ نمره)

۱۵ - بیش ترین محل هایی که ورقه های سنگ کره از هم دور می شوند در کجا قرار دارد؟ (۰/۲۵ نمره)

۱۶ - فرمول شیمیایی کربن دی اکسید  $CO_2$  می باشد. ( ۱ نمره)

الف - از چه نوع عنصرهایی تشکیل شده است؟

ب - از هر عنصر چه تعداد در این مولکول وجود دارد؟

۱۷ - واژه های زیر را تعریف کنید. ( ۲ نمره)

الف - قمر

ب - فشار

ج - آذرخش

د - رشد

۱۸ - نوع لقاح در جانداران زیر را مشخص کنید. (۰/۷۵ نمره)

ج - گاو

ب - قورباغه

الف - ماهی

۱۹ - بارهای الکتریکی چه نیروهایی بر یکدیگر وارد می کنند؟ (۰/۵ نمره)

۲۰ - زنجیره غذایی مقابل را با استفاده از موجودات زیر کامل کنید. (۰/۷۵ نمره)

(مار - خرگوش - هویج)



امضاء

جمع نمره: به عدد..... به حروف..... نام و نام خانوادگی مصحح:

نمره شفاهی / عملی:

نمره کتبی:

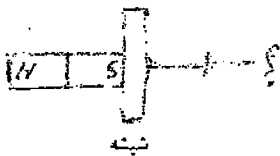
سال تحصیلی: ۸۸-۸۹
تاریخ امتحان: ۸۹/۳/۲۰
ساعت امتحان: ۱۷ عصر - اوق. تهران
مدت امتحان: ۸۰ دقیقه
شماره صفحه: ۳



سوال درس: علوم تجربی
پایه: سوم
دوره: راهنمایی
رشته:

نمون برگ شماره ۱

۲۱ - بزرگترین زردپی بدن چه نام دارد و در کجا قرار دارد؟ (۰/۷۵ نمره)



۲۲ - الف - شکل زیر کدام یک از روش های ساختن آهنریا را نشان می دهد؟ (۰/۷۵ نمره)

ب - محل مشخص شده در میخ تبدیل به چه قطبی شده است؟

ج - بااستفاده از همین وسایل به چه روش دیگری می توان آهنریا ساخت؟

۲۳ - چهار منطقه در خشکی که ممکن است در آنجا فسیل تشکیل شود را نام ببرید؟ (۱ نمره)

۲۴ - الف - منظور از ایزوتوپ چیست؟ (۱ نمره)

ب - کدامیک از این دو عنصر سنگین تر هستند؟ چرا؟



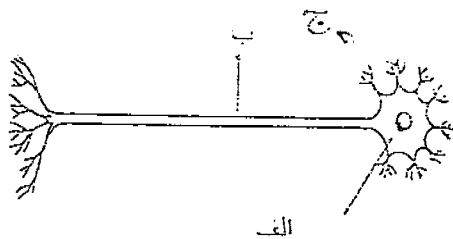
۲۵ - مشخص کنید که هر یک از اعمال زیر مربوط به کدام یک از غدد داخلی بدن است؟ (۰/۷۵ نمره)

الف - کاهش میزان قند خون

ب - تنظیم فعالیت سایر غدد درون ریز

ج - تنظیم وضعیت بدن در برابر شرایط دشوار روحی

۲۶ - اجزای شکل زیر را نام گذاری کنید. (۰/۷۵ نمره)



الف -

ب -

ج -

۲۷ - شخصی ۱۶۰ ژول کار را در مدت ۲۰ ثانیه انجام می دهد توان این شخص را حساب کنید؟ (۱ نمره)  
(توشتن فرمول و واحد الزامی است)

سوال درس: علوم تجربی  
پایه: سوم  
دوره: راهنمایی  
رشته:

با سمه تعالی



سال تحصیلی: ۸۸-۸۹  
تاریخ امتحان: ۱۳۸۹/۲/۲۰  
ساعت امتحان: ۱۰ صبح  
مدت امتحان: ۸۰ دقیقه  
شماره صفحه: ۱

نام و نام خانوادگی: دانش آموز/ داوطلب آزاد..... کشور: ..... شهر: .....

ردیف	سوال	بارم
	• جملات زیر را با استفاده از جدول لغات داده شده ، کامل کنید . (داروین -کمتر -کووالانسی -یونی -صاعقه -لامارک)	۱
۱	به نیروی جاذبه ای که اتم ها را در یک مولکول کنار هم نگاه می دارد، پیوند ..... می گویند.	
۲	به نظر ..... استفاده یا استفاده نکردن از اندام ها ، عامل بروز تغییر در گونه هاست.	
۳	هرچه انرژی مفید ماشینی کمتر باشد ، بازده ماشین ..... است .	
۴	تخلیه ی الکتریکی بین ابر باردار و زمین را ..... می گویند .	
	• جملات صحیح را با (ص) و جملات غلط را با (خ) مشخص کنید.	۱
۵	تعداد فسیل تشکیل شده در خشکی بسیار کمتر از دریاهاست. ( )	
۶	هورمون انسولین باعث افزایش قند خون می شود. ( )	
۷	نوع عمل ماهیچه ی قلبی، غیر ارادی است. ( )	
۸	پیام عصبی از آکسون به سمت دندریت ها است. ( )	
	• پاسخ صحیح را با علامت (x) مشخص کنید.	۱
۹	کدام گزینه ، نشان دهنده ی سرعت انجام کار است؟ الف) کار <input type="checkbox"/> ب) بازده <input type="checkbox"/> ج) توان <input type="checkbox"/> د) مزیت مکانیکی <input type="checkbox"/>	
۱۰	نسبت دادن صفاتی به خود که در واقع فاقد آن هستیم ، کدام واکنش دفاعی می باشد؟ الف) جبران نقص <input type="checkbox"/> ب) دلیل تراشی <input type="checkbox"/> ج) خیال بافی <input type="checkbox"/> د) جایگزینی <input type="checkbox"/>	
۱۱	شخصی با وزن خود در حالت های زیر بر روی سطح زمین فشار وارد می کند. فشار در کدام حالت بیش تر است؟ الف) بر روی کف پا می ایستد <input type="checkbox"/> ب) بر روی انگشت شست پا می ایستد <input type="checkbox"/> ج) روی زمین می نشیند <input type="checkbox"/> د) روی زمین می خوابد <input type="checkbox"/>	
۱۲	کدام یک از غده های زیر ، فعالیت سایر غده های بدن را تنظیم می کند؟ الف) فوق کلیه <input type="checkbox"/> ب) تیروئید <input type="checkbox"/> ج) لوزالمعده <input type="checkbox"/> د) هیپوفیز <input type="checkbox"/>	
	• من چیستم ؟	۱
۱۳	جزیی از منظومه ی شمسی هستیم که منشأ گرمای من ، واکنش های هسته ای است. ( )	
۱۴	من می توانم وجود بار الکتریکی در یک جسم را نشان دهم. ( )	
۱۵	من شدت جریان الکتریکی مدار را اندازه گیری می کنم. ( )	
۱۶	طناب محکم سفید رنگی هستم که ماهیچه را به استخوان متصل می کنم. ( )	

نمره کتبی: ..... نمره شفاهی/ عملی: ..... جمع نمره به عدد: ..... به حروف: ..... نام و نام خانوادگی مصحح: ..... امضاء

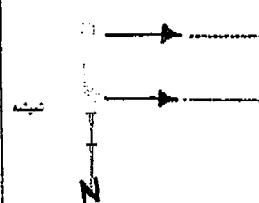
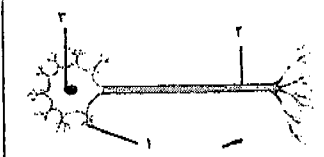
با سمة تعالی



سوال درس علوم تجربی  
پایه سوم  
دوره راهنمایی  
رشته:

سال تحصیلی: ۸۸-۸۹  
تاریخ امتحان: ۱۳۸۷/۲/۱۰  
ساعت امتحان: ۱۰ صبح  
مدت امتحان: ۸۰ دقیقه  
شماره صفحه: ۲

نام و نام خانوادگی: دانش آموز/ داوطلب آزاد..... کشور: ..... شهر: .....

ردیف	بارم	سوال
		• جواب سوالات را از قسمت مقابل آن پیدا کرده و در داخل پرانتز بنویسید.
۱۷		ایاكتبرى ها به این روش تولید مثل می کنند. ( ایف) مادگی
۱۸		دانه ی گرده در این قسمت از گل قرار دارد. ( ب) گامت
۱۹		به سلول های جنسی گفته می شود. ( ج) بساک
۲۰		قسمت حجیم تر آن را تخمدان می گویند. ( د) دو نیم شدن
	۰/۷۵	• به سوالات زیر پاسخ کوتاه دهید.
۲۱		جزایر قوسی در اثر برخورد کدام نوع ورقه های سنگ کره ایجاد می شود؟
۲۲		هر چه تعداد زلزله های کوچک در یک منطقه بیشتر باشد، بهتر است. دلیل آن چیست؟
۲۳		ستاره ی (الف) از ستاره ی (ب) پر نور تر است. اگر جرم هر دو یکسان باشد، کدام به زمین نزدیک تر است؟
		• به سوالات پاسخ کامل دهید .
۲۴	۰/۵	بزرگ ترین زرد پی بدن چه نام دارد؟
۲۵	۰/۷۵	عدد اتمی یک عنصر ۱۲ و عدد جرمی آن ۲۵ است. الف) این اتم چند نوترون دارد؟ ب) این اتم در حالت خنثی چند الکترون و چند پروتون دارد؟
۲۶	۰/۵	اتم بریلیم ( Be ) دارای ۴ پروتون و ۵ نوترون است. در کنار نماد شیمیایی آن عدد اتمی و عدد جرمی را نشان دهید
۲۷	۰/۷۵	اگر میوه ی خشک شده ای را در آب قرار دهیم، پر از آب می شود. آیا میوه رشد کرده است؟ دلیل بیاورید.
۲۸	۰/۷۵	الف) در شکل مقابل سوزن به چه روشی آهن ربا شده است؟ ب) قطب های آهن ربای تیغه ای را بر روی شکل مشخص کنید؟
		
۲۹	۰/۷۵	شکل زیر سلول عصبی (نورون) را نشان می دهد. قسمت های مشخص شده را نام گذاری کنید.
		

نمره کتبی: ..... نمره شفاهی/ عملی: ..... جمع نمره به عدد: ..... به حروف: ..... نام و نام خانوادگی مصحح: ..... امضاء

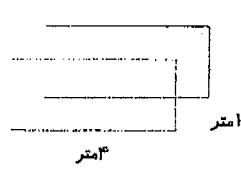
با سمه تعالی



سوال درس: علوم تجربی  
پایه: سوم  
دوره: راهنمایی  
رشته:

سال تحصیلی: ۸۸-۸۹  
تاریخ امتحان: ۱۳۸۹/۲/۲۰  
ساعت امتحان: ۱۰ صبح تا ۱۱ ظهر  
مدت امتحان: ۸۰ دقیقه  
شماره صفحه: ۳

نام و نام خانوادگی: دانش آموز/ داوطلب آزاد..... کشور: ..... شهر: .....

ردیف	پارام	سوال
۳۰	۰/۷۵	الف) الکترون آزاد را تعریف کنید. ب) تعداد الکترون های آزاد در میله ی پلاستیکی بیشتر است یا در میله ی مسی؟
۳۱	۰/۵	الف) کلسیم و فسفر: ب) رشته های پروتئینی: هر یک از مواد زیر مقاومت استخوان را در برابر چه عاملی افزایش می دهند؟
۳۲	۱	الف) ماهی ها : ب) پرندگان: ج) پستانداران: د) دوزیستان: نوع لقاح را در هر گروه از جانوران زیر مشخص کنید.
۳۳	۱	الف) هر یک از منابع طبیعی زیر جزء کدام گروه تجدید شدنی یا تجدید نشدنی قرار دارند. ا) معادن فلزات) ( ب) محصولات دامی) ( ج) درختان) ( ب) بارانی که گاز های اسیدی در آن حل شده باشند، چه نام دارد؟ در حل مسائل نوشتن فرمول و جایگزینی اعداد الزامی است»
۳۴	۱	یک کار گر هنگام بلند کردن یک اتومبیل با جک روغنی ۶۰۰۰ ژول کار را در مدت ۳۰ ثانیه انجام می دهد. توان او چه قدر است؟
۳۵		اگر وزن جعبه ی زیر ۴۰۰ نیوتن باشد، فشار وارد بر سطح زیرین آن چند پاسکال است؟ 

نمره کتبی: ..... نمره شفاهی/ عملی: ..... جمع نمره به عدد: ..... به حروف: ..... نام و نام خانوادگی مصحح: ..... امضاء



سال تحصیلی: ۸۹/۸۸

تاریخ امتحان: ۸۹، ۳، ۲۰

۱۰ صبح به وقت تهران

پایه: سوم
دوره: راهنمایی
رشته:

قابل توجه طراحان: ۱- لطفاً پاسخ سوالات بطور کامل قید گردد. (با ذکر ریز بارم) ۲- از دادن آدرس بعنوان مثال (مراجعه به متن ص ۲۰ و یا ... کتاب خودداری شود).

بارم	ردیف	سوال
۱۷۵	۲۹	(۱) زنجیریت (۲۵٪) (۲) آکسون (۲۵٪) (۳) هسته (۲۵٪)
۱۷۵	۳۰	الف) به الکترونی که در دورترین فاصله از هسته ی اتم واقع است و به راحتی از اتم جدا می شود و از یک اتم به اتم دیگر جهش می کند، الکترون آزاد می گویند. (۱۵٪) ب) سلبری سسی (۲۵٪)
۱۵	۳۱	الف) فشار (۲۵٪) ب) ضربه (۲۵٪)
۱	۳۲	الف) لقاح خارجی (ب) لقاح داخلی (ج) لقاح داخلی (د) لقاح خارجی (هر مورد ۲۵٪)
۱	۳۳	الف) تجدیدشدنی (ب) تجدیدشدنی (ج) تجدیدشدنی (هر مورد ۲۵٪) ب) باران اسیدی (۲۵٪)
۱	۳۴	$\text{توان} = \frac{\text{کار انجام شده}}{\text{زمان انجام کار}} = \frac{۶۰۰۰ \text{ ج}}{۳۰.۵} = ۲۰۰ \text{ W}$ <p>(۱۵٪ نمره) (۱۵٪ نمره)</p>
۱	۳۵	$\text{فشار} = \frac{\text{نیرو}}{\text{مساحت سطح}} = \frac{۴۰۰ \text{ N}}{۴ \text{ m}^2} = ۱۰۰ \frac{\text{N}}{\text{m}^2} = ۱۰۰ \text{ Pa}$ <p>(۱۵٪ نمره) (۱۵٪ نمره)</p>

باسمه تعالی

سوال درس: تاریخ

پایه: سوم

دوره: راهنمایی

رشته:



سال تحصیلی: ۱۳۸۸-۸۹

تاریخ امتحان: ۱۸، ۳، ۸۹

ساعت امتحان: ۱۰ صبح به وقت تهران

مدت امتحان: ۶۵ دقیقه

شماره صفحه: ۱

نمون برگ شماره ۱

نام و نام خانوادگی دانش آموز:

کشور:

شهر:

سوال

الف) پرسش های چهار گزینه ای:

۱- کدام یک از موارد زیر جزو تحولات قرون جدید بشمار می آیند:

- الف- تحولات مذهبی
- ب- انقلاب صنعتی
- ج- انقلاب فرانسه
- د- همه موارد

۲- مرقد امام رضا(ع) توسط کدام یک از دولت های زیر به گلوله بسته شد؟

- الف- انگلستان
- ب- روسیه
- ج- فرانسه
- د- عثمانی

۳- کودتای ۲۸ مرداد ۱۳۳۲ با دخالت کدام یک از دولت های زیر صورت گرفت؟

- الف- شوروی
- ب- فرانسه
- ج- آلمان
- د- امریکا

ب) جاهای خالی را با کلمات مناسب پر کنید:

۱- در رأس حکومت صفوی ..... قرار داشت و بعد از او ..... بود که اعتماد الدوله نامیده می شد.

۲- در سال ۱۳۰۴ ه.ش، رضاخان مجلس ..... را برای تغییر سلطنت از ..... به پهلوی تشکیل داد.

۳- آتش جنگ جهانی دوم در سال ۱۹۳۹م با حمله غافلگیرانه ..... به ..... افرخته شد.

پ) مشخص کنید کدام یک از گزاره های زیر صحیح و کدام یک غلط می باشند:

۱- تنها جنگ زمان کریم خان، جنگ چالدران با دولت عثمانی بود. (.....)

۲- آیت الله مطهری با تدریس بحث حکومت اسلامی قدم در راه مبارزه فرهنگی با رژیم پهلوی نهادند. (.....)

۳- قیام طلاب قم در ۱۹ دی ماه ۱۳۵۶، در اعتراض به توهین روزنامه اطلاعات به امام خمینی صورت گرفت. (.....)

۴- مهم ترین و سخت ترین توطئه دشمنان علیه انقلاب اسلامی، جنگ تحمیلی عراق علیه ایران بود. (.....)

ت) کدام یک از گزینه های داخل پرانتز با موارد نام برده شده در زیر ارتباط دارند؟  
( انقلاب صنعتی - نهضت پروتستان - سلطنت مشروطه )

۱- مارتین لوتر : .....  
۲- پیدایش و گسترش استعمار : .....

ث) پرسش های تشریحی:

۱- علت تفرقه شدید مردم پیش از تشکیل سلسله صفوی چه بود و این مسأله چگونه و توسط چه کسی رفع شد؟

امضاء

جمع نمره: به عدد..... به حروف..... نام و نام خانوادگی مصحح:

نمره شفاهی / عملی: ..... نمره کتبی: .....

سوال درس : تاریخ طرح جامع

پایه : سوم

دوره : راهنمایی

رشته :



وزارت آموزش عالی و تربیت مدرسین  
سازمان سنجش و ارزشیابی  
مراکز سنجش و ارزشیابی

سال تحصیلی: ۸۸-۸۹

تاریخ امتحان: ۸۹/۳/۱۸

ساعت امتحان: ۱۰ صبح به افق تهران

مدت امتحان: ۷۰ دقیقه

صفحه شماره: ۱

نام و نام خانوادگی دانش آموز / داوطلب آزاد : ..... کشور : ..... شهر : .....

ردیف	الف- خلاصه اول راهنمایی	بارم
۱	معروفترین پایتخت هخامنشیان کدام بود ؟ الف- تیسفون <input type="checkbox"/> ب- تخت جمشید <input type="checkbox"/> ج- شوش <input type="checkbox"/> د- هگمتانه <input type="checkbox"/>	۱
۲	یکی از یادگار های داریوش ..... که در آن چگونگی جنگ ها و طرز مجازات دشمنان را شرح داده است.	۱
۳	مجلس مهستان از شاه و خانواده شاهی تشکیل می شد. ص ( ) غ ( )	۱
۴	رابطه ی بین گزینه ها را پیدا کنید و با خطی به یکدیگر وصل کنید. داوری میان مردم شروع کار کشاورزی رونق زندگی یکجا نشینی ریش سفید آسان شدن کارها	۱
۵	هدف اردشیر از تشکیل سپاه دائمی چه بود (یک مورد)	۱
ب- خلاصه سوو راهنمایی		
۶	مشهورترین فرمانروای غزنوی ..... نام داشت.	۱
۷	نخستین کسی که از عباسیان به خلافت رسید که بود ؟ الف- سفاح <input type="checkbox"/> ب- منصور <input type="checkbox"/> ج- هارون الرشید <input type="checkbox"/> د- امین <input type="checkbox"/>	۱
۸	از روزگاران قدیم به قسمت کوهستانی گیلان « طبرستان » می گفتند. ص ( ) غ ( )	۱
۹	رابطه ی بین گزینه ها را پیدا کنید و با خط به هم وصل کنید. ۱- چنگیز اولین حکومت مستقل ایرانی ۲- طاهریان یاسا آذربایجان	۱
۱۰	امیر عضدالدوله دیلمی برای عمران و آبادی کشور چه کرد. (۲ مورد)	۱
ج- خلاصه سوو راهنمایی		
۱۱	امام خمینی (ره) در نجف با تدریس بحث ..... قدم در راه مبارزه ی فرهنگی نهادند .	۱
۱۲	نقش اصلی را در کودتای ۲۸ مرداد ۱۳۳۲ کدام کشور بر عهده داشت ؟ الف- روسیه <input type="checkbox"/> ب- آمریکا <input type="checkbox"/> ج- انگلستان <input type="checkbox"/> د- فرانسه <input type="checkbox"/>	۱
نمره کتبی نمره شفاهی / عملی : جمع نمره : به عدد : ..... به حروف : ..... نام و نام خانوادگی مصحح : ..... امضاء		



سال تحصیلی: ۸۹-۸۸

تاریخ امتحان: ۸۹/۳/۱۸

ساعت امتحان: ۱۰ صبح به افق تهران

مدت امتحان: ۷۰ دقیقه

صفحه شماره: ۲



وزارت آموزش عالی و عالی  
وزارت آموزش عالی و عالی

سوال درس: تاریخ طرح جامع

پایه: سوم

دوره: راهنمایی

رشته:

نام و نام خانوادگی دانش آموز / داوطلب آزاد: ..... کشور: ..... شهر: .....

۱	یکی از حوادث مهم زمان سلطنت محمد شاه قاجار، جنگ با حاکم هرات است. ص ( ) غ ( )	۱۳
۱	کدام گزینه ی سمت راست با گزینه ی سمت چپ مربوط است؟ محمد علی شاه عضد الملک یکی از رهبران گروه مبارزه در زمان احمد شاه به توپ بستن مجلس شیخ محمد خیابانی	۱۴
۱	چهار مورد از اقدامات امیر کبیر را نام ببرید.	۱۵
۰/۵	منطقه خلیج فارس همواره از دو نظر برای آمریکا اهمیت داشت، نام ببرید.	۱۶
۰/۵	رهبران مذهبی و سیاسی ملی شدن صنعت نفت ایران چه کسانی بودند؟	۱۷
۱	ساواک برای سخنرانی علما و روحانیون در محرم سال ۴۲ چه شرایطی را تعیین کرد(دو مورد)	۱۸
۱	به چه علتی ایرانیان در جنگ چالدران شکست خوردند؟	۱۹
۱	یک بند از لایحه ی انجمن های ایالتی و ولایتی را بنویسید.	۲۰
۱	یکی از تصمیمات مشروطه خواهان در میدان بهارستان را بیان کنید.	۲۱
۲۰	نمره کتبی : نمره شفاهی / عملی : جمع نمره : به عدد : ..... به حروف : ..... نام و نام خانوادگی مصحح : ..... امضاء	



نام و نام خانوادگی دانش آموز:

کشور:

شهر:

سوال

- الف) پرسش های چهار گزینه ای:
- ۱- کدام یک از موارد زیر جزو تحولات قرون جدید بشمار می آیند:  
 الف- تحولات مذهبی      ب- انقلاب صنعتی      ج- انقلاب فرانسه      د- همه موارد
  - ۲- مرقد امام رضا(ع) توسط کدام یک از دولت های زیر به گلوله بسته شد؟  
 الف- انگلستان      ب- روسیه      ج- فرانسه      د- عثمانی
  - ۳- کودتای ۲۸ مرداد ۱۳۳۲ با دخالت کدام یک از دولت های زیر صورت گرفت؟  
 الف- شوروی      ب- فرانسه      ج- آلمان      د- امریکا
- ب) جاهای خالی را با کلمات مناسب پر کنید :
- ۱- در رأس حکومت صفوی ..... قرار داشت و بعد از او ..... بود که اعتماد الدوله نامیده می شد.
  - ۲- در سال ۱۳۰۴ ه.ش، رضاخان مجلس ..... را برای تغییر سلطنت از ..... به پهلوی تشکیل داد.
  - ۳- آتش جنگ جهانی دوم در سال ۱۹۳۹م با حمله غافلگیرانه ..... به ..... افروخته شد.
- پ) مشخص کنید کدام یک از گزاره های زیر صحیح و کدام یک غلط می باشند:
- ۱- تنها جنگ زمان کریم خان، جنگ چالدران با دولت عثمانی بود. (.....)
  - ۲- آیت الله مطهری با تدریس بحث حکومت اسلامی قدم در راه مبارزه فرهنگی با رژیم پهلوی نهادند. (.....)
  - ۳- قیام طلاب قم در ۱۹ دی ماه ۱۳۵۶، در اعتراض به توهین روزنامه اطلاعات به امام خمینی صورت گرفت. (.....)
  - ۴- مهم ترین و سخت ترین توطئه دشمنان علیه انقلاب اسلامی، جنگ تحمیلی عراق علیه ایران بود. (.....)
- ت) کدام یک از گزینه های داخل پرانتز با موارد نام برده شده در زیر ارتباط دارند؟  
 ( انقلاب صنعتی - نهضت پروتستان - سلطنت مشروطه )
- ۱- مارتین لوتر : .....  
 ۲- پیدایش و گسترش استعمار : .....
- ث) پرسش های تشریحی:
- ۱- علت تفرقه شدید مردم پیش از تشکیل سلسله صفوی چه بود و این مسأله چگونه و توسط چه کسی رفع شد؟

سال تحصیلی: ۱۳۸۸-۸۹
تاریخ امتحان: ۱۸، ۳، ۸۹
ساعت امتحان: ۵ صبح به وقت تهران
مدت امتحان: ۶۵ دقیقه
شماره صفحه: ۲



سوال درسی: تاریخ
پایه: سوم
دوره: راهنمایی
رشته:

نمون برگ شماره ۱

۲- بنیان گذار سلسله افشاریه چه کسی بود و چرا وی موفق به بهبود زندگی مردم و آبادانی شهرها نشد؟

۳- دلایل تمایل انگلستان به ایجاد رابطه با ایران (در عهد فتحعلیشاه) چه بود؟

۴- قرارداد پاریس بین چه کشورهایی بسته شد؟ دو مورد از مواد آن را بنویسید.

۵- نتایج تبدیل نظام استبدادی به نظام مشروطه در عهد مظفرالدین شاه را بنویسید.

۶- در عهد محمدعلی شاه، مردم تبریز به رهبری چه کسانی و چرا دست به قیام بر ضد استبداد زدند؟

۷- پیش از شروع جنگ جهانی اول، رقابت و اختلاف اصلی کشورهای اروپایی بر سر چه مسائلی بود؟

۸- چه عواملی زمینه ساز تغییر سلطنت از سلسله قاجار به پهلوی شد؟

۹- در جنگ جهانی دوم، دولت های محور شامل چه کشورهایی می شدند و آن ها راه رسیدن به اهداف خود را چه می دانستند؟

۱۰- پس از برکناری رضاشاه چه نهضتی در ایران پدید آمد؟ نام رهبران این نهضت را بنویسید.

امضاء

جمع نمره: به عدد..... به حروف..... نام و نام خانوادگی مصحح:

نمره شفاهی / عملی:

نمره کتبی:

باسمه تعالی

سال تحصیلی: ۱۳۸۸-۸۹
تاریخ امتحان: ۱۸/۳/۸۹
ساعت امتحان: ۱۵ صبح به (وقت تهران)
مدت امتحان: ۶۵ دقیقه
شماره صفحه: ۳



سوال درس: تاریخ
پایه: سوم
دوره: راهنمایی
رشته:

نمون برگ شماره ۱

۱۱- در محرم سال ۱۳۴۲، ساواک چه شرایطی را برای سخن راتان مجالس مذهبی تعیین کرده بود؟ [دو مورد کافی است].

۱۲- دو مورد از اقداماتی را که در دوران نخست وزیری هویدا در جهت خدمت به بیگانگان و حفظ حکومت پهلوی صورت گرفت، نام ببرید.

۱۳- در سال ۱۳۵۷، هدف شاه از عقب نشینی و کنار گذاشتن برخی از زیردستان خود چه بود؟

۱۴- پس از پیروزی انقلاب اسلامی، "کمیته انقلاب اسلامی" با چه اهدافی تأسیس شد؟

(موفق باشید)

امضاء

جمع نمره: به عدد..... به حروف..... نام و نام خانوادگی مصحح:

نمره شفاهی / عملی: نمره کتبی:

سوال درس: تاریخ
پایه: سوم
دوره: راهنمایی
رشته:

سال تحصیلی: ۱۳۸۸-۸۹
تاریخ امتحان: ۱۸, ۳, ۸۹
ساعت امتحان: ۱۰ صبح به وقت تهران
مدت امتحان: ۶۵ دقیقه
شماره صفحه: ۱



نمون برگ شماره

شهر:

کشور:

نام و نام خانوادگی دانش آموز:

سوال

- الف) پرسش های چهار گزینه ای:
- ۱- کدام یک از موارد زیر جزو تحولات قرون جدید بشمار می آیند:  
الف- تحولات مذهبی      ب- انقلاب صنعتی      ج- انقلاب فرانسه      د- همه موارد
  - ۲- مرقد امام رضا(ع) توسط کدام یک از دولت های زیر به گلوله پسته شد؟  
الف- انگلستان      ب- روسیه      ج- فرانسه      د- عثمانی
  - ۳- کودتای ۲۸ مرداد ۱۳۳۲ با دخالت کدام یک از دولت های زیر صورت گرفت؟  
الف- شوروی      ب- فرانسه      ج- آلمان      د- امریکا
- ب) جاهای خالی را با کلمات مناسب پر کنید:
- ۱- در رأس حکومت صفوی ..... قرار داشت و بعد از او ..... بود که اعتماد الدوله نامیده می شد.
  - ۲- در سال ۱۳۰۴ ه.ش، رضاخان مجلس ..... را برای تخییر سلطنت از ..... به پهلوی تشکیل داد.
  - ۳- آتش جنگ جهانی دوم در سال ۱۹۳۹م با حمله غافلگیرانه ..... به ..... افروخته شد.
- پ) مشخص کنید کدام یک از گزاره های زیر صحیح و کدام یک غلط می باشند:
- ۱- تنها جنگ زمان کریم خان، جنگ چالدران با دولت عثمانی بود. (.....)
  - ۲- آیت الله مطهری با تدریس بحث حکومت اسلامی قدم در راه مبارزه فرهنگی با رژیم پهلوی نهادند. (.....)
  - ۳- قیام طلاب قم در ۱۹ دی ماه ۱۳۵۶، در اعتراض به توهین روزنامه اطلاعات به امام خمینی صورت گرفت. (.....)
  - ۴- مهم ترین و سخت ترین توطئه دشمنان علیه انقلاب اسلامی، جنگ تحمیلی عراق علیه ایران بود. (.....)
- ت) کدام یک از گزینه های داخل پرانتز با موارد نام برده شده در زیر ارتباط دارند؟  
( انقلاب صنعتی - نهضت پروتستان - سلطنت مشروطه )
- ۱- مارتین لوتر : .....
  - ۲- پیدایش و گسترش استعمار : .....
- ث) پرسش های تشریحی:
- ۱- علت تفرقه شدید مردم پیش از تشکیل سلسله صفوی چه بود و این مسأله چگونه و توسط چه کسی رفع شد؟

امضاء

جمع نمره : به عدد ..... به حروف ..... نام و نام خانوادگی مصحح:

نمره کتبی : نمره شفاهی / عملی :

سال تحصیلی: ۱۳۸۸-۸۹
تاریخ امتحان: ۱۸، ۳، ۸۹
ساعت امتحان: ۱۵ صبح به افق تهران
مدت امتحان: ۶۵ دقیقه
شماره صفحه: ۲



سوال درس: تاریخ
پایه: سوم
دوره: راهنمایی
رشته:

نمون برگ شماره

۲- بنیان گذار سلسله افشاریه چه کسی بود و چرا وی موفق به بهبود زندگی مردم و آبادانی شهرها نشد؟

۳- دلایل تمایل انگلستان به ایجاد رابطه با ایران (در عهد فتحعلیشاه) چه بود؟

۴- قرارداد پاریس بین چه کشورهایی بسته شد؟ دو مورد از مواد آن را بنویسید.

۵- نتایج تبدیل نظام استبدادی به نظام مشروطه در عهد مظفرالدین شاه را بنویسید.

۶- در عهد محمدعلی شاه، مردم تبریز به رهبری چه کسانی و چرا دست به قیام بر ضد استبداد زدند؟

۷- پیش از شروع جنگ جهانی اول، رقابت و اختلاف اصلی کشورهای اروپایی بر سر چه مسائلی بود؟

۸- چه عواملی زمینه ساز تغییر سلطنت از سلسله قاجار به پهلوی شد؟

۹- در جنگ جهانی دوم، دولت های محور شامل چه کشورهایی می شدند و آن ها راه رسیدن به اهداف خود را چه می دانستند؟

۱۰- پس از برکناری رضاشاه چه نهضتی در ایران پدید آمد؟ نام رهبران این نهضت را بنویسید.

سال تحصیلی: ۸۸ - ۸۹
تاریخ امتحان: ۱۸، ۳، ۸۹
ساعت امتحان: ۱۲ عصر به افق تهران
مدت امتحان: ۶۰ دقیقه
شماره‌ی صفحه: ۲



سوال درس: تاریخ
پایه: سوم
دوره: راهنمایی
رتبه:

نام و نام خانوادگی دانش آموز/ داوطلب ازاد: ..... کشور: ..... شهر: .....

ردیف	سوال	بارم
۱۳	اولین کشورهای استعمارگر کدام ها بودند.	۱
۱۴	دو مورد از اقدامات امیر کبیر را بنویسید.	۱
۱۵	دولت های محور چه راهی را برای رسیدن به هدف مناسب می دانستند.	۱
۱۶	چه کسانی جریان ملی شدن صنعت نفت ایران را رهبری می کردند.	۱
۱۷	چرا ۱۳ آبان را روز دانش آموز نامیده اند.	۱
۱۸	مهم ترین مسئله مورد توجه حکومت قاجار چه بود.	۱
۱۹	چه عاملی زمینه را برای شکست نهضت ملی ایران فراهم کرد.	۱
۲۰	چرا مردم در زمان مظفردالدین شاه علیه عین الدوله مستبد دست به قیام زدند.	۱
۲۱	ساواک برای برگزاری سخنرانی در محرم ۱۳۴۲ چه شرایطی را تعیین کرد.	۱/۵
۲۲	آزاد مردانی که در زمان احمد شاه بر علیه بیگانگان قیام کردند را نام ببرید.	۱/۵
۲۳	چرا روسیه با انقلاب مشروطه ایران مخالف بود.	۱
	موفق باشید.	۲۰
	جمع نمرات	

سوال درس: تاریخ
پایه: سوم
دوره: راهنمایی
رشته:



وزارت معارف و اوقاف و صنایع مستظرفه  
جمهوری اسلامی ایران

سال تحصیلی: ۸۸ - ۸۹
تاریخ امتحان: ۸۹، ۳، ۱۸
ساعت امتحان: ۱۲ عصر به وقت تهران
مدت امتحان: ۶۰ دقیقه
شماره‌ی صفحه: ۱

نام و نام خانوادگی دانش آموز/ داوطلب ازاد: ..... کشور: ..... شهر: .....

ردیف	الف- صحیح یا غلط بودن جملات زیر را با علامت (x) مشخص نمایید.	ص	غ	بارم
۱	در حکومت صفوی پس از پادشاه صدراعظم بود که اعتماد الدوله نامیده می شد.	<input type="checkbox"/>	<input type="checkbox"/>	۱/۵
۲	در جنگ چالدران ارتش ایران از عثمانی شکست خورد.	<input type="checkbox"/>	<input type="checkbox"/>	۱/۵
۳	ب- گزینه ی صحیح را با علامت (x) مشخص نمایید مهم ترین فتح نادر کجا بود.			۱/۵
۴	الف) قندهار <input type="checkbox"/> ب) بحرین <input type="checkbox"/> ج) بخارا <input type="checkbox"/> د) هند <input type="checkbox"/> کدام پادشاه لقب وکیل الرعایا را برای خود برگزید.			۱/۵
۵	الف) آقا محمدخان <input type="checkbox"/> ب) نادر <input type="checkbox"/> ج) کریم خان <input type="checkbox"/> د) شاه عباس <input type="checkbox"/> چه کسی با تدریس بحث حکومت اسلامی در نجف قدم در راه مبارزه فرهنگی با رژیم شاه نهاد.			۱/۵
۶	الف) شهید مطهری <input type="checkbox"/> ب) امام خمینی (ره) <input type="checkbox"/> ج) دکتر شریعتی <input type="checkbox"/> د) شهید مفتاح <input type="checkbox"/> قرارداد پاریس بین کدام کشورها بسته شد.			۱/۵
	الف) ایران و فرانسه <input type="checkbox"/> ب) ایران و روسیه <input type="checkbox"/> ج) ایران و انگلستان <input type="checkbox"/> د) فرانسه و انگلستان <input type="checkbox"/>			
۷	ج- جملات زیر را با کلمات مناسب کامل کنید حسنعلی منصور به وسیله ..... اعدام انقلابی شد.			۱/۵
۸	مردم به اسیران جنگ که به آغوش پر مهر میهن باز گشتند ..... می گفتند.			۱/۵
۹	به موجب عهد نامه ی گلستان شهر های ..... و ..... از ایران جدا و به روسیه واگذار شد.			۱
۱۰	انگلیسی ها برای تثبیت موقعیت رضا شاه او را مردی وطن پرست و ..... و ..... معرفی کردند.			۱
۱۱	د- پاسخ دهید. دو مورد از اقدامات شاه اسماعیل بنیان گذار حکومت صفوی را بنویسید.			۱
۱۲	عوامل رونق تجارت ایران در دوره ی صفوی را بنویسید.			۱



سال تحصیلی: ۹۰-۱۳۸۸  
 تاریخ امتحان: ۱۸/۳/۸۹  
 ساعت امتحان: ۵ صبح به وقت ایران  
 مدت امتحان: ۶۵ دقیقه  
 شماره صفحه: ۱

بِسْمِ اللَّهِ الرَّحْمَنِ الرَّحِيمِ



سوال درس: تاریخ  
 پایه: سوم  
 دوره: راهتمایی  
 رشته:

نمون برگ شماره ۱

شهر:

کشور:

نام و نام خانوادگی دانش آموز:

سوال

الف) پرسش های چهار گزینه ای:

- ۱- کدام یک از موارد زیر جزو تحولات قرون جدید بشمار می آیند:  
 الف- تحولات مذهبی  
 ب- انقلاب صنعتی  
 ج- انقلاب فرانسه  
 د- همه موارد
- ۲- مرقد امام رضا(ع) توسط کدام یک از دولت های زیر به گلوله بسته شد؟  
 الف- انگلستان  
 ب- روسیه  
 ج- فرانسه  
 د- عثمانی
- ۳- کودتای ۲۸ مرداد ۱۳۳۲ با دخالت کدام یک از دولت های زیر صورت گرفت؟  
 الف- شوروی  
 ب- فرانسه  
 ج- آلمان  
 د- امریکا

ب) جاهای خالی را با کلمات مناسب پر کنید:

- ۱- در رأس حکومت صفوی ..... قرار داشت و بعد از او ..... بود که اعتماد الدوله نامیده می شد.
- ۲- در سال ۱۳۰۴ ه.ش، رضاخان مجلس ..... را برای تغییر سلطنت از ..... به پهلوی تشکیل داد.
- ۳- آتش جنگ جهانی دوم در سال ۱۹۳۹م با حمله غافلگیرانه ..... به ..... افروخته شد.
- پ) مشخص کنید کدام یک از گزاره های زیر صحیح و کدام یک غلط می باشند:
- ۱- تنها جنگ زمان کریم خان، جنگ چالدران با دولت عثمانی بود. (.....)
- ۲- آیت الله مطهری با تدریس بحث حکومت اسلامی قدم در راه مبارزه فرهنگی با رژیم پهلوی نهادند. (.....)
- ۳- قیام طلاب قم در ۱۹ دی ماه ۱۳۵۶، در اعتراض به توهین روزنامه اطلاعات به امام خمینی صورت گرفت. (.....)
- ۴- مهم ترین و سخت ترین توطئه دشمنان علیه انقلاب اسلامی، جنگ تحمیلی عراق علیه ایران بود. (.....)

ت) کدام یک از گزینه های داخل پرانتز با موارد نام برده شده در زیر ارتباط دارند؟  
 ( انقلاب صنعتی - نهضت پروتستان - سلطنت مشروطه )

۲- پیدایش و گسترش استعمار : .....

۱- مارتین لوتر : .....

ث) پرسش های تشریحی:

۱- علت تفرقه شدید مردم پیش از تشکیل سلسله صفوی چه بود و این مسأله چگونه و توسط چه کسی رفع شد؟

امضاء

جمع نمره : به عدد..... به حروف..... نام و نام خانوادگی مصحح:

نمره شفاهی / عملی :  
 نمره کتبی :

باسمه تعالی

سوال درس: تاریخ

پایه: سوم

دوره: راهنمایی

رشته:

سال تحصیلی: ۱۳۸۸-۸۹

تاریخ امتحان: ۱۸/۳/۸۹

ساعت امتحان: ۱۵ صبح به وقت تهران

مدت امتحان: ۶۵ دقیقه

شماره صفحه: ۲



نمون برگ شماره ۱

۲- بنیان گذار سلسله افشاریه چه کسی بود و چرا وی موفق به بهبود زندگی مردم و آبادانی شهرها نشد؟

۳- دلایل تمایل انگلستان به ایجاد رابطه با ایران (در عهد فتحعلیشاه) چه بود؟

۴- قرارداد پاریس بین چه کشورهایی بسته شد؟ دو مورد از مواد آن را بنویسید.

۵- نتایج تبدیل نظام استبدادی به نظام مشروطه در عهد مظفرالدین شاه را بنویسید.

۶- در عهد محمدعلی شاه، مردم تبریز به رهبری چه کسانی و چرا دست به قیام بر ضد استبداد زدند؟

۷- پیش از شروع جنگ جهانی اول، رقابت و اختلاف اصلی کشورهای اروپایی بر سر چه مسائلی بود؟

۸- چه عواملی زمینه ساز تغییر سلطنت از سلسله قاجار به پهلوی شد؟

۹- در جنگ جهانی دوم، دولت های محور شامل چه کشورهایی می شدند و آن ها راه رسیدن به اهداف خود را چه می دانستند؟

۱۰- پس از برکناری رضاشاه چه نهضتی در ایران پدید آمد؟ نام رهبران این نهضت را بنویسید.

نمره کتبی: نمره شفاهی / عملی:

جمع نمره: به عدد..... به حروف..... نام و نام خانوادگی مصحح:

امضاء

باسمه تعالی



سوال درس : تاریخ

پایه : سوم

دوره : راهنمایی

رشته :

سال تحصیلی : ۸۹-۱۳۸۸

تاریخ امتحان : ۱۸ / ۳ / ۸۹

ساعت امتحان : ۱۵ صبح به وقت تهران

مدت امتحان : ۶۵ دقیقه

شماره صفحه : ۳

نمون برگ شماره ۱

۱۱- در محرم سال ۱۳۴۲، ساواک چه شرایطی را برای سخن رانان مجالس مذهبی تعیین کرده بود؟ [دومورد کافی است].

۱۲- دو مورد از اقداماتی را که در دوران نخست وزیری هویدا در جهت خدمت به بیگانگان و حفظ حکومت پهلوی صورت گرفت، نام ببرید.

۱۳- در سال ۱۳۵۷، هدف شاه از عقب نشینی و کنار گذاشتن برخی از زیردستان خود چه بود؟

۱۴- پس از پیروزی انقلاب اسلامی، "کمیته انقلاب اسلامی" با چه اهدافی تأسیس شد؟

(موفق باشید)

نمره کتبی : ..... نمره شفاهی / عملی : ..... جمع نمره : به عدد ..... به حروف ..... نام و نام خانوادگی مصحح : ..... امضاء

# کتاب راهنمای صحیح

باسمه تعالی

سال تحصیلی: ۱۳۸۸-۸۹
تاریخ امتحان: ۱۸/۳/۸۹
ساعت امتحان: ۱۵ صبح به وقت تهران
مدت امتحان: ۶۵ دقیقه
شماره صفحه: ۱



سوال درس: تاریخ
پایه: نهم
دوره: راهنمایی
رشته:

نمون برگ شماره ۱

نام و نام خانوادگی دانش آموز: \_\_\_\_\_ کشور: \_\_\_\_\_ شهر: \_\_\_\_\_

## سوال

- الف) پرسش های چهار گزینه ای:
- ۱- کدام یک از موارد زیر جزو تحولات قرون جدید بشمار می آیند:  
الف- تحولات مذهبی      ب- انقلاب صنعتی      ج- انقلاب فرانسه      د- همه موارد
  - ۲- مرقد امام رضا(ع) توسط کدام یک از دولت های زیر به گلوله بسته شد؟  
الف- انگلستان      ب- روسیه      ج- فرانسه      د- عثمانی
  - ۳- کودتای ۲۸ مرداد ۱۳۳۲ با دخالت کدام یک از دولت های زیر صورت گرفت؟  
الف- شوروی      ب- فرانسه      ج- آلمان      د- امریکا

- ب) جاهای خالی را با کلمات مناسب پر کنید:
- ۱- در راس حکومت صفوی پادشاه قرار داشت و بعد از او صدر اعظم بود که اعتماد الدوله نامیده می شد.
  - ۲- در سال ۱۳۰۴ ه.ش، رضاخان مجلس مؤسسان را برای تغییر سلطنت از قاجاریه به پهلوی تشکیل داد.
  - ۳- آتش جنگ جهانی دوم در سال ۱۹۳۹م با حمله غافلگیرانه آلمان به پولستان افروخته شد.
- پ) مشخص کنید کدام یک از گزاره های زیر صحیح و کدام یک غلط می باشند:
- ۱- تنها جنگ زمان کریم خان، جنگ چالدران با دولت عثمانی بود. (.....)
  - ۲- آیت الله مطهری با تدریس بحث حکومت اسلامی قدم در راه مبارزه فرهنگی با رژیم پهلوی نهادند. (.....)
  - ۳- قیام طلاب قم در ۱۹ دی ماه ۱۳۵۶، در اعتراض به توهین روزنامه اطلاعات به امام خمینی صورت گرفت. (.....)
  - ۴- مهم ترین و سخت ترین توطئه دشمنان علیه انقلاب اسلامی، جنگ تحمیلی عراق علیه ایران بود. (.....)

ت) کدام یک از گزینه های داخل پرانتز با موارد نام برده شده در زیر ارتباط دارند؟  
( انقلاب صنعتی - نهضت پروتستان - سلطنت مشروطه )

- ۱- مارتین لوتر: بهبود پروتستان
- ۲- پیدایش و گسترش استعمار: انقلاب صنعتی

- ث) پرسش های تشریحی:
- ۱- علت تفرقه شدید مردم پیش از تشکیل سلسله صفوی چه بود و این مساله چگونه و توسط چه کسی رفع شد؟  
.....  
با رسم کردن مذهب شیعه (۱/۲۵) توسط شاه اسماعیل (۱/۲۵) ص ۱ کتاب

نمره کتبی: \_\_\_\_\_ نمره شفاهی / عملی: \_\_\_\_\_ جمع نمره: به عدد: \_\_\_\_\_ به حروف: \_\_\_\_\_ نام و نام خانوادگی مصحح: \_\_\_\_\_ امضاء: \_\_\_\_\_

شماره صفحه: ۲
مدت امتحان: ۶۵ دقیقه
ساعت امتحان: ۱۵ صبح به وقت تهران
تاریخ امتحان: ۱۸، ۱۹، ۲۰
سال تحصیلی: ۸۹-۱۳۸۸



سوال دوس: تاریخ
پایه: دسوم
دوره: راهنمایی
رشته:

نمون برگ شماره ۱

۲- بنیان گذار سلسله افشاریه چه کسی بود و چرا وی موفق به بهبود زندگی مردم و آبادانی شهرها نشد؟

تاریخ نامه (۱/۵) ... به دلیل استعمال به جنگ های شملف (۱/۵) ص ۱۴ کتاب

۳- دلایل تمایل انگلستان به ایجاد رابطه با ایران (در عهد فتحعلیشاه) چه بود؟

۱- از نفوذ فرانس و روسیه از راه ایران به هندوستان جلوگیری کند (۱/۵)  
۲- بازارهای ایران را راجتیار خود بگیرد (۱/۵) ص ۲۳ کتاب

۴- قرارداد پاریس بین چه کشورهایی بسته شد؟ نو مورد از مواد آن را بنویسید.

ایران (۱/۵) و انگلستان (۱/۵) : ۱- ایران تمدن در استقلال افغانستان را بر زمین بستند (۱/۵)  
۲- هرت را تحلیف کند (۱/۵) [۳- ...] ص ۲۹ کتاب  
۵- نتایج تبدیل نظام استبدادی به نظام مشروطه در عهد مظفرالدین شاه را بنویسید.

۱- سه مجلس مجلس از نمایندگان مردم (۱/۵)  
۲- و مقبول قانون اساسی برای ایران (۱/۵) ص ۳۶ کتاب

۶- در عهد محمدعلی شاه، مردم تبریز به رهبری چه کسانی و چرا دست به قیام بر ضد استبداد زدند؟

به رهبری: ۱- ستارخان (۱/۵) و ۲- باقرخان (۱/۵) ص ۹-۳۸ کتاب  
نخاطر به توبه بستن مجلس توسط مومنان است [و به دنبال فتوا علمای نجف ...] (۱/۵)

۷- پیش از شروع جنگ جهانی اول، رقابت و اختلاف اصلی کشورهای اروپایی بر سر چه مسائلی بود؟

۱- توسعه طلبی ارض (۱/۵)  
۲- رقابت های صنعتی و تجاری (۱/۵) ص ۴۴ کتاب

۸- چه عواملی زمینه ساز تغییر سلطنت از سلسله قاجار به پهلوی شد؟

۱- حمایت آنتن از رضاخان (۱/۵)  
۲- سرکوب مخالفان آگاه (۱/۵) ص ۴۸ کتاب

۹- در جنگ جهانی دوم، دولت های محور شامل چه کشورهایی می شدند و آن ها راه رسیدن به اهداف خود را چه می دانستند؟

۱- آلمان (۱/۵) ۲- ایتالیا (۱/۵) و ۳- ژاپن (۱/۵) ... جنگ بارشمان برانستند (۱/۵) ص ۵۱ کتاب

۱۰- پس از برکناری رضاشاه چه نهضتی در ایران پدید آمد؟ نام رهبران این نهضت را بنویسید.

نهضت ملی شدن صنعت نفت (۱/۵) رهبر آن: ۱- آیت الله کاشانی (۱/۵) ۲- دکتر محمد مصدق (۱/۵) ص ۵۴ کتاب

سال تحصیلی: ۱۳۸۸-۸۹
تاریخ امتحان: ۱۸/۳/۸۹
ساعت امتحان: ۱۵ صبح به وقت تهران
مدت امتحان: ۶۵ دقیقه
شماره صفحه: ۲



کتاب: رساله سوال درس: تاریخ
پایه: نسوم
دوره: راهنمایی
رشته:

نمون برگ شماره ۱

۱۱- در محرم سال ۱۳۴۲، ساواک چه شرایطی را برای سخن رانان مجالس مذهبی تعیین کرده بود؟ [دومورد کافی است]

- ۱- علیه شخص اول مملکت یعنی شاه گفتند نموند. (۷۵)
- ۲- علیه اسرائیل مطهرین نگوند. (۷۵)
- ۳- مرتضی انصاری مردم گویا موعظه اسلام در خرابی است. (۷۵)

۱۲- دو مورد از اقداماتی را که در دوران نخست وزیری هویدا در جهت خدمت به بیگانگان و حفظ حکومت پهلوی صورت گرفت، نام ببرید.

- ۱- هدر دادن ثروت و طلا ایران. (۷۵)
- ۲- وابستگی به بیگانگان و تیر کردن بازار مصرف کالاها گران. (۷۵)
- ۳- رواج غیر مجاز و ماسک زدن. (۷۵)
- ۴- ارباب و حاکمان و... (۷۵)

۱۳- در سال ۱۳۵۷، هدف شاه از عقب نشینی و کنار گذاشتن برخی از زیردستان خود چه بود؟

- ۱- فریب دادن مردم. (۷۵)
- ۲- جلوگیری از رشد اسلام. (۷۵)

۱۴- پس از پیروزی انقلاب اسلامی، "کمیته انقلاب اسلامی" با چه اهدافی تأسیس شد؟

- ۱- برقراری نظم و امنیت در کشور. (۷۵)
- ۲- رستگاری سران جنبانگار حکومت شاه. (۷۵)

(موفق باشید)

امضاء

جمع نمره: به عدد..... به حروف..... نام و نام خانوادگی مصحح:

نمره شفاهی / عملی: نمره کتبی:

سال تحصیلی: ۸۸-۸۹  
 تاریخ امتحان: ۸۹، ۳، ۲۲  
 ساعت امتحان: ۱۰:۰۰ صبح  
 مدت امتحان: ۴۰ دقیقه  
 شماره ی صفحه: ۱



سئوال درس: هنر  
 پایه: سوم  
 دوره: راهنمایی  
 رشته:

نام و نام خانوادگی دانش آموز/ داوطلب آزاد: ..... کشور: ..... شهر: .....

بارم

۱۰

ردیف

۱

سطرزیر را دوبار با قلم نی و مرکب نوشته و سپس دوبار نیز با مداد یا خودنویس بصورت خط تحریری بنویسید.

درخت بوکر بار دانه شیر مگرد

.....

.....

.....

.....

نمره ی کتبی: ..... نمره ی شفاهی/ عملی: ..... جمع نمره: به عدد ..... به حروف ..... نام و نام خانوادگی مصصح: ..... امضاء

سال تحصیلی: ۱۳۸۸-۸۹ تاریخ امتحان: ۱۳۸۹/۳/۲۲ ساعت امتحان: ۱۲ عصر (وقت تهران) مدت امتحان: ۹۰ دقیقه شماره صفحه: ۱	 شماره کالی آیدوزش و پرورش مدارس خارج از کشور	سوال درس: هنر پایه: سوم دوره: راهنمایی رشته:
--	--	---

نام و نام خانوادگی دانش آموز / داوطلب آزاد		کشور:	شهر:
ردیف	شرح سوالات	پارم	
۱	<p>جمله زیر را یک بار بامداد یا خودنویس به صورت خط ریز تحریری بنویسید.</p> <p>ای بی خبر کوش که صاحب خبر شوی ..... تاراهرو نباشی کی راه بر شوی</p>	۲	
۲	<p>جمله ی زیر را یک بار با قلم نی و خط درشت بنویسید.</p> <p>به زیر آوری چرخ نیلوفری را</p>	۱۰	
۳	<p>یکی از موضوعات زیر را انتخاب کرده و در مورد آن یک نقاشی در کادر زیر رسم کنید و آن را رنگ آمیزی نمایید.</p> <p>۱- میوه ی گلابی بر روی شاخه ۲- ترکیبی از یک لیوان و یک کوزه ۳- یکی از حالت های دست یا پا</p>	۱۰	



باسمه تعالی



سال تحصیلی: ۱۳۸۸-۱۳۸۹
تاریخ امتحان: ۱۳/۳/۸۹
ساعت امتحان: ۱۰ صبح به وقت تهران
مدت امتحان: ۶۰ دقیقه
شماره صفحه: ۱

سوال درس: جغرافیا
پایه: سوم
دوره: راهنمایی
رشته:

نمون بزرگ شماره ۱

۷	میزان نفوذ پذیری آب در زمین به چه عواملی بستگی دارد.	۱/۵
۸	قسمتهای مختلف یک سیلاب را نام ببرید.	۱/۵
۹	برای جلوگیری از خطر سیلاب چه اقداماتی ضروری است؟ (سه مورد)	۱/۵
۱۰	منظور از جریانات دریایی چیست؟ این جریاناتها به طرف چه مناطقی در حرکت هستند؟	۱/۵
۱۱	تفاوت هوا را با آب و هوا بنویسید.	۱
۱۲	زیست بوم را تعریف نمایید.	۱
۱۳	دو مورد از عوامل جذب و دفع جمعیت را بنویسید.	۱
۱۴	منظور از مهاجرت روزانه را توضیح دهید.	۱
۱۵	روستا و شهر را در زمینه اشتغال با هم مقایسه کنید.	۱
۱۶	منظور از مدار چیست؟	۱

تنها یاد خدا آرامش بخش دلهاست

نمره کتبی: ..... نمره شفاهی / عملی: ..... جمع نمره: به عدد..... به حروف..... نام و نام خانوادگی مصحح: ..... امضاء

باسمه تعالی



سال تحصیلی: ۱۳۸۸-۱۳۸۹
تاریخ امتحان: ۱۲/۳/۸۹
ساعت امتحان: ۱۰ صبح به وقت تهران
مدت امتحان: ۶۰ دقیقه
شماره صفحه: ۱

سوال درس: جغرافیا
پایه: سوم
دوره: راهنمایی
رشته:

نمون بری شماره ۱

نام و نام خانوادگی دانش آموز:	کشور:	شهر:
ردیف	سوال	بارم
۱	گزینه های صحیح و غلط را مشخص نمایید. الف- گسل عامل ایجاد ناهمواریهای شرق آفریقا است ب- به بالا آمدن آب اقیانوس و دریا جزر می گویند. ج- روستاهای متمرکز در شمال ایران مشاهده می شود. د- در ایران مردم به طرف جنوب غربی نماز می خوانند. ه- علت اصلی گرم یا سرد شدن زمین زاویه خورشید است. و- پیدایش فصل ها از آثار حرکت انتقالی زمین است.	۳
۲	صحیح ترین گزینه را مشخص نمایید. الف- رشته کوه زاگرس نتیجه ی برخورد صفحه ی ..... با ایران است. ۱- آسیا <input type="checkbox"/> ۲- آمریکا <input type="checkbox"/> ۳- عربستان <input type="checkbox"/> ۴- اقیانوس هند <input type="checkbox"/> ب- تابستان های گرم و خشک و زمستان های معتدل و مرطوب از ویژگیهای آب و هوای معتدل ..... است. ۱- اقیانوسی <input type="checkbox"/> ۲- بری <input type="checkbox"/> ۳- مدیترانه ای <input type="checkbox"/> ۴- کوهپایه ای <input type="checkbox"/> ج- دلیل رونق و رشد کرمانشاه موقعیت ..... بوده است. ۱- مذهبی <input type="checkbox"/> ۲- ارتباطی <input type="checkbox"/> ۳- سیاسی <input type="checkbox"/> ۴- جغرافیایی <input type="checkbox"/>	۱/۵
۳	جاهای خالی را با عبارتهای مناسب کامل کنید. الف- به مواد مذاب که بر روی سطح زمین جاری می شوند ..... گویند. ب- به محل ورود رود به دریا یا دریاچه ..... می گویند. ج- به جا به جا شدن هوا از یک نقطه به نقطه دیگر را ..... گویند. د- فاصله هر نقطه (به درجه) تا مدار استوا را ..... گویند. ه- سال ۳۶۶ روز را سال ..... می گویند.	۲/۵
۴	نقشه چیست؟	۱
۵	اگر بر روی نقشه ای به مقیاس ۲۰۰۰۰۰:۱ فاصله دو شهر ۲۵ سانتیمتر باشد مسافت حقیقی این دو شهر را محاسبه نمایید.	۱
۶	مراحل فرسایش را به ترتیب بنویسید.	۱/۵
نمره کتبی:	نمره شفاهی / عملی:	جمع نمره: به عدد..... به حروف..... نام و نام خانوادگی مصحح:
امضاء		

باسمه تعالی



سال تحصیلی: ۱۳۸۸-۱۳۸۹
تاریخ امتحان: ۱۲/۳/۸۹
ساعت امتحان: ۱۵ صبح به وقت تهران
مدت امتحان: ۶۰ دقیقه
شماره صفحه: ۱

سوال درس: جغرافیا
پایه: سوم
دوره: راهنمایی
رشته:

نمون ببری شماره ۱

ردیف	سوال	بارم
۱	<p>گزینه های صحیح و غلط را مشخص نمایید.</p> <p>الف- گسل عامل ایجاد ناهمواریهای شرق آفریقا است.</p> <p>ب- به بالا آمدن آب اقیانوس و دریا جزر می گویند.</p> <p>ج- روستاهای متمرکز در شمال ایران مشاهده می شود.</p> <p>د- در ایران مردم به طرف جنوب غربی نماز می خوانند.</p> <p>ه- علت اصلی گرم یا سرد شدن زمین زاویه خورشید است.</p> <p>و- پیدایش فصل ها از آثار حرکت انتقالی زمین است.</p>	<p>۳</p> <p>غلط صحیح</p> <p><input type="checkbox"/> <input type="checkbox"/></p> <p><input type="checkbox"/> <input type="checkbox"/></p> <p><input type="checkbox"/> <input type="checkbox"/></p> <p><input type="checkbox"/> <input type="checkbox"/></p> <p><input type="checkbox"/> <input type="checkbox"/></p> <p><input type="checkbox"/> <input type="checkbox"/></p>
۲	<p>صحیح ترین گزینه را مشخص نمایید.</p> <p>الف- رشته کوه زاگرس نتیجه ی برخورد صفحه ی ..... با ایران است.</p> <p>۱- آسیا <input type="checkbox"/> ۲- آمریکا <input type="checkbox"/> ۳- عربستان <input type="checkbox"/> ۴- اقیانوس هند <input type="checkbox"/></p> <p>ب- تابستان های گرم و خشک و زمستان های معتدل و مرطوب از ویژگیهای آب و هوای معتدل ..... است.</p> <p>۱- اقیانوسی <input type="checkbox"/> ۲- بری <input type="checkbox"/> ۳- مدیترانه ای <input type="checkbox"/> ۴- کوهپایه ای <input type="checkbox"/></p> <p>ج- دلیل روتق و رشد کرمانشاه موقعیت ..... بوده است.</p> <p>۱- مذهبی <input type="checkbox"/> ۲- ارتباطی <input type="checkbox"/> ۳- سیاسی <input type="checkbox"/> ۴- جغرافیایی <input type="checkbox"/></p>	<p>۱/۵</p>
۳	<p>جاهای خالی را با عبارتهای مناسب کامل کنید.</p> <p>الف- به مواد مذاب که بر روی سطح زمین جاری می شوند ..... گویند.</p> <p>ب- به محل ورود رود به دریا یا دریاچه ..... می گویند.</p> <p>ج- به جا به جا شدن هوا از یک نقطه به نقطه دیگر را ..... گویند.</p> <p>د- فاصله هر نقطه (به درجه) تا مدار استوا را ..... گویند.</p> <p>ه- سال ۳۶۶ روز را سال ..... می گویند.</p>	<p>۲/۵</p>
۴	<p>نقشه چیست؟</p>	<p>۱</p>
۵	<p>اگر بر روی نقشه ای به مقیاس ۱:۲۰۰۰۰۰ فاصله دو شهر ۲۵ سانتیمتر باشد مسافت حقیقی این دو شهر را محاسبه نمایید.</p>	<p>۱</p>
۶	<p>مراحل فرسایش را به ترتیب بنویسید.</p>	<p>۱/۷۵</p>

امضاء

جمع نمره: به عدد ..... به حروف ..... نام و نام خانوادگی مصحح:

نمره شفاهی / عملی: نمره کتبی:

باسمه تعالی



سال تحصیلی: ۱۳۸۹-۱۳۸۸
تاریخ امتحان: ۱۲/۳/۸۹
ساعت امتحان: ۱۵ صبح به وقت تهران
مدت امتحان: ۶۰ دقیقه
شماره صفحه: ۱

سوال درس: جغرافیا
پایه: سوم
دوره: راهنمایی
رشته:

بمون پری شماره ۱

۱۵	میزان نفوذ پذیری آب در زمین به چه عواملی بستگی دارد.	۷
۱۷۵	قسمتهای مختلف یک سیلاب را نام ببرید.	۸
۱/۵	برای جلوگیری از خطر سیلاب چه اقداماتی ضروری است؟ (سه مورد)	۹
۱/۵	منظور از جریانات دریایی چیست؟ این جریانها به طرف چه مناطقی در حرکت هستند؟	۱۰
۱	تفاوت هوا را با آب و هوا بنویسید.	۱۱
۱	زیست بوم را تعریف نمایید.	۱۲
۱	دو مورد از عوامل جذب و دفع جمعیت را بنویسید.	۱۳
۱	منظور از مهاجرت روزانه را توضیح دهید.	۱۴
۱	روستا و شهر را در زمینه اشتغال با هم مقایسه کنید.	۱۵
۱	منظور از مدار چیست؟	۱۶
تنها یاد خدا آرامش بخش دلهاست		

سوال درس : جغرافیا طرح جامع  
 پایه : سوم  
 دوره : راهنمایی  
 رشته :



سال تحصیلی : ۸۸-۸۹  
 تاریخ امتحان : ۸۹/۳/۱۲  
 ساعت امتحان : ۱۰ صبح به افق تهران  
 مدت امتحان : ۷۰ دقیقه  
 صفحه شماره : ۲

نام و نام خانوادگی دانش آموز / داوطلب آزاد : ..... کشور : ..... شهر : .....

ردیف	سوال	بارم
۱۳	به حالت گذرا و محلی جو در یک جای معین آب و هوا گفته می شود. ص ( ) غ ( )	۱
۱۴	انسان چگونه زیست بوم ها را مورد تخریب قرار می دهد؟	۱
۱۵	به چه نوع روستایی روستای متمرکز می گویند؟	۱
۱۶	دره های جوان را با دره های پیر مقایسه کنید.	۱
۱۷	هر یک از انواع مهاجرت ها را در یک سطر تعریف کنید. اختیاری دائمی	۱
۱۸	عوامل مؤثر در آب و هوای مناطق مختلف جهان کدامند؟ (چهار عامل)	۱
۱۹	میزان نفوذ پذیری آب در زمین به چه عواملی بستگی دارد؟	۰/۵
۲۰	زمین لرزه ها در سطح زمین چه تغییراتی ایجاد می کنند؟ نام ببرید. (۲ مورد)	۱
۲۱	اصطلاحات زیر را تعریف کنید. الف- حوضه رود ب- خط تقسیم آب	۱

نمره کتبی : نمره شفاهی / عملی : جمع نمره : به عدد : ..... به حروف : ..... نام و نام خانوادگی مصحح : ..... امضاء



وزارت معارف و اوقاف و صنایع مستظرفه  
جمهوری اسلامی ایران

سال تحصیلی : ۸۹-۸۸

تاریخ امتحان : ۸۹/۳/۱۲

ساعت امتحان : ۱۰ صبح به افق تهران

مدت امتحان : ۷۰ دقیقه


صفحه شماره : ۱

نام و نام خانوادگی دانش آموز / داوطلب آزاد : ..... کشور : ..... شهر : .....

ردیف	سوال	بارم
<b>الف- خلاصه اول راهنمایی</b>		
۱	صنایع مهم ناحیه خزری از نظر تامین مواد اولیه به چه عواملی وابسته است؟ الف- جنگل و کشاورزی <input type="checkbox"/> ب- کوه و دریا <input type="checkbox"/> ج- سنگ معدنی و آب <input type="checkbox"/> د- جنگل و راه <input type="checkbox"/>	۱
۲	به هوای گرمی که رطوبت آن زیاد باشد ..... می گویند.	۱
۳	شهر کرد، همدان ، بیجار هر سه از شهرهای بلند ایران می باشند. ( ص ) ( غ )	۱
۴	اصطلاحات زیر را تعریف کنید (هر مورد ۰/۵ نمره) الف- خانه باغ ب- کشت دیمی	۱
۵	چرا وسعت دریاچه ها و تالاب ها در ناحیه ی بیابانی و نیمه بیابانی در طول سال یکسان نیست ؟	۱
<b>ب- خلاصه دوم راهنمایی</b>		
۶	کشورهای پر جمعیت جهان کدامند؟ الف- ژاپن و چین <input type="checkbox"/> ب- چین و هند <input type="checkbox"/> ج- هند و ژاپن <input type="checkbox"/> د- چین و تایوان <input type="checkbox"/>	۱
۷	در اطراف دره نیل محصول مهم ..... بدست می آید.	۱
۸	اروپا در منطقه معتدل قرار دارد ( ص ) ( غ )	۱
۹	دربارہ هر یک از کلمه های زیر توضیح دهید (هر مورد ۰/۵ نمره) الف- دلتا ب- آیس برگ	۱
۱۰	مسلمانان اروپا بیشتر در کدام نواحی زندگی می کنند؟	۱
<b>ج- خلاصه سوم راهنمایی</b>		
۱۱	عامل اصلی پیدایش کوههای شرق آفریقا چیست؟	۱
۱۲	به پستی و بلندی سطح زمین ..... می گویند.	۰/۵
نمره کتبی : نمره شفاهی / عملی : جمع نمره : به عدد : ..... به حروف : ..... نام و نام خانوادگی مصحح : ..... امضاء		

سوال درس جغرافیا
پایه سوم
دوره بهارنمایی
رشته:

باسمه تعالی



سال تحصیلی: ۱۳۸۶-۱۳۸۸
تاریخ امتحان: ۱۳/۳/۸۹
ساعت امتحان: ۱۰ صبح به وقت تهران
مدت امتحان: ۶۰ دقیقه
شماره صفحه: ۱

نمون بری شماره ۱

نام و نام خانوادگی دانش آموز:

کشور:

شهر:

ردیف	سوال	بارم
۱	گزینه های صحیح و غلط را مشخص نمایید. الف- گسل عامل ایجاد ناهمواریهای شرق آفریقا است ب- به بالا آمدن آب اقیانوس و دریا جز می گویند. ج- روستاهای متمرکز در شمال ایران مشاهده می شود. د- در ایران مردم به طرف جنوب غربی نماز می خوانند. ه- علت اصلی گرم یا سرد شدن زمین زاویه خورشید است. و- پیدایش فصل ها از آثار حرکت انتقالی زمین است.	۳
۲	صحیح ترین گزینه را مشخص نمایید. الف- رشته کوه زاگرس نتیجه ی برخورد صفحه ی ..... با ایران است. ۱- آسیا <input type="checkbox"/> ۲- آمریکا <input type="checkbox"/> ۳- عربستان <input type="checkbox"/> ۴- اقیانوس هند <input type="checkbox"/> ب- تابستان های گرم و خشک و زمستان های معتدل و مرطوب از ویژگیهای آب و هوای معتدل ..... است. ۱- اقیانوسی <input type="checkbox"/> ۲- بری <input type="checkbox"/> ۳- مدیترانه ای <input type="checkbox"/> ۴- کوهپایه ای <input type="checkbox"/> ج- دلیل رونق و رشد کرمانشاه موقعیت ..... بوده است. ۱- مذهبی <input type="checkbox"/> ۲- ارتباطی <input type="checkbox"/> ۳- سیاسی <input type="checkbox"/> ۴- جغرافیایی <input type="checkbox"/>	۱/۵
۳	جاهای خالی را با عبارتهای مناسب کامل کنید. الف- به مواد مذاب که بر روی سطح زمین جاری می شوند ..... گویند. ب- به محل ورود رود به دریا یا دریاچه ..... می گویند. ج- به جا به جا شدن هوا از یک نقطه به نقطه دیگر را ..... گویند. د- فاصله هر نقطه (به درجه) تا مدار استوا را ..... گویند. ه- سال ۳۶۶ روز را سال ..... می گویند.	۲/۵
۴	نقشه چیست؟	۱
۵	اگر بر روی نقشه ای به مقیاس ۱:۲۰۰۰۰۰ فاصله دو شهر ۲۵ سانتیمتر باشد مسافت حقیقی این دو شهر را محاسبه نمایید.	۱
۶	مراحل فرسایش را به ترتیب بنویسید.	۱/۵

امضاء

جمع نمره: به عدد..... به حروف..... نام و نام خانوادگی مصحح:

نمره کتبی: نمره شفاهی / عملی:

باسمه تعالی



سال تحصیلی: ۱۳۸۹-۱۳۸۸
تاریخ امتحان: ۱۲/۳/۸۹
ساعت امتحان: ۱۵ صبح به وقت تهران
مدت امتحان: ۶۰ دقیقه
شماره صفحه: ۱

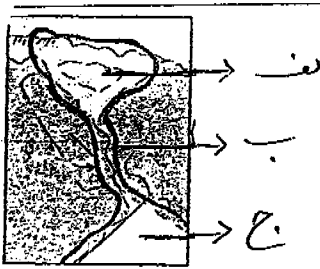
سوال درس: جغرافیا
پایه: سوم
دوره: پراهنمایی
رشته:

نمونه بزرگ شماره ۱

۷	میزان نفوذ پذیری آب در زمین به چه عواملی بستگی دارد.	۱/۵
۸	قسمتهای مختلف یک سیلاب را نام ببرید.	۱/۷۵
۹	برای جلوگیری از خطر سیلاب چه اقداماتی ضروری است؟ (سه مورد)	۱/۵
۱۰	منظور از جریانات دریایی چیست؟ این جریانات به طرف چه مناطقی در حرکت هستند؟	۱/۵
۱۱	تفاوت هوا را با آب و هوا بنویسید.	۱
۱۲	زیست بوم را تعریف نمایید.	۱
۱۳	دو مورد از عوامل جذب و دفع جمعیت را بنویسید.	۱
۱۴	منظور از مهاجرت روزانه را توضیح دهید.	۱
۱۵	روستا و شهر را در زمینه اشتغال با هم مقایسه کنید.	۱
۱۶	منظور از مدار چیست؟	۱
تنها یاد خدا آرامش بخش دلهاست		





نام و نام خانوادگی: دانش آموز/داوطلب اسلامی آزاد:		کشور:	شهر:
ردیف	سوالات	بارم	
الف	<p>عبارتهای صحیح یا غلط را با علامت (x) مشخص کنید.</p> <p>۱- امروزه برای تهیه نقشه های جغرافیایی از عکس های هوایی و ماهواره ای استفاده می شود. ص <input type="radio"/> غ <input type="radio"/></p> <p>۲- بالا آمدن آب اقیانوس و دریا را جزروپایین رفتن آن را مد می گویند. ص <input type="radio"/> غ <input type="radio"/></p> <p>۳- امروزه یکی از مهم ترین مشکلات شهرهای بزرگ مسئله آلودگی است. ص <input type="radio"/> غ <input type="radio"/></p>	۱/۵	
ب	<p>از بین گزینه های زیر گزینه صحیح را انتخاب کنید.</p> <p>۱- بیشتر جریان های دریایی بر اثر کدام عامل زیر بوجود می آیند. الف: وزش و حرکت باد <input type="radio"/> ب: اختلاف دما <input type="radio"/> ج: امواج و اختلاف دما <input type="radio"/> د: اختلاف فشار هوا <input type="radio"/></p> <p>۲- پیدایش و توسعه شهر (قم) تحت تاثیر کدام عامل زیر بوده است. الف: وجود آب <input type="radio"/> ب: نقش مذهب <input type="radio"/> ج: موقعیت ارتباطی <input type="radio"/> د: نقش سیاسی و اداری <input type="radio"/></p>	۱	
ج	<p>جا های خالی را با کلمات مناسب پر کنید.</p> <p>۱- به پستی و بلندی سطح زمین..... می گویند.</p> <p>۲- برای تعیین حجم کل آب یک رود..... آن را اندازه گیری می کنند.</p> <p>۳- منشاء پیدایش رشته کوه های زیر را بنویسید. الف: شیر کوه..... ب: کوه های شرق آفریقا.....</p>	۲	
د	<p>۱- مقیاس را تعرف کنید.</p> <p>۲- معروفترین مدل در آموزش جغرافیا را نام ببرید.</p> <p>۳- زمین لرزه ها در سطح زمین چه تغییراتی ایجاد می کنند؟ دو مورد آن را نام ببرید. الف- ب-</p>	۱/۵	
	<p>۴- مصب یا دهانه ی رود را تعریف کنید.</p>	۱/۵	
	<p>۵- در شکل زیر قسمت های یک سیلاب را نام گذاری کنید.</p>  <p>الف: ب: ج:</p>	۱/۵	
	<p>۶- دلتا چیست؟</p>	۱	

سوال درس: جغرافیا  
پایه: سوم  
دوره: راهنمایی  
رشته:

با ستمه تعالی



سال تحصیلی: ۸۸-۸۹  
تاریخ امتحان: ۱۳/۳/۸۹  
ساعت امتحان: ۱۲:۰۰ عصر به افق  
مدت امتحان: ۶۰ دقیقه  
شماره صفحه: ۲

نام و نام خانوادگی: دانش آموز/ داوطلب آزاد:		کشور:	شهر:						
ردیف	سوالات	بارم							
۲	۷- اصطلاحات زیر تعریف کنید؟ الف: هوا: ب: زیست بوم:								
۱	۸- دو عامل از عوامل موثر در آب و هوای مناطق مختلف جهان را بنویسید. الف: ب:								
۱	۹- نقش عامل جغرافیایی ارتفاع را در جذب و دفع جمعیت بنویسید.								
	<table border="1"> <thead> <tr> <th>عامل جغرافیا</th> <th>جذب جمعیت</th> <th>دفع جمعیت</th> </tr> </thead> <tbody> <tr> <td>ارتفاع</td> <td></td> <td></td> </tr> </tbody> </table>	عامل جغرافیا	جذب جمعیت	دفع جمعیت	ارتفاع				
عامل جغرافیا	جذب جمعیت	دفع جمعیت							
ارتفاع									
۱	۱۰- تفاوت مهاجرت دائمی و موقتی را بنویسید.								
۱	۱۱- دو عامل از عوامل موثر در پیدایش روستاها را نام ببرید. الف: ب:								
۱/۵	۱۲- با توجه به شکل نقاط (الف) و (ب) و (ج) نسبت به نقطه A در کدام جهت قرار گرفته اند. الف: نقطه ی (الف) در جهت..... ب: نقطه ی (ب) در جهت..... ج: نقطه ی (ج) در جهت.....								
۱	۱۳- نتایج حرکت انتقالی زمین را نام ببرید. الف: ب:								
۱	۱۴- علت اصلی گرم شدن زمین یا سرد شدن آن را در فصل های مختلف سال بنویسید.								
۱	۱۵- با توجه به شکل رویرو مختصات نقطه A را بنویسید. الف: طول جغرافیایی: ..... ب: عرض جغرافیایی: ..... ج: درجه ی: ..... د: درجه ی: .....								
۲۰	نمره کتبی: نمره شفاهی/ عملی: جمع نمره به عدد: ..... به حروف: ..... نام و نام خانوادگی مصحح: ..... امضاء								

باسمه تعالی

سال تحصیلی: ۱۳۸۹-۱۳۸۸
تاریخ امتحان: ۸۹، ۳، ۱۲
شماره صفحه: !

راهنمای تصحیح درس: جغرافیا
پایه: سوم
دوره: راهنمایی
رشته:



۱۰ صبح به این میزان

نمون برگ شماره ۲

قابل توجه طراحان: ۱- لطفا پاسخ سوالات بطور کامل قید گردد (با ذکر ریز بارم) ۲- از دادن آدرس بعنوان مثال (مراجعه به متن ص ۲۰ و یا... خودداری شود)

ردیف	راهنمای تصحیح	بارم
۱	سوالات صحیح و غلط (هر مورد ۰/۵) الف- صحیح    ب- غلط    ج- غلط    د- صحیح    ه- صحیح    و- صحیح	۳
۲	سوالات چهار گزینه ای (هر مورد ۰/۵) الف - گزینه ۳    ب - گزینه ۳    ج - گزینه ۲	۱/۵
۳	سوالات کامل کردنی (هر مورد ۰/۵) الف - روانه    ب - مصب یا دهانه رود    ج - باد    د - عرض جغرافیایی    ه - سال کیسه	۲/۵
۴	تصویری است (۰/۲۵) از پدیده های سطح زمین (۰/۲۵) که به نسبت مورد نیاز (۰/۲۵) کوچک شده است. (۰/۲۵)	۱
۵	(۰/۵) ۵۰    (۰/۲۵) $200000 \times 25 = 5000000$ (۰/۲۵) $25 : x = 1 : 2000000$	۱
۶	تخریب ناهمواری (۰/۲۵) حمل مواد (۰/۲۵) رسوب گذاری (۰/۲۵)	۰/۷۵
۷	جنس خاک (۰/۲۵) شیب زمین (۰/۲۵)	۰/۵
۸	آبگیر (۰/۲۵) آبراهه (۰/۲۵) مخروط افکنه (۰/۲۵)	۰/۷۵
۹	عدم احداث مناطق مسکونی در نواحی سیل گیر، احداث کانال و سد و آب بند و جمع آوری آب سیلاب برای مصارف ضروری، کاشتن بوته ها و درختکاری در محل آبگیر سیلاب، شخم زدن زمین در جهت عمود بر شیب جریان آب (سه مورد هر مورد ۰/۵)	۱/۵
۱۰	رود های که در اقیانوس ها جریان دارند را جریان دریایی گویند (۰/۵) جریان آب گرم از استوا به طرف قطب (۰/۵) جریان آب سرد از طرف قطب به طرف استوا (۰/۵)	۱/۵
۱۱	به حالت گذرا و محلی جو در یک منطقه هوا می گویند (۰/۵) اما به شرایط غالب وضعیت جو در در طول چند سال در یک منطقه را آب و هوا گویند. (۰/۵)	۱
۱۲	به مجموعه پوشش گیاهی (۰/۲۵) و زندگی جانوری خاص (۰/۲۵) در یک منطقه ی وسیع (۰/۲۵) که با مناطق دیگر متفاوت باشد. (۰/۲۵)	۱
۱۳	عوامل جذب: سرزمین هموار، آب و هوای معتدل، خاک غنی، آب کافی، معادن با ارزش، بنادر عوامل دفع: کوه های بلند، آب و هوای بسیار سرد یا بسیار گرم، خاک نامساعد، کمبود آب، کمبود منابع معدنی، دوری از سواحل (از هر دسته عوامل دو مورد هر مورد ۰/۲۵)	۱
۱۴	مردمی که در اطراف شهر های بزرگ زندگی می کنند (۰/۲۵) برای کار هر روز (۰/۲۵) بین محل کار و سکونت (۰/۲۵) جا به جا می شوند. به این مهاجرت، مهاجرت روزانه می گویند. (۰/۲۵)	۱
۱۵	مردم روستا به فعالیت کشاورزی می پردازند (۰/۲۵) و مردم شهر به کار در کارخانه ها (۰/۲۵) و ادارات مشغولند. (۰/۲۵) جمعیت روستا از شهر ها کمتر است. (۰/۲۵)	۱
۱۶	دایره های فرضی (۰/۲۵) که به موازات استوا (۰/۲۵) بر روی کره جغرافیایی رسم شده اند (۰/۲۵) و هر چه به سمت قطب ها می رویم کوچکتر می شوند. (۰/۲۵)	۱

نظر همکاران گرامی در تصحیح محترم است

سال تحصیلی: ۱۳۸۹-۱۳۸۸
تاریخ امتحان: ۸۹, ۳, ۱۲
شماره صفحه: !

راهنمای تصحیح درس: جغرافیا
پایه: سوم
دوره: راهنمایی
رشته:



۱۰ صبح به این تهران

نمون برگ شماره ۲

قابل توجه طراحان: ۱- لطفا پاسخ سوالات بطور کامل قید گردد (با ذکر ریز بارم) ۲- از دادن آدرس بعنوان مثال (مراجعه به متن ص ۲۰ و یا... خودداری شود)

بارم	راهنمای تصحیح	ردیف
۳	سؤالات صحیح و غلط (هر مورد /۵) الف- صحیح    ب- غلط    ج- غلط    د- صحیح    ه- صحیح    و- صحیح	۱
۱/۵	سؤالات چهار گزینه ای (هر مورد /۵) الف - گزینه ۳    ب - گزینه ۳    ج - گزینه ۲	۲
۲/۵	سؤالات کامل کردنی (هر مورد /۵) الف - روانه    ب - مصب یا دهانه رود    ج - باد    د - عرض جغرافیایی    ه - سال کیسه	۳
۱	تصویری است (۲/۵) از پدیده های سطح زمین (۲/۵) که به نسبت مورد نیاز (۲/۵) کوچک شده است. (۲/۵)	۴
۱	(/۵) ۵۰    (۲/۵) $200000 \times 25 = 5000000$ (۲/۵) $1 : 2000000 = 25 : x$	۵
۱/۷۵	تخریب ناهمواری (۲/۲۵) حمل مواد (۲/۲۵) رسوب گذاری (۲/۲۵)	۶
۱/۵	جنس خاک (۲/۲۵) شیب زمین (۲/۲۵)	۷
۱/۷۵	آبگیر (۲/۲۵) آبراهه (۲/۲۵) مخروط افکنه (۲/۲۵)	۸
۱/۵	عدم احداث مناطق مسکونی در نواحی سیل گیر، احداث کانال و سد و آب بند و جمع آوری آب سیلاب برای مصارف ضروری، کاشتن بوته ها و درختکاری در محل آبگیر سیلاب، شخم زدن زمین در جهت عمود بر شیب جریان آب (سه مورد هر مورد /۵)	۹
۱/۵	رود های که در اقیانوس ها جریان دارند را جریان دریایی گویند (۱/۵) جریان آب گرم از استوا به طرف قطب (۱/۵) جریان آب سرد از طرف قطب به طرف استوا (۱/۵)	۱۰
۱	به حالت گذرا و محلی جو در یک منطقه هوا می گویند (۱/۵) اما به شرایط غالب وضعیت جو در در طول چند سال در یک منطقه را آب و هوا گویند. (۱/۵)	۱۱
۱	به مجموعه پوشش گیاهی (۲/۲۵) و زندگی جانوری خاص (۲/۲۵) در یک منطقه ی وسیع (۲/۲۵) که با مناطق دیگر متفاوت باشد. (۲/۲۵)	۱۲
۱	عوامل جذب: سرزمین هموار، آب و هوای معتدل، خاک غنی، آب کافی، معادن با ارزش، بنادر عوامل دفع: کوه های بلند، آب و هوای بسیار سرد یا بسیار گرم، خاک نامساعد، کمبود آب، کمبود منابع معدنی، دوری از سواحل (از هر دسته عوامل دو مورد هر مورد /۲۵)	۱۳
۱	مردمی که در اطراف شهر های بزرگ زندگی می کنند (۲/۲۵) برای کار هر روز (۲/۲۵) بین محل کار و سکونت (۲/۲۵) جا به جا می شوند. به این مهاجرت، مهاجرت روزانه می گویند. (۲/۲۵)	۱۴
۱	مردم روستا به فعالیت کشاورزی می پردازند (۲/۲۵) و مردم شهر به کار در کارخانه ها (۲/۲۵) و ادارات مشغولند. (۲/۲۵) جمعیت روستا از شهر ها کمتر است. (۲/۲۵)	۱۵
۱	دایره های فرضی (۲/۲۵) که به موازات استوا (۲/۲۵) بر روی کره جغرافیایی رسم شده اند (۲/۲۵) و هر چه به سمت قطب ها می رویم کوچکتر می شوند. (۲/۲۵)	۱۶

نظر همکاران گرامی در تصحیح محترم است

باسمه تعالی



سال تحصیلی: ۱۳۸۹-۱۳۸۸
تاریخ امتحان: ۱۲، ۱۳، ۸۹
ساعت امتحان: ۱۰ صبح به وقت تهران
مدت امتحان: ۶۰ دقیقه
شماره صفحه: ۱

سوال درس: جغرافیا
پایه: سوم
دوره: راهنمایی
رشته:

نمون بری شماره ۱

شهر:

کشور:

نام و نام خانوادگی دانش آموز:

ردیف	سوال	بارم
۱	گزینه های صحیح و غلط را مشخص نمایید. الف- گسل عامل ایجاد ناهمواریهای شرق آفریقا است ب- به بالا آمدن آب اقیانوس و دریا جزر می گویند. ج- روستاهای متمرکز در شمال ایران مشاهده می شود. د- در ایران مردم به طرف جنوب غربی نماز می خوانند. ه- علت اصلی گرم یا سرد شدن زمین زاویه خورشید است. و- پیدایش فصل ها از آثار حرکت انتقالی زمین است.	۳
۲	صحیح ترین گزینه را مشخص نمایید. الف- رشته کوه زاگرس نتیجه ی برخورد صفحه ی ..... با ایران است. ۱- آسیا <input type="checkbox"/> ۲- آمریکا <input type="checkbox"/> ۳- عربستان <input type="checkbox"/> ۴- اقیانوس هند <input type="checkbox"/> ب- تابستان های گرم و خشک و زمستان های معتدل و مرطوب از ویژگیهای آب و هوای معتدل ..... است. ۱- اقیانوسی <input type="checkbox"/> ۲- بری <input type="checkbox"/> ۳- مدیترانه ای <input type="checkbox"/> ۴- کوهپایه ای <input type="checkbox"/> ج- دلیل رونق و رشد کرمانشاه موقعیت ..... بوده است. ۱- مذهبی <input type="checkbox"/> ۲- ارتباطی <input type="checkbox"/> ۳- سیاسی <input type="checkbox"/> ۴- جغرافیایی <input type="checkbox"/>	۱/۵
۳	جاهای خالی را با عبارتهای مناسب کامل کنید. الف- به مواد مذاب که بر روی سطح زمین جاری می شوند ..... گویند. ب- به محل ورود رود به دریا یا دریاچه ..... می گویند. ج- به جا به جا شدن هوا از یک نقطه به نقطه دیگر را ..... گویند. د- فاصله هر نقطه (به درجه) تا مدار استوا را ..... گویند. ه- سال ۳۶۶ روز را سال ..... می گویند.	۲/۵
۴	نقشه چیست؟	۱
۵	اگر بر روی نقشه ای به مقیاس ۱:۲۰۰۰۰۰ فاصله دو شهر ۲۵ سانتیمتر باشد مسافت حقیقی این دو شهر را محاسبه نمایید.	۱
۶	مراحل فرسایش را به ترتیب بنویسید.	۱/۷۵

امضاء

جمع نمره: به عدد..... به حروف..... نام و نام خانوادگی مصحح:

نمره کتبی: نمره شفاهی / عملی:

باسمه تعالی



سال تحصیلی: ۱۳۸۹-۱۳۸۸
تاریخ امتحان: ۱۲/۳/۸۹
ساعت امتحان: ۱۵ صبح به وقت تهران
مدت امتحان: ۶۰ دقیقه
شماره صفحه: ۱

سوال درس: جغرافیا
پایه: سوم
دوره: پراهنمایی
رشته:

نمونه پری شماره ۱

۱۵	۷	میزان نفوذ پذیری آب در زمین به چه عواملی بستگی دارد.
۱۷۵	۸	قسمتهای مختلف یک سیلاب را نام ببرید.
۱/۵	۹	برای جلوگیری از خطر سیلاب چه اقداماتی ضروری است؟ (سه مورد)
۱/۵	۱۰	منظور از جریانات دریایی چیست؟ این جریاناتها به طرف چه مناطقی در حرکت هستند؟
۱	۱۱	تفاوت هوا را با آب و هوا بنویسید.
۱	۱۲	زیست بوم را تعریف نمایید.
۱	۱۳	دو مورد از عوامل جذب و دفع جمعیت را بنویسید.
۱	۱۴	منظور از مهاجرت روزانه را توضیح دهید.
۱	۱۵	روستا و شهر را در زمینه اشتغال با هم مقایسه کنید.
۱	۱۶	منظور از مدار چیست؟
تنها یاد خدا آرامش بخش دلهاست		

نمره کتبی: ..... نمره شفاهی / عملی: ..... جمع نمره: به عدد..... به حروف..... نام و نام خانوادگی مصحح: ..... امضاء

سال تحصیلی: ۸۸-۸۹
تاریخ امتحان: ۸۹/۳/۲۲
ساعت امتحان: ۱۰ صبح به اربع ظهر
مدت امتحان: ۶۰ دقیقه
شماره‌ی صفحه: ۲



سوال درس: تعلیمات اجتماعی
پایه: سوم
دوره: راهنمایی
رشته:

نام و نام خانوادگی دانش آموز/ داوطلب ازاد: ..... کشور: ..... شهر: .....

ردیف	سوال	بارم
۶-	در زمان غیبت امام زمان (عج)، سرپرستی جامعه‌ی اسلامی بر عهده‌ی چه کسی است؟ الف) قوی‌ترین فرد جامعه      ب) پادشاه      ج) رئیس‌جمهور      د) ولی‌فقیه	
۴	در یک جامعه‌ی نظم و هماهنگی در چه شرایطی برقرار می‌شود؟ دو مورد بنویسید.	۱
۵	هنگار چیست؟	۰.۷۵
۶	وظیفه‌ی رئیس‌مجلس شورای اسلامی چیست؟	۰.۷۵
۷	از مهم‌ترین وظایف رئیس‌جمهور سه مورد بنویسید.	۱/۵
۸	قاضی برای رسیدگی به شکایت، چه کارهایی باید انجام دهد؟	۱/۵
۹	از وظایف رهبر در حکومت اسلامی سه مورد بنویسید.	۱/۵
۱۰	در کشور ما کدام اقلیت‌های مذهبی در مجلس شورای اسلامی نماینده دارند؟	۱
۱۱	تعداد نمایندگان هر شهر به چه چیزی بستگی دارد؟	۰.۵
۱۲	در کشور ما مردم از چه راه‌هایی می‌توانند بر کار قوه‌ی قضاییه نظارت کنند؟ سه مورد بنویسید.	۱/۵
۱۳	از ویژگی‌های اخلاق انتخاباتی خوب چهار مورد بنویسید.	۲
جمع	به یاری حق، پیروز باشید	۲۰

سال تحصیلی: ۸۸-۸۹
تاریخ امتحان: ۸۹/۳/۲۲
ساعت امتحان: ۱۰ صبح به وقت تهران
مدت امتحان: ۶۰ دقیقه
شماره‌ی صفحه: ۱



سوال درس: تعلیمات اجتماعی
پایه: سوم
دوره: راهنمایی
رشته:

نام و نام خانوادگی دانش آموز/دانش طلب آزاد: ..... کشور: ..... شهر: .....

ردیف	سوالات	نمره
۱	<p>صحیح یا غلط بودن عبارات های زیر را مشخص کنید!</p> <p>الف- امروزه موسسه های اجتماعی، بسیاری از نیاز های ما را بر طرف می کنند.</p> <p>ب- رفع نیاز های مردم هدف مشترک همه ی موسسه ها می باشد</p> <p>ج- مردم در جامعه ی بدون حکومت مشکلی ندارند.</p> <p>د- همه ی هنجار ها را حکومت به وجود می آورد.</p> <p>ه- حکومتی که در آن یک نفر بر همه مسلط باشد حکومتی خود کامه است و باعث گمراهی می شود.</p> <p>و- وظیفه ی اصلی مجلس دادن رای اعتماد به وزیران است.</p> <p>ز- رهبر از طریق عزل و نصب قوه ی قضاییه برای قوه نظارت می کند.</p> <p>ح- در جامعه موسسات مختلف از هم مستقل هستند و رابطه ای با هم ندارند.</p>	۲
۲	<p>جاهای خالی را با کلمات مناسب پر کنید!</p> <p>الف- در زمان های گذشته بیشتر نیاز های انسان در محیط ..... بر طرف می شد.</p> <p>ب- نظم و هماهنگی زمانی برقراری می شود که همه ی موسسات یک جامعه از ..... مرجع فرمان بگیرند.</p> <p>ج- حکومت روابط میان مردم و موسسات را به وسیله ی ..... تنظیم می کند.</p> <p>ه- نمایندگان مجلس شورای اسلامی برای مشورت بهتر، گروه های گوناگونی تشکیل داده اند که به آن ها ..... گفته می شود.</p> <p>د- تفاوت در حکومت ها به تفاوت در دین، ..... و ..... هر کشور بستگی دارد.</p>	۳
۳	<p>در سوالات چهار گزینه ای زیر صحیح ترین گزینه را مشخص کنید.</p> <p>۱- کدام یک از موسسات زیر به طور غیر مستقیم با مردم سر و کار دارند؟                      الف) بانک ها      ب) سازمان انرژی اتمی ایران      ج) مدارس      د) شهرداری ها</p> <p>۲- کدام یک از موارد زیر از وظایف همه ی حکومت ها محسوب نمی شود؟                      الف) وضع قانون      ب) تعیین مسولان برای اجرای قوانین                      ج) جلوگیری از رواج ارزش های ملی      د) جلوگیری از قانون شکنی</p> <p>۳- در کشور ما هر چند سال یک بار انتخابات مجلس شورای اسلامی برگزار می شود؟                      الف) هر ۴ سال      ب) هر ۵ سال      ج) هر ۳ سال      د) هر ۶ سال</p> <p>۴- در غیاب رئیس جمهور چه کسی مسولیت تشکیل جلسات هیات وزیران را بر عهده دارد؟                      الف) رئیس مجلس      ب) نماینده ی ویژه      ج) یکی از معاونین      د) معاون اول</p> <p>۵- پیشگیری از وقوع جرم و اصلاح مجرمان از وظایف کدام قوه است؟                      الف) قضاییه      ب) مقننه      ج) مجریه      د) مجلس خبرگان</p>	۳



سال تحصیلی: ۸۸-۸۹
تاریخ امتحان: ۸۹/۳/۱
ساعت امتحان: ۱۰ صبح به اوقات فراغت
مدت امتحان: ۶۰ دقیقه
شماره ی صفحه: ۲



سوال درس: تعلیمات اجتماعی
پایه: سوم
دوره: راهنمایی
رشته:

نام و نام خانوادگی دانش آموز/دوطلب آزاد:..... کشور:..... شهر:.....

ردیف	بارم	سوال
		۶- در زمان غیبت امام زمان (عج)، سرپرستی جامعه ی اسلامی بر عهده ی چه کسی است؟ الف) قوی ترین فرد جامعه (ب) پادشاه (ج) رئیس جمهور (د) ولی فقیه
۴	۱	در یک جامعه نظم و هماهنگی در چه شرایطی بر قرار می شود؟ دو مورد بنویسید.
۵	۱/۲۵	هنجار چیست؟
۶	۱/۲۵	وظیفه ی رئیس مجلس شورای اسلامی چیست؟
۷	۱/۵	از مهم ترین وظایف رئیس جمهور سه مورد بنویسید.
۸	۱/۵	قاضی برای رسیدگی به شکایت، چه کارهایی باید انجام دهد؟
۹	۱/۵	از وظایف رهبر در حکومت اسلامی سه مورد بنویسید.
۱۰	۱	در کشور ما کدام اقلیت های مذهبی در مجلس شورای اسلامی نمایندده دارند؟
۱۱	۱/۵	تعداد نمایندگان هر شهر به چه چیزی بستگی دارد؟
۱۲	۱/۵	در کشور ما مردم از چه راه هایی می توانند بر کار قوه ی قضاییه نظارت کنند؟ سه مورد بنویسید.
۱۳	۲	از ویژگی های اخلاق انتخاباتی خوب چهار مورد بنویسید.
جمع	۲۰	به یاری حق، پیروز باشید

سال تحصیلی: ۸۸-۸۹
تاریخ امتحان: ۸۹/۳/۲۲
ساعت امتحان: ۱۰ صبح به وقت تهران
مدت امتحان: ۶۰ دقیقه
شماره‌ی صفحه: ۱



سوال درس: تعلیمات اجتماعی
پایه: سوم
دوره: راهنمایی
رشته:

نام و نام خانوادگی دانش آموز/ داوطلب آزاد: ..... کشور: ..... شهر: .....

ردیف	سوالات	نمره
۱	<p>صحیح یا غلط بودن عبارات های زیر را مشخص کنید!</p> <p>الف- امروزه موسسه های اجتماعی، بسیاری از نیاز های ما را برطرف می کنند.</p> <p>ب- رفع نیاز های مردم هدف مشترک همه ی موسسه ها می باشد</p> <p>ج- مردم در جامعه ی بدون حکومت مشکلی ندارند.</p> <p>د- همه ی هنجار ها را حکومت به وجود می آورد.</p> <p>ه- حکومتی که در آن یک نفر بر همه مسلط باشد حکومتی خود کامه است و باعث گمراهی می شود.</p> <p>و- وظیفه ی اصلی مجلس دادن رای اعتماد به وزیران است.</p> <p>ز- رهبر از طریق عزل و نصب قوه ی قضاییه بر این قوه نظارت می کند.</p> <p>ح- در جامعه موسسات مختلف از هم مستقل هستند و رابطه ای با هم ندارند.</p>	<p>ص غ</p> <p>ص غ</p> <p>ص غ</p> <p>ص غ</p> <p>ص غ</p> <p>ص غ</p> <p>ص غ</p> <p>ص غ</p>
۲	<p>جاهای خالی را با کلمات مناسب پر کنید!</p> <p>الف- در زمان های گذشته بیشتر نیاز های انسان در محیط ..... برطرف می شد.</p> <p>ب- نظم و هماهنگی زمانی برقرار می شود که همه ی موسسات یک جامعه از ..... مرجع فرمان بگیرند.</p> <p>ج- حکومت روابط میان مردم و موسسات را به وسیله ی ..... تنظیم می کند.</p> <p>ه- نمایندگان مجلس شورای اسلامی برای مشورت بهتر، گروه های گوناگونی تشکیل داده اند که به آن ها ..... گفته می شود.</p> <p>د- تفاوت در حکومت ها به تفاوت در دین، ..... و ..... هر کشور بستگی دارد.</p>	<p>۳</p>
۳	<p>در سوالات چهار گزینه ای زیر صحیح ترین گزینه را مشخص کنید.</p> <p>۱- کدام یک از موسسات زیر به طور غیر مستقیم با مردم سروکار دارند؟                      الف) بانک ها      ب) سازمان انرژی اتمی ایران      ج) مدارس      د) شهرداری ها</p> <p>۲- کدام یک از موارد زیر از وظایف همه ی حکومت ها محسوب نمی شود؟                      الف) وضع قانون      ب) تعیین مسولان برای اجرای قوانین                      ج) جلوگیری از رواج ارزش های ملی      د) جلوگیری از قانون شکنی</p> <p>۳- در کشور ما هر چند سال یک بار انتخابات مجلس شورای اسلامی برگزار می شود؟                      الف) هر ۴ سال      ب) هر ۵ سال      ج) هر ۳ سال      د) هر ۶ سال</p> <p>۴- در غیاب رئیس جمهور چه کسی مسولیت تشکیل جلسات هیات وزیران را بر عهده دارد؟                      الف) رئیس مجلس      ب) نماینده ی ویژه      ج) یکی از معاونین      د) معاون اول</p> <p>۵- پیشگیری از وقوع جرم و اصلاح مجرمان از وظایف کدام قوه است؟                      الف) قضاییه      ب) مقننه      ج) مجریه      د) مجلس خبرگان</p>	<p>۳</p>



سوال درس: اجتماعی طرح جامع
پایه: سوم
دوره: راهنمایی
رشته:

قابل توجه طراحان: ۱- لطفاً پاسخ سوالات بطور کامل قید گردد. (با ذکر ریز بارم) ۲- از دامن آدرس بعنوان مثال (مراجعه به متن ص ۲۰ و یا ... کتاب خودداری شود).

ردیف	الف - کلاس اول راهنمایی	بارم
۱	د	۱
۲	غ	۱
۳	مذهبی	۱
۴	پدر جای را آماده می کند - برادر نان می خورد - خواهر سفره ی صبحانه را پهن می کند - مادر نیز وسایل صبحانه را در سفر می چیند (۲ مورد)	۱
۵	برای تحصیل و رفتن به دانشگاه راهی شهرهای دیگر می شوند - بیماری - تفریح و گردش و ... (۲ مورد)	۱
ب- کلاس دوم راهنمایی		
۶	مستقیم - غیر مستقیم	۱
۷	راهنمایی و رانندگی	۱
۸	غ	۱
۹	رئیس قبیله - بزرگ خاندان - کد خدا- ریش سفید محل - گزمه - محتسب (۲ مورد)	۱
۱۰	شهرداری وظیفه دارد خیابان ها را آسفالت - پیاده روها را سنگ فرش - کاشت نهال و ایجاد فضای سبز در داخل شهر و اطراف شهر که از میزان آلودگی هوا بکاهند و بر زیبایی شهر بیفزایند- جمع آوری زباله ها و خاکروبه ها و .... از کنار خیابانها و ... (۲ مورد)	۱
ج- کلاس سوم راهنمایی		
۱۱	وکیل مدافع	۱
۱۲	ب	۱
۱۳	ص	۱
۱۴	الف قوه ی قضائیه - ب- مجلس شورای اسلامی	۱
۱۵	هیئت وزیران یا هیئت دولت گروهی است که از رئیس جمهور ، معاونان رئیس جمهور و وزیران تشکیل می شود آن ها در طول سال جلسات متعددی برگزار می کنند و در مورد مسائل مهم کشور و جهان به گفت و گو می پردازند.	۱
۱۶	قاضی در دادگاه دادخواست و مدارک شکایت کننده و کسی را که از او شکایت شده است مطالبه می کند و از آن ها می خواهد که از خود دفاع کنند.	۱
۱۷	آزاد می اندیشند - نظریات خود را ابراز می کنند- از دستورات مقام مافوق خود اطاعت می کنند - همگی مطیع و فرمانبردار ولی فقیه هستند - نسبت به یک دیگر احساس برادری و محبت دارند (۲ مورد)	۱
۱۸	دین - فرهنگ - تاریخ (۲ مورد)	۱
۱۹	آموزش در مدارس ، رسانه های گروهی و قوانین حکومتی (۲ مورد)	۱
۲۰	تعداد نمایندگان هر شهر به جمعیت آن شهر و روستا های اطراف آن بستگی دارد.	۱

نمره کتبی نمره شفاهی / عملی : جمع نمره : به عدد : ..... به حروف : ..... نام و نام خانوادگی مصحح : ..... امضاء

سال تحصیلی: ۸۸-۸۹
تاریخ امتحان: ۸۹/۳/۲۲
ساعت امتحان: ۱۰ صبح به وقت تهران
مدت امتحان: ۶۰ دقیقه
شماره‌ی صفحه: ۱



سوال درس: تعلیمات اجتماعی
پایه: سوم
دوره: راهنمایی
رشته:

نام و نام خانوادگی دانش آموز/ داوطلب آزاد: ..... کشور: ..... شهر: .....

ردیف	سوالات	نمره
۱	<p>صحیح یا غلط بودن عبارت های زیر را مشخص کنید!</p> <p>الف- امروزه موسسه های اجتماعی، بسیاری از نیاز های ما را برطرف می کنند.</p> <p>ب- رفع نیاز های مردم هدف مشترک همه ی موسسه ها می باشد.</p> <p>ج- مردم در جامعه ی بدون حکومت مشکلی ندارند.</p> <p>د- همه ی هنجار ها را حکومت به وجود می آورد.</p> <p>ه- حکومتی که در آن یک نفر بر همه مسلط باشد حکومتی خودکامه است و باعث گمراهی می شود.</p> <p>و- وظیفه ی اصلی مجلس دادن رای اعتماد به وزیران است.</p> <p>ز- رهبر از طریق عزل و نصب قوه ی قضاییه بر این قوه نظارت می کند.</p> <p>ح- در جامعه موسسات مختلف از هم مستقل هستند و رابطه ای با هم ندارند.</p>	۲
۲	<p>جاهای خالی را با کلمات مناسب پر کنید!</p> <p>الف- در زمان های گذشته بیشتر نیاز های انسان در محیط ..... برطرف می شد.</p> <p>ب- نظم و هماهنگی زمانی برقراری می شود که همه ی موسسات یک جامعه از ..... مرجع فرمان بگیرند.</p> <p>ج- حکومت روابط میان مردم و موسسات را به وسیله ی ..... تنظیم می کند.</p> <p>ه- نمایندگان مجلس شورای اسلامی برای مشورت بهتر، گروه های گوناگونی تشکیل داده اند که به آن ها ..... گفته می شود.</p> <p>د- تفاوت در حکومت ها به تفاوت در دین، ..... و ..... هر کشور بستگی دارد.</p>	۳
۳	<p>در سوالات چهار گزینه ای زیر صحیح ترین گزینه را مشخص کنید.</p> <p>۱- کدام یک از موسسات زیر به طور غیر مستقیم با مردم سر و کار دارند؟                      الف) بانک ها      ب) سازمان انرژی اتمی ایران      ج) مدارس      د) شهرداری ها</p> <p>۲- کدام یک از موارد زیر از وظایف همه ی حکومت ها محسوب نمی شود؟                      الف) وضع قانون      ب) تعیین مسولان برای اجرای قوانین                      ج) جلوگیری از رواج ارزش های ملی      د) جلوگیری از قانون شکنی</p> <p>۳- در کشور ما هر چند سال یک بار انتخابات مجلس شورای اسلامی برگزار می شود؟                      الف) هر ۴ سال      ب) هر ۵ سال      ج) هر ۳ سال      د) هر ۶ سال</p> <p>۴- در غیاب رئیس جمهور چه کسی مولیت تشکیل جلسات هیات وزیران را بر عهده دارد؟                      الف) رئیس مجلس      ب) نماینده ی ویژه      ج) یکی از معاونین      د) معاون اول</p> <p>۵- پیشگیری از وقوع جرم و اصلاح مجرمان از وظایف کدام قوه است؟                      الف) قضاییه      ب) مقننه      ج) مجریه      د) مجلس خبرگان</p>	۳

سال تحصیلی: ۸۸-۸۹

تاریخ امتحان: ۸۹/۳/۲۲

ساعت امتحان: ۱۰ صبح به وقت تهران

مدت امتحان: ۶۰ دقیقه

شماره ی صفحه: ۲



سوال درس: تعلیمات اجتماعی

پایه: سوم

دوره: راهنمایی

رشته:

نام و نام خانوادگی دانش آموز/ داوطلب آزاد: ..... کشور: ..... شهر: .....

ردیف	سوال	بارم
	۶- در زمان غیبت امام زمان (عج)، سرپرستی جامعه ی اسلامی بر عهده ی چه کسی است؟ الف) قوی ترین فرد جامعه      ب) پادشاه      ج) رئیس جمهور      د) ولی فقیه	
۴	در یک جامعه نظم و هماهنگی در چه شرایطی برقرار می شود؟ دو مورد بنویسید.	۱
۵	هنگار چیست؟	۱/۷۵
۶	وظیفه ی رئیس مجلس شورای اسلامی چیست؟	۱/۷۵
۷	از مهم ترین وظایف رئیس جمهور سه مورد بنویسید.	۱/۵
۸	قاضی برای رسیدگی به شکایت، چه کارهایی باید انجام دهد؟	۱/۵
۹	از وظایف رهبر در حکومت اسلامی سه مورد بنویسید.	۱/۵
۱۰	در کشور ما کدام اقلیت های مذهبی در مجلس شورای اسلامی نماینده دارند؟	۱
۱۱	تعداد نمایندگان هر شهر به چه چیزی بستگی دارد؟	۱/۵
۱۲	در کشور ما مردم از چه راه هایی می توانند بر کار قوه ی قضاییه نظارت کنند؟ سه مورد بنویسید.	۱/۵
۱۳	از ویژگی های اخلاق انتخاباتی خوب چهار مورد بنویسید.	۲
جمع	به یاری حق، پیروز باشید	۲۰

نمره کتبی نمره شفاهی/ عملی: جمع نمره به عدد ..... به حروف ..... نام و نام خانوادگی مصحح: ..... امضا

سوال دوس : **تعلات اجتماعی**  
 پایه : **سوم**  
 دوره : **راهبایی**  
 رشته :



سال تحصیلی : **۸۸-۸۹**  
 تاریخ امتحان : **۱۹/۳/۲۲**  
 ساعت امتحان : **۱۴ عصر**  
 مدت امتحان : **۷۰ دقیقه**  
 شماره صفحه : **۱**

نام و نام خانوادگی دانش آموز / داوطلب آزاد : ..... کشور : ..... شهر : .....

پارم	ردیف	سوال
۰/۵	۱-	<p>جملات صحیح را با علامت (ص) و جملات غلط را با علامت (غ) مشخص نمایید:</p> <p>a- نیاز جامعه به حکومت نیازی اساسی است . (.....)</p> <p>b- در میان موسسات بانکها بصورت غیر مستقیم بامردم سر و کار دارند . (.....)</p> <p>c- عفو یا تخفیف مجازات محکومان از وظایف رهبر جامعه ی اسلامی است . (.....)</p> <p>d- رییس قوه ی قضاییه از طرف رییس جمهور منصوب میشود . (.....)</p>
۰/۵	۲-	<p>جملات زیر را با کلمات مناسب کامل کنید :</p> <p>ع- همه ی موسسات یک هدف را دنبال می کنند و آن رفع نیازهای ..... است.</p> <p>ف- نوع دیگر هنجار که توسط حکومت بوجود میاید ..... نام دارد .</p> <p>ج- مهمترین رکن حکومت اسلامی ..... است .</p> <p>د- مردم ایران هر ..... یک بار برای انتخاب نمایندگان خود به پای صندوقهای رای میزنند .</p>
۰/۵	۳-	<p>گزینه های مناسب را انتخاب کنید و علامت بزنید :</p> <p>کدامیک از موسسات وسازمانهای زیر بطور غیر مستقیم با مردم سرو کار دارد ؟</p> <p>الف ( صدا و سیما <input type="checkbox"/> ) آموزش و پرورش <input type="checkbox"/> (ج) سازمان مدیریت و برنامه ریزی <input type="checkbox"/> (د) تربیت بدنی <input type="checkbox"/></p>
۰/۵	۴-	<p>اعضای مجلس خبرگان بوسیله ی چه کسانی انتخاب می شوند ؟</p> <p>الف ( رهبر <input type="checkbox"/> ) مجلس <input type="checkbox"/> (ب) مجلس <input type="checkbox"/> (ج) رییس جمهور <input type="checkbox"/> (د) مردم <input type="checkbox"/></p>
۰/۵	۵-	<p>فرماندهی نیروهای مسلح بر عهده ی چه کسی است؟</p> <p>الف (رییس جمهور <input type="checkbox"/> ) رهبر <input type="checkbox"/> (ب) رهبر <input type="checkbox"/> (ج) فرمانده سپاه پاسداران <input type="checkbox"/> (د) مجلس <input type="checkbox"/></p>
۰/۵	۶-	<p>بعد از رهبر بالا ترین مقام رسمی کشور چه کسی است؟</p> <p>الف (رییس مجلس <input type="checkbox"/> ) رییس شورای نگهبان <input type="checkbox"/> (ب) رییس شورای نگهبان <input type="checkbox"/> (ج) رییس جمهور <input type="checkbox"/> (د) رییس قوه قضاییه <input type="checkbox"/></p>
۱	۷-	<p>به سوالات زیر پاسخ دهید:</p> <p>برای ایجاد نظم و هماهنگی در جامعه مردم و موسسات چه وظایفی بر عهده دارند؟ (۲ مورد)</p>
۱	۸-	<p>اگر در یک جامعه حکومت نباشد چه مشکلاتی بوجود می اید؟</p>
۱/۵	۹-	<p>هنجار چیست/تعریف کنید دو نمونه از هنجار اجتماعی را بنویسید .</p>
۱	۱۰-	<p>شورای نگهبان از چند نفر تشکیل شده است؟</p>

سوال درس: تعلیمات اجتماعی
پایه: سوم
دوره: راهنمایی
رشته: ۱



سال تحصیلی: ۸۸-۸۹
تاریخ امتحان: ۸۹، ۳، ۲۲
ساعت امتحان: ۱۴ عصر تا ۱۵:۳۰
مدت امتحان: ۷۰ دقیقه
شماره صفحه: ۲

نام و نام خانوادگی دانش آموز / داوطلب آزاد: ..... کشور: ..... شهر: .....

۲	۱۱- چهار مورد از وظایف و اختیارات مجلس را بطور خلاصه بنویسید:
۱	۱۲- دو مورد از وظایف رئیس جمهور را نام ببرید:
۱	۱۳- قاضی چه خصوصیتی باید داشته باشد؟
۱	۱۴- مفهوم ولایت چیست؟
۱/۵	۱۵- سه سازمان را نام ببرید که مستقیماً زیر نظر رئیس جمهور اداره می شود.
۱	۱۶- نام چهار اقلیت مذهبی که در ایران حق داشتن نماینده در مجلس را دارند بنویسید.
۱	۱۷- یک نامزد انتخاباتی که دارای اخلاق انتخاباتی مناسبی است چه صفاتی دارد؟ (۲ مورد)
۱	۱۸- مردم از چه طریق بر کار وزیران نظارت می کنند؟

سال تحصیلی: ۸۸-۸۹
تاریخ امتحان: ۸۹/۳/۲۲
ساعت امتحان: ۱۰ صبح به لائن تهران
مدت امتحان: ۶۰ دقیقه
شماره‌ی صفحه: ۱



سوال درس: تعلیمات اجتماعی
پایه: سوم
دوره: راهنمایی
رشته:

نام و نام خانوادگی دانش آموز/دانش طلب آزاد: ..... کشور: ..... شهر: .....

ردیف	سوالات	نمره
۱	<p>صحیح یا غلط بودن عبارت های زیر را مشخص کنید!</p> <p>الف- امروزه موسسه های اجتماعی، بسیاری از نیاز های ما را برطرف می کنند.</p> <p>ب- رفع نیاز های مردم هدف مشترک همه ی مؤسسه ها می باشد</p> <p>ج- مردم در جامعه ی بدون حکومت مشکلی ندارند.</p> <p>د- همه ی هنجار ها را حکومت به وجود می آورد.</p> <p>ه- حکومتی که در آن یک نفر همه مسلط باشد حکومتی خودکامه است و باعث گمراهی می شود.</p> <p>و- وظیفه ی اصلی مجلس دادن رای اعتماد به وزیران است.</p> <p>ز- رهبر از طریق عزل و نصب قوه ی قضا یه بر این قوه نظارت می کند.</p> <p>ح- در جامعه موسسات مختلف از هم مستقل هستند و رابطه ای با هم ندارند.</p>	۲
۲	<p>جاهای خالی را با کلمات مناسب پر کنید!</p> <p>الف- در زمان های گذشته بیشتر نیاز های انسان در محیط ..... برطرف می شد.</p> <p>ب- نظم و هماهنگی زمانی برقراری شود که همه ی موسسات یک جامعه از ..... مرجع فرمان بگیرند.</p> <p>ج- حکومت روابط میان مردم و موسسات را به وسیله ی ..... تنظیم می کند.</p> <p>ه- نمایندگان مجلس شورای اسلامی برای مشورت بهتر، گروه های گوناگونی تشکیل داده اند که به آن ها ..... گفته می شود.</p> <p>د- تفاوت در حکومت ها به تفاوت در دین، ..... و ..... هر کشور بستگی دارد.</p>	۳
۳	<p>در سوالات چهار گزینه ای زیر صحیح ترین گزینه را مشخص کنید.</p> <p>۱- کدام یک از موسسات زیر به طور غیر مستقیم با مردم سر و کار دارند؟</p> <p>الف) بانک ها      ب) سازمان انرژی اتمی ایران      ج) مدارس      د) شهرداری ها</p> <p>۲- کدام یک از موارد زیر از وظایف همه ی حکومت ها محسوب نمی شود؟</p> <p>الف) وضع قانون      ب) تعیین مسولان برای اجرای قوانین</p> <p>ج) جلوگیری از رواج ارزش های ملی      د) جلوگیری از قانون شکنی</p> <p>۳- در کشور ما هر چند سال یکبار انتخابات مجلس شورای اسلامی برگزار می شود؟</p> <p>الف) هر ۴ سال      ب) هر ۵ سال      ج) هر ۳ سال      د) هر ۶ سال</p> <p>۴- در غیاب رئیس جمهور چه کسی مسولیت تشکیل جلسات هیات وزیران را بر عهده دارد؟</p> <p>الف) رئیس مجلس      ب) نماینده ی ویژه      ج) یکی از معاونین      د) معاون اول</p> <p>۵- پیشگیری از وقوع جرم و اصلاح مجرمان از وظایف کدام قوه است؟</p> <p>الف) قضاییه      ب) مقننه      ج) مجریه      د) مجلس خبرگان</p>	۳



سال تحصیلی: ۸۸-۸۹
تاریخ امتحان: ۸۹/۳/۲۲
ساعت امتحان: ۱۰ صبح به وقت تهران
مدت امتحان: ۶۰ دقیقه
شماره‌ی صفحه: ۲



سوال درس: تعلیمات اجتماعی
پایه: سوم
دوره: راهنمایی
رشته:

نام و نام خانوادگی دانش آموز/داوطلب ازاد:..... کشور:..... شهر:.....

ردیف	سوال	بارم	
۶-	در زمان غیبت امام زمان (عج)، سرپرستی جامعه ی اسلامی بر عهده ی چه کسی است؟		
الف) قوی ترین فرد جامعه	ب) پادشاه	ج) رئیس جمهور	د) ولی فقیه
۴	در یک جامعه نظم و هماهنگی در چه شرایطی برقرار می شود؟ دو مورد بنویسید.	۱	
۵	هنجار چیست؟	۰.۷۵	
۶	وظیفه ی رئیس مجلس شورای اسلامی چیست؟	۰.۷۵	
۷	از مهم ترین وظایف رئیس جمهور سه مورد بنویسید.	۱/۵	
۸	قاضی برای رسیدگی به شکایت، چه کارهایی باید انجام دهد؟	۱/۵	
۹	از وظایف رهبر در حکومت اسلامی سه مورد بنویسید.	۱/۵	
۱۰	در کشور ما کدام اقلیت های مذهبی در مجلس شورای اسلامی نماینده دارند؟	۱	
۱۱	تعداد نمایندگان هر شهر به چه چیزی بستگی دارد؟	۰.۵	
۱۲	در کشور ما مردم از چه راه هایی می توانند بر کار قوه ی قضاییه نظارت کنند؟ سه مورد بنویسید.	۱/۵	
۱۳	از ویژگی های اخلاق انتخاباتی خوب چهار مورد بنویسید.	۲	
جمع	به یاری حق، پیروز باشید	۲۰	



سال تحصیلی: ۸۸-۸۹  
 نوبت امتحانی: ۸۹، ۳، ۲۲

پایه: سوم  
 دوره: راهنمایی  
 رشته:

صبح باران بران

قابل توجه طراحان: ۱- لطفاً پاسخ سؤالات به طور کامل قید گردد. (با ذکر ریز بارم) ۲- از دادن آدرس به عنوان مثال (مراجعه به متن ص ۲۰ و یا ... کتاب خودداری شود)

ردیف	سؤال	بارم
۱	در تصحیح ادراک دروس تعلیمات اجتماعی معقوباً سؤالات غیر عینی نظر دبیر محترم تصحیح صاحب است جواب های درست عبارتند از: الف- ص ب- ص ج- غ د- غ ه- ص و- غ ز- ص ح- غ	۲
۲	الف) خانفاده ب- یک ج- قانقون د- فرهنگت - تاریخ ه- کمپسیون (هر جای خالی ۵٪ نمره)	۳
۳	گزینه های صحیح عبارتند از: ۱- ب ۲- ج ۳- الف ۴- د ۵- الف ۶- د ۷- الف ۸- ب (هر مورد ۲۵٪)	۳
۴	همه ی مؤسسات به طورها هند با یک دیگر کار کنند - مردم و مؤسسات عنوانین مقررات را رعایت کنند - هرکس به وظایف خود عمل کند . فقط دو مورد (هر مورد ۵٪)	۱
۵	به بنیادها و بنیادهای روز سره که به رفتار ما بیعت می دهند، هنجار می گویند. (۷۵٪ نمره)	۱/۷۵
۶	اداره ی جلسات مجلس ۷۵٪	۱/۷۵
۷	مراست قوه ی مجریه - اجرائی قانون اساسی - تعیین نماینده ی ویژه امضای توافق نامه های بین المللی - ذکر سه مورد کافی است. هر مورد ۵٪ نمره	۱/۷۵
۸	قاضی دادخواست و مدارک (۲۵٪) شکایت کننده (۲۵٪) و کسی را که از او شکایت شده است، (۲۵٪) مطالعه می کنند (۲۵٪) و از آن زمان خواهد که از خود دفاع کنند. (۲۵٪)	۱/۷۵
۹	۱- تعیین هیئت کل نظام جمهوری اسلامی - ۲- حل اختلاف و تنظیم روابط قوای سه گانه ۳- فرماندهی کل نیروهای مسلح - ۴- حل کردن مشکلاتی که از راه های عادی حل نمی شوند عفو یا تخفیف مجازات محکومان - ذکر سه مورد از موارد پنج گانه کافی است. هر مورد ۵٪ نمره	۱/۷۵
۱۰	اقلیت های ارمنی، آسوری، کلیسی و زرتشتی - هر مورد ۲۵٪	۱

سال تحصیلی: ۸۸-۸۹
تاریخ امتحان: ۸۹/۳/۵
ساعت امتحان: ۱۰:۰۰ صبح
مدت امتحان: ۴۰
شماره‌ی صفحه: ۱



سئوال درس: املا
پایه: سوم
دوره: رامنمایی
رشته:

نام و نام خانوادگی دانش آموز/ داوطلب آزاد : کشور : شهر :

بارم	ردیف
	<p>رضا خان از جانب بیگانگان مأمور بود با اسلام و علمای اسلامی مبارزه کند و حوزه های علمیّه رانابود سازد اما خداوند چنان خواسته بود که سلسله ی پهلوی به دست طلبه ی جوانی که در آن سال ها در حوزه ی نو بنیاد قم درس می خواند منقرض گردد .</p> <p>در گذشته های دور انسان از چگونگی وقوع این حوادث اطلاعی نداشت اما علم پیوسته راه های تازه ای برای حل مشکلات پیش پای انسان نهاده است .</p> <p>مردم اصفهان به هوش و درایت و موقع شناسی و ذکاوت مشهورند شهر اصفهان در طی تاریخ پرفراز و نشیب ایران دست خوش حوادث گوناگون شده گاهی پایتخت بوده و گاهی مورد هجوم اقوام وحشی و غارتگر قرار گرفته است . این حوادث تلخ و شیرین که بر نسل های مردم اصفهان گذشته ، آنان را برای زندگی هوشمندانه ای آماده ساخته است .</p> <p>مرحوم حاج آخوند در همه ی عمرش با کسی دعوا نکرد ، کسی را دشنام نداد ، به روی کسی فریاد نکشید ، هرگز از کسی غیبت نکرد هرگز دروغ نگفت هرگز خلف وعده نکرد کم ترین تجاوزی به حقّ احدی نکرد و آزاری به کسی نرساند .</p> <p>صورت زیبای ظاهر هیچ نیست ای برادر سیرت زیبا بیار</p> <p>انقلاب اسلامی انقلابی برای شناخت اسلام و حاکم ساختن ارزش های دینی است و اساس دین ، ایمان قلبی و تقوای درونی و پاکی نفس و طهارت دل است و درد جان گداز و خانمان سوز بشر امروز درمانی جز این ندارد .</p> <p>خواجه در ابتدا هولاکورا به تسخیر بغداد و بر انداختن اساس خلافت عبّاسی که جز بر پایه ی ظلم و بیداد نبود ترغیب کرد سپس همه ی هم و کوشش خود را به تاسیس رصد خانه معطوف کرد .</p>

موفق باشید

سال تحصیلی: ۸۸-۸۹
تاریخ امتحان: ۸۹/۳/۵
ساعت امتحان: ۱۰ صبح
مدت امتحان: ۴۰
شماره ی صفحه: ۱



وزارت آموزش عالی و عالی  
جمهوری اسلامی ایران

سنون درس: املا
پایه: سوم
دوره: راهنمایی
رشته:

نام و نام خانوادگی دانش آموز/ داوطلب آزاد : کشور : شهر :

بارم	ردیف
	<p>رضا خان از جانب بیگانگان مأمور بود با اسلام و علمای اسلامی مبارزه کند و حوزه های علمیّه رانابود سازد اما خداوند چنان خواسته بود که سلسله ی پهلوی به دست طلبه ی جوانی که در آن سال ها در حوزه ی نو بنیاد قم درس می خواند منقرض گردد .</p> <p>در گذشته های دور انسان از چگونگی وقوع این حوادث اطلاعی نداشت اما علم پیوسته راه های تازه ای برای حل مشکلات پیش پای انسان نهاده است .</p> <p>مردم اصفهان به هوش و درایت و موقع شناسی و ذکاوت مشهورند شهر اصفهان در طی تاریخ پرفرازو نشیب ایران دست خوش حوادث گوناگون شده گاهی پایتخت بوده و گاهی مورد هجوم اقوام وحشی و غارتگر قرار گرفته است . این حوادث تلخ و شیرین که بر نسل های مردم اصفهان گذشته ، آنان را برای زندگی هوشمندانه ای آماده ساخته است .</p> <p>مرحوم حاج آخوند در همه ی عمرش با کسی دعوا نکرد ، کسی رادشنام نداد ، به روی کسی فریاد نکشید ، هرگز از کسی غیبت نکرد هرگز دروغ نگفت هرگز خلف وعده نکرد کم ترین تجاوزی به حق احدی نکرد و آزاری به کسی نرساند .</p> <p>صورت زیبای ظاهر هیچ نیست ای برادر سیرت زیبا بیار</p> <p>انقلاب اسلامی انقلابی برای شناخت اسلام و حاکم ساختن ارزش های دینی است و اساس دین ، ایمان قلبی و تقوای درونی و پاکی نفس و طهارت دل است و درد جان گداز و خانمان سوز بشر امروز درمانی جز این ندارد .</p> <p>خواجه در ابتدا هولاکورا به تسخیر بغداد و بر انداختن اساس خلافت عباسی که جز بر پایه ی ظلم و بیداد نبود ترغیب کرد سپس همه ی هم و کوشش خود را به تاسیس رصد خانه معطوف کرد .</p>

موفق باشید

سال تحصیلی: ۸۸-۸۹
تاریخ امتحان: ۸۹/۲/۵
ساعت امتحان: ۱۰ صبح
مدت امتحان: ۴۰
شماره ی صفحه: ۱



وزارت آموزش عالی و عالی  
جمهوری اسلامی ایران  
Ministry of Education and Higher Education  
Islamic Republic of Iran

سؤال درس: املا
پایه: سوم
دوره: راهنمایی
رشته:

نام و نام خانوادگی دانش آموز/ داوطلب آزاد : ..... کشور : ..... شهر :

بارم		ردیف
	<p>رضا خان از جانب بیگانگان مأمور بود با اسلام و علمای اسلامی مبارزه کند و حوزه های علمیّه رانابود سازد اما خداوند چنان خواسته بود که سلسله ی پهلوی به دست طلبه ی جوانی که در آن سال ها در حوزه ی نو بنیاد قم درس می خواند منقرض گردد .</p> <p>در گذشته های دور انسان از چگونگی وقوع این حوادث اطلاعی نداشت اما علم پیوسته راه های تازه ای برای حل مشکلات پیش پای انسان نهاده است .</p> <p>مردم اصفهان به هوش و درایت و موقع شناسی و ذکاوت مشهورند شهر اصفهان در طی تاریخ پرفراز و نشیب ایران دست خوش حوادث گوناگون شده گاهی پایتخت بوده و گاهی مورد هجوم اقوام وحشی و غارتگر قرار گرفته است . این حوادث تلخ و شیرین که بر نسل های مردم اصفهان گذشته ، آنان را برای زندگی هوشمندانه ای آماده ساخته است .</p> <p>مرحوم حاج آخوند در همه ی عمرش با کسی دعوا نکرد ، کسی را دشنام نداد ، به روی کسی فریاد نکشید ، هرگز از کسی غیبت نکرد هرگز دروغ نگفت هرگز خلف وعده نکرد کمترین تجاوزی به حق احدی نکرد و آزاری به کسی نرساند .</p> <p>صورت زیبای ظاهر هیچ نیست ای برادر سیرت زیبا بیار</p> <p>انقلاب اسلامی انقلابی برای شناخت اسلام و حاکم ساختن ارزش های دینی است و اساس دین ، ایمان قلبی و تقوای درونی و پاکي نفس و طهارت دل است و درد جان گداز و خانمان سوز بشر امروز درمانی جز این ندارد .</p> <p>خواجه در ابتدا هولاکورا به تسخیر بغداد و بر انداختن اساس خلافت عباسی که جز بر پایه ی ظلم و بیداد نبود ترغیب کرد سپس همه ی هم و کوشش خود را به تاسیس رصد خانه معطوف کرد .</p>	

موفق باشید




نام و نام خانوادگی دانش آموز / داوطلب آزاد:

کشور:

شهر:

ردیف	سوال	بارم
۱	الف) نگارش (۸ نمره) در نوشتن نامه به چه مواردی باید توجه کرد؟ (۲ مورد)	۰/۵
۲	کدام یک از موارد زیر صحیح و کدام یک غلط است؟ الف) محل نمبر بالای نامه و در گوشه ی سمت راست است. ( ) ب) استفاده از رنگ های تند رنگ قرمز نامه را مؤدبانه ترمی کند. ( )	۰/۵
۳	در نامه های رسمی و اداری ..... ضروری است.	۰/۵
۴	در خلاصه نویسی باید مطالب ..... متن را ذکر کنیم و از نوشتن ..... چشم بپوشیم.	۰/۵
۵	ثبت واقعیات در گزارش نویسی ..... الف) لازم نیست. ب) ضروری است. ج) مهم نیست.	۰/۵
۶	نامه ای به مسؤول کتاب خانه ای بنویسید و از او درخواست کنید که شماره ای عضویت آن کتاب خانه در آورد.	۱/۵
۷	گزارشی از چگونگی برگزاری مراسم صبحگاه در مدرسه ی خود را در سه سطر بنویسید.	۱/۵
۸	یک روزنامه ی دنیایی شامل چه قسمت هایی است؟ (۴ مورد)	۱
۹	بیت مقابل را با نثر ساده و روان بازنویسی کنید. « نام نیکو گر بماند ز آدمی به کزو ماند سرای زرنگار »	۱
۱۰	برای اسم های زیر صفت مناسب بنویسید. ---چاه ..... راه.....	۰/۵
	ب) انشا (۱۲ نمره)	
۱۲	از سه موضوع زیر یکی را انتخاب کنید و درباره ی آن انشایی بنویسید ۱_ خلاصه ی یکی از درس های کتاب راکه تا کنون خوانده اید بنویسید. ۲_ گزارشی از یکی از مکان هایی که در طول سال تحصیلی بازدید کرده اید بنویسید. ۳_ یکی از زیبایی های طبیعی محل زندگی خود را توصیف کنید. مناسب و منطقی مطالب با هم قابل توجه: درک و فهم و پیروانیدن موضوع، ارتباط منطقی، نوآوری و ابتکار، رعایت نشانه گذاری و نکات دستوری، خوانایی و پاکیزگی در نوشتن انشا مهم است.	۱۲



سال تحصیلی: ۸۸-۸۹
تاریخ امتحان: ۸۹/۲/۵
ساعت امتحان: ۱۰ صبح
مدت امتحان: ۴۰
شماره ی صفحه: ۱

سئوال درس: املا
پایه: سوم
دوره: راهنمایی
رشته:

نام و نام خانوادگی دانش آموز / داوطلب: ..... کشور: ..... شهر: .....

بارم

ردیف

رضا خان از جانب بیگانگان مأمور بود با اسلام و علمای اسلامی مبارزه کند و حوزه های علمیّه را نابود سازد اما خداوند چنان خواسته بود که سلسله ی پهلوی به دست طلبه ی جوانی که در آن سال ها در حوزه ی نو بنیاد قم درس می خواند منقرض گردد.

در گذشته های دور انسان از چگونگی وقوع این حوادث اطلاعی نداشت اما علم پیوسته راه های تازه ای برای حل مشکلات پیش پای انسان نهاده است.

مردم اصفهان به هوش و ذرایت و موقع شناسی و ذکاوت مشهورند شهر اصفهان در طی تاریخ پرفراز و نشیب ایران دست خوش حوادث گوناگون شده گاهی پایتخت بوده و گاهی مورد هجوم اقوام وحشی و غارتگر قرار گرفته است. این حوادث تلخ و شیرین که بر نسل های مردم اصفهان گذشته، آنان را برای زندگی هوشمندانه ای آماده ساخته است.


مرحوم حاج آخوند در همه ی عمرش با کسی دعوا نکرد، کسی را دشنام نداد، به روی کسی فریاد نکشید، هرگز از کسی غیبت نکرد هرگز دروغ نگفت هرگز خلف وعده نکرد کم ترین تجاوزی به حق احدی نکرد و آزاری به کسی نرساند.

صورت زیبای ظاهر هیچ نیست ای برادر سیرت زیبا بیار

انقلاب اسلامی انقلابی برای شناخت اسلام و حاکم ساختن ارزش های دینی است و اساس دین، ایمان قلبی و تقوای درونی و پاکی نفس و طهارت دل است و درد جان گذاز و خانمان سوز بشر امروز درمانی جز این ندارد.

خواجه در ابتدا هولاکورا به تسخیر بغداد و بر انداختن اساس خلافت عباسی که جز بر پایه ی ظلم و بیداد نبود ترغیب کرد سپس همه ی هم و کوشش خود را به تاسیس رصد خانه معطوف کرد.

موفق باشید

سال تحصیلی: ۱۳۸۸/۸۹	یاسمه تعالی  اداره کل آموزشی و پژوهشی مدارس خارج از کشور	سوال درس: املا فارسی
تاریخ امتحان: ۸۹ / ۲ / ۵		پایه: سوم
ساعت امتحان: ۱۴ عصر به وقت تهران		دوره: راهنمایی
مدت امتحان: تقریری		رشته: عمومی
شماره صفحه: ۱		

### متن املائی تقریری:

بیشترین امید من به شما جوانان است شما دانش آموزان و دانشجویان و وظایف سنگینی بر دوش دارید. خودتان را بسازید دانشگاه ها را بسازید و محیط دانشگاه و مدارس را انقلابی و اسلامی کنید. اصفهان خرمی و سرسبزی خود را مدیون زاینده رود است. بر روی این رود که از ارتفاعات زردکوه سرچشمه می گیرد پل های متعددی ساخته اند که بعضی از آنها از نظر تاریخی بسیار اهمیت دارد. جرم ها و جنایات و اختلافات ملل و جنگ ها نتیجه ی خواهند گی است. نتیجه ی حرص و آز و طمع بیش از حد است. اگر بخواهیم همه ی تجملات را داشته باشیم روزگرمه سیاه خواهد شد. زیرا مقدار تجملات موجود محدود است و حرص و آز ما نا محدود. مشکل دنیای امروز ما این است که در آن سخن از آزادی بسیار است و از آزادی کمی. همه می خواهند موانع محیط زندگی بیرون را از پیش پای انسان بردارند تا او بتواند به هر جا که می خواهد برود، اما اندک اندک کسانی که می پرسند انسان به کجا باید برود و چه باید بکند. هنگامی که شمس وارد قونیه شد مولانا جلال الدین در چهارمدرسه ی شهر درس می داد مولانا شیفته ی این انسان بزرگ شد و در دیدارها و صحبت های طولانی آن چه را در افادات پدر و استاد و در اوراق کتاب نیافته بود در وجود شمس یافت. خطری که زبان فارسی را تهدید می کند ویرانی عماراتی است که معماران بزرگ این زبان برای ما به یادگار گذاشته اند بر ماست که ساختارهای نحوی زبان فارسی را سالم نگه داریم تا مبادا روزی فرارسد که فارسی زبانان آثار معماران بزرگ زبان فارسی را نفهمند.





سال تحصیلی: ۸۸-۸۹
تاریخ امتحان: ۸۹/۳/۱۶
ساعت امتحان: ۱۰ صبح
مدت امتحان: ۸۰ دقیقه
شماره صفحه: ۱

سوال درس: عربی
پایه: سوم
دوره: راهنمایی
رشته: -

نام و نام خانوادگی دانش آموز / داوطلب آزاد : ..... کشور : ..... شهر : .....

ردیف	سوال	نمره
۱	جمله های زیر را به فارسی روان ترجمه کنید الف) أَطْلُبُ مِنْكُمْ عَرْشَ مَلَكَةٍ سَبَأًا. ب) نَحْنُ مَا أَكَلْنَا طَعَامًا مِنْذُ مَدَّةٍ. ج) النَّاسُ مَشْغُولُونَ بِشِرَاءِ الْمَلَابِيسِ وَالْفَوَاكِهِ. د) «و النجوم مستخرات بأمره» ه) «إصبروا ، إن الله مع الصابرين»	۵
۲	جمله های زیر را به عربی ترجمه کنید. پیروزی به سوی مسلمانان بازگشت.	۰/۵
۳	واژه های مشخص شده را از عربی به فارسی و از فارسی به عربی ترجمه کنید. الف) هَذَا الرَّجُلُ حَدَاءٌ. ب) عِبَادَتِ بَيْتِ هَا كَيْفَرُ ش قَتْلِ اسْتِ.	۰/۵
۴	در جاهای خالی فعل مناسب بنویسید. «با حرکت گذاری» الف) هَمٌّ.....الْمَاءِ. «شَرِبَ» ب) هَنْ.....و ظَائِفُهُنَّ. «كَتَبَ»	۰/۵
۵	در جاهای خالی فعل مضارع مناسب بنویسید. (با حرکت گذاری) الف) انتم.....الله. «يَشْكُرُ» ب) انا لا.....الذرس و المدرسة. «يَتْرِكُ»	۰/۵
۶	در جای خالی ضمیر منفصل مناسب بنویسید. «..... يصبران على الجوع.»	۰/۲۵
۷	وزن کلمه «صبار» را بنویسید.	۰/۲۵



سال تحصیلی: ۸۸-۸۹
تاریخ امتحان: ۱۴، ۳، ۸۹ ز
ساعت امتحان: ۱۵ صبح به وقت تهران
مدت امتحان: ۸۰ دقیقه
شماره صفحه: ۲

نام و نام خانوادگی دانش آموز / داوطلب آزاد: ..... کشور: ..... شهر: .....

بارم	ردیف	سوال
۰/۲۵	۸	از حروف اصلی (ع ل م) کلمه ای را بر وزن «فعلیل» بنویسید.
۰/۲۵	۹	جمله زیر را سوالی کنید. «انتم تعبدون الله»
۰/۲۵	۱۰	جمله زیر را منفی کنید. «هویشعُرُ بالصَّغْفِ»
۰/۵	۱۱	فعل جمله های زیر را به (امر) تبدیل و جمله هارا باز نویسی کنید. الف) تَغْسِلُونَ وجوهكم لِلْوُضوءِ . ب) تَشْرَبْنَ من هذا الماءِ.
۰/۷۵	۱۲	فعل جمله های زیر را به (نهی) تبدیل و جمله هارا باز نویسی کنید. الف) تَقْنَطُونَ مِن رَحْمَةِ اللهِ. ب) تَرْكَبَانِ السِّيَّارَةَ. ج) تَجْلِسِينَ عَلَى الكُرْسِيِّ.
۲/۵	۱۳	در جمله های زیر نقش های خواسته شده را معلوم کنید.

جمله	نقش خواسته شده	پاسخ
النظافة من الايمان .	مبتدا	
هذه رحلة عجيبة.	خبر	
الله يَغْفِرُ الذنوبَ.	مفعول	
يَزْرَعُ العاقِلُ الخَيْرَ	فاعل	
رضي الله عن المومنين	جار ومجرور	



سوال درس: عبری
پایه: سوم
دوره: راهنمایی
رشته: -

سال: ۸۸-۸۹
تاریخ امتحان: ۱۴، ۳، ۸۹
ساعت امتحان: ۱۵ صبح
مدت امتحان: ۸۵ دقیقه
شماره صفحه: ۳

نام و نام خانوادگی دانش آموز / داوطلب آزاد: ..... کشور: ..... شهر: .....

ردیف	سوال	پاسخ
۱۴	غلط های مشخص شده را اصلاح کنید. الف) هَذِهِ التِّلْمِيذُ مُجْتَهِدٌ. ب) أَنْتُمْ وَصَلْتُمَا إِلَى الْمَدْرَسَةِ. ج) هِيَ يَأْكُلُ طَعَامَهُ. د) أَنَا ذَهَبْتُ إِلَى السُّوقِ.	۱
۱۵	پس از خواندن متن زیر به پرسش ها پاسخ دهید. «الشمسُ و الهواءُ / والطيرُ في الفضاءِ / جميعُها تُشيرُ / بِقُدْرَةِ الإلهِ / وهذه المياهُ / تَجَدِّدُ الحَيَاةَ / ما أعظَمَ الإلهُ» الف) المخلوقاتُ بماذا تُشيرُ؟ ب) من خلق المخلوقاتُ؟ ج) مَنْ هو اعظمُ؟ د) بماذا تُجَدِّدُ الحَيَاةَ؟	۱
۱۶	باتوجه به معنی آیه ها در هر جای خالی یکی از کلمات داده شده را بنویسید. (دو کلمه اضافه است) «مفاتيح - الجنود - مَطَّلَع - نَصْر» الف) «سلامٌ هي حتى ..... الفجرِ» ب) «و عِنْدَهُ..... الغيب.»	۱
	موفق باشید.	

سال تحصیلی: ۸۸-۸۹  
 تاریخ امتحان: ۱۴، ۳، ۸۹  
 شماره صفحه: ۱

باسمه تعالی



راهنمای تصحیح: عربی  
 پایه: سوم  
 دوره: راهنمایی  
 رشته: -

۱۰ صبح با ققن بران  
 نمون برگ شماره ۲

قابل توجه طراحان: ۱- لطفاً پاسخ سوالات بطور کامل قید گردد (با ذکر ریزبارم) ۲- از دادن آدرس بعنوان مثال (مراجعه به متن ص ۲۰ یا... خودداری شود)

ردیف	راهنمای تصحیح
۱-۲	<p>۱- قسمت ترجمه ۵ نمره          الف از شفا تحت مکه مبارک فرم (۱) ب (۲) مدنی است که با غذای بخورده ایم (۱) ج (۲) بریم به خرید          لب من با دمیوه جات شغول هستند (۱) د) و تارگان مطیع فرمان آر هستند (۱) ه) صبر کنید که قطعاً          فداوند با عبوران است (۱)</p> <p>۲-          رَجِعْ إِلَى الْإِنْقَارِ إِلَى السَّلْبِ (۱۰) / ۳ - حَذَاهُ الْفَيْشُ طَارَ ، اصْبَامُ ۲۵ / ۴ - الف: شربوا ۲۵          ب: كَلْبٌ ۲۵ / ۵ - شَكْرُونَ ۲۵ ، أَشْرَكَ ۲۵ / ۶ - هَا ۲۵ / ۷ - فَعَالَ ۲۵          ۸ / ۹ - هل (أ) انتم تعبسون الله؟ ۲۵ / ۱۰ - هُوَ لَا يَشْعُرُ بِالضَّعْفِ ۲۵          ۱۱ - الف: وَاغْسِلُوا ووجهكم للوضوء ۲۵ ، ب: يَا أَشْرِبِينَ من هذا الماء ۲۵ /          ۱۲ - الف: لَا تَقْنَطُوا مِنْ رَحْمَةِ اللَّهِ ۲۵ ، ب: يَا رَبِّ إِنَّا نَسَّأَرُكَ ۲۵ ، ج: يَا جَلِيسِي عَلَى الْكُرْسِيِّ ۲۵          ۱۳ - مبتدا: النِّظَافَةُ ۲۵ ، و رِحْلَةٌ ۲۵ ، خبره: ، الذُّنُوبُ ۲۵ ، معقول به: ۲۵ ، العَاقِلُ ۲۵          عن الهمسین: جَارٍ وَمَجْرُورٍ ۲۵          ۱۴ - الف: هَذَا ۲۵ ، ب: وَأَوْصَلْتُمْ ۲۵ ، ج: هُوَ ۲۵ ، د: أَدَّهَبَ ۲۵          ۱۵ - الف: بِقُدْرَةِ اللَّهِ ۲۵ ، ب: الْإِلَهِ (اللَّهُ) ۲۵ ، ج: الْإِلَهِ ۲۵ ، د: الْمِيَاهَ ۲۵          ۱۶ - الف: مَطْلَعٌ ۲۵ ، ب: مَفَاتِحُ ۲۵</p>



سال تحصیلی: ۸۸-۸۹
تاریخ امتحان: ۱۷/۳/۸۹ ز
ساعت امتحان: ۱۰ صبح
مدت امتحان: ۸۰ دقیقه
شماره صفحه: ۱

سوال درس: عربی
پایه: سوم
دوره: راهنمایی
رشته: -

نام و نام خانوادگی دانش آموز / داوطلب آزاد : ..... کشور : ..... شهر : .....

ردیف	سوال	بارم
۱	جمله های زیر را به فارسی روان ترجمه کنید الف) أَطْلُبُ مِنْكُمْ عَرْشَ مَلَكَةٍ سَبَأًا. ب) نَحْنُ مَا أَكَلْنَا طَعَامًا مِنْذُ مَدَّةٍ. ج) النَّاسُ مَشْغُولُونَ بِشِرَاءِ الْمَلَابِسِ وَالْقَوَاقِیهِ. د) «و النَّجُومُ مَسْحَرَاتٌ بِأَمْرِهِ» ه) «إِصْبِرُوا ، إِنَّ اللَّهَ مَعَ الصَّابِرِينَ»	۵
۲	جمله های زیر را به عربی ترجمه کنید. پیروزی به سوی مسلمانان بازگشت.	۰/۵
۳	واژه های مشخص شده را از عربی به فارسی و از فارسی به عربی ترجمه کنید. الف) هَذَا الرَّجُلُ حَدَاءٌ. ب) عِبَادَتِ بَيْتِ هَا كَيْفَرٌ قَتْلٌ اسْت.	۰/۵
۴	در جاهای خالی فعل مناسب بنویسید. «با حرکت گذاری» الف) هَمٌّ.....الْمَاءِ. « شَرِبَ » ب) هَنْءٌ.....و ظَائِفُهُنَّ. « كَتَبَ »	۰/۵
۵	در جاهای خالی فعل مضارع مناسب بنویسید. (با حرکت گذاری) الف) أَنْتُمْ.....اللَّهُ. « يَشْكُرُ » ب) أَنَا لَا.....الْمَدْرَسَةِ. « يَتَوَكَّأُ »	۰/۵
۶	در جای خالی ضمیر منفصل مناسب بنویسید. « ..... يَصْبِرَانِ عَلَى الْجُوعِ. »	۰/۲۵
۷	وزن کلمه « صَبَارٌ » را بنویسید.	۰/۲۵



نام و نام خانوادگی دانش آموز / داوطلب آزاد: ..... کشور: ..... شهر: .....

بازم	ردیف	سوال
۰/۲۵	۸	از حروف اصلی (ع ل م) کلمه ای را بر وزن «فعلیل» بنویسید.
۰/۲۵	۹	جمله زیر را سوالی کنید. «انتم تعبدون الله»
۰/۲۵	۱۰	جمله زیر را منفی کنید. «هو يشعر بالضعف»
۰/۵	۱۱	فعل جمله های زیر را به (امر) تبدیل و جمله هارا باز نویسی کنید. الف) تَغْسِلُونَ وِجُوهَكُمْ لِلْوَضُوءِ . ب) تَشْرَبِينَ مِنْ هَذَا الْمَاءِ .
۰/۷۵	۱۲	فعل جمله های زیر را به (نهی) تبدیل و جمله هارا باز نویسی کنید. الف) تَقْنَطُونَ مِنْ رَحْمَةِ اللَّهِ . ب) تَرْكَبَانِ السَّيَّارَةَ . ج) تَجْلِسِينَ عَلَى الْكُرْسِيِّ .
۲/۵	۱۳	در جمله های زیر نقش های خواسته شده را معلوم کنید.

جمله	نقش خواسته شده	پاسخ
الطَّلَاقَةُ مِنَ الْإِيمَانِ .	مبتدا	
هَذِهِ رَحْلَةٌ عَجِيبَةٌ .	خبر	
اللَّهُ يَغْفِرُ الذُّنُوبَ .	مفعول	
يَزْرَعُ الْعَاقِلُ الْخَيْرَ .	فاعل	
رَضِيَ اللَّهُ عَنِ الْمُؤْمِنِينَ .	جار و مجرور	



نام و نام خانوادگی دانش آموز / داوطلب آزاد : ..... کشور : ..... شهر : .....

پارم  
۱

ردیف  
۱۴

غلط های مشخص شده را اصلاح کنید .

الف) هذه التلميذ مُجْتَهِدٌ .

ب) أَنْتُمْ وَصَلْتُمْ إِلَى الْمَدْرَسَةِ .

ج) هِيَ يَأْكُلُ طَعَامَهُ .

د) أَنَاذْهَبَ إِلَى السُّوقِ .

۱۵

پس از خواندن متن زیر به پرسش ها پاسخ دهید .

«الشمسُ و الهواءُ / والطيرُ في الفضاء / جميعُها تُشِيرُ / بِقُدْرَةِ الْإِلَهِ / وهذه المياهُ / تَجَدُّدُ الْحَيَاةِ / ما أَكْبَرُ الْإِلَهِ»

الف) المخلوقاتُ بماذا تُشِيرُ؟

ب) من خلق المخلوقاتُ ؟

ج) من هو اعظم ؟

د) بساذا تَجَدُّدُ الْحَيَاةِ ؟

۱۶

باتوجه به معنی آیه ها در هر جای خالی یکی از کلمات داده شده را بنویسید . (دو کلمه اضافه است)

« مفاتيح - الجنود - مَطَّلَع - نُصْر »

الف) « سلامٌ هي حتى .....الفجرِ »

ب) « و عِنْدَهُ .....الغيب. »

موفق باشید.



سال تحصیلی: ۸۸-۸۹
تاریخ امتحان: ۸۹/۳/۱۴
ساعت امتحان: ۱۰ صبح
مدت امتحان: ۸۰ دقیقه
شماره صفحه: ۱

سوال درس: عربی
پایه: سوم
دوره: راهنمایی
رشته: -

نام و نام خانوادگی دانش آموز / داوطلب آزاد : ..... کشور : ..... شهر : .....

ردیف	سوال	نمره
۱	جمله های زیر را به فارسی روان ترجمه کنید الف) أَطْلَبُ مِنْكُمْ عَرْشَ مَلَكَةٍ سَبَأً. ب) نَحْنُ مَا أَكَلْنَا طَعَامًا مِنْذُ مَدَّةٍ. ج) النَّاسُ مَشْغُولُونَ بِشِرَاءِ الْمَلَابِيسِ وَالْفَوَاحِشِ. د) «و النَّجُومُ مُسَخَّرَاتٌ بِأَمْرِهِ» ه) «إِصْبِرُوا ، إِنَّ اللَّهَ مَعَ الصَّابِرِينَ»	۰/۵
۲	جمله های زیر را به عربی ترجمه کنید. پیروزی به سوی مسلمانان بازگشت.	۰/۵
۳	واژه های مشخص شده را از عربی به فارسی و از فارسی به عربی ترجمه کنید. الف) هَذَا الرَّجُلُ حَدَاءٌ. ب) عِبَادَتِ بَيْتِ هَا كَيْفَرُش قَتْلُ اسْتِ.	۰/۵
۴	در جاهای خالی فعل ماضی مناسب بنویسید. «با حرکت گذاری» الف) هَم.....الْمَاءِ. « شَرِبَ » ب) هُنَّ.....وِظَائِفَهُنَّ. « كَتَبَ »	۰/۵
۵	در جاهای خالی فعل مضارع مناسب بنویسید. (با حرکت گذاری) الف) انتم.....الله. « يَشْكُرُ » ب) انا لا.....الدَّرْسِ وَ الْمَدْرَسَةِ. « يَتْرُكُ »	۰/۵
۶	در جای خالی ضمیر منفصل مناسب بنویسید. « ..... يَصْبِرَانِ عَلَى الْجُوعِ.»	۰/۲۵
۷	وزن کلمه « صَبَّارٌ » را بنویسید.	۰/۲۵





نام و نام خانوادگی دانش آموز / داوطلب آزاد : ..... کشور : ..... شهر : .....

بازم	ردیف	سوال
۰/۲۵	۸	از حروف اصلی (ع ل م) کلمه ای را بر وزن «فعلیل» بنویسید.
۰/۲۵	۹	جمله زیر را سوالی کنید. «انتم تعبدون الله»
۰/۲۵	۱۰	جمله زیر را منفی کنید. «هویشعرُ بالضعف»
۰/۵	۱۱	فعل جمله های زیر را به (امر) تبدیل و جمله هارا باز نویسی کنید. الف) تَغْسِلُونَ و جوهکم لِلْوَضوءِ . ب) تَشْرَبْنَ مِنْ هَذَا الْمَاءِ .
۰/۷۵	۱۲	فعل جمله های زیر را به (نهی) تبدیل و جمله هارا باز نویسی کنید. الف) تَفْتَنُطُونَ مِنْ رَحْمَةِ اللَّهِ . ب) تَرْكَبَانِ السِّيَّارَةَ . ج) تَجْلِسِينَ عَلَى الْكُرْسِيِّ .
۲/۵	۱۳	در جمله های زیر نقش های خواسته شده را معلوم کنید .

جمله	نقش خواسته شده	پاسخ
النظافة من الايمان .	مبتدا	
هذه رحلة عجيبة.	خبر	
الله يَغْفِرُ الذنوب.	مفعول	
يَزْرَعُ الْعَاقِلُ الْخَيْرَ	فاعل	
رضي الله عن المومنين	جار ومجرور	



نام و نام خانوادگی دانش آموز / داوطلب آزاد: ..... کشور: ..... شهر: .....


ردیف	سوال	پاسخ
۱۴	غلط های مشخص شده را اصلاح کنید. الف) هذه التلميذ متجهت. ب) انتم وصلتما الى المدرسه. ج) هي يأكل طعامه. د) انا نذهب الى السوق.	
۱۵	پس از خواندن متن زیر به پرسش ها پاسخ دهید. « الشمس و الهواء / والطير في الفضاء / جميعها تشير / بقدره الاله / وهذه المياه / تجدد الحياة / ما اعظم الاله » الف) المخلوقات بماذا تشير؟ ب) من خلق المخلوقات ؟ ج) من هو اعظم ؟ د) بماذا تجدد الحياة ؟	
۱۶	باتوجه به معنی آیه ها در هرجای خالی یکی از کلمات داده شده را بنویسید. (دو کلمه اضافه است) « مفاتيح - الجنود - مَطْلَع - نصر » الف) « سلام هي حتى ..... الفجر » ب) « و عنده ..... الغيب »	
	موفق باشید.	

سال تحصیلی: ۸۸-۸۹
تاریخ امتحان: ۱۷، ۱۶، ۱۵، ۱۴، ۱۳، ۱۲، ۱۱، ۱۰، ۹، ۸، ۷، ۶، ۵، ۴، ۳، ۲، ۱
ساعت امتحان: ۱۵۰ دقیقه
مدت امتحان: ۸۵ (فقط)
شماره صفحه: ۱

باسمه تعالی



وزارت آموزش عالی و تحقیقات علمی  
وزارت آموزش و پرورش



سوال درس: عربی
پایه: سوم
دوره: راهنمایی
رشته: -

نام و نام خانوادگی دانش آموز / داوطلب آزاد: ..... کشور: ..... شهر: .....

ردیف	سوال	نمره
۱	جمله های زیر را به فارسی روان ترجمه کنید الف) أَطْلُبُ مِنْكُمْ عَرْشَ مَلَكَةٍ سَبَّأً. ب) نَجْنُ مَا أَكَلْنَا طَعَامًا مِنْذُ مَدَّةٍ. ج) النَّاسُ مَشْعُولُونَ بِشِرَاءِ الْمَلَانِسِ وَالْفَوَاكِهِ. د) «و النَّجُومُ مُسَخَّرَاتٌ بِأَمْرِهِ» ه) «اصْبِرُوا، إِنَّ اللَّهَ مَعَ الصَّابِرِينَ»	۵
۲	جمله های زیر را به عربی ترجمه کنید. پیروزی به سوی مسلمانان بازگشت.	۰/۱۵
۳	واژه های مشخص شده را از عربی به فارسی و از فارسی به عربی ترجمه کنید. الف) هَذَا الرَّجُلُ حَذَاءٌ. ب) عِبَادَتِ بَيْتِهَا كَيْفَرٌ قَتْلٌ اسْت.	۰/۱۵
۴	در جاهای خالی فعل ماضی مناسب بنویسید. «با حرکت گذاری» الف) هَمَّ..... الْمَاءَ «شَرِبَ» ب) هَنَّ..... وَظَائِفَهُنَّ «كَتَبَ»	۰/۱۵
۵	در جاهای خالی فعل مضارع مناسب بنویسید. (با حرکت گذاری) الف) انتم..... اللَّهُ «يَشْكُرُ» ب) أنا لا..... الدَّرْسَ وَ الْمَدْرَسَةَ «يَتْرُكُ»	۰/۱۵
۶	در جای خالی ضمیر منفصل مناسب بنویسید. «..... يَصْبِرَانِ عَلَى الْجُوعِ.»	۰/۲۵
۷	وزن کلمه «صَبَّارٌ» را بنویسید.	۰/۲۵

نمره کتبی: ..... نمره شفاهی / عملی: ..... جمع نمره: به عدد ..... به حروف ..... نام و نام خانوادگی مصحح: ..... امضاء




نام و نام خانوادگی دانش آموز / داوطلب آزاد : ..... کشور : ..... شهر : .....

ردیف	سوال	پاسخ																		
۸	از حروف اصلی (ع ل م) کلمه ای را بر وزن «فعلیل» بنویسید.																			
۹	جمله زیر را سوالی کنید. « انتم تعبدون الله »																			
۱۰	جمله زیر را منفی کنید. « هویشعر بالضعف »																			
۱۱	فعل جمله های زیر را به (امر) تبدیل و جمله هارا باز نویسی کنید. الف) تَغْسِلُونَ وِجْوهَكُمْ لِلْوَضُوءِ . ب) تَشْرَبْنَ مِنْ هَذَا الْمَاءِ .																			
۱۲	فعل جمله های زیر را به (نهی) تبدیل و جمله هارا باز نویسی کنید. الف) تَقْتَطُونَ مِنْ رَحْمَةِ اللَّهِ . ب) تَرْكَبَانِ السَّيَّارَةَ . ج) تَجْلِسِينَ عَلَى الْكُرْسِيِّ .																			
۱۳	در جمله های زیر نقش های خواسته شده را معلوم کنید .																			
	<table border="1"> <thead> <tr> <th>جمله</th> <th>نقش خواسته شده</th> <th>پاسخ</th> </tr> </thead> <tbody> <tr> <td>النظافة من الايمان .</td> <td>مبتدا</td> <td></td> </tr> <tr> <td>هذه رحلة عجيبة.</td> <td>خبر</td> <td></td> </tr> <tr> <td>الله يَغْفِرُ الذنوب.</td> <td>مفعول</td> <td></td> </tr> <tr> <td>يَزْرَعُ الْعَاقِلُ الْخَيْرَ</td> <td>فاعل</td> <td></td> </tr> <tr> <td>رضي الله عن المومنين</td> <td>جارومجرور</td> <td></td> </tr> </tbody> </table>	جمله	نقش خواسته شده	پاسخ	النظافة من الايمان .	مبتدا		هذه رحلة عجيبة.	خبر		الله يَغْفِرُ الذنوب.	مفعول		يَزْرَعُ الْعَاقِلُ الْخَيْرَ	فاعل		رضي الله عن المومنين	جارومجرور		
جمله	نقش خواسته شده	پاسخ																		
النظافة من الايمان .	مبتدا																			
هذه رحلة عجيبة.	خبر																			
الله يَغْفِرُ الذنوب.	مفعول																			
يَزْرَعُ الْعَاقِلُ الْخَيْرَ	فاعل																			
رضي الله عن المومنين	جارومجرور																			

سال تحصیلی: ۸۸-۸۹  
 تاریخ امتحان: ۱۴، ۳، ۸۹ ز  
 ساعت امتحان: ۱۵ صبح  
 مدت امتحان: ۸۵ دقیقه  
 شماره صفحه: ۳

باسمه تعالی



سوال درس: عربی  
 پایه: سوم  
 دوره: راهنمایی  
 رشته: -

نام و نام خانوادگی دانش آموز / داوطلب آزاد: ..... کشور: ..... شهر: .....

ردیف	سوال	پارم
۱۴	غلط های مشخص شده را اصلاح کنید. الف) هَذِهِ التِّلْمِيذُ مُجْتَهِدٌ. ب) أَنْتُمْ وَصَلْتُمْ إِلَى الْمَدْرَسَةِ. ج) هِيَ بِأَكْلٍ طَعَامَةٍ. د) أَنَاذْهَبُ إِلَى السُّوقِ.	۱
۱۵	پس از خواندن متن زیر به پرسش ها پاسخ دهید. «الشمسُ و الهواءُ / والطيرُ في الفضاء / جميعها تُشِيرُ / بِقَدْرَةِ الإلهِ / وهذه المياهُ / تُجَدِّدُ الحَيَاةَ / ما أَكْبَرُ الإلهَ» الف) المخلوقاتُ بماذا تُشِيرُ؟ ب) من خلق المخلوقاتُ؟ ج) مَنْ هو اعظمُ؟ د) بماذا تُجَدِّدُ الحَيَاةَ؟	۱
۱۶	باتوجه به معنی آیه ها در هر جای خالی یکی از کلمات داده شده را بنویسید. (دو کلمه اضافه است) «مفاتيح - الجنود - مَطَّلَعٌ - نَصْرٌ» الف) «سلامٌ هي حتى ..... الفجرِ» ب) «و عِنْدَهُ ..... الغيب.»	۱
	موفق باشید.	

نمره کتبی: ..... نمره شفاهی / عملی: ..... جمع نمره: به عدد ..... به حروف ..... نام و نام خانوادگی مصحح: ..... امضاء



بارم	نام و نام خانوادگی دانش آموز / داوطلب آزاد: ..... کشور: ..... شهر: .....	سؤال
/۵		۱۱ در جمله ذیل، فعل و فاعل را مشخص کنید: «وَعَدَ اللهُ الْمُؤْمِنِينَ وَ الْمُؤْمِنَاتِ جَنَّاتٍ»
/۵		۱۲ فعل و فاعل را در جمله داده شده اعراب گذاری کنید: حفظت مریم درسها.
/۷۵		۱۳ در جمله ذیل، مفعول و جار و مجرور را مشخص کنید: يَشْكُرُ الصَّالِحُونَ رَبَّهُمْ فِي جَمِيعِ الْاَحْوَالِ.
/۵		۱۴ در جمله ذیل، مبتدا و خبر را مشخص کنید: الف. «تَنْزِيلُ الْكِتَابِ مِنَ اللَّهِ»
/۵		۱۵ غلط های موجود در عبارت ها را پیدا کنید و درست آن ها را بنویسید: الف. سَمِيَةٌ مُشْغُولَةٌ بِالْمَدْرَسِ .. ب. اللهُ سَرِيْعُ الْحِسَابِ ..
۴		۱۶ ترجمه عبارت ها را به فارسی بنویسید: الف. لَا تَقْتَنُظُوا مِنْ رَحْمَةِ اللَّهِ. ب. مَنْ صَنَعَ هَذِهِ الْأَحْتِيَةَ؟ ج. أَعُوذُ بِاللَّهِ مِنَ الشَّيْطَانِ الرَّجِيمِ. د. النَّاسُ مُشْغُولُونَ بِشَرَاءِ الْفَوَاكِهِ.
/۵		۱۷ عبارت را به فارسی ترجمه کنید: الآن چه کار می کنی؟ .....
۱		۱۸ متن ذیل را بخوانید و به سؤال ها پاسخ دهید: يُؤَبُّ مِنَ الْأَنْبِيَاءِ اللَّهُ. يَعْبُدُ اللَّهُ وَ يَحْمَدُهُ فِي جَمِيعِ الْاَحْوَالِ.. حَانَ وَقْتُ الْاِمْتِحَانِ الْاِلَهِيِّ.. مَرَضَ أَيُّوبُ؛ تَلَفَ مَالَهُ وَ فَقَدَ اَوْلَادَهُ وَ سَرَقَ لِلصَّوْصُ اَمْوَالَهُ. جَاءَ ابْلِيسُ وَ قَالَ: يَا أَيُّوبُ اِلَى مَتَى تَصْبِرُ عَلَى هَذَا الْبَلَاءِ؟ قَالَ أَيُّوبُ: أَعُوذُ بِاللَّهِ مِنَ الشَّيْطَانِ الرَّجِيمِ. قَالَ ابْلِيسُ: لَا فَايِدَةٌ، هُوَ كَالْجَبَلِ..... وَ اٰخِرًا جَاءَ الْفَرْخُ وَ نَجَحَ أَيُّوبُ فِي الْاِمْتِحَانِ. فَقَالَ اللَّهُ: «رَبِّمُ الْعَبْدُ إِنَّهُ أَوَّابٌ» الف. هل نجح أيوب في الامتحان؟ (۱) نعم (۲) لا ب. من قال: هو كالجبل؟ (۱) إبليس (۲) أيوب ج. متى جاء نصر الله؟ د. لماذا قال الله: «ربيم العبد إنه أواب؟» الف. قبل مرض أيوب (۱) بعد مرض أيوب (۲) ب. لأنه مرض (۱) لأنه نجح في الامتحان (۲)
نمره کتبی: ..... نمره شفاهی/عملی: ..... جمع نمره به عدد: ..... به حروف: ..... نام و نام خانوادگی مصحح: ..... امضا		



سؤال درس : عربی

پایه: سوم

دوره: راهنمایی

رشته: -----

سال تحصیلی: ۱۳۸۸-۱۳۸۹

تاریخ امتحان: ۱۴/۳/۸۹

ساعت امتحان: ۱۴ عصر به وقت تهران

مدت امتحان: ۴۵ دقیقه

شماره صفحه: ۱

سوال	نام و نام خانوادگی دانش آموز / داوطلب آزاد: .....	کشور: .....	شهر: .....	بارم	
۱	لغات را به فارسی / عربی ترجمه کنید:	قادم:	باکیه:	أسجن:	خودارایی:
۲	هم خانواده کلماتی را که زیر آن ها خط کشیده شده بنویسید:	الف: «فان الله خیر حافظا» (یوسف: ۶۴)	ب: «و أنفقوا مِمَّا رزقناهم سرا و علانیه» (فاطر: ۲۹)	۰.۵	
۳	وزن کلماتی را که زیر آن ها خط کشیده شده بنویسید:	«صِرَاطَ الَّذِينَ أَنْعَمْتَ عَلَيْهِمْ غَيْرِ الْمَغْضُوبِ عَلَيْهِمْ»	۰.۷۵		
۴	در عبارت ذیل، فعل های ماضی و مضارع را مشخص کنید: انا وجدت امرأة تحکم فی مملكة سبأ.	۰.۵			
۵	جمله منفی را مثبت و جمله مثبت را منفی کنید:	الف: قبلت الطفلة كلام الرجل..	ب: إتهم لایجهدون فی طلب العلم.	۰.۵	
۶	فعل جمله ها را به امر (حاضر) تبدیل کنید:	الف: تغضب علی الظالم.	ب: نصرتم المظلومین.	۰.۱	
	ج: تتركین الباطل..	د: تجلسان تحت الشجرة..			
۷	فعل جمله ها را به نهی (حاضر) تبدیل کنید:	الف: تلعبن بالكبریت.	ب: تعبران الشارع.	۱	
	ج: تضربون الطفلة.	د: تبحث عن کتابک.			
۸	با کلمات داده شده جمله اسمیه بسازید:	الف: عباده / یرزق / الله .....	ب: کتبت / الطالبة / واجبها .....	۰.۵	
۹	در جای خالی ضمیر مناسب بنویسید:	الف: ..... طلبوا من والدهم الذهاب للصید.	ب: ..... خرجنا من المدرسة و ذهبنا الی البيت..	۰.۵	
۱۰	در جمله های ذیل، فعل های نهی و نفی را مشخص کنید:	الف: لاتحبسی الطائر.	ب: لاتعملون الا لله.	۰.۵	

نمره کتبی: نمره شفاهی/عملی: جمع نمره به عدد: ..... به حروف: ..... نام و نام خانوادگی مصحح: ..... امضا