

به نام خدا

سرپرستی مدارس جمهوری اسلامی ایران در امارات عربی متحده

مجتمع آموزشی نمونه توحید دختران

مدت امتحان: ۷۵ دقیقه	پایه تحصیلی: راهنمایی	نام و نام خانوادگی:
تاریخ امتحان: ۱۳۸۹/۳/۵	نام درس: انگلیسی	نام کلاس: دوم
نام دبیر: خانم ترکمنی	نمره به حروف:	نمره به عدد:
امضا دبیر:		

بارم

A - در هر گروه از کلمه ها ، کلمه ی نا هماهنگ را مشخص نمایید .

2

1. green – read – red - black (.....)
2. talk – walk – week – call (.....)

2

B – گزینه صحیح را انتخاب کنید .

3. We eat dinner every (morning – evening – afternoon)
4. He's tea at home .(drinking-eating-writing)
5. Is this ruler short or ? (big – tall – long)
6. I see the wheels my car . ('s – of – off)


2

C – جمله های زیر را با توجه به تصاویر داده شده کامل کنید .

7.He's putting on his



8. You see a in the picture .



2

D - با استفاده از کلمه های داده شده ، جمله های زیر را کامل کنید (یک کلمه اضافی است)

(listen –ready-green-face-leave)

- 9.My brother has..... shirt .
10. Theyhome at seven every day.
11. Please.....to your teacher.
12. I'm notfor school yet.

2

E - جمله ها را با معطومات خود کامل کنید .

13. Friday is the in Iran .

14. We our prayers in the mosque .

15. He doesn't feel well today . He is

16. Reza wasn't absent yesterday . He was

1

F - با توجه به خط کشیده کدام کلمه از نظر صوتی با کلمه های دیگر فرق دارد.

17. Spoon - too - book - school (.....)

18. Thirteen - mother - those - father . (.....)

4

G - کلمه ی ناقص را پیدا کنید .

19. I speak pers ___ n .

20. My fri ___ nd is pres ___ nt today .

21. The sold ___ er has a g ___ n in his hand .

22. Thank God you are all ri ___ ht .

23 . He is wr ___ ting a le ___ ter .

2

H - با توجه به تصویر ، کلمه های ناقص را پیدا کنید .

24. n ___ wsp ___ p ___ r .



25. C ___ mb .



2

1 - مکالمه زیر را با استفاده از ستون B کامل کنید . (یک جمله در ستون اضافی است)

A

B

26. Whose hat ~~is~~ is red ?

a. at half past five .

27. Where do you live?

b. a cold .

28. What was it ?

c. on Bahar street .

29. When does she get up ?

d. at school .

e. Ali 's .

2

2 - مکالمه زیر را کامل کنید .

30. A : Where _____ .

B: He was in bed yesterday .

31 . A : Why was he in bed yesterday ?

B: _____ .

4

3 - گزینه صحیح را انتخاب کنید .

32 . We listen _____ the teacher every day (in - to - on)

33. Mr Taban has two bags in _____ hands . (his - her - he)

34. two student _____ absent yesterday . (were - are - was)

35. How many apples _____ in the basket ? (is there - are they - are there)

36. That boy _____ go to bed late . (don't - isn't - doesn't)

37. Is he _____ to his mother ? (talking - talks - talk)

38. The child was happy _____ . (now - last night - every day)

39. Does she _____ lunch at home ? (makes - make - making)

2

4 - جمله های زیر را با دانش گرامری خود کامل کنید .

40. I _____ in the library yesterday .

41. our teacher _____ teaching English now .

42. please point _____ the wall .

43. When _____ she get up ?

2

M - هر گروه از کلمه های زیر را به صورت جمله ای صحیح بنویسید .

44. The boys - their homework - now - doing - are ?

45. by - my brother - to - bus - school - goes .

2

N - با توجه به تصاویر به سوالات زیر پاسخ دهید.

46. what is he doing ?



47. Do they play football ?




3

O - تصویر مربوط به هر جمله را مشخص نمایید و رویروی آن بنویسید . (یک جمله اضافی است)




a)



b)



c)



d)

48. He's doing his work now .

49. My father eats breakfast at home .

50. He reads a book .

متن زیر را با دقت بخوانید و به سوالات زیر پاسخ دهید.

Naser is a student . He gets up at 5:30 every morning . He washes and then he prays. He eats his breakfast at 6:30. He takes a taxi to Hafez school. He comes home at 12:30 every afternoon.

2

P - مقابل جمله درست True و مقابل جمله غلط False بنویسید .

51. Naser walks to school every day. (_____)

52. He gets up at five thirty. (_____)

شماره صندلی:		رشته:		کلاس: <i>دوم</i>		نام و نام خانوادگی:	
نام دبیر:		تجدید نظر:		تاریخ امتحان:		نام درس: <i>زبان انگلیسی</i>	
نمره باحروف:		نمره باعدد:		نمره باحروف:		نمره باعدد:	
نام و نام خانوادگی مصحح دوم:		نام و نام خانوادگی مصحح اول:		امضا:		امضا:	

Reading

درک مطلب


۱- متن زیر را بخوانید و سپس رو به روی جملات درست حرف T و روی جملات غلط حرف F بنویسید. (۴ نمره)

Mr. Akbari is an English teacher. He goes to Hafez school at ۷/۳۰ everyday. He goes there by taxi. He has many students.

True or False?

- ۱-Mr. Akbari teaches English. ()
- ۲-He walks to school everyday. ()
- ۳-He goes to work at half past seven. ()
- ۴- He has not many student s. ()

۲- شماره مربوط به هر تصویر را کنار آن بنویسید. (۴ نمره)



- ۱- There are many books on the table. ()
- ۲- She is reading a book. ()
- ۳- The students were in the classroom. ()
- ۴- She is washing her hands. ()

۳- پاسخ مناسب سوالات ستون A را از ستون B پیدا کنید. (۲ نمره)

- | | |
|---------------------------------|------------------------|
| A | B |
| ۱- What are you doing now? | () a. At home. |
| ۲- Where do you eat your lunch? | () b. A teacher. |
| ۳- What is your father? | () c. Reading a book. |
| ۴- How do you go to school? | () d. By bus. |

Vocabulary

کدام واژه با سایر واژه ها هماهنگی ندارد؟ (۲نمره)

- ۱- child pen note book ruler
- ۲- dentist doctor nurse woman

با استفاده از لغات زیر جاهای خالی را پر کنید . يك لغت اضافي است. (۵نمره)

clean-farmer-play-lunch- picture-working

۱-The boys..... football at school.

۲-Who is in that room?

۳-Mr. Ahmadi is not a

۴- Please the table .

۵-They are eatingnow.

۳-پاسخ درست را انتخاب کنید. (۳نمره)

۱- There are many trees in the (office-classroom-park)

۲- It's three fifty. It's ten four . (past-under-to)

۳- Mrs. Ahmadi is Ali's (brother- sister-father)


۴-جمله های ناقص زیر را با توجه به تصاویر داده شده کامل کنید. (۲نمره)

۱-It is

۲-She's writing a



2



1

تلفظ

Pronunciation

تلفظ حرف (u) در کدام کلمه متفاوت است. (۱نمره)

Ruler-just- cup-bus

محل مهر آموزشگاه نمره با عدد: نمره با حروف: امضا دبیر مربوطه	سرپرستی مدارس جمهوری اسلامی ایران امارات عربی متحده مجتمع خدیجه کبری (س) - سال تحصیلی ۸۹-۸۸ کلاس: دوم تاریخ آزمون: ۱۳۸۹ / ۳ / ۲۴ نوبت امتحان: خرداد صفحه: ۱	شماره: نام و نام خانوادگی: نام درس: زبان انگلیسی مدت آزمون: ۷۰ دقیقه
---	---	---

۱) در هر گروه از کلمه های زیر ، کلمه ی ناهماهنگ از نظر معنی را مشخص کنید . (۲ نمره)

1. yellow – blue – absent – white
 2. dinner – tea – breakfast – lunch

۲) با توجه به ارتباط کلمات ستون A ، ستون B را کامل کنید . (۲ نمره)

- | | | | | |
|--------------|---|---------|-------|------------------|
| | B | | A | |
| 3. book | → | library | tree | →
..... |
| 4. I | → | my | he | →
..... |
| 5. policeman | → | gun | | → book |
| 6. listen | → | radio | watch | → |

۳) مناسب ترین پاسخ را انتخاب کنید . (۲ نمره)

7. Boys don't put on (shirts – hats – scarfs) .
 8. Today is Friday. Yesterday was (Tuesday – Saturday – Thursday)
 9. It is half past six. It is (a quarter past six – six fifteen – six thirty)
 10. He reads (a newspaper – a pen – an apple)

۴) با استفاده از کلمات داده شده جاهای خالی را کامل کنید . (یک کلمه اضافی است) (۲ نمره)

look – study – country – school – soldiers

11. They go to by bus.
 12. I my lessons every day.
 13. There are two in the picture.
 14. Iran is the name of our

۵) جملات ناقص زیر را با استفاده از دانش خود کامل کنید . (۲ نمره)

15. Yesterday was Monday. Today is
 16. In Iran , students don't go to school on

۶) کلمه ی ناهماهنگ از نظر تلفظ را مشخص کنید . (۲ نمره)

17. neck – face – office – nice
 18. fine – nine – live – five

۷) بهترین پاسخ را انتخاب کنید . (۳ نمره)

19. It is a quarter to seven . It's (6:45 – 7:45 – 7:15)
 20. Ali and Mina have a bicycle . It'sbicycle . (his – her – their)
 21. My motherthe room every day . (clean – cleans – is cleaning)
 22. Sheleave home at 8:30 . (don't – doesn't – isn't)
 23. He lunch now . (is eating – eats – eat)
 24. Theyat school yesterday . (are – were – was)

نمره با عدد:
نمره با حروف:
امضا دبیر مربوطه

نام و نام خانوادگی:
نام درس: زبان انگلیسی
نوبت امتحان: خرداد
کلاس: دوم
تاریخ آزمون: ۱۳۸۹ / ۳ / ۲۴
صفحه: ۲

۸) با مرتب کردن کلمات داده شده جمله بسازید. (۲ نمره)


25. at the window – please – look – don't .

26. was – the doctor – in his office – yesterday .

۹) با توجه به تصاویر به سنوالات زیر پاسخ مناسب دهید. (۲ نمره)



27. What is he doing ?



28. What day is today ?

۱۰) برای پاسخ های داده شده سنوال مناسب بسازید. (۲ نمره)

29. ?

Yes , Mina was at home on Friday .

30. When ?

She gets up at 6 o'clock .

۱۱) با کلمات داده شده ، سنوال مناسب بسازید. (۲ نمره)

31. There are two books on the table .

How many ?

32. Mina was in bed last night .

Who ?

۱۲) مکالمه زیر را با کلمات مناسب کامل کنید. (۲ نمره)

A : How are you today ?

B : Fine ,


A : Do you study English every day ?

B : Yes , I

A :do you ?

B : I live on Hafez Avenue .

۱۳) دیکته - الف) با توجه به تصاویر کلمات ناقص را کامل کنید. (هر خط تیره نشانه ی یک حرف است) (۲ نمره)



l - br - ry



cl - - k



le - - er



sh - - s

محل مهر آموزشگاه نمره با عدد: نمره با حروف: اعضا دبیر مربوطه	سرپرستی مدارس جمهوری اسلامی ایران امارات عربی متحده مجتمع خدیجه کبری (س) - سال تحصیلی ۸۹-۸۸ نام و نام خانوادگی: کلاس: دوم نام درس: زبان انگلیسی نوبت امتحان: فرداد مدت آزمون: ۷۰ دقیقه صفحه: ۳ تاریخ آزمون: ۱۳۸۹ / ۳ / ۲۴	شماره:
---	---	----------------

ب) کلمات ناقص زیر را با حرف مناسب کامل کنید. (۴ نمره)

33. The ch - ldren were at home yesterday. 34. Tomor - ow is We - nesday .
 35. All students were pre - ent . 36. Please po - nt to the wall .
 37. It's ten min - tes to five . 38. There is a sh - p in the pic - ure .
 39. My father speaks Per - - an . 40. He is My fr - - nd , Reza .

۱۴) متن زیر را به دقت بخوانید و سپس به سنوالات پاسخ دهید .

Hello . My name is Ali Akbari . I am a doctor . I have two brothers and one sister . My brothers , Reza and Amir , are students . They go to school by bus every day . Yesterday was Friday . They were at home . My sister , Zahra , is a nurse . She goes to work by taxi . We are a happy family .

الف) با توجه به متن پاسخ صحیح را انتخاب کنید. (۱ نمره)

41. Mr. Akbari isn't a doctor . (True - False)
 42. Mr. Akbari has two brothers . (True - False)

ب) با توجه به متن جملات زیر را کامل کنید. (۲ نمره)

43. Zahra goesby taxi .
 44. They are afamily .

پ) با توجه به متن جواب درست را انتخاب کنید. (۱ نمره)

45. Zahra hasbrothers . (one - two - three)
 46. Today is (Friday - Saturday - Sunday)

ج) با توجه به متن به سنوالات زیر پاسخ کامل دهید. (۲ نمره)

47. What is Mr. Akbari ?
 48. Do Reza and Amir walk to school ?

۱۵) شماره ی جمله ی مربوط به هر تصویر را در زیر آن بنویسید . (يك جمله اضافي است) (۳ نمره)

49. Ali is washing his hands . 50. She is saying her prayers .
 51. She is reading a newspaper . 52. Ali is talking to Reza .
 53. My father is drinking tea . 54. Amir was sick yesterday .
 55. Reza is watching TV .



() () () () () ()

باسمه تعالی

آزمون درس :

تعداد صفحه :

نام و نام خانوادگی :

تاریخ :

اداره کل مدارس خارج از کشور

شعبه کلاس :

نام دبیر : سخراوی

سرپرستی مدارس جمهوری اسلامی ایران در امارات عربی متحده

پایه :

مدت پاسخگویی :

مجتمع آموزشی شارجه - مقطع راهنمایی

کلاس :

سال تحصیلی ۸۸-۸۹ نوبت دوم

تاریخ / / ۸۹ امضاء دبیر:

نمره به حروف :

نمره به عدد :

بارم	ردیف	نمره به عدد :
4	A	زیر مناسب ترین کلمه داخل پرانتز خط بکشید .
		<p>1) - It 's (a- an -three-) red apple.</p> <p>2) - You and I (am- are- have)students .</p> <p>3) - Reza has a ball .it's (his- her- he) ball .</p> <p>4) - They're (white egg- eggs white- white eggs) .</p> <p>5) - Mina and maryam (has- are- have) two sisters .</p> <p>6) - Am I a teacher? Yes , (I am- we are- you are) .</p> <p>7) - The boys have a (blue car- blue cars- cars blue) .</p> <p>8) - (what colour - what- how-) are these? They are eggs.</p>
5	B	حرف یا حروف حذف شده ی کلمات زیر را بنویسید .
		<p>1) - we have a ho - se.</p> <p>2) -My fr__nd is a den t__st .</p> <p>3) - She has a b_by</p> <p>4) - Please st__nd up .</p> <p>5) - I see a c__mb and a penc__l in the picture .</p> <p>6) - They eat br__k fast every m__rning .</p> <p>7) - He s pu__ing on his clothes .</p> <p>8) - He goes to sc__ool every morning</p> <p>9) - Ali has a gr__n pen .</p> <p>10) - Ali and mina have a bic__cl_ .</p> <p>11) -He is polic- man .</p>
2	C	با کلمات داده شده جمله ی کامل بسازید .
		<p>1) -Two , are, under , cats, there , the table?</p> <p>.....</p> <p>2) - Is , teacher , Taban , a , not ,Mr .</p> <p>.....</p>

بارم	ادامه سوالات زبان کلاس دوم راهنمایی دخترانه - نوبت دوم - سال ۸۹ - ۸۸ - صفحه ۲	ردیف
3	<p>با کلمات پرسشی داخل پرانتز جملات زیر را سؤالی کنید</p> <p>1) - the dresses are black . (what colour)</p> <p>2) - we are teachers . (what)</p> <p>3) - zahra is fin . (how)</p>	D
2	<p>جملات زیر را منفی کنید .</p> <p>1) - I am a teacher</p> <p>2) - the students have many pencils</p>	E
2	<p>برای هر کدام از پاسخ های زیر یک سوال بنویسید</p> <p>1) -? No, she has a blue comb.</p> <p>2) -? you are a teacher .</p>	F
2	<p>زیر کلمه های ناهماهنگ خط بکشید .</p> <p>1) - red pen - blue ruler - what .</p> <p>2) - how - what's - what color - what .</p>	G
2	<p>با توجه به کلمات داخل پرانتز جملات زیر را تغییر دهید .</p> <p>1) - this pen is red . (what colour)</p> <p>2) - Ali has agreen pen . (his)</p> <p>3) - I have a red pen . (my)</p> <p>4) - I go to school every day . (she)</p>	H

بارم	گفتگوی زیر را کامل کنید .	ردیف
3	<p>A : have you a brother ? B : Yes , I</p> <p>A : is he ? B : He isdoctor .</p> <p>A : he a blue car ? B : , he a red car</p>	I
3	<p>با استفاده از کلمات داخل پرانتز جملات زیر را کامل کنید .</p> <p>(basket - these - school - fine -orange -bags - ruler .)</p> <p>1) - my is green .</p> <p>2) - are Our cars ?</p> <p>3) - these are.....</p> <p>4) it's an</p> <p>5) - our teacher isto day .</p> <p>6) - the boys are in this</p>	J
2	<p>به سوالات زیر پاسخ دهید .</p> <p>1) - how many days are there in a week ?</p> <p>.....</p> <p>2) - what are you ?</p> <p>.....</p>	K
2	<p>با کلمات پراکنده جمله بسازید .</p> <p>1) -Morning - to -walk - ali dose - school -every ?</p> <p>.....</p> <p>2) - at - home work- do - home - I - every - my - day .</p> <p>.....</p>	L
2	<p>جملات زیر را به مفرد تبدیل کنید .</p> <p>1) They have red books .</p> <p>.....</p> <p>2) Those are pencils .</p> <p>.....</p>	M

بارم	با توجه به کلمات داخل پرانتز جمله زیر را تغییر دهید.	ردیف
3	<p>1) -I go to school every day .(now)</p> <p>2) -- the doctor isn't in his office now . (yesterday)</p> <p>3) -Hassan was in school yesterday ? (where)</p>	N
1/5 1/5	<p>متن زیر را بخوان و به سوالات ان پاسخ دهید .</p> <p>My name is Nahid . I have tow sisters (Maryam , and Mina) and one brother (Ali) I am a doctor and they are students . We get up at 5 o'clock in the morning I go to work by my car I have a blue car .but they go by bus . We have a big house.</p> <p>با توجه به متن در مقابل جملات درست علامت (✓) و در مقابل جملات غلط علامت (X) بگذارید</p> <p>1) - Nahdi is a student . ()</p> <p>2) -She has two brothers ,()</p> <p>3) -Her sisters and brother go to school by bus .() ..</p> <p>با توجه به متن به سوالات زیر پاسخ کامل دهید .</p> <p>1) - what colour is Nahid's car ?</p> <p>2) -what is Nahid ?</p> <p>3) -How many brother maryam and mina have ?</p>	O

** دیکته (۶ نمره)

الف: کلمات ناقص جملات زیر را به صورت کامل شده زیر دیکته بنویسید. (۴)

1. They live on Azadi Aven- e
2. My fr- end speaks English well.
2. It is th-rtly min-tes past ten.
4. Don't wr -te on the b-nch.

ب: با توجه به تصاویر کلمات ناقص زیر را کامل کنید. (۲)



1. ne-spap-r



2. Sh-e-

** واژگان (۱۰ نمره)

پ: در هر قسمت کلمه ی ناماهنگ را مشخص کنید. (۲)

1. chair- bench- hair- desk
2. doctor- teacher- farmer- father
3. tomorrow/ Sunday/ Wednesday/ Tuesday
4. look/ wall/ watch/ see

ت: با کلمات داده شده جملات زیر را کامل کنید. (یک کلمه اضافه است) (۲)

football / trees / drink / listen/ shirt

1. Itea every morning.
2. Do youto the radio every night.
3. There are manyin the park.
4. They playat school.

ث: با استفاده از دانش زبانی خود جملات زیر را کامل کنید. (۲)

1. We pray in the
2. Today is Sunday tomorrow is

ج: گزینه مناسب را انتخاب کنید. (۲)

1. Mr javadi is my (sister- mother- father)
2. Friday is thein Iran. (year- weekend- today)
3. Mr Amini ishis prayers. (saying- reading- speaking)
4. She eats breakfast in the (afternoon- morning- night)

چ: کدام کلمه با کلمه داخل پرانتز ارتباط بیشتری دارد؟ (۲ نمره)

1. (gun) teacher/ farmer/ policeman/ doctor
2. (see) ear / eye/ lip / nose
3. (tea) drink / talk/ begin/ eat
4. (mosque) need/ walk / look/ pray

****دستور (۲ نمره)**

ح: گزینه مناسب را انتخاب کنید. (۴)

1. There isapple in the basket. (many- an- a)
2. Writethe blackboard please. (in- on- at)
3. We absent yesterday. (are- were- was)
4. Shego to bed at 12. (don't- doesn't- isn't)
5. We have a car. It'scar. (my- our- your)
6. What time? Ten twenty. (it is- is it- is there)
7. Who isthe dishes now? (wash- washing- washes)
8. Theyfootball every day. (are playing- play- is playing)

خ: با هر گروه از کلمات زیر یک جمله صحیح بسازید. (۲)


1. the books/ don't/ they/ study/ .

2. are/ park/ we/ in the/ walking/.

د: با توجه به تصویر پاسخ دهید. (۲)



1. What are they doing?



2. What time is it?

ذ: افعال داخل پرانتز را به صورت صحیح به کار ببرید. (۲)

1. Alito school at 7 o'clock in the morning. (go)

2. Pleaseto the picture. (point)

ر: برای پاسخ داده شده سؤال مناسب بنویسید. (۲)

1.? No, they were at home.

2.? Yes, she gets up at 6.

**مکالمه (۴ نمره)

ز: پاسخ هر سوال را از عبارتهای سمت راست انتخاب کنید. (۴)

A: Hello. How are you? it's too

B: Fine..... about do

A: Do youan umbrella? just

B: Yes, I Whatyou? today

A; I have an umbrella,..... What colour?

B:is it? have

A:red. thanks

**** تلفظ (۱ نمره)**

ژ: کلمه ای که از لحاظ تلفظ با بقیه فرق می کند را مشخص کنید. (۱)

1. a. name b. face c. father d. make
2. a. this b. three c. they d. that

**** درک مطلب (۷ نمره)**

I am Ahmad. I have one brother. His name is Reza. We are students. I have on sister, too. My sister, Zahra is a nurse. My father and mother are farmers. Every morning we get up at five and pray at a quarter past five.

س: جمله درست را با True و جمله نادرست را با False مشخص کنید. (۲)

1. Ahmad has two brothers. True False
2. Zahra is a nurse. True False

ش: با توجه به متن پاسخ صحیح را انتخاب کنید. (۲)

1. We pray at five(to seven- fifteen- half)
2. Our mother is a(nurse- farmer- doctor)

ص: جمله مناسب هر تصویر را انتخاب کرده حرف مربوط به آن جمله را زیر تصویر بنویسید. (یک جمله اضافه


است.) (۳ نمره)



(۱)



(۲)



(۳)

- a. They are praying at home now.
b. They are studying their books in the library.
c. They are eating breakfast now.
d. They are watching TV now.

“Good Luck”

تاریخ: ۸۹/۰۳/۱۶

باسمه تعالی

نام و نام خانوادگی

اداره کل مدارس خارج از کشور

سرپرستی مدارس جمهوری اسلامی ایران در امارات متحده عربی
(مجتمع آموزشی شارجه - مقطع راهنمایی)

شعبه ی کلاس: دوم

مدت پاسخگویی: 80 دقیقه
نام دبیر: امینی

سوالات زبان انگلیسی

تعداد صفحه: ۴

خرداد ماه سال ۱۳۸۹

امضا دبیر:

نمره به حروف:

نمره به عدد:

IN THE NAME OF GOD

دیکت


الف) - در هر جمله لغات ناقص را کامل کنید. (هر خط تیره نشانه ی یک حرف است). (۴نمره)

1. Those **ch**__ldren watch TV every **M**__nday .
2. I eat my **bre**__**kf**__st at 7 every morning .
3. Mina is __riting a **le**__ter now .
4. There are many **gr**__**en** **tre**__s in the park .

ب) - با توجه به تصاویر جملات ناقص زیر را کامل کنید. (۴نمره)



fo__tba__l



lib__ar__



ne__sp__per

16

s__xt__en

واژگان

ج) - در هر گروه کلمه ی نا هماهنگ از نظر معنی را مشخص کنید و زیر آن خط بکشید: (۲ نمره)

1. baby - brown - black - blue - yellow .
2. where - what - when - were - what time .
3. doctor - soldier - teacher - student - quarter .
4. lips - neck - nose - name - hair .

د) - جملات زیر را با آموخته های خود کامل کنید. (۲نمره)

1. There are many in the street .
2. Today is Thursday . Tomorrow is
3. Please the blackboard .
4. Mr Ahmadi is a He teaches Arabic .

ه) - جملات زیر را با استفاده از لغات داده شده کامل کنید. (یک لغت اضافه است). (۲نمره)

dinner - reads - works - put on - lunch

1. My brother in a ship .
2. We our clothes at home .
3. Mr Tehrani one book every week .
4. Hamid eats his at 12 every day .

و) - بهترین گزینه را انتخاب کنید. (۳نمره)

1. That girl to the park every afternoon .
 leaves goes lives closes
2. Amin has a shirt .
 tired happy absent white
3. My sister at the window .
 looks sees lives washes
4. I my prayers every day and night .
 speak put talk say
5. It is not late. Let's take a
 spoon fork bus gun
6. Don't on the desk , please.
 does like ready sit

ساختارهای دستوری

ز) - جملات به هم ریخته ی زیر را بصورت جملات صحیح بازنویسی کنید. (۲نمره)

1. ping-pong / home / we / at / play .
.....

2. afternoon / Parvin / does / every / school / to / go ?
..... ?


ح) - جاهای خالی را با لغات مناسب از آموخته های خود کامل کنید. (۱نمره)

1. Do you speak Persian? - No , I
2. What day yesterday ? - Saturday

ط) - با توجه به تصاویر به سوالات پاسخ کامل دهید. (۵/۷نمره)

1. A: What are they doing ?

B:



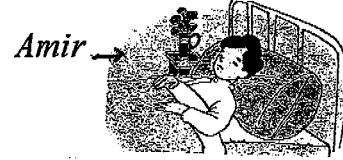
2. A: Does Mina read her book ?

B:



3. A: Who was in bed last night ?

B:



4. A: Do they walk to school ?

B:



5. A - What time is it ?

B -



ی) - بهترین گزینه را انتخاب کنید. (۳ نمره)

1. is your father ? - He is a farmer.

- Where What Who Whose

2. There are nine in our classroom .

- student teacher girl boys

3. Maryam school every morning.

- walks to to walk walk to walks

4. bicycle is that ? - It's Ali's .

- Where Who Whose What

5. Please the picture .

- point points pointing point to

6. is that woman ? - She is Mrs Shirazi .

- What Who Where How many

1. What's Mohammad doing ?

ک) - مکالمه های کوتاه زیر را به حروف مربوطه وصل کنید. (۲ نمره)

a) No, he doesn't .

2. Where were you last Sunday ?

b) But we go by car .

3. Does he teach Persian ?

c) I was at home .

4. We walk to school .

d) He's studying .

ل) - مکالمه ی به هم ریخته را مرتب و در زیر بازنویسی کنید. (۳نمره)

A : Where does she live ?

B : She is Mrs Karami .

A : Who is that woman , Sara ?

B : She lives on Azadi Avenuue .

A : What is she ?

B : She teaches many students .

A : How many students does she teach ?

B : She is our teacher .

A :

B :

A :

B :

A :

B :

A :

B :

درک مفاهیم

م) - متن زیر را به تفت بخوانید و به سوالات مربوطه جواب کامل دهید. (۵نمره)

Today is Friday. Mina and her brother, Sina, were at school yesterday. They are at home now. It's eight o'clock. Sina is watching TV and his sister is doing her homework.

1. What is Mina doing ?

2. Where were Sina and Mina yesterday?

ن) - جمله های صحیح را با (T) و جمله های نادرست را با (F) مشخص کنید. (۵ / ۱نمره)

1. She is watching TV now . (.....)

2. It's eight ten . (.....)

3. Tomorrow is Saturday . (.....)

تلفظ

س) - زیر کلمه ای که حرف مشخص شده ی آن با علامت فونتیک / ei / تلفظ می شود , خط بکشید. (1 نمره)

happy - man - family - make

مهر مقطع

امتحان درس:	کلاس: (پنجم راهنمایی)	تاریخ امتحان: ۸۹/۳/۲۴
نام و نام خانوادگی:	شماره صندلی:	سال تحصیلی ۸۸/۸۹
نام دبیر: جبارآفرین - خلیلی	وقت امتحان: ۱۰۰ دقیقه	

((موفقیت شما آرزوی ماست))

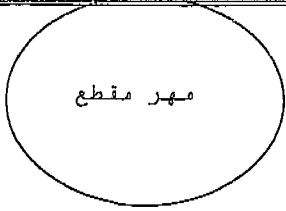
بارم	ردیف	نوع سوال
1	1	Vocabulary در هر گروه از کلمات زیر کلمه ناهماهنگ خط بکشید.
4	2	جاهای خالی را با کلمات داده شده کامل کنید. (یک کلمه اضافی است.) (ready - week - country - night - woman - putting - listening - leave - wash)
4	3	جاهای خالی را با کلمات مناسب کامل کنید.
3	1	Grammar پاسخ صحیح را انتخاب کنید.

1. call - be - come - late
2. his - he - my - your

3. The boys are to the radio now.
4. I'm not for school yet.
5. He is on his jacket .
6. There are seven days in a
7. We come to school and there at 3:00.
8. We our hands and face every morning .
9. Iran is the name of our
10. He wasn't at home last

11. It's one thirty. It's past one.
12. David wasn't absent yesterday. He was
13. Does your class at 8 every morning? Yes, it does.
14. It's red. We drink it every morning with our breakfast. It is

15. Do your brothers clean the house every day? No, don't. (my - they - the)
16. Does his father breakfast at home? (has - having - have)
17. Reza and I have a desk. It's desk. (Reza - my - our)
18. John his book now. (reads - reading - is reading)
19. Please point the map. (at - to - in)
20. Their teacher English on Tuesdays. (is teaching - teach - teaches)



سرپرستی مدارس جمهوری اسلامی ایران در امارات عربی متحده

مجتمع آموزشی پسرانه نمونه توحید دبی

مقطع راهنمایی نمونه توحید دبی

نام و نام خانوادگی:	کلاس:	تاریخ امتحان: ۸۹/۳/...
نام دبیر:	شماره صندلی:	سال تحصیلی ۸۸/۸۹
		وقت امتحان: دقیقه

((موفقیت شما آرزوی ماست))

2 با توجه به تصاویر به سوالات زیر پاسخ کامل بدهید. 2

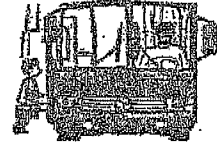
21. What are they doing?

.....



22. Does Tom walk to school?

.....



3 برای پاسخ های زیر سوال مناسب بسازید. 3

23. Whose ?

The boy's bag is on the desk.

24. When ?

He gets up at 6 every morning.

4 جاهای خالی را با کلمات مناسب کامل کنید. 4

25. Is Amir at home now? No, he at home yesterday.

26. Does he study English every day? No, he English now.

27. is that boy? That's Farid.

28. Please read this book. read that book, please.

3 جمله های زیر را به ترتیب صحیح بنویسید. 5

29. prayers / every day / mosque / say your / do / you / in the / ? /

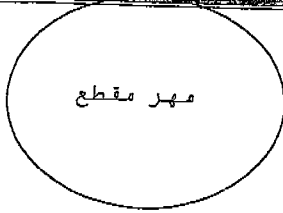
.....

30. well / feeling / now / you / are / ? /

.....

31. window / don't / at / they / look / the / . /

.....



سرپرستی مدارس جمهوری اسلامی ایران در امارات عربی متحده

مجتمع آموزشی پسرانه نمونه توحید دبی

مقطع راهنمایی نمونه توحید دبی

امتحان درس :	کلاس :	تاریخ امتحان : ۸۹/۳/...
نام و نام خانوادگی :	شماره صندلی :	سال تحصیلی ۸۸/۸۹
نام دبیر :		وقت امتحان : دقیقه

((موفقیت شما آرزوی ماست))

Comprehension

درک مطلب

متن زیر را با دقت بخوانید و به پرسش های آن پاسخ دهید .

This boy is Farzad. He has one brother and a sister. His sister's name is Zahra. She is a nurse.

Farzad is a student. He studies six days a week. He studies English on Sundays and Tuesdays. He plays football at school on Mondays. He plays it very well.

با توجه به متن به سوالات زیر پاسخ کامل دهید .

49. How many brothers does Zahra have?

.....

50. Does Farzad play in the park?

.....

51. How does Farzad play football ?

.....

با توجه به متن پاسخ صحیح را انتخاب کنید .

52. Farzad's sister is a (student – teacher – nurse)

53. Farzad plays football every (Sunday – Monday – Tuesday)

مهر مقطع

تاریخ امتحان: ۸۹/۳/۲۴	کلاس:	امتحان درس:
سال تحصیلی ۸۸/۸۹		نام و نام خانوادگی:
وقت امتحان: ۸۰ دقیقه	شماره صندلی:	نام دبیر:

((موفقیت شما آرزوی ماست))

Conversation

کتابچه

C

3 پاسخ مکالمه های زیر را در ردیف مقابل پیدا کنید و در نقطه چین ها بنویسید. (یک گزینه اضافی است.)

- | | |
|-------------------------------------|-------------------------------------|
| 32. Excuse me. | a) Yes, I do. What about you? |
| 33. Do you have a pencil? | b) Yes. |
| 34. What color is it? | c) See you tomorrow. |
| 35. Thank you. | d) You're welcome. |
| 36. Do you go to school by bus? | e) Yes, I do. |
| 37. I walk to school. OK. Good bye. | f) No, I was at home. |
| | g) It's red. Here you are. |

Pronunciation

کتابچه

D

1 تلفظ کدام کلمه با بقیه متفاوت است.

38. nine - ship - five - nice.
39. this - they - three - brother.

Spelling

کتابچه

F

6 دیکته کلمات ناقص را کامل کنید.

40. My (fr -- nd) is (ta - king) to the (c -- ldren) now.
41. The (sol -- er) was in the (l - br - ry).
42. Don't (w -- ch) (f - otbal -). Eat your (di -- er), please.
43. There was a (yel -- w) (p -- ture) on the wall.
44. Please sit on the (ben -- h) not on the (c - air).

2 دیکته کلمات را با توجه به تصاویر کامل کنید.



100


40

45. (t ---)

46. (sp ---)

47. (one hund ---)

48. (f --- y)



متجان درسی: ... زبان (انگلیسی)	کلاس: (دوم راهنما)	تاریخ امتحان: ۸۹/۳/...
نام و نام خانوادگی:	شماره صندلی:	سال تحصیلی ۸۸/۸۹
نام دبیر: جراتلری - خلیلی		وقت امتحان: ۱۰۰ دقیقه

((موفقیت شما آرزوی ماست))

بارم

Vocabulary

واژگان

ردیف A

در هر گروه از کلمات زیر کلمه ناهماهنگ خط بکشید.

1. call - be - come - late
2. his - he - my - your

1

جاهای خالی را با کلمات داده شده کامل کنید. (یک کلمه اضافی است.)

2

(ready - week - country - night - woman - putting - listening - leave - wash)

3. The boys are to the radio now.
4. I'm not for school yet.
5. He is on his jacket.
6. There are seven days in a
7. We come to school and there at 3:00.
8. We our hands and face every morning.
9. Iran is the name of our
10. He wasn't at home last

جاهای خالی را با کلمات مناسب کامل کنید.

3

11. It's one thirty. It's ..Half.. past one.
12. David wasn't absent yesterday. He was ..present
13. Does your class ..begin.. at 8 every morning? Yes, it does.
14. It's red. We drink it every morning with our breakfast. It isTea..

Grammar

گرامر

B

15. Do your brothers clean the house every day? No, don't. (my - they - the)
16. Does his father breakfast at home? (has - having - have)
17. Reza and I have a desk. It's desk. (Reza - my - our)
18. John his book now. (reads - reading - is reading)
19. Please point the map. (at - to - in)
20. Their teacher English on Tuesdays. (is teaching - teach - teaches)

1

امتحان درس :	کلاس :	تاریخ امتحان : ۸۹/۳/...
نام و نام خانوادگی :		سال تحصیلی ۸۸/۸۹
نام دبیر :	شماره صندلی :	وقت امتحان : دقیقه

((موفقیت شما آرزوی ماست))

2

با توجه به تصاویر به سوالات زیر پاسخ کامل بدهید .

21. What are they doing?

They are playing football.



22. Does Tom walk to school?

No, he doesn't. He goes to school by bus.

3

برای پاسخ های زیر سوال مناسب بسازید .

23. Whose bag is on the desk?

The boy's bag is on the desk.

24. When does he get up every morning?

He gets up at 6 every morning.

4

جاهای خالی را با کلمات مناسب کامل کنید .

25. Is Amir at home now? No, he was at home yesterday.

26. Does he study English every day? No, he is studying English now.

27. who is that boy? That's Farid.

28. Please read this book. Don't read that book, please.

3

جمله های زیر را به ترتیب صحیح بنویسید .

29. prayers / every day / mosque / say your / do / you / in the / ? /

Do you say your prayers in the mosque every day?

30. well / feeling / now / you / are / ? /

Are you feeling well now?

31. window / don't / at / they / look / the / . /

They Don't look at the window.

نام و نام خانوادگی:	کلاس:	تاریخ امتحان: ۸۹/۳/...
نام دبیر:	شماره صندلی:	سال تحصیلی ۸۸/۸۹
		وقت امتحان: دقیقه

((موفقیت شما آرزوی ماست))

Conversation

3

پاسخ مکالمه های زیر را در ردیف مقابل پیدا کنید و در نقطه چین ها بنویسید. (گزینه اضافه است.)

- | | |
|-------------------------------------|---|
| 32. Excuse me. | ...3.6..... a) Yes, I do. What about you? |
| 33. Do you have a pencil? | ...3.2.... b) Yes. |
| 34. What color is it? | ...3.7.... c) See you tomorrow. |
| 35. Thank you. | ...3.5.. d) You're welcome. |
| 36. Do you go to school by bus? | ...3.3.... e) Yes, I do. |
| 37. I walk to school. OK. Good bye. | f) No, I was at home. |
| | ...34..... g) It's red. Here you are. |

1

Pronunciation

1

تلفظ کدام کلمه با بقیه متفاوت است.

38. nine - ship - five - nice. ship
39. this - they - three - brother. this

D

Spelling

6

دیکنه کلمات ناقص را کامل کنید.

40. My (fr i e n d) is (ta t k i n g) to the (c h i l d r e n) now.
41. The (s o l d i e r) was in the (l i b r a r y).
42. Don't (w a t c h) (f o o t b a l l). Eat your (d i n n e r), please.
43. There was a (y e l l o w) (p i c t u r e) on the wall.
44. Please sit on the (b e n c h) not on the (c h a i r).

1

2

دیکنه کلمات را با توجه به تصاویر کامل کنید.

2



100

40

45. (tree)

46. (spoon)

47. (one hundred)

48. (forty)

3

امتحان درس :	کلاس :	تاریخ امتحان : ۸۹/۳/...
نام و نام خانوادگی :	سال تحصیلی ۸۸/۸۹	
نام دبیر :	شماره صندلی :	وقت امتحان : دقیقه

((موفقیت شما آرزوی ماست))

Comprehension

درک مطلب

متن زیر را با دقت بخوانید و به پرسش های آن پاسخ دهید .

This boy is Farzad. He has one brother and a sister. His sister's name is Zahra. She is a nurse. Farzad is a student. He studies six days a week. He studies English on Sundays and Tuesdays. He plays football at school on Mondays. He plays it very well.

3

1

با توجه به متن به سوالات زیر پاسخ کامل دهید .

49. How many brothers does Zahra have?

she...has...two...brothers.....

50. Does Farzad play in the park?

No, he doesn't. He plays at school.

51. How does Farzad play football?

He...plays... (Football) very well.
(it)

1

2

با توجه به متن پاسخ صحیح را انتخاب کنید .

52. Farzad's sister is a (student - teacher - nurse)

53. Farzad plays football every (Sunday - Monday - Tuesday)

مهر مجتمع

باسمه تعالی

سرپرستی مدارس جمهوری اسلامی ایران درامارات عربی متحده
مجتمع آموزشی نمونه و بین الملل توحید پسران
مقطع راهنمایی مجتمع توحید

تاریخ امتحان : ۸۹/۳/۱	پایه : دوم	قرآن
سال تحصیلی ۸۸/۸۹		نام و نام خانوادگی :
وقت امتحان : ۳۰ دقیقه	شماره صندلی :	نام دبیر : علی محمدی - نعمت زاده

جاودان - باد ها - وعده داد - آتش - قراردادیم - شک و تردید

۱- کلمات قرآنی زیر را با استفاده از کلمات داده شده ترجمه کنید.

خُلِدَ (.....) رِبِّ (.....) رِيحٍ (.....) جَعَلْنَا (.....)

۲- ترجمه ی صحیح هر عبارت را علامت بزنید.

- *** ذوقوا عذاب الخلد (الف) چشیدند عذاب جاودان را
- *** عالم الغیب والشهادة (الف) نهان و آشکار را می داند
- (ب) بچشید عذاب جاودان را
- (ب) دانای نهان و آشکار

۳- ترکیب های زیر را ترجمه کنید.

- الف - هذه القرية (.....) ب- لِقَوْمٍ يوقنون (.....)
- ج- يَغْفِرْ لَكُمْ (.....) د- تأس شديد (.....)
- هـ- لِيذْكُرِ اللّٰهَ (.....) و- اجر كريم (.....)

۴- آیات زیر را ترجمه کنید.

الف- فَأَمَّا الَّذِينَ آمَنُوا وَعَمِلُوا الصَّالِحَاتِ

ب- وَخَلَقَ اللّٰهُ السَّمَاوَاتِ وَالْأَرْضَ بِالْحَقِّ

ج- مَنْ عَمِلَ صَالِحًا فَلِنَفْسِهِ

د- وَيَغْفِرْ لَكُمْ وَاللّٰهُ غَفُورٌ رَّحِيمٌ

هـ- سَابِقُوا إِلَى مَغْفِرَةٍ مِنْ رَبِّكُمْ

نمره با حروف :

نمره با عدد :

امضا

نام و نام خانوادگی مصحح :

سال تحصیلی: ۸۸-۸۹
تاریخ امتحان:
شماره صفحه:



راهنمای تصحیح درس: قرآن
پایه: دهم
دوره:
رشته:

نمون برگ شماره ۲

۱- لطفا پاسخ سوالات بطور کامل قید گردد (با ذکر ریز بارم) ۲- از دادن آدرس بعنوان مثال (مراجعه به متن ص ۲۰ و یا... خودداری شود)

بارم	راهنمای تصحیح	دیف
	<p>۱- جاودان ۱۵ / شک و تردید ۲۵ / بادها ۲۵ / قرار دارم ۲۵ /</p> <p>۲- بچسبید عذاب جاودان را ۱۵ / دانای نهان و آشکار ۱۵ /</p> <p>۳- این شهر ۱۵ / ب - برای قوی که یقین می کنند ۱۵ /</p> <p>ج - می آموزد برای شما ۱۵ / د - عذاب شدید ۱۵ /</p> <p>ه - برای یاد خدا ۱۵ / و - یاد اس غنیمت (بزرگ) ۱۵ /</p> <p>۴- الف - پس کسانی که ایمان آوردند و کارهای نیک انجام دادند ۱ /</p> <p>ب - و آفرید خدا آسمان ها و زمین را به حق ۱ /</p> <p>ج - کسی که عمل کرد کار نیک پس برای خودش است ۱ /</p> <p>د - و می آموزد برای شما و خدا آفریند، هر بان است ۱ /</p> <p>ه - کسب بگرید بگوئی آرزوش از پروردگارتان ۱ /</p>	

به نام خدا
سرپرستی مدارس جمهوری اسلامی ایران در امارات عربی متحده
مجتمع آموزشی نمونه توحید دختران

نام و نام خانوادگی :	پایه تحصیلی: دوم راهنمایی	مدت امتحان: 75 دقیقه * تاریخ امتحان: ۱/۳/۸۹
نام کلاس :	نام درس : قرآن	نام دبیر: ستوده
نمره به عدد :	نمره به حروف :	امضا دبیر:

ردیف	سوال	نمره
1	<p style="text-align: center;">آیات و عبارات قرآنی زیر را ترجمه کنید .</p> <p>(1) هَذَا كِتَابُنَا يَنْطِقُ عَلَيْكُمْ بِالْحَقِّ</p> <p>(2) فَبَيَّنَّا خَلْقَهُمْ رَبُّهُمْ فِي رَحْمَتِهِ ي</p> <p>(3) وَ خَلَقَ اللَّهُ السَّمَاوَاتِ وَالْأَرْضِ بِالْحَقِّ</p> <p>(4) وَ سَخَّرَ لَكُمْ مَا فِي السَّمَاوَاتِ وَ مَا فِي الْأَرْضِ جَمِيعًا مِنْهُ</p> <p>(5) فَبَيَّنَّا حَدِيثَ بَعْدَ اللَّهِ وَ آيَاتِهِ ي يُؤْمِنُونَ</p> <p>(6) يَا أَيُّهَا الَّذِينَ آمَنُوا اتَّقُوا اللَّهَ وَ آمِنُوا بِرَسُولِهِ ي</p> <p>(7) وَ يَغْفِرْ لَكُمْ وَ اللَّهُ غَفُورٌ رَحِيمٌ</p> <p>(8) وَ أَنْزَلْنَا الْحَدِيدَ فِيهِ بَأْسٌ شَدِيدٌ وَ مَنَافِعٌ لِلنَّاسِ</p>	8

ردیف	سوال	نمره
2	<p style="text-align: center;">با توجه به کلمات داده شده معنی لغات زیر را بنویسید .</p> <p style="text-align: center;">زنده کرد - روز قیامت - آفرینم - ظلم کردند - ایمان آوردیم - جاودان - گفتیم - فایده ها</p> <p>مَنَافِعُ ()</p> <p>قُلْنَا ()</p> <p>خَالِدِينَ ()</p> <p>أَحْيَا ()</p> <p>ءَامِنًا ()</p> <p>ظَلَمُوا ()</p> <p>خَلَقْنَا ()</p> <p>السَّاعَةَ ()</p>	4

به نام خدا
 سرپرستی مدارس جمهوری اسلامی ایران در امارات عربی متحده
 مجتمع آموزشی نمونه توحید دختران

نام و نام خانوادگی:	پایه تحصیلی: دوم راهنمایی	مدت امتحان: 75 دقیقه * تاریخ امتحان: ۳/۱/۸۷
نام کلاس:	نام درس: قرآن	نام دبیر: ستوده
نمره به عدد:	نمره به حروف:	امضا دبیر:

بهرم	ریف
	3
	<p style="text-align: center;">ترجمه ی صحیح عبارت ها را علامت بزنید .</p> <p>(1) و لدار الاخرة خیر للذین اتقوا</p> <p>الف) و قطعاً خانه ی آخرت بهتر است پس تقوا داشته باشید . ب) قطعاً خانه ی آخرت بهتر است برای کسانی که تقوا داشتند .</p>
2	<p>(2) الله اعلم حیث یجعل رسالته</p> <p>الف) خدا می داند کجا قرار می دهد رسالتش را . ب) خدا دانا تر است کجا قرار دهد رسالتش را .</p>
	<p>(3) و الله یوتی ملکه من یشاء</p> <p>الف) و خدا فرمانروایی اش را به هر کس که بخواهد ، می دهد . ب) و خدا فرمانروایی اش را به هر کس که خواست ، داد .</p>
	<p>(4) فلیتوکل المومنون</p> <p>الف) پس باید توکل کنند مومنان ب) پس توکل کردند مومنان</p>
6	<p style="text-align: center;">ترکیب های زیر را ترجمه کنید .</p> <p>(1) مَا یَبِئْتُ) (7 تَدْعُنِی اِلَیْ کِتَابِهَا) () (2) نَتْلُوْهَا) (8 لَا رَیْبَ فِیْهِ) () (3) یُكَفِّرُ عَنْهُ) (9 یَنْطِقُ عَلَیْكُمْ) () (4) رِزْقَانِهِمْ) (10 هُمْ الصّٰدِقُوْنَ) () (5) یَغْفِرُ لَكُمْ) (11 فِی سِتَّةِ الْاِیَّامِ) () (6) اَرْسَلْنَا رُسُلَنَا) (12 مِنْ حَسْبِیَ اللّٰهُ) ()</p> <p style="text-align: center;">فرزندان عزیز ، در پناه حق موفق باشید . ستوده</p>

مجمع آموزشی خطبه کبری (س)

سال تحصیلی ۸۹ - ۸۸

نام درس : قرآن

مقطع تحصیلی : راهنمایی

نام و نام خانوادگی :

پایه تحصیلی : دوم

نوبت امتحان : خرداد ماه

مدت امتحان : ۳۰ دقیقه

بارم	سوال	ردیف																								
۱	<p>با استفاده از کلمات داده شده جدول های زیر را کامل کنید.</p> <p>(رام کرد ، می داند ، جاودان ، پاداش می دهیم.)</p> <table border="1"> <thead> <tr> <th>معنا</th> <th>کلمه</th> <th></th> <th>معنا</th> <th>کلمه</th> <th></th> </tr> </thead> <tbody> <tr> <td></td> <td>سَخَّرَ</td> <td>۴</td> <td>فکر می کنند</td> <td>يَتَفَكَّرُونَ</td> <td>۱</td> </tr> <tr> <td></td> <td>خُلِدَ</td> <td>۵</td> <td></td> <td>يَعْلَمُ</td> <td>۲</td> </tr> <tr> <td>عدل و داد</td> <td>قسط</td> <td>۶</td> <td></td> <td>نجزی</td> <td>۳</td> </tr> </tbody> </table>	معنا	کلمه		معنا	کلمه			سَخَّرَ	۴	فکر می کنند	يَتَفَكَّرُونَ	۱		خُلِدَ	۵		يَعْلَمُ	۲	عدل و داد	قسط	۶		نجزی	۳	۱
معنا	کلمه		معنا	کلمه																						
	سَخَّرَ	۴	فکر می کنند	يَتَفَكَّرُونَ	۱																					
	خُلِدَ	۵		يَعْلَمُ	۲																					
عدل و داد	قسط	۶		نجزی	۳																					
۳	<p>ترکیب های زیر را معنا کنید.</p> <table border="1"> <thead> <tr> <th>معنا</th> <th>ترکیب</th> <th></th> <th>معنا</th> <th>ترکیب</th> <th></th> </tr> </thead> <tbody> <tr> <td></td> <td>بأسٌ شديدٌ</td> <td>۴</td> <td></td> <td>مَنْ اتَّخَذَ</td> <td>۱</td> </tr> <tr> <td></td> <td>أَصْحَابُ الْجَحِيمِ</td> <td>۵</td> <td></td> <td>تَصْرِيفِ الرِّيَّاحِ</td> <td>۲</td> </tr> <tr> <td></td> <td>سَبَّحَ لِلَّهِ</td> <td>۶</td> <td></td> <td>يَغْفِرُ لَكُمْ</td> <td>۳</td> </tr> </tbody> </table>	معنا	ترکیب		معنا	ترکیب			بأسٌ شديدٌ	۴		مَنْ اتَّخَذَ	۱		أَصْحَابُ الْجَحِيمِ	۵		تَصْرِيفِ الرِّيَّاحِ	۲		سَبَّحَ لِلَّهِ	۶		يَغْفِرُ لَكُمْ	۳	۲
معنا	ترکیب		معنا	ترکیب																						
	بأسٌ شديدٌ	۴		مَنْ اتَّخَذَ	۱																					
	أَصْحَابُ الْجَحِيمِ	۵		تَصْرِيفِ الرِّيَّاحِ	۲																					
	سَبَّحَ لِلَّهِ	۶		يَغْفِرُ لَكُمْ	۳																					
۱	<p>ترجمه ی صحیح هر عبارت را علامت بزیند.</p> <p>۱- وَقِيلَ لَهُمْ ذُوقُوا عَذَابَ النَّارِ</p> <p>الف- و به آنها گفته شد، بچشید عذاب آتش را <input type="checkbox"/></p> <p>ب- و به آنها می گویند ، بچشید عذاب جهنم را <input type="checkbox"/></p> <p>۲- وَاللَّهُ بِمَا تَعْمَلُونَ بَصِيرٌ</p> <p>الف- و خداوند به آنچه انجام می دهید بیناست. <input type="checkbox"/></p> <p>ب- و خدا به آنچه انجام دادید داناست. <input type="checkbox"/></p>	۳																								
۰/۵	<p>ترجمه ی هر عبارت را با آن مقایسه کنید و ترجمه صحیح را مقابل آن بنویسد.</p> <table border="1"> <tbody> <tr> <td>پس دانستند</td> <td>فَعَلَمُوا</td> <td>۱</td> </tr> <tr> <td>که خدا سرپرست آن هاست</td> <td>أَنَّ اللَّهَ مَوْلَاكُمْ</td> <td>۲</td> </tr> </tbody> </table>	پس دانستند	فَعَلَمُوا	۱	که خدا سرپرست آن هاست	أَنَّ اللَّهَ مَوْلَاكُمْ	۲	۴																		
پس دانستند	فَعَلَمُوا	۱																								
که خدا سرپرست آن هاست	أَنَّ اللَّهَ مَوْلَاكُمْ	۲																								

نام و نام خانوادگی :

باسمه تعالی

جای مهر

تاریخ : ۸۹/۳/

اداره کل مدارس خارج از کشور

نام دبیر : خانجمدی

سرپرستی مدارس جمهوری اسلامی ایران در امارات عربی متحده

نام پدر :

مجتمع آموزشی شارجه (دوره راهنمایی دختران) خردادماه ۸۹

شعبه ی کلاس :

تعداد صفحه : ۲

نام درس : قرآن

پایه : دوم

مدت پاسخگویی : ۶۰ دقیقه

نمره به عدد :

نمره به حروف :

نام و نام خانوادگی مصحح و امضاء :

س	سؤالات	ن
۱	معنای لغات زیر را بنویسید. ثَرَى : رَيْب : سَخَّرَ : بَأْس : ذوقوا : السَّاعَةَ : فاسق : مَتَاع :	۲
۲	ترکیب های زیر را به کمک هم گروه خود معنا کنید. الْيَوْمَ نُجْزُونَ : لَعَلَّكُمْ تَشْكُرُونَ : كِعْرَضِ السَّمَاءِ : أَجْرٌ كَرِيمٌ : إِن وَعَدَ اللَّهُ حَقًّا : تَصْرِيفِ الرِّيَّاحِ : وَنِعْمَ النَّصِيرُ : فِي سِتِّهِ أَيَّامٍ :	۶
۳	ترجمه صحیح هر عبارت را علامت بزنید ؟ ۱- وَقِيلَ لَهُمْ ذُوقُوا عَذَابَ النَّارِ <input type="checkbox"/> الف- وبه آنها گفته شد، بچشید عذاب آتش را <input type="checkbox"/> ب- وبه آنها می گویند، بچشید عذاب جهنم را ۲- قَلِيلًا مِّنَ الْمُؤْمِنِينَ <input type="checkbox"/> الف- پس توکل کردند مومنان <input type="checkbox"/> ب- پس باید توکل کنند مومنان ۳- وَاللَّهُ يَمَّا تَعْمَلُونَ بَصِيرٌ <input type="checkbox"/> الف- و خداوند به آنچه انجام می دهید بیناست <input type="checkbox"/> ب- و خدایه آنچه انجام دادید داناست ۴- وَإِلَى الْأَسْمَاءِ الْحُسْنَى <input type="checkbox"/> الف- و بهترین نام ها برای خداست <input type="checkbox"/> ب- و بهترین نام ها برای اوست	۱
۴	پیام قرآنی زیر را ترجمه کامل کنید. أَلَمْ يَأْنِ لِلَّذِينَ آمَنُوا أَنْ تَخْشَعَ قُلُوبُهُمْ لِذِكْرِ اللَّهِ	۱

۲	<p>۵ باتوجه به عبارات قرآنی ترجمه را کامل کنید.</p> <p>۱- وَاللَّهُ يُوتِي مُلْكَهُ مَنْ يَشَاءُ و خداوند فرمانروایی اش را ۲- يُسَبِّحُ لِلَّهِ مَا فِي السَّمَاوَاتِ وَمَا فِي الْأَرْضِ آنچه در آسمان ها و آنچه در زمین است ۳- وَإِذْ قُلْنَا ادْخُلُوا هَذِهِ الْقَرْيَةَ و هنگامی که گفتیم ۴- هَلْ يَسْتَوِي الَّذِينَ يَعْلَمُونَ وَالَّذِينَ لَا يَعْلَمُونَ آیا مساوی هستید کسانی که</p>
۸	<p>۶ عبارات قرآنی زیر را ترجمه کامل کنید.</p> <p>۱- وَخَلَقَ اللَّهُ السَّمَاوَاتِ وَالْأَرْضَ بِالْحَقِّ ۲- وَلَكِنَّ أَكْثَرَ النَّاسِ لَا يَعْلَمُونَ ۳- مَنْ عَمِلَ صَالِحًا فَلِنَفْسِهِ ۴- فَأَحْيَا بِهِ الْأَرْضَ بَعْدَ مَوْتِهَا ۵- وَجَنَّهُ عَرْضُهَا عَرْضَ السَّمَاءِ وَالْأَرْضِ ۶- لَهُمْ مَغْفِرَةٌ وَأَجْرٌ عَظِيمٌ ۷- سَبِّحْ لِلَّهِ مَا فِي السَّمَاوَاتِ وَالْأَرْضِ ۸- فَأَمَّا الَّذِينَ ءَامَنُوا وَعَمِلُوا الصَّالِحَاتِ</p>
۲۰	<p>«موفق باشی» جمع بارم</p>

نام و نام خانوادگی:

سرپرستی مدارس جمهوری اسلامی ایران - ادارات

تاریخ: ۱۳۸۹/۳/۱

مجتمع آموزشی امام خمینی (ره) ابوظبی

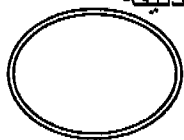
پایه و رشته تحصیلی: دوم راهنمایی

امتحان درس: قرآن

وقت: ۳۰ دقیقه

نام دبیر: علی ایزدی

شماره صندلی:



ردیف	سوالات	بارم
۱	معنی کلمات زیر را بنویسید . فائزون : متاع : اذن : فاسق :	۱
۲	ترکیب های زیر را معنا کنید . الف) وَ إِذَا قِيلَ : ب) تَصْرِيفَ الرِّيَّاحِ : ج) نِعَمَ الْمَوْلَى : د) لِقَوْمٍ يوقنونَ : ه) كَثِيرٌ مِنْهُمْ :	۳
۳	ترجمه ی عبارات زیر را کامل کنید . الف) رَبُّكُمْ وَ رَبُّ آبَائِكُمُ الْأَوَّلِينَ : پروردگار و پروردگار اولیه شما ب) وَ عَلَى رَبِّهِمْ يَتَوَكَّلُونَ : و بر توکل می کنند	۱
۴	ترجمه ی صحیح را با علامت × مشخص کنید . ۱- وَ أَنَّ الْفَضْلَ بَعْدَ اللَّهِ يُؤْتِيهِ مَنْ يَشَاءُ <input type="checkbox"/> الف) و قطعا بخشش از سوی خداست . آن را به همه می دهد . <input type="checkbox"/> ب) و قطعا بخشش به دست خداست . آن را به هرکس بخواهد ، می دهد . ۲- نَوْقُوا عَذَابَ الْخُلْدِ <input type="checkbox"/> الف) چشیدند عذاب جاودان را <input type="checkbox"/> ب) بچشید عذاب جاودان را	۱

نام دبیر :

تعداد صفحه : ۱


مدت پاسخگویی : ۴۵ دقیقه

شماره ی کلاس :

پایه : دوم راهنمایی

نام درس : قرآن

ردیف	سئوالات	ردیف
۱	معنای کلمات زیر را بنویسید. الف) فوز ب) جحیم ج) کفلین د) تصریف	۱
۲	معنای ترکیبات زیر را بنویسید الف) لعلهم یتفکرون د) هم الصدّیقون ب) وکذبوا بایاتنا ه) انزلنا الحديد ج) وهو معکم و) فَمِنْهُمْ مُهْتَدٍ	۲
۳	کدام گزینه صحیح است؟ ۱) هو الذی خلقکم: الف) او آفرید شمارا ○ ۲) الله اعلم حیث یجعل رسالته الف) خدا می داند کجا قرار دهد رسالتش را ○ ب) او کسی است که آفرید شما را ○ ب) خدا داناتراست کجا قرار دهد رسالتش را ○	۳
۴	آداب ظاهری تلاوت را بنویسید ۴۰ مورد.	۴
۵	ترجمه کنید: الف) اصحاب الجنه هم الفائزون ج) فیضاعفه له وله اجر کریم ه) والرسول یدعوکم لتؤمنوا برکم ز) وتتری کل امه جائیه ب) انما اموالکم و اولادکم فتنه د) والله ذو الفضل العظیم و) فاحیا به الارض بعد موتها ح) والله ملک السموات والارض	۵
	برای پاسخ میتوانید از پشت برگه سؤال استفاده کنید.	
	موفق باشید	

یاسمه تعالی  اداره کل آموزش و پرورش مدارس خارج از کشور	سوالات امتحان درس قرآن پایه: سوم دوره: راهنمایی	سال تحصیلی: ۱۳۸۸/۸۹ تاریخ امتحان: ۸۹، ۳، ۱ ساعت امتحان: ۱۰ صبح به وقت تهران مدت امتحان: ۳۵ دقیقه شماره صفحه: ۱
--	---	--

ردیف	سوالها	کشور:	شهر:	بارم	ام و نام خانوادگی دانش آموز:
۱	کلمه «نَصِير» به معنی سرپرست است . ص <input type="checkbox"/> غ <input type="checkbox"/>			۰/۲۵	
۲	آیا ترجمه صحیح کلمه «تَخَلَّت» «گذشته» می باشد؟ بلی <input type="checkbox"/> خیر <input type="checkbox"/>			۰/۲۵	
۳	ترجمه صحیح را × بزنید: الف) سَعِير: بازگشت <input type="checkbox"/> آتش سوزان <input type="checkbox"/> ب) سَارِعُوا: از یکدیگر سبقت بگیرید <input type="checkbox"/> بشتابید <input type="checkbox"/>			۰/۲۵	
۴	باتوجه به ترجمه، کلمه مناسب را برای عبارت قرآنی پیدا کنید. وَعَلَى اللَّهِ الْمُؤْمِنُونَ : (فَلْيَتَوَكَّلِ - تَوَكَّلْتُ) و بر خدا پس باید توکل کنند مومنان .			۰/۲۵	
۵	ترجمه عبارت دارای نکته ای است که آموختید و بایک خط مشخص شده عبارت را معنی کنید . (اُولَئِكَ هُمُ الْمُتَّقُونَ)			۰/۵	
۶	ترجمه مناسب را انتخاب کنید : فَاغْفِرْ لِلَّذِينَ تَابُوا . الف) پس می آمرزد کسانی را که توبه می کنند <input type="checkbox"/> ب) پس پیامرز کسانی را که توبه کردند <input type="checkbox"/>			۰/۲۵	

نمره کتبی:	نمره شفاهی:	به عدد:	به حروف:	نام و نام خانوادگی مصحح:	امضاء
------------	-------------	---------	----------	--------------------------	-------



نام و نام خانوادگی دانش آموز / داوطلب آزاد : کشور / شهر :

بارم	ردیف	سوال
		(A) دور پاسخ صحیح خط بکشید.
۰/۲۵	۱	در تساوی $7^x \times 7^y = 7^z$ کدام عدد را می توان نوشت؟ الف) ۴ (ب) ۸ (ج) ۹ (د) ۱۰
۰/۲۵	۲	نمایش در مبنای ۲ کدام گزینه است؟ الف) ۱۰۱۰۱۱ (ب) ۱۱۰۰۰۱۱ (ج) ۰۱۱۰۱۱۱ (د) ۱۰۱۰۰۱۱
۰/۲۵	۳	حاصل $\sqrt{25}$ کدام است؟ الف) ۵ (ب) ۰/۰۵ (ج) ۱۰ (د) ۰/۱۰۰
۰/۲۵	۴	ساده شده کسر $\frac{25 \times 32}{40}$ کدام است؟ الف) ۲۰ (ب) ۱۲/۵ (ج) -۱۲/۵ (د) -۲۰
۰/۲۵	۵	حاصل عبارت $\begin{bmatrix} 8 \\ -2 \end{bmatrix} + \begin{bmatrix} 2 \\ 2 \end{bmatrix}$ کدام گزینه است؟ الف) $\begin{bmatrix} 0 \\ 0 \end{bmatrix}$ (ب) $\begin{bmatrix} 10 \\ 0 \end{bmatrix}$ (ج) $\begin{bmatrix} 10 \\ 4 \end{bmatrix}$ (د) $\begin{bmatrix} 0 \\ 4 \end{bmatrix}$
۰/۲۵	۶	کدام یک از گزینه های زیر مرکز تقارن ندارد؟ الف) مربع (ب) مثلث (ج) مستطیل (د) لوزی
۰/۲۵	۷	در کدام گزینه قطر ها مساویند؟ الف) مربع (ب) لوزی (ج) متوازی الاضلاع (د) دوزنقه
۰/۲۵	۸	دو خط عمود بر یک خط الف) عمودند (ب) مساویند (ج) موازیند (د) همه موارد
		(B) صحیح و غلط را مشخص کنید
۰/۲۵		الف) استوانه یک منشور است. <input type="checkbox"/>
۰/۲۵		ب) هرم مجموعه زیر مجموعه خودش است. <input type="checkbox"/>
۰/۲۵		ج) دو خط موازی با یک خط با هم موازیند. <input type="checkbox"/>
		(C) جای خالی را کامل کنید.
۰/۲۵		الف) مجموع زاویه ها در هر متوازی الاضلاع درجه می باشد.
۰/۲۵		ب) مثلث متساوی الاضلاع دارای محور تقارن است.
۰/۲۵		ج) در ضرب اعداد تواندار با توان مساوی، یکی از توانها را می نویسیم و پایه ها را می کنیم.
		(D) سنوالات تشریحی
۰/۵	۱	محور اعداد را رسم کنید و بردار +۴ ابتدا در ۲- را روی آن رسم کنید و برای آن یک جمع بنویسید.



اداره کل آموزش و پرورش
مدارس خارج از کشور

سوال درس : ریاضی و رسم

پایه : دوم

دوره : راهنمایی

زشته :

سال تحصیلی : ۱۳۸۸/۸۹

تاریخ امتحان : ۱۳۸۹ / ۳ / ۳

ساعت امتحان : ۱۰ صبح : رفق تهران

مدت امتحان : ۱۲۰ دقیقه

شماره صفحه : ۲

نام و نام خانوادگی دانش آموز / داوطلب آزاد : کشور / شهر :

بارم	ردیف	سوال
۰/۵	۲	باتوجه به شکل مقابل: الف) مجموعه های A و B را به وسیله اعضاء بنویسید. $A = \{ \quad \quad \quad \} , B = \{ \quad \quad \quad \}$
۰/۲۵		ب) جای خالی را کامل کنید. (\subset یا $\not\subset$) $A \square B$
۰/۵	۳	الف) حاصل عبارتهای زیر را بدست آورید. $\begin{aligned} (-12) + (+25) &= \\ (+25) \times (-4) &= \\ (-5) - (-7) &= \end{aligned}$
۰/۵		ب) در يك صبح زمستاني دماي هواي مکه ۲۵ درجه بالاي صفر است در همين زمان دماي هواي شهر شیراز ۹ درجه از مکه سردتر است. دماي هواي شهر شیراز چند درجه است؟
۰/۲۵	۴	عبارتهای زیر را به صورت يك عدد تواندار بنویسید. $14^3 \div 14^1 =$ $8^1 \times 2^1 =$
۰/۷۵	۵	الف) نمایش عدد روبرو را در مبناي معمولي بنویسید. $(3.1)_4 =$
۰/۷۵	۶	جذر تقریبي روبرو را بدست آورید. $\sqrt{28}$
۰/۷۵	۷	نقاط A و B را روی محور اعداد مشخص کنید. سپس بردار AB را رسم کنید و طول این بردار را بدست آورید. $A =$ $B =$

نمره کتبی : نمره شفاهی / عملی : جمع نمره به عدد : به حروف : نام و نام خانوادگی مصحح : امضا



نام و نام خانوادگی دانش آموز / داوطلب آزاد : کشور / شهر :

بارم	ردیف	سوال
۰/۷۵	۸	حاصل عبارتهای زیر را به ساده ترین صورت ممکن بدست آورید. $\frac{-18}{3} - \frac{7}{3} =$ $\frac{-8}{30} \times \frac{10}{4} =$ $\frac{42}{20} \div \frac{-7}{5} =$
۰/۵	۹	الف) عبارت جبری مقابل را ساده کنید. $2x + 10y - 14x + 8y =$ ب) جدول زیر را کامل کنید.
۱	۱۰	الف) معادله های رویرو را حل کنید. $20x - 12 = 32$ $3x = -12$
۰/۵	۱۱	الف) مختصات نقاط A و B را در دستگاه زیر پیدا کنید. $A = \begin{bmatrix} +5 \\ +2 \end{bmatrix}$ $B = \begin{bmatrix} -3 \\ 0 \end{bmatrix}$ ب) بردار AB را رسم کنید و مختصات آن را بنویسید. $\vec{AB} = [\quad]$
۱	۱۲	در شکل زیر چرا دو مثلث AMC و AMD با هم مساویند؟

سوال درس : ریاضی و رسم
پایه : دوم
دوره : راهنمایی
رشته :



اداره کل آموزش و پرورش
مدارس خارج از کشور

سال تحصیلی : ۱۳۸۸/۸۹
تاریخ امتحان : ۱۳۸۹/۳/۳
ساعت امتحان : ۱۰ صبح به وقت تهران
مدت امتحان : ۱۲۰ دقیقه
شماره صفحه : ۴

نام و نام خانوادگی دانش آموز / داوطلب آزاد : کشور / شهر :

بارم	ردیف	سوال
۰/۵	۱۳	الف) دو خط d و e موازیند. زاویه های خواسته شده را بنویسید.
۰/۵		ب) اندازه زاویه تند در يك مثلث ۵۷ و ۴۸ درجه مي باشد. زاویه تند دیگر مثلث چند درجه است؟
۱	۱۴	يك لوزي رسم كنيد كه طول قطرهاي آن ۴ و ۶ سانتيمتر باشد. (مراحل رسم را بنویسید)
۱	۱۵	مساحت قسمت رنگي را بدست آورید.
۰/۷۵	۱۶	طول و عرض قاعده يك منشور ۱۵ و ۳ سانتی متر می باشد. اگر ارتفاع این منشور ۶ سانتی متر باشد، حجم منشور را بدست آورید.
۱	(E) رسم	دو خط عمود بر هم رسم کنید که همدیگر را نصف کنند و اندازه هر کدام ۱۰ سانتی متر باشد. سپس هر چهار پایه خط را به ۵ قسمت مساوی تقسیم کنید. و مانند نمونه کامل کنید.



پایه:	دوم
دوره:	اولی
رشته:	

۱- لطفاً پاسخ سوالات بطور کامل قید گردد. (با ذکر ریز بارم) قابل توجه طراحان: ۲- از دادن آدرس بعنوان مثال (مراجعه به متن ص ۲۰ و یا ... کتاب خودداری شود).

بارم	ردیف
۶	<p>(A) سوالات چهارگزینه‌ای (هر کدام ۲/۲۵)</p> <p>۱- ج ۲- ب ۳- الف ۴- الف ۵- ب ۶- ب ۷- الف ۸- ج</p>
۷	<p>(B) سوالات صحیح و غلط (هر کدام ۲/۲۵)</p> <p>الف) ص (ب) ص (ج) ص © کامل کنید (هر کدام ۲/۲۵) الف) ۳% (ب) ۳ (ج) ص</p>
۸	<p>(D) سوالات تشریحی</p> <p>۱- $(-2) + (+2) = +2$</p> <p>۲- الف) $A = \{-7, 23, 1, 3, 18, 13\}$ ب) $B = \{-7, 23, 1, 3\}$ ج) $A \subset B$</p> <p>۳- الف) $(-12) + (+25) = +13$ ب) $(+25) \times (-4) = -100$ ج) $(-5) - (-7) = (-5) + (+7) = +2$ د) $(+25) + (-9) = +16$ دمای هوای شیراز</p> <p>۴- $14^3 \div 14^1 = 14^2$ $8^7 \times 2^7 = 16^7$</p> <p>۵- $12 \times 1 = 12$ $(3 \cdot 1) \times 1 = 3$</p> <p>۶- $V = 10 \times 22 \times 4 = 220 \text{ cm}^3$</p>
۹	<p>۱- الف) $-12x + 23y$</p> <p>۲- $3b - 2$</p> <p>۳- $25x - 12 = 32$ $25x = 32 + 12 = 44$ $x = \frac{44}{25}$</p> <p>۴- $3x = 12$ $x = \frac{12}{3} = 4$</p> <p>۵- $25x - 12 = 32$ $25x = 32 + 12 = 44$ $x = \frac{44}{25}$</p>
۱۰	<p>۱- الف) $AB = \begin{bmatrix} 1 \\ -2 \end{bmatrix}$</p> <p>۲- $AB = AC = 5 \text{ cm}$ $AM = AM$ $\implies AMC = AMD$</p> <p>۳- $\hat{A} = 57^\circ$, $\hat{B} = 110^\circ - 57^\circ = 53^\circ$ $38 + 57 = 95^\circ$, $110^\circ - 105^\circ = 5^\circ$</p> <p>۴- در یک ربع عمود بر هم به اصل یک زاویه ۶۰ درجه عمود منصف م (۱) منتهی به وسیله گویا رسم کنیم پس در هر یک فقط حاد به هم وصل کنیم $S = 10 \times 5 = 50$ $S = \frac{(7+1) \times 5}{2} = 20$</p>



نام و نام خانوادگی دانش آموز / داوطلب آزاد: کشور / شهر:

بارم	ردیف	سوال	پاسخ صحیح
		(A) دور پاسخ صحیح خط بکشید.	
۰/۲۵	۱	در تساوی $7^3 \times 7^2$ کدام عدد را می توان نوشت؟ الف) ۴ ب) ۸ ج) ۹ د) ۱۰	
۰/۲۵	۲	نمایش 101011 در مبنای ۲ کدام گزینه است؟ الف) 101011 ب) 1100011 ج) 0110111 د) 1010011	
۰/۲۵	۳	حاصل $\sqrt{25}$ کدام است؟ الف) ۵ ب) ۰/۰۵ ج) ۱۰ د) ۰/۱۰۰	
۰/۲۵	۴	ساده شده کسر $\frac{25 \times 32}{40}$ کدام است؟ الف) ۲۰ ب) ۱۲/۵ ج) ۱۲/۵ د) ۲۰	
۰/۲۵	۵	حاصل عبارت $\begin{bmatrix} 8 \\ -2 \end{bmatrix} + \begin{bmatrix} 2 \\ 2 \end{bmatrix}$ کدام گزینه است؟ الف) $\begin{bmatrix} 0 \\ 0 \end{bmatrix}$ ب) $\begin{bmatrix} 10 \\ 0 \end{bmatrix}$ ج) $\begin{bmatrix} 10 \\ 4 \end{bmatrix}$ د) $\begin{bmatrix} 0 \\ 4 \end{bmatrix}$	
۰/۲۵	۶	کدام يك از گزینه های زیر مرکز تقارن ندارد؟ الف) مربع ب) مثلث ج) مستطیل د) لوزی	
۰/۲۵	۷	در کدام گزینه قطر ها مساویند؟ الف) مربع ب) لوزی ج) متوازی الاضلاع د) دوزنقه	
۰/۲۵	۸	دو خط عمود بر يك خط الف) عمودند ب) مساویند ج) موازیند د) همه موارد	
		(B) صحیح و غلط را مشخص کنید	
۰/۲۵		الف) استوانه يك منشور است. <input type="checkbox"/>	
۰/۲۵		ب) هر مجموعه زیر مجموعه خودش است. <input type="checkbox"/>	
۰/۲۵		ج) دو خط موازی با يك خط با هم موازیند. <input type="checkbox"/>	
		(C) جای خالی را کامل کنید.	
۰/۲۵		الف) مجموع زاویه ها در هر متوازی الاضلاع درجه می باشد.	
۰/۲۵		ب) مثلث متساوی الضلاع دارای محور تقارن است.	
۰/۲۵		ج) در ضرب اعداد تواندار با توان مساوی، یکی از توانها را می نویسیم و پایه ها را می کنیم.	
		(D) سئوالات تشریحی	
۰/۵	۱	محور اعداد را رسم کنید و بردار $+4$ ابتدا در ۲ را روی آن رسم کنید و برای آن يك جمع بنویسید.	



اداره کل آموزش و پرورش
مدرسه خارج از کشور

سوال درس : ریاضی و رسم

پایه : دوم

دوره : راهنمایی

زشته :

سال تحصیلی : ۱۳۸۸/۸۹

تاریخ امتحان : ۱۳۸۹ / ۳ / ۳

ساعت امتحان : ۱۰ صبح به وقت تهران

مدت امتحان : ۱۲۰ دقیقه

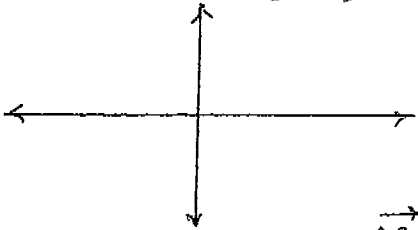
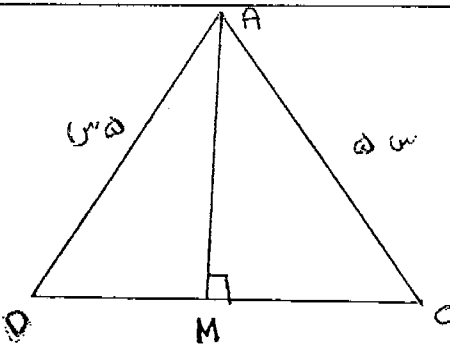
شماره صفحه : ۲

نام و نام خانوادگی دانش آموز / داوطلب آزاد : کشور / شهر :

بارم	ردیف	سوال
۰/۵ ۰/۲۵	۲	<p>باتوجه به شکل مقابل: الف) مجموعه های A و B را به وسیله اعضاء بنویسید.</p> <p> $A = \{ \dots \}$, $B = \{ \dots \}$ </p> <p>ب) جای خالی را کامل کنید. (C یا \neq) $A \square B$</p>
۰/۵ ۰/۵ ۰/۵ ۰/۵	۳	<p>الف) حاصل عبارتهای زیر را بدست آورید.</p> <p> $(-12) + (+25) =$ $(+25) \times (-4) =$ $(-5) - (-7) =$ </p> <p>ب) در یک صبح زمستانی دمای هوای مکه ۲۵ درجه بالای صفر است در همین زمان دمای هوای شهر شیراز ۹ درجه از ازمکه سردتر است. دمای هوای شهر شیراز چند درجه است؟</p>
۰/۲۵ ۰/۲۵	۴	<p>عبارتهای زیر را به صورت یک عدد تواندار بنویسید.</p> <p> $14^2 \div 14^1 =$ $8^1 \times 2^1 =$ </p>
۰/۷۵	۵	<p>الف) نمایش عدد روبرو را در مبنای معمولی بنویسید.</p> <p>$(301)_4 =$</p>
۰/۷۵	۶	<p>جذر تقریبی روبرو را بدست آورید.</p> <p>$\sqrt{28}$</p>
۰/۷۵	۷	<p>نقاط A و B را روی محور اعداد مشخص کنید. سپس بردار AB را رسم کنید و طول این بردار را بدست آورید.</p> <p> $A =$ $B =$ </p>



نام و نام خانوادگی دانش آموز / داوطلب آزاد : کشور / شهر :

بارم	ردیف	سوال				
۰/۷۵	۸	حاصل عبارتهای زیر را به ساده ترین صورت ممکن بدست آورید. $\frac{-18}{3} - \frac{7}{3} =$ $\frac{-8}{30} \times \frac{15}{4} =$ $\frac{42}{25} \div \frac{-7}{5} =$				
۰/۵	۹	الف) عبارت جبری مقابل را ساده کنید. ب) جدول زیر را کامل کنید. $2x + 10y - 14x + 8y =$ <table border="1" style="margin-left: 20px;"> <tr> <td style="padding: 5px;">b</td> <td style="padding: 5px;">۲</td> </tr> <tr> <td style="padding: 5px;">۳b-۲</td> <td style="padding: 5px;"> </td> </tr> </table>	b	۲	۳b-۲	
b	۲					
۳b-۲						
۱	۱۰	الف) معادله های روبرو را حل کنید. $70x - 12 = 32$ $3x = -12$				
۰/۵	۱۱	الف) مختصات نقاط A و B را در دستگاه زیر پیدا کنید. $A = \begin{bmatrix} +5 \\ +2 \end{bmatrix}$ $B = \begin{bmatrix} -3 \\ 0 \end{bmatrix}$ 				
۰/۲۵		ب) بردار AB را رسم کنید و مختصات آن را بنویسید. $\vec{AB} = \begin{bmatrix} \quad \\ \quad \end{bmatrix}$				
۱	۱۲	در شکل زیر چرا دو مثلث AMD و AMC با هم مساویند؟ 				



اداره قبل آموزش عالی و آموزش
مدراس خارج از کشور

سوال درس : ریاضی و رسم

پایه : دوم

دوره : راهنمایی

رشته :

سال تحصیلی : ۱۳۸۸/۸۹

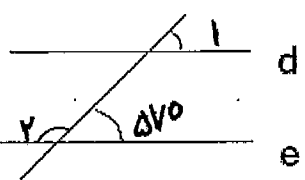
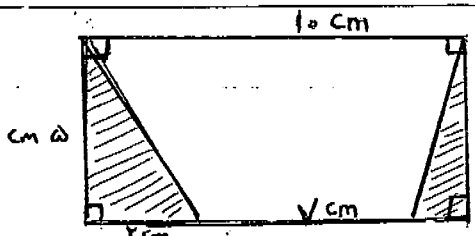
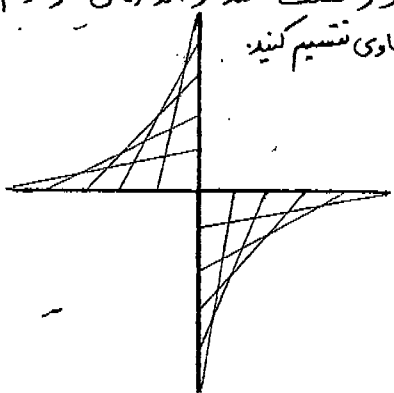
تاریخ امتحان : ۱۳۸۹/۳/۳

ساعت امتحان : ۱۰ صبح به وقت تهران

مدت امتحان : ۱۲۰ دقیقه

شماره صفحه : ۴

نام و نام خانوادگی دانش آموز / داوطلب آزاد : کشور / شهر :

بارم	ردیف	سوال
۰/۵	۱۳	الف) دو خط d و e موازیند. زاویه های خواسته شده را بنویسید. 
۰/۵		ب) اندازه زاویه تند در يك مثلث ۵۷ و ۴۸ درجه مي باشد. زاویه تند ديگر مثلث چند درجه است؟
۱	۱۴	يك لوزي رسم كنيد كه طول قطرهاي آن ۶ و ۸ سانتيمتر باشد. (مراحل رسم را بنویسید)
۱	۱۵	مساحت قسمت رنگي را بدست آورید. 
۰/۷۵	۱۶	طول و عرض قاعده يك منشور ۱۵ و ۳ سانتی متر می باشد. اگر ارتفاع این منشور ۶ سانتی متر باشد، حجم منشور را بدست آورید.
۱	(E) رسم	در خط عمود بر رسم رسم کنید که همدیگر را نصف کنند و اندازه ی هر کدام ۱۰ سانتی متر باشد سپس هر چهار پایه خط را به ۵ قسمت مساوی تقسیم کنید و مانند نمونه کامل کنید. 



اداره کل آموزش و پرورش
معاونت امور خارج از کشور

سوال درس: ریاضی و رسم

پایه: نهم

دوره: راهنمایی

ز رشته:

سال تحصیلی: ۱۳۸۸/۸۹

تاریخ امتحان: ۱۳۸۹/۳/۳

ساعت امتحان: ۱۵ صبح به وقت تهران

مدت امتحان: ۱۲۰ دقیقه

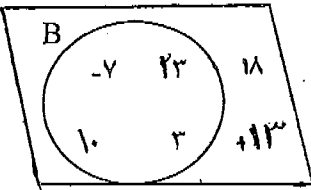
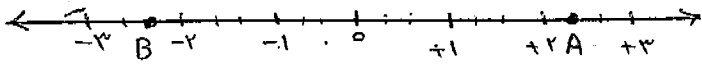
شماره صفحه: ۱

نام و نام خانوادگی دانش آموز / داوطلب آزاد: کشور: / شهر:

بارم	ردیف	سوال	پاسخ صحیح
۰/۲۵	۱	(A) دور پاسخ صحیح خط بکشید. در تساوی $7^x \times 7^y = 7^z$ کدام عدد را می توان نوشت؟ (الف) ۴ (ب) ۸ (ج) ۹ (د) ۱۰	(الف) ۴ (ب) ۸ (ج) ۹ (د) ۱۰
۰/۲۵	۲	نمایش در میانی ۲ کدام گزینه است؟ (الف) ۰.۱.۰.۱.۱ (ب) ۱.۱.۰.۰.۱.۱ (ج) ۰.۱.۱.۰.۱.۱ (د) ۱.۰.۱.۰.۰.۱.۱	(الف) ۰.۱.۰.۱.۱ (ب) ۱.۱.۰.۰.۱.۱ (ج) ۰.۱.۱.۰.۱.۱ (د) ۱.۰.۱.۰.۰.۱.۱
۰/۲۵	۳	حاصل $\sqrt{25}$ کدام است؟ (الف) ۵ (ب) ۰.۵ (ج) ۱۰ (د) ۰.۱۰۰	(الف) ۵ (ب) ۰.۵ (ج) ۱۰ (د) ۰.۱۰۰
۰/۲۵	۴	ساده شده کسر $\frac{25 \times 32}{40}$ کدام است؟ (الف) ۲۰ (ب) ۱۲/۵ (ج) ۱۲/۵ (د) ۲۰	(الف) ۲۰ (ب) ۱۲/۵ (ج) ۱۲/۵ (د) ۲۰
۰/۲۵	۵	حاصل عبارت $\begin{bmatrix} 8 \\ -2 \end{bmatrix} + \begin{bmatrix} 2 \\ 2 \end{bmatrix}$ کدام گزینه است؟ (الف) $\begin{bmatrix} 0 \\ 0 \end{bmatrix}$ (ب) $\begin{bmatrix} 10 \\ 0 \end{bmatrix}$ (ج) $\begin{bmatrix} 10 \\ 4 \end{bmatrix}$ (د) $\begin{bmatrix} 0 \\ 4 \end{bmatrix}$	(الف) $\begin{bmatrix} 0 \\ 0 \end{bmatrix}$ (ب) $\begin{bmatrix} 10 \\ 0 \end{bmatrix}$ (ج) $\begin{bmatrix} 10 \\ 4 \end{bmatrix}$ (د) $\begin{bmatrix} 0 \\ 4 \end{bmatrix}$
۰/۲۵	۶	کدام يك از گزینه های زیر مرکز تقارن ندارد؟ (الف) مربع (ب) مثلث (ج) مستطیل (د) لوزی	(الف) مربع (ب) مثلث (ج) مستطیل (د) لوزی
۰/۲۵	۷	در کدام گزینه قطر ها مساویند؟ (الف) مربع (ب) لوزی (ج) متوازی الاضلاع (د) ذوزنقه	(الف) مربع (ب) لوزی (ج) متوازی الاضلاع (د) ذوزنقه
۰/۲۵	۸	دو خط عمود بر يك خط (الف) عمودند (ب) مساویند (ج) موازیند (د) همه موارد	(الف) عمودند (ب) مساویند (ج) موازیند (د) همه موارد
۰/۲۵		(B) صحیح و غلط را مشخص کنید (الف) استوانه يك منشور است. <input type="checkbox"/> (ب) هر مجموعه زیر مجموعه خودش است. <input type="checkbox"/> (ج) دو خط موازی با يك خط با هم موازیند. <input type="checkbox"/>	(الف) استوانه يك منشور است. <input type="checkbox"/> (ب) هر مجموعه زیر مجموعه خودش است. <input type="checkbox"/> (ج) دو خط موازی با يك خط با هم موازیند. <input type="checkbox"/>
۰/۲۵		(C) جای خالی را کامل کنید. (الف) مجموع زاویه ها در هر متوازی الاضلاع درجه می باشد. (ب) مثلث متساوی الضلاع دارای محور تقارن است. (ج) در ضرب اعداد تواندار با توان مساوی، یکی از توانها را می نویسیم و پایه ها را می کنیم.	(الف) مجموع زاویه ها در هر متوازی الاضلاع درجه می باشد. (ب) مثلث متساوی الضلاع دارای محور تقارن است. (ج) در ضرب اعداد تواندار با توان مساوی، یکی از توانها را می نویسیم و پایه ها را می کنیم.
۰/۵	۱	(D) سئوالات تشریحی محور اعداد را رسم کنید و بردار $4+$ ابتدا در $2-$ را روی آن رسم کنید و برای آن يك جمع بنویسید.	(D) سئوالات تشریحی محور اعداد را رسم کنید و بردار $4+$ ابتدا در $2-$ را روی آن رسم کنید و برای آن يك جمع بنویسید.



نام و نام خانوادگی دانش آموز / داوطلب آزاد : کشور / شهر :

بارم	ردیف	سوال
۰/۵	۲	باتوجه به شکل مقابل: الف) مجموعه های A و B را به وسیله اعضاء بنویسید.  $A = \{ \quad \quad \quad \}$, $B = \{ \quad \quad \quad \}$
۰/۲۵		ب) جای خالی را کامل کنید. $A \square B$ (\neq یا \subset)
۰/۵	۳	الف) حاصل عبارتهای زیر را بدست آورید. $(-۱۲) + (+۲۵) =$ $(+۲۵) \times (-۴) =$ $(-۵) - (-۷) =$
۰/۵		ب) در یک صبح زمستانی دمای هوای مکه ۲۵ درجه بالای صفر است در همین زمان دمای هوای شهر شیراز ۹ درجه از ازمکه سردتر است. دمای هوای شهر شیراز چند درجه است؟
۰/۲۵	۴	عبارتهای زیر را به صورت یک عدد تواندار بنویسید. $۱۴^۲ \div ۱۴^۱ =$ $۸^۱ \times ۲^۱ =$
۰/۷۵	۵	الف) نمایش عدد روبرو را در مبنای معمولی بنویسید. $(۳۰۱)_۴ =$
۰/۷۵	۶	جذر تقریبی روبرو را بدست آورید. $\sqrt{۲۸} \approx$
۰/۷۵	۷	نقاط A و B را روی محور اعداد مشخص کنید. سپس بردار AB را رسم کنید و طول این بردار را بدست آورید.  $A =$ $B =$



نام و نام خانوادگی دانش آموز / داوطلب آزاد : کشور / شهر :

بارم	ردیف	سوال				
۰/۷۵	۸	حاصل عبارتهای زیر را به ساده ترین صورت ممکن بدست آورید. $\frac{-18}{3} - \frac{7}{3} =$				
۰/۷۵		$\frac{-8}{30} \times \frac{10}{4} =$				
۰/۵		$\frac{42}{25} \div \frac{-7}{5} =$				
۰/۵	۹	الف) عبارت جبری مقابل را ساده کنید. ب) جدول زیر را کامل کنید. $2x + 10y - 14x + 8y =$				
۰/۵		<table border="1" style="display: inline-table; vertical-align: middle;"> <tr> <td style="padding: 5px;">b</td> <td style="padding: 5px;">۲</td> </tr> <tr> <td style="border-top: 1px solid black; padding: 5px;">۳b-۲</td> <td style="border-top: 1px solid black; padding: 5px;"></td> </tr> </table>	b	۲	۳b-۲	
b	۲					
۳b-۲						
۱	۱۰	الف) معادله های روبرو را حل کنید. $20x - 12 = 32$ $3x = -12$				
۰/۵	۱۱	الف) مختصات نقاط A و B را در دستگاه زیر پیدا کنید. $A = \begin{bmatrix} +5 \\ +2 \end{bmatrix} \quad B = \begin{bmatrix} -3 \\ 0 \end{bmatrix}$				
۰/۲۵		ب) بردار AB را رسم کنید و مختصات آن را بنویسید. $\vec{AB} = [\quad]$				
۱	۱۲	در شکل زیر چرا دو مثلث AMD و AMC با هم مساویند؟ 				

سوال درس ، ریاضی و رسم
پایه : دوم
دوره : راهنمایی
رشته :



اداره کل آموزش و پرورش
مدارس خارج از کشور

سال تحصیلی : ۱۳۸۸/۸۹
تاریخ امتحان : ۱۳۸۹/۳/۳
ساعت امتحان : ۱۰ صبح به وقت تهران
مدت امتحان : ۱۲۰ دقیقه
شماره صفحه : ۴

نام و نام خانوادگی دانش آموز / داوطلب آزاد : کشور / شهر :

بارم	ردیف	سوال
۰/۵	۱۳	الف) دو خط d و e موازیند. زاویه های خواسته شده را بنویسید.
۰/۵		ب) اندازه زاویه تند در يك مثلث ۵۷ و ۴۸ درجه مي باشد. زاویه تند ديگر مثلث چند درجه است؟
۱	۱۴	يك لوزي رسم كنيد كه طول قطرهاي آن ۴ و ۶ سانتيمتر باشد. (مراحل رسم را بنويسيد)
۱	۱۵	مساحت قسمت رنگي را بدست آوريد.
۰/۷۵	۱۶	طول و عرض قاعده يك منشور ۱۵ و ۳ سانتی متر می باشد. اگر ارتفاع این منشور ۶ سانتی متر باشد، حجم منشور را بدست آورید.
۱	(E) رسم	دو خط عمود بر هم رسم کنید که همدیگر را نصف کنند و اندازه ی هر کدام ۱۰ سانتی متر باشد. سپس هر چهار پایه خط را به ۵ قسمت مساوی تقسیم کنید. و مانند نمونه کامل کنید.



اداره کل آموزش و پرورش جمهوری اسلامی ایران
معاونت نواح و آموزش

نام و نام خانوادگی دانش آموز / داوطلب آزاد : کتبی و / شهر :

بارم	ردیف	سوال	پاسخ صحیح
		(A) دور پاسخ صحیح خط بکشید.	
۰/۲۵	۱	در تساوی $7^x \times 7^y = 7^7$ کدام عدد را می توان نوشت؟ الف) ۴ ب) ۸ ج) ۹ د) ۱۰	الف) ۴
۰/۲۵	۲	نمایش 0.10111 در مبنای ۲ کدام گزینه است؟ الف) 0.10111 ب) 1100011 ج) 0110111 د) 1010011	الف) 0.10111
۰/۲۵	۳	حاصل $\sqrt{25}$ کدام است؟ الف) ۵ ب) 0.05 ج) ۱۰ د) 0.1000	الف) ۵
۰/۲۵	۴	ساده شده کسر $\frac{25 \times 32}{40}$ کدام است؟ الف) ۲۰ ب) $12/5$ ج) $-12/5$ د) ۲۰	الف) ۲۰
۰/۲۵	۵	حاصل عبارت $\begin{bmatrix} 8 \\ -2 \end{bmatrix} + \begin{bmatrix} 2 \\ 2 \end{bmatrix}$ کدام گزینه است؟ الف) $\begin{bmatrix} 0 \\ 0 \end{bmatrix}$ ب) $\begin{bmatrix} 10 \\ 0 \end{bmatrix}$ ج) $\begin{bmatrix} 10 \\ 4 \end{bmatrix}$ د) $\begin{bmatrix} 0 \\ 4 \end{bmatrix}$	الف) $\begin{bmatrix} 0 \\ 0 \end{bmatrix}$
۰/۲۵	۶	کدام یک از گزینه های زیر مرکز تقارن ندارد؟ الف) مربع ب) مثلث ج) مستطیل د) لوزی	الف) مربع
۰/۲۵	۷	در کدام گزینه قطر ها مساویند؟ الف) مربع ب) لوزی ج) متوازی الاضلاع د) ذوزنقه	الف) مربع
۰/۲۵	۸	دو خط عمود بر یک خط الف) عمودند ب) مساویند ج) موازیند د) همه موارد	الف) عمودند
		(B) صحیح و غلط را مشخص کنید	
۰/۲۵		الف) استوانه یک منشور است. <input type="checkbox"/>	
۰/۲۵		ب) هر مجموعه زیر مجموعه خودش است. <input type="checkbox"/>	
۰/۲۵		ج) دو خط موازی با یک خط با هم موازیند. <input type="checkbox"/>	
		(C) جای خالی را کامل کنید.	
۰/۲۵		الف) مجموع زاویه ها در هر متوازی الاضلاع درجه می باشد.	
۰/۲۵		ب) مثلث متساوی الاضلاع دارای محور تقارن است.	
۰/۲۵		ج) در ضرب اعداد تواندار با توان مساوی یکی از توانها را می نویسیم پایه ها را می کنیم.	
		(D) سئوالات تشریحی	
۰/۵	۱	محور اعداد را رسم کنید و بردار $+4$ ابتدا در ۲- را روی آن رسم کنید و برای آن یک جمع بنویسید.	



اداره کل آموزش و پرورش
مدارس و مراکز خارج از کشور

سوال درس : ریاضی و رسم

پایه : دوم

دوره : راهنمایی

رشته :

سال تحصیلی : ۱۳۸۸/۸۹

تاریخ امتحان : ۱۳۸۹ / ۳ / ۳

ساعت امتحان : ۱۰:۰۵ صبح - ۱۱:۰۵

مدت امتحان : ۱۲ دقیقه

شماره صفحه : ۲

نام و نام خانوادگی دانش آموز / داوطلب آزاد : کشور / شهر :

بارم	ردیف	سوال
۰/۵	۲	باتوجه به شکل مقابل: الف) مجموعه های A و B را به وسیله اعضاء بنویسید. $A = \{ \dots \}, B = \{ \dots \}$
۰/۲۵		ب) جای خالی را کامل کنید. (\neq یا \subset) $A \square B$
۰/۵	۳	الف) حاصل عبارتهای زیر را بدست آورید. $(-12) + (+25) =$ $(+25) \times (-4) =$ $(-5) - (-7) =$
۰/۵		ب) در یک صبح زمستانی دمای هوای مکه ۲۵ درجه بالای صفر است. در همین زمان دمای هوای شهر شیراز ۹ درجه از ازمکه سردتر است. دمای هوای شهر شیراز چند درجه است؟
۰/۲۵	۴	عبارتهای زیر را به صورت یک عدد تواندار بنویسید. $14^2 \div 14^1 =$ $8^3 \times 2^3 =$
۰/۷۵	۵	الف) نمایش عدد روبرو را در مبناي معمولی بنویسید. $(3.01)_4 =$
۰/۷۵	۶	جزر تقریبی روبرو را بدست آورید. $\sqrt{28} \approx$
۰/۷۵	۷	نقاط A و B را روی محور اعداد مشخص کنید. سپس بردار AB را رسم کنید و طول این بردار را بدست آورید. $A =$ $B =$



نام و نام خانوادگی دانش آموز / داوطلب آزاد : کشور / شهر :

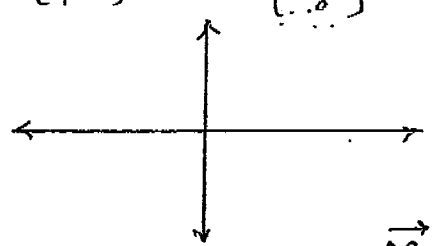
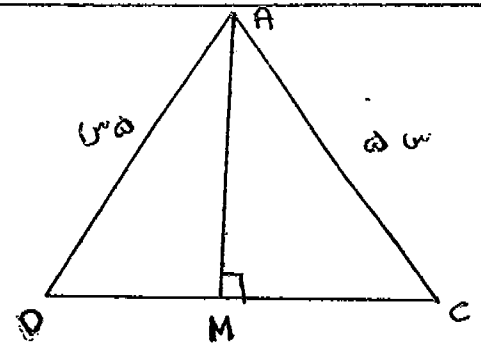
بارم	ردیف	سوال
۰/۵	۱۳	الف) دو خط d و e موازیند. زاویه های خواسته شده را بنویسید.
۰/۵		ب) اندازه زاویه تند در يك مثلث 57° و 48° درجه مي باشد. زاویه تند دیگر مثلث چند درجه است؟
۱	۱۴	يك لوزي رسم كنيد كه طول قطرهاي آن 4 و 6 سانتيمتر باشد. (مراحل رسم را بنویسید)
۱	۱۵	مساحت قسمت رنگي را بدست آورید.
۰/۷۵	۱۶	طول و عرض قاعده يك منشور 15 و 3 سانتی متر می باشد. اگر ارتفاع این منشور 6 سانتی متر باشد، حجم منشور را بدست آورید.
۱	(E) رسم	دو خط عمود بر هم رسم کنید که همدیگر را نصف کنند و اندازه ی هر کدام 10 سانتی متر باشد. سپس هر چهار پایه خط را به 5 قسمت مساوی تقسیم کنید. و مانند نمونه کامل کنید.

سال تحصیلی	۱۳۸۸/۸۹
تاریخ امتحان	۱۳۸۹/۳/۳
ساعت امتحان	۱۰ صبح به وقت تهران
مدت امتحان	۱۲۰ دقیقه
شماره صفحه	۳



سوال درس	ریاضی و رسم
پایه	دوم
دوره	راهنیایی
رشته	

نام و نام خانوادگی دانش آموز / داوطلب آزاد : کتبی / شهر :

بارم	ردیف	سوال				
۰/۷۵	۸	حاصل عبارتهای زیر را به ساده ترین صورت ممکن بدست آورید. $\frac{-18}{3} - \frac{7}{3} =$ $\frac{-8}{20} \times \frac{10}{4} =$ $\frac{42}{25} \div \frac{-7}{5} =$				
۰/۵	۹	الف) عبارت جبری مقابل را ساده کنید. ب) جدول زیر را کامل کنید. $2x + 10y - 14x + 8y =$ <table border="1" style="margin-left: 20px;"> <tr> <td>b</td> <td>۲</td> </tr> <tr> <td>۲b-۲</td> <td></td> </tr> </table>	b	۲	۲b-۲	
b	۲					
۲b-۲						
۱	۱۰	الف) معادله های رویرو را حل کنید. $20x - 12 = 32$ $3x = -12$				
۰/۵	۱۱	الف) مختصات نقاط A و B را در دستگاه زیر پیدا کنید. $A = \begin{bmatrix} +5 \\ +2 \end{bmatrix}$ $B = \begin{bmatrix} -3 \\ 5 \end{bmatrix}$  ب) بردار AB را رسم کنید و مختصات آن را بنویسید. $\vec{AB} = \begin{bmatrix} \quad \\ \quad \end{bmatrix}$				
۱	۱۲	در شکل زیر چرا دو مثلث AMD و AMC با هم مساویند؟ 				

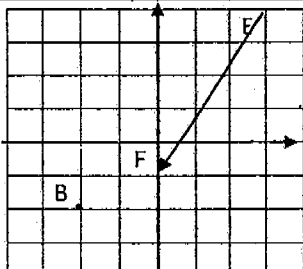
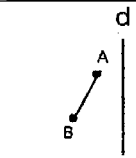
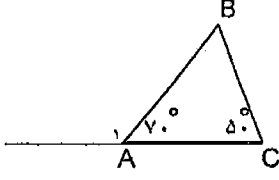
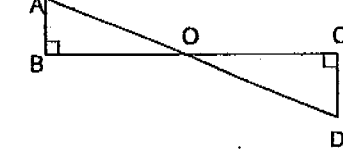
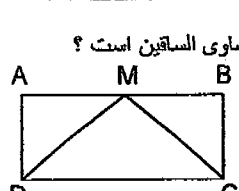
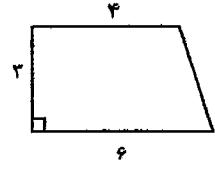
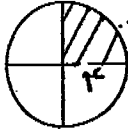


نام و نام خانوادگی دانش آموز / داوطلب آزاد: کشور: شهر:

1	اگر $A = \{۴, -۸, ۷\}$ و $B = \{۴, ۹\}$ باشند الف) در جاهای خالی علامت یا حروف مناسب قرار دهید. ب) مجموعه B چند زیر مجموعه دارد؟	1				
1	حاصل عبارت را به صورت یک عدد تواندار بنویسید. $(۵^۴ \times ۲^۴) \times (۱۰^{-۸} \div ۱۰^{-۱}) =$	2				
1	درستی یا نادرستی هر گزاره را مشخص کنید. الف) در مثلث قائم الزاویه، ضلع روبرو به زاویه قائمه؛ وتر نام دارد. ب) مجموعه i اعداد طبیعی را با حرف Z نمایش می دهند. ج) در نمایش اعداد در مبنای دو؛ از رقمهای ۰ و ۱ استفاده می شود. د) از حاصلضرب دو قطر تقسیم بر دو هم می توان مساحت مربع را حساب کرد.	3				
۰/۵	الف) عدد ۳۳ را در مبنای ۵ بنویسید. (پاراه حل)	4				
۰/۵	ب) نمایش معمولی عدد مقابل را با راه حل بدست آورید. $(۱۰۱)_۵ =$	۰/۵				
1	مقدار هر یک از جنر ها را حساب کن. $\sqrt{۲۵} =$ $\sqrt{۷۲} \approx$	5				
0/5	حاصل عبارتهای زیر را به ساده ترین صورت حساب کنید. $[۸ - (-۳)] \times (-۲) =$	6				
1	$(-\frac{1}{۴} + \frac{۵}{۳}) \times \frac{۳}{۱۷} =$	1				
۰/5	$(-\frac{۵}{۶}) \div (+\frac{۴}{۵}) =$	۰/5				
1/5	بردار $\frac{۴}{۳} -$ ابتدا در $\frac{۱}{۳} +$ را روی یک محور رسم کنید و سپس جمع متناظر با آن را بنویسید.	7				
0/5	الف) عبارت جبری مقابل را ساده کنید. $-۲a + ۴m + ۲a - ۸m =$	8				
0/5	ب) مقدار عددی عبارت جبری $۲x+۳$ را به ازای $x = -۴$ بدست آورید.	0/5				
	<table border="1" style="display: inline-table; vertical-align: middle;"> <tr> <td style="padding: 5px;">x</td> <td style="padding: 5px;">-۴</td> </tr> <tr> <td style="padding: 5px;">۲x+۳</td> <td style="padding: 5px;"> </td> </tr> </table>	x	-۴	۲x+۳		
x	-۴					
۲x+۳						



نام و نام خانوادگی دانش آموز / داوطلب آزاد : کشور : شهر :

1	<p>معادلات زیر را حل کنید. $4x = 7$ و $6x - 3 = 9$</p>	9
0/5	<p>بهرام برای خرید ۷ دفتر ۵۰۰۰ تومان به فروشنده داد و ۱۰۰۰ تومان پس گرفت. قیمت هر دفتر چند تومان بوده است؟ (فقط معادله ی مناسب را بنویسید)</p>	10
1/5	<p>با توجه به شکل مقابل : الف) نقطه $A = \begin{bmatrix} -3 \\ 2 \end{bmatrix}$ را در صفحه مختصات نمایش دهید. ب) مختصات نقطه $B = \begin{bmatrix} \quad \\ \quad \end{bmatrix}$ را بنویسید. ج) مختصات بردار $\vec{EF} = \begin{bmatrix} \quad \\ \quad \end{bmatrix}$ را بنویسید.</p> 	11
1	<p>الف) قرینه ی پاره خط BA را نسبت به خط d رسم کنید. ب) هر یک از شکل های زیر چند محور تقارن دارد؟ (a) مربع : (b) نیم دایره :</p> 	12
0/5	<p>الف) در شکل زیر اندازه ی زاویه های خواسته شده را بدست آورید. $\angle B = \dots\dots$ درجه $\angle A = \dots\dots$ درجه ب) مجموع زوایای داخلی یک چهار ضلعی را بدست آورید. (با رسم شکل)</p> 	13
1	<p>در شکل مقابل O وسط AD است؛ چرا دو مثلث BAO و DCO برابرند؟</p> 	14
0/5	<p>متوازی الاضلاعی رسم کنید که طول دو ضلع مجاور آن ۲ و ۳ سانتی متر و زاویه ی بین آن دو ضلع ۵۰ درجه باشد.</p>	15
1	<p>در شکل مقابل $DCBA$ مستطیل است و نقطه ی M وسط BA قرار دارد. چرا مثلث CDM متساوی الساقین است؟</p> 	16
1	<p>مساحت قسمت رنگی و دوزنقه را بدست آورید</p>  	17



سال تحصیلی: ۸۸-۸۹
 تاریخ امتحان: ۳، ۳، ۸۹
 ساعت امتحان: ۱۲۰ دقیقه
 مدت امتحان: ۹۰ دقیقه
 شماره صفحه: ۳

باسمه تعالی

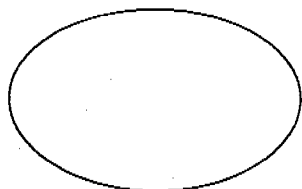


سوال درس: ریاضیات
 پایه: دوم
 دوره: راهنمایی
 رشته: --

نام و نام خانوادگی دانش آموز / داوطلب آزاد: شهر:

1	 <p>الف) مساحت جا نیمی منشور مقابل را بدست آورید.</p> <p>ب) حجم همان منشور را حساب کنید.</p>	18
1	 <p>رسم زیر را کامل کنید.</p>	19

سرپرستی مدارس جمهوری اسلامی ایران در امارات عربی متحده
مجتمع آموزشی پسرانه نمونه توحید دبئی
مقطع راهنمایی نمونه توحید دبئی



امتحان درس: انشا و نگارش	کلاس: دوم راهنمایی	تاریخ امتحان: ۸۹/۳/۱۵
نام و نام خانوادگی:		سال تحصیلی: ۸۸/۸۹
نام دبیر:	شماره صندلی:	وقت امتحان: ۸۰ دقیقه

((موفقیت شما آرزوی ماست))

الف) انشاء (۲ نمره)

الف) از دو موضوع زیر یکی را به انتخاب بنویسید:

۱- (با مادر خویش مهربان باش آماده ی خدمتش به جان باش
با چشم ادب نگر پدر را از گفته ی او مپیچ سر را)

۲- چرا وطن خویش را دوست می داریم؟

ب) نگارش (۸ نمره)

۱- با هر یک از کلمات زیر جمله ای بسازید:

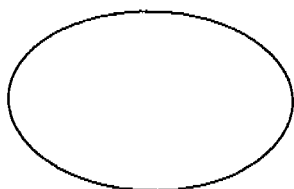
(غفلت - مکث کوتاه)

۲- با واژه های (فلسطین ، آزادی ، پایداری) یک بند بنویسید.

۳- درباره ی ویژگی های یک نوجوان شایسته یک بند بنویسید.

۴- برای موضوعات زیر کلمات قصار یا امثال و حکم پیدا کنید:

(دوست - امیدواری)



سرپرستی مدارس جمهوری اسلامی ایران در امارات عربی متحده
مجتمع آموزشی پسرانه نمونه توحید دبئی
مقطع راهنمایی نمونه توحید دبئی

تاریخ امتحان: ۸۹/۳/۱۰

امتحان درس: سوالات املائی کلاس: دوم راهنمایی

سال تحصیلی ۸۸/۸۹

نام و نام خانوادگی:

وقت امتحان: ۳۰ دقیقه

شماره صندلی:

نام دبیر:

((موفقیت شما آرزوی ماست))

۱- برای هر یک از واژه های " آزاد " و " انس " یک هم خانواده بنویسید.

۲- شکل درست املائی واژه را با توجه به معنای جمله برای جای خالی انتخاب کنید:

- این دریای بزرگ همیشه در و مد است. (جزر ، جذر)

- کمال الملک همچنان در مطالب را تحمل می کرد. (التحاب ، التهاب)

- تمام ایرادهایی که به وطن من نسبت دادید پیری مادر من هم دارد. (تذیر ، نظیر)

- رود کرخه در سرزمین گرم خوزستان خود را به می رساند. (حورالعظیم ، هورالعظیم ، هوالعظیم)

- شکسته شد ، تنباکو تحریم شدشاه به تنگنا افتاد و توطئه انگلیس شکست خورد. (غلیان ها ، قلیان ها)

۳- در متن زیر واژه های نادرست املائی را پیدا کنید و شکل صحیح آن ها را بنویسید:

روزگاری چرتکه ، پیک ، پرنده ی نامه رسان و استر لای در جامعه نقش داشته است اکنون عصر چیره گی ماشین و رایانه و

به طور کلی روزگار تسلط دست آوردهای علمی بر تار و پود زندگی بشر است. بعد از این ماجرا امیر کبیر با صدای رصا خطاب

به اطرافیان گفت : مسعول جهل مردم ما هستیم .

۴- معنی کدام یک از گزینه های رویرو ((خوب، نیکو)) می باشد: نقض - نغز - نغض

۵- املائی همه ی گزینه ها جز گزینه ی با توجه به معنی درست است .

الف) مأمور : آباد شده ب) مسلم : بی گمان ج) غفل : جوشیدن د) تحریم : منع کردن

نام درس: انشاء و آیین نگارش
 پایه تحصیلی:
 نام دبیر: حسین کوشلی

بسمه تعالی
 وزارت آموزش و پرورش
 دفتر مدارس خارج از کشور
 مجتمع آموزشی دخترانه نمونه توحید

تاریخ برگزاری امتحان:
 مدت زمان پاسخگویی: ۲۰ دقیقه
 تعداد کل سوالات: ۱۲

نام و نام خانوادگی دانش آموز: نام پدر: نام کلاس:

۱	بیت زیر را به نثر روان بنویسید. روزی که در آن نکرده ای کار آن روز ز عمر خویش مشمار	۱
۱	در چه مواردی از نشانه ی (-) استفاده می شود؟	۲
۱	دو راه تشخیص واژه هایی که شکل نوشتاری یکسان دارند را بنویسید.	۳
۱	اتو بیوگرافی را تعریف کنید.	۴
۱	برای تقویت مهارت نویسندگی چه نکاتی را باید رعایت کرد؟	۵
۱	نوشته ی زیر را در یک بند تمام کنید. سال به پایان خویش نزدیک می شود و من باید	۶
۱	به نوشته هایی که در آن از شکیبایی و مقاومت و ایثار و شهامت سخن گفته می شود و می گویند.	۷
۱	در نامه نویسی باید در و گیرنده دقت کرد.	۸
۱	در نوشتن انشاء باید به اصل و توجه کنیم.	۹
۱	شعری که سرشار از پند و اندرز باشد نامیده می شود.	۱۰
۰/۵	(۱) ادبیات معاصر <input type="checkbox"/> (۲) ادبیات انقلاب <input type="checkbox"/> (۳) ادبیات تعلیمی <input type="checkbox"/> (۴) تمام موارد <input type="checkbox"/>	

۱ - مطالعه ی کتابهای داستانی و شرح احوال و خاطرات بزرگان برای پرورش و قدرت مفید است.

۲ - درچه مواردی از نوشتن از نشانه [] استفاده می شود؟

۳ - انواع نامه را نام ببرید؟

۱۵

۴ - برای زیباسازی و تاثیرگذاری نوشته های ادبی از چه نکاتی بهره می گیریم؟

۵ - شعری که در آن یک مصراع یا یک بیت عینا تکرار شود نام دارد.

۱۵

۶ - بیوگرافی را تعریف کنید.

۱

۷ - در این مصرع "چون خلیل از شعله گل چین خوش است" از چه آریه ایی استفاده شده است و به چه چیزی اشاره می کند؟

۱/۵

۸ - بوستان و گلستان و کنیله و دمنه ، جزء کدام نوع ادبیات هستند؟

۱۵

۹ - جمله ای بنویسید که در آن از امثال و حکم استفاده کرده باشید؟

۱

در باره یکی از موضوعات زیر انشاء بنویسید.

مصراع "جور استاد به زمهر پدر"

ایران را دوست دارم زیرا

باسمه تعالی

سروستی مدارس جمهوری اسلامی ایران در امارات عربی متحده

مجتمع آموزشی شارجه
راهنمایی دخترانه

جای مهر

سوال درسی : انشا و نگارش فارسی

پایه : دوم

دوره : راهنمایی

رشته : —

سال تحصیلی : ۸۸ - ۸۹

تاریخ امتحان : ۸۹/۳/۵

ساعت امتحان : ۹/۳۰

مدت امتحان : ۹۰ دقیقه

شماره صفحه : ۱/۱

نام و نام خانوادگی دانش آموز:

بارم	سوال	ردیف
۱	نوع جمله های زیر را (ادبی / زبانی) مشخص کنید . الف (زندگی آب تنی کردن در حوضچه ی آکتون است . ب (زندگی کردن به یادگیری اصول و روش هایی نیاز دارد .	۱
۱	بیت زیر را به نثر ساده بازنویسی کنید . زهار مگو سخن به جز راست هر چند تورا در آن ضررهاست .	۲
۰/۵	برای واژه ی " سخن " یک مشبه به بنویسید .	۳
۱	در بیت " خراسان زچین و ختن خوش تر است / که خاکش به مانند مشک تراست " دو آرایه ی ادبی نشان دهید .	۴
۰/۵	مخفف واژه ی " سحرگاه " می شود .	۵
۱	ارکان تشبیه را در جمله ی زیر مشخص کنید . راستی که زندگی مثل دریاست گاه آرام ، گاه توفانی .	۶
۲	با بهره گیری از ضرب المثل " گرسبر کنی زغوره حلوا سازی " یک بند بنویسید .	۷
	
۰/۵	اگر نویسنده شرح حال خود را بنویسد ، به این نوع نوشته می گویند .	۸
۱	از چه شیوه هایی می توان برای کوتاه نویسی استفاده کرد ؟	۹
۱	با هریک از واژه های زیر یک جمله ی ادبی بسازید . الف (کتاب : ب (دریا :	۱۰
۰/۵	توضیح دهید در جمله ی زیر به چه دلیلی از نشانه ی [] استفاده شده است . رفقای صمیمی و پر حرارت جنگالی [به پا] کرده بودند .	۱۱
۱۰	یکی از موضوع های زیر را انتخاب کنید و انشا بنویسید . * چو ایران نباشد تن من مباد / بدین بوم و بر زنده یک تن مباد * منتظر فرصت های بزرگ نماں که روزگار همان فرصت های کوچک را هم از دستت می گیرد . امام جعفر صادق (ع) * یک توصیف ادبی یا بهره گیری از واژه های زیر بنویسید : باغچه - قناری - لبخند - آفتاب گردان - انتظار	

امضاء

جمع نمره : به عدد..... به حروف..... نام و نام خانوادگی مصحح:

نمره کتبی :

نام و نام خانوادگی :

باسمه تعالی

تاریخ : ۸۹/۳/۵

نام پدر :



اداره کل مدارس خارج از کشور

نام دبیر: نکویی

نام درس : انشا و نگارش

سرپرستی مدارس جمهوری اسلامی ایران در امارات عربی متحده

تعداد صفحه: ۲

شعبه ی کلاس : دوم راهنمایی

مجتمع آموزشی شارجه (دوره راهنمایی) خرداد ماه (۸۹)

مدت پاسخگویی: ۸۰ دقیقه

پایه :

نمره به عدد :

نمره به حروف :

نام و نام خانوادگی مصحح و امضاء :

بار

ب- پرسش ها (۱۰ نمره)

۱ برای هر یک از واژه های زیر ، یک جمله ی ادبی بسازید. (۱)
ایران :
وقت :

۲ واژه های (مدرسه ، خانه ، معلم ، عشق) را در یک بند به کار ببرید . (۲)

۳ با استفاده از عنصر (تشبیه) رنگین کمان را وصف کنید.؟ (۱/۵)

۴ شغز زیر را به نثر ساده و روان ، بازنویسی کنید . (۱)
« غروس جهان است ملک اراک که سر تا سرش مشک بیزاست خاک »


۵ عبارت ناتمام زیر را تا یک بند ادامه دهید. (۱/۵)

« با صدای مهربان مادر بود که

۶ مشخص کنید هر کدام از جمله های زیر (ادبی یا زبانی) است ؟ (۱)

الف- به هشدار ساعت از خواب برخاستم و به آب هشیاری، خواب غفلت از دیده بشستم . ()

ب- صبح با طلوع زیبای خورشید، از خواب ناز بر می خیزیم و با زلال آب دست و روی می شویم . ()

 <p>مهر مجتمع</p>	باسمه تعالی سرپرستی مدارس جمهوری اسلامی ایران در امارات عربی متحده مجتمع آموزشی نمونه وین الملل توحید پسران مقطع راهنمایی مجتمع توحید		
	تاریخ امتحان: ۸۹/۳/۸	پایه: دوم	امتحان درس: حرفه و فن
	سال تحصیلی: ۸۸/۸۹		نام و نام خانوادگی:
	وقت امتحان: ۴۰ دقیقه	شماره صندلی:	نام دبیر: علی محمدی - حاجی زاده

((موفقیت شما آرزوی ماست))

۰/۵	<p>۱- از بین کلمات داده شده ی داخل پراکنش کلمه ی مناسب برای هر جمله را مشخص کنید.</p> <p>الف- مهم ترین روش اتصال دایم است. (جوشکاری - پیچ و مهره)</p> <p>ب- از پهن برگان برای کارهای تزئیناتی استفاده می شود زیرا در آن ها بیش تر است. (تنوع رنگ - نرمی چوب)</p>
۰/۵	<p>+++ در داخل مربع جلوی گزینه ی درست علامت x بزنید.</p> <p>۲- در ایران پرورش کدام یک از دام های زیر در درجه اول اهمیت قرار دارد؟</p> <p>الف- شتر <input type="checkbox"/> ب- گاو میش <input type="checkbox"/> ج- گاو <input type="checkbox"/> د- اسب <input type="checkbox"/></p>
۰/۵	<p>۳- کدام یک از روش های تکثیر زیر در گیاهان ، جنسی است؟</p> <p>الف- قلمه زدن <input type="checkbox"/> ب- خوابانیدن <input type="checkbox"/> ج- کشت دانه <input type="checkbox"/> د- پیوند زدن <input type="checkbox"/></p>
۰/۵	<p>۴- هر یک از قسمت های زیر در رایانه کدام بخش از سیستم است؟</p> <p>الف- چاپگر (.....) ب- صفحه کلید (.....)</p>
۰/۵	<p>۵- از موارد زیر، کدام رفتار ناسالم پرخطر و کدام رفتار ناسالم کم خطر است؟</p> <p>الف- ورزش نکردن (.....) ب- استفاده از مواد مخدر (.....)</p>
۰/۵	<p>۶- به چه علت کربن ماده ی اصلی بیش تر مدار الکترونیکی است؟</p>
۰/۵	<p>۷- فرق کاغذ پوستی با کاغذ کالک چیست؟</p>
۰/۵	<p>۸- عرض، طول و عمق پی ها به چه عواملی بستگی دارد؟</p>
۰/۵	<p>۹- فرق گل های روز بلند با گل های روز کوتاه چیست؟</p>

۱۰- مواد غذایی متراکم یا کنسانتره به چه موادی گفته می شود؟

۰ / ۵

۱۱- هدف از استریل کردن مواد غذایی چیست؟^۳ مورد

۰ / ۷۵

۱۲- ترکیبات اصلی شیر را نام ببرید. ذکر^۳ مورد

۰ / ۷۵

۱۳- خطرات و حوادث آشپزخانه ها بیش تر شامل چه عواملی یا مواردی است؟^۳ مورد

۰ / ۷۵

۱۴- الیاف طبیعی به سه دسته گیاهی ، جانوری و معدنی تقسیم می شوند شما برای هر کدام یک مثال ذکر کنید.

۰ / ۷۵

گیاهی مثل : جانوری مثل : معدنی مثل :

نام و نام خانوادگی مصحح :

امضا

نمره با عدد :

نمره با حروف :

سال تحصیلی: ۸۸-۸۹
تاریخ امتحان:
شماره صفحه:



راهنمای تصحیح درس: مفروض
پایه: دوم
دوره:
رشته:

نمونه برگ شماره ۲

۱- لطفا پاسخ سوالات بطور کامل قید گردد (با ذکر ریز بارم) ۲- از دادن آدرس بعنوان مثال (مراجعه به متن ص ۲۰ و یا... خودداری شود)

بارم	راهنمای تصحیح	دیف
	۱- الف - جوشکاری ۲۰ ب - تنوع رنگ ۲۰	
	۲- ج گاو ۱۵ ۳- ج گت دانه ۱۵	
	۴- الف - خروجی ۲۰ ب - ورودی ۲۰	
	۵- الف - کم خطر ۲۰ ب - پرخطر ۲۰	
	۶- مقاومت الکتریکی زیاد ۱۵	
	۷- کاغذ پوستی روی آن با براد نقره را رسم می کنند اما در کتاب با جوهر ۱۵	
	۸- وزن س فغان - قدرت تحمل خاک ۱۵	
	۹- کل میزند زمان گل دادن بیش از ۴۰ است نور نیاز دارد اما روز کوتاه بین ۸ تا ۱۱ است	
	۱۰- مواردی که دارای انرژی زیاد و سلولز (فیبر) کم دارد ۱۵	
	۱۱- محترمی آن تغییر حالت ندهد یا سرد نشود - مدت طولانی تر نگهداری کنیم ۱۵	
	۱۲- آب - چربی - پروتئین - قند - مواد معدنی و ... ۱۵	
	۱۳- انفجار - آتش کوزی - برق گرفتگی - یخ زدگی - بریدگی ۱۵	
	۱۴- گیاهه = پنبه - گداز - کنف ۱۵	
	جانوری = شام - اریشم - سو	
	معدنی = طلا - نقره - پنبه سوز	

به نام خدا
سرپرستی مدارس جمهوری اسلامی ایران در امارات عربی متحده
مجتمع آموزشی نمونه توحید دختران

نام و نام خانوادگی :	پایه تحصیلی: دوم راهنمایی	مدت امتحان: ۳۰ دقیقه * تاریخ امتحان: ۸۹ / ۳ / ۲۴
نام کلاس :	نام درس : حرفه و فن	نام دبیر: خاتم وطن خواه
نمره به عدد :	نمره به حروف :	امضا دبیر:

بترم	ریف
	<p>۱- کارهایی مانند طراحی ، تغییر مواد و ساخت را می گویند؟ (۲۵ / نمره)</p> <p>الف - خروجی ب- ورودی ج- پردازش د- فناوری</p> <p>۲- - کلید دوپل دارای یک پیچ اتصال مشترک است که سیم به آن وصل می شود . (۲۵ / نمره)</p> <p>۳- تنوع رنگ در چوب های بیش تر است . (۲۵ / نمره)</p> <p>۴- خشک کردن چوب علاوه بر کاهش وزن آن باعث می شود . (۲۵ / نمره)</p> <p>۵- رای از بین بردن کلیه میکروب های شیر حرارت درجه و به مدت دقیقه نیاز است . (۵ / نمره)</p> <p>۶- به عمل اندازه گیری ابعاد زمین و زوایای آن گفته می شود . (۲۵ / نمره)</p> <p>۷- خطوطی که در حاشیه کاغذ نقشه کشی رسم می شوند چه نام دارد؟ (۵ / نمره)</p> <p>۸- مسمومیت های غذایی اغلب باچه مواردی همراه می باشند . (۵ / نمره)</p> <p>۹- کار دستگاه ترانس چیست ؟ (۵ / نمره)</p> <p>۱۰- عمل پاستوریزاسیون چگونه صورت می گیرد؟ (۱ نمره)</p>

مجمع آموزشی خدیجه کبری (س)

سال تحصیلی ۸۹ - ۸۸

نام درس : حرفه و فن

مقطع تحصیلی : راهنمایی

نام و نام خانوادگی :

پایه تحصیلی : دوم

نوبت امتحان : خردادماه

مدت امتحان : ۴۵ دقیقه

بارم	سوال	ردیف								
۱	<p>صحيح يا غلط بودن عبارات زیر را مشخص کنید.</p> <p>الف) کافئین نوعی داروی موجود در چای است که فعالیت بدن را کاهش می دهد.</p> <p>ب) تنوع رنگ در چوب درختان سوزنی برگ بیش از پهن برگان است.</p> <p>ج) عرض ، طول و عمق پی ساختمان به وزن ساختمان بستگی دارد.</p> <p>د) گل ختمی یک گیاه روز بلند است.</p> <p>ص <input type="checkbox"/> غ <input type="checkbox"/></p> <p>ص <input type="checkbox"/> غ <input type="checkbox"/></p> <p>ص <input type="checkbox"/> غ <input type="checkbox"/></p> <p>ص <input type="checkbox"/> غ <input type="checkbox"/></p>	۱								
۰/۵	<p>هر یک از الیاف ستون A را به نوع آن در ستون B ربط دهید. (یکی از گزینه های ستون B اضافی است.)</p> <table style="width: 100%; border-collapse: collapse;"> <tr> <td style="text-align: center; border-bottom: 1px solid black;">ستون A</td> <td style="text-align: center; border-bottom: 1px solid black;">ستون B</td> </tr> <tr> <td style="text-align: center;">۱-) پنبه (</td> <td style="text-align: center;">الف) گیاهی</td> </tr> <tr> <td style="text-align: center;">۲-) پنبه سوز (</td> <td style="text-align: center;">ب) حیوانی</td> </tr> <tr> <td></td> <td style="text-align: center;">ج) معدنی</td> </tr> </table>	ستون A	ستون B	۱-) پنبه (الف) گیاهی	۲-) پنبه سوز (ب) حیوانی		ج) معدنی	۲
ستون A	ستون B									
۱-) پنبه (الف) گیاهی									
۲-) پنبه سوز (ب) حیوانی									
	ج) معدنی									
۱	<p>در سئوالات زیر صحیح ترین گزینه را انتخاب کنید.</p> <p>۱) برای تمیز کردن سطح لحیم کاری از استفاده می شود.</p> <p>الف) هویه <input type="checkbox"/> ب) روغن لحیم <input type="checkbox"/> ج) نسیم لحیم <input type="checkbox"/> د) فلز لحیم کاری <input type="checkbox"/></p> <p>۲- میزان کوچک یا بزرگ نمایی نقشه ساختمان را نقشه می گویند.</p> <p>الف) کادر <input type="checkbox"/> ب) مقیاس <input type="checkbox"/> ج) شاخص <input type="checkbox"/> د) راهنما <input type="checkbox"/></p> <p>۳- تمیز کردن پوست دام از آلودگی را می گویند.</p> <p>الف) تیمار کردن <input type="checkbox"/> ب) واکسینه کردن <input type="checkbox"/> ج) پشم چینی <input type="checkbox"/> د) کرک چینی <input type="checkbox"/></p> <p>۴- کدام یک از موارد زیر میان وعده مناسبی برای شما نمی باشد؟</p> <p>الف) خرما <input type="checkbox"/> ب) آب نبات <input type="checkbox"/> ج) کشمش <input type="checkbox"/> د) گردو <input type="checkbox"/></p>	۳								
۱	<p>جملات زیر را با عبارت مناسب کامل کنید.</p> <p>الف) قند شیر نام دارد.</p>	۴								

مجمع آموزشی خدیجه خیری (س)

سال تحصیلی ۸۹ - ۸۸

نام درس : حرفه و فن

مقطع تحصیلی : راهنمایی

نام و نام خانوادگی :

پایه تحصیلی : دوم

نوبت امتحان : خردادماه

مدت امتحان : ۴۵ دقیقه

	<p>ب) برای از بین رفتن کلیه میکروب ها در مواد غذایی حرارتی به میزان درجه سانتی گراد ضروری است.</p> <p>ج) در تغذیه دام ، مواد غذایی متراکم دارای زیاد و کم می باشند.</p>
۰/۵	۵- کنسرواسیون چیست؟
۰/۵	۶- کار خازن در مدارهای الکترونیکی چیست؟
۰/۵	۷- مدت زمان خشک کردن چوب در کوره های چوب خشک کنی به چه عواملی بستگی دارد؟ ۲ مورد
۰/۵	۸- دو مورد از فواید گیاهان زینتی را بنویسید.
۰/۵	۹- وظیفه دیواره جداکننده (غیر باربر) چیست؟
۰/۵	۱۰- در تهیه و عرضه مواد غذایی قوانین بهداشتی باید در چه زمینه هایی رعایت شود؟ (۲ مورد)
۰/۷۵	۱۱- ورودی و پردازش و خروجی یک کارگاه تولید کفش را بنویسید. (از هر کدام یک مورد)
۰/۷۵	۱۲- در پرورش و نگهداری دام چه عواملی را باید در نظر بگیریم. ۳ مورد

نام و نام خانوانگی :

نام پدر :

نام درس : حرفه و فن

پایه : دوم (دختران)

شعبه کلاس :

باسمه تعالی

اداره کل مدارس خارج از کشور

سرپرستی مدارس جمهوری اسلامی ایران در امارات عربی متحده

مجتمع آموزشی شارجه (دوره راهنمایی) خرداد ماه ۸۹


تاریخ : ۸۹/۳/۲۴

نام دبیر : آقای حسینی

تعداد صفحه : ۲ صفحه

مدت پاسخگویی : ۴۵ دقیقه

جای مهر



امضاء دبیر:

جمع نمره :

نمره عملی کارگاه:

نمره به حروف :

نمره به عدد:

بارم	شرح سوالات	ردیف
۰/۵	واحد یک : فناوری و سیستم	الف
۰/۵	در یک سیستم منظور از ورودی چیست ؟	۱
۰/۷۵	واحد دو : کار با برق	ب
۰/۲۵	کدام قطعه در الکترونیک باعث یکسوسازی جریان متناوب به مستقیم می شود . الف (مقاومت <input type="checkbox"/> ب (دیود <input type="checkbox"/> ج (آی سی <input type="checkbox"/> د (خازن <input type="checkbox"/>)	۲
۰/۵	در برق کشتی اتصال سیم فاز به زمین چه خطری را به دنبال دارد ؟	۳
۰/۷۵	واحد سه : بهداشت	ج
۰/۲۵	کدام یک از رفتارهای زیر جزء رفتارهای ناسالم کم خطر است . الف (دوستی با افراد ناباب <input type="checkbox"/> ب (رانندگی با سرعت و بدون توجه به مقررات رانندگی <input type="checkbox"/>) ج (ورزش نکردن <input type="checkbox"/> د (استفاده از سیگار <input type="checkbox"/>)	۴
۰/۵	داروهایی که معمولاً استفاده بی رویه آنها ایجاد وابستگی می کنند به دو دسته تقسیم می شوند . آنها را نام ببرید .	۵
۰/۵	واحد چهار : کار با چوب	د
۰/۵	چوب درخت کاج نرم است یا سخت ؟ توضیح دهید چگونه می توان تشخیص داد .	۶
۰/۵	واحد پنج : کار با فلز	ه
۰/۵	منظور از اتصال موقت چیست ؟ یک مثال بزنید .	۷

۱	واحد شش: ساختمان سازی	۹
۰/۲۵	به فضای استراحت بین پله ها می گویند.	۸
۰/۲۵	خط کش بلندی که در نقشه برداری استفاده می شود چه نام دارد . الف (تی <input type="checkbox"/> ب (تار <input type="checkbox"/> ج (رایید <input type="checkbox"/> د (شاخص <input type="checkbox"/>	۹
۰/۵	از اجزای اصلی ساختمان دو مورد را نام ببرید .	۱۰
۱/۲۵	واحد هفت: خوراک - پوشاک	ز
۰/۲۵	مواد غذایی در صورتی مفیدند که باشند .	۱۱
۰/۷۵	عرضه بهداشتی غذا در چه مکان هایی موضوع بسیار مهمی است ؟ چرا ؟	۱۲
۰/۲۵	پنبه نسوز چه نوع الیافی است ؟ الف (گیاهی <input type="checkbox"/> ب (حیوانی <input type="checkbox"/> ج (معدنی <input type="checkbox"/> د (مصنوعی <input type="checkbox"/>	۱۳
۲/۷۵	واحد هشت: باغبانی - دامپروری - صنایع غذایی	خ
۰/۲۵	کدام یک از گل های زیر جزء گل های روز کوتاه می باشند . الف (کاکتوس <input type="checkbox"/> ب (بنفشه <input type="checkbox"/> ج (میخک <input type="checkbox"/> د (اطلسی <input type="checkbox"/>	۱۴
۰/۷۵	الف (قلمه زدن را تعریف کنید ؟ ب (یک گیاهی را مثال بزنید که با قلمه ساقه تکثیر می شود .	۱۵
۰/۲۵	منظور از دامداری چیست ؟	۱۶
۰/۷۵	در تغذیه ی دام منظور از غذای متراکم چیست ؟ یک مثال بزنید .	۱۷
۰/۲۵	متنوع ترین فرآورده شیر کدام است ؟ الف (ماست <input type="checkbox"/> ب (پنیر <input type="checkbox"/> ج (کره <input type="checkbox"/> د (خامه <input type="checkbox"/>	۱۸
۰/۵	پنیر پرورده چگونه تهیه می شود ؟	۱۹
۸	جمع بارم موفق باشید .	

سوال درس: حرفه و فن	باسمه تعالی	سال تحصیلی ۸۹-۸۸
پایه: دوم	سرپرستی مدارس جمهوری اسلامی ایران-امارات	تاریخ امتحان ۸۹/۳/
دوره: راهنمایی	مجتمع امام خمینی (ره) ابو ظبی	ساعت شروع:
نام و نام خانوادگی:	پاسخ سوالات را روی همین برگه بنویسید	مدت امتحان: ۶۰ دقیقه

۱	مشخص کنید از عبارتهای زیر کدام صحیح (ص) و کدام غلط (غ) است؟ الف) کلیه کارهایی که برای تبدیل ورودی به محصول انجام می گیرد پردازش نامیده می شود. ب) الیاف طبیعی از راه فعل و انفعالات شیمیایی به دست می آید. ج) معمولا آلودگی غذاهای غیر خانگی کم تر از غذاهای خانگی است.	۰/۷۵
۲	جاهای خالی را با کلمات مناسب پر کنید. آ) عملی که نگهداری غذا را طولانی می کند..... نام دارد. ب) برای گرم کردن محل لحیم کاری از وسیله ای به نام استفاده می شود. ج) برای یکسو سازی جریان برق متناوب به مستقیم قطعه بیشترین کاربرد را دارد.	۰/۷۵
۳	آ) داروهای آرام بخش جزو کدام دسته از داروهای زیر است؟ ب) مشخص کنید کدام یک از قسمتهای زیر ورودی کامپیوتر محسوب می شود؟ ج) غیر مجاز ب) کاهنده آ) صفحه کلید ب) چاپگر ج) صفحه نمایش	۰/۵
۴	پاسخ کوتاه دهید . آ) رانندگی با سرعت زیاد جزو کدام رفتارهای ناسالم است؟ ب) کدام سیم در وسایل برقی کمک می کند که هنگام اتصال سیم فاز به بدنه فیوز قطع شود؟ ج) تنوع رنگ در چوب کدام نوع از درختان بیشتر است؟ د) برای پرورش گیاهان در خارج از فصل از چه مکانی استفاده می کنند؟	۱
۵	دیوار غیر باربر به چه منظوری در ساختمان به کار می رود؟	۰/۵
۶	انواع کاغذ نقشه کشی را نام ببرید؟	۰/۵
۷	مشخص کنید از الیاف زیر کدام طبیعی و کدام مصنوعی است؟ الف) نقره ب) کتان ج) ریون	۰/۷۵

سوال درس: حرفه و فن

باسمه تعالی

سال تحصیلی ۸۹-۸۸

پایه: دوم

سرپرستی مدارس جمهوری اسلامی ایران - امارات

تاریخ امتحان ۸۹/۳/

دوره: راهنمایی

مجتمع امام خمینی (ره) ابوظبی

ساعت شروع:

نام و نام خانوادگی:

پاسخ سوالات را روی همین برگه بنویسید

مدت امتحان: ۶۰ دقیقه

۰/۵	۸	دو بیماری خطرناک که در اثر استفاده ی از غذاهای ناسالم در بدن به وجود می آید را بنویسید.
۰/۲۵	۹	در کدام یک از روشهای تکثیر گیاهان گیاه بدون جدا شدن از پایه ی مادری تکثیر می شود؟
۰/۲۵		این روش تکثیر جنسی است یا غیر جنسی؟
۰/۵	۱۰	آبیاری گلدانهایی که دارای خاک سبک هستند چگونه می باشد؟
۰/۷۵	۱۱	سه مورد از عواملی که موجب سلامتی و افزایش تولید در دامها می شود را بنویسید.
۰/۵	۱۲	در صورتی که شما دماسنج مایعات نداشته باشید چگونه شیر را پاستوریزه می کنید؟
۰/۵	۱۳	هدف از استریل کردن را بنویسید؟
		در کسب رضای خداوند کوشا باشیم - عظیمیان

نام و نام خانوادگی :
نام پدر :
نام درس : حرفه و فن
پایه : دوم (پسران)
شعبه کلاس :

باسمه تعالی
اداره کل مدارس خارج از کشور
سرپرستی مدارس جمهوری اسلامی ایران در امارات عربی متحده
مجتمع آموزشی شارجه (دوره راهنمایی) خرداد ماه ۸۹

تاریخ : ۸/۳/۸۹
نام دبیر : آقای حسینی
تعداد صفحه : ۲ صفحه
مدت پاسخگویی : ۴۵ دقیقه

جای مهر

نمره به عدد: نمره به حروف: نمره عملی کارگاه: جمع نمره: امضاء دبیر:

ردیف	شرح سوالات	بارم
الف	واحد یک : فناوری و سیستم	۰/۵
۱	دریک سیستم منظور از پردازش چیست ؟	۰/۵
ب	واحد دو : کار با برق	۰/۷۵
۲	اتصال سیم فاز به بدنه یا قسمت فلزی وسایل برقی چه خطری را به دنبال دارد ؟ الف) جرقه <input type="checkbox"/> ب) آتش سوزی <input type="checkbox"/> ج) برق گرفتگی <input type="checkbox"/> د) قوس الکتریکی <input type="checkbox"/>	۰/۲۵
۳	ماده اصلی بیشتر مقاومت های مورد استفاده در مدار های الکترونیکی از چه ماده ای است ؟ چرا ؟	۰/۵
ج	واحد سه : بهداشت	۰/۷۵
۴	عامل اصلی آلودگی محیط زیست است .	۰/۲۵
۵	منظور از داروی مجاز چیست ؟ مثال بزنید .	۰/۵
د	واحد چهار : کار با چوب	۰/۵
۶	مدت زمان خشک کردن چوب در هوای آزاد به چه عواملی بستگی دارد . نام ببرید .	۰/۵
ه	واحد پنج : کار با فلز	۰/۵
۷	منظور از اتصال دائم چیست ؟ مثال بزنید .	۰/۵

۱	واحد شش: ساختمان سازی	۹
۰/۲۵	برای جلوگیری از سقوط افراد در راه پله ها قرار می دهند.	۸
۰/۲۵	به خطوط نازک در دوربین نقشه برداری چه می گویند.	۹
	الف (<input type="checkbox"/> تی) ب (<input type="checkbox"/> تار) ج (<input type="checkbox"/> شاخص) د (<input type="checkbox"/> رایید)	
۰/۵	در نقشه برداری منظور از برداشت چیست ؟	۱۰
۱/۲۵	واحد هفت: خوراک - پوشاک	ز
۰/۵	مسمومیت های غذایی اغلب با چه نشانه هایی همراه است ؟ (دو مورد)	۱۱
۰/۵	الف (اگر لازم است غذای پخته شده به مدت چند ساعت نگه داری شود چه باید کرد ؟ ب (در صورت استفاده مجدد از غذای پخته شده قبل از مصرف چه باید کرد ؟	۱۲
۰/۲۵	ابریشم چه نوع الیافی است ؟	۱۳
	الف (<input type="checkbox"/> گیاهی) ب (<input type="checkbox"/> مصنوعی) ج (<input type="checkbox"/> معدنی) د (<input type="checkbox"/> حیوانی)	
۲/۷۵	واحد هشت: باغبانی - دامپروری - صنایع غذایی	ح
۰/۲۵	کدام یک از گل های زیر جزء گل های روز بلند است .	۱۴
	الف (<input type="checkbox"/> اطلسی) ب (<input type="checkbox"/> بنفشه) ج (<input type="checkbox"/> میخک) د (<input type="checkbox"/> کاکتوس)	
۰/۷۵	الف (قلمه زدن را تعریف کنید ؟ ب (یک گیاهی را مثال بزنید که با قلمه برگ تکثیر می شود .	۱۵
۰/۲۵	قسمت مهمی از غذای روزانه دام به وسیله ی تامین می شود .	۱۶
۰/۷۵	سه بیماری مشترک بین انسان و دام را نام ببرید .	۱۷
۰/۲۵	یکی از روش های ساده کنسرواسیون است .	۱۸
۰/۵	پنیر خامه ای چیست و چگونه تهیه می شود ؟	۱۹
۸	جمع بارم موفق باشید .	

به نام خدا
سرپرستی مدارس جمهوری اسلامی ایران در امارات عربی متحده
مجتمع آموزشی نمونه توحید دختران

نام و نام خانوادگی:	پایه تحصیلی: دوم راهنمایی	مدت امتحان: 75 دقیقه * تاریخ امتحان: ۱۰/۳/۸۹
نام کلاس:	نام درس: دینی	نام دبیر: ستوده
نمره به عدد:	نمره به حروف:	امضا دبیر:

ردیف	سوال	بازم
1	یا ایها الذین امنوا اطیعوا الله و اطیعوا الرسول و اولی الامر منکم	
1	با توجه به آیه ی شریفه اطاعت از چه کسانی بر ما واجب است ؟ (ترجمه ی آیه)	
2	جاهای خالی را با کلمات مناسب کامل کنید.	
6	<p>الف) به کسانی که نامه ی اعمال آنها به دست چپ داده می شود گفته می شود.</p> <p>ب) عالمی بین دنیا و قیامت ، که انسان پس از مرگ ابتدا به آنجا می رود ، نامیده می شود .</p> <p>پ) نخستین بانوی مسلمان که در راه خدا شهید شد ، نام دارد.</p> <p>ت) روز میلاد امام دوازدهم روز نام دارد.</p> <p>ث) غیبت صغری امام دوازدهم مدت طول کشید.</p> <p>د) با درآمد کتابهای سود مند تهیه و بطور رایگان در اختیار مردم قرار میگیرد.</p> <p>ذ) پیامبر با فوت ، و دو حامی بزرگ و دلسوز اسلام را از دست داد.</p> <p>ر) دشمنان مشترک همه ی مسلمانان است.</p> <p>ز) فرمان تشکیل بسیج مستضعفان را صادر نمود .</p> <p>س) اصلی ترین برنامه ی پیامبران پس از دعوت به ایمان به خدای یگانه و معاد است .</p> <p>ش) در زمان رسول خدا ، رهبری اجتماع و تقسیم بیت المال و قضاوت ، بود.</p> <p>ص) نظامی که بر خدا پرستی و رهبری الهی و اجرای احکام الهی استوار باشد نامیده می شود .</p>	

به نام خدا
 سرپرستی مدارس جمهوری اسلامی ایران در امارات عربی متحده
 مجتمع آموزشی نمونه توحید دختران

نام و نام خانوادگی :	پایه تحصیلی: دوم راهنمایی	مدت امتحان: 75 دقیقه * تاریخ امتحان: ۱۰/۳/۸۹
نام کلاس :	نام درس : دینی	نام دبیر: ستوده
نمره به عدد :	نمره به حروف :	امضا دبیر:

ردیف	سوال	پاسخ
3	<p>در سوالات زیر ، گزینه ی صحیح را انتخاب کنید</p> <p>1) برای کدام یکی از موارد زیر باید وضو داشته باشیم :</p> <p>الف- خواندن قرآن <input type="radio"/> ب- خواندن نماز میت <input type="radio"/></p> <p>ج- طواف واجب خانه ی خدا <input type="radio"/> د- حضور در مکه <input type="radio"/></p>	
	<p>2) در نماز جمعه مستحب است در رکعت دوم بعد از تلاوت سوره ی حمد ، سوره ی خوانده شود .</p> <p>الف- سوره جمعه <input type="radio"/> ب- سوره توحید <input type="radio"/> ج- سوره منافقون <input type="radio"/> د- سوره علق <input type="radio"/></p>	
3	<p>3) زکات به چه چیزهایی تعلق می گیرد ؟</p> <p>الف- گندم - جو - خرما - طلا <input type="radio"/> ب- شتر - نقره - کشمش - نخود <input type="radio"/></p> <p>ج- گندم - برنج - خرما - طلا <input type="radio"/> د- خرما - کشمش - پارچه - شتر <input type="radio"/></p>	
	<p>4) کسی که دیگری فطره ی او را می دهد ، فطره ی خود را بدهد.</p> <p>الف- باید <input type="radio"/> ب- واجب است <input type="radio"/> ج- واجب نیست <input type="radio"/> د- نمی تواند <input type="radio"/></p>	
	<p>5) آیا انسان به تنهایی می تواند با عقل و تدبیر خویش برنامه ی کاملی را برای سعادت خویش تنظیم کند ؟ چرا ؟</p> <p>الف- عمر انسان کوتاه <input type="radio"/> ب- اطلاعات انسان کم <input type="radio"/></p> <p>ج- عقل و اندیشه ی انسان محدود <input type="radio"/> د- هر سه مورد <input type="radio"/></p>	
	<p>6) مهم ترین رکن حکومت اسلامی نام دارد.</p> <p>الف- دین داری <input type="radio"/> ب- عدالت <input type="radio"/></p> <p>ج- امامت <input type="radio"/> د- شهادت <input type="radio"/></p>	

به نام خدا
 سرپرستی مدارس جمهوری اسلامی ایران در امارات عربی متحده
 مجتمع آموزشی نمونه توحید دختران

نام و نام خانوادگی:	پایه تحصیلی: دوم راهنمایی	مدت امتحان: 75 دقیقه * تاریخ امتحان: ۱۰ / ۳ / ۸۹
نام کلاس:	نام درس: دینی	نام دبیر: ستوده
نمره به عدد:	نمره به حروف:	امضا دبیر:

برگ	ریف
	<p>(7) بهترین نماز ها چه نمازی است؟</p> <p>الف- نماز جمعه است <input type="radio"/></p> <p>ب- نماز جماعت است <input type="radio"/></p> <p>ج- نمازی که با توجه و با جماعت خوانده شود <input type="radio"/></p> <p>د- نماز با اخلاص و پر فضیلت است <input type="radio"/></p>
	<p>(8) کدام آب قلیل است:</p> <p>الف- استخر <input type="radio"/> ب- قنات <input type="radio"/> ج- لیوان <input type="radio"/> د- چاه عمیق <input type="radio"/></p>
3	<p>(9) به فرموده ی پیامبر مردم در زمان غیبت امام دوازدهم چگونه از وجود ایشان بهره می برند؟</p> <p>الف- توسط نایب امام و باب امام <input type="radio"/></p> <p>ب- توسط چهار تن از وکلای حضرت مهدی <input type="radio"/></p> <p>ج- همانگونه که از خورشید پشت ابر بهره می برند <input type="radio"/></p> <p>د- هر سه مورد صحیح است <input type="radio"/></p>
	<p>(10) وضو گرفتن با آب غصبی چه حکمی دارد:</p> <p>الف- باطل است <input type="radio"/> ب- صحیح است <input type="radio"/> ج- مباح است <input type="radio"/> د- مکروه است <input type="radio"/></p>
	<p>(11) نایب امام زمان در هنگام غیبت کبری چه کسی است؟</p> <p>الف- فقیه <input type="radio"/> ب- نایبانش <input type="radio"/> ج- فقیه عادل و آگاه <input type="radio"/> د- علمای دین <input type="radio"/></p>
	<p>(12) حکم کسی که روزه ی یک روز ماه رمضان را بدون عذر نگیرد ، چیست؟</p> <p>الف- فقط قضای روزه <input type="radio"/></p> <p>ب- شصت روز ، روزه <input type="radio"/></p> <p>ج- اطعام شصت فقیر <input type="radio"/></p> <p>د- علاوه بر قضای روزه، شصت روز، روزه یا سیر کردن 60 فقیر <input type="radio"/></p>

به نام خدا
 سرپرستی مدارس جمهوری اسلامی ایران در امارات عربی متحده
 مجتمع آموزشی نمونه توحید دختران

نام و نام خانوادگی :		پایه تحصیلی: نوم راهنمایی	مدت امتحان: 75 دقیقه * تاریخ امتحان: ۱۰/۳/۸۹
نام کلاس :		نام درس : دینی	نام دبیر: ستوده
نمره به عدد :		نمره به حروف :	امضا دبیر:
بهره	ریف		
1	4	مستطیع به چه کسی گفته می شود ؟	
1	5	مطالبی که در قرآن آمده است به چند بخش تقسیم می شود ؟ 2 بخش را نام ببرید	
1	6	پیشوایان معصوم ما اثر پذیری نفس انسان را چگونه توصیف کرده اند؟	
1	7	خدای مهربان در برابر نعمت هایی که به ما داده، چه وظایفی را برای ما تعیین کرده است؟ 2 مورد	
1	8	در اعمال حج چه ویژگی هایی به هم آمیخته می شوند؟ (4 مورد)	
1	9	حضرت علی (ع) درباره ی صبر چه می فرماید؟ رابطه ی صبر و روزه چیست ؟	
1	10	با چه کسی باید مشورت کرد؟ (4 ویژگی بیان شود)	
<div style="border: 1px solid black; padding: 10px; width: fit-content; margin: auto;"> <p>شکوفه های زندگی ؛ در پناه حق همیشه پیروز باشید . ستوده - دبی - خرداد - 89</p> </div>			

۱/۵	<p>۱- آیه زیر را ترجمه کنید، و بنویسید به چه مطلبی اشاره می کند. یا ایها الذین امنوا اطیعوا الله واطیعوا الرسول واولی الامر منکم.</p>
۱	<p>۲- جاهای خالی را با کلمات مناسب پر کنید.</p> <p>الف- به کسانی که نامه اعمالشان را به دست راست می گیرند، اصحاب..... می گویند.</p> <p>ب- آبی که از زمین بجوشد و جریان داشته باشد..... نام دارد.</p>
۱	<p>۳- صحیح و غلط بودن جملات زیر را مشخص کنید.</p> <p>الف- خوردن و آشامیدن چیز نجس مکروه است. ص <input type="radio"/> ص <input type="radio"/> غ <input type="radio"/></p> <p>ب- موالات یعنی کارهای وضو پشت سر هم و بدون فاصله انجام گیرد. ص <input type="radio"/> ص <input type="radio"/> غ <input type="radio"/></p>
۱	<p>۴- گزینه صحیح را علامت بزنید.</p> <p>الف- خمس مال را به چه کسی باید داد.</p> <p>۱- مستمندان ۲- رهبر اسلامی ۳- از کار افتادگان ۴- یتیمان</p> <p>ب- کدام گزینه جزء نجاسات نمی باشد.</p> <p>۱- شراب ۲- کافر ۳- خون پشه و مگس ۴- سنگ</p>

مجمع آموزشی خدیجه خیری (س)

سال تحصیلی ۸۸-۸۹

نام درس : دینی

رشته تحصیلی :

نام و نام خانوادگی :

پایه تحصیلی : دوم

نوبت امتحان : دوم

مدت امتحان : ۶۰ دقیقه

تاریخ امتحان : ۱۰/۳/۸۹

۱ ۵- مجموعه ی منظم چه تفاوتی با مجموعه نامنظم دارد؟

۱ ۶- اعمال نیک و خوب چه آثار باقی و ثابتی را در نفس انسان به جای می گذارد؟

۱ ۷- نتیجه مشورت با افراد صالح و آگاه چیست؟ (دومورد)

۱ ۸- چرا قرآن کریم مسلمانان را امت واحد می داند؟

۱ ۹- چرا پیامبر تصمیم گرفت برای تبلیغ دین اسلام به شهر طائف سفر کند؟

۱ ۱۰- مسلمانان چگونه باید استقلال و عظمت و یگانگی اسلام را حفظ کنند؟ (دومورد)

۱ ۱۱- زکات فطره چیست؟

۱/۵ ۱۲- آیا ممکن است پیامبر جامعه اسلامی را پس از خود بدون سرپرست و رهبر رها کرده باشد؟ چرا

۱ ۱۳- کفار یک روز روزه نگرفتن بدون عذر شرعی چیست؟

۱ ۱۴- چرا امام دوازدهم از نظرها غائب است؟

۱ ۱۵- سرنوشت فرد مستطبیعی که در انجام فریضه ی حج کوتاهی می کند، چگونه خواهد بود؟

۱ ۱۶- در هر رکعت نماز جمعه خواندن کدام سوره مستحب است؟ چرا

۱/۵ ۱۷- اگر دو کشور اسلامی بایکدیگر درگیر شوند، وظیفه سایر کشورهای اسلامی چیست؟ دو وظیفه مهم را بیان کنید.

۱/۵ ۱۸- سه مورد از چیزهایی که وضو را باطل می کنند؟ بیان کنید؟

تاریخ: ۸۹/۳/۱۰ نام دبیر: فرجام تعداد صفحه: ۳ مدت پاسخ گویی: ۶۰ دقیقه	باسمه تعالی اداره کل مدارس خارج از کشور سرپرستی مدارس جمهوری اسلامی ایران در امارات عربی متحده مجتمع آموزشی شارجه (دوره راهنمایی) خرداد ماه ۸۹	نام و نام خانوادگی: نام پدر: نام درس: دینی پایه: دوم راهنمایی
نام و نام خانوادگی مصحح و امضا:		نمره به عدد: نمره به حروف:
۲	صحیح یا غلط بودن عبارات زیر را مشخص کنید: الف - امام جمعه از سوی مردم انتخاب می شود. <input type="checkbox"/> ص <input type="checkbox"/> غ ب - اگر غضبی بودن آب را فراموش کردیم و وضو گرفتیم ، وضویمان صحیح است. <input type="checkbox"/> ص <input type="checkbox"/> غ ج - ماهی اگر در آب بمیرد، پاک است. <input type="checkbox"/> ص <input type="checkbox"/> غ د - آب قلیل در برخورد با نجاست ، نجس نمی شود. <input type="checkbox"/> ص <input type="checkbox"/> غ	
۱/۵	گزینه صحیح را مشخص کنید: ۱- اصلی ترین برنامه پیامبران پس از دعوت به خدای یگانه و معاد است. الف - نبوت <input type="checkbox"/> ب - دعوت به قیام علیه ستمگران <input type="checkbox"/> ج - اقامه عدل <input type="checkbox"/> د - مبارزه با دنیا پرستی <input type="checkbox"/> ۲ - کدام مورد جزء آب جاری می باشد؟ الف - آب کوزه <input type="checkbox"/> ب - آب قنات <input type="checkbox"/> ج - آب لوله کشی <input type="checkbox"/> د - آب لیوان <input type="checkbox"/> ۳ - غیبت صغری امام زمان (ع) چند سال طول کشید؟ الف - ۲۶۰ سال <input type="checkbox"/> ب - ۶۹ سال <input type="checkbox"/> ج - ۳۲۹ سال <input type="checkbox"/> د - ۹۶ سال <input type="checkbox"/>	
۳	جملات زیر را کامل کنید: ۱- سعادت و شقاوت انسان در آخرت از مایه می گیرد. ۲- قرآن مجید تعداد سوره دارد و اولین سوره ای که بر پیامبر نازل شد می باشد. ۳- دشمن مشترک همه مسلمانان و است. ۴- دو ورزشی را که پیامبر به آموزش آنها توصیه فرموده اند و می باشد. ۵- چیزی را که نجس شده می گویند. ۶- در هر رکعت نماز جمعه مستحب است پس از حمد سوره های و خوانده شود.	

۴	این آیه را ترجمه کنید : « یا ایها الذین آمنوا أطیعوا اللهَ و أطیعوا الرسولَ و اولى الامرِ منکم »	۱
۵	چگونه می توان از هول و هراس قیامت در امان بود؟	۱
۶	هنگامی که پیامبر خانواده یاسر را می دید با چه بیانی به آنان دلداری و بشارت می داد؟	۱
۷	خدای مهربان و آگاه و توانا در برابر نعمت های بی شماری که به ما داده چه وظائفی را برای ما معین کرده است؟ (۲ مورد)	۱
۸	بر اساس رهنمود امام صادق (ع) باید با چه کسانی مشورت کرد؟ (۴ مورد)	۱
۹	پیامبر درباره مسئولیت هر مسلمان نسبت به سایر مسلمانان چه فرموده است؟	۱
۱۰	چرا قرآن کریم ، مسلمانان را امت واحده می داند؟ (۴ مورد)	۱
۱۱	چهار نمونه از کارهایی را که پیامبر در سمت رهبری انجام می دادند ، بیان کنید:	۱
۱۲	در زمان غیبت امام ، مردم چگونه از وجود ایشان بهره مند می شوند؟ (سخن پیامبر را در این مورد بیان کنید.)	۱
۱۳	موالات در وضو یعنی چه؟	۱
۱۴	کفار یک روز روزه نگرفتن بدون عذر شرعی چیست؟	۱
۱۵	پیامبر درباره رفتن به حج چه می فرمایند؟	۱
۱۶	موارد مصرف زکات را که قرآن به آن ها اشاره کرده، نام ببرید: (۳ مورد)	۱/۵

« موفق باشید »

نام و نام خانوادگی:

تیسر
سرپرستی مدارس جمهوری اسلامی ایران - ادارات

تاریخ: ۱۳۸۹/۳/۱۰

مجتمع آموزشی امام خمینی (ره) ابوظیبی

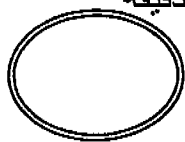
امتحان درسی: دینی

پایه و رشته تحصیلی: دوم راهنمایی

وقت: ۷۰ دقیقه

نام دبیر: علی ایزدی

شماره صندلی:



بارم	سوالات	ردیف
۲	ترجمه ی آیه ی ۴۸ سوره ی ابراهیم را بنویسید . يَوْمَ تُبَدَّلُ الْأَرْضُ غَيْرَ الْأَرْضِ وَالسَّمَاوَاتُ وَبَرَزُوا لِلَّهِ الْوَاحِدِ الْقَهَّارِ .	۱
۰/۵	سعادت و شقاوت انسان در آخرت از او در این دنیا مایه می گیرد . الف) نیت <input type="checkbox"/> ب) اهداف <input type="checkbox"/> ج) اعمال <input type="checkbox"/> د) احساسات <input type="checkbox"/>	۲
۰/۵	اولین سوره ای که بر پیامبر نازل شد کدام سوره است ؟ الف) بقره <input type="checkbox"/> ب) علق <input type="checkbox"/> ج) توحید <input type="checkbox"/> د) حمد <input type="checkbox"/>	۳
۰/۵	این سخن از کیست ؟ « هرکس که به فکر اصلاح امور مسلمانان نباشد ، مسلمان نیست » الف) پیامبر اسلام (ص) <input type="checkbox"/> ب) حضرت علی (ع) <input type="checkbox"/> ج) امام باقر (ع) <input type="checkbox"/> د) امام سجاد (ع) <input type="checkbox"/>	۴
۰/۵	قرآن مجید چند سوره دارد ؟ الف) ۱۲۴ <input type="checkbox"/> ب) ۱۴۱ <input type="checkbox"/> ج) ۴۱۱ <input type="checkbox"/> د) ۱۱۴ <input type="checkbox"/>	۵
۰/۵	خدا دین را به وسیله ی برای ما فرستاده است .	۶
۰/۵	خوردن و آشامیدن چیز نجس است .	۷
۱	دشمن مشترک مسلمانان و است .	۸
۱	امام زمان (عج) در روز و شهر بدنیا آمد .	۹
۱	بهترین نماز ها چگونه نمازی است ؟	۱۰

۱	در زمان غیبت امام دوازدهم مردم چگونه از وجود ایشان بهره مند می شوند؟	۱۱
۱	هنگامی که پیامبر خانواده ی یاسر را می دید با چه بیانی به آنان دلداری می داد؟	۱۲
۱/۵	چه کسانی نباید روزه بگیرند؟	۱۳
۱/۵	حکم آب کر و جاری و قلیل در برخورد با نجاست چیست؟	۱۴
۱/۵	بنا به سخن پیامبر چه کسانی از یک تیر ثواب می برند و لایق بهشت می شوند؟	۱۵
۱/۵	ثبت و ضبط اعمال را در وجود انسان ، به وسیله ی فرشتگان و خدای متعال توضیح دهید .	۱۶
۲	موارد مصرف زکات را که قرآن به آن ها اشاره کرده است بنویسید .	۱۷
۲	چهار نمونه از کارهایی را که پیامبر در سمت رهبری انجام می دادند بنویسید .	۱۸
	موفق باشید	



مهر مجتمع

باسمه تعالی

سرپرستی مدارس جمهوری اسلامی ایران در امارات عربی متحده
مجتمع آموزشی نمونه و بین الملل توحید پسران
مقطع راهنمایی مجتمع توحید

امتحان درس : دینی	پایه : دوم	تاریخ امتحان : ۸۹/۳/۱۰
نام و نام خانوادگی :		سال تحصیلی ۸۸/۸۹
نام دبیر : علی محمدی - آگری	شماره صندلی :	وقت امتحان : ۲۰ دقیقه

((موفقیت شما آرزوی ماست))

۱- آیه ی زیر را ترجمه کنید.

« یا ایها الذین امنوا اطیعواالله و اطیعواالرسول و اولی الامر منکم »

۲- جاهای خالی زیر را با کلمات مناسب پر کنید.

الف- مهم ترین برنامه ی پیامبران دعوت مردم به است که سرچشمه ی همه ی اعمال خوب است. (توحید - معاد)
ب- نخستین بانوی رشیدی که در راه اسلام شهید شد است. (سمیه - خدیجه)

xxx در داخل مربع جلوی پاسخ درست علامت x بزنید.

۰/۵

۳- نخستین سوره ای که بر پیامبر (ص) نازل شد چه نام دارد؟

الف- بقره ب- کوثر ج- علق د- توبه

۰/۵

۴- کدام یک از آب های زیر آب جاری نیست؟

الف- آب چشمه ب- آب قنات ج- آب کوزه د- آب رودخانه

۰/۵

۵- فوت حضرت ابوطالب و حضرت خدیجه(س) بر تبلیغ دین اسلام چه تاثیری گذاشت؟

۱

۶- مجموعه منظم چه تفاوتی با مجموعه نا منظم دارد؟

۱

۷- اصحاب یمین به چه کسانی گفته می شود؟

۱

۸- پیامبر (ص) آموزش دو ورزش را توصیه کرده اند این دو ورزش کدام اند؟

۱

۹- براساس رهنمود امام صادق (ع) باید با چه کسانی مشورت کرد؟ ۴ مورد

۱

۱۰- اگر دو کشور اسلامی با یکدیگر در گیر شوند وظیفه ی سایر کشورهای اسلامی چیست؟ دووظیفه ی مهم را بیان کنید.

سال تحصیلی: ۸۸-۸۹
 تاریخ امتحان: ۸۹.۳.۱۰
 شماره صفحه:

باسمه تعالی



راهنمای تصحیح درس: (رسمی)
 پایه:
 دوره:
 رشته:

نمون برگ شماره ۲

۱- لطفاً پاسخ سوالات بطور کامل قید گردد (با ذکر ریز بارم) ۲- از دادن آدرس بعنوان مثال (مراجعه به متن ص ۲۰ و یا... خودداری شود)

بارم	راهنمای تصحیح	دیف
	<p>۱- این که بدانیم خدا را اطاعت کنید و بول خدا و اولی امرمان را اطاعت کنید.</p> <p>۲- الف - ایمان به خدا (توحید) ۱۵ ب - ستم ۱۵</p> <p>۳- ج. علق ۱۵ ۴- ج. آب کوزه ۱۵</p> <p>۵- حامی بزرگ و پشتیبان دلسوز و نوازشگر و خیر را از بدی دور - از جامه امنیت نداشت ۱۵</p> <p>۶- در محرم منظم افزای با هم محافظت طایفه کنند و در این مکر هفت گزشتند ۱</p> <p>۷- به افراد سیدگار در نامه اعمالی را در دست راست می دهند ۱</p> <p>۸- تیر اندازی - سوار کاری ۱</p> <p>۹- خوردند - آگاه ۵ - با تجربه - فریاد - میهن پر ۱</p> <p>۱۰- اخذ نامت راصل کنند و آشنایان را بر سر آری از زند و جهان اسلام را از تفرقه نجات دهند با مال بطرفی بخاورد و سر را نشانی کنند ۱</p> <p>۱۱- زیرا همه آن ها از سیدگار جهان راه پرستند - بسیار معارف حضرت گرامی (مترجم) - مقبره ۱</p> <p>۱۲- زیرا بسیار و اتم الهی به مردم فریاد کرده بود که در معبود دشمن شکران است و با یک یارانش کاخ که آن ها را می خورد ۱</p> <p>۱۳- فقیه عادل - با تقوا - آگاه به زمان - شجاع - مهربان ۱</p> <p>۱۴- عثمان بن سعید - عمر بن عثمان - حسین بن روح - علی بن محمد ۱</p> <p>۱۵- بسیار با کسی که روزی گفتن بر او ضرر دارد - بر پدر روزگاری روزی گفتن بر او صفت دارد - زن حاضر کرده ۱</p> <p>۱۶- خارج شول لول - مدونع - خارج کردن با دار شکم - خوابیدن - سو ۱</p> <p>۱۷- رهبر - رحمت و مهربانی - اجتماع - تقوا و پرهیزگاری - مشورت - خالصه اسلام ۱</p> <p>۱۸- کسی که توانایی مدینه عالی داشته باشد و بتواند هیچ مرد و سرباز با یکت برابر اقامت زندگ در امام داشته باشد ۱</p> <p>۱۹- تمهید انست ارتقا بر آوردند - تا مین زندگت سادات تمهید است ۱</p> <p>۲۰- لازم است جماع در این مجمع عمومی و پس خروج آن ان فی زیاد است از شرف مال و ظاهر اهل جمع و سزاوار است ۱</p>	

۲۱- خردان ل نفسین کنند ۱۵ کسی که ضرر بر او است و در سبک بود ۱۵
 در سبک عادل نگردد ۱۵

باسمه تعالی

اداره کل مدارس خارج از کشور

سرپرستی مدارس جمهوری اسلامی ایران در امارات عربی متحده

مجمع آموزشی شارجه (خرداد ۸۹ پسران)

جای مهر

نام دبیر: درزی

تعداد صفحه: ۱

شماره ی کلاس:

نام درس: دینی ۲

پایه: دوم راهنمایی

مدت پاسخگویی: ۷۵ دقیقه

سؤالات	در آرام گیرد زیاد خدا	س
--------	-----------------------	---

۱	مجموعه منظم را تعریف کنید.	۱
۱	قیامت از نظر قرآن چگونه توصیف شده است؟ چهار مورد.	۲
۱	اصحاب یمین چه کسانی هستند؟	۳
۲	هدف از قیام و انقلاب از نظر قرآن چیست؟ چهار مورد.	۴
۲	تمامی مواردی که در قرآن آمده است به چند بخش کلی تقسیم می شود؟ چهار مورد.	۵
۱	چهار ویژگی پیامبر را از نظر قرآن در سوره توبه بنویسید.	۶
۱	چهار ویژگی افراد اهل مشورت را از نظر امام صادق ع بنویسید.	۷
۱	چرا قرآن مسلمانان را امت واحده می نامد؟	۸
۱	حکومت اسلام در زمان پیامبر چگونه بود؟	۹
۱	نام وکلای امام مهدی (ع) را بنویسید.	۱۰
۱	راه ثابت شدن نجاست را با ذکر یک مثال بنویسید.	۱۱
۱	منظور از آب قلیل و آب کر چیست؟	۱۲
۱	ترتیب و موالات در وضو را توضیح دهید.	۱۳
۱	چیزهایی که وضو را باطل می کنند نام ببرید. (چهار مورد)	۱۴
۱	در نماز جمعه خواندن کدام سوره مستحب است؟ چرا؟	۱۵
۱	پیامبر ماه رمضان را چگونه توصیف فرمود؟ (چهار مورد)	۱۶
۱	حج به چه کسانی واجب می شود؟ مستطیع یعنی چه؟	۱۷
۱	زکات چه چیزهایی واجب است؟ (چهار مورد)	۱۸
سلامت و پیروز باشید.		

به نام خدا
سرپرستی مدارس جمهوری اسلامی ایران در امارات عربی متحده
مجتمع آموزشی نمونه توحید دختران

نام و نام خانوانگی :	پایه تحصیلی: دوم راهنمایی	مدت امتحان: ۹۰ دقیقه * تاریخ امتحان: ۱۳۸۹/۳/۸
نام کلاس :	نام درس : علوم تجربی	نام دبیر: ترکمانپری
نمره به عدد :	نمره به حروف :	امضا دبیر:

A- جاهای خالی را با کلمات مناسب پر کنید. (۲/۵)

- ۱- هنگامی که محلول ید را روی بریزیم رنگ آن آبی تیره می شود .
- ۲- حاصل سوختن شمع و است .
- ۳- از عسلی واگرا در استفاده می شود .
- ۴- برای سرد سازی از پدیده ی فیزیکی استفاده می شود .

B- پاسخ درست را با علامت ضربدر مشخص کنید. (۱)

- ۵ - کدامیک از سنگهای زیر آذرین است ؟
- الف - گنیس ب - ماسه سنگ ج - گرانیت د - سنگ آهک
- ۶ - جرم یک سانتیمتر مکعب از یک ماده را گویند .
- الف - حجم ب - چگالی ج - جرم حجمی د - هیچکدام
- ۷ - جنس هسته ی زمین چیست ؟
- الف - آهن و منیزیم ب - آهن و نیکل ج - نیکل و کبالت د - سدیم و نیکل
- ۸ - کدام گروه از مواد غذایی برای تولید انرژی به کار می رود ؟
- الف - ویتامین ب - آب و مواد معدنی ج - لیپید و نمک د - کربوهیدرات و لیپید

C - به سوالات زیر پاسخ دهید .

۹ - در حرکت نوسانی بسامد را تعریف کنید ؟ (۰/۵)

۱۰ - ویژگی های موج الکترومغناطیسی را بنویسید ؟ (۰/۷۵)

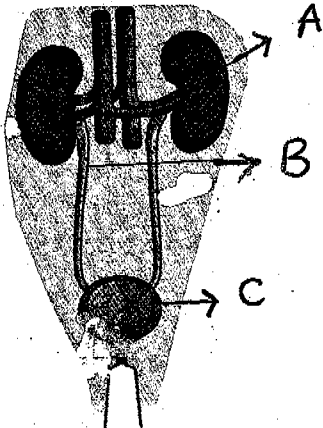
باسمه تعالی
 مجتمع آموزشی خدیجه کبری (س)
 سال تحصیلی ۸۹ - ۸۸
 نام درس : علوم تجربی
 مقطع تحصیلی : راهنمایی

نام و نام خانوادگی :
 پایه تحصیلی : دوم

نوبت امتحان : خرداد ماه
 مدت امتحان : ۸۰ دقیقه

ردیف	رمز پیروزی ، در دانش و توانمندی نهفته است نه در بخت و اقبال (مایک دومر)	بارم
۱	<p>جملات زیر را با استفاده از کلمات مناسب کامل کنید.</p> <p>الف- برای شناسایی گاز دی اکسید کربن از محلول استفاده می شود.</p> <p>ب- به جسمی که نور از آن عبور نمی کند جسم می گویند.</p> <p>ج- واحد سازنده پروتئین ها نام دارد.</p> <p>د- عامل اصلی هوازدگی شیمیایی است.</p>	۱/۵
۲	<p>جملات صحیح را با (ص) و جملات غلط را با (غ) مشخص کنید سپس جملات غلط را تصحیح نمایید.</p> <p>الف) سوختن : نفت یک تغییر گرماگیر است. ()</p> <p>ب) بیشترین جذب غذا در معده انجام می شود. ()</p> <p>ج) هر چه ذرات سازنده یک ماده بیش تر باشد انرژی درونی آن بیش تر است. ()</p> <p>د) دیواره ی بطن ها ضخیم تر از دهلیزهاست. ()</p>	۱/۵
۳	<p>گزینه درست را با علامت x مشخص کنید.</p> <p>الف) تصویر در آینه محدب و مقعر به ترتیب چگونه است؟</p> <p>(۱) بزرگ تر - کوچک تر <input type="checkbox"/> (۲) کوچک تر - بزرگ تر <input type="checkbox"/></p> <p>(۳) کوچک تر - بزرگ تر <input type="checkbox"/> (۴) بزرگ تر - بزرگ تر <input type="checkbox"/></p> <p>ب) کدام یک از تغییرات زیر فیزیکی است؟</p> <p>(۱) سوختن غذا <input type="checkbox"/> (۲) زرد شدن برگ درختان <input type="checkbox"/> (۳) ترش شدن ماست <input type="checkbox"/> (۴) تبخیر الکل <input type="checkbox"/></p> <p>ج) کدام یک از ویتامین ها ی در بدن ساخته می شوند؟</p> <p>(۱) A و D <input type="checkbox"/> (۲) B و K <input type="checkbox"/> (۳) E و D <input type="checkbox"/> (۴) C و B <input type="checkbox"/></p> <p>د) سنگ مرمر جز کدام گروه از سنگ ها می باشد؟</p> <p>(۱) رسوبی <input type="checkbox"/> (۲) آذرین بیرونی <input type="checkbox"/> (۳) دگرگونی <input type="checkbox"/> (۴) آذرین درونی <input type="checkbox"/></p>	۱

۱	<p>در مقابل هر مورد شماره ی کلمات روبرو را بیابید و آن را در جای مناسب بگذارید.</p> <p>(الف) مرکز فرماندهی سلول را بر عهده دارد. ()</p> <p>(ب) کم ترین طول موج را دارد. ()</p> <p>(ج) عدم اشتغال پذیری آب جزء چه خاصیتی است. ()</p> <p>(د) دهنده ی عمومی گروه خونی می باشد ()</p> <p>(۵) هسته</p> <p>(۶) اشعه گاما</p> <p>(۷) گروه خونی AB</p> <p>(۸) خاصیت فیزیکی</p>	۴								
۰/۷۵	<p>عامل هر یک از پدیده های زیر را بنویسید.</p> <p>(الف) کم ترین دیدن عمق استخر ()</p> <p>(ب) علت وقوع زلزله ()</p> <p>(ج) خرده چوب زودتر از تنه درخت می سوزد ()</p>	۵								
۰/۷۵	<p>جدول زیر را کامل کنید</p> <table border="1" data-bbox="300 1393 1110 1563"> <thead> <tr> <th data-bbox="300 1393 480 1473">گرانیت</th> <th data-bbox="480 1393 676 1473">انحلال</th> <th data-bbox="676 1393 887 1473">هوازگی فیزیکی</th> <th data-bbox="887 1393 1110 1473">هوازگی شیمیایی</th> </tr> </thead> <tbody> <tr> <td data-bbox="300 1473 480 1563"></td> <td data-bbox="480 1473 676 1563"></td> <td data-bbox="676 1473 887 1563"></td> <td data-bbox="887 1473 1110 1563"></td> </tr> </tbody> </table>	گرانیت	انحلال	هوازگی فیزیکی	هوازگی شیمیایی					۶
گرانیت	انحلال	هوازگی فیزیکی	هوازگی شیمیایی							
۱/۵	<p>یک تفاوت را برای هر یک از موارد زیر بنویسید.</p> <p>(الف) دهلیز راست با دهلیز چپ :</p> <p>(ب) هوای دم با هوای بازدم :</p> <p>(ج) خاک کوهستان با خاک چمنزار :</p>	۷								
۲	<p>عبارات زیر را تعریف کنید.</p> <p>(الف) گرمای نهان ذوب :</p> <p>(ب) سنگ مادر :</p>	۸								

	(ج) پرز : (د) بافت :	
۱	یک آزمایش طراحی کنید که نشان دهد مقدار انرژی تابشی یک جسم به رنگ آن هم بستگی دارد؟	۹
۰/۲۵ ۰/۵ ۰/۵ ۰/۵ ۰/۵ ۰/۵ ۰/۵	پاسخ کوتاه دهید. الف- لوله های باریکی در کلیه که کار تصفیه را بر عهده دارند. ب- دو ویژگی سنگ های رسوبی را نام ببرید. ج- آنزیم ها با کانالیزرها چه شباهتی دارند؟ (دو مورد) د- گلبول های سفید بیگانه خوار چگونه به میکروب ها حمله می کنند؟ ه - انرژی گرمایی زمین نسبت به انرژی نفت و گاز و زغال سنگ چه مزیتی دارند؟ (دو مورد) ی- دو وظیفه لنف را نام ببرید. و- آب برای بدن ما چه فایده ای دارد؟ (دو مورد)	۱۰
۰/۷۵	 <p>شکل زیر را نام گذاری کنید.</p> <p>: A : B : C</p>	۱۱
	موفق باشید	

باسمه تعالی

سرپرستی مدارس جمهوری اسلامی ایران در امارات عربی متحده
مجمع آموزشی نمونه و بین الملل توحید پسران
مقطع راهنمایی مجمع توحید

مهر مجمع

امتحان درس : علوم تجربی	پایه : دوم	تاریخ امتحان : ۸۹/۳/۲۰
نام و نام خانوادگی :		سال تحصیلی ۸۸-۸۹
نام دبیر : حاجی زاده - روحانی	شماره صندلی :	وقت امتحان : ۷۵ دقیقه

۱- از تغییرات زیر کدام فیزیکی و کدام شیمیایی است ؟ به چه دلیل؟
الف : تبخیر آب (.....) دلیل :
ب- تجزیه آب (.....) دلیل :

۰/۵ ۲- هر یک از ویژگی های زیر مربوط به کدام آینه است ؟
الف - تصویر در آینه همیشه کوچک تر و وارونه است (.....)
ب- اندازه جسم با اندازه تصویر برابر است (.....)

۰/۵ ۳- هر یک از ویژگی های زیر مربوط به کدام دسته از سنگ ها است ؟
الف- از ذوب و انجماد ماگما حاصل می شود (.....)
ب- در اثر فشار و گرمای زیاد بوجود می آید (.....)

۰/۵ ۴- به سوالات زیر پاسخ کوتاه دهید.
الف- دو ویژگی سنگ های رسوبی را بیان کنید.
ب- اگر دو جسم در اختیار داشته باشید چگونه می فهمید که شفاف است یا نیم شفاف؟
ج- با توجه به معادله ی نوشتاری مقابل :
گرم + آهن سولفید → گوگرد + آهن
واکنش گرما کداند؟

۱ ۵- الف - جنس هسته داخلی و خارجی از چیست ؟
ب- ضخامت سنگ کره در زیر قاره ها بیش تر است یا در زیر اقیانوس ها ؟

۱ ۶- رسانایی گرمایی ، در کدام حالت ماده بیش تر است ؟ به چه دلیل؟

۱ ۷- الف- شباهت امواج مکانیکی با امواج الکترومغناطیسی چیست ؟
ب- تفاوت امواج مکانیکی با امواج الکترومغناطیسی چیست؟ یک مورد

۱ ۸- الف - گیاه خاک چگونه بوجود می آید؟
ب- دو ویژگی آن را بنویسید.

۹- رنگ و ترکیب نفت خام را بنویسید.

۱۰- از دستگاه های اصلی بدن آدمی چهار مورد را بنویسید.

۱۱- الف- واحد ساختمانی پروتئین ها چه نام دارد؟
ب- تفاوت پروتئین ها با یکدیگر در چیست؟

۱۲- الف- دستگاه گوارش از دو بخش تشکیل شده است آن ها را نام ببرید.
ب- جذب غذا را تعریف کنید.

۱۳- نقش بینی را در تنفس بنویسید.

۱۴- راه های جذب آب توسط بدن آدمی را بیان کنید. (۳مورد)

۱۵- مبدا و مقصد گردش کوچک (تصفیه ای) و گردش بزرگ (عمومی) خون را بنویسید.

۱۶- الف- کدام عنصر و ویتامین در انعقاد خون نقش دارد؟

ب- گلبول های سفید به چند طریق عوامل مهاجم (میکروب ها) را از بین می برند آن ها را نام ببرید (۲مورد)

نمره با حروف :

نمره با عدد :

امضا

نام و نام خانوادگی مصحح :

سال تحصیلی: ۸۸-۸۹
 تاریخ امتحان:
 شماره صفحه:

باسمه تعالی



راهنمای تصحیح درس: علوم تجربی
 پایه: دوم
 دوره: راهنمایی
 رشته:

نمون برگ شماره ۲

۱- لطفاً پاسخ سوالات بطور کامل قید گردد (با ذکر ریز بارم) ۲- از دادن آدرس بعنوان مثال (مراجعه به متن ص ۲۰ و یا... خودداری شود)

بارم	راهنمای تصحیح	یافت
------	---------------	------

- ۱- الف: فیزیک ۲۵، زیر ساختار ذره‌ای ماده تغییر نمی‌کند. ۲۵
- ب: شیمیایی ۲۵، زیر ساختار ذره‌ای ماده تغییر کرده است. ۲۵
- ۲- الف: آینه کوزل یا محدب ۲۵، ب: آینه‌ی تخت ۲۵
- ۳- الف: ششهای آدرین ۲۵، ب: ششهای دیگر گونی ۲۵

۴- الف: لایه لایه بودن ۲۵، امکان وجود فسیل ۲۵
 ب: بیجسم می‌تواند از آن عبور کند جسم شفاف هم گویند ۲۵، جسمی که نور از آن عبور می‌کند جسم شفاف هم گویند ۲۵

۵- الف: آهن ۲۵، نیکل ۲۵، ب: (در تارک) ۲۵، زینر پوسته در زیر اقیانوس، از یک لایه در زیر قاره، از لایه نیکل شسته است. ۲۵
 هر چه فاصله مرکز لول با مرکز زمین کم شود، یعنی موکول با هم نزدیک تر باشند، گرما با سرعت بیشتری در دریا منتقل می‌شود. ۱۵

۶- الف: هر دو دارای انرژی هستند ۱۵، امواج الکتریکی و مغناطیسی، برخلاف امواج مکانیکی از خلأ می‌گذرند. یا... ۱۵

۷- الف: وقتی گیاهان می‌میرند اجزای آن تجزیه می‌شوند، پس از مدتی این مواد تجزیه شده بی درجه‌ای می‌مانند که در صورت اولییرگی در آن با منحنی نیست
 برای مواد گیاهی خاک گونی ۱۵، ب: گیاهان که قدرت نگهداری در خاک را افزایش می‌دهند ۲۵، گیاهان که خواصت بسیار خاکی را افزایش می‌دهند ۲۵

۸- نفت خام با این سه روش و بجز حضور در ۱۵، نفت خام ترکیب شیمیایی ثابت و معینی ندارد (اما بیشتر ترکیب آن ترکیب کربن و هیدروژن است)
 ۹- ششگاه لواریس آریس گنده خند سلول (۲۵) و ششگاه نفسی آریس گنده آریس بر اسطی (۲۵) و ششگاه گردش خون (انتقال مواد در بدن) ۲۵، و ششگاه دفع ادرار (دفع مواد زاید) ۲۵

۱۰- الف: آمینو اسید ۲۵، ب: نوع ۲۵، تعداد ۲۵، ترتیب قرار گرفتن ۲۵

۱۱- الف: لوگواریس ۲۵، غده گوارش ۲۵، ب: عمل جذب به معنی عبور موکول، در زیر مواد غذایی طرور بدن از دیواره روده لوگواریس و بدن آن بدون است. ۱۵

۱۲- فضا داخل بین، هوا را گرم ۲۵، مرطوب ۲۵، تصفیه کننده ۲۵

۱۳- الف: الفسی که در بدن بدن ۲۵، نوشیدن ۲۵، غذا را آب دار ۲۵

۱۴- گردش کوچک خون (تصفیه‌ای)، از بطن راست شروع شده و به ریه‌ها می‌رسد تا تمهید با ۱۵، گردش بزرگ خون (بومی) از بطن چپ شروع شده و در ریه‌ها است تمام می‌شود ۱۵

۱۵- الف: کلسیم ۲۵، ویتامین K ۲۵، ب: بیگانه خواری ۲۵، ترشح پاراتن ۲۵

موفق باشید
 محمد علی...

نام و نام خانوادگی :

تاریخ : ۸۹/۳/۱۶

نام پدر :

شعبه ی کلاس :

نام درس : علوم

نمره به عدد :

نمره به حروف :

نام و نام خانوادگی مصحح و امضاء :

باسمه تعالی

اداره کل مدارس خارج از کشور

سرپرستی مدارس جمهوری اسلامی ایران در امارات عربی متحده

مجتمع آموزشی شارجه(خرداد ۸۹ - دختران)

نام دبیر :

تعداد صفحه : ۴

مدت پاسخگویی : ۷۰ دقیقه

پایه : دوم راهنمایی

ردیف	سؤالات	نمره
۱	<p>دل آرام گیرد با یاد خدا</p> <p>گزینه صحیح را با علامت (X) مشخص کنید.</p> <p>الف) کدام تغییر فیزیکی است ؟</p> <p>(۱) هضم غذا <input type="checkbox"/> (۲) سوختن کاغذ <input type="checkbox"/></p> <p>(۳) زرد شدن برگ درخت ها <input type="checkbox"/> (۴) رنده کردن چوب <input type="checkbox"/></p> <p>ب) کدام تغییر شیمیایی است ؟</p> <p>(۱) تراشیدن مداد <input type="checkbox"/> (۲) انفجار ماده منفجره <input type="checkbox"/></p> <p>(۳) انجماد آب <input type="checkbox"/> (۴) شکسته شدن شیشه <input type="checkbox"/></p> <p>ج) در هنگام خورشید گرفتگی</p> <p>(۱) زمین بین ماه و خورشید قرار می گیرد. <input type="checkbox"/></p> <p>(۲) سایه زمین روی ماه می افتد. <input type="checkbox"/></p> <p>(۳) زمین جلوی نور خورشید را می گیرد. <input type="checkbox"/></p> <p>(۴) سایه ماه روی زمین می افتد. <input type="checkbox"/></p> <p>د) کدام کانی مزه شور دارد ؟</p> <p>(۱) هالیت <input type="checkbox"/> (۲) کوارتز <input type="checkbox"/></p> <p>(۳) فیروزه <input type="checkbox"/> (۴) ژیبس <input type="checkbox"/></p>	۱
۱	<p>جملات صحیح را با (ص) و غلط را با (غ) مشخص کنید.</p> <p>الف) گروه خونی A می تواند از گروه خونی AB خون دریافت کند. ()</p>	۲

ب) فرا صوت برای بررسی جنین در بدن مادر مورد استفاده قرار می گیرد. ()

ج) ویتامین B در بدن توسط باکتری های داخل روده بزرگ ساخته می شود. ()

د) کوارتز و میکا از کانی هایی هستند که از انجماد مواد مذاب بوجود آمده اند. ()

عبارت های زیر را با کلمات مناسب کامل کنید.

الف) رشد بلور کانی های ثانویه در میان درز و شکاف سنگ ها از عوامل هوا زدگی است.

ب) صفرا توسط ساخته می شود و به ابتدای روده بزرگ می ریزد.

ج) به مجموعه نورهای رنگی که از پاشیده شدن نور در منشور به وجود می آید گفته می شود.

د) به آزمایش های ساده ای که برای تشخیص ماده انجام می شود می گویند.

شرح آزمایش ساده ای را بنویسید که وجود گاز کربن دی اکسید را نشان دهد.

در داخل هر پرانتز یکی از کلمه های زیر را استفاده کنید. (یک کلمه اضافی است.)

گنیس - کنگلومرا - سنگ آهک - فلدسپات - گرانیت

الف) سنگی که در زیر زمین و دور از چشم ما و در زمانی بسیار طولانی ایجاد شده است. ()

ب) سنگی که در اثر واکنش های شیمیایی پیچیده ایجاد می شود. ()

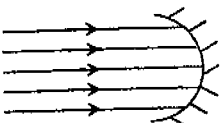
ج) این سنگ در اثر نفوذ نوعی سیمان به لا به لای ذرات تشکیل می شود. ()

د) این کانی در اثر سرد شدن ماگما در سطح زمین ایجاد می شود. ()

۱	عوامل حاصل خیزی خاک را فقط نام ببرید؟	۱۱
۱,۵	<p>در نمودار چرخه سنگ ها روی پیکان ها عبارات مناسب بنویسید.</p>	۱۲
۰,۵	عناصر مورد نیاز برای رشد استخوان ها در انسان را نام ببرید؟	۱۳
۱,۵	<p>الف) چرا باید از هر زخمی که در پوست ایجاد می شود به خوبی مراقبت کرد؟</p> <p>ب) فرض کنید در معرض ابتلا به یک بیماری میکروبی بوده اید ولی به آن مبتلا نشده اید. چه دلیلی برای بیمار نشدن خود می توانید بیاورید؟</p>	۱۴
۱,۵	منظور از دم و بازدم چیست؟ این دو هوا چه تفاوتی دارند؟	۱۵
۱۵	سلامت و پیروز باشید.	

نام و نام خانوادگی:

ردیف	سوال	بارم
۱	<p>گزینه ی صحیح را با علامت (X) مشخص کنید.</p> <p>الف) کدام یک از تغییرات زیر یک تغییر شیمیایی می باشد؟</p> <p><input type="checkbox"/> الف) ذوب شدن <input type="checkbox"/> ب) تشکیل شبنم <input type="checkbox"/> ج) حل شدن قند در آب <input type="checkbox"/> د) زنگ زدن آهن</p> <p>ب) بعضی از کانی ها به عنوان جواهر مورد استفاده واقع می شوند. کدام یک از دلایل زیر در این مورد اهمیت بیشتری دارد؟</p> <p><input type="checkbox"/> الف) کمیاب بودن <input type="checkbox"/> ب) رنگ <input type="checkbox"/> ج) جلا <input type="checkbox"/> د) سختی</p> <p>ج) بیشترین عمل جذب غذا در کدام قسمت دستگاه گوارش صورت می گیرد؟</p> <p><input type="checkbox"/> الف) معده <input type="checkbox"/> ب) روده ی باریک <input type="checkbox"/> ج) روده ی بزرگ <input type="checkbox"/> د) مری</p> <p>د) مقدار کدام یک از گازهای زیر در هوای دم بیش تر از هوای بازدم است؟</p> <p><input type="checkbox"/> الف) اکسیژن <input type="checkbox"/> ب) کربن دی اکسید <input type="checkbox"/> ج) نیتروژن <input type="checkbox"/> د) بخار آب</p>	۱
۲	<p>جملات صحیح را با علامت (ص) و جملات غلط را با (غ) مشخص کنید.</p> <p>الف) موج های صوتی برای انتشار به محیط مادی نیاز دارند. ()</p> <p>ب) تفاوت اصلی سنگ های آذرین بیرونی و درونی ، در اندازه ی بلور کانی های آن هاست. ()</p> <p>ج) همه ی ویتامین ها در آب حل می شوند. ()</p> <p>د) دیواره ی کیسه های هوایی فقط یک لایه سلول های پهن دارند. ()</p>	۱
۳	<p>با توجه به توضیحات داده شده کلمه مناسب را انتخاب کنید.</p> <p>الف) در این روش انتقال گرما، قسمتی از ماده که گرم شده است، حرکت می کند. (تابش - همرفت - رسانایی)</p> <p>ب) سنگ هایی هستند که نفت در آن ها تشکیل می شود. (سنگ ماد ر - سنگ مخزن - سنگ پوششی)</p> <p>ج) کوچک ترین اجتماع سلول ها که به طور هماهنگ عمل مشخصی را انجام می دهند. (اندام - بافت - دستگاه)</p> <p>د) پروتئین هموگلوبین، تعیین کننده رنگ این سلول موجود در پلاسماست. (پلاکت ها - گلبول قرمز - گلبول سفید)</p>	۱

۱	<p>جملات زیر را کامل کنید.</p> <p>الف) اگر ماه بین زمین و خورشید واقع شود، پدیده ی رخ می دهد.</p> <p>ب) حرکت توده های بزرگ مواد در سرایشی کوه را می گویند.</p> <p>ج) گردش خونی که از بطن راست شروع شده و به دهلیز چپ خاتمه می یابد، گردش خون نامیده می شود.</p> <p>د) در هر کلیه در حدود یک میلیون واحد تصفیه به نام وجود دارد.</p>	۴
۰/۷۵	<p>الف) معادله نوشتاری میان آهن و اکسیژن را کامل کنید.</p> <p>..... $\xrightarrow{\text{اکسیژن} + \text{آهن}}$</p> <p>ب) در این واکنش، واکنش دهنده ها و فرآورده ها را مشخص کنید.</p> <p>واکنش دهنده ها:، فرآورده ها:</p>	۵
۰/۵	چرا در تغییرهای شیمیایی همواره مجموع جرم واکنش دهنده ها برابر مجموع جرم فرآورده هاست؟	۶
۰/۵	دو قسمت تشکیل دهنده ی سنگ کره زمین را بنویسید.	۷
۰/۵	کانی های اولیه چگونه تشکیل می شوند؟	۸
۰/۵	صفر از کجا ترشح می شود و چه عملی را انجام می دهد؟	۹
۰/۵	<p>در میان گروه های خونی:</p> <p>الف) کدام یک به عنوان گیرنده عمومی محسوب می شود؟</p> <p>ب) کدام یک به عنوان دهنده عمومی محسوب می شود؟</p>	۱۰
۰/۷۵	<p>نام این آینه چیست؟ پرتوهای بازتاب را رسم کنید و محل کانون را با حرف F مشخص کنید.</p> 	۱۱
۰/۷۵	گرمای نهان انجماد را تعریف کنید.	۱۲

نام و نام خانوادگی :

نام پدر :

نام درس : علوم تجربی

پایه : دوم

شعبه کلاس :

باسمه تعالی

اداره کل مدارس خارج از کشور

سرپرستی مدارس جمهوری اسلامی ایران در امارات عربی متحده

مجتمع آموزشی شارجه (دوره راهنمایی) خرداد ماه ۸۹

جای مهر

تاریخ : ۸۹/۳/۲۰

نام دبیر : آقای حسینی

تعداد صفحه : ۲ صفحه

مدت پاسخگویی : یک ساعت

نمره به عدد:

نمره به حروف :

نمره آزمایشگاه:

جمع نمره :

امضاء دبیر:

ردیف	شرح سوالات	صفحه اول	بارم
۱	جاهای خالی در جمله های زیر را با یکی از کلمات مناسب داخل پرانتز کامل کنید . الف) محصول همیشگی تنفس گاز است . (اکسیژن - کرین دی اکسید) ب) به واحد های تصفیه در کلیه می گویند . (نفرون - مثانه) ج) هوا پس از حلق وارد می شود . (نای - میز نای) د) مقدار گاز در هوای دم و بازدم ثابت است . (اکسیژن - نیتروژن)		۱
۲	جمله های صحیح را با (ص) و جمله های غلط را با (غ) مشخص کنید . الف) گروه خونی AB می تواند از همه گروه های خونی خون بگیرد . () ب) پروتئین ها از اجتماع مولکول های کوچکتری به نام گلوکز ساخته شده اند . () ج) سرخرگ ششی از بطن چپ قلب خارج شده و خون را به شش ها می برد . () د) همه موادی که از روده باریک جذب می شوند به کبد می روند . ()		۱
۳	گزینه صحیح را با علامت x مشخص کنید . A - برای تشخیص نشاسته در یک ماده از چه ماده ای برای شناسایی استفاده می شود ؟ الف) محلول آب آهک □ ب) جوش شیرین □ ج) مس سولفات □ د) محلول ید □ B - گرمای خورشید به چه طریق به زمین می رسد ؟ الف) رسانایی □ ب) همرفت □ ج) تابش □ د) جا به جایی □ C - کدام یک از سنگ های رسوبی زیر از به هم پیوستن قطعات سنگ های دیگر توسط نوعی سیمان بوجود آمده اند . الف) ماسه سنگ □ ب) سنگ آهک □ ج) سنگ نمک □ د) سنگ رستی □ D - کدام یک از مواد زیر کانی هستند . الف) مروارید □ ب) الماس □ ج) جیوه □ د) شیشه □		۲
۴	ماه گرفتگی را تعریف کنید .		۰/۵
۵	اگر دوره یک نوسانگر ۰/۵ ثانیه باشد بسامد این نوسانگر چند هرتز است ؟		۰/۵
۶	جنس هسته زمین از چه فلزاتی است ؟ (دو مورد)		۰/۵
۷	این جمله را تفسیر کنید : پوسته سلول مانند یک صافی نیست .		۰/۵

ردیف	ادامه سوالات	صفحه دوم	بارم
۸	یکی از وظایف کلیه در بدن را بیان کنید .		۰/۵
۹	الف) دو مورد از خواص فیزیکی گوگرد را بیان کنید . ب) یک مورد از خواص شیمیایی الکل را بیان کنید .		۰/۷۵
۱۰	وقتی نور سفید به منشور بتابد چه روی می دهد . علت را بیان کنید .		۰/۷۵
۱۱	کدام نوع از ماشین های گرمایی می توانند در خارج از جو زمین و مسافرت های فضایی مورد استفاده قرار گیرند ؟ دلیل آن را بیان کنید .		۰/۷۵
۱۲	مرمر چه نوع سنگی است ؟ نحوه تشکیل آن را بیان کنید .		۰/۷۵
۱۳	زغال سنگ چه منشاء ی دارد . دلیل آن را بیان کنید .		۰/۷۵
۱۴	الف) منظور از هوازنگی شیمیایی چیست ؟ ب) مهم ترین عامل هوازنگی شیمیایی را بیان کنید .		۰/۷۵
۱۵	خزش را تعریف کنید . و بیان کنید چه عاملی خزش را تسریع می کند .		۰/۷۵
۱۶	الف) صفرا از کدام غده در بدن ترشح می شود . ب) نقش صفرا را در دستگاه گوارش بیان کنید .		۰/۷۵
۱۷	الف) وظیفه کدام سلول خون کمک به انعقاد خون است ؟ ب) چه موادی به انعقاد خون کمک می کنند ؟		۰/۷۵
۱۸	الف) منظور از گردش خون مضاعف چیست ؟ ب) کدام گروه از مهره داران گردش خون مضاعف ندارند ؟		۰/۷۵
۱۹	چه ویتامین هایی را بدن می تواند بسازد . این ویتامین ها در کجای بدن و چگونه ساخته می شوند ؟		۱
		جمع بارم	۱۵

موفق باشید .

امتحان درس : تاریخ	کلاس : دوم راهنمایی	تاریخ امتحان : ۸۹/۳/۰۱۸
نام و نام خانوادگی :		سال تحصیلی ۸۸/۸۹
نام دبیر : محمد شایگان	شماره صندلی :	وقت امتحان : ۷۰ دقیقه

((موفقیت شما آرزوی ماست))

الف) پرسش های چهار گزینه ای: (۲)

۱- هنگام حمله مشرکان به مدینه، چه کسی به پیامبر پیشنهاد حفر خندق را داد؟

الف- حضرت علی ب- سلمان فارسی ج- حضرت حمزه د- عمروعاص

۲- جنگ نهروان بین چه کسانی در گرفت؟

الف- امام علی و معاویه ب- معاویه و خوارج ج- خوارج و امام علی د- امام علی و طلحه و زبیر

۳- مأمون برای جلب رضایت ایرانیان و شیعیان چه کسی را به ولیعهدی برگزید؟

الف- ابو مسلم خراسانی ب- امام موسی کاظم ج- امام محمد باقر د- امام رضا

۴- بنیانگذار سلسله ایلخانیان چه کسی بود؟

الف- چنگیزخان ب- جغتای ج- هلاکوخان د- غازان خان

ب) جاهای خالی را با کلمات مناسب پر کنید: (۲)

۱- مهمترین قبیله عرب، قبیله..... بود که در حجاز زندگی می کردند.

۲- یکی از رهبران مبارزه علیه بنی امیه..... بود که موفق به شکست مروان آخرین خلیفه سلسله شد.

۳- علت اصلی مشکلات داخلی سامانیان، دخالت..... در کار وزیران بود.

۴- مشهورترین فرمانروای غزنوی سلطان محمود غزنوی بود که چندین بار به کشور..... لشکر کشید.

پ) مشخص کنید کدام یک از گزاره های زیر صحیح و کدام یک غلط می باشند: (۲)

۱- در زمان خلافت عثمان، سواحل جنوبی دریای مازندران به دلیل رشته کوه های بلند و جنگل فراوان فتح نشدند. (.....)

۲- پس از مازیار، یکی از بزرگان سرزمین طبرستان به نام بابک قیام کرد. (.....)

۳- مشهورترین فرمانروای دیلمی، احمد بود که موفق به فتح بغداد شد. (.....)

۴- به گروهی از شیعیان که از نسل امام علی بودند، علویان می گفتند. (.....)

ت) کدام یک از گزینه های داخل پرانتز با موارد نام برده شده در زیر ارتباط دارند؟: (۲)

(عیاران ، یاسا ، مدارس نظامیه ، مسجد گوهرشاد)

۱- چنگیزخان: ۲- یعقوب لیث: ۳- همسرشاهرخ: ۴- خواجه نظام الملک طوسی:

ث) پرسش های تشریحی:

۱- پس از ورود پیامبر به یثرب، این شهر چه نامیده شد و این واقعه را باید سرآغاز چه چیزی دانست؟ (۱)

کلیه راهنامه‌ها بصورت صحیح امراق استمان

سرپرستی مدارس جمهوری اسلامی ایران در امارات عربی متحده

مجتمع آموزشی پسرانه نمونه توحید دبی

مقطع راهنمایی نمونه توحید دبی

مهر مقطع

امتحان درس : تاریخ	کلاس : دوم راهنمایی	تاریخ امتحان : ۸۹/۳/۰۰۰
نام و نام خانوادگی :		سال تحصیلی ۸۸/۸۹
نام دبیر : محمد شایگان	شماره صندلی :	وقت امتحان : ۷۰ دقیقه

((موفقیت شما آرزوی ماست))

الف) پرسش های چهار گزینه ای: (۲)

۱- هنگام حمله مشرکان به مدینه، چه کسی به پیامبر پیشنهاد حفر خندق را داد؟

د- عمرو عاص

ج- حضرت حمزه

ب- سلمان فارسی

الف- حضرت علی

۲- جنگ نهروان بین چه کسانی در گرفت؟

د- امام علی و طلحه و زبیر

ج- خوارج و امام علی

ب- معاویه و خوارج

الف- امام علی و معاویه

۳- مأمون برای جلب رضایت ایرانیان و شیعیان چه کسی را به ولیعهدی برگزید؟

د- امام رضا

ج- امام محمد باقر

ب- امام موسی کاظم

الف- ابو مسلم خراسانی

۴- بنیانگذار سلسله ایلخانیان چه کسی بود؟

د- غازان خان

ج- هلاکوخان

ب- جغتای

الف- چنگیز خان

ب) جاهای خالی را با کلمات مناسب پر کنید: (۲)

۱- مهمترین قبیله عرب، قبیله قریش بود که در حجاز زندگی می کردند.

۲- یکی از رهبران مبارزه علیه بنی امیه ابومسلم بود که موفق به شکست مروان آخرین خلیفه سلسله شد.

۳- علت اصلی مشکلات داخلی سامانیان، دخالت سلاجق در کار وزیران بود.

۴- مشهورترین فرمانروای غزنوی سلطان محمود غزنوی بود که چندین بار به کشور هند لشکر کشید.

پ) مشخص کنید کدام یک از گزاره های زیر صحیح و کدام یک غلط می باشند: (۲)

۱- در زمان خلافت عثمان، سواحل جنوبی دریای مازندران به دلیل رشته کوه های بلند و جنگل فراوان فتح نشدند. (.....)

۲- پس از مازیار، یکی از بزرگان سرزمین طبرستان به نام بابک قیام کرد. (.....)

۳- مشهورترین فرمانروای دیلمی، احمد بود که موفق به فتح بغداد شد. (.....)

۴- به گروهی از شیعیان که از نسل امام علی بودند، علویان می گفتند. (.....)

ت) کدام یک از گزینه های داخل پرانتز با موارد نام برده شده در زیر ارتباط دارند؟: (۲)

(عیاران ، یاسا ، مدارس نظامیه ، مسجد گوهرشاد)

۱- چنگیز خان: یاکسا ۲- یعقوب لیث: عیاران ۳- همسر شاه رخ: مسجد گوهرشاد ۴- خواجه نظام الملک طوسی: مسجد گوهرشاد

ث) پرسش های تشریحی:

۱- پس از ورود پیامبر به یثرب، این شهر چه نامیده شد و این واقعه را باید سرآغاز چه چیزی دانست؟ (۱)

۲- مهمترین وقایع دوران خلافت حضرت عمر را بنویسید. (۱)

۱- شکست رومیان مقصر شام...

۲- شکست ساسانیان وضع ایران... ۱۴-۱۵/

۳- امام حسن در چه شرایطی ناچار شد تا صلح با معاویه بپذیرد؟ (۱) [نو مورد کا صیبت]

معاویه با وعده پول بفرمایان امام حسن را طواف کرد و خود را بر او - برضای آن قول داده بودند امام حسن را بقتل رسانند.

معاویه بعد از اعلام که طواف صلح است - و امام حسن نیز پذیرفته است - این موجب اختلاف در میان امام شد...

برضای فریب خوردگان طواف صلح را بستند... برضای آنکه از ایران با او باقی نماندند - که معاویه ۲۰ برابر پادشاهان... در صورت جنگ

باقی نماندند سلاطین حقیقی تا بود... امام بنای صلح است... و آنکار در نزد معاویه حاضر صلح کردند... ۲۲-۲۰/

۴- چهره واقعی یزید پس از چه واقعه ای، توسط چه کسانی و چگونه آشکار شد؟ (۱)

وین از واقعه کربلا در اثر نگرانیها کوشیده حضرت زینب و امام سجاد... ۲۶/

۵- دو مورد از علل ضعف و سرنگونی عباسیان را بنویسید. (۱)

۱- ظلم و ستم و دوری از اسلام

۲- قیام های متعذر

۳- برکات حقیقی صلح

۶- در اثر انقراض علویان چه سلسله هایی پدید آمدند؟ (۱)

۴- تجزیه قلمرو عباسیان و استقلال کشورهای آنها...

۲۲-۲۰/

سلسله های آل بویه و آل زیار پدید آمدند... ۴۹/

۷- چرا سربداران به این نام مشهور شدند؟ (۱/۵)

زیرا [سربداران] سواران معقله برای غارت و خوشگذرانی به روستاها باستان آمدند مردم قیام کردند و

آنان را به قتل رسانیدند و اعلام کردند: "سربدار میوهی و تن به زلفت من رهم" ۵۷/

۸- پس از چه کسانی قلمرو و حکومت سلجوقیان رو به تجزیه و انقراض نهاد و علت اصلی آن چه بود؟ (۱/۵)

سپه از ملکش و حواجه نظام الملک به علت درگیری با سربداران ملکش... ۴۹/

۹- چرا حکومت خوارزمشاهیان بنیان های محکم و استواری نداشت؟ (۱/۵)

زیرا آنها بر حکومتی با ملکی تسلط نداشتند... ۲- علی محمد خلیفه میباید زمین کبکیر بودند...

و - رخاقت مادر سلطی محمد را مورد ایبادا کشید... ۵۲/

۱۰- پایتخت افراد زیر را نام ببرید: (۱/۵)

الف - امام علی (ع): کوفه... ب - ملکشاه: اصفهان... ج - شاهرخ: هرات...

به نام خدا
سرپرستی مدارس جمهوری اسلامی ایران در امارات عربی متحده
مجتمع آموزشی نمونه توحید دختران

نام و نام خانوادگی :	پایه تحصیلی: دوم راهنمایی	مدت امتحان: ۶۰ دقیقه * تاریخ امتحان: ۱۸/ ۳/ ۸۹
نام کلاس :	نام درس : تاریخ	نام دبیر: خاتم وطن خواه
نمره به عدد :	نمره به حروف :	امضا دبیر:

ریف

الف) گزینه مناسب را انتخاب کنید. هر مورد ۰/۵ نمره

- ۱- کدام يك از مهم ترین دشمنان اسلام نبودند؟
الف- ابوجهل □ ب- ابولهب □ ج- بلال حبشي □ د- ابوسفیان □
- ۲- سرپرستی مسلمانان که به حبشه مهاجرت کردند چه کسی بر عهده داشت؟
الف- جعفر بن ابی طالب □ ب- بلال حبشي □ ج- جعفر طیار □ د- ابوطالب □
- ۳- اولین حکومت مستقل ایرانی بعد از اسلام چه نام داشت؟
الف- غزنویان ب- طاهریان ج- سلجوقیان د- تیموریان
- ۴- در زمان سلطان محمد خوارزمشاه چه کسی حاکم مغولستان بود؟
الف- هلاکوخان ب- اکتای ج- چنگیز د- ابوسعید

ب) جملات زیر را کامل کنید. هر مورد ۰/۵ نمره

- ۱- پادشاه حبشه از پیروان حضرت بود.
- ۲- از مهم ترین اقدامات پیامبر گرامی در آخرین سفر حج خود انتصاب به جانشینی خود بود.
- ۳- دانشمند نامدار ایرانی در اواخر عمر وزیر یکی از شاهزادگان آل بویه در همدان بود.
- ۴- دشمنی بنی امیه با بود.
- ۵- اولین کسانی که با امام علی (ع) بیعت کردند بودند.
- ۶- مروان آخرین خلیفه اموی توسط شکست خورد.

ج) جملات درست و نادرست را مشخص کنید. هر مورد ۰/۵ نمره

- ۱- ورود پیامبر (ص) به مدینه را باید آغاز تاسیس حکومت اسلامی داشت. صحیح غلط
- ۲- آل بویه با خلیفه رابطه دوستی داشتند. صحیح غلط
- ۳- آخرین ایلخان مغول به نام هلاکوخان بود. صحیح غلط
- ۴- کمال الدین بهزاد از معروف ترین نقاشان عصر تیموری است. صحیح غلط

د) گزینه های مناسب را بهم وصل کنید. هر مورد ۰/۵ نمره

- خلیفه ی مقتول امین
قتل ابو مسلم مامون
انتخاب امام رضا یه ولجهدی منصور
بنای شهر بغداد هارون الرشید

مجمع آموزشی خدیجه کبری (س)

سال تحصیلی ۸۹ - ۸۸

نام درس : تاریخ

مقطع تحصیلی : راهنمایی

نام و نام خانوادگی :

پایه تحصیلی : دوم

نام دبیر : رستم پور

نوبت امتحان : خرداد ماه

مدت امتحان : ۶۰ دقیقه

بارم	سوال	ردیف
۲	<p>صحیح یا غلط بودن عبارات زیر را مشخص کنید؟</p> <p>(۱) محاصره اقتصادی مسلمانان در یکی از دره های اطراف مکه و به مدت سه سال طول کشید. ص <input type="checkbox"/> غ <input type="checkbox"/></p> <p>(۲) مشهورترین خلیفه عباسی منصور بود. ص <input type="checkbox"/> غ <input type="checkbox"/></p> <p>(۳) پایتخت تیمور شهر هرات بود. ص <input type="checkbox"/> غ <input type="checkbox"/></p> <p>(۴) خلیفه عباسی برای هر قسمت از قلمرو خود حاکمی تعیین می کرد که او را امیر می نامیدند. ص <input type="checkbox"/> غ <input type="checkbox"/></p>	۱
۲	<p>جاهای خالی را با کلمات مناسب پر کنید.</p> <p>الف) پیامبر (ص) در غدیر خم را به جانشینی خود برگزید.</p> <p>ب) یکی از رهبران مبارزه علیه بنی امیه بود که مروان را شکست داد.</p> <p>ج) به گروهی از شیعیان که از نسل امام علی (ع) بودند گفته می شد.</p> <p>د) به دستورات چنگیز می گفتند.</p>	۲
۲	<p>از بین گزینه های زیر گزینه ی صحیح را انتخاب کنید.</p> <p>(۱) بابک در کجا قیام کرد؟</p> <p>الف) آذربایجان <input type="checkbox"/> ب) طبرستان <input type="checkbox"/> ج) خراسان <input type="checkbox"/> د) امل <input type="checkbox"/></p> <p>(۲) جنک ملازگرد بین چه کسانی رخ داد؟</p> <p>الف) طغرل سلجوقی - محمود غزنوی <input type="checkbox"/> ب) ملکشاه سلجوقی - سلطان سنجر سلجوقی <input type="checkbox"/></p> <p>ج) آلب ارسلان سلجوقی - روم شرقی <input type="checkbox"/> د) آلب ارسلان سلجوقی - محمود غزنوی <input type="checkbox"/></p> <p>(۳) نخستین اقدام پیامبر پس از هجرت به مدینه چه بود؟</p> <p>الف) ساخت مسجد <input type="checkbox"/> ب) تعیین مبدأ تاریخ اسلام <input type="checkbox"/></p> <p>ج) بستن پیوند برادری بین مسلمانی <input type="checkbox"/> د) جنگ با مشرکان <input type="checkbox"/></p> <p>(۴) در چه جنگی امام علی توانست خوارج را شکست دهد؟</p> <p>الف) جمل <input type="checkbox"/> ب) نهروان <input type="checkbox"/> ج) صفین <input type="checkbox"/> د) خندق <input type="checkbox"/></p>	۳

میجمع آموزشی خدیجه کبری (س)

سال تحصیلی ۸۹ - ۸۸

نام درس : تاریخ

مقطع تحصیلی : راهنمایی

نام و نام خانوادگی :

پایه تحصیلی : دوم

نام دبیر : رستم پور

نوبت امتحان : خرداد ماه

مدت امتحان : ۶۰ دقیقه

۱	۴	فتح مکه توسط مسلمانان چه نتایجی به دنبال داشت؟
۱	۵	حضرت علی (ع) هنگام پذیرش خلافت چه مشکلاتی داشت؟ ۲ مورد
۱	۶	شرایط صلح امام حسن (ع) با معاویه را بنویسید.
۱	۷	چرا قتل عام برمکیان دولت عباسیان را با مشکلات فراوان دچار کرد؟
۱	۸	یک مورد از علت سقوط بنی امیه را بنویسید
۱	۹	دو وزیر معروف سامانی را نام ببرید.
۱	۱۰	علت اصلی مشکلات داخلی سامانیان چه بود؟
۱	۱۱	عضدالدوله برای عمران و آبادی کشور چه کرد؟
۱	۱۲	چرا مدارس عصر سلجوقی به نظامیه معروف شد؟
۱	۱۳	چرا پس از غازان خان حکومت ایلخانان ضعیف شد؟
۱	۱۴	عوامل اصلی پیدایش و ترقی هند و معماری در دوره ی اسلامی چه بود؟
۱/۵	۱۵	چرا حکومت خوارزمشاهی بنیان های محکم و استواری نداشت؟
۱/۵	۱۶	دلایل تجزیه و انقراض حکومت سلجوقی را بنویسید.

مجمع آموزشی خدیجه محرابی (ص)

سال تحصیلی ۸۹ - ۸۸

نام درس : تاریخ

مقطع تحصیلی : راهنمایی

نام و نام خانوادگی :

پایه تحصیلی : دوم

نام دبیر : رستم پور

نوبت امتحان : خرداد ماه

مدت امتحان : ۶۰ دقیقه

ردیف	سوال	بازم
۱	<p>صحيح يا غلط بودن عبارات زیر را مشخص کنید؟</p> <p>(۱) محاصره اقتصادی مسلمانان در یکی از دره های اطراف مکه و به مدت سه سال طول کشید. ص <input type="checkbox"/> غ <input type="checkbox"/></p> <p>(۲) مشهورترین خلیفه عباسی منصور بود. ص <input type="checkbox"/> غ <input type="checkbox"/></p> <p>(۳) پایتخت تیمور شهر هرات بود. ص <input type="checkbox"/> غ <input type="checkbox"/></p> <p>(۴) خلیفه عباسی برای هر قسمت از قلمرو خود حاکمی تعیین می کرد که او را امیر می نامیدند. ص <input type="checkbox"/> غ <input type="checkbox"/></p>	۲
۲	<p>جاهای خالی را با کلمات مناسب پر کنید.</p> <p>(الف) پیامبر (ص) در غدیر خم را به جانشینی خود برگزید.</p> <p>(ب) یکی از رهبران مبارزه علیه بنی امیه بود که مروان را شکست داد.</p> <p>(ج) به گروهی از شیعیان که از نسل امام علی (ع) بودند گفته می شد.</p> <p>(د) به دستورات چنگیز می گفتند.</p>	۲
۳	<p>از بین گزینه های زیر گزینه ی صحیح را انتخاب کنید.</p> <p>(۱) بابک در کجا قیام کرد؟</p> <p>(الف) آذربایجان <input type="checkbox"/> (ب) طبرستان <input type="checkbox"/> (ج) خراسان <input type="checkbox"/> (د) آمل <input type="checkbox"/></p> <p>(۲) جنگ ملازگرد بین چه کسانی رخ داد؟</p> <p>(الف) طغرل سلجوقی - محمود غزنوی <input type="checkbox"/> (ب) ملکشاه سلجوقی - سلطان سنجر سلجوقی <input type="checkbox"/></p> <p>(ج) آلب ارسلان سلجوقی - روم شرقی <input type="checkbox"/> (د) آلب ارسلان سلجوقی - محمود غزنوی <input type="checkbox"/></p> <p>(۳) نخستین اقدام پیامبر پس از هجرت به مدینه چه بود؟</p> <p>(الف) ساخت مسجد <input type="checkbox"/> (ب) تعیین مبدأ تاریخ اسلام <input type="checkbox"/></p> <p>(ج) بستن پیوند برادری بین مسلمانی <input type="checkbox"/> (د) جنگ با مشرکان <input type="checkbox"/></p> <p>(۴) در چه جنگی امام علی توانست خوارج را شکست دهد؟</p> <p>(الف) جمل <input type="checkbox"/> (ب) نهروان <input type="checkbox"/> (ج) صفین <input type="checkbox"/> (د) خندق <input type="checkbox"/></p>	۲

مجمع آموزشی حدیثه تحریری (ص)

سال تحصیلی ۸۹ - ۸۸

نام درس : تاریخ

مقطع تحصیلی : راهنمایی

نام و نام خانوادگی :

پایه تحصیلی : دوم

نام دبیر : رستم پور

نوبت امتحان : خرداد ماه

مدت امتحان : ۶۰ دقیقه

۱	۴	فتح مکه توسط مسلمانان چه نتایجی به دنبال داشت؟
۱	۵	حضرت علی (ع) هنگام پذیرش خلافت چه مشکلاتی داشت؟ ۲ مورد
۱	۶	شرایط صلح امام حسن (ع) با معاویه را بنویسید.
۱	۷	چرا قتل عام برمکیان دولت عباسیان را با مشکلات فراوان دچار کرد؟
۱	۸	یک مورد از علت سقوط بنی امیه را بنویسید
۱	۹	دو وزیر معروف سامانی را نام ببرید.
۱	۱۰	علت اصلی مشکلات داخلی سامانیان چه بود؟
۱	۱۱	عضدالدوله برای عمران و آبادی کشور چه کرد؟
۱	۱۲	چرا مدارس عصر سلجوقی به نظامیه معروف شد؟
۱	۱۳	چرا پس از غازان خان حکومت ایلخانان ضعیف شد؟
۱	۱۴	عوامل اصلی پیدایش و ترقی هند و معماری در دوره ی اسلامی چه بود؟
۱/۵	۱۵	چرا حکومت خوارزمشاهی بنیان های محکم و استواری نداشت؟
۱/۵	۱۶	دلایل تجزیه و انقراض حکومت سلجوقی را بنویسید.

نام و نام خانوادگی :

بسمه تعالی

نام پدر :

اداره کل مدارس خارج از کشور

نام درس : تاریخ

سرپرستی مدارس جمهوری اسلامی ایران در امارات عربی متحده

شعبه کلاس :

مجتمع آموزشی شارجه - (خرداد ۸۹-۸۸)

رشته :

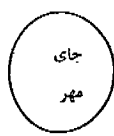
پایه : دوم راهنمایی

تاریخ : ۹ / ۳ / ۱

نام دبیر : علیپور

تعداد صفحه : ۲ صفحه

مدت پاسخگویی : ۶۰ دقیقه



نام و نام خانوادگی مصحح و امضاء :

نمره به حروف :

نمره به عدد :

بار	ردیف	سوال
۵	۱	به این پرسشها پاسخ دهید ؟ الف) لقب پیامبر چه بود ؟ ب) پیامبر در سن بیست و پنج سالگی با چه کسی ازدواج کرد ؟ ج) اولین کسانی که به پیامبر ایمان آوردند چه کسانی بودند ؟ د) کدام پیامبران الهی در عربستان مبعوث شدند ؟ و) سرپرست مسلمانانی که به حبشه رفتند که بود ؟ ر) پس از غزوه خندق کدام پیمان صلح میان مسلمانان و مشرکان بسته شد ؟ ز) پیشنهاد حفر خندق در شمال مدینه توسط چه کسی مطرح شد ؟
۵	۲	در جاهای خالی پاسخ مناسب قرار دهید ؟ الف) پس از پیامبر و پس از او به خلافت رسیدند . ب) اولین کسانی که به حضرت علی (ع) بیعت کردند و بودند . ج) جنگ عایشه با حضرت علی به جنگ معروف است . د) امام علی به دست یکی از خوارج به نام مجروح شد و بعد در به شهادت رسید . و) حضرت علی غیر از جمل در دو جنگ دیگر نیز درگیر شد که عبارت بودند از و ز) پس از امام علی (ع) نوبت خلافت به رسید .
	۳	کدام عبارت صحیح و کدام غلط است : الف) معاویه در سال ۶۰ هجری مرد و بجای او پسرش یزید به خلافت رسید . ص --- غ --- ب) در واقعه کربلا حاکم کوفه عمر بن سعد بود . ص --- غ --- ج) آخرین خلیفه اموی معاویه بود . ص --- غ --- د) خلفای عباسی با کمک ابومسلم خراسانی بر امویان پیروز شدند . ص --- غ ---
۵	۴	اولین خلیفه عباسی که بود ؟ پس از او چه کسی به خلافت رسید ؟
۵	۵	سردار معروف مأمون که در رسیدن به حکومت به او کمک کرد که بود و حکومت کجا به او رسید ؟
۵	۶	دو وزیر دانشمند عهد ساسانی چه نام داشتند ؟
۵	۷	قیامهای چه کسانی علیه عباسیان در ایران اوضاع را دشوار کرد ؟

ردیف	صفحه دوم	بار
۸	عیاران که بودند؟	۷۵
۹	نام آوران عهد سامانی چه کسانی بودند؟	۷۵
۱۰	پس از یعقوب چه کسی به حکومت سیستان رسید؟	۲۵
۱۱	مرکز حکومت سامانی کدام شهر و مرکز حکومت طاهری کدام شهر بود؟	۱۵
۱۲	سه حکومت شیعه را در ایران نام ببرید؟	۷۵
۱۳	در قدیم به گیلان و مازندران چه می گفتند؟	۱۵
۱۴	مرکز علمی شیعه در زمان آل بویه کدام شهرها بود؟	۷۵
۱۵	مشهورترین فرمانروای دیلمی که بود و کدام بنا را ایجاد کرد؟	۱۵
۱۶	تأثیر حملات پیایی محمود به هند چه بود؟	۱
۱۷	مهمترین اقدام آل ب اربان چه بود؟	۱
۱۸	مهمترین علل پیروزی و موفقیت سلجوقیان چه بود؟	۱
۱۹	سرزمین خوارزم کجا بود؟	۲۵
۲۰	معروفترین پادشاه خوارزم که بود؟	۲۵
۲۱	اقوام بیابانگردی که به ایران حمله کردند چه نام داشتند؟ حاکم آنها که بود؟	۱۵
۲۲	دو تن از معروفترین وزیران دوره مغولان در ایران را نام ببرید؟	۱۵
۲۳	مأموریت حمله به ایران چند سال پس از حمله چنگیز به ایران صورت گرفت؟ توسط چه کسی؟	۱۵
۲۴	رابطه بین گزینه های زیر را پیدا کنید و باخطی بهم وصل کنید؟	۱۵
	سمرقند	شاهرخ
	هرات	تیمور
	خراسان	سربداران

باسمه تعالی

مجمع آموزشی امام خمینی (ره) پسرانه - ابوظبی

سؤالات امتحان درس :	تاریخ	کلاس : دوّم	دوره تحصیلی : راهنمایی	شماره ی سندلی :
نام و نام خانوادگی :	تاریخ امتحان : ۱۸ / ۰۳ / ۱۳۸۹		مدت امتحان : ۶۰ دقیقه	
تصحیح اول : نمره با حروف.....	نمره با عدد.....	امضاء	تصحیح دوم : نمره با حروف.....	نمره با عدد.....

ردیف	سؤالات	نمره
	<p>الف - گزینه ی صحیح را انتخاب کنید :</p> <p>(۱) چه کسی به هند لشکر کشی کرد ؟</p> <p>سلطان سنجر <input type="checkbox"/> طغرل <input type="checkbox"/> آلب ارسلان <input type="checkbox"/> سلطان محمود غزنوی <input type="checkbox"/></p> <p>(۲) حکومت ظاهریان در کجا واقع بود ؟</p> <p>سیستان <input type="checkbox"/> طبرستان <input type="checkbox"/> آذربایجان <input type="checkbox"/> خراسان <input type="checkbox"/></p> <p>(۳) انقراض سلسله ی سامانیان به دست کدام یک اتفاق افتاد ؟</p> <p>عضدالدوله <input type="checkbox"/> علویان <input type="checkbox"/> احمد بن بویه <input type="checkbox"/> علی بن بویه <input type="checkbox"/></p>	۰/۷۵
	<p>ب - کامل کنید : (هر مورد ۰/۵ نمره)</p> <p>(۱) دو تن از نزدیکان پیامبر به نام های خدیجه و نیازهای محاصره شدگان را تأمین می کردند .</p> <p>(۲) پیشنهاد حفر خندق در شمال مدینه توسط مطرح شد .</p> <p>(۳) سپاهیان امام علی (ع) در جنگ ، خوارج را شکست دادند .</p> <p>(۴) یکی از جنایات معاویه این بود که را مسموم کرد .</p> <p>(۵) شاعر معروف دوره ی سامانیان ، نام داشت .</p> <p>(۶) علی و حسن و احمد ، فرزندان ماهیگیری به نام بودند .</p> <p>(۷) مشهورترین وزیر دولت سلجوقی ، بود .</p> <p>(۸) هلاکوخان پس از تصرف ایران ، شهر را پایتخت خود قرار داد .</p> <p>(۹) چنگیزخان هنگام تقسیم قلمرو خود ، سرزمین ماوراءالنهر را به داد .</p>	۴/۵
	<p>پ - پاسخ درست را در پرانتز بنویسید :</p> <p>قتل ابومسلم () ، مازیار () ، مدارس عصر سلجوقی () ، دستورات چنگیز ()</p>	۱

سؤالات

		ت- پاسخ دهید :
۰/۵	۱	پیامبر مردم را به چه چیزهایی دعوت می کرد ؟
۱	۲	موارد صلح حدیبیه چه بود ؟
۱	۳	امام علی (ع) هنگام پذیرش مقام خلافت ، با چه مشکلاتی روبرو بود ؟ دو مورد را بنویسید .
۱	۴	چرا پس از جنگ جمل ، امام علی (ع) کوفه را مرکز حکومت خویش قرار داد ؟
۰/۷۵	۵	به دنبال وقوع چه جریانی ، مردم شخصیت واقعی معاویه را شناختند ؟
۱/۲۵	۶	هدف مأمون از انتخاب امام رضا (ع) به ولی عهدی چه بود ؟
۰/۵	۷	بابک در کدام شهر قیام کرد ؟
۱	۸	عیاران چه کسانی بودند ؟


	سؤالات	
۱	حکومت علویان طبرستان چگونه شکل گرفت؟	۹
۱	عضدالدوله برای عمران و آبادی کشور چه کرد؟	۱۰
۱/۵	جنگ ملازگرد بین چه کسانی رخ داد و نتیجه ی آن چه شد؟	۱۱
۰/۵	علت اصلی انقراض حکومت سلجوقیان چه بود؟	۱۲
۱/۵	دو علت انقراض حکومت ایلخانان را بیان کنید.	۱۳
۱	چگونگی آغاز حکومت سربداران را بیان کنید.	۱۴
۲۰	موفق باشید	جمع

کتاب راهنمای تصحیح اوراق امتحان

سرپرستی مدارس جمهوری اسلامی ایران در امارات عربی متحده

مجتمع آموزشی پسرانه نمونه توحید دبی

مقطع راهنمایی نمونه توحید دبی



متجان درس: جغرافیا	کلاس: دوم راهنمایی	تاریخ امتحان: ۸۹/۳/...
نام و نام خانوادگی:	شماره صندلی:	سال تحصیلی: ۸۸/۸۹
نام دبیر: محمد شایگان	وقت امتحان: ۷۰ دقیقه	

((موفقیت شما آرزوی ماست))

۱- قاره آسیا از طریق کدام تنگه از امریکای شمالی و از طریق کدام کانال از آفریقا جدا می شود؟ (۱)

توسط تنگه بزرگ از امریکای شمالی و از طریق کانال سوئز از آفریقا جدا شده است.

۲- جلگه بین انهرین از آبرفت چه رودهایی و در کجا به وجود آمده است؟ (۱)

جله و فرات - در عراق کهن

۳- دو عامل مهم پیدایش آب و هوای خشک در آسیا را نام ببرید. (۱)

۱- دور از دریا ۲- کوهها بلند (مانع ورود بارها و مرطوب) ۹۱۰۰۰

۴- جمعیت فراوان هند چه مشکلاتی را برای مردم این کشور ایجاد کرده است؟ (۱)

فقر، کمبود غذا، سوء تغذیه، کمبود مسکن، کمبود آب آشامیدنی، کمبود دروس، مسکن و ... زندگی در کارخانه‌ها، ماز... ۱۴-۱۵ [دو مورد کامیست]

۵- دو تا از دین های بزرگ آسیا را که پیروان زیادی دارند، نام ببرید. (۱)

۱- دین اسلام ۲- آیین برهمنی ۳- آیین بودایی ۱۷/

۶- رود های بزرگ آفریقا را نام ببرید. (۴ مورد). (۱)

نیل - کنگو - نیجر - اوانزو - زامبوزو ۲۲/

۷- چرا قاره آفریقا گرم و بدون زمستان است؟ (۱)

زیرا خط استوا تقریباً از وسط آفریقا می‌گذرد و خود شدید در مناطق استوایی... عمود می‌تابد ۲۵/

۸- دو مورد از مشکلات ناشی از رشد سریع جمعیت در آفریقا را بنویسید. (۱)

فقر و جنگ داخلی، بیابان، کمبود مسکن، سوء تغذیه، ... ۳۰/

۹- رشته کوه اورال مرز طبیعی چه قاره هایی به شمار می آید؟ (۱)

قاره آسیا و قاره اروپا ۳۲/

۱- ویژگی های آب و هوای مدیترانه ای را بنویسید. (۱) ۳۴/

ناب که محل اقامت او در واسکان است. ۵۹/

۱۲- در گذشته چگونه کشتی ها از اقیانوس اطلس به اقیانوس آرام می رفتند و اکنون از چه مسیری می روند؟ (۱)

مجموعه رود استرکان جنوب را دور بزنند و اکنون از کانال پاناما عبور می کنند. ۶۶/

۱۳- دو مورد از علل پیشرفت امریکای شمالی را بنویسید. (۱)

۱- منابع طبیعی فراوان، زمینها وسیع، خاک حاصلخیز، دور قرار دادن مهاجر اروپایی و استقلال سرمایه داری
۲- جنبش نوین صنعتی در آمریکا
۳- جنبش نوین صنعتی در آمریکا
۴- جنبش نوین صنعتی در آمریکا
۵- جنبش نوین صنعتی در آمریکا

۱۴- مهمترین بنادر استرالیا و کاربری آن ها را بنویسید. (۱)

سیدنی و ملبورن؛ از سواحل هم صنایع گوناگون و صنایع شکر. ۶۱/۰۰۰

۱۵- چه عاملی موجب پیدایش حیوانات و گیاهان خاصی در استرالیا و اقیانوسیه شده است؟ دو نمونه ذکر کنید. (۱/۵)

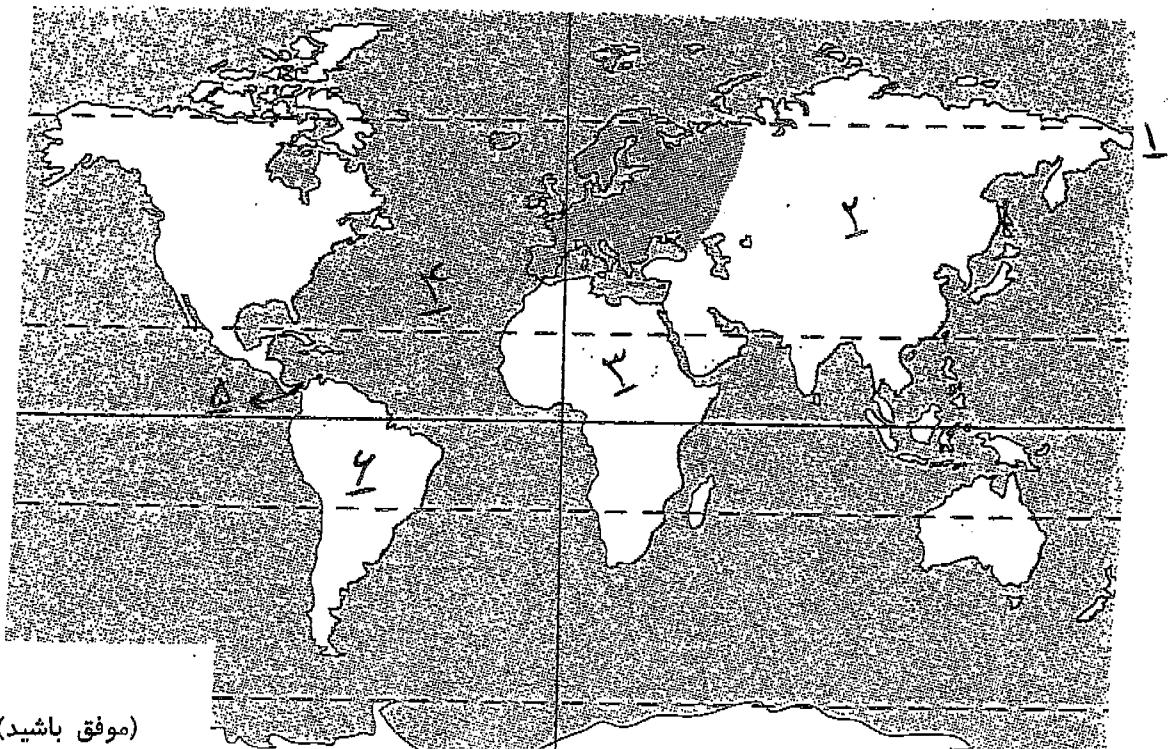
جای آن از سایر قاره ها جداست. کالگورن - کوال - اکالیپتوس ۵۹/

۱۶- گروه های طرفدار محیط زیست چه نظری در باره قطب جنوب دارند؟ (۳ مورد). (۱/۵)

۱- قطب جنوب تعلق به همه مردم است و هیچ کس نباید مالک آن باشد
۲- آفرینش حیوانات و گیاهان کوره شود
۳- جانوران و بیگانه ها نباید کشته شوند
۴- صنایع معدنی آن نباید استخراج شوند

۱۷- نام موارد شماره گذاری شده بر روی نقشه را در پاسخ نامه خود بنویسید: (۳)

- ۱- تنگه: برینگ
- ۲- قاره: آسیا
- ۳- قاره: آفریقا
- ۴- اقیانوس: اطلس
- ۵- کانال: پاناما
- ۶- امریکای جنوبی



باب که محل اقامت او در واسکان است. ۴۹/

۱۲- در گذشته چگونه کشتی ها از اقیانوس اطلس به اقیانوس آرام می رفتند و اکنون از چه مسیری می روند؟ (۱)

معبور بودند از کانال بنما و از آنجا عبور می کردند. ۴۶/

۱۳- دو مورد از علل پیشرفت امریکای شمالی را بنویسید. (۱)

۱- منابع طبیعی فراوان، زمینها حاصلخیز، خاک حاصلخیز، رود فراوان
۲- مهاجران اروپایی و انتقال سرمایه و مهارت
۳- جذب سرمایه و عدم آسایش نسبت از اروپا
۴- جذب نیروی متخصص در اقتصاد سرمایه داری. ۵۴/

۱۴- مهمترین بنادر استرالیا و کاربری آن ها را بنویسید. (۱)

سیدنی و ملبورن؛ از سواحل هم صنایع کشتی سازی و صنایع شیمیایی. ۶۱/

۱۵- چه عاملی موجب پیدایش حیوانات و گیاهان خاصی در استرالیا و اقیانوسیه شده است؟ دو نمونه ذکر کنید. (۱/۵)

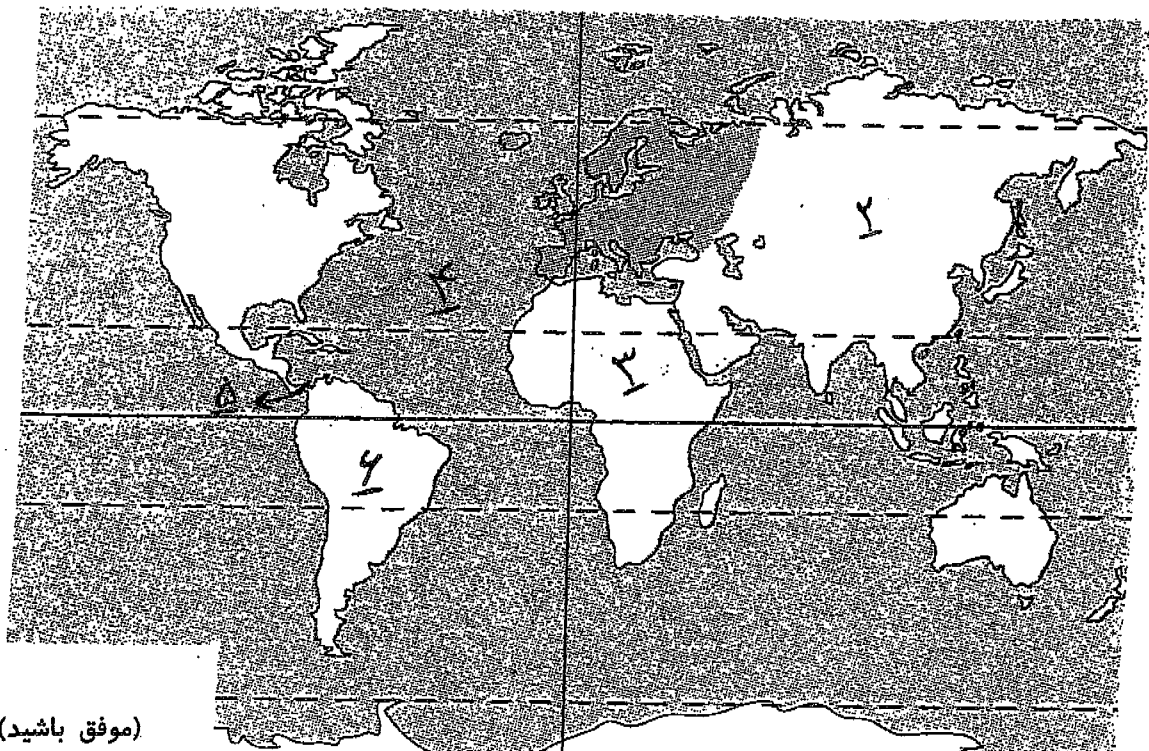
جای آن از سایر قاره ها جداست. کالکوریو - کوال - اکالیپتوس ۵۹/

۱۶- گروه های طرفدار محیط زیست چه نظری در باره قطب جنوب دارند؟ (۳ مورد). (۱/۵)

۱- قطب جنوب متعلق به همه مردم است و هیچ کشور یا نایب الملک آن را ندارد
۲- آفرینش چشم بده است و نباید کوره شود
۳- جانوران و بیوض و ال ها نباید شکار شوند
۴- صنایع معدنی آن نباید استخراج شود. ۶۶/

۱۷- نام موارد شماره گذاری شده بر روی نقشه را در پاسخ نامه خود بنویسید: (۳)

- ۱- تنگه: برینگ
- ۲- قاره: آسیا
- ۳- قاره: آفریقا
- ۴- اقیانوس: اطلس
- ۵- کانال: بناما
- ۶- امریکای جنوبی



کتاب راهنمای تصحیح اوراق امتحان

سرپرستی مدارس جمهوری اسلامی ایران در امارات عربی متحده

مجتمع آموزشی پسرانه نمونه توحید دبی

مقطع راهنمایی نمونه توحید دبی

مهر مقطع

متجان درس : جغرافیا	کلاس : دوم راهنمایی	تاریخ امتحان : ۸۹/۳/...
نام و نام خانوادگی :		سال تحصیلی ۸۸/۸۹
نام دبیر : محمد شایگان	شماره صندلی :	وقت امتحان : ۷۰ دقیقه

((موفقیت شما آرزوی ماست))

۱- قاره آسیا از طریق کدام تنگه از امریکای شمالی و از طریق کدام کانال از آفریقا جدا می شود؟ (۱)

توسط تنگه بربنید از امریکای شمالی و از طریق کانال سوئز از آفریقا جدا شده است.

۲- جلگه بین انهرین از آبرفت چه رودهایی و در کجا به وجود آمده است؟ (۱)

جله و فرات - در عراق کهن

۳- دو عامل مهم پیدایش آب و هوای خشک در آسیا را نام ببرید. (۱)

۱- دور از دریا ۲- کوه ها بلند (مانع ورود بارها را بر طوب)

۴- جمعیت فراوان هند چه مشکلاتی را برای مردم این کشور ایجاد کرده است؟ (۱)

فقر، کمبود غذا، سوء تغذیه، کمبود وسایل بهداشتی و درمان، کمبود آب آشامیدنی، کمبود مدرسه، مسکن و ...

۵- دو تا از دین های بزرگ آسیا را که پیروان زیادی دارند، نام ببرید. (۱)

۱- دین اسلام ۲- آیین برهمنی ۳- آیین بودایی

۶- رود های بزرگ آفریقا را نام ببرید. (۴ مورد). (۱)

نیل - کنگو - نیجر - احواز - زامبزی

۷- چرا قاره آفریقا گرم و بدون زمستان است؟ (۱)

زیرا خط استوا تقریباً از وسط آفریقا می گذرد و فاصله آن از قطب ها کم است. عمودها با یکدیگر عمود است.

۸- دو مورد از مشکلات ناشی از رشد سریع جمعیت در آفریقا را بنویسید. (۱)

فقر و جنگ های داخلی، سوء تغذیه، کمبود آب آشامیدنی، کمبود مدرسه و ...

۹- رشته کوه اورال مرز طبیعی چه قاره هایی به شمار می آید؟ (۱)

قاره آسیا و قاره اروپا

۱۰- ویژگی های آب و هوای مدیترانه ای را بنویسید. (۱)

۱- زمستان سرد و تابستان گرم و خشک

سرپرستی مدارس جمهوری اسلامی ایران در امارات عربی متحده

مجتمع آموزشی پسرانه نمونه توحید دبی

مقطع راهنمایی نمونه توحید دبی

مهر مقطع

امتحان درس : جغرافیا	کلاس : دوم راهنمایی	تاریخ امتحان : ۸۹/۳/۰۴
نام و نام خانوادگی :		سال تحصیلی ۸۸/۸۹
نام دبیر : محمد شایگان	شماره صندلی :	وقت امتحان : ۷۰ دقیقه

((موفقیت شما آرزوی ماست))

۱- قاره آسیا از طریق کدام تنگه از امریکای شمالی و از طریق کدام کانال از آفریقا جدا می شود؟ (۱)

۲- جلگه بین انهرین از آبرفت چه رودهایی و در کجا به وجود آمده است؟ (۱)

۳- دو عامل مهم پیدایش آب و هوای خشک در آسیا را نام ببرید. (۱)

۴- جمعیت فراوان هند چه مشکلاتی را برای مردم این کشور ایجاد کرده است؟ (۱)

۵- دو تا از دین های بزرگ آسیا را که پیروان زیادی دارند ، نام ببرید. (۱)

۶- رود های بزرگ آفریقا را نام ببرید. (۴ مورد). (۱)

۷- چرا قاره آفریقا گرم و بدون زمستان است؟ (۱)

۸- دو مورد از مشکلات ناشی از رشد سریع جمعیت در آفریقا را بنویسید. (۱)

۹- رشته کوه اورال مرز طبیعی چه قاره هایی به شمار می آید؟ (۱)

۱۰- ویژگی های آب و هوای مدیترانه ای را بنویسید. (۱).

۱۲- در گذشته چگونه کشتی ها از اقیانوس اطلس به اقیانوس آرام می رفتند و اکنون از چه مسیری می روند؟ (۱)

۱۳- دو مورد از علل پیشرفت امریکای شمالی را بنویسید. (۱)

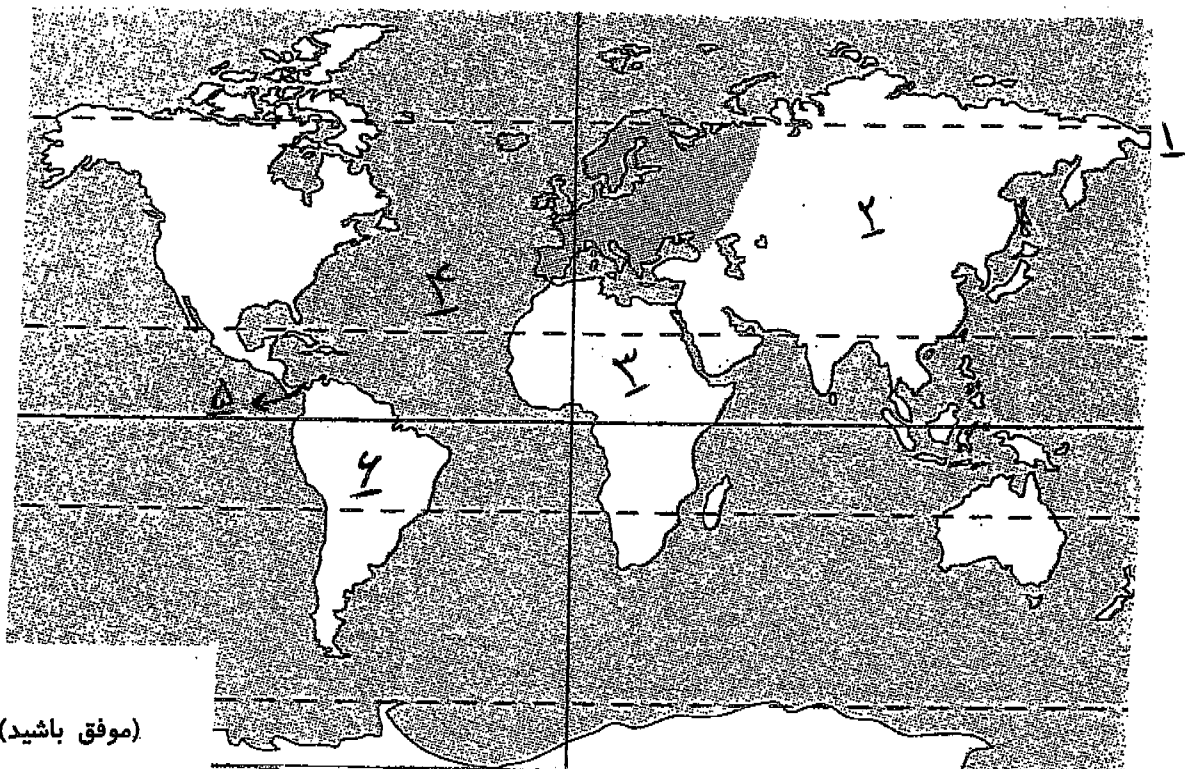
۱۴- مهمترین بنادر استرالیا و کاربری آن ها را بنویسید. (۱)

۱۵- چه عاملی موجب پیدایش حیوانات و گیاهان خاصی در استرالیا و اقیانوسیه شده است؟ دو نمونه ذکر کنید. (۱/۵)

۱۶- گروه های طرفدار محیط زیست چه نظری در باره قطب جنوب دارند؟ (۳مورد). (۱/۵)

۱۷- نام موارد شماره گذاری شده بر روی نقشه را در پاسخ نامه خود بنویسید: (۳)

- | | | |
|-------------|-----------|-------------|
| ۱- تنگه: | ۲- قاره: | ۳- قاره: |
| ۴- اقیانوس: | ۵- کانال: | ۶- امریکای: |



(موفق باشید)

نام و نام خانوادگی :

باسمه تعالی

تاریخ : ۸۹ / ۳ / ۱

نام پدر :

اداره کل مدارس خارج از کشور

نام دبیر: **خواج**



نام درس : **جغرافیا**

سرپرستی مدارس جمهوری اسلامی ایران در امارات عربی متحده

تعداد صفحه: **۲**

شعبه ی کلاس :

مجتمع آموزشی شارجه (دوره راهنمایی) خرداد ماه (۸۹)

مدت پاسخگویی: **۴۵** د

پایه : **دوم** رشته : **راهنمایی**

ردیف	سئوالات	بارم
الف	الف - پاسخ صحیح را با علامت x نشان دهید . (هر سؤال ۵/۱ - نمره) ۱- کدامیک از قاره های زیر به بقیه نزدیک نیست ؟ الف - آسیا <input type="checkbox"/> ب- آمریکا <input type="checkbox"/> ج- اروپا <input type="checkbox"/> د- آفریقا <input type="checkbox"/> ۲- متراکم ترین ناحیه کره زمین از نظر جمعیت کجاست ؟ الف - کامبوج <input type="checkbox"/> ب- بمبئی <input type="checkbox"/> ج- جاوه <input type="checkbox"/> د- یمن <input type="checkbox"/> ۳- اکثریت مردم آسیا از چه نژادی اند ؟ الف - زرد پوست <input type="checkbox"/> ب- سیاه پوست <input type="checkbox"/> ج- سرخ پوست <input type="checkbox"/> د- سفید پوست <input type="checkbox"/> ۴- ساکنان کشورهای شمال صحرای بزرگ آفریقا به کدام زبان صحبت می کنند ؟ الف - فرانسوی <input type="checkbox"/> ب- عربی <input type="checkbox"/> ج- انگلیسی <input type="checkbox"/> د- آلمانی <input type="checkbox"/> ۵- پر آب ترین رود جهان کدام است ؟ الف - نیل <input type="checkbox"/> ب- سی سی سی <input type="checkbox"/> ج- ولگا <input type="checkbox"/> د- آمازون <input type="checkbox"/> مرکز حکومت استرالیا کجاست ؟ الف - کانبرا <input type="checkbox"/> ب- ولینگتن <input type="checkbox"/> ج- زلاندنو <input type="checkbox"/> د- هیچکدام <input type="checkbox"/>	۳
ب	ب - جاهای خالی را با کلمات مناسب پر کنید . ۱- در آمریکای شمالی به سبب مهاجرت انگلیسی ها ، فرهنگ غلبه دارد و زبان مردم است ؟ (۱) ۲- رشته کوه های در آمریکای شمالی و رشته کوه های در آمریکای جنوبی چین خوردگیهای جوان آمریکا هستند . (۱) ۳- دین مسیحی به سه مذهب بزرگ و تقسیم می شود . (۱/۵) ۴- به کسانی که جمعیت را سرشماری می کنند می گویند . (۰/۵)	۴

بارم	سئوالات	ردیف
۳	<p>ج- جملات صحیح را با (ص) و غلط را با (غ) مشخص کنید (هر سؤال ۰/۵ نمره)</p> <p>۱- جمعیت کشور چین و هند بر روی هم ۲/۳ جمعیت جهان را تشکیل می دهد. <input type="checkbox"/></p> <p>۲- وسعت بیابانها در شمال آفریقا بیش تر است. <input type="checkbox"/></p> <p>۳- در جنوب اروپا محصولات ویژه ای چون زیتون ، مرکبات و انگور به عمل می آید. <input type="checkbox"/></p> <p>۴- سرخ پوستان ساکنان اصلی و قدیمی آفریقا هستند که به آن ها هندی نیز می گویند . <input type="checkbox"/></p> <p>۵- یکی از جزایر مهم اقیانوسیه کشور نیوزیلند است که از دو جزیره بزرگ اصلی و تعدادی جزایر کوچک تشکیل شده است . <input type="checkbox"/></p> <p>۶- در زمستان ، دمای هوا در قطب حتی تا ۸۹ درجه سانتی گراد زیر صفر می رسد <input type="checkbox"/></p>	ج
۱۰	<p>د- به هر یک از سئوالات زیر به اختصار جواب دهید .</p> <p>۱- آیس برگ (ICEberg) چیست ؟ (۱)</p> <p>۲- دو بندر مهم استرالیا که از مراکز مهم صنایع کشتی سازی و صنایع شیمیایی اند را نام ببرید (۱).</p> <p>۳- دو کشور اروپایی که فراوده های گوشتی و لبنی را به خارج از اروپا صادر می کند نام ببرید (۱).</p> <p>۴- دو ویژگی آب و هوای مدیترانه ای را نام ببرید ؟ (۲)</p> <p>۵- اروپای جوان کجاست و چه ویژگیهای دارد (۲)</p> <p>۶- دو مورد از جاذبه های جهانگردی قاره آفریقا که سالیانه عده ای زیادی از آن <u>جلاپرن</u> می کنند را نام ببرید (۲)</p> <p>۷- ساوان را تعریف کنید (۱)</p>	د

مجتمع آموزشی نمونه توحید دختران

نام و نام خانوادگی :	پایه تحصیلی: سال دوم راهنمایی	مدت امتحان: ۶۰ دقیقه تاریخ امتحان: ۸۹/۳/۱۲
نام کلاس :	نام درس : جغرافی	نام دبیر: خانم وطن خواه
نمره به عدد :	نمره به حروف :	امضا دبیر:

بلام	ریف
	<p><u>الف) گزینه مناسب را انتخاب کنید. هر مورد ۰/۵ نمره</u></p> <p>۱- بیشتر خشکی ها در کدام نیمکره واقع شده است؟ الف: شمالی <input type="checkbox"/> ب: جنوبی <input type="checkbox"/> ج: غربی <input type="checkbox"/> د: قطب جنوب <input type="checkbox"/></p> <p>۲- بادهای موسمی در کدام بخش از آسیا می وزند؟ الف: شمال <input type="checkbox"/> ب: غرب <input type="checkbox"/> ج: جنوب <input type="checkbox"/> د: جنوب و جنوب شرقی <input type="checkbox"/></p> <p>۳- خزه و گلسنگ در کجا می روید؟ الف: تایگا <input type="checkbox"/> ب: استپ <input type="checkbox"/> ج: توندرا <input type="checkbox"/> د: استوا <input type="checkbox"/></p> <p>۴- ناحیه ای که یک فصل بارانی و یک فصل خشک دارد چه نام دارد؟ الف: ساوان <input type="checkbox"/> ب: استپ بیابانی <input type="checkbox"/> ج: جنگل های انبوه <input type="checkbox"/> د: منطقه استوایی <input type="checkbox"/></p> <p>۵- اروپای جوان به کدام بخش اروپا گفته می شود؟ الف: شمال <input type="checkbox"/> ب: غرب <input type="checkbox"/> ج: جنوب <input type="checkbox"/> د: شرق <input type="checkbox"/></p> <p><u>ب) جملات زیر را کامل کنید. هر مورد ۰/۵ نمره</u></p> <p>۱- جاده معروف بازرگانی موسوم به جاده ی ابریشم در گذشته دو کشور چین را از طریق ایران به متصل می کرد.</p> <p>۲- بادهای غرب از طرف اقیانوس می وزند.</p> <p>۳- جنگل های انبوه گرمسیری در آسیا روئیده است.</p> <p>۴- پرجمعیت ترین کشور دنیا و است.</p> <p>۵- دین بیشتر مردم کشورهای شمال آفریقا هستند.</p> <p>۶- در دره نیل محصول کشت می شود.</p> <p><u>ج) جملات درست و نادرست را مشخص کنید. هر مورد ۰/۵ نمره</u></p> <p>۱- بیت المقدس شهر مقدس مسلمانان، مسیحیان و یهودیان است . صحیح <input type="checkbox"/> غلط <input type="checkbox"/></p> <p>۲- چین و تایوان از کشورهای صنعتی آسیا هستند. صحیح <input type="checkbox"/> غلط <input type="checkbox"/></p> <p>۳- بین آفریقا و اروپا تنگه ی جبل الطارق قرار دارد. صحیح <input type="checkbox"/> غلط <input type="checkbox"/></p> <p>۴- بیشتر سواحل آفریقا برای پهلو گرفتن کشتی مناسب است. صحیح <input type="checkbox"/> غلط <input type="checkbox"/></p> <p>۵- وسعت بیابان در شمال آفریقا زیاد است. صحیح <input type="checkbox"/> غلط <input type="checkbox"/></p> <p>۶- رودهای اروپای شمالی در طول سال منظم و پرآب است. صحیح <input type="checkbox"/> غلط <input type="checkbox"/></p>
	صفحه اول

۱- ویژگی آب و هوای معتدل اقیانوسی را بنویسید ۱

۲- مسلمانان اروپا بیشتر در کدام نواحی زندگی می کنند؟ ۱

۳- چرا کشاورزی اروپا پیشرفته است؟ ۱

۴- چرا کانال پاناما حفر شد؟ ۱

۵- رودهای مهم آمریکا را نام ببرید. ۱

۶- چرا انواع آب و هوا و پوشش گیاهی در آمریکا دیده می شود؟ ۱

۷- چرا کشورهای آمریکای لاتین پیشرفته نیستند؟ ۱

۸- اقیانوسیه به کجا گفته می شود؟ ۱

۹- دو بندر مهم استرالیا را نام ببرید. ۱

۱۰- چهار عامل از عواملی را که موجب آلودگی و تخریب محیط زیست قطب جنوب می شود بیان کنید. ۲

موفق و پیروز باشید

ردیف	سوال	بارم
الف	<p>پاسخ صحیح را انتخاب کنید.</p> <p>۱- کدام یک از رودها در قاره ی آسیا جریان دارد؟ الف- آلپ <input type="checkbox"/> ب- هوانگهو <input type="checkbox"/> ج- راین <input type="checkbox"/> د- دانوب <input type="checkbox"/></p> <p>۲- کدام قاره کاملاً در نیمکره ی شمالی قرار دارد؟ الف- آفریقا <input type="checkbox"/> ب- آمریکا <input type="checkbox"/> ج- استرالیا <input type="checkbox"/> د- اروپا <input type="checkbox"/></p> <p>۳- در اطراف رود نیل چه محصول مهمی بدست می آید؟ الف- قهوه <input type="checkbox"/> ب- کاکائو <input type="checkbox"/> ج- پنبه <input type="checkbox"/> د- کائوچو <input type="checkbox"/></p> <p>۴- تابستان های گرم و زمستان های طولانی و سرد مشخصات کدام آب و هوا است؟ الف- بری <input type="checkbox"/> ب- اقیانوس <input type="checkbox"/> ج- مدیترانه <input type="checkbox"/> د- قطبی <input type="checkbox"/></p>	۲
ب	<p>جاهای خالی را با کلمات مناسب کامل کنید.</p> <p>۱- جلگه ی در آمریکای شمالی قرار دارد.</p> <p>۲- متراکم ترین ناحیه کره ی زمین از نظر جمعیت جزیره است.</p> <p>۳- قاره ی آسیا از طریق از آفریقا جدا می شود.</p> <p>۴- فعال ترین کشور اروپایی در زمینه صنعت ماهیگیری است.</p>	۲
ج	<p>گزینه صحیح یا غلط را مشخص کنید.</p> <p>۱- وسعت بیابان در شمال آفریقا بیشتر است. <input type="checkbox"/> ص <input type="checkbox"/> غ</p> <p>۲- حفر کانال پاناما اقیانوس آرام و اطلس را به هم مرتبط کرده <input type="checkbox"/> ص <input type="checkbox"/> غ</p> <p>۳- کوه های آلپ و پیرنه در قاره آمریکا است. <input type="checkbox"/> ص <input type="checkbox"/> غ</p> <p>۴- دین اکثریت مردم استرالیا مسیحی است. <input type="checkbox"/> ص <input type="checkbox"/> غ</p>	
د	<p>پاسخ کامل دهید.</p> <p>۱- آیس برگ چیست؟</p>	۱
	<p>۲- رودهای مهم آفریقا را نام ببرید. ۴ مورد</p>	۱

باسمه تعالی
مجتمع آموزشی خدیجه کبری (س)
سال تحصیلی ۸۹ - ۸۸
نام درس : جغرافی
مقطع تحصیلی : راهنمایی

نام و نام خانوادگی :
پایه تحصیلی : دوم

نوبت امتحان : خرداد ماه
مدت امتحان : ۶۰ دقیقه

2)

۱	۳- مهم ترین کشورهای صنعتی آسیا را نام ببرید.
۱	۴- خصوصیات اروپای پیر را بنویسید. ۲ مورد
۱	۵- زلزله و آتشفشان بیشتر در کدام قسمت آسیا دیده می شود؟
۱	۶- چه عواملی موجب پیشرفت آمریکای شمالی شده است؟ ۲ مورد
۱/۵	۷- آمریکای لاتین به کدام بخش این قاره گفته می شود. چرا؟
۱/۵	۸- آفریقای سبز به کجا گفته می شود؟
۱/۵	۹- پیمان قطب جنوب را توضیح دهید.
۱/۵	۱۰- سه شبه جزیره ی اروپا را نام ببرید.

نام و نام خانوادگی :

بسمه تعالی

نام پدر :

اداره کل مدارس خارج از کشور

نام درس : جغرافی

سرپرستی مدارس جمهوری اسلامی ایران در امارات عربی متحده

شعبه کلاس :

مجتمع آموزشی شارجه - (خرداد ۸۹-۸۸)

پایه : دوم راهنمایی رشته :

تاریخ : ۸۹ / ۳ /

نام دبیر : علیپور

تعداد صفحه : ۲ صفحه

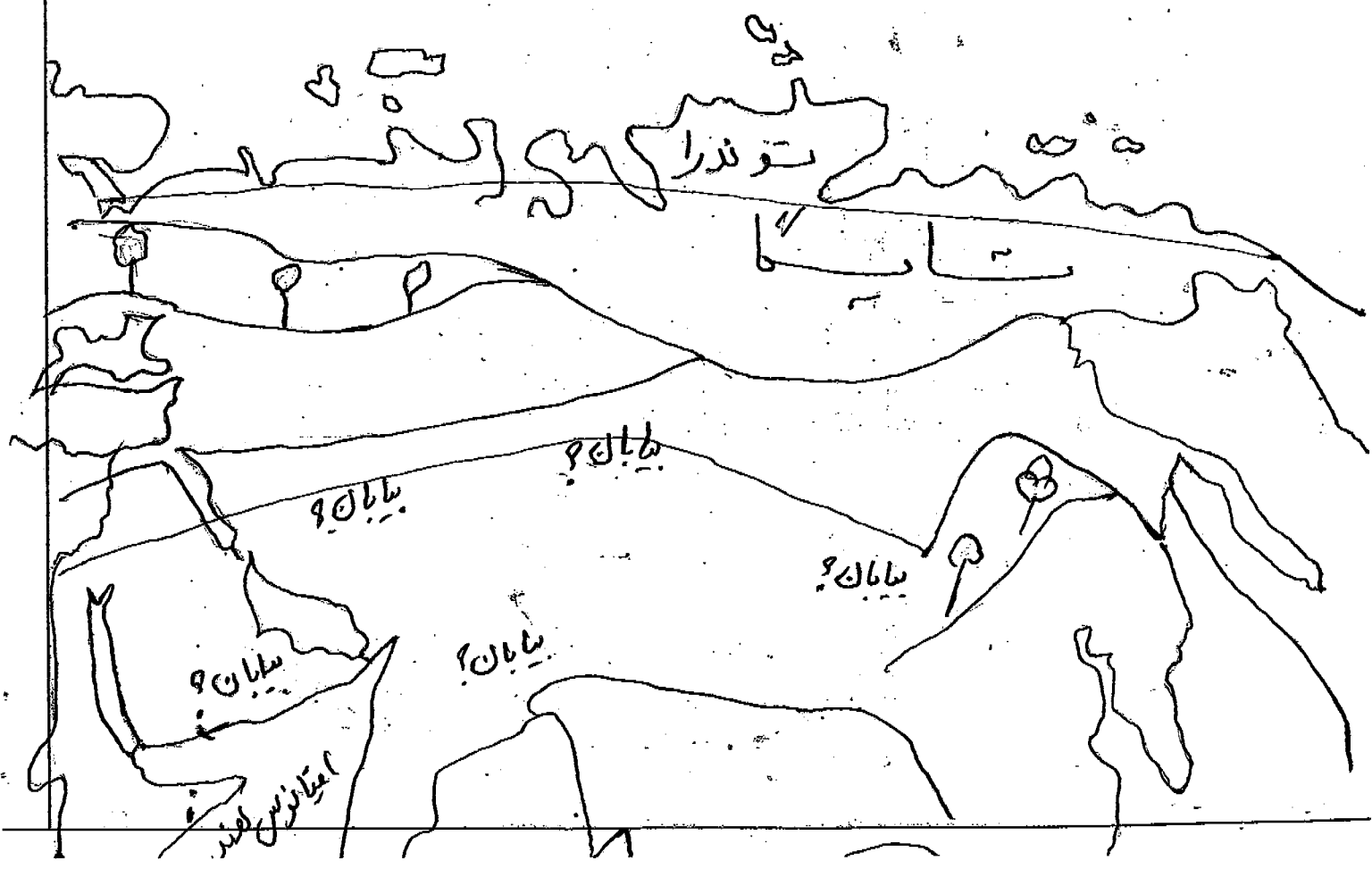
مدت پاسخگویی : ۶۰ دقیقه



نمره به عدد : نمره به حروف : نام و نام خانوادگی مصحح و امضاء :

ردیف	سوال	بار
۱	نام سه مجمع الجزایر آتش فشانی آسیا و و و	۷۵
۲	سه قاره نزدیک به هم کدامند ؟	۷۵
۳	ادیان متفاوت آسیا کدامند و در کدام مناطق پیروان بیشتری دارند . ۲ مورد ؟	۱
۴	پوشش گیاهی زیر مربوط به کدام ناحیه آفریقا است ؟ الف) حوضه رود کنگو در مجاورت استوا ب) ناحیه ای که در آن یاران کم و تبخیر شدید است ج) ناحیه ای که دارای یک فصل بارانی و یک فصل خشک است	۷۵
۵	نژاد بیشتر مردم آفریقا است .	۲۵
۶	کدام نواحی از آفریقا دارای نژاد سفید است ؟	۱/۵
۷	مرز طبیعی دو قاره آسیا و اروپا است .	۲۵
۸	اروپا از نظر ناهمواری به دو بخش تقسیم می شود : ۱ - ۲ -	۱/۵
۹	بنویسید کشورهای زیر کدام آب و هوای اروپایی را دارند ؟ انگلستان ایرلند	۱/۵
۱۰	دین مردم اروپا چیست و چه مذاهبی در آنجا رواج دارد ؟	۱
۱۱	فراورده های گوشتی و لبنی کدام کشورهای اروپایی به خارج صادر می شود ؟	۵
۱۲	محصولات کشاورزی جنوب اروپا چیست ؟	۷۵
۱۳	مسلمانان بیشتر در کدام قسمتهای اروپا زندگی می کنند ؟	۵
۱۴	کانال دو اقیانوس اطلس و آرام را به هم وصل می کند .	۲۵
۱۵	چین خوردگیهای جوان آمریکا رشته کوههای آمریکای شمالی و رشته کوههای در آمریکای جنوبی هستند .	۱/۵
۱۶	در آمریکای شمالی چه فرهنگی غالب است ؟	۲۵
۱۷	بزرگترین و پر آب ترین رود آمریکای شمالی است .	۲۵

بارم	صفحه دوم	ردیف
۷۵	آب و هوای گرم و مرطوب استوایی چه مناطقی از آمریکا را در بردارد؟	۱۸
۷۵	نام یک کشور در آمریکای مرکزی	۱۹
	نام یک کشور در آمریکای شمالی	
	نام یک کشور در آمریکای جنوبی	
۲۵	سیاه پوستان بیشتر در کدام قسمت از قاره آمریکا زندگی می کنند؟	۲۰
۱۵	ایالات متحده کدام محصولات را به خارج صادر می کند؟	۲۱
۱۵	کشورهای آمریکای لاتین تولید کننده و صادر کننده چه محصولاتی هستند؟	۲۲
۲۵	در گذشته به استرالیا و جزایر اقیانوس آرام چه می گفتند؟	۲۳
۱۵	چرا مردم در استرالیا بیشتر در سواحل زندگی می کنند؟	۲۴
۲۵	یکی از جزایر مهم اقیانوس آرام است.	۲۵
۱۵	دو نمونه از حیواناتی که در استرالیا زندگی می کنند عبارتند از و	۲۶
۱۵	بنادر مهم استرالیا عبارتند از و	۲۷
۱۵	منظور از آیس برگ ice berg در قطب جنوب چیست؟	۲۸
۱۵	زندگی جانداران در قطب جنوب به و بستگی دارد.	۲۹
۱	نام چهار بیابان مهم و معروف آسیا روی نقشه بنویسید.	۳۰



نام و نام خانوادگی:

سرپرستی مدارس جمهوری اسلامی ایران - ادارت

تاریخ: ۱۳۸۹/۳/۱۲

مجتمع آموزشی امام خمینی (ره) ابوظبی

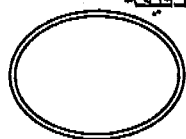
امتحان درس: جغرافیا

پایه ورشته تحصیلی: دوم راهنمایی

وقت: ۷۰ دقیقه

نام دبیر: علی ایزدی

شماره صندلی:



ردیف	سوالات	بارم
۱	بیشتر قاره ها در نیم کره ی قرار دارند .	۰/۵
۲	قاره ی بزرگترین قاره ی جهان است .	۰/۵
۳	بیشتر مردم آفریقا از نژاد هستند .	۰/۵
۴ مرز طبیعی بین دو قاره ی آسیا و اروپا است .	۰/۵
۵	تنگه ی مانند پلی است که قاره ی آسیا را به آمریکا مربوط می کند .	۰/۵
۶	رود پر آب ترین رود جهان است .	۰/۵
۷	به آمریکای مرکزی و جنوبی آمریکای گفته می شود .	۰/۵
۸	مقرّ سازمان ملل متحد در شهر آمریکا است .	۰/۵
۹	رهبر مذهبی کاتولیک ها است و محل اقامت او است .	۱
۱۰	دو کشور اروپایی و صادر کننده ی لبنیات هستند .	۱
۱۱	چهار فلات آسیا را از غرب به شرق نام ببرید .	۱
۱۲	دلّتا چگونه به وجود می آید ؟	۱
۱۳	دو عامل مهم در پیدایش آب و هوای خشک در آسیا را بنویسید .	۱

۱	دو شهر مقدس مسلمانان را نام ببرید .	۱۴
۱	چرا کناره های آفریقا برای پهلو گرفتن کشتی ها و ساختن بندر ها چندان مناسب نیستند ؟	۱۵
۱	چرا آفریقا قاره ای گرم است و زمستان ندارد ؟	۱۶
۱	معادن مهم قاره ی آفریقا را نام ببرید .	۱۷
۱	دو ویژگی آب و هوای مدیترانه ای را بنویسید .	۱۸
۱	چرا در شمال آمریکای شمالی و جنوب آمریکای جنوبی پوشش گیاهی توندرا وجود دارد ؟	۱۹
۱	یک نوع حیوان و یک نوع گیاه قاره ی استرالیا را نام ببرید .	۲۰
۱	دو بندر مهم استرالیا که از مراکز مهم صنایع کشتی سازی و شیمیایی هستند را نام ببرید .	۲۱
۱/۵	چرا در نواحی مرتفع فلات تبت و هیمالیا تراکم جمعیت کم است ؟	۲۲
۱/۵	جاذبه های گردشگری آسیا را نام ببرید .	۲۳
موفق باشید		

نام و نام خانوادگی:

باسمه تعالی

تاریخ: ۸۹ / ۳ /

نام دبیر: خواجه

تعداد صفحه: ۲

مدت پاسخگویی: ۳۷.۰



اداره کل مدارس خارج از کشور

سرپرستی مدارس جمهوری اسلامی ایران در امارات عربی متحده

مجتمع آموزشی شارجه (دوره راهنمایی) خرداد ماه (۸۹)

نام پدر:
نام درس: تاریخ
شعبه ی کلاس: دهم راهنمایی
پایه: رشته:

ردیف	سئوالات	بارم
	جاهای خالی را با کلمات مناسب کامل کنید.	
۱-	رهبر مبارزات علیه بنی امیه که توانست این حکومت را از بین ببرد بود	۰/۱۵
۲	مأمون به کمک توانست امین را شکست دهد.	۰/۱۵
۳	جنگ حضرت علی (ع) با خوارج نام داشت.	۰/۱۵
۴	فرماندهان سپاه سامانیان نامیده می شوند.	۰/۱۵
۵	قوانین چنگیز نام داشت.	۰/۱۵
۶	جنگ ملازگرد در زمان سلطان صورت گرفت.	۰/۱۵
۷	از مشهورترین امرای آل بویه و بودند.	۱
۸	حکومت طاهریان سرانجام بدست سرنگون شد.	۰/۱۵
۹	مشهورترین فرمانروای غزنوی است.	۰/۱۵
۱۰	کدام قسمت ایران در زمان خلافت عثمان فتح نشد؟ چرا؟	۱
۱۱	دو وزیر معروف دوره ی ایلخانان را نام ببرید.	۱
۱۲	اتابک در دوره سلجوقیان چه وظیفه ای داشت؟	۱
۱۳	چرا دولتی که سریداران تأسیس کردند به این نام معروف شد.	۱
۱۴	شهرهای مهم و معروف ایران که پس از اسلام شهرت جهانی داشتند را نام ببرید.	۱/۱۵
۱۵	بزرگترین اشتباه سلطان محمد خوارزمشاه چه بود؟	۱
۱۶	چرا حکومت خوارزمشاهیان بنیان های محکم و استواری نداشت؟	۱/۱۵
	سئوالات صحیح را با ((ص)) و غلط را با ((غ)) نشان دهید.	
۱۷	بنیان گذار سلسله ی سلجوقیان غازان خان بود	۰/۱۵
۱۸	دولت آل زیار سرانجام در زمان سلجوقیان از میان رفت	۰/۱۵
۱۹	طاهریان پس از آنکه خراسان را به طور کامل در دست گرفتند نیشابور را به پایتختی برگزیدند.	۰/۱۵
۲۰	کمال الدین بهزاد از معروف ترین نقاشان ایرانی بود که در اواخر عصر سلجوقیان می زیست.	۰/۱۵

ردیف	سئوالات	بارم
	پاسخهای درست را با علامت × نشان دهید	
۲۱	پیامبر اسلام به مدت چند سال مردم را به طور پنهانی به اسلام دعوت کرد . الف - ۲ سال <input type="checkbox"/> ب- ۳ سال <input type="checkbox"/> ج- ۴ سال <input type="checkbox"/> د- ۵ سال <input type="checkbox"/>	۰/۵
۲۲	پیشنهاد حفر خندق در شمال مدینه توسط چه کسی مطرح شد . الف- سلمان فارسی <input type="checkbox"/> ب- حمزه عمومي پیامبر <input type="checkbox"/> ج- حضرت علي (ع) <input type="checkbox"/> د- هیچکدام <input type="checkbox"/>	۰/۵
۲۳	انتخاب امام رضا به ولعیهدی توسط کدام یک از افراد زیر صورت گرفت . الف - امین <input type="checkbox"/> ب- مامون <input type="checkbox"/> ج- هارون الرشید <input type="checkbox"/> د- منصور <input type="checkbox"/>	۰/۵
۲۴	کدامیک از افراد ذیر شاعر معروف دوره سامانیان بود . الف - مازیار <input type="checkbox"/> ب- جیهانی <input type="checkbox"/> ج- ابوریحان <input type="checkbox"/> د- رودکی <input type="checkbox"/>	۰/۵
۲۵	پایتخت سلطان هلاکشاہ کدام شهر بود . الف - شیراز <input type="checkbox"/> ب- اصفهان <input type="checkbox"/> ج- تهران <input type="checkbox"/> د- ری <input type="checkbox"/>	۰/۵
۲۶	رابطه بین گزینه ها را پیدا کنید و با خطی به هم وصل کنید . انقراض به دست سامانیان خلیفه مقتول جنگ باروم شرقی سال دوم هجری به قتل رساندن آخرین خلیفه عباسی	۲/۵
	غزوه بدر مامون علویان هلاکو خان امین آلب ارسلان	

نام و نام خانوادگی:		باسمه تعالی	تاریخ: ۸۹/۳/۱۲
نام پدر:		اداره کل مدارس خارج از کشور	نام دبیر: علیپور
نام درس:		سرپرستی مدارس جمهوری اسلامی ایران در امارات عربی متحده	شماره صفحه: ۲/۱
شعبه ی کلاس:		مجتمع آموزشی شارجه (دوره راهنمایی) پایان نیم سال دوم (خرداد ۸۹)	مدت پاسخگویی: ۶۰ دقیقه
پایه:			
نمره به عدد:	نمره به حروف:	نام و نام خانوادگی مصحح و امضاء:	
پرسشهای اجتماعی سال دوم راهنمایی			ردیف
۱	منظور از روابط متقابل چیست؟ مختصراً.		۱
۱	فوائد سپرده قرض الحسنه پس انداز چیست؟ ۲ مورد		۲
۱	در گذشته مبادله به چه صورتهایی انجام می گرفته؟		۳
۱	دو روش را بنویسید که در گذشته انسانها از طریق آنها محیط زیست خود را پاکیزه نگه می داشتند؟		۴
۱	وظایف مردم نسبت به شهرداری چیست؟ (نکر ۲ مورد کافیسیت)		۵
۲	چرا امروزه به وجود نظم در جامعه بیشتر نیازمندیم؟		۶
۲	وظایف راهنمایی رانندگی در مقابل مردم چیست؟ (۴ مورد)		۷
۲	اگر انسان نمی توانست منظور خود را به دیگران بفهماند چه پیش می آمد.		۸
۲	دو مورد از خدمات پست را بنویسید.		۹

سرپرستی مدارس جمهوری اسلامی ایران در امارات عربی متحده

مجتمع آموزشی بسرايه نمونه توحيد دبي

مقطع راهنمایی نمونه توحيد دبي

مهر مقطع

امتحان درس : تعلیمات اجتماعی	کلاس : دوم راهنمایی	تاریخ امتحان : ۸۹/۳/۰۶
نام و نام خانوادگی :		سال تحصیلی ۸۸/۸۹
نام دبیر : محمد شایگان	شماره صندلی :	وقت امتحان : ۷۰ دقیقه

((موفقیت شما آرزوی ماست))

۱- انواع گروه ها را نام برده و برای هر کدام یک نمونه بیان کنید. (۱/۵)


۲- آیا سپردن برخی وظایف خانواده ها به موسسات، به معنای ضعیف شدن خانواده است؟ چرا؟ (۱/۵)

۳- انواع مبادله را نام برده و برای هر کدام یک مثال بنویسید. (۱/۵)

۴- انواع سپرده را نام ببرید. (۱/۵)

۵- یکی از مهمترین چیزهایی که محیط زندگی ما را آلوده می کند، چیست و در گذشته مردم چگونه آن را دفع می کردند؟ (۱/۵)

۶- سه مورد از وظایف مادر مقابل شهرداری را بنویسید. (۱/۵)



ان درس : تعلیمات اجتماعی	کلاس : <u>دوم راهنمایی</u>	تاریخ امتحان : <u>۸۹/۳/۰۰۰</u>
نام خانوادگی :	شماره صندلی :	سال تحصیلی <u>۸۸/۸۹</u>
دبیر : محمد شایگان		وقت امتحان : <u>۷۰</u> دقیقه

((موفقیت شما آرزوی ماست))

۱- انواع گروه ها را نام برده و برای هر کدام یک نمونه بیان کنید. (۱/۵)

۱- گروه همسین : مثل گروه خانوار و گروه دوستی ...

۲- گروه دوسین : مثل گروه ادارات ، علاقه مندان ، سارس و ... ۸-۹

۲- آیا سپردن برخی وظایف خانواده ها به موسسات، به معنای ضعیف شدن خانواده است؟ چرا؟ (۱/۵) [توسعت کامینت]

۱- همه ما به خانواده نیاز داریم تا عضو آن باشیم .

۲- خانواده ای که از ما سرپرست کند

۳- به ما محبت و درون

۴- در غم و شادی ما سرگشته باشد و ... ۱۵/

۳- انواع مبادله را نام برده و برای هر کدام یک مثال بنویسید. (۱/۵)

۱- مبادله کالا با کالا (یا مستقیم) : تعویض کتدم با جوب

۲- مبادله کالا با کالا واسطه (یا غیر مستقیم) : تعویض کتدم با کالا واسطه و پس با کالا سورت ۲۲-۴/

۴- انواع سپرده را نام ببرید. (۱/۵)

۱- قرض الحسنه سبب انباز

۲- قرض الحسنه جاری

۳- سپرده سرمایه گذاری ... ۲۶-۷/

۵- یکی از مهمترین چیزهایی که محیط زندگی ما را آلوده می کند، چیست و در گذشته مردم چگونه آن را دفع می کردند؟ (۱/۵)

۱- زباله : ۱- زباله نریختن و رودها را آلوده نکردن

۲- رضای از محل سکونت خود جمع نکردن

۳- آنرا با سوزاندن

۴- در خاک دفن کردن ... ۳۴/

۶- سه مورد از وظایف مادر مقابل شهرداری را بنویسید. (۱/۵)

۱- پرداخت عوارض و مالیات

۲- نوزاد زایلها در ظرف مخصوص خود

۳- کاشتن گل در سبزه و مدرسه

۴- تعین به شهرداری و ترافیک کالات شهر

۵- نوزاد زایلها در ظرف مخصوص خود

۶- عدم عبور سبزه در زمان

۱- چرا امروزه نیاز به نظم بیشتر از گذشته احساس می شود؟ یک مثال بنویسید. (۱/۵)

به علت بزرگ شدن جوامع و وسعت آن ... مثل حمل و نقل و رفت و آمد
ارتباطی ها که بدون نظم، منظم زیاده ایبار ... ۷/۱

۸- سه مورد از وظایف مردم در برابر راهنمایی و رانندگی را بنویسید. (۱/۵)

- ۱- آشنایی با مقررات و احترام به آنها
 - ۲- همکاری و همکاری با مسران راهنمایی رانندگی
 - ۳- رانندگی نکردن بدون مجوز
 - ۴- استکان از کمر بنظر نیاورد
 - ۵- رعایت مقررات فقط رانندگی
 - ۶- عبور از مله ها و خط کشی
 - ۷- حمل مزارک سر در نیاز
 - ۸- رعایت سرعت مجاز
 - ۹- توجه به وضعیت آب و هوا
- ۹- ما چه نیازی به استفاده از امکانات و ابزارهای ارتباطی جدید داریم؟ دو نمونه از این ابزارها را نام ببرید. (۱/۵)

آن ها به ما کمک می کند تا کارهای خود را سریع تر و بهتر انجام دهیم.

مثل: رایو، تلویزیون، رایانه، تلفن، سیس، گراف، ماهواره و ... ۲/۱

سه مورد از پیامدهای استفاده نکردن از موسسه پست توسط مردم را بنویسید. (۱/۵)

- ۱- افزایش وقت و آمدن
- ۲- تراکم شلین
- ۳- آلودگی
- ۴- شلین و از راح
- ۵- تلف شدن وقت
- ۶- خطر سرقت یا گم شدن
- ۷- و ... ۲/۱-۲۵

۱۱- وسایل ارتباطی در گذشته و حال چه نقشی در کمک و همدلی مردم با یک دیگر داشته است؟ (۱/۵)

در گذشته مردم به وسیله از وضع مردم مناطق کج با خبر نمی شدند ...
و مردم هر محل در صورت مواجه با حوادث باید خود به تنهایی با مشکلات مقابله ...
و امروزه به وسیله مردم آگاه ... و به کمک هیئت ارگان ها می توانند ... ۷۴/۱

۱۲- هدف تأسیس موسسه بیمه و نحوه عملکرد آن را بنویسید. (۱/۵)

هدف آن جبران زیان های مالی بوجود آمده است.
به موجب قرارداد، موسسه بیمه تعهد می کند در مقابل دریافت مبلغی به عنوان حق بیمه،
ضارتهای ناشی از حوادث معینی را جبران نماید. ۷۹/۱

۱۳- انجام هر یک از وظایف زیر بر عهده چه مؤسسه ای است؟ (۲)

- الف - جمع آوری و ارسال هدایا و کمک های مردمی به آسیب دیدگان حوادث پیش بینی نشده: (صحبتهای هلال احمر)
- ب - جلوگیری از رفت و آمد وسایل دودزا: (راهنمایی و رانندگی)
- پ - ثبت نام و خدمات آزمون های سراسری: (موسسه سیت)
- ت - جمع آوری و دفع زباله ها: (موسسه مهر دار)

(موفق باشید)

به نام خدا
سرپرستی مدارس جمهوری اسلامی ایران در امارات عربی متحده
مجتمع آموزشی نمونه توحید دختران

نام و نام خانوادگی:	پایه تحصیلی: دوم راهنمایی	مدت امتحان: ۶۰ دقیقه * تاریخ امتحان: ۸۹/۳/۲۲
نام کلاس:	نام درس: اجتماعی	نام دبیر: خاتم وطن خواه
نمره به عدد:	نمره به حروف:	امضا دبیر:

ریف

الف) گزینه مناسب را انتخاب کنید. هر مورد ۰/۵ نمره

- ۱- کدامیک از گزینه های زیر يك گروه را تشكيل مي دهند؟
الف: مسافران اتوبوس ب: متولدين يك سال
ج: مشتریان يك فروشگاه د: كاركنان يك اداره
- ۲- در هندوستان كالاي واسطه چه بود؟
الف: ماهي خشك ب: مرواريد ج: قند د: پوست جانوران
- ۳- همه كارهایی که ما برای تهیه کالاهاى مورد نیاز خود انجام می دهیم نامیده می شود.
الف: مبادله ب: فعالیت اقتصادی ج: مبادله مستقیم د: مبادله غیر مستقیم
- ۴- بانک برای تشویق دارندگان کدام سپرده جوایز نقدي و غیرنقدي مي دهد.
الف- قرض الحسنه جاری ب- قرض الحسنه پس انداز
ج- سپرده سرمایه گذرای د- هیچکدام

ب) جملات زیر را کامل کنید. هر مورد ۰/۵ نمره

- ۱- از ویژگی های اصلی گروه داشتن و است.
- ۲- مبادله کالا به کالا و مبادله کالا با کالای واسطه نامیده می شود.
- ۳- برای کنترل وسایل نقلیه در شهرها موسسه ای به نام وجود دارد.
- ۴- عده ای از مردم پول خود را در بانک می گذارند و دفترچه ای از بانک در یافت می کند، به این نوع سپرده ها می گویند.
- ۵- تا قبل از سالگی برای باز کردن حساب به همراه پدر و مادر خود به بانک مراجعه می کنیم.
- ۶- رنگ آمیزی و نظافت جدول ها و نرده های خیابان برعهده است.

د) گزینه های مناسب را بهم وصل کنید. هر مورد ۰/۵ نمره

- | | |
|------------------------------|----------------------|
| - حمل و نقل مسافران | - راهنمایی و رانندگی |
| - اجرای مقررات و برقراری نظم | - بیمه |
| - صدور کارت بیمه ي حوادث | - پست |
| - ثبت نام در آزمونهای سراسری | - شهرداری |

ج) جملات درست و نادرست را مشخص کنید. هر مورد ۰/۵ نمره

- ۱- یکی از مهم ترین چیزهایی که محیط زندگی را آلوده می کند زیانه است. صحیح غلط
- ۲- امروزه همدردی تنها به افراد فامیل و همسایگان در يك محله محدود می شود. صحیح غلط

بارم	سوال	ردیف
۲	<p>جاهای خالی را با کلمات مناسب بنویسید.</p> <p>۱- کارهایی که برای تهیه کالاهای مورد نیاز خود انجام می دهیم. گفته می شود.</p> <p>۲- سپرده های که سود بانکی به آن تعلق نمی گیرد سپرده می گویند.</p> <p>۳- اداره راهنمایی و رانندگی بخشی از نیروهای کشور است.</p> <p>۴- رفع بسیاری از نیازهای وابسته به توانایی ما است.</p>	الف
۲	<p>کدام عبارت صحیح و کدام یک غلط است.</p> <p>۱- مسافران یک اتوبوس تشکیل یک گروه می دهند. <input type="checkbox"/> ص <input type="checkbox"/> غ</p> <p>۲- امروزه بسیاری از نیازهای اساسی تنها در خانواده رفع می شود. <input type="checkbox"/> ص <input type="checkbox"/> غ</p> <p>۳- یکی از فعالیت های شهرداری حمل و نقل مسافران خارج در شهر است. <input type="checkbox"/> ص <input type="checkbox"/> غ</p> <p>۴- تمیر نشانگر اعتقادات و آداب و رسوم یک جامعه است. <input type="checkbox"/> ص <input type="checkbox"/> غ</p>	ب
۰/۵	<p>پاسخ کوتاه دهید.</p> <p>۱- موسسه ای که مسئولیت هدایت کمک ها و نیروهای مردمی را بر عهده دارد؟</p>	ج
۰/۵	<p>۲- انسان به وسیله آن پیچیده ترین مفاهیم را به دیگران منتقل می کنند.</p>	
۰/۵	<p>۳- کالای واسطه مردم هند و کانادا چیست؟</p>	
۰/۵	<p>۴- علت شماره گذاری وسایل نقلیه چیست؟</p>	
۱	<p>پاسخ کامل دهید.</p> <p>۱- خصوصیات گروه دومین را بنویسید. (۲ مورد)</p>	د

باسمه تعالی
مجتمع آموزشی خدیجه کبری (س)
سال تحصیلی ۸۹ - ۸۸
نام درس : اجتماعی
مقطع تحصیلی : راهنمایی

نوبت امتحان : خرداد ماه
مدت امتحان : ۶۰ دقیقه

نام و نام خانوادگی :
پایه تحصیلی : دوم

۱	۲- چرا انسانها برای پاکیزه نگه داشتن محیط زیست خود تلاش می کنند.
۱	۳- بهترین ابزارهای ارتباطی چه ابزاری هستند.
۱	۴- موسولات سفارشی چیست؟
۱	۵- پست از نظر اقتصادی چه منافعی برای جامعه دارد؟
۱	۶- استفاده از روش های قدیمی برای دفع زباله چه مشکلاتی را به دنبال دارد؟ ۲ مورد
۱	۷- در گذشته چه کسانی مسئولیت اجرای مقررات را بر عهده داشتند؟ نام ببرید. ۴ مورد
۱	۸- اگر مردم در پرداخت عوارض کوتاهی کنند چه مشکلاتی در زندگی ما به وجود می آید؟
۱/۵	۹- علت تخصصی شدن کارها چه بود؟
۱/۵	۱۰- چرا در جوامع امروزی بدون وجود موسسه نمی توان همدلی با افراد جامعه را هماهنگ کرد؟
۱/۵	۱۱- بانک علاوه بر دریافت سپرده چه خدماتی انجام می دهد؟
۱/۵	۱۲- موسسه بیمه به چه منظوری به وجود آمده است؟

سؤالات امتحان درس: اجتماعی	کلاس: دوم	دوره تحصیلی: راهنمایی	شماره صندلی:
نام و نام خانوادگی:	تاریخ امتحان: ۸۹/۳/۲۲	مدت امتحان: ۶۰ دقیقه	

ردیف	متن سؤالات	نمره
۱	جاهای خالی عبارات زیر را با کلمات مناسب پر کنید: الف) همه ی کارهایی که ما برای تهیه ی کالاهای مورد نیاز خود انجام می دهیم، هستند. ب) مبادله ی کالا به کالا را می گویند. ج) انسان به وسیله ی می تواند پیچیده ترین و مشکل ترین مفاهیم و احساسات را به دیگران منتقل کند. د) شهرداری در مقابل خدماتی که به مردم ارائه می کند، از مردم دریافت می کند.	۲
۲	آیا دانش آموزان کلاس دوم راهنمایی یک گروه محسوب می شوند؟ چرا؟	۱
۳	گروه های نخستین را تعریف کنید و دو نمونه مثال بزنید.	۱
۴	چه عواملی باعث به وجود آمدن مؤسسات مختلف شده است؟	۱
۵	چرا انسان ها برای پاکیزه نگه داشتن محیط زیست خود تلاش می کنند؟	۱
۶	دو مورد از وظائف مردم در مقابل شهرداری را بنویسید.	۱
۷	برای برقراری نظم، وجود قوانین و مقررات مهم تر است یا اجرای آن؟ توضیح دهید.	۱
۸	دو مورد از وظایف راهنمایی و رانندگی را در برابر مردم بنویسید.	۱

۱	چرا رانندگی یک رفتار اجتماعی است؟	۹
۱	چهار نمونه از ابزار و امکاناتی را که امروزه انسان برای انتقال تجربیات خود از آنها استفاده می کند ، نام ببرید.	۱۰
۱	منظور از مرسولات سفارشی چیست؟	۱۱
۱	تمبر چیست؟	۱۲
۱	چرا همه ی انسان ها به همدلی و همدردی با یکدیگر نیاز دارند؟	۱۳
۱	دو نمونه از مؤسسه‌ای را که هنگام بروز حوادث و بلایای طبیعی به کمک آسیب دیدگان می شتابند ، نام ببرید.	۱۴
۱	منظور از عبارت « حادثه هیچ گاه خبر نمی کند.» چیست؟	۱۵
۱	کارت بیمه ی حوادث تحصیلی چیست؟	۱۶
۱	اگر مردم برای رفع نیازهای ارتباطی خود از پست استفاده نکنند ، چه مشکلاتی پیش می آید؟	۱۷
۲	سپرده چیست؟ سه نوع سپرده را نام ببرید.	۱۸

نام و نام خانوادگی :

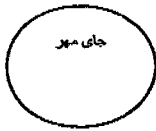
باسمه تعالی

تاریخ : ۹/۳/۲۲

نام پدر :

اداره کل مدارس خارج از کشور

نام دبیر :



نام درس : اجتماعی

سرپرستی مدارس جمهوری اسلامی ایران در امارات عربی متحده

شعبه ی کلاس : دوم راهنمایی

مجتمع آموزشی شارجه (دوره راهنمایی) خرداد ماه (۸۹)

تعداد صفحه: ۲

مدت پاسخگویی: ۶۰ دقیقه

پایه :

نمره به عدد :

نمره به حروف :

نام و نام خانوادگی مصحح و امضاء :

کدام گزینه صحیح است (هر سوال ۰/۵ نمره)

۱ کدامیک از گزینه های زیر انواع گروه است
الف- گروه نخستین ب- گروه دومین ج- هیچ کدام د- موارد الف و ب

۲ مبادله مستقیم چه نوع مبادله ای است .
الف- کالا با کالای واسطه ب- مبادله غیرمستقیم ج- کالا با کالا د- هیچ کدام

۳ انسانها در گذشته با کدام روش زباله های خود را از محیط پیرامون خود دور می کردند .
الف- زباله ها در جوی آب ها می ریختند . ب- زباله های خود را می سوزاندند .
ج- زباله های خود را زیر خاک می کردند . د- هر سه موارد

۴ در زمان گذشته مسئولیت اجرای نظم و مقررات به عهده چه کسانی بود .
الف - اعضای خانواده ب- ریش سفیدان ج- کدخدا د- موارد ب و ج

۵ کدام موسسه برای به وجود آوردن نظم در عبور و مرور وسایل نقلیه به وجود آمده است .
الف - شهرداری ب- مدرسه ج- پست د- اداره راهنمایی و رانندگی

۶ امروز با بزرگتر شدن جوامع بشری پیشرفت آنها نیاز به بیشتر دارد.
الف- نظم ب- مقررات ج- دقت د- هر سه مورد

۷ چند مورد از وسیله های ارتباطی جدید مشخص کنید.
الف- رایانه ب- تلویزیون ج- موارد الف و ب د- هیچ کدام

۸ مهمترین وظیفه بانک ها چیست ؟
الف- دادن انواع تسهیلات به مردم ب- ارائه انواع پول رایج دنیا
ج- ارائه دست چک د- دریافت سپرده

۹ کدامیک در کانادا کالای واسطه محسوب می شود.
الف- چای ب- مرواید ج- قند د- پوست جانوران

ای کسی که دوره ی نوجوانی را می گذرانی و از فرط غرور گمان می کنی روزگار درازی در پیش داری حساب کار خود را داشته باش که روزگار چون باد و ابر ناپایدار و گذراست. عمر خود را تلف مکن در وقت خویش صرفه جویی کن. قدر امروز را بدان و کار امروز را به فردا میفکن.

میرزا ابوالقاسم فراهانی توانایی عجیبی در حفظ اشعار و مطالب داشت اگر شعری را تنها یک بار برای او می خواندند آن را به طور کامل حفظ می کرد همین باعث شده بود که پدر بزرگش میرزا محمد خان که خود شاعر سرشناسی در شیراز بود نوه اش را به همراه خود به مجالس شعرا ببرد.

مبادا گذر شتابان عمر را به مسخره بگیرد یا به حرف بزرگترهایتان گوش نکنید و از تجربه های آنان بهره نگیرید. هرگز در خیال کسی نمی گنجد که در آینده به انسانی بی عاطفه و بد اخلاق تبدیل شود. تصور همه از آینده یک زندگی آرماتی، منطقیو سرشار از عشق و عاطفه و انسانیت است.

انگار نقاش چیره دست طبیعت به ترکیب رنگ ها نور نیز پاشیده است. رنگ زرین گندم زارها زیر پرتو انوار طلایی خورشید و حرکت موج گون خوشه های گندم در اثر وزش نسیم بسیار چشم نواز است می توان گفت بهار فصل جوانی و شادابی و تابستان فصل پختگی و کمال طبیعت است.

- یکی از بزرگ ترین ارزش ها و دست آوردهای انقلاب شکوهمند اسلامی ما ، "خود باوری" در تمام زمینه هاست. انقلاب ، کرامت انسانی را به جامعه باز گرداند.

- هر که در حال توانایی نیکویی نکند ، در وقت ناتوانی سختی بیند. نادان را به از خاموشی نیست و اگر این مصلحت بدانستی ، نادان نبودی.

- نقاشی رایج ترین زینت اتاق ها و تالارهاست. پیکرسازی و سنگ تراشی به ندرت دیده می شود. در صحن تمام خانه ها ، حوض آب هست.

- ما می توانیم با توکل به پروردگار و تلاش به این مهارت ها دست یابیم و زندگی خود را سرشار از طراوت و شادابی و شکوفایی کنیم.

- میرزا تقی خان امیر کبیر از مردان نامدار تاریخ ایران است. وی در هزاوه ی فراهان متولد شد. در مورد هوش و ذکاوت امیر دایتان های بسیاری بر سر زبان هاست.

- کمال الدین بهزاد همراه شاه اسماعیل بود. یکی از سرداران ، زخمی شده بود. کمال الدین بهزاد همراه با شاه محمود نیشابوری او را به غاری در آن نزدیکی رساندند.

- آری ، در دوران دفاع مقدس ، کرخه سدّی عظیم از نیرو و توان جوانان مؤمن و سربازان شجاع این ملت در برابر تازش دشمن بود.

- این یکی از عادات ماست که هرچه را داریم ، پاس نمی داریم و همین که از دست رفت ، متوجه خطای خود می شویم. انگشت ندامت به دندان می گزیم و سودی نمی بریم.

نام درس: املا		بسمه تعالی	
پایه تحصیلی: دوم		وزارت آموزش و پرورش	
نام دبیر: کوشکی		دفتر مدارس خارج از کشور	
		مجتمع آموزشی دخترانه نمونه توحید	
نام و نام خانوادگی دانش آموز: نام پدر: نام کلاس:		تاریخ برگزاری امتحان:	
		مدت زمان پاسخگویی: ۴۰ دقیقه	
		تعداد کل سوالات: ۸	
ردیف	بارم		
	۱	۱- دو راه تشخیص واژه هایی که شکل نوشتاری یکسان دارند را بنویسید:	
	۱	۲- با کلمه و ترکیبات زیر جمله بسازید: - مشهد مقدس : - مراسم :	
	0.5	۳- واژه های زیر را با نشانه های جمع فارسی "ان" یا "ها" جمع ببندید: - عامل - لطیفه	
	0.5	۴- در واژه های هم آوا (حیات-حیاط) شکل درست املاي این دو واژه را باید با استفاده از آن ها در جمله فهمید. (۱) تلفظ <input type="checkbox"/> (۲) معنا <input type="checkbox"/> (۳) شکل نوشتاری <input type="checkbox"/> (۴) گزینه ۲ و ۳ <input type="checkbox"/>	
	0.5	۵- کدام گزینه درست است (۱) پرنده گان <input type="checkbox"/> (۲) پرنده ان <input type="checkbox"/> (۳) پرندگان <input type="checkbox"/> (۴) تمام موارد <input type="checkbox"/>	
	0.5	۶- املاي کدام گزینه با توجه به معنی درست نمی باشد : (۱) هور-خورشید <input type="checkbox"/> (۲) الم-درد <input type="checkbox"/> (۳) صواب- پاداش <input type="checkbox"/> (۴) حور-خوبان بهشت <input type="checkbox"/>	
	0.5	۷- تشخیص املاي درست دو کلمه ی "خرد" و "خورد" از طریق و میسر است.	
	0.5	۸- واژه های مناسب را با توجه به معنی جمله ها در جاهای خالی قرار دهید : - آب شهری شده می باشد. (تسویه-تصفیه) - در هنگام ورزش کردن مواظب باشید به دست خود آسیب نرسانید (شست-شست) (شست)	
		جمع نمره به عدد: به حروف: نام و نام خانوادگی مصحح: امضاء:	

الف) متن املاء

ایرانیان دارای هوش و استعداد فکری خوبی هستند. آن‌ها در فرا گرفتن امور فنی و هنری و هرگونه علوم استعداد و قابلیت فراوان دارند، نرم و انعطاف پذیر، نجیب، با ادب، پرآزم و خوش رو هستند.

اکنون عصر چیرگی ماشین و رایانه و به طور کل، روزگار تسلط دست آوردهای علمی و فناوری بر تار و پود زندگی بشر است. رایانه، اینترنت، تلفن همراه و دیگر تولیدات علمی، از مظاهر آفرینش گری بنده‌ی ضعیف خداوند است.

میرزا تقی خان امیر کبیر از مردان نامدار تاریخ ایران است. وی حدود سال ۱۲۲۲ ه. ق در هزاهه‌ی فراهان متولد شد. در مورد هوش و ذکاوت امیر داستان‌های بسیار بر سر زبان‌هاست.

در دوران جنگ تحمیلی، خیل عظیم نوجوانان و جوانان بسیجی و جان بر کفان ارتشی و سپاهی، کرخه را به بنیانی استوار و سدی نفوذناپذیر و پایدار در برابر هجوم وحشیانه‌ی صدام و حامیان آمریکایی او، تبدیل کرد.

اهمیت زندگی به شمار روزها و شب‌ها نیست، بلکه مربوط به اعمال و افعال ماست، کسی که اوقات خود را به کارهای ناشایسته می‌گذراند، چنان است که زندگانی خویش را تلف کرده باشد. همیشه باید به خاطر داشته باشیم که وقت، عزیز و گران بهاست و از تلف کردن آن جز حسرت و ندامت ثمری نخواهیم برد.

ردیف	سوال املاء	ص ۱	بارم
۱-	متضاد کدام کلمه درست نیست؟	<p>(الف) استوار : سست <input type="radio"/></p> <p>(ب) عدالت : ظلم <input type="radio"/></p> <p>(ج) صلح : آشتی <input type="radio"/></p> <p>(د) زشت : زیبا <input type="radio"/></p>	۰/۵
۲-	شکل درست املاي واژه را با توجه به معنای جمله برای جای خالی انتخاب کنید.	<p>(الف) گلزارها و بوستان های ایران ، از انواع درختان میوه و اقسام گل است . (مسطور - مصطور - مستور)</p> <p>(ب) دانش آموزان در زنگ ورزش در نرمش می کنند. (حیات - حیاط - هیات)</p> <p>(ج) دو چیز است که پاداش و آن به وزن و اندازه در نیاید : گذشت و عدالت. (ثواب - صواب - صواب)</p> <p>(حضرت علی ع)</p>	۱/۵
۳-	معنای کدام گزینه " پایه و بنیاد " است؟	<p>(الف) اثاث <input type="radio"/></p> <p>(ب) اساس <input type="radio"/></p> <p>(ج) اسات <input type="radio"/></p>	۰/۵
۴-	املاي کدام گزینه با توجه به معنی غلط است؟	<p>(الف) اصرار : پافشاری کردن <input type="radio"/></p> <p>(ب) هور : خورشید <input type="radio"/></p> <p>(ج) غدر : نیرنگ و بی وفایی <input type="radio"/></p> <p>(د) الم : پرچم <input type="radio"/></p>	۰/۵
۵-	مفرد کلمات زیر را بنویسید.	<p>(الف) علوم : (ب) حامیان :</p>	۱
۶-	در متن زیر واژه های نادرست املايي را پیدا کنید و شکل صحیح آنها را بنویسید.	<p>" امروز نوجوانان شاداب و با ایمان و پاک آیین میهن اسلامی ، همانند قتل استوار و صدهای پایدارند که مایه ی عزت و افتخار نسل های امروز و فردایند و سیمای وطن را به زیور و شکوح کرخه ها می آریند و به لطف خداوند بزرگ در همه ی عرسه ها و میدان ها پرچم ایران اسلامی را با سرور و سرافرازی و آزادمنشی برخواهند افراشت.</p>	۲

سوال درسی : املای فارسی
پایه : دوم
دوره : راهنمایی
رشته : —

باسمه تعالی

سریستی مدارس جمهوری اسلامی ایران در امارات عربی متحده

مجتمع آموزشی شارجه

راهنمایی دخترانه

جای مهر

سال تحصیلی : ۸۹ - ۸۸
تاریخ امتحان : ۸۹ / ۲ / ۲۴
ساعت امتحان : ۹۳۰
مدت امتحان : ۵۰ دقیقه
شماره صفحه : ۲

نام و نام خانوادگی دانش آموز:

ردیف	سوال	بارم
	<p>متن املای تقریری</p> <p>- کمال الملک به قدری نسبت به مادر خود مؤدب و فروتن بود که توجه هر بیننده و شنونده ای را جلب می کرد. منظره ی ملاقاتشان ، تماشایی و حیرت افزا و پرپند بود . برخلاف فرزند، مادر کوتاه قامت و فوق العاده پیر و ناتوان بود .</p> <p>- میرزا تقی خان امیرکبیر از مردان نامی تاریخ ایران است . وی در هزاوه ی فراهان متولد شد . در مورد هوش و ذکاوت امیر داستان های بسیار بر سر زبان هاست .</p> <p>- بهلول گفت : تو دعوی دانایی می کردی ، اکنون که به نادانی خود معترف شدی ، تو را بیاموزم . بدان این ها که توگفتی همه فرع است و اصل در خوردن آن است که لقمه ی جلال باید و اگر حرام را صد از این گونه آداب به جا بیاوری فایده ندارد :</p> <p>- تفکر خلاق ، مهارت در یافتن راه حل های تازه ، کشف و نوآوری در زندگی و جست وجوی راه حل های جدید برای حل مشکلات است .</p> <p>- گلزارها و بوستان های ایران محدود و منحصر به باغ هایی است که خیابان هایی آن ها را به قطعاتی تقسیم کرده است . درختان چنار غرس شده است و حوض هایی متناسب در آن ساخته شده است .</p> <p>- این ایرانی پرشور وقتی نیرنگ استعمار را در کشورش دریافت ، نامه ای به مرجع تقلید شیعیان ، میرزای شیرازی نوشت تا تنباکو را تحریم کند .</p>	

نمره کتبی :

جمع نمره : به عدد..... به حروف..... نام و نام خانوادگی مصحح:

امضاء

باسمه تعالی

سوال درس : املاي فارسي

سروپستی مدارس جمهوری اسلامی ایران در امارات عربی متحده

مجتمع آموزشی شارجه

راهنمایی دخترانه

جای مهر

پایه : دوم

دوره : راهنمایی

رشته : —

سال تحصیلی : ۸۹ - ۸۸

تاریخ امتحان : ۸۹/۳/۴

ساعت امتحان : ۹۳۰

مدت امتحان : ۵۰ دقیقه

شماره صفحه : ۷۲

۲	در عبارات زیر غلط های املايي را مشخص كنيد و صحيح آن ها را بنويسيد .	۱
۱	روزگار چون باد و ابر ناپایدار و گزرا است . در وقت خویش صرفه جویی کن . کسی که اوقات خود را به کارهای ناشایسته می گذراند، زنده گانی خویش را تلف کرده است . در کارها عجل نباشید و بدون تفکر و تعمل به کاری اقدام نکنید .	۲
۰/۱۵	برای هریک از واژه های زیر یک هم خانواده بنویسید . الف (محضر : ب) صانع :	۳
۰/۱۵	واژه ی به معنی " پوشیده شده " است . الف (مسطور ب (مستور ج (مستور د (مصطور	۴
۰/۱۵	املاي کدام کلمه با توجه به معنی آن درست نیست . الف (اهتزاز : تکان خوردن ب (تعب : سختی ج (صده : قرن د) محاربه : با یکدیگر جنگیدن	۵
۲	شکل صحیح واژه را انتخاب کنید . الف (بهلول گفت : تو سخن گفتن را هم نمی دانی ، پس (برخاست / برخواست) و برفت . ب (دریای زندگی همیشه در (جذر / جزر) ومد است . ج (مردم (غلیان ها / قلیان ها) را شکستند . د (کرخه پس از عبور از استان های غربی خود را به (هورالعظیم / حورالعظیم) می رساند .	۶
۰/۱۵	در کدام گزینه غلط املايي می یابید ؟ الف (رجهان و برتری ب (غنیمت و بهره بردن ج (عصاره و چکیده د (بصیرت و روشن بینی	۷
۰/۱۵	کدام گزینه به معنی " خوب و نیکو " است ؟ الف (نقض ب) نقز ج) نفز د) نفذ	۸
۱	هریک از دو واژه ی " مأمور " و " معمور " را در دو جمله ی جداگانه به کار ببرید .	۹
۰/۱۵	کدام مورد نمی تواند هم خانواده ی واژه ی " مرحمت " باشد : رحیم ترخم مرهم	۱۰
۱	کدام یک از ترکیب های زیر تشدید نیاز دارد ؟ (در صورت نیاز علامت تشدید را روی حرف مشدد بگذارید .) فرصت های مهم - سدی شگفت انگیز - ادبیات پایداری - مسئول جهل مردم - حرکت ثانیه شمار	
۰/۱۵	مترادف هریک از واژه های زیر را بنویسید : غلم : الم :	

نمره کتبی :

جمع نمره : به عدد..... به حروف..... نام ونام خانوادگی مصحح:

امضاء

سوالات

یکی از حکما را شنیدیم که می‌گفت در هرگز کسی به جهل خویش اقرار نکرده است
مگر آن کسی که چون دیگری در سخن با او کلامی هم چنان تمام ناکفته و سخن آغاز

کنده

ایرانیان و با ادب‌ترین افراد متوق زمین و خوش خلق‌ترین مردم جهان اند
هنرم فیرودیا فوج از حجل به هم تعارف هستند. رسم بر این است که در هری
میهمان و سرگداری‌ها با آداب تمام به دیدار بزرگان می‌روند.

آن مرد از شادی چنانست درخسید و با لهجی خاص گفت: فوق العاده
است پدر بزرگ قائم مقام گفت: شوهری یا شوخانی منرا ابوالقاسم

وقت آن شخص می‌برد که او در ریاضه فلسفه و حکمت و علوم قرآنی نیز
استعداد بی نظیری دارد گفت قدر این نوجوان را بدانید

تا فقط امروز را دارید اگر مسرور باشید از برکات آن استفاده کنید
و اگر غمگین هستید با صبر و تحمل و توکل به خدا و امید به فردایی

روشن بارغم راجه (دشمن بگشاید اهمیت زندگی شما به روزها و شبها نیست
بلکه برپا به اعمال و افعال ماست که کسی که اوقات خود را به کارها نماند

می‌گذراند چنان است که زندگی خویش را تلف کرده باشد

نام و نام خانوادگی :

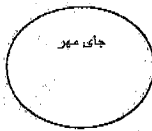
باسمه تعالی

تاریخ : ۸۹/۳/۵

نام پدر :

اداره کل مدارس خارج از کشور

نام دبیر: نکویی



نام درس : املا

سرپرستی مدارس جمهوری اسلامی ایران در امارات عربی متحده

تعداد صفحه: ۲

مجمع آموزشی شارجه (دوره راهنمایی) خرداد ماه (۸۹)

شعبه ی کلاس : دوم راهنمایی

مدت پاسخگویی : ۳۰ دقیقه

رقعه

نمره به عدد :

نمره به حروف :

نام و نام خانوادگی مصحح و امضاء :

بزرگ

ب- پرسش ها (۱۰ نمره)

برای هر یک از واژه های زیر ، یک هم خانواده بنویسید. (۱)

عمل : نشست

۱

از میان کلمات داده شده ، واژه های صحیح را برای جاهای خالی انتخاب کنید. (۲)

الف- واژه ی به معنای خورشید و به معنای خوبان بهشتی است . (حور ، هور)

ب- از کار که انجام داد ، خداوند برایش آخرت قرا داد . (صواب ، ثواب) ، (ثواب ، صواب)

۲

املاي کدام واژه با توجه معنی ، نادرست است ؟ (۰/۵)

الف- غنی : بی نیاز ب- فراغ : دوری ج- مستور : پوشیده د- نغز : خوب

۳

در متن زیر ، غلط های املايي را بياييد و صحیح آن ها را زیر آن بنویسید. (۲)

« ایرانیان چکیده و عساره ی اندیشه های بلند خود را در جملات زیبایی که « کلمات قسار » نامیده می شود ،

می گنجانند . به این جمله های نغض و دل آویز امثال و حکم هم می گویند .

قالب خانه های ایران یک طبقه است . پوشش سقف همه ی بناها به شکل گنبد است .

۴

با توجه به معنای داده شده ، املاي کدام گزینه نادرست است ؟ (۰/۵)

الف- عصاره : چکیده ب- غنی : بی نیاز ج- تایر : پرنده د- ذکاوت : تیزهوشی

۵

کلمات غلط را پیدا کنید و صحیح هر یک را زیر آن بنویسید. (۱/۵)

خانواده کوچک ترین بخش اجتماع است و برای خود ، حنجار و حریم و قانون و آدابی دارد . رایانه ، اینترنت ، تلفن

همراه و دیگر تولیدات علمی از مزاهر آفر ینش گری بنده ی ضعیف خداوند است .

۶

واژه ی (علم) با کدام هم خانواده نیست ؟ (۰/۵)

الف- معلوم ب- معمول ج- عالم د- علیم

۷

نام و نام خانوادگی :

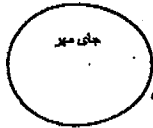
باسمه تعالی

تاریخ : ۸۹/ ۳ / ۵

نام پدر :

نام دبیر: نکویی

اداره کل مدارس خارج از کشور



نام درس : املاء فارسی

سرپرستی مدارس جمهوری اسلامی ایران در امارات عربی متحده

تعداد صفحه: ۱

مجتمع آموزشی شارجه (دوره راهنمایی) خرداد ماه (۸۹)

شعبه ی کلاس : دوم راهنمایی

مدت پاسخگویی :

نمره به عدد :

نمره به حروف :

نام و نام خانوادگی مصحح و امضاء :

الف- متن املائی تقریری (۲۰ نمره)

من دگر بار می گویم بی تردید ایرانیان مهروزترین و خون گرم ترین و با صفاترین ملت های سراسر گیتی هستند . حرکات و رفتارشان همه زیبا و شایسته و پسندیده است . سخن ، پرداخته و سخته و سنجیده می گویند . ناشدنی است سخنی بر زبان آورند که موجب رنجش و ملال کسی شود .

انگار نقاش چیره دست طبیعت به ترکیب رنگ ها ، نور پاشیده است . بهار که می آید ، هر شاخه گویی دست خواهشی است که در طلب باران از زمین به آسمان بر آمده است ، آسمان هم البته سخاوتمند می شود . در سخن گفتن نیر باید اول ، دل پاک باشد و نیت درست باشد و آن گفتن برای رضای خدا باشد و گرنه سنگوت و خاموشی بهتر و نیکو تر باشد و در آداب خواب ، اصل این است که در دل تو بغض و کینه و حسد مسلمانان نباشد و در ذکر حق باشی تا به خواب رؤی .

شما فقط امروز را دارید ، اگر مسرور هستید ، از برکات آن استفاده کنید و اگر غمگین هستید ، با صبر و تحمل و توکل به خدا و امید به فردایی روشن بار غم را به دوش بکشید . اهمیت زندگی به شمار روزها و شب ها نیست ، بلکه مربوط به اعمال و افعال ماست .

محمد تقی توانست با تلاش و پشتکار فراوان به مقام صدر اعظمی برسد و لقب امیر کبیر بیابد و منشأ خدمات فراوانی برای کشور عزیزش ایران باشد .

با آرزوی توفیق روز افزون

والسلام

به نام خدا
سرپرستی مدارس جمهوری اسلامی ایران در امارات عربی متحده
مجتمع آموزشی نمونه توحید دختران

نام و نام خانوادگی :	پایه تحصیلی: دوم راهنمایی	مدت امتحان: ۵۰ دقیقه * تاریخ امتحان: ۳/۱۴/۸۹
نام کلاس :	نام درس : عربی	نام دبیر: واثق
نمره به عدد :	نمره به حروف :	امضا دبیر:
برف	۱) فقط کلمات مشخص شده را ترجمه کنید.	
۱۵	الف) حَمَلٌ حِجَارَةٌ مِنْ سَجِيلٍ ب) بَهَارٌ آمَدُ	
۱۵	۲) ترجمه ناقص را کامل کنید. السيدات وَجَدْنَ الرِّسَالَةَ المفقودة. نامه دریافتند.	
۳	۳) جمله های زیر را به فارسی روان ترجمه کنید. الف) نَتَرَكْ يُوْسُفَ عَلَى طَرِيقِ القَوَافِلِ. نَحْنُ موافقون. ب) رَجَعَتِ الامُّ وَنَظَرَتْ اِلَى بَيْتِ المَحْرُوقِ. ج) اللهُ يَرْزُقُ عِبَادَهُ كَيْفَمَا يَشَاءُ.	
۱۵	۴) جمله زیر را به عربی ترجمه کنید. صبحانه خوردم.	
۱۵	۵) کدام کلمه با بقیه ناهماهنگ است. الف) الفارة □ المنضدة □ الثعلب □ الحمار □ ب) طبق □ وعاء □ أرض □ كأس □	
۲	۶) در جای خالی فعل ماضی مناسب بنویسید. الف) أَنْتِ من المدرسة (خ ر ج) ب) الطالبان على الكرسي. (ج ل س) ج) هُنَّ الكتب. (ح م ل) د) نَحْنُ فى الصلاة. (س ج د)	
۲	۷) در جای خالی فعل مضارع مناسب بنویسید. الف) انتم من المدرسة. (يُرْجِعُ) ب) هي التمرينات. (يَكْتُبُ) ج) انا الاسلام. (يَنْصُرُ) د) ايها التلميذ الماء. (يَشْرَبُ)	

۸) از میان کلمات داده شده کلمه مناسب را در جای خالی بنویسید.

الف) هم درس. (يَقْرَأُ - يَقْرَأُونَ - تَقْرَأُونَ)

ب) انما قی الحدیقه. (تَلْعَبَانِ - يَلْعَبَانِ - يَلْعَبْنَ)

ج) انا من مكاتى. (يَنْهَضُ - نَهَضْتُ نَهَضْنَا)

د) هي واجبها. (كَتَبْتُ - كَتَبْتِ - كَتَبْتَ)

۹) در جای خالی ضمیر مناسب بنویسید.

الف) يجلسان تحت الشجرة.

ب) نُعَبِّدُ.

ج) جَعَلْتَنَ المحفظة.

د) نَجَحْتَ فى الامتحان.

۱۰) غلط های مشخص شده را اصلاح کنید.

الف) ذلک تلمیذة مجتهدة. ب) الطفلتان يحفظان القرآن.

۱۱) به پرسش زیر به عربی پاسخ دهید.

هل تذهبين الى المدرسة؟ (نعم)

۱۲) پس از خواندن متن زیر به سوالات آن پاسخ دهید.

سعید فی الصف الاول بیت سعید جنب حدیقه جمیلة هو یذهب الى المدرسة بالسیارة. والد سعید زارع مجتهد. مزرعة والده خلف الحدیقة. الیوم کان سعید مریضا وکان غائبا فی الصف.

الف) أين منزل سعید؟

ب) ما هو شغل والده؟

ج) هل مزرعة والد سعید جنب المدرسة؟

د) لماذا كان سعید غائبا فی المدرسة الیوم؟

۱۳) ☀ الدراسة القرآنية:

الف) هم خانواده کلمات داده شده را در آیات زیر مشخص کنید.

"قلیل" "کم من فئة قليلة غلبت فئة كثيرة."

"ذهب" "إني ذاهب الى ربي."

ب) با توجه به ترجمه آیات در جای خالی کلمه مناسب بنویسید.

سراج / رایتیم / کذبتیم / جاء

۱- " الحق وذوق الباطل." (حق آمد و باطل نابود شد.)

۲- "أ ما نزل الله لكم؟ (آیا دیدید که خدا چه برای شما نازل کرد؟)

مجتمع آموزشی خدیجه کبری (س)

سال تحصیلی ۸۹ - ۸۸

نام درس : عربی

مقطع تحصیلی : راهنمایی



نوبت امتحان : خردادماه

مدت امتحان : ۴۰ دقیقه

نام و نام خانوادگی :

پایه تحصیلی : دوم

بارم	سوال	ردیف
۳	ترجمی عبارات التالیه (عبارت های زیر را ترجمه کنید). الف) عَلِمَ یوسف نِیَّةَ إِخْوَتِهِ فَبَدَأَ بِالْبِکَاءِ. ب) و بهذه الحيلة رَجَعَ المولودُ الی حِضْنِ أُمِّهِ. ج) و یرزقُ عباده کَیْفَمَا یشاءُ.	۱
۰/۵	أجب . (جواب دهید) الأخضَرُ (بالفارسیه) ماهی (بالعربیہ)	۲
۲	جاهای خالی را با کلمات داده شده پر کنید. (نذیر - رسول - قلیل - خرجوا) الف) جاءکم مصدق پیامبری تصدیق کننده برای شما آمد. ب) متاع الدنيا بهره ی دنیا اندک است. ج) فقد جاءکم بشیرٌ و برای شما بشارت دهنده و انذار کننده ای آمد. و) من دیارهم/از خانه های خویش خارج شدند.	۳
۱	در عبارت های زیر اسم ها و ضمائر مذکر را به مونث و مونث را به مذکر تبدیل کنید. الف) هی قرأتُ هذا الكتاب. ب) انت تذهبین بهدوء.	۴
۱	با توجه به تصویر جمله درست را علامت بزنید. الف) جاء الرجل الی البيت. <input type="checkbox"/> ب) خَرَجَ الرجلُ من البيت. <input type="checkbox"/> ج) قرأ الطالب الكتاب. <input type="checkbox"/> الف) هن یقرآن الكتاب. <input type="checkbox"/> ب) هم یجلسون فی الصف. <input type="checkbox"/> ج) هما یجلسون فی المدرسه. <input type="checkbox"/>	۵



مجمع آموزشی خدیجه کبری (س)

سال تحصیلی ۸۹ - ۸۸

نام درس : عربی

مقطع تحصیلی : راهنمایی

نام و نام خانوادگی :

پایه تحصیلی : دوم

نوبت امتحان : خردادماه

مدت امتحان : ۷۰ دقیقه

جدول زیر را کامل نمایید. (فعل های ماضی)

۱/۲۵

					۱
					۲
					۳
					۴
					۵

(۱) دزدید (مونث)

(۲) نگاه کرد (مذکر)

(۳) رسیدند (مثنی مذکر)

(۴) نشستند (جمع مونث)

(۵) خارج شدند (جمع مذکر)

۶

۱/۲۵

						۱
						۲
						۳
						۴
						۵

جدول زیر را کامل کنید. (همراه با)

فعل های مضارع)

(۱) می نویسند (جمع مذکر)

(۲) می روی (مونث)

(۳) خارج می شوید (جمع مونث)

(۴) می روم

(۵) می خوریم

۷

۱

در عبارت های زیر فعل های ماضی را به مضارع و مضارع را به ماضی تبدیل کنید.

الف) الله یخلق کل شیء.

ب) طلبت الام من بنتها.

۸

۱

با توجه به ضمائر داده شده عبارت های زیر را بازنویسی کنید.

الف) اَنتُم تحکمون بین الناس بالعدل (اَنت)

ب) هل اَنتُن رأیتُن رساله الرئیس. (هِی)

۹

۱

با توجه به کلمه های داخل کمانک ، جاهای خالی را پر کنید.

و لکنک وحیده أ (نیست) کذلک؟ بلی و (من) أشعر بالخوف و لا (ترک می کنم)

مکانی بسبب الخوف من العدو و (می نوشم)

۱۰

۲

از میان کلمات زیر هم خانواده ها را پیدا کرده و کنار هم بنویسید.

اصلاح - حَمَل - جمیعاً - حَمَلْنَا - المصلحین - جمع - صالحاً حَمَالَةً.

۱۱

نام و نام خانوادگی:	باسمه تعالی	تاریخ: ۱۳۸۹/۳/۲۰
نام پدر:	اداره کل مدارس خارج از کشور	نام دبیر: فرجام
نام درس: عربی	سرپرستی مدارس جمهوری اسلامی ایران در امارات عربی متحده	تعداد صفحه: ۲
پایه: دوم راهنمایی	مجمع آموزشی شارجه (دوره راهنمایی) خرداد ماه (۸۹)	مدت پاسخ گویی: ۷۵ دقیقه

نمره به عدد:	نمره به حروف:	نام و نام خانوادگی مصحح و امضا:
۱	صحيح يا غلط بودن عبارت ها را با (×) مشخص کنید. الف- «أنتن» ضمير «جمع مؤنث غائب» است. ب- علامت جمع مذکر در فعل مضارع «ون» می باشد.	<input type="checkbox"/> ص <input type="checkbox"/> غ <input type="checkbox"/> ص <input type="checkbox"/> غ
۲	این کلمات را ترجمه کنید. الهدوء () دشمن ()	
۳	ترجمه ی ناقص را کامل کنید. قَذَفَ الْحِجَارَةَ عَلَى رَأْسِهِ سنگ را روی	
۴	جملات زیر را به فارسی ترجمه کنید. الف- البَنَاتُ يَلْعَبْنَ فِي الْحَدِيقَةِ. ب- رَجَعَتِ الْأُمُّ وَ حَزِنَتْ. ج- أَنْتُمْ تَجْعَلَانِ الطِّفْلَ فِي السَّلَةِ. د- يَا أَبَانَا نَحْنُ أَشْدَاءُ نَحْفَظُ يُوْسُفَ.	
۵	جمله را به عربی ترجمه کنید صبحانه خوردیم	
۶	هم خانواده ی کلمه ی « إصلاح » را در آیات زیر مشخص کنید. الف- مَنْ عَمِلَ صَالِحًا فَلِنَفْسِهِ. ب- لَا نُضِيعُ أَجْرَ الْمُصْلِحِينَ	
۷	با توجه به ترجمه ی آیات، نقطه چین ها را با کلمه ی جا افتاده پر کنید. الف- أَيْانَ يَوْمِ الْقِيَامَةِ «می پرسد روز قیامت چه موقع است؟» ب- مُغَاضِبًا. «خشمگینانه رفت.»	
۸	صیغه این افعال را بنویسید: قَصَدُوا () تَنْظُرِينَ ()	
۹	غلط های مشخص شده را تصحیح کنید. الف- هِيَ خَرَجَتْ مِنَ الْبَيْتِ. ب- أَنْتُمْ تَحْرُسَانِ الْوَطْنَ الْإِسْلَامِيَّ.	
۱۰	در جای خالی ضمیر مناسب بنویسید. الف- وَصَلْتُ إِلَى بَيْتِي. ب- يَغْسِلُونَ الْيَدِي. ج- تَشْرَبِينَ الْمَاءَ.	

۱	<p>جاهای خالی را با استفاده از کلمات داده شده پر کنید.</p> <p>۱- نَحْنُ بِفَرَحِ الْمُسْلِمِينَ (فَرِحْتُ - نَفَرِحُ - نَفْرَحِينَ)</p> <p>۲- تَطْلُبُ حَاجَتَهَا مِنْ اللَّهِ. (أَنْتَ - الطَّالِبُ - هِيَ)</p> <p>۳- التَّمْلِيزَاتُ فِي هَذِهِ الْمَسَابِقَةِ. (نَجَحْتُمْ - نَجَحْنَا - نَجَحْتُنَّ)</p> <p>۴- تَشْكُرَانِ رَبَّهُمَا. (هَذَا - هَاتَانِ - هَؤُلَاءِ)</p>	۱۱
۰/۷۵	<p>افعال ماضی را به مضارع تبدیل کنید.</p> <p>الف- سَمِعْتُ كَلَامَ الْحَقِّ. (—)</p> <p>ب- أَنْتَنْ تَخْلُقَنَّ الْمَسْجِدَ. (—)</p> <p>ج- الرَّجُلَانِ جَلَسَا عَلَى الْكُرْسِيِّ. (—)</p>	۱۲
۱	<p>جاهای خالی را با فعل ماضی مناسب پر کنید.</p> <p>الف- أَيْهَا الطِّفْلِ مِنْ مَكَانِكَ. (نَهَضَ)</p> <p>ب- هُنَّ الدَّرْسِ. (قَرَأَ)</p> <p>ج- الْمُعَلِّمُونَ إِلَى الْمَدْرَسَةِ. (ذَهَبَ)</p> <p>د- أَنْتَمَا رَبِّكَمَا. (شَكَرَ)</p>	۱۳
۰/۵	<p>با استفاده از «نعم» پاسخ دهید:</p> <p>هل أَنْتَ قَصَدْتَ عِبَادَةَ اللَّهِ.</p> <p>نعم، عِبَادَةَ اللَّهِ.</p>	۱۴
۱	<p>جملات زیر را با فعل مضارع مناسب کامل کنید.</p> <p>الف- أَنَا الْوَاجِبَ. (كَتَبَ)</p> <p>ب- أَنْتُمْ الْخَيْرَ. (عَمِلَ)</p> <p>ج- أَيْتَهَا الطَّالِبَتَانِ اللَّهُ. (ذَكَرَ)</p> <p>د- الظَّالِمُ فِي يَوْمِ الْقِيَامَةِ. (خَسِرَ)</p>	۱۵
۰/۵	<p>جمله را با کلمه ی داده شده باز نویسی کنید.</p> <p>هذا الْمُؤْمِنُ يَخْشَعُ أَمَامَ قُدْرَةِ اللَّهِ. (هَذَا)</p>	۱۶
۰/۵	<p>مذکر را به مؤنث تبدیل کنید.</p> <p>الْمُسْلِمُ يَنْصُرُ الْمَظْلُومَ.</p>	۱۷
۰/۵	<p>پاسخ پرسش زیر را با استفاده از ضمیر و فعل مضارع مناسب پر کنید.</p> <p>إِلَى مَنْ يَنْظُرْنَ؟ - إِلَى السَّمَاءِ.</p>	۱۸
۱	<p>متن را به دقت بخوانید و پاسخ پرسش ها را مشخص کنید.</p> <p>كَانَ الْجَوُّ بَارِدًا. أَخَذَتِ الطَّالِبَةُ كُتُبَهَا وَذَهَبَتْ إِلَى الْمَدْرَسَةِ. كَانَ طِفْلٌ صَغِيرٌ فِي الشَّارِعِ. فَتَحَّتِ الطَّالِبَةُ مَحْفَظَتَهَا، كَانَ فِيهَا طَعَامٌ، جَعَلَتِ الطَّعَامَ فِي يَدِ الطِّفْلِ. فَرِحَ الطِّفْلُ وَشَكَرَهَا.</p> <p>الف- ماذا كان في المحفظة؟ <input type="checkbox"/> الطعام <input type="checkbox"/> اليد</p> <p>ب- أين كان الطفل؟ <input type="checkbox"/> في المدرسة <input type="checkbox"/> في الشارع</p>	۱۹

نام و نام خانوادگی:

سرپرستی مدارس جمهوری اسلامی ایران - امارات

تاریخ: ۱۳۸۹/۳/۱۶

مجتمع آموزشی امام خمینی (ره) ابوظبی

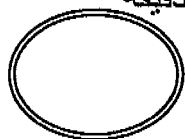
امتحان درسی: عربی

پایه ورشته تحصیلی: دوم راهنمایی

وقت: ۷۰ دقیقه

نام دبیر: علی ایزدی

شماره صندلی:



بارم	سوالات	ردیف
۱	<p>گزینه ی درست را با علامت x مشخص کنید .</p> <p>۱- کدام گزینه اسم مثنی مذکر است ؟</p> <p>الف) رَجُلَان <input type="checkbox"/> ب) رَجَال <input type="checkbox"/> ج) طَالِبَات <input type="checkbox"/> د) طَالِب <input type="checkbox"/></p> <p>۲- جمع مذکر کلمه « امر » کدام گزینه است ؟</p> <p>الف) أَمْرَا <input type="checkbox"/> ب) أَمِير <input type="checkbox"/> ج) أُمُور <input type="checkbox"/> د) مَأْمُور <input type="checkbox"/></p> <p>۳- ترجمه کلمه ی « مُهْمَةٌ » به فارسی کدام گزینه است ؟</p> <p>الف) پایگاه <input type="checkbox"/> ب) مأموریت <input type="checkbox"/> ج) نیرو <input type="checkbox"/> د) سنگر <input type="checkbox"/></p> <p>۴- واژه ی «آسانی» به عربی کدام گزینه است ؟</p> <p>الف) الْيُسْر <input type="checkbox"/> ب) السَّر <input type="checkbox"/> ج) الصَّيْف <input type="checkbox"/> د) الْوَعْد <input type="checkbox"/></p>	۱
۰/۵	<p>جای خالی هر جمله را با ضمیر مناسب پر کنید .</p> <p>الف) شَرِبْتَ الْمَاءَ .</p> <p>ب) يَخْرُجْنَ مِنَ الْبَيْتِ .</p>	۲
۱	<p>جمله ی فارسی زیر را به عربی ترجمه نمایید .</p> <p>« قرآن خواندم و صبحانه خوردم »</p>	۳

۰/۵	<p>در جملات زیر کلمه ی نادرست مشخص شده ، درست آن را بنویسید .</p> <p>الف) هُوَ تَبَسُّطُ الرِّزْقِ .</p> <p>ب) التَّلَامِيذُ جَلَسَا عَلَى الارض</p>	۴
۰/۵	<p>جاهای خالی را با استفاده از کلمات داده شده پر کنید .</p> <p>الف) اللهُ..... كَلَّ شَيْءٍ (يَخْلُقُ ، تَخْلُقُ)</p> <p>ب) الطَّالِبَانِ عَلَى الارض . (جَلَسَا ، جَلَسَتْ)</p>	۵
۰/۷۵	<p>جاهای خالی را با فعل <u>ماضی</u> مناسب کامل کنید .</p> <p>الف) المعلمتان إِلَى الْمَدْرَسَةِ . (وَصَلَا)</p> <p>ب) هَلْ أَنْتِ سَوَالًا ؟ (سَأَلَا)</p> <p>ج) أَنْتُمْ مِنَ الْمَزْرَعَةِ . (رَجَعَا)</p>	۶
۰/۷۵	<p>جاهای خالی را با فعل <u>مضارع</u> مناسب کامل کنید .</p> <p>الف) هُمْ النَّصِيحَةَ . (سَمِعَ -)</p> <p>ب) الطَّالِبَةُ الْقُرْآنَ . (حَفِظَتْ -)</p> <p>ج) أَيُّهَا الْمُؤْمِنَانِ ، هَلْ أَنْتُمَا رَبَّكُمَا ؟ (شَكَرْتُمَا)</p>	۷
۱	<p>پاسخ پرسش را با استفاده از ضمیر و فعل مناسب بنویسید .</p> <p>هَلْ أَنْتُمَا فَرِحْتُمَا بِنِعْمَةِ اللَّهِ ؟ نَعَمْ بِنِعْمَةِ اللَّهِ .</p>	۸
۱	<p>در جملات زیر فعل ماضی را به مضارع تبدیل کنید .</p> <p>الف) أَنْتِ نَظَرْتِ إِلَى الصُّورَةِ . (نَظَرَ -)</p> <p>ب) أَنَا ذَهَبْتُ إِلَى الْبَيْتِ . (ذَهَبَ -)</p>	۹
۱	<p>جای خالی را با کلمه ی مناسب کامل کنید .</p> <p>الف) علامت فعل مضارع در متکلم وحده و در متکلم مع الغير است .</p> <p>ب) در عربی معمولاً اسم ها دارای علامت یا هستند .</p>	۱۰

۱	<p>جای خالی را با معادل عربی کلمه ی داده شده کامل کنید .</p> <p>الف) (ما) نَذَهَبُ إِلَى الْغَايَةِ و (میخوریم) الطَّعَامَ .</p> <p>ب) أَنثَمَا (نوشتید) الدَّرْسَ (در) الْبَيْتِ .</p>	۱۱
۴	<p>جملات عربی را به فارسی روان ترجمه کنید .</p> <p>الف) ظَهَرَ الْمَكْرُ وَأَفْتَضَحَ الْمَكَارُ .</p> <p>ب) فَجَاءَ ، هَذِهِ هِيَ الرَّسَالَةُ .</p> <p>ج) إِنَّ رَبِّي رَحِيمٌ .</p> <p>د) يَزْرَعُ الْإِنْسَانُ أَعْمَالَهُ</p>	۱۲
۱	<p>الدَّرَاسَاتُ الْقُرْآنِيَّةُ</p> <p>الف) هم خانواده ی کلمه ی «اصلاح» را در جملات زیر مشخص کنید .</p> <p>- اَعْمَلُوا صَالِحًا (مومنون ۱۵) - لَا تُضِيعُوا أَجْرَ الْمُصْلِحِينَ (اعراف ۱۷۰)</p> <p>ب) از میان کلمات داده شده ، کلمه ای را که متناسب با معنی آیات است در جای خالی قرار دهید .</p> <p>(غَافِلٍ ، رَجَعٌ ، خَرَجُوا ، اللَّيْلِ)</p> <p>- مِنْ دِيَارِهِمْ (بقره ۲۴۳) (از خانه های خویش خارج شدند .)</p> <p>- مَا لِلَّهِ بِ..... عَمَّا تَعْمَلُونَ (بقره ۷۴) (خدا از آنچه می کنید غافل نیست .)</p>	۱۳
۱	<p>با توجه به متن پاسخ پرسش ها را مشخص کنید .</p> <p>خَرَجَتْ الْأُمُّ مِنَ الْبَيْتِ وَ طَلَبَتْ مِنْ سَلْمَانَ وَ سُمِّيَةَ قِرَاءَةَ دَرَسَهُمَا .</p> <p>قَرَأَ سَلْمَانُ دَرَسَهُ حَوْلَ إِحْتِرَاقِ الْكُحُولِ وَ الْمِلْحِ ، فَقَصَدَ اخْتِبَارَ الدَّرْسِ .</p> <p>الف) مَنْ خَرَجَتْ مِنَ الْبَيْتِ ؟ الْأُمُّ □ سُمِّيَةَ □</p> <p>ب) مَنْ قَصَدَ اخْتِبَارَ الدَّرْسِ ؟ سَلْمَانَ □ سُمِّيَةَ □</p> <p>ج) هَلْ خَرَجَتْ سُمِّيَةُ مِنَ الْبَيْتِ ؟ نَعَمْ □ لَا □</p> <p>د) هَلْ قَرَأَ سَلْمَانُ دَرَسَهُ؟ نَعَمْ □ لَا □</p>	۱۴

سرپرستی مدارس جمهوری اسلامی ایران در امارات عربی متحده

مجتمع آموزشی پسرانه نمونه توحید دبی

مقطع راهنمایی نمونه توحید دبی

مهر مقطع

امتحان درس : عربی	کلاس دوم	تاریخ امتحان : ۸۹/۳/۱۴
نام و نام خانوادگی :		سال تحصیلی ۸۸/۸۹
نام دبیر :	شماره صندلی :	وقت امتحان : ۶۰ دقیقه

((موفقیت شما آرزوی ماست))

۱} ترجمه کنید : {۳}

الف : جاء الربيعُ مرّةً أخرى و لكن بقيت الحديقة بارده و خزينه :

ب : عَلِمَ الفرعون أَن حكومته في خطر:

ج: نحن اولادُ النبي لانقتل بل نترك يوسف على طريق القوافل.

۲} در جای خالی ضمیر مناسب بگذارید : {۱}

الف : يَشربون / تَشربن / كتبت / كتبت .

۳} در عبارت زیر صیغه مذکر را به مونث و مونث را به مذکر تبدیل نموده تغییرات لازم را انجام دهید : {۱}

الف : انتِ تعلمين كل شيء:

ب: هم ذهبوا الى المدرسة :

۴} پاسخ پرسش را با استفاده از ضمیر و فعل مناسب کامل کنید : {۰/۵}

من اين يخرجن ؟ من المدرسة .

۵} با استفاده از کلمات داده شده جای خالی را پر کنید : {۰/۵}

الف : التلميذان المدرس. {مضارع كُتِبَ}. / / / / ب : المومنات الجنة . {ماضي دَخَلَ}.

۶} فعل زیر را به صورت مضارع بنویسید : {۰/۵}

الف : هم ذهبوا الى المدرسة :

ب : انتِ شكرتِ ربك :

۷} به عربی ترجمه کنید : {۲}

قران می خوانم و صبحانه می خورم :

قبول کردیم / شنیدی / می نشینم / ترک می کنم

باسمه تعالی

سال تحصیلی: ۸۸-۸۹
تاریخ امتحان:
شماره صفحه:



راهنمای تصحیح درس: مکرری
پایه: دوم
دوره: راهنمایی
رشته:

نمون برگ شماره ۲

۱- لطفاً پاسخ سوالات بطور کامل قید گردد (با ذکر ریز بارم) ۲- از دادن آدرس بعنوان مثال (مراجعه به متن ص ۲۰ یا... خودداری شود)

بارم	راهنمای تصحیح	دیف
	<p>۱. بردیگر بمل آمو اما باغ هم خندان سر درو خندان باقی ماند ب: فرعون همیشه که همانا حکومتش در خطر است ۲: ملوما عزیزان میسبر کس را نمی کشیم بلکه یوسف را در سر راه کاروانهای خود داریم.</p>	۱
	الف: هم انشؤن فن انت	۲
	انت تعلیم ب: هؤن ذمبن	۳
	من یفرجن	۴
	الف: مکررید یکتبان ب: دضق	۵
	الف: مدهبون ب: تشربن	۶
	أمر القرآن و اكل العطور فعلنا - سمعت - اجلس - أترك .	۷
	مغن تقبل ب: نعم اکب	۸
	- شنیدیم ب: سمعت	۹
	الف: شهنا ب: شربت ج: تذهبون د: تشربن	۱۰
	تذمبن ب: جعلوا	۱۱
	انتا کسبت	۱۲
	نظر - یقبل	۱۳
	شربت . ب: دخلنا	۱۴
	حفظت . سالت	۱۵
	نعم نوات / اخوه / ایدی / بنات	۱۶
	منرها / میوه / کاستا / چراغ	۱۷

باسمه تعالی

تاریخ: ۸۹ / ۳ / ۲۴

نام دبیر: حیدری

تعدادصفحه: ۲

مدت پاسخ گویی: ۶۰ دقیقه

اداره کل مدارس خارج از کشور

سرپرستی مدارس جمهوری اسلامی ایران در امارات عربی متحده

مجتمع آموزشی شارجه - مقطع راهنمایی

نوبت دوم - سال تحصیلی ۱۳۸۹ - ۱۳۸۸

نام:

نام خانوادگی:

سوالات درس: عربی

کلاس: دوم راهنمایی

نمره:

شماره ی برگه:

شماره ی برگه	سوالات
۱	عبارت های زیر را به فارسی ترجمه کنید ۱- نأخذُ قسماً من الاموال و ندقنُ الباقي. ۲- نحنُ هربنا في ظلمة الليل. ۳- مَحَّةٌ والده هديةً سمكةً حمراء. ۴- لبست الحديقةً اللباسَ الاخضر. ۵- وقع نظره على طبق من الفواكه. ۶- انتما تجعلان الطفل في السلة. ۷- انا قلقٌ في الصحراء ذنابٌ. ۸- اليوم ضيافةٌ في بيت الاسد.
۲	عبارت های زیر را به عربی ترجمه کنید. حی به مسجد می روی؟ (مذکر)
۳	کلمات زیر را ترجمه کنید. الخريف..... ناگهان.....
۴	هم خانواده ی کلمات داده شده را در آیه های مقابل پیدا کنید. لباس ۱- یلبسون ثياباً اخضر. طيبة ۲- كلوا من طيبات ما رزقناكم.
۵	با توجه به ضمائر ، عبارت ها را بازنویسی کنید. ۱- انت جلست على الارض (انتم). ۲- انت تسألين عن الحق (انتن)
۶	فعل ماضی عبارت زیر را به مضارع تبدیل کنید؟ رَزَقَ اللهُ المخلوقات. (.....)
۷	جاهای خالی را با فعل ماضی مناسب پر کنید. ۱- الطالبات الدرس. (سمع) ۲- الاطفال محفظتهم. (اخذ) ۳- هل انت الدرس (قرأ). ۴- محمد و سعيد الواجب (كتب)
۸	مفرد کلمه ی (بیوت) و جمع کلمه ی (عید) را بنویسید؟

.۵	<p>غاط موجوددر عبارت زیر تصحیح کنید</p> <p>نحن يجلسون تحت شجرة خضراء.</p>	۹
.۵	<p>در جای خالی ضمیر مناسب بگذارید.</p> <p>۱- شربتاً الماء.</p> <p>۲- يترك عبادة الطاغوت.</p>	۱۰
۱	<p>با استفاده از (نعم) به طور کامل جواب دهید.</p> <p>۱- هل كسبتم الحسنات؟</p> <p>۲- هل تسمعون صوت تلاوة القرآن</p>	۱۱
۲	<p>جای خالی را با استفاده از کلمات داده شده پر کنید.</p> <p>۱- الظالم في يوم القيامة (يخسر- يخسر) ۲- المومنون.....الله(تعبدون- يعبدون)</p> <p>۳- مريم وسعيدة الماء.(تشرب- تشربان) ۴- الله.....كل شيء(يخلق- تخلق)</p>	۱۲
۲	<p>با توجه به متن درس (مومنة آل فرعون) به سوالات پاسخ دهید.</p> <p>۱- هل أمر فرعون بقتل كل مولود؟</p> <p>۲- هل فرح الجميع بالانذار؟</p> <p>۳- من قالت هذا الطفل قرّة عيننا؟</p> <p>الأم زوجة فرعون.</p>	۱۳
.۵	<p>در عبارت زیر فعل مضارع و اسم را مشخص کنید؟</p> <p>انا أنكره دائماً.</p> <p>موفق باشید.</p>	۱۴