

باسمه تعالی

اداره کل مدارس خارج از کشور

سرپرستی مدارس جمهوری اسلامی ایران در امارات عربی متحده

نام خانوادگی: \_\_\_\_\_

نام کلاس: \_\_\_\_\_

سوالات ماده درسی: دین و زندگی

پایه: دوم

تاریخ: ۱۳۸۹/۳/۱

تعداد صفحه: ۳

نام دبیر: شادکانی

مقطع متوسطه

سال تحصیلی: ۱۳۸۸-۱۳۸۹

صفحه: ۱

مدت پاسخ گویی: ۷۰ دقیقه

نمره به عدد: \_\_\_\_\_

نمره به حروف: \_\_\_\_\_

تاریخ و امضا: \_\_\_\_\_

ردیف	سوالات	بارم
۱	<p>آیات ذیل را بخوانید و به سوالات مربوط به آن پاسخ دهید.</p> <p>الف- قُلْ إِنْ كُنْتُمْ تُحِبُّونَ اللَّهَ فَاتَّبِعُونِي.....</p> <p>يُحِبِّبْكُمْ اللَّهُ. تا خدا شما را دوست بدارد</p> <p>وَيَغْفِرْ لَكُمْ ذُنُوبَكُمْ.....</p> <p>۱- ترجمه ی آیه را کامل کنید.</p> <p>۲- در این آیه به کدامیک از آثار محبت به خدا اشاره شده است؟</p> <p>ب- هُوَ الَّذِي أَنْزَلَ مِنَ السَّمَاءِ مَاءً لَكُمْ مِنْهُ شَرَابٌ.</p> <p>۱- ترجمه ی آیه را بنویسید؟</p> <p>۲- ذکر نعمت های الهی در قرآن چه فوایدی دارد؟</p>	۱ ۱۵ ۱ ۱
۲	<p>جملات ذیل را با کلمات مناسب کامل کنید.</p> <p>الف- امام عصر (عج) فرمود: هیچ چیز مانند..... بینی شیطان را به خاک نمی ماند.</p> <p>ب- به اعمالی که آثار و نتایج آن ها محدود به دوران عمر انسان باشد و با مرگ شخص پرونده ی آن ها بسته شوند، اعمال..... می گویند.</p> <p>ج- پوشش مناسب از نشانه های عفاف و..... است.</p> <p>د- در بینش اسلامی منشأ اصلی کسب مال و درآمد..... می باشد.</p>	۲

۱۵	<p>کدامیک از موارد زیر صحیح <u>نمی</u> باشد.</p> <p>الف- روح آدمی دچار هیچ تغییری نمی شود.</p> <p>ب- روح آدمی تغییرات بسیاری می پذیرد.</p> <p>ج- روح آدمی تجزیه و تحلیل نمی پذیرد.</p> <p>د- روح آدمی فرسوده و مستهلک نمی شود.</p>	۳
۱۵	<p>دریاداش و کيفری که محصول طبیعی عمل است؛</p> <p>الف- می توانیم با تغییر قوانین آن هارا تغییر دهیم. ب- باید خود را با آن تطبیق دهیم.</p> <p>ج- تناسب بین جرم و کيفر مهم است. د- بر اساس قرارداد تعیین می شوند.</p>	۴
۱۵	<p>در کدام یک از موارد زیر امر به معروف و نهی از منکر واجب <u>نیست</u>؟</p> <p>الف- بدانیم که چیزی را که شخص ترک کرده از واجبات است.</p> <p>ب- بدانیم که شخص گناه خود را تکرار نمی کند.</p> <p>ج- در امر و نهی مفسده ای وجود نداشته باشد.</p> <p>د- احتمال دهیم که با تکرار یا تغییر روش امر و نهی مؤثر واقع می شود.</p>	۵
۱	<p>صحیح و غلط جملات ذیل را مشخص کنید.</p> <p>الف- کسانی که مرگ را پایان زندگی می دانند، انگیزه ی کار و تلاش بیشتری در زندگی دارند.</p> <p>ب- عمر موجودات و نظام های این دنیای به هم پیوسته، نامحدود و دائمی نیست.</p>	۶
۳	<p>به سؤالات ذیل پاسخ کوتاه بدهید.</p> <p>الف- از نظر حضرت علی (ع) دشمن ترین دشمن انسان کیست؟</p> <p>ب- از نظر امام صادق (ع) ارواح مؤمنان به چه صورتی در بهشت هستند؟</p> <p>ج- از نظر رسول خدا (ص) چه کسی در کار خیر و شر دیگران سهیم است؟</p> <p>د- از نظر قرآن کریم راه درست افزایش ثروت چیست؟</p> <p>ه- از نظر حضرت علی (ع) چرا بر نامه ی مالیات باید به گونه ای تنظیم شود که به صلاح مالیات دهندگان باشد؟</p> <p>و- به طلا و نقره در چه صورت زکات تعلق می گیرد؟</p>	۷
۱	<p>وقتی دوزخیان از خداوند تقاضا می کنند که آن هارا به دنیا باز گرداند، چه پاسخی می شنوند؟</p>	۸

باسمه تعالی

مجتمع آموزشی امام خمینی (ره) پسرانه - ابوظبی

سؤالات امتحان درس: عربی ۲/۱	کلاس: دوم	رشته: کاردانش	دوره تحصیلی: متوسطه
نام و نام خانوادگی:	تاریخ امتحان: ۸۹/۳/۱۶	مدت امتحان: ۷۰ دقیقه	

ردیف	متن سؤالات	نمره
۱	<p><b>لِلتَّرْجِمَةِ:</b> الف) اَللّٰهُمَّ اِهْمِنَا طَاعَتَكَ وَجَنِّبْنَا مَعْصِيَتَكَ. ب) هل يَسْتَوِي اَلَّذِيْنَ يَعْلَمُوْنَ وَ اَلَّذِيْنَ لَا يَعْلَمُوْنَ. ج) اَنَا ذٰلِكَ الْعَبْدُ الَّذِيْ حَمَلْتُ مَعَكَ الْقَرْبَةَ. د) هٰذَا هُوَ النَّطْبِيُّ الَّذِيْ فَتَّشْتُ عَنْهُ طُوْلَ النَّهَارِ. هـ) النَّاسُ لَا يُحْيُوْنَ الرَّاضِيَ عَنِ نَفْسِهِ. و) قَصَّرَ الْاِمَالُ فِي الدُّنْيَا تَفَرُّزًا.</p>	۳
۲	للتَّعْرِيْبِ: من علم را می جویم و تنبلی نمی کنم.	۰/۵
۳	<p><b>اَكْتُبِ الْكَلِمَةَ الْمَطْلُوْبَةَ:</b> الاحمر (بالفارسية): گلدان (بالعربية):</p> <p><b>مَحْزُونٌ (متضاد):</b> سراج (متوآداف):</p>	۱
۴	<p><b>عَيِّنِ التَّرْجِمَةَ الصَّحِيْحَةَ:</b> الف) الْعَاقِلُ مَنْ يَتَعَبَّرُ بِالتَّجَارِبِ. عاقل کسی است که تجربه ها را بیاموزد. <input type="checkbox"/></p> <p>ب) ظَهَرَتْ اَشِعَّةُ الْقَمَرِ الْفِضِّيَّةِ. اشعه ی نقره ای رنگ ماه ظاهر شد. <input type="checkbox"/> اشعه ی ماه نقره ای ظاهر شد. <input type="checkbox"/></p> <p>ج) مَا فَطِنَ النَّطْبِيُّ لِوُجُوْدِنَا. آهو به وجود ما پی نبرد. <input type="checkbox"/> وجود ما آهو را مطلع کرد. <input type="checkbox"/></p>	۱/۵
۵	<p><b>صَحِّحِ الْاَخْطَاءَ فِي التَّرْجِمَةِ:</b> الف) فَحَزَنَ وَ تَرَكَ الدَّرْسَ وَ الْمَدْرَسَةَ. پس ناراحت شد و از مدرسه بیرون رفت.</p> <p>ب) السَّلَامُ عَلٰى عِبَادِ اللّٰهِ الصَّالِحِيْنَ. سلام بر بندگان خدای صالحان.</p>	۱

٢/٥	<p>إِقْرَأِ النَّصَّ وَأَجِبْ عَنِ الْأَسْئَلَةِ:</p> <p>القرآنُ دستورُ حياتنا اليومية و ليس كتاباً يتحدثُ عن العلوم بالتفصيل ولكن فيه بعض الاشارات العلمية التي اكتشف علم البشر بعضها حتى الان .</p> <p>١- اى كتاب دستور حياتنا ؟</p> <p>٢- هل القرآن كتاب يتحدث عن العلوم بالتفصيل ؟</p> <p>٣- ما هو فى القرآن ؟</p> <p>٤- ما هو اعراب « القرآن » و « العلوم » ؟</p>	٦
١	<p>عَيِّنْ نَوْعَ الْمَعَارِفِ: <b>إِنَّ هَذَا الْقُرْآنَ يَهْدِي لِلَّتِي هِيَ أَقْوَمٌ.</b></p>	٧
٠/٢٥	<p>صَحِّحِ الْأَخْطَاءَ مَا أُشِيرَ إِلَيْهَا بِخَطِّ:</p> <p>الف) الْمُجَاهِدِينَ يُدَافِعُونَ عَنِ وَطَنِ الْإِسْلَامِيَّةِ.</p> <p>ب) أَكْرَمَ أَبُوكَ فِي جَمِيعِ الْأَحْوَالِ.</p>	٨
١	<p>عَيِّنِ الْمُوصُوفَ وَالصَّفَةَ وَ مِضَافَ وَمِضَافَ إِلَيْهِ:</p> <p>الف) أَلْقُرْآنُ هُوَ النُّورُ الْمُتِينُ .</p> <p>ب) ظَهَرَتْ أَشِعَّةُ الْقَمَرِ وَ أَصْبَحَ الْمَنْظَرُ جَمِيلاً .</p>	٩
٣	<p>اكْمَلِ الْفُرَاقَ:</p> <p>الف) حَاسِبُوا أَنْفُسَكُمْ ..... فِي الدُّنْيَا. ( التَّم - كَم )</p> <p>ب) ..... يَنْجَحُونَ. ( الصَّادِقُونَ - الصَّادِقِينَ )</p> <p>ج) كَتَبْتُ ..... . ( تَمْرِينِينَ - تَمْرِينًا )</p> <p>د) فَرَحْتُ ..... . ( النَّاجِحَاتُ - النَّاجِحَاتِ )</p> <p>هـ) يُدَافِعُ ..... عَنِ الْمَظْلُومِينَ . ( الْمُسْلِمُونَ الْعَالَمُ - مُسْلِمُو الْعَالَمِ )</p> <p>و) لُغَةُ الْمُسْلِمِينَ ..... هِيَ اللُّغَةُ الْعَرَبِيَّةُ . ( الْمُشْتَرَكَةُ - الْمُشْتَرَكِينَ )</p>	١٠
٠/٥	<p>كِدَامُ كَرِينَةٍ جُزْءُ اسْمِ هَايْ غَيْرِ مَنْصُوفٍ أَسْت؟</p> <p>عَلِمَ مَوْلُودٌ <input type="checkbox"/> صِفَتْ بِرِ وَزْنِ أَفْعَلٍ <input type="checkbox"/> جَمَعَ مَكْسُورٌ بِرِ وَزْنِ مَفَاعِيلٍ <input type="checkbox"/> هَرَسَهُ مَوْرِدٌ <input type="checkbox"/></p>	١١

١٢	كدام گزینه صحیح است؟ <input type="checkbox"/> آلتکتاب التلمیذ <input type="checkbox"/> کتاب التلمیذ <input type="checkbox"/> المعلم <input type="checkbox"/> کتاب التلمیذ	٠/٥									
١٣	عین نوع الإعراب فی الكلمات التالیه: (ظاهری - محلی - تقدیری) هذا: الخیر: القاضی:	٠/٧٥									
١٤	كدام گزینه در مورد «الدُنیا» در عبارت «الدُنیا مَزْرَعَةُ الآخِرَةِ» صحیح است؟ مرفوع به اعراب ظاهری <input type="checkbox"/> مرفوع تقدیراً <input type="checkbox"/>	٠/٥									
١٥	شکل الكلمات الّتی تحتها خطٌ. (حرکت گذاری) <u>العاقِل من ابتعد عن الباطل.</u>	٠/٥									
١٦	للتحليل الصرفی و الإعراب: هُوَ الَّذِي أَرْسَلَ رَسُولَهُ بِالْهُدَى.	٢									
<table border="1"> <thead> <tr> <th>كلمه</th> <th>التحليل الصرفی</th> <th>الإعراب</th> </tr> </thead> <tbody> <tr> <td>هُوَ</td> <td>اسم، ضمیر، للغایب، جامد، مبني <input type="checkbox"/>  اسم، ضمیر، للغایب، جامد، معرب <input type="checkbox"/></td> <td>فاعل و مرفوع <input type="checkbox"/>  مبتدا و محلا مرفوع <input type="checkbox"/></td> </tr> <tr> <td>هُدَى</td> <td>اسم، مفرد، مؤنث، معرفه، معرب <input type="checkbox"/>  اسم، مفرد، مؤنث، نكرة، مبني <input type="checkbox"/></td> <td>مجرور به حرف جر <input type="checkbox"/>  مضاف اليه و مجرور <input type="checkbox"/></td> </tr> </tbody> </table>			كلمه	التحليل الصرفی	الإعراب	هُوَ	اسم، ضمیر، للغایب، جامد، مبني <input type="checkbox"/> اسم، ضمیر، للغایب، جامد، معرب <input type="checkbox"/>	فاعل و مرفوع <input type="checkbox"/> مبتدا و محلا مرفوع <input type="checkbox"/>	هُدَى	اسم، مفرد، مؤنث، معرفه، معرب <input type="checkbox"/> اسم، مفرد، مؤنث، نكرة، مبني <input type="checkbox"/>	مجرور به حرف جر <input type="checkbox"/> مضاف اليه و مجرور <input type="checkbox"/>
كلمه	التحليل الصرفی	الإعراب									
هُوَ	اسم، ضمیر، للغایب، جامد، مبني <input type="checkbox"/> اسم، ضمیر، للغایب، جامد، معرب <input type="checkbox"/>	فاعل و مرفوع <input type="checkbox"/> مبتدا و محلا مرفوع <input type="checkbox"/>									
هُدَى	اسم، مفرد، مؤنث، معرفه، معرب <input type="checkbox"/> اسم، مفرد، مؤنث، نكرة، مبني <input type="checkbox"/>	مجرور به حرف جر <input type="checkbox"/> مضاف اليه و مجرور <input type="checkbox"/>									

نام و نام خانوادگی :	باسمه تعالی	تاریخ: 89/3/18
نام پدر :	اداره کل مدارس خارج از کشور	نام دبیر: آقای قصری
شعبه ی کلاس :	سرپرستی مدارس جمهوری اسلامی ایران در امارات عربی متحده	تعداد صفحه: 2 صفحه
نام درس: عربی	مجمع آموزشی شارجه (دوره متوسطه دختران) پایان نیم سال دوم (خرداد ماه 89)	مدت پاسخگویی: 75 دقیقه
نمره به عدد:	نمره به حروف:	نام و نام خانوادگی مصحح و امضاء:

س	سؤالات	ن
3	السؤال الأول: ترجم العبارات التالية الي الفارسية : الف ( اللهم أخرجني من ظلمات الوهم . ب ( ثق يا علي : هذا جزاء من نسي المسكين و اليتامى . ج ( الجبال تمرّ أمامك كما يمرّ السحاب . د ( كيف تقتل ظلياً بعشيق الجمال ؟	1
1	السؤال الثاني : أكتب ما طلب منك ( موارد خواسته شده را بنویسید ) المجال = گنجینه ها = أفرغ = متضاد : تشاوم :	1
2/5	السؤال الثالث : إقرأ النص التالي ثم أجب عن الاسئلة : (درك مطلب) خرج علي بن الحسين (ع) في ليلة ظلماء و قد حمل علي كتفه جراباً مملواً من الدراهم و الاطعمة . دقّ باب منزل فخرج طفلاً من البيت و ناوله الامام من تلك الدراهم و الاطعمة ثم ذهب الي بيت آخر . . . ما عرفه الفقراء و المساكين الباعد و فاته . الف ( ما حمل الامام علي كتفه ؟ ب ( متى عرفه الفقراء ؟ ج ( عين اعراب ما اشير اليه بخط ؟ ليلة : جرابا :	3
2	السؤال الرابع : صحّح ما تشاهد من الاخطاء في ترجمة العبارات التالية : (غلط هاي ترجمه را اصلاح كنيد) الف ( لما شاهدت الحمار المسكين تظاھر بالعرج : وقتي كه الاغ بيچارگي خود را دید تظاهر به لنگي كرد . ب ( نخلت في رجلي شوكة كبيرة : پايم بر خار بزرگي قرار گرفت است . ج ( هل أنا أصلب من هذه الصخرة؟ آيا تو سخت تر از آن صخره هستي ؟ د ( في بداية الأمر ما شاهدت تقمناً في درسه: در آغاز کار آنچه مشاهده كرد پیشرفت در درسش بود	4
1/5	السؤال الخامس : انتخب الترجمة الصحيحة : (ترجمه صحيح را انتخاب كنيد) الف ( يتركلي أمري : 1 - كارم را براي من آسان گردان . 2 - كارم را براي خودت آسان كردي .	5

		<p>ب ( يَأْتِرْ عَلَيَّ (ع) إِلَيَّ سَجْرَه :  1- اي علي أن را شعله ور كن .  2- علي به روش كردن آن اقدام كرد .  ج ) حركة الارض ليست مخفية علي أحد في عصرنا .  1 - حركة زمين در عصرها بر كسي مخفي نيست .  2 - حركة زمين در زمان ما بر كسي مخفي نيست .</p>												
1		<p>السؤال السادس : للتعريب : (به عربي برگردانيد )  من بر تهيه ي نان توانا نرم .</p>												
2		<p>السؤال السابع : عين نوع المعارف في العبارات التالية . ( نوع معرفه را پيدا كنيد )  الف - اللسان جرمه صغير .  ب - انا مدينة العظم .  ج - هو الذي لعب مع اطفال .</p>												
2/5		<p>السؤال الثامن : عين الكلمات التي لها علامات فرعية ثم انكر نوعها و اعرابها .  ( كلمتي كه علامت هاي اعراب فرعي دارند را مشخص كن و سپس نوع و اعراب آن "مرفوع، منصوب ، مجرور" را بنويس )  الف ) قد افلح المومنون .  ب ) اخوك مريض .  ج ) الى متى تعبد في مساجد .  د ) احترم المعلمات .  ه ) فسكتت الفارتان .</p>												
1/5		<p>السؤال التاسع : صحح الاخطاء فيما اشير اليها بخط : ( غلط هاي مشخص شده را اصلاح كنيد )  الف ) يذهب كثير من المسلمون في نوح الحجة .  ب ) اكرم ابوك في جميع الاحول .  ج ) الساعى في الخير كفاعله . كلهم راع .  د ) المجاهدين يدافعون عن المظلوم .</p>												
1		<p>السؤال العاشر : عين الصفة و المضاف اليه في العبارات التالية : ( صفت و مضاف اليه را پيدا كنيد )  الف ) احب اخواني المجدين .  ب ) الكتاب صديق مخلص يُبعدك عن الضلال .</p>												
1/5		<p>السؤال الحادي عشر : للإعراب والتحليل الصرفي : بعض الناس ينظرون الى الدنيا ...</p> <table border="1"> <thead> <tr> <th>الكلمة</th> <th>التحليل الصرفي</th> <th>الإعراب</th> </tr> </thead> <tbody> <tr> <td>بعض</td> <td></td> <td></td> </tr> <tr> <td>ينظرون</td> <td></td> <td></td> </tr> <tr> <td>الدنيا</td> <td></td> <td></td> </tr> </tbody> </table>	الكلمة	التحليل الصرفي	الإعراب	بعض			ينظرون			الدنيا		
الكلمة	التحليل الصرفي	الإعراب												
بعض														
ينظرون														
الدنيا														
0/5		<p>السؤال الثاني عشر : عين الاسم المقصور والمنقوص في هذه العبارة :  أخذ موسى من هذا المعتدي</p>												
20		<p>بالتعريب والتوفيق</p>												
	جمع													

نام خانوادگی	نام	باسمه تعالی
نام کلاس	اداره کل مدارس خارج از کشور	تاریخ: ۸۹/۳/۲۰
سوالیات ماده درسی: بهداشت و ایمنی کار	سرپرستی مدارس جمهوری اسلامی ایران در امارات عربی متحده	تعداد صفحه: ۲
پایه: دوم کار دانش	مجتمع آموزشی شارجه مقطع متوسطه	نام دبیر: به آبادی
	سال تحصیلی ۱۳۸۹-۱۳۸۸	صفحه: ۱
		مدت پاسخ گویی: ۷۵ دقیقه

سوالیات	پاسخ
۱	<p>کدام یک از عبارات زیر صحیح و کدام یک غلط می باشد.</p> <p>الف) انواع فعالیت‌های انسان و حیوانات مختلف در طول شبانه روز به طور تناوبی تغییر می کنند که به آن سرکادین گویند. (مورد)</p> <p>ب) پس مانده های غذایی موجود در زیاله ها ، اگر به طریق صحیح ، بازیافت شوند کود کمپوست را بوجود می آورند. /۵</p> <p>ج) مهمترین تاثیر آلودگی محیط بر زندگی انسان، بروز انواع بیماری هاست</p> <p>د) میکروارگانسیمهایی را که سبب ایجاد بیماری در بدن انسان می شوند ، اصطلاحاً پاتوژن می نامند.</p> <p>ح) گرما از طریق پوست، تنفس و عرق کردن از بدن نمی تواند دفع شود.</p> <p>خ) غش گرمایی به علت بروز آسیب در مغز به وجود می آید.</p> <p>ر) افرادی که دارای ناراحتی کلیوی هستند، باید برای کار در محیط های گرم انتخاب شوند.</p> <p>ز) در پزشکی از پرتوهای فرا بنفش در رادیولوژی استفاده می شود.</p> <p>ن) پرتوهای یونساز قادرند اتمهای ماده را از مدار خود خارج نموده ، آنرا یونیزه نمایند.</p> <p>ی) عمده ترین مایعات و محلولهای زیان آور شامل اسیدها ، قلیابیها، مشتقات نفتی و روغن ها می باشند.</p>
۲	<p>الف) چه نوع تشعشعاتی برای چشم مضر هستند؟(سه مورد). /۵</p> <p>ب) رایجترین روشهای دفع زیاله را نام ببرید(سه مورد).</p>
۳	<p>تفاوت آبهای سطحی و آبهای زیر زمینی از نظر کیفیت را بنویسید. /۱</p>
۴	<p>الف) روشهای کاهش آلودگی صدا را بنویسید(سه مورد). /۲۵</p> <p>ب) چرا لازم است بر روی کامپیوتر از صفحات مخصوص به نام فیلتر استفاده کرد؟</p>
۵	<p>موارد کاربرد حلالها را بنویسید(چهار مورد). /۱</p>



نام و نام خانوادگی :

باسمه تعالی

جای مهر

تاریخ: ۸۹/۳/۲۲

اداره کل مدارس خارج از کشور

نام دبیر: باقری مقدم

سرپرستی مدارس جمهوری اسلامی ایران در امارات عربی متحده

نام پدر :

تعداد صفحه : ۳

مجمع آموزشی شارجه (دوره متوسطه دختران) پایان نیم سال دوم (خردادماه ۸۹)

شعبه ی کلاس :

مدت پاسخگویی : ۹۰ دقیقه

رشته :

پایه : دوم

نام درس : زبان انگلیسی ۲

نام و نام خانوادگی مصحح و امضاء :

نمره به حروف :

نمره به عدد :

کلمات ناقص متن زیر را کامل کنید (۳ لغت)

One of my brothers is a sail\_r and works in the n\_vy .He pi\_ked up the newspaper. The moon goes aro\_nd the earth .Jack hurt his th\_mb when he was playing . His book showed people what a ter\_ible thing was going on. He got all mix\_d up with the cans and cart\_ns and box\_s. The hic\_ups aren't an illne\_s. You can com\_ent on my job.

- |    |    |    |     |     |     |
|----|----|----|-----|-----|-----|
| 1. | 2. | 3. | 4.  | 5.  | 6.  |
| 7. | 8. | 9. | 10. | 11. | 12. |

بجاهای خالی را با کلمات مناسب پر کنید. (یک لغت اضافی است.)

( suitable , breath , scared , miner , earns , friendly , glow , fixed , same )

- The man .....a lot of money by writing stories.
- My uncle is a ..... He isn't a rich man.
- The eyes of the cat began to ..... in the dark .
- The lion has.....the horse. He is running fast.
- This boy can hold his .....for about one minute.
- I think Tehran isn't a .....city for living.
- He won't change his idea. He has a .....idea.
- A greeting is a way of being.....to someone.

بهترین گزینه را انتخاب کنید .

- He washed his hands with.....and water .  
a. soap      b. soup      c. smoke      d. steam
- The teacher will..... the lesson to us.  
a. hurt      b. find out      c. explain      d. cure
- Small boats have..... . They can move.  
a. trains      b. planes      c. buses      d. sails
- I tried very hard but couldn't do it .....  
a. true      b. wrong      c. right      d. false

بملاحظات دلره شره را با استقاره از دانش لغوی شور کامل کنید.

- I missed the bus . That is the ..... why I am late .
- We take photographs with it . It's a .....

۲	<p>مترادف یا متضاد کلمات ستون سمت چپ را از ستون سمت راست پیدا کنید :</p> <table border="0"> <tr> <td>1. give back = _____</td> <td>5. disagree ≠ _____</td> <td>a. suddenly</td> <td>e. love</td> </tr> <tr> <td>2. slice = _____</td> <td>6. hate ≠ _____</td> <td>b. return</td> <td>f. happy</td> </tr> <tr> <td>3. all of a sudden = _____</td> <td>7. cruel ≠ _____</td> <td>c. part</td> <td>g. wet</td> </tr> <tr> <td>4. humid = _____</td> <td>8. sad ≠ _____</td> <td>d. kind</td> <td>h. agree</td> </tr> </table>	1. give back = _____	5. disagree ≠ _____	a. suddenly	e. love	2. slice = _____	6. hate ≠ _____	b. return	f. happy	3. all of a sudden = _____	7. cruel ≠ _____	c. part	g. wet	4. humid = _____	8. sad ≠ _____	d. kind	h. agree	۵
1. give back = _____	5. disagree ≠ _____	a. suddenly	e. love															
2. slice = _____	6. hate ≠ _____	b. return	f. happy															
3. all of a sudden = _____	7. cruel ≠ _____	c. part	g. wet															
4. humid = _____	8. sad ≠ _____	d. kind	h. agree															
۱	<p>در جاهای خالی در متن زیر a, an, the و بکار ببرید.</p> <p>I saw a car in the street. ....car was parked beside.....bus in front of .....apartment. ....apartment wasn't very far from here.</p>	۶																
۱	<p>در هر ردیف یک کلمه از نظر تلفظ با سه کلمه دیگر تفاوت دارد. آنرا مشخص کنید :</p> <table border="0"> <tr> <td>1. coat , hope , go , house .</td> <td>3. heart , hurt , hard , card .</td> </tr> <tr> <td>2. air , their , came , hair .</td> <td>4. four , more , no , door .</td> </tr> </table>	1. coat , hope , go , house .	3. heart , hurt , hard , card .	2. air , their , came , hair .	4. four , more , no , door .	۷												
1. coat , hope , go , house .	3. heart , hurt , hard , card .																	
2. air , their , came , hair .	4. four , more , no , door .																	
۱/۵	<p>مکالمه، جملات ستون سمت چپ را با جملات ستون سمت راست بچفت و بچهر کنید، (یک جمله اضافی است.)</p> <table border="0"> <tr> <td>1. What's the weather like in Rasht?</td> <td>a. of course not .</td> </tr> <tr> <td>2. How much is a kilo of rice cost?</td> <td>b. Delhi, I think.</td> </tr> <tr> <td>3. What's the capital of India?</td> <td>c. In Iran.</td> </tr> <tr> <td>4. Would you mind opening the window?</td> <td>d. It's hot and humid.</td> </tr> <tr> <td>5. Do you get much rain in your city ?</td> <td>e. about 1000 tomans, I think.</td> </tr> <tr> <td>6. Where do you live?</td> <td>f. It's not very big.</td> </tr> <tr> <td></td> <td>g. No, not much .</td> </tr> </table>	1. What's the weather like in Rasht?	a. of course not .	2. How much is a kilo of rice cost?	b. Delhi, I think.	3. What's the capital of India?	c. In Iran.	4. Would you mind opening the window?	d. It's hot and humid.	5. Do you get much rain in your city ?	e. about 1000 tomans, I think.	6. Where do you live?	f. It's not very big.		g. No, not much .	۸		
1. What's the weather like in Rasht?	a. of course not .																	
2. How much is a kilo of rice cost?	b. Delhi, I think.																	
3. What's the capital of India?	c. In Iran.																	
4. Would you mind opening the window?	d. It's hot and humid.																	
5. Do you get much rain in your city ?	e. about 1000 tomans, I think.																	
6. Where do you live?	f. It's not very big.																	
	g. No, not much .																	
۳	<p>گرامر ، بهترین گزینه را انتخاب کنید :</p> <p>1. She wants ..... home.</p> <p>a. go      b. going      c. went      d. to go</p> <p>2. He..... to sell the old house since last year .</p> <p>a. promised      b. promise      c. has promised      d. promises</p> <p>3. I see the.....</p> <p>a. door handle      b. handle door      c. doors handle      d. handle doors</p> <p>4. If you .....( work) very hard , you would succeed .</p> <p>a. working      b. work      c. worked      d. works</p> <p>5. You.....(not to learn ) English if you don't practice .</p> <p>a. don't learn      b. didn't learn      c. will learn      d. won't learn</p> <p>6. If you don't wash fruits before eating them , you .....(to get) sick.</p> <p>a. get      b. got      c. may get      d. may not get</p>	۹																
۲	<p>در جاهای خالی از ضمایر انعکاسی یا تأکیدی استفاده کنید :</p> <p>1. My brother fixed the car..... .</p> <p>2. We couldn't find a job for..... .</p> <p>3. I..... bought a dictionary.</p> <p>4. " Who has washed the dishes for her " ?</p> <p>" Nobody, she has washed them..... .</p>	۱۰																
۱/۵	<p>جمله داده شده را سوالی کنید :</p> <p>1. A lot of rice grows in the north every year .</p> <p>a. What.....?</p> <p>b. How much.....?</p> <p>c. Where.....?</p>	۱۱																

۲	<p style="text-align: right;">کلمات در هم ریخته را مرتب کنید :</p> <p>1. the toy city , man , for, was , woman , made, every, and , too . .....</p> <p>2. for , made , have , they , some tea , themselves . .....</p>	۱۲
---	--	----

۱/۵	<p style="text-align: right;">درک جمله : با توجه به مفهوم جملات داده شده جواب صحیح را انتخاب کنید:</p> <p>1. The little girl doesn't feel well today. So, she has to..... a. go to school      b. play alone      c. stay at home      d. return to school</p> <p>2. Ali's teacher sometimes gives him a reward because he..... a. studies his lessons carefully      b. pays no attention to him c. does his homework carelessly      d. doesn't speak politely</p> <p>3. He opened a long box that was similar to a spaghetti box. But the box had a kind of paper in it. We understand that..... a. the box was made of paper      b. there was paper in the box c. the box had spaghetti in it      d. there were both spaghetti and paper in the box</p> <p style="text-align: right;">درک مطلب : متن داده شده را با دقت خوانده و به سوالات ۱ و ۲ پاسخ کامل داده و ۳ و ۴ را کامل کنید:</p> <p><b>Last Monday Ali came home from school at 10 O'clock . He said he was feeling ill. He had a headache and felt hot. He had a cold, so his mother sent him to bed. That night he became worse. Mrs. Ahmadi was worried and in the morning , she sent for the doctor. Doctor Karimi arrived at about quarter to eleven. He said that Ali would have to stay in bed for a few days. Then he shut black bag and said goodbye and walk quickly out of the house. After a few days he became well again and went to school.</b> (shut=close , worried=تورج)</p> <p>1. Why did Ali come home at 10 last Monday ? 2. How did he feel at night ? 3. Ali was in bed for..... 4. Doctor arrived at.....</p> <p><b>True or False:</b></p> <p>5. The doctor opened black bag and said good bye.      True <input type="checkbox"/>      False <input type="checkbox"/> 6. Mrs. Ahmadi wasn't worried about his son.      True <input type="checkbox"/>      False <input type="checkbox"/></p>	۱۳
-----	---	----

۳.	<h1 style="font-family: cursive;">Good Luck</h1> <p style="text-align: right;"><i>Bagheri Moghaddam</i></p>
----	---

نام و نام خانوادگی :	باسمه تعالی	تاریخ: ۸۹/۳/۱۶
نام پدر :	اداره کل مدارس خارج از کشور	نام دبیر : غلامی
شعبه ی کلاس :	سرپرستی مدارس جمهوری اسلامی ایران در امارات عربی متحده	تعداد صفحه : ۴
پایه : دوم	رشته : کامپیوتر طراحی مقدماتی صفحات وب	مدت پاسخگویی: ۳۵ دقیقه
نمره به عدد :	نمره به حروف :	نام و نام خانوادگی مصحح و امضاء :

۱- در آدرس <http://www.google.com> بخش <http> نشانگر چیست؟

الف) protocol      ب) domain      ج) top level domain      د) web address

۲- به هر یک از فرامین اصلی در زبان html چه می گویند؟

الف) tag      ب) anchor      ج) bookmark      د) hyperlink

۳- به متن قابل کلیک در صفحات وب چه گفته می شود

الف) hyperlink      ب) hypertext      ج) hypermedia      د) link

۴- وب چیست ؟

الف) همان اینترنت است      ب) سرویس گرافیکی اینترنت است  
ج) شامل کامپیوتر هایی است که در جهان به یکدیگر است      د) شبکه جهانی است

۵- پسوند فایل های انیمیشن macromedia flash چیست؟

الف) .fla      ب) .swf      ج) .pdf      د) .ppt

۶- در حال حاضر سریع ترین مرورگر اینترنت کدام است؟

الف) netscape      ب) opera      ج) ie      د) iynx

۷- کدام یک از فایل های گرافیکی زیر پر استفاده ترین فایل گرافیکی در وب است

الف) .jpg      ب) .gif      ج) .png      د) .bmp

۸- کدام فایل صوتی کم حجم ترین فایل و متداول ترین فایل صوتی به عنوان صوت زمینه صفحات وب است

الف) .wav      ب) .mid      ج) .au      د) .ra

۹- بخش اصلی سازنده یک صفحه وب با کدام تک مشخص می شود

الف) <head>      ب) <title>      ج) <body>      د) <html>

۱۰- برای ذخیره یک صفحه وب در notepad چه پسوندی را در بخش نام فایل در زمان ذخیره صفحه وارد می کنید

الف) .txt      ب) .htm      ج) .htd      د) .doc

۱۱- کدام تگ برای شکستن خطوط پاراگراف به کار می رود

الف) <br>      ب) <break>      ج) <ib>      د) </n>

۱۲- استفاده از تگ ها با حروف کوچک در زبان .....html

الف) مجاز نیست      ب) تفاوتی در اجرا ندارد      ج) غیر ممکن است      د) قابل نمایش نیست

۱۳- کدام از تگ های زیر باعث ایجاد لیست های شماره دار ۱و۲و۳و..... می شود

الف) <ol>      ب) <dl>      ج) <ul>      د) <list>

۱۴- کدام تگ باعث ایجاد لیست های علامت دار می شود

الف) <ol>      ب) <dl>      ج) <ul>      د) <list>

۱۵- کدام نوع تگ <h۱> تا <h۶> بزرگترین اندازه قلم را داراست

الف) h۱      ب) h۶      ج) بستگی به تنظیم فونت مرورگر دارد      د) هیچ کدام

۱۶- کدام تگ باعث ضخیم شدن متن می شود

الف) <u>      ب) <b>      ج) <strong>      د) <small>

۱۷- کدام قالب های فایلی زیر ، تصاویر را بدون زمینه و transparent نمایش می دهد

الف) .gif      ب) .bmp      ج) .jpg      د) .wmf

۱۸- کدام شناسه برای مشخص کردن نحوه قرار گیری تصویر به کار می رود

الف) position      ب) place      ج) align      د) div

۱۹- کدام شناسه برای مشخص کردن فاصله خالی سمت چپ و راست عکس با سایر عناصر متنی و تصویری مجاور بکار می رود

الف) div      ب) align      ج) hspace      د) vspace

۲۰- فاصله بین سلول های یک جدول به وسیله کدام شناسه تعیین می شود

الف) cellpadding      ب) cellspacing      ج) cellborder      د) table border

۲۱- کدام مقدار برای شناسه align در تگ table به کار می رود

الف) top      ب) bottom      ج) middle      د) center

۲۲- کدام شناسه در تگ table یک تصویر گرافیکی را به عنوان زمینه جدول انتخاب می کند

bordercolor (د) picture (ج) background (ب) bgcolor (الف)

۲۳- کدام تگ برای ایجاد پیوند در صفحات وب استفاده می شود

<a> (د) <link> (ج) <head> (ب) <href> (الف)

۲۴- کدام شناسه زیر پیوند را در زمان کلیک ماوس تا لحظه رها شدن مشخص می کند

text (د) link (ج) vlink (ب) alink (الف)

۲۵- به نقاط تعریف شده برای پیوند در یک نقشه تصویری چه گفته می شود

anchor (د) spot link (ج) hot link (ب) hot spot (الف)

۲۶- کدام تگ برای تقسیم بندی قاب (فریم) مورد استفاده قرار می گیرد

<framesets> (د) <frameborder> (ج) <frame> (ب) <frameset> (الف)

۲۷- کدام تگ برای تعریف جایگزین برای مرورگرهایی که از فریم ها پشتیبانی نمی کنند استفاده می شود

frame (د) frameset (ج) noborder (ب) noframe (الف)

۲۸- کدام شناسه برای مخفی کردن کادر های قاب در بالاترین تگ frameset به کار می رود

noframe (د) fborder (ج) frameborder (ب) border (الف)

۲۹- در نرم افزار front page برای ایجاد یک نقطه پیوند (anchor) در یک صفحه وب ، از ترکیب کدام کلید ها استفاده می شود

ctrl+a (د) ctrl+n (ج) ctrl+b (ب) ctrl+g (الف)

۳۰- سبک های گرافیکی داخلی در front page چه نام دارند

vivid (د) theme (ج) wizard (ب) normal (الف)

۳۱- برنامه محاوره ای که بر پایه پاسخ های شما به یک سری از سوالات ، الگوهایی را ایجاد می کند چه نام دارد

vivid (د) theme (ج) wizard (ب) normal (الف)

۳۲- در نرم افزار frontpage برای مدیریت قاب ها از کدام منو استفاده می شود

layout (د) insert (ج) frames (ب) format (الف)

۳۳- تصویر یا نوشته تبلیغاتی صفحات وب چه نامیده می شود

bookmark (الف)      web component (ب)      banner (ج)      break (د)

۳۴- برای دیدن صفحات وب از چه نرم افزاری استفاده می شود

browser (الف)      url (ب)      msn (ج)      request (د)

۳۵- شناسه قرار گرفتن حالت افقی متن در یک جدول ..... است

vspace (الف)      hspace (ب)      align (ج)      place (د)

۳۶- شناسه bgcolor در کدام یک از تگ های زیر استفاده می شود

<table> (الف)      <tr> (ب)      <td> (ج)      <th> (د)

۳۷- زبان ایجاد صفحات وب چه نامیده می شود

html (الف)      http (ب)      javascript (ج)      tcp/ip (د)

۳۸- پروتکل مورد استفاده در وب کدام است

tcp/ip (الف)      ftp (ب)      html (ج)      http (د)

۳۹- کدام فایل گرافیکی زیر، خاصیت transparency دارد

.jpg (الف)      .gif (ب)      .pcx (ج)      .bmp (د)

۴۰- کدام فایل گرافیکی زیر خاصیت interlacing (نمایش تدریجی) دارد

.jpg (الف)      .gif (ب)      .png (ج)      (د) گزینه های ب و ج صحیح هستند

تاریخ: ۸۹/۳/۱۳  
تعداد صفحه: سه  
نام دبیر: رضایی  
صفحه: ۱  
مدت پاسخ گویی: ۸۰ دقیقه

باسمه تعالی  
اداره کل مدارس خارج از کشور  
سرپرستی مدارس جمهوری اسلامی ایران در امارات عربی متحده  
مجتمع آموزشی شارجه - مقطع متوسطه  
سال تحصیلی ۱۳۸۹-۱۳۸۸  
نوبت دوم

نام: \_\_\_\_\_  
نام خانوانگی: \_\_\_\_\_  
شعبه ی کلاس: \_\_\_\_\_  
سوالات ماده ی درسی: زبان فارسی ۲  
پایه: دوم رشته: \_\_\_\_\_

امضای دبیر:

نمره به حروف

نمره به عدد

الف: نگارش ( ۵ نمره )

۱- جملات زیر را ویرایش کنید:

الف) کتاب های ارزشمندی توسط ابوریحان بیرونی نوشته شد.

ب) او رهبریت گروه را بر عهده گرفت.

۲- گونه ی زبان و طرز بیان نوشته ی زیر را معلوم کنید:

«سابقه ی زبان و گفتار به میلیون ها سال پیش باز می گردد ولی خط و نوشتار پدیده ی بسیار تازه ای است.»

۳- علام اختصاری «صص» و «ن.ک» در چه معنایی به کار می روند؟

۴- آنچه به تحقیق ارزش و اعتبار می بخشد..... است.

۵- فرهنگ معین از چند بخش تشکیل شده است؟ به ترتیب نام ببرید.

۶- در لغت نامه ی دهخدا، موارد استفاده از قلاب [ ] و دو خط موازی || را توضیح دهید.

۷- سه ویژگی کلی هر مقاله را بنویسید.

۸- مقالات تحلیلی به چه نوع مقالاتی گفته می شود؟

۹- یک نمونه گزارش اجمالی و کوتاه و یک نمونه گزارش رسمی و اداری را نام ببرید.

ب: دستور (۸ نمره)

۱- نقش هریک از اجزای جمله ی مقابل را بنویسید: بچه های کلاس به او نلبنه می گفتند.

۲- زمان و وجه فعل مشخص شده در عبارت مقابل را بنویسید: باید انجام کارهای بزرگ را به افراد بزرگ بسیاریم.

۳- یک صفت مشتق از بن ماضی و یک صفت مشتق از بن مضارع فعل «شنیده بودی» بسازید.

۴- ساختمان (ساده، مرکب و پیشوندی) هر یک از فعل های جملات زیر را تعیین کنید:

وقتی اصحاب کهف از خواب خویش برخاستند، جهان را نگرگونه یافتند.

ادامه ی سوالات در صفحه ی ۲



۰/۵

۵- نوع هریک از اضافه های « دست روزگار» و « گرمای خورشید» را مشخص کنید.

۱

۶- در جمله ی زیر قیدها را بیابید و نوع (نشانه دار و بی نشانه) آن ها را تعیین کنید:

۰/۲۵

او در طول عمر خود هرگز از شکست نمی ترسید.

۷- در جمله ی زیر، شبه جمله را تعیین کنید:

الف) سعدیا، مرد نکونام نمیرد هرگز

۱

۸- در جمله های زیر ضمیرها و مرجع آن ها را مشخص کنید:

الف) سعدی تمام زندگی اش را در راه اعتلای زبان فارسی گذراند.

ب) کتاب را از قفسه برداشتم و آن را روی میز گذاشتم.

۱

۹- جملات زیر را کامل کنید و مشخص کنید کدام یک مرکب است، جمله ی هسته و جمله ی وابسته ی آن را تعیین کنید:

الف).....اما.....

ب) در صورتی که.....،.....

۱

۱۰- اسم مشخص شده در عبارت زیر را از نظر شمار، شناس و نشانش و اسم جنس، عام و خاص و ساخت بررسی کنید:

از میان چاپ های گوناگون دیوان حافظ، چاپ قزوینی معتبر است.

۰/۲۵

۱۱- یک گروه اسمی با وابسته ی پیشین و پسین در عبارت زیر بیابید:

کتاب، بهترین دوست انسان است.

ج) زبان شناسی (۴ نمره)

۰/۵

۱- خط و نوشتار چگونه با زبان و پیوند می خورد؟

۰/۵

۲- گوناگونی های سبکی و لهجه ای عمدتاً به..... مربوط می شود نه به.....

۱

۳- تعداد هجاها و واج های کلمات «سلامتی» و «بیتنده» را مشخص کنید.

۰/۲۵

۴- در کدام یک از ساخت واژه های زیر، وند اشتقاقی و در کدام یک وند صرفی به کار رفته است؟

آزبانگان - کهنه ترین - باغبان

۰/۲۵

۵- نوع ساخت واژه های «راحت طلب» و «آمرزش» و «روانشناسی» را مشخص کنید.

۰/۵

۶- تفاوت واج و حرف را بنویسید.

شماره	سپرستی مدارس جمهوری اسلامی ایران ( امارات عربی متحده	محل مهر امتحانات
نام و نام خانوادگی : نام دبیر : آقای چراغی	مجتمع آموزشی امام خمینی (ره) ابوظبی	نمره با عدد نمره با حروف امضاء دبیر
کلاس : آزمون درس : نرم افزارهای اداری نوبت امتحان : شهریور	تاریخ آزمون : ۱۳۸۹/۶/۱	صفحه : ۱
زمان آزمون: ۷۰ دقیقه		

### سوالات open office org writer

- ۱- برنامه openoffice.org.writer چه کاربردی دارد؟  
الف) واژه پرداز ب) ارایه مطلب ج) بانک اطلاعاتی د) ایجاد صفحه گسترده
- ۲- برای قالب بندی متن در برنامه openoffice.org.writer از چه نوار ابزاری استفاده می شود؟  
الف) formatting ب) tools drawing ج) standard د) tools writing
- ۳- برای تنظیم فاصله خطوط در پاراگراف کدام ناحیه در کادر محاوره paragraph به کار برده می شود؟  
الف) indent ب) spacing line ج) pacings د) register ture
- ۴- جهت تعیین میزان حاشیه متن در openoffice.org.writer از کدام منو استفاده می شود؟  
الف) format > page ب) format > formattin and gstyle  
ج) format > paragraph د) format > character

### سوالات open office org impress

- ۵- با انتخاب کدام گزینه در پنجره wizard presentation در برنامه openoffice.org.impress، می توان یک نمایش خالی ایجاد کرد؟  
الف) template form ب) presentation existing open  
ج) presentation empty د) file from
- ۶- کدام گزینه جهت تنظیم خروجی اسلایدها در برنامه office open.org.impress به کار می رود؟  
الف) handout ب) page notes ج) neoutli د) sorter slide
- ۷- با کدام کلید (ترکیبی) نمای نمایش (show slide) فعال می شود؟  
الف) f1 ب) ctrl+o ج) f5 د) f1
- ۸- برای اینکه یک اسلاید همانند اسلاید موجود اضافه کنید، از کدام ابزار استفاده می شود؟  
الف) slide new ب) slide duplicate ج) cut د) slide hide

### سوالات open office org calc





- ۹- پسوند فایل ذخیره شده در برنامه openoffice.org.calc به طور پیش فرض چیست؟  
الف) ppt ب) ods ج) odp د) .odt
- ۱۰- گزینه places decimal در زبانه numbers از کادر محاوره cells format چه کاری انجام می دهد؟  
الف) تعیین فرم نمایش داده ها  
ج) تعیین تعداد صفرها  
د) تعیین تعداد ارقام اعشار
- ۱۱- برای اینکه سلول یا سلول هایی در چاپ مشاهده نشود از چه خصوصیتی استفاده می شود؟  
الف) protected ب) prining when hide  
ج) formula hide د) password
- ۱۲- برای اضافه کردن چند کاربرگ به طور همزمان در کادر محاوره sheet insert، کدام گزینه به کار می رود؟  
الف) sheet current after ب) sheet current before  
ج) sheet new > no.sheets of د) position

شماره	سرپرستی مدارس جمهوری اسلامی ایران ( امارات عربی متحده	محل مهر امتحانات
نام و نام خانوادگی : نام دبیر : آقای چراغی	مجمع آموزشی امام خمینی (ره) ابوظبی آزمون درس : نرم افزارهای اداری نوبت امتحان : شهریور	نمره با عدد نمره با حروف امضاء دبیر
زمان آزمون: ۷۰ دقیقه	تاریخ آزمون: ۱۳۸۹/۶/۲	صفحه: ۲

### سوالات one Note

- ۱۳- برای ایجاد بخش جدید از کدام گزینه استفاده می شود؟  
 الف) page new (ب) notebook new (ج) section new (د) subpage new
- ۱۴- برای درج اشکال در نرم افزار onenote از کدام نوار ابزار استفاده می شود؟  
 الف) formatting (ب) tools drawing (ج) standard (د) tools writing
- ۱۵- برای یادآوری، دسته بندی و تاکید بر اهمیت موضوعات از..... استفاده می کنیم.  
 الف) برجسب (ب) آیکن (ج) اشکال (د) جدول
- ۱۶- برای درج محتوای فایل از سایر برنامه ها کدام گزینه از منوی insert را انتخاب می کنید؟  
 الف) files (ب) printouts as file (ج) pictures (د) tag

### سوالات Word

- ۱۷- جهت تنظیم حاشیه های صفحه و مقیاس آن از چه فرمانی استفاده می کنیم؟  
 الف) Print Preview (ب) Page Setup (ج) Properties (د) Word count
- ۱۸- در یک جدول ترسیم شده جهت حرکت به خانه های قبلی از چه کلیدی استفاده می شود؟  
 الف) Tab (ب) Ctrl + → (ج) Alt+Tab (د) Shift+Tab
- ۱۹- پسوند فایل های الگو در Word چه نامیده می شود؟  
 الف) Doc (ب) Dot (ج) Dok (د) Dtt
- ۲۰- برای ترازبندی متن در حالت دو طرفه کدام گزینه صحیح است؟  
 الف) Center (ب) Align Left (ج) Ctrl+Y (د) Justify
- ۲۱- جهت لغو آخرین فرمان از چه گزینه ای استفاده می شود؟  
 الف) Redo (ب) Undo (ج) Ctrl+Y (د) ب و ج
- ۲۲- برای نمایش برجسته متن از چه گزینه ای استفاده می شود؟  
 الف) Shadow (ب) Subscript (ج) Superscript (د) Emboss
- ۲۳- نام پوشه پیش فرض برای ذخیره الگوها در Word کدام است؟  
 الف) My computer (ب) My documents (ج) Template (د) My template
- ۲۴- کدام گزینه جزو انواع tab ها نمی باشد؟  
 الف) Decimal (ب) Right (ج) Binary (د) Left
- ۲۵- کدام یک از آیکن زیر جهت الصاق متن از حافظه استفاده می شود؟  
 الف)  (ب)  (ج)  (د) 
- ۲۶- جهت انصراف از آخرین عمل انجام شده کدام یک از کلید های ترکیبی زیر ایفادخ می شود؟  
 الف) Ctrl + C (ب) Ctrl + X (ج) Ctrl + V (د) Ctrl + Z
- ۲۷- جهت یافتن عبارات و کلمات در سند کدام یک از روش های زیر استفاده می شود؟  
 الف) از کلید های ترکیبی Ctrl + F به طور همزمان استفاده می شود (ب) دستور Properties را از منوی File انتخاب می نمایم (ج) دستور Find را از منوی Edit انتخاب می نمایم (د) الف و ج هر دو صحیح است

شماره	سرپرستی مدارس جمهوری اسلامی ایران ( امارات عربی متحده	محل مهر امتحانات
نام و نام خانوادگی : .....	مجتمع آموزشی امام خمینی (ره) ابوظبی	نمره با عدد
نام دبیر : آقای چراغی	آزمون درس : نوم افزارهای اداری	نمره با حروف
زمان آزمون: ۷۰ دقیقه	تاریخ آزمون: ۱۳۸۹/۶/۳	امضاء دبیر
	صفحه: ۳	

۲۸- جهت جایگزینی کلمه ای با کلمه دیگر در سند Word کدام یک از روش های زیر استفاده می گردد ؟  
 الف) از کلید های ترکیبی Ctrl + H به طور همزمان استفاده می نمایم  
 ب) دستور Change را از منوی Edit انتخاب می کنیم  
 ج) دستور Replace را از منوی Edit انتخاب می کنیم  
 د) الف و ج صحیح است

### سوالات Power Point

۲۹- برای ایجاد حرکت برای اجزاء داخلی اسلاید از کدام فرمان استفاده می کنیم ؟  
 الف) Slide transition ب) Slide Show ج) Custom animation د) Rehearse timings  
 ۳۰- برای ایجاد یک اسلاید جدید از کدام گزینه استفاده می شود ؟  
 الف) New slide ب) New ج) Ctrl+m د) الف و ج  
 ۳۱- برای خاتمه دادن به حالت نمایش اسلایدها از چه کلیدی استفاده می شود ؟  
 الف) Space bar ب) Esc ج) End د) امکان ندارد  
 ۳۲- با کدام گزینه یک اسلاید جدید درج می شود ؟  
 الف) Insert ب) میله Standard ج) New slide د) Task pan  
 ۳۳- برای حرکت و زمان بندی برای نمایش اسلاید روی هم کدام گزینه استفاده می شود ؟  
 الف) Slide transition ب) Slide Show ج) Timer د) Effect  
 ۳۴- کدام یک از موارد زیر در اسلاید امکان پذیر است ؟  
 الف) جدول و متن ب) تصویر و نمودار ج) طرح زمینه د) هر سه مورد  
 ۳۵- با کدام فرمان حالت و قالب بندی یک اسلاید را تغییر می دهیم ؟  
 الف) Slide layout ب) New slide ج) Back ground د) امکان ندارد

### سوالات Excel

۳۶- جهت محاسبه میانگین از کدامیک از توابع اکسل استفاده می شود ؟  
 الف) Sum ب) Max ج) Average د) Count  
 ۳۷- پسوند فایل های ذخیره شده در برنامه اکسل چیست ؟  
 الف) Xlw ب) Xls ج) Xlt د) Xlc  
 ۳۸- جهت پر کردن خودکار چند خانه بطوریکه حداقل دو خانه مقدار دهی شده باشد از کدام گزینه استفاده می شود ؟  
 الف) Auto filter ب) Auto fill ج) Auto format د) Auto correct  
 ۳۹- برای به اشتراک گذاشتن یک فایل کدام گزینه از منوی Tools استفاده می شود ؟  
 الف) Share workbook ب) Share workspace ج) Protection د) Protect Workbook  
 ۴۰- با کدام تابع شمارش می کنیم ؟  
 الف) Sum ب) Avg ج) Average د) Count  
 ۴۱- با کدام گزینه می توانیم یک نمودار درج کنیم ؟  
 الف) Chart ب) Chart wizard ج) F11 د) همه موارد

شماره	سرپرستی مدارس جمهوری اسلامی ایران ( امارات عربی متحده	محل مهر امتحانات
نام و نام خانوادگی : نام دبیر : آقای چراغی	مجتمع آموزشی امام خمینی (ره) ابوظبی	نمره با عدد نمره با حروف امضاء دبیر
کلاس : تاریخ آزمون : ۱۳۸۹ / ۱۶	نوبت امتحان : شهریور	صفحه : ۴
زمان آزمون : ۷۰ دقیقه		

- ۴۲- با چه فرماتی می توان تنظیمات اعداد را برای درج خانه ها تنظیم کرد؟  
الف) Cells      ب) Number      ج) Alignment      د) Format
- ۴۳- تعداد سطح و ستونها در اکسل به چه تعداد می باشد؟  
الف) ۲۵۶ ۶۵۵۳۶      ب) ۲۵۶ ۶۵۵      ج) ۲۵۶ ۱۶      د) نامحدود
- ۴۴- نشانه فرمول در یک خانه اکسل ..... می باشد ؟  
الف) +      ب) =      ج) کلید Enter      د) استفاده از توابع
- ۴۵- برای کادر بندی خانه های اکسل از کدام بخش در Format cells استفاده می شود؟  
الف) Pattern      ب) Boarder      ج) Alignment      د) الف و ب
- ۴۶- پسوند فایل های الگو برنامه اکسل چیست؟  
الف) Dot      ب) Dos      ج) Xls      د) Xlt
- ۴۷- فرمول .....  
الف) مجموعه ای از مقادیر مختلف می باشد .  
ج) شامل تعدادی عملگر برای انجام محاسبات می باشد .  
د) موارد ب و ج
- ۴۸- کدام گزینه اولویت صحیح پردازش داده ها در فرمل ها را نشان می دهد ؟  
الف) تفریق و تقسیم → جمع و ضرب → توان → پرانتز  
ب) توان → پرانتز → / → \*  
ج) جمع و تقسیم → ضرب → توان → پرانتز  
د) توان → ضرب → تقسیم → جمع و تفریق

### سوالات بانک اطلاعات Access

- ۴۹- به فضایی که در آن یک قلم اطلاعاتی ذخیره می شود ..... گفته می شود.  
الف) فیلد      ب) جدول      ج) رکورد      د) بانک اطلاعاتی
- ۵۰- به مجموعه ای از فیلد های مرتبط با موضوعی خاص ..... گفته می شود.  
الف) فیلد      ب) پرس و جو      ج) رکورد      د) جدول
- ۵۱- کدام یک از نوع داده های زیر شامل پول رایج کشوری خاص می شود.  
الف) text      ب) currency      ج) auto number      د) look up wizard
- ۵۲- برای قرار دادن تصویر در بانک اطلاعاتی از کدام نوع داده استفاده می شود.  
الف) look up wizard      ب) memo      ج) number      د) OLE object
- ۵۳- کدام یک از گزینه های زیر در مورد کلید اصلی صحیح نیست؟  
الف) کلید اصلی نمی تواند مقداری نداشته باشد.  
ب) کلید اصلی می تواند مجموعه ای از دو یا چند فیلد باشد.  
ج) بانک اطلاعاتی هنگام ایجاد رکوردی جدید بطور خود کار یک واحد به مقدار کلید اصلی اضافه می کند.  
د) کلید اصلی در تمام رکوردها منحصر به فرد است.

شماره	سرپرستی مدارس جمهوری اسلامی ایران ( امارات عربی متحده	محل مهر امتحانات
نام و نام خانوادگی :	مجمع آموزشی امام خمینی (ره) ابوظبی	نمره با عدد
نام دبیر : آقای چراغی	کلاس : .....	نمره با حروف
آزمون درس : نرم افزارهای اداری	نوبت امتحان : شهریور	امضاء دبیر
زمان آزمون: ۷۰ دقیقه	تاریخ آزمون: ۱۳۸۹/۶/۵	صفحه: ۵

- ۵۴- از کدام یک از زبانه های موجود در access برای ایجاد شیئی جدید استفاده می شود؟  
 الف) database sheet ب) home ج) create د) external data
- ۵۵- کدام یک از گزینه ها نشان دهنده پسوند فایل بانک اطلاعاتی در نسخه ۲۰۰۷ است؟  
 الف) .mdb ب) .accdb ج) .docx د) .xlsx

### سوالات Share point

- ۵۶- برنامه sharepoint چه کاربردی دارد؟  
 الف) واژه پرداز ب) ارایه مطلب ج) بانک اطلاعاتی د) ایجاد سایت وب
- ۵۷- کدام گزینه مجموعه ای از فایل های مستقل و مرتبط با یکدیگر است؟  
 الف) اینترنت ب) صفحه وب ج) سایت وب د) اینترنت
- ۵۸- کدام پنجره برای طراحی سبک ها و استفاده آن در طراحی صفحات کاربرد دارد؟  
 الف) پنجره طراحی ب) پنجره سبک ها ج) پنجره خواص د) لیست پوشه ها
- ۵۹- غیر فعال کردن پنجره های پیش فرض از طریق کدام منو انجام می گیرد؟  
 الف) panes task ب) file ج) format د) edit
- ۶۰- کدام یک از نماهای زیر، جزو نماهای مختلف نرم افزار sharepoint نیست؟  
 الف) نمای طراحی ب) نمای کد نویسی ج) نمای جداکننده د) نمای پیش فرض
- ۶۱- کدام صفحه وب سایت در هنگام مراجعه کاربران به طور معمول در ابتدا نمایش داده می شود؟  
 الف) صفحه گالری تصاویر ب) صفحه عضویت سایت  
 ج) صفحه اصلی د) صفحه پرسش و پاسخ
- ۶۲- کدام گزینه برای کوچک کردن تصاویر اضافه شده به صفحه به کار می رود؟  
 الف) thumbnail auto ب) picture  
 ج) image د) insert
- ۶۳- کدام گزینه صفحات طراحی شده را به لیست پوشه ها اضافه می نماید؟  
 الف) file>>new ب) save ج) insert د) close
- ۶۴- کدام زبانه جهت تغییر پس زمینه صفحات وب از کادر محاوره properties page کاربرد دارد؟  
 الف) general ب) advanced ج) custom د) formatting

### سوالات نرم افزار Visio

- ۶۵- برنامه windows visio 2007 چه کاربردی دارد؟  
 الف) طراحی ب) رسم دیاگرام ج) نقشه کشی د) بانک اطلاعات
- ۶۶- برای تنظیم خط کشی ها از چه منویی استفاده می شود؟  
 الف) format ب) tools ج) shap د) insert

شماره صندلی:

بسمه تعالی

سرپرستی مدارس جمهوری اسلامی ایران در امارات عربی متحده  
مجتمع آموزشی امام خمینی (ره) - ابوظبی

۱۳۸۹/۶/

تاریخ آزمون:

نام خانوادگی:

نام:

نام دبیر: آقای چراغی  
کلاس: دوم کار دانش

پاسخنامه درس: نرم افزار های اداری  
پایه: متوسطه

۱	۲	۳	۴	۵	۶	۷	۸	۹	۱۰	۱۱	۱۲	۱۳	۱۴	۱۵	۱۶	۱۷	۱۸
۱۹																	
۲۰																	
۲۱																	
۲۲																	
۲۳																	
۲۴																	
۲۵																	
۲۶																	
۲۷																	
۲۸																	
۲۹																	
۳۰																	
۳۱																	
۳۲																	
۳۳																	
۳۴																	
۳۵																	
۳۶																	
۳۷																	
۳۸																	
۳۹																	
۴۰																	
۴۱																	
۴۲																	
۴۳																	
۴۴																	
۴۵																	
۴۶																	
۴۷																	
۴۸																	
۴۹																	
۵۰																	
۵۱																	
۵۲																	
۵۳																	
۵۴																	
۵۵																	
۵۶																	
۵۷																	
۵۸																	
۵۹																	
۶۰																	
۶۱																	
۶۲																	
۶۳																	
۶۴																	
۶۵																	
۶۶																	
۶۷																	
۶۸																	
۶۹																	
۷۰																	
۷۱																	
۷۲																	

توجه: پاسخ سؤالات تشریحی را پشت همین برگه بنویسید.

	نمره خام
	نمره منفی
	نمره با عدد
	نمره با حروف

در این قسمت چیزی ننویسید:

نام و نام خانوادگی دبیر - امضا

نام و نام خانوادگی:	باسمه تعالی	تاریخ: ۸۹/۳/۱۱
نام پدر:	اداره کل مدارس خارج از کشور	نام دبیر: غلامی
شعبه ی کلاس:	سرپرستی مدارس جمهوری اسلامی ایران در امارات عربی متحده	تعداد صفحه: ۷
پایه: دوم رشته: کامپیوتر	مجمع آموزشی شارجه (دوره متوسطه) (خرداد ماه ۸۹)	مدت پاسخگویی: ۵۰ دقیقه
نمره به عدد:	نمره به حروف:	نام و نام خانوادگی مصحح و امضاء:

### نرم افزارهای اداری تکمیلی

۱- برای تغییر زبان صفحه کلید در برنامه open office writer از چه کلیدهایی استفاده می شود

الف) ctrl + shift      ب) alt + shift      ج) del + shift      د) ctrl + del

۲- برنامه open office impress چه کاربردی دارد

الف) بانک اطلاعاتی      ب) ارایه مطالب      ج) واژه پرداز      د) صفحه گسترده

۳- پسوند فایل ها به طور پیش فرض در برنامه openoffice impress چیست

الف) ods      ب) odp      ج) odt      د) pdf

۴- متن هایی که از خاصیت سازمان دهی غیر خطی برخوردار باشند چه نامیده می شوند

الف) text      ب) hyper text      ج) html      د) site

۵- به مجموعه فیلدهای مرتبط با یک موضوع چه گفته می شود

الف) فایل      ب) جدول      ج) رکورد      د) بانک اطلاعاتی

۶- برای ایجاد بخش جدید از کدام گزینه استفاده می شود

الف) new page      ب) new notebook      ج) new section      د) new subpage

۷- برنامه sharepoint چه کاربردی دارد

الف) واژه پرداز      ب) ارایه مطلب      ج) بانک اطلاعاتی      د) ایجاد سایت وب

۸- برای قرار دادن تصویر در بانک اطلاعاتی از کدام نوع داده استفاده می شود

الف) lookup wizard      ب) memo      ج) number      د) ole object



۹- از کدام یک از زبانه های موجود در access برای ایجاد شیئی جدید استفاده می شود

الف) database sheet (ب) home (ج) create (د) external data

۱۰- برای چاپ اطلاعات روی برچسب از کدام یک از دکمه های موجود در زبانه create استفاده می شود

الف) report design (ب) label (ج) report (د) blank report

۱۱- برای ایجاد گزارش با استفاده از ویزارد report انجام کدام یک از عملیاتهای زیر ضروری است

الف) گروه بندی داده ها (ب) تعیین سبک گزارش (ج) انتخاب فیلدهای گزارش (د) مرتب سازی

۱۲- برای راست چین یا چپ چین کردن متن موجود در کنترل برچسب یا کنترل متن از کدام یک از گروه های زبانه design

استفاده می شود

الف) controls (ب) views (ج) tools (د) font

۱۳- برنامه ۲۰۰۷ microsoft visio چه کاربردی دارد

الف) طراحی (ب) رسم دیاگرام (ج) نقشه کشی (د) بانک اطلاعاتی

۱۴- نسخه استاندارد برنامه visio برای کدام یک از کاربران زیر مناسب تر است

الف) متخصصین شبکه (ب) طراحان وب (ج) فعالان تجاری (د) کاربران فنی

۱۵- برای انتقال از یک ترسیم به ترسیم دیگر یا صفحات وب از چه قابلیت در visio استفاده می شود

الف) تولید ترسیم داده ها (ب) استفاده از فوق پیوند (ج) عملکرد چند محیطی با سایر برنامه ها (د) گزارش گیری

۱۶- مهم ترین عنصر در نرم افزار visio کدام گزینه است

الف) pointer tool (ب) flowchart (ج) shape (د) stencil

۱۷- به هر یک از دسته های مختلف سازماندهی اشکال ..... می گویند

الف) pointer tool (ب) flowchart (ج) shape (د) stencil

۱۸- به مجموعه قوانینی که با رعایت آن ها سرویس دهی در شبکه برقرار می شود چه می گویند

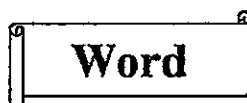
الف) سرویس دهنده (ب) سرویس گیرنده (ج) محیط انتقال (د) پروتکل

۱۹- کدام گزینه برای ورود نام فیلد به جدول به کار می رود

الف) physical name (ب) data type (ج) rows (د) columns

۲۰- برای رسم دیاگرام uml از کدام دسته از الگوها استفاده می شود

الف) general (ب) network (ج) software and database (د) business



۲۱- برای تبدیل صفحه کلید از حالت تایپ فارسی به لاتین از چه کلید ترکیبی استفاده می شود

الف) alt+ctrl (ب) ctrl+shift

ج) alt+shift (د) ctrl+space

۲۲- از کدام کلید ترکیبی برای انتخاب کل سند استفاده می کنیم

الف) ctrl+click (ب) ctrl+shift+click (ج) ctrl+end (د) ctrl+a

۲۳- کدام یک از گزینه های زیر جزو کاربرد خط کش عمودی استفاده می شود

الف) تنظیم حاشیه های بالا و پایین (ب) تنظیم حاشیه های چپ و راست (ج) تنظیم. htabها (د) تنظیم میزان تورفتگی

۲۴- برای کپی متن با استفاده از صفحه کلید و درج آن در محل دلخواه از چه کلیدی استفاده می شود

الف) f۲ (ب) ctrl+v (ج) ctrl+c (د) shift+f۲

۲۵- برای تنظیم حاشیه های سند از کدام کلید استفاده می شود

الف) column (ب) size (ج) margins (د) orientation

۲۶- برای افزودن کادر به صفحه از کدام گزینه استفاده می شود

الف) insert > page break (ب) page layout > page border

ج) insert > page border (د) page setup > line number

۲۷- کاربر می تواند ..... را در یک الگو ذخیره کند

الف) تنها متن ها (ب) تنها تصاویر (ج) تنها قالب بندی ها (د) کلیه عناصر متنی و تصویری

۲۸- هر الگو چند بار توسط کاربر می تواند مورد استفاده قرار گیرد

الف) یک بار (ب) دو بار (ج) سه بار (د) به هر تعداد که کاربر مایل باشد

۲۹- کدام کلید برای بررسی و تصحیح یکباره ایرادهای دستوری و املائی استفاده می شود

الف) ctrl + f۲ (ب) f۳ (ج) f۷ (د) shift + f۱۲

۳۰- برای ایجاد یک جدول به روش ترسیم از کدام گزینه استفاده می شود

الف) draw table (ب) insert table (ج) convert table (د) delete table

۳۱- برای تراز کردن متن داخل جدول از چه دکمه ای استفاده می شود

الف) text direction (ب) alignment (ج) cell margins (د) select

۳۲- برای تنظیم رنگ داخل یک شکل از کدام دکمه استفاده می شود

الف) shape outline (ب) shape fill (ج) change shape (د) shape style

۳۳- برای کار با ماکروها در گروه code به کدام زبانه مراجعه می شود

الف) mailings (ب) insert (ج) references (د) developer

۳۴- بطور پیش فرض چه نامی برای سند ایجاد شده به روش ادغام پستی انتخاب می شود

الف) mailings (ب) letters (ج) mail (د) documents

۳۵- برای چاپ صفحه جاری کدام گزینه را در کادر محاوره print انتخاب می کنیم

الف) all (ب) odd pages (ج) current page (د) selection



۳۶- در نسخه نرم افزار excel ۲۰۰۷ به جای نوار ابزار از چه عنصری استفاده می شود

الف) ریبون (ب) منو (ج) خط فرمان (د) جعبه ابزار

۳۷- به طور پیش فرض چند کاربرگ در کارپوشه های جدید قرار دارد

الف) صفر (ب) تعداد در زمان ساخت کارپوشه از کاربرگ در یافت می شود (ج) ۳ (د) ۱

۳۸- کدام نوع محتوا را می توان در سلول وارد کرد

الف) عدد و تصویر (ب) صدا و فرمول (ج) نمودار و تصویر (د) فرمول و تاریخ

۳۹- کدام گزینه در مورد حذف سلول صحیح است

- الف) بعد از پاک شدن هر سلول ، سلول جدیدی به جای آن قرار می گیرد  
ب) سلول های کاربرگ ها را نمی توان پاک کرد بلکه می توان محتوای آن ها را پاک کرد  
ج) فقط می توان سلول های کل یک ردیف یا کل یک ستون را پاک کرد  
د) بعد از پاک شدن سلول آدرس برخی سلول ها تغییر می کند

۴۰- پیش فرض رنگ پس زمینه سلول ها چیست ؟ گزینه آن چه نام دارد

- الف) رنگ سفید ، گزینه white  
ب) رنگ سفید ، گزینه default  
ج) بدون رنگ ، گزینه no fill  
د) بستگی به تنظیم های ویندوز دارد

۴۱- برای مرور قسمت های مختلف یک کاربرگ کدام قابلیت کاربرد بیشتری دارد

- الف) ثابت سازی (freeze)  
ب) چند پنجره کردن (window arranging)  
ج) چند تکه کردن نما (split)  
د) راه حلی وجود ندارد

۴۲- کدام گزینه در مورد تعیین بزرگنمایی درست نیست ؟

- الف) تغییر بزرگنمایی تا ثیری در محاسبات ندارد  
ب) تغییر بزرگنمایی در کاربرگ ها یی ممکن است که هنوز محتوایی نداشته باشند  
ج) تغییر بزرگنمایی قالب بندی را تغییر نمی دهد  
د) بزرگنمایی پیش فرض ۱۰۰٪ است

۴۳- مطلق یا نسبی بودن آدرس دهی ها چه زمانی تأثیر دارد

- الف) همواره موثر است    ب) در زمان کپی کردن فرمول ها    ج) در زمان محاسبه فرمول ها    د) در زمان عیب یابی فرمول ها

۴۴- اگر a1 و a2 به ترتیب مقدار ۱ و ۳ داشته باشند و این مقادیر را با ماوس تا a1۰ کپی کنیم مقدار a9 چه خواهد بود

- الف) ۱    ب) ۳    ج) ۱۷    د) مقداری نمی گیرد

۴۵- برای حذف نمودار روی ..... کلیک کرده ، کلید delete را می فشاریم

- الف) عنوان نمودار    ب) محور نمودار    ج) راهنمای نمودار    د) کل نمودار

۴۶- کدام مشخصه با جانمایی نمودار تغییر می کند

- الف) نوع نمودار    ب) محل قرار گیری عناصر نمودار    ج) مکان قرار گیری نمودار    د) ارجاع های نمودار

۴۷- اگر برای یک فیلتر دو شرط وارد شده باشد ترکیب شرط ها چگونه انجام خواهد شد

- الف) ترکیب با عملگر and و or (به دلخواه)  
ب) ترکیب با عملگر and  
ج) ترکیب با عملگر or  
د) ترکیب بدون عملگر انجام می شود

۴۸- کدام قابلیت اشتباهات تایپی را کاهش می دهد

- الف) مرتب سازی  
ب) فیلتر  
ج) قید ورود داده  
د) سیستم حفاظتی کاربرگ

۴۹- اگر محدوده چاپ تعریف نشود چه اتفاقی خواهد افتاد

- الف) سند چاپ نخواهد شد  
ب) کل کاربرگ چاپ خواهد شد  
ج) کل کار پوشه چاپ خواهد شد  
د) محدوده را excel تخمین می زند

۵۰- حاشیه کاغذ را تا چه اندازه می توان کم کرد

- الف) تا اندازه ای که محتوا اجازه دهد  
ب) تا حداقل مقداری که چاپگر اجازه دهد  
ج) محدودیتی وجود ندارد  
د) تا مقدار ۵ میلیمتر

## Power point

۵۱- برای ارایه نمایش از کدام یک از نماها استفاده می شود

- الف) normal  
ب) notes page  
ج) slide show  
د) slide sorter

۵۲- ارایه کننده نمایش در کدام قسمت از پنجره power point می تواند تمام اسلایدهای موجود نمایش را مشاهده کند

- الف) ناحیه یادداشت  
ب) ناحیه اسلاید  
ج) زبانان slides  
د) زبانان outline

۵۳- از کدام دکمه می توان برای وارد کردن یک کادر متنی استفاده کرد

- الف) word art  
ب) text box  
ج) smart art  
د) book mark

۵۴- برای تغییر اندازه فونت از کدام زبانان استفاده می شود

- الف) format  
ب) home  
ج) insert  
د) view

۵۵- با استفاده از کدام زبانان می توان رنگ پس زمینه اسلاید را تغییر داد

- الف) format  
ب) home  
ج) design  
د) view

تاریخ: ۸ / ۳ / ۸۹

باسمه تعالی

نام و نام خانوادگی :

نام دبیر: شفیع

اداره کل مدارس خارج از کشور

نام پدر :

تعداد صفحه: ۳

سرپرستی مدارس جمهوری اسلامی ایران در امارات عربی متحده

نام درس : ادبیات فارسی ۲ - کار دانش

مدت پاسخگویی: ۷۰ دقیقه

مجتمع آموزشی شارجه ( مقطع متوسطه )

شعبه ی کلاس :



نام و نام خانوادگی مصحح و امضا :

نمره به حروف :

نمره به عدد :

بارم	ردیف
	<b>الف . معنی ابیات و عبارات زیر را به نثر ساده و روان بنویسید . ( ۶ نمره )</b>
۰/۷۵	۱ - به دو چشم خون فشانم هله ای نسیم رحمت / که زکوی او غباری به من آر توتیارا
۰/۷۵	۲ - می بهشت ننوشم زجام ساقی رضوان / مرا به باده چه حاجت که مست بوی تو باشم
۰/۷۵	۳ - بدین زور و زر دنیا چو بی عقلان مشو غره / که این آن نوبهاری نیست کش بی مهرگان بینی
۰/۷۵	۴ - فی الجملة نماند از معاصی منکری که نکرد و مسکری که نخورد .
۰/۱۵	۵ - تنها همان رتبه های بالارا وعده بگیر و مابقی را نقداً خط بکش
۰/۱۵	۶ - امروز به غم فزون ترم از دی / و امسال به نقد کمتر از پARM
۰/۱۵	۷ - در تنگنای سینه ی حسرت کشیده ام / گهواره ی بصیرت مردان نهفته است
۰/۱۵	۸ - در سخن مخفی شدم مانند بو در برگ گل / هر که خواهد دیدنم گو در سخن بیند مرا
۰/۱۵	۹ - دری که به باغ بینش ما گشوده ای / هزار بار خیبری تر است
۰/۲۵	۱۰ - رعایای کرمان به عرض آمده بودند.
۰/۲۵	۱۱ - بر بساطی که بساطی نیست .

## ب. خود آزمایی ( ۳ نمره )

- ۱ - چرا نویسنده ی جلوه های هنر در اصفهان نقش کاشی ها را " بهار منجمد " نامیده است ؟  
۰/۱۵
- ۲ - ابن بطوطه به چه رسمی در نماز جماعت اشاره می کند ؟  
۰/۱۵
- ۳ - زیتون نماد چیست و نشانه ی کدام کشور است ؟  
۰/۱۵
- ۴ - چرا شعر حمله ی حیدری یک حماسه ی مصنوع به شمار می رود ؟  
۰/۱۵
- ۵ - مفهوم کنایی عبارات زیر را بنویسید :  
۱ - ۵ ) چند مرده حلاج بودن :  
۲ - ۵ ) در انتظار غبار بی سوار نشستن :

## ج. معنی لغات مشخص شده را بنویسید .

- ۱ - سومی خادم سماط بود .  
۲ - بی زلفت و بی گناه محبوسم .  
۳ - اوراد و ادکاری برایش می خواندند .  
۴ - ایشان بسیار مشعوف شدند .  
۵ - سبک تقریر او تقلیدی بود .  
۶ - گل ها و بوته ها حالت مجرد دارند .  
۷ - مثل جرز خیس خورده وارفت .  
۸ - فلک باخت از سهم آن جنگ رنگ .

## د. دانشن های ادبی ( ۳ نمره )

- ۱ - آرایه ها را مشخص کنید .  
۱-۱) جامه اش شولای عربانی است .  
۱-۲) سعدی از سرزنش غیر نترسد هیهات / غرقه در نیل چه اندیشه کند باران را  
۱-۳) خورده قسم اختران به پاداشم / بسته کمر آسمان به پیکارم  
۲ - آثار زیر از چه کسانی است ؟  
الایام : کویر : بینوایان :  
۳ - به کدام قسمت قصیده بیت تخلص می گویند ؟  
۴ - نخستین مجموعه ی داستان های کوتاه با چه عنوانی منتشر شد ؟  
۵ - مسعود سعدسلمان در چه قرنی می زیست ؟ شهرت او به چه دلیلی است ؟

نام و نام خانوادگی :

باسمه تعالی

تاریخ: ۸ / ۳ / ۸۹

نام پدر :

اداره کل مدارس خارج از کشور

نام دبیر: شفيعی

نام درس: ادبیات فارسی ۲ - کار دانش

سرپرستی مدارس جمهوری اسلامی ایران در امارات عربی متحده

تعداد صفحه: ۳

شعبه ی کلاس:

مجتمع آموزشی شارجه (مقطع متوسطه)

مدت پاسخگویی: ۷۰ دقیقه

بارم	ردیف
	<b>۵. درک مطلب (۴ نمره)</b>
۰/۱۵	۱ - مرجع ضمیر " تو " در مصراع اول و دوم بیت زیر چیست ؟ هزار بادیه سهل است باوجود تو رفتن / اگر خلاف کنم سعدیا به سوی تو باشم
۰/۱۵	۲ - با توجه به " شعر سپید من رو ستیاه ماند / که در فضای تو به بی وزنی افتاد " بنویسید شاعر به کدام ویژگی های شعر خود اشاره دارد ؟
۰/۱۵	۳ - با توجه به بیت " آینه ی سکندر جام می است بنگر / تا بر تو عرضه دارد احوال ملک دارا " بنویسید منظور از " جام می " چیست ؟
۰/۱۵	۴ - منظور از " کنج غربت " در بیت " و پیدا نکردم در آن کنج غربت / به جز آخرین صفحه ی دفترت را " چیست ؟
۰/۱۵	۵ - در عبارت " نرون مرد ولی رم نمرده است " بتوسید منظور از " نرون " و " رم " چیست ؟
۰/۱۵	۶ - در شعر باغ من منظور از " میوه های سر به گردون سا " چیست ؟
۱	۷ - با توجه به ابیات زیر به سوالات مطرح شده پاسخ دهید . تو یک ساعت چو افرینون به میدان باش تا زان پس / به هرجانب که روی آری درفش کاویان بینی عنان گیر تو گر روزی جمال درد دین باشد / عجب نبود که با ابدال خود را هم عنان بینی زیزدان دان نه از ارکان که کوته دیدگی باشد / که خطی کز خرد خیزد تو آن را از بنان بینی ۱ - ۷ . به نظر شاعر در چه صورت انسان می تواند با ابدال هم عنان گردد ؟ ۲ - ۷ . درفش کاویان نماد چیست ؟ ۳ - ۷ . مقصود از « ارکان » چیست ؟
۲	<b>و. حفظ شعر</b>
	۱ - دم به دم در هر لباسی ..... لحظه لحظه .....
	۲ - شور و غوغایی برآمد از جهان .....
	۳ - قایق از تور تهی / ..... / هم چنان خواهم راند / ..... / دل خواهم بست / ..... نه به دریا - پریانی که ..... / و در آن تابش تنهایی ماهی گیران / ..... / همچنان خواهم راند

نویسنده: رضا رزاقی



نام و نام خانوادگی:	باسمه تعالی	تاریخ: ۸۹/۳/۳
نام پدر:	اداره کل مدارس خارج از کشور	نام دبیر: غلامی
شعبه ی کلاس:	سرپرستی مدارس جمهوری اسلامی ایران در امارات عربی متحده	تعداد صفحه: ۴
پایه: دوم	مجمع آموزشی شارجه (دوره متوسطه) خرداد ماه ۸۹	مدت پاسخگویی: ۴۰ دقیقه
نمره به عدد:	نمره به حروف:	نام و نام خانوادگی مصحح و امضاء:

### سیستم عامل

۱- در کادر turn off computer گزینه ..... باعث راه اندازی مجدد کامپیوتر می شود

hibernate (الف) stand by (ب) restart (ج) log off (د)

۲- برای انتخاب چند آیکن پراکنده از چه کلیدی همراه ماوس استفاده می شود

alt (الف) ctrl (ب) shift (ج) enter (د)

۳- تصاویر کوچک گرافیکی که معرف برنامه وسایر موضوعاتی است که با آنها سرو کار داریم ..... نام دارد

آیکن (الف) پوشه (ب) فایل (ج) دکمه شروع (د)

۴- زمانی که تمام محتویات پنجره قابل مشاهده نباشد کدام نوار موجب مشاهده محتویات یک پنجره می شود

الف) نوار منو (ب) نوار وظیفه (ج) نوار آدرس (د) نوار پیمایش

۵- در نوار منو فشار دادن چه کلیدی همراه با حرفی که زیر آن خط کشیده شده است باعث باز شدن منوی مربوطه می شود

shift (الف) ctrl (ب) alt (ج) home (د)

۶- کدام یک از پسوند های زیر مربوط به یک فایل اجرایی است

exe (الف) bmp (ب) dat (ج) txt (د)

۷- برای تغییر نام پوشه ها و فایل ها از کدام کلید می توان استفاده نمود

الف) f۶ (ب) f۳ (ج) f۲ (د) f۴

۸- کدام یک از روش های نمایش محتوای پنجره ها را به صورت تصاویر کوچک گرافیکی نمایش می دهد

list (الف) thumbnails (ب) tiles (ج) details (د)

۹- کدام یک از روش های قرار گیری تصویر در زمینه میز کار آن را در وسط صفحه قرار می دهد

center (الف) stretch (ب) tile (ج) cascade (د)

- ۱۰- واحد اندازه گیری صفحه نمایش چیست  
 الف) resolution (ب) پیکسل (ج) display (د) بایت
- ۱۱- برای ذخیره کردن سند از کدام کلید ترکیبی استفاده می شود  
 الف) alt+s (ب) alt+c (ج) ctrl+s (د) shift+s
- ۱۲- برای نمایش یک متن به صورت زیر خط دار از کدام کلید ترکیبی استفاده می شود  
 الف) ctrl +b (ب) ctrl+l (ج) ctrl+u (د) ctrl+x
- ۱۳- در کدام زبانه تنظیمات صدا می توان صدای رویدادهای ویندوز را تغییر داد  
 الف) volume (ب) sound (ج) audio (د) voice
- ۱۴- برای انجام تنظیمات منطقه ای و زبان از کدام برنامه استفاده می شود  
 الف) regional and language options (ب) date and time (ج) display (د) power options
- ۱۵- برای لغو عملیات چاپ یک سند منتظر در صف چاپ باید پس از کلیک راست روی سند ، روی گزینه .... کلیک کرد  
 الف) pause (ب) resume (ج) cancel (د) delete
- ۱۶- برنامه sound recorder کدام قالب صوتی استاندارد را پشتیبانی می کند  
 الف) wav (ب) mp۳ (ج) mp۴ (د) تمام قالبهای صوتی را پشتیبانی می کند
- ۱۷- برای فعال کردن ماشین حساب علمی از کدام گزینه از منوی view استفاده می شود  
 الف) standard (ب) scientific (ج) sqrt (د) calculator
- ۱۸- خطوط قرمز در پنجره disk defragmenter به چه معناست  
 الف) فایل های گسسته (ب) فایل های پیوسته (ج) فضای پیوسته (د) فایل های قابل جابجایی
- ۱۹- برای ترمیم خطاهای یک درایو در پنجره خصوصیات آن باید وارد کدام زبانه شد  
 الف) general (ب) sharing (ج) hardware (د) tools
- ۲۰- کاربرانی که هنگام نصب ویندوز ایجاد می شوند از چه نوعی هستند  
 الف) محدود (ب) میهمان (ج) مدیر سیستم (د) نامشخص

## مفاهیم پایه فن آوری اطلاعات

۲۱- در کامپیوتر واحد ALU یعنی :

الف) واحد حافظه اصلی      ب) واحد حافظه جانبی      ج) واحد کنترل      د) واحد محاسبه و منطق

۲۲- وقتی برنامه ای آماده پردازش یا اجرا می شود در کدام قسمت قرار می گیرد

الف) ram      ب) rom      ج) eprom      د) prom

۲۳- کدام از دستگاه های زیر خروجی است

الف) صفحه کلید      ب) پویسگر      ج) رسام      د) اهرم هدایت

۲۴- کدام یک از موارد زیر جزو شکاف های ویژه کارت ها نیست

الف) agp      ب) pci      ج) isa      د) ps۲

۲۵- دستگاهی که برای تبادل داده های دیجیتال میان کامپیوتر ها از طریق خط تلفن مورد استفاده قرار می گیرد . . . . . است

الف) مودم      ب) کارت ویدیو      ج) کارت tv      د) کارت صدا

۲۶- برنامه وازه پرداز word چه نوع برنامه ای است

الف) نرم افزار سیستمی      ب) نرم افزار گرافیکی      ج) نرم افزار کاربردی      د) زبان برنامه نویسی

۲۷- کدامیک از شبکه های زیر معمولا برای اتصال دفاتر یک سازمان در یک شهر استفاده می شوند و می توانند اختصاصی یا عمومی باشند

الف) شبکه wan      ب) شبکه lan      ج) شبکه man      د) شبکه اینترنت

۲۸- تجارت الکترونیکی و پست الکترونیکی در قالب چه مفهومی قرار می گیرد

الف) مدیریت اطلاعات      ب) سازماندهی الکترونیکی      ج) امنیت اطلاعات      د) جهان الکترونیکی

۲۹- یکی از مهم ترین روش ها برای نگهداری و ذخیره سازی اطلاعات است

الف) استفاده از ups      ب) تهیه نسخه پشتیبان      ج) به روز رسانی اطلاعات      د) ارسال اطلاعات در سطح شبکه

۳۰- در نرم افزار های . . . . . علاوه بر نسخه ترجمه شده ، کد اولیه نیز در اختیار متقاضیان قرار می گیرد

الف) رایگان      ب) متن باز      ج) سیستمی      د) کاربردی

## اینترنت

۳۱- به آدرس منحصر به فرد یک صفحه وب در اینترنت چه می گویند

domain (الف)      site (ب)      url (ج)      isp (د)

۳۲- به عملیات ذخیره سازی صفحات وب بر روی دیسک سخت برای مراجعه سریع بعدی چه می گویند

proxy (الف)      cache (ب)      cookie (ج)      firewall (د)

۳۳- برای ذخیره نمودن تصاویر در وب ، پس از راست کلیک بر روی تصویر ، چه گزینه ای را انتخاب می کنیم

show picture (الف)      save picture as (ب)      save as picture (ج)      goto my picture (د)

۳۴- اگر بخواهیم نامه دریافت شده را برای افراد دیگری بفرستیم از کدام دکمه استفاده می کنیم

forward (الف)      work offline (ب)      reply all (ج)      send (د)

۳۵- نامه های ناقص را برای نگهداری موقت در پوشه ..... قرار می دهند

inbox (الف)      document (ب)      outbox (ج)      draft (د)

۳۶- برای ارسال نامه ای که افراد دیگر از آن بی اطلاع باشند آدرس آن را در کادر ..... می نویسیم

bc (الف)      cc (ب)      bcc (ج)      to (د)

۳۷- الصاق یک فایل به نامه برای ارسال را ..... می گویند

send (الف)      receive (ب)      attachment (ج)      recipients (د)

۳۸- هر گاه پوشه ای را حذف کنیم آن پوشه به پوشه ..... انتقال می یابد

recycle bin (الف)      outbox (ب)      trash (ج)      delete items (د)

۳۹- کدام یک از روشهای انتقال ، ویروس را سریعتر منتشر می کند

الف) از طریق اینترنت      ب) از طریق cd آلوده      ج) از طریق دیسک آلوده      د) از طریق شبکه

۴۰- ویروسهای ..... از طریق نامه های الکترونیکی وارد کامپیوتر می شوند

الف) اینترنتی      ب) سیستمی      ج) مخرب      د) مقیم در حافظه

باسمه تعالی	اداره کل مدارس خارج از کشور	نام:
تاریخ: ۱۳۸۹/۳/۱	سرپرستی مدارس جمهوری اسلامی ایران در امارات عربی متحده	نام خانوادگی:
تعداد صفحه: ۳	مجمع آموزشی شارجه - مقطع متوسطه	نام کلاس:
نام دبیر: شادگانی	سال تحصیلی ۱۳۸۸-۱۳۸۹	سوالات ماده درسی: دین و زندگی
صفحه: ۱	مدت پاسخ گویی: ۷۰ دقیقه	پایه: دوم

	نمره به عدد:	نمره به حروف:	تاریخ و امضا:
بارم	ردیف	سوالات	
۰	۱	<p>آیات ذیل را بخوانید و به سوالات مربوط به آن پاسخ دهید.</p> <p>الف- قُلْ إِنْ كُنْتُمْ تُحِبُّونَ اللَّهَ فَاتَّبِعُونِي.....</p> <p>يُحِبِّكُمْ اللَّهُ. تا خدا شمارا دوست بدارد</p> <p>وَيَغْفِرْ لَكُمْ ذُنُوبَكُمْ .....</p> <p>۱- ترجمه ی آیه را کامل کنید.</p> <p>۲- در این آیه به کدامیک از آثار محبت به خدا اشاره شده است؟</p> <p>ب- هُوَ الَّذِي أَنْزَلَ مِنَ السَّمَاءِ مَاءً لَكُمْ مِنْهُ شَرَابٌ.</p> <p>۱- ترجمه ی آیه را بنویسید؟</p> <p>۲- ذکر نعمت های الهی در قرآن چه فوایدی دارد؟</p>	۱ ۵ ۱ ۱
۲	۲	<p>جملات ذیل را با کلمات مناسب کامل کنید.</p> <p>الف- امام عصر (عج) فرمود: هیچ چیز مانند..... بینی شیطان را به خاک نمی مالد.</p> <p>ب- به اعمالی که آثار و نتایج آن ها محدود به دوران عمر انسان باشد و با مرگ شخص پرونده ی آن ها بسته شوند، اعمال..... می گویند.</p> <p>ج- پوشش مناسب از نشانه های عفاف و..... است.</p> <p>د- در بینش اسلامی منشأ اصلی کسب مال و درآمد..... می باشد.</p>	

۱۵	<p>کدامیک از موارد زیر صحیح نمی باشد.</p> <p>الف- روح آدمی دچار هیچ تغییری نمی شود.</p> <p>ب- روح آدمی تغییرات بسیاری می پذیرد.</p> <p>ج- روح آدمی تجزیه و تحلیل نمی پذیرد.</p> <p>د- روح آدمی فرسوده و مستهلک نمی شود.</p>	۳
۱۵	<p>درپاداش و کیفری که محصول طبیعی عمل است؛</p> <p>الف- می توانیم باتغییر قوانین آن هارا تغییر دهیم. ب- باید خود را با آن تطبیق دهیم.</p> <p>ج- تناسب بین جرم و کیفر مهم است. د- براساس قرارداد تعیین می شوند.</p>	۴
۱۵	<p>در کدام یک از موارد زیر امر به معروف ونهی از منکر واجب نیست؟</p> <p>الف- بدانیم که چیزی را که شخص ترک کرده از واجبات است.</p> <p>ب- بدانیم که شخص گناه خود را تکرار نمی کند.</p> <p>ج- در امر ونهی مفسده ای وجود نداشته باشد.</p> <p>د- احتمال دهیم که باتکرار یا تغییر روش امر ونهی مؤثر واقع می شود.</p>	۵
۱	<p>صحیح و غلط جملات ذیل را مشخص کنید.</p> <p>الف- کسانی که مرگ را پایان زندگی می دانند، انگیزه ی کار و تلاش بیشتری در زندگی دارند.</p> <p>ب- عمر موجودات و نظام های این دنیای به هم پیوسته، نامحدود و دائمی نیست.</p>	۶
۳	<p>به سؤالات ذیل پاسخ کوتاه بدهید.</p> <p>الف- از نظر حضرت علی (ع) دشمن ترین دشمن انسان کیست؟</p> <p>ب- از نظر امام صادق (ع) ارواح مؤمنان به چه صورتی در بهشت هستند؟</p> <p>ج- از نظر رسول خدا (ص) چه کسی در کار خیر و شر دیگران سهیم است؟</p> <p>د- از نظر قرآن کریم راه درست افزایش ثروت چیست؟</p> <p>ه- از نظر حضرت علی (ع) چرا برناموی مالیات باید به گونه ای تنظیم شود که به صلاح مالیات دهندگان باشد؟</p> <p>و- به طلا و نقره در چه صورت زکات تعلق می گیرد؟</p>	۷
۱	<p>وقتی دوزخیان از خداوند تقاضا می کنند که آن هارا به دنیا باز گردانند، چه پاسخی می شنوند؟</p>	۸

باسمه تعالی

مجمع آموزشی امام خمینی (ره) پسرانه

سؤالات امتحان درس: عربی ۲/۱	کلاس: دوم	رشته: کار دانش	دوره تحصیلی: متوسطه
نام و نام خانوادگی:	تاریخ امتحان: ۸۹/۶/	مدت امتحان: ۷۰ دقیقه	

ردیف	متن سؤالات	نمره
۱	<p>تُرجم العبارات التالية الى الفارسية:</p> <p>الف: اللَّهُمَّ افْتَحْ عَلَيْنَا ابْوَابَ رَحْمَتِكَ.</p> <p>ب: اَطْلُبْ مِنْ شِبَابِنَا التَّمَسُّكَ بِالِاسْتِقْلَالِ.</p> <p>ج) و الاسلام منذ ظهوره شَجَّعَ المسلمين على التفكر و التعلم.</p> <p>د) بعث على بن ابي طالب زوجي الى الثغور.</p> <p>ه) ما فُطِنَ الظُّبى لوجودنا، فتوقَّف في نقطه.</p> <p>و) ساعدنى في هذا الصَّيدِ اَحَدُ ساكنى الجزيرة وهو خيرٌ بِمَسالكِ غاباتها.</p>	۳
۲	<p>انتخب الترجمة الصحيحة:</p> <p>الف) الهى أحل عُقْدَةً من لسانى .</p> <p>ب) بُشاشَةُ الوُجْهِ خَيْرٌ من سُخَاءِ الكَفِّ .</p> <p>ج) الفُروبُ لا يربد لكم غير ضياعكم .</p>	۱/۵
۳	<p>خدايا گره را از زبانم بگشا. <input type="checkbox"/></p> <p>خدايا گره از زبانم گشودى. <input type="checkbox"/></p> <p>خوش اخلاق بهتر از ثروتمند مى باشد. <input type="checkbox"/></p> <p>خوش رويى بهتر از گشاده دستى است. <input type="checkbox"/></p> <p>غرب به جز تباهى شما، برايتان نمى خواهد. <input type="checkbox"/></p> <p>غرب جز نابودى شما نخواسته بود. <input type="checkbox"/></p>	۱
۴	<p>صحح الاخطاء فى ترجمة العبارات (غلط های موجود در ترجمه را درست کن هر جمله دو غلط دارد)</p> <p>الف) كيف احدثت قطرات الماء ثقبا فى الصخرة .</p> <p>ب) فحزن السكاكى و ترك الدرس و المدرسة .</p> <p>ج) انا اتعجب من حالى و حالك .</p>	۱/۵

٥	اكتب الكلمة المطلوبة: الْتُمِينَة ( بالفارسيه ) : تُرى ( مترادف ) : بيخشيد ( بالعريه ) : الظاهر ( متضاد ) :	١
٦	كَيِّنِ الكلمات التي لها علامات فرعية: ( كلماتي را كه اعراب فرعي دارند مشخص كنيد و اعراب آنها را ذكر كنيد ) الف) اكرم اباك في جميع الاحوال . ب) اَلْفُ المسلمون رسائل كثيرة .	١
٧	انتخب اعراب المناسب للإسم المقصور و المنقوص . الف : هو الذي أرسل رسوله بالهدى . ( مرفوع تقديرأ ، منصوب تقديرأ ، مجرور تقديرأ ) ب : الناس لا يحبون الرضى عن نفسه . ( مرفوع تقديرأ ، مجرور تقديرأ ، منصوب باعراب ظاهري )	١
٨	نقش كلماتي را كه زیر آن خط است مشخص كنيد. ( فاعل - مفعول - مبتدا - خبر - جار ومجرور ) الف) وصل على بن الحسين الى بيته ب) القرآن دستور حياتنا اليومية . ج) اغفر لنا ذنوبنا .	١/٥
٩	عين نوع المعارف التي أشير اليها بخط . إن هذا القرآن يهدي للتي هي أقوم .	١
١٠	اقرأ النص ثم اجب عن الأسئلة: راى ذئبٌ جائع في المزرعة حمارين سمينين يأكلان العُشب. فأقبل نحو احدها. لما شاهدته الحمار المسكين تظاهر بالعرج فسأله الذئب عن السبب فأجاب الحمار كخلت في رجلى شوكة كبيرة و أحسُّ بالهم شديد. أخذ الذئبُ رجلَ الحمار و ضربه الحمار برجله و فرَّ. الف) ماذا فعل الحماران في المزرعة ؟ ب) متى تظاهر الحمار بالعرج ؟ ج) ما دخلت في رجل الحمار ؟ د) عين الصفة و المضاف اليه ( بك صفت و يك مضاف اليه را مشخص كنيد )	٢/٥
١١	للتشكيل ( حركت گذارى ) : ما عرف <u>الإنسان</u> حقيقة <u>القمور</u> .	٠/٥



٠/٥	اكمل الترجمة : الف : ليس من يقطع طريقاً بطلاً . كسى كه راهزنى كند .....	١٢
٣	اجعل فى القراخ كلمه مناسبه مما بين القوسين . الف) لاتعتمد على النفس ..... ( الامارة - الامارة - الامارة ) ب) رب اجعل ..... البلد آمنة . ( هذا - هذه - اولئك ) ج) وارسلنا الى ..... رسولا . ( فرعون - فرعون - فرعون ) د) ..... اقدر منك على تهيئه الخبز . ( انا - نحن - هو ) هـ) وزينا السماء الدنيا ..... ( بمصاييح ، بمصاييح ) و) الكتب ..... مفيدة للطلاب . ( النافع ، النافعة ، نافع )	١٣
١	صحح الاخطاء ( غلطها را اصلاح كنيد ) الف : يذهب كثير من المسلمون الى مكة . ب : الساعى فى الخير كفاعله .	١٤

أرجو لكم التوفيق والنجاح - شفيح زاده

باسمه تعالی  
 مجتمع آموزشی خدیجه کبری (س)  
 سال تحصیلی ۸۹ - ۸۸  
 نام درس : عربی (۲/۱)  
 رشته تحصیلی : کار دانش

نوبت امتحان : خرداد ۸۹  
 مدت امتحان : ۷۰ دقیقه

نام و نام خانوادگی :  
 پایه تحصیلی : دوم

ردیف	سوال	بارم
۱	ترجمی العبارات التالیه. الف) اللهم فرح قلبی. ب) اصل العالم سر غامض. ج) قصر الامال فی الدنيا تغز. د) ما قطن الطبی لوجودنا.	۳
۲	اُکتب زملی* (بالفارسیه) الظاهر (المضاد) چراغ (بالعربیة) الآمال (المرادف)	۱
۳	عین الصحیح فی الترجمة الف) کان السکاکی شخصاً امیاً ب) هرب الذئب نحو المزرعه ج) فانا وحش مفترس الف) سکاکی شخص با سوادی بود ب) سکاکی شخص بی سوادی بود الف) گرگ از مزرعه بیرون آمد ب) گرگ به سمت مزرعه فرار کرد الف) او یک حیوان وحشی است ب) من یک حیوان وحشی درنده هستم	۱/۵
۴	للتعریب من علم را می جویم	۱
۵	املاء الفراغ الف: ..... کوکب هامد ب: ..... یرشدک فی الحیاة ج: یجتهد ..... المدارس ( أبوک - معلّمو - القمر )	۱/۵
۶	صحح الاخطاء فی الترجمة حین شاهد أحد الحاضریین أخاه المسلم علی هذه الهیئة ضحک و قصّد استهزاءً أخیه. زمانی که حاضران برادران مسلمانان را بدین قیافه دیدند ، خندیدند و قصد مسخره کردن نمود. ۴ خطاء	۲
۷	عین نوع المعارف ( ۴ مورد ) هو الذی أرسل رسوله بالهدی	۲

باسمه تعالی  
مجتمع آموزشی خدیجه کبری (س)  
سال تحصیلی ۸۹ - ۸۸  
نام درس : عربی (۲/۱)  
رشته تحصیلی : کار دانش

نوبت امتحان : خرداد ۸۹  
مدت امتحان : ۷۰ دقیقه

نام و نام خانوادگی :  
پایه تحصیلی : دوم

۱/۵	۸	أكمل بالكلمه المناسبه الف) ..... يدافعون عن الوطن الاسلامى ( المجاهدين - المجاهدون ) ب) عاتب ..... بالاحسان اليه ( اخوك - اخيك - اخاك ) ج) فرحت ..... ( الناجحات - الناجحات )
۱/۵	۹	عين الكلمات التى لها علامات فرعية الف) و زيننا السماء الدنيا بمصابيح ب) لا تبطلوا صدقاتكم ج) ان الله لا يحب العمدى
۱/۱	۱۰	عين الاخطاء مع البيان السبب الجاهل من يتبع الهوى
۱/۲۵	۱۱	اقرأ النص و اجب وصل رجل بدوى فى طريق سفره الى ارض خاليه من الماء و البنات ..... فشر بالعطش الشديد و بعد محاوله كثيره و جَد بثرأ. عندئذ رأى كلباً يلهث من العطش. الف) متى وصل رجل بدوى؟ ب) ما شعره؟ ج) ما وجد بعد محاوله كثيره؟ د) يك تركيب وصفى و يك تركيب اضافى از متن پيدا كنيد
۲/۲۵	۱۱	الأعراب و تحليل الصرفى لا تبطلوا صدقاتكم الأعراب تحليل صرفى : تبطلوا صدقات

محل مهر آموزشگاه	سرپرستی مدارس جمهوری اسلامی ایران در امارات عربی متحده
نمره با عدد	مجتمع آموزشی خدیجه کبری (سن) سال تحصیلی ۸۹-۸۸
نمره با حروف	نام و نام خانوادگی: ..... کلاس: دوم کار دانش
امضا دبیر مربوطه	نام دبیر: رحیمی نام درس: اطلاعات و ارتباطات؛ نوبت امتحان: خرداد ماه ۱۳۸۹
	مدت آزمون: ۶۵ دقیقه تاریخ امتحان: ۱۳۸۹/۳/۱۱ صفحه: ۱

بارم	شماره	سوال
	۱	در کدام یک از شبکه ها هر رایانه فقط می تواند به عنوان سرویس دهنده یا سرویس گیرنده به کار رود؟ الف) نظیر به نظیر      ب) بر اساس سرویس دهنده      ج) ترکیبی      د) LAN
	۲	نظارت بر ارسال و دریافت صحیح فایل ها و پوشه ها در شبکه از وظایف کدام سرویس دهنده است؟ الف) سرویس دهنده وب      ب) سرویس دهنده پایگاه داده ج) سرویس دهنده فایل      د) سرویس دهنده دایرکتوری
	۳	کدام یک جزء مزایای شبکه های Server-based به حساب می آید؟ الف) مدیریت کاربران و منابع به طور متمرکز      ب) سهولت نصب و راه اندازی ج) امنیت پایین      د) به اشتراک گذاری منابع
	۴	در روش ..... در هر لحظه دستگاه اول می تواند اطلاعاتی را به دستگاه دوم ارسال کرده یا از آن دریافت کند. الف) یکطرفه      ب) دو طرفه غیر همزمان      ج) دو طرفه همزمان      د) موازی
	۵	یک شبکه رایانه ای در هر دقیقه می تواند یک گیگا بایت اطلاعات را ارسال کند. سرعت انتقال داده در این شبکه برابر است با: الف) ۶۸ Mbps      ب) ۲۷۳ Mbps      ج) ۱۳۶ Mbps      د) ۱۰۲۴ Mbps
	۶	قطعه مرکزی مورد استفاده در شبکه های حلقوی چه نام دارد؟ الف) هاب      ب) سویچ      ج) تکرار کننده      د) MAU
	۷	در توپولوژی ..... در صورت قطع شدن کابل متصل به یک رایانه فقط ارتباط همان رایانه با شبکه قطع می شود و سایر رایانه ها به کار خود ادامه می دهند. الف) خطی      ب) ستاره ای ج) حلقوی      د) ستاره ای و حلقوی

محل مهر آموزشگاه	سرپرستی مدارس جمهوری اسلامی ایران در امارات عربی متحده
نمره با عدد	مجتمع آموزشی خدیجه کبری (س) سال تحصیلی ۸۸-۸۹
نمره با حروف	نام و نام خانوادگی : .....
امضا دبیر مربوطه	نام دبیر : رحیمی
	نام درس : اطلاعات و ارتباطات
	نوبت امتحان : خرداد ماه ۱۳۸۹
	تاریخ امتحان : ۱۳۸۹/۳/۱۱
	صفحه : ۲
	مدت آزمون : ۶۵ دقیقه

بارم	شماره	سوال
	۸	وظیفه ترمیناتور در شبکه چیست و در کدام یک از توپولوژی ها کاربرد دارد؟ الف ( تقویت سیگنال هایی که به انتهای کابل می رسند - توپولوژی خطی ب ( تقویت سیگنال هایی که به انتهای کابل می رسند - توپولوژی ستاره ای ج ( از بین بردن سیگنال هایی که به انتهای کابل می رسند - توپولوژی خطی د ( از بین بردن سیگنال هایی که به انتهای کابل می رسند - توپولوژی ستاره ای
	۹	کدام گزینه در مورد هاب و سویچ درست است؟ الف ( در هاب امکان پردازش اطلاعات وجود دارد ولی در سویچ خیر. ب ( هاب اطلاعات وارد شده را به تمام پورت ها می فرستد ولی سویچ اطلاعات را تنها به پورت های مقصد ارسال می کند. ج ( در هاب ترافیک شبکه ها تا حد زیادی کنترل می شود. د ( هاب فعال سیگنال ها را تقویت کرده و بدون برق کار می کند.
	۱۰	برای به اشتراک گذاشتن یک پوشه در شبکه از کدام گزینه استفاده می شود؟ الف ( My Network Places ب ( View Workgroup Computers ج ( Share File and Folder د ( Sharing and Security
	۱۱	برای استفاده از پوشه های به اشتراک گذاشته شده در شبکه از کدام گزینه استفاده می شود؟ الف ( Sharing and Security ب ( Permissions ج ( Network Connections د ( My Network Places
	۱۲	برای ارسال نامه های الکترونیکی در محیط شبکه و اینترنت از کدام پروتکل استفاده می شود؟ الف ( SNMP ب ( HTTP ج ( POP3 د ( SMTP
	۱۳	کدام یک از موارد زیر از نشانه های نفوذ ویروس ها به رایانه به حساب نمی آید؟ الف ( کم شدن سرعت سیستم عامل ب ( بوت شدن های متوالی سیستم ج ( پیغام های خطای غیر متداول و بدون علت د ( روشن شدن ناگهانی رایانه

محل مهر آموزشگاه	سرپرستی مدارس جمهوری اسلامی ایران در امارات عربی متحده
نمره با عدد	مجتمع آموزشی خدیجه کبری (س) سال تحصیلی ۸۸-۸۹
نمره با حروف	نام و نام خانوادگی : ..... کلاس : دوم کار دانش
امضا دبیر مربوطه	نام دبیر : رحیمی نام درس : اطلاعات و ارتباطات نوبت امتحان : خرداد ماه ۱۳۸۹
	مدت آزمون : ۶۵ دقیقه تاریخ امتحان : ۱۳۸۹/۳/۱۱ صفحه : ۳

شماره	سوال	پاسخ
۱۴	نرم افزاری که امکان مشاهده صفحات وب را برای کاربر فراهم می کند چه نام دارد ؟	الف ( مرور گر وب ) ب ( URL ) ج ( جستجو در وب ) د ( HTML )
۱۵	کدام یک از گزینه های زیر آدرس صفحات وب مورد علاقه شما را در خود ذخیره می کند؟	الف ( لیست Favorites ) ب ( لیست History ) ج ( گزینه Back ) د ( گزینه Forward )
۱۶	برای مشاهده وب سایت هایی که در چند روز یا چند هفته قبل بازدید کرده اید کدام گزینه مناسب تر است؟	الف ( لیست Favorites ) ب ( گزینه Back ) ج ( گزینه Forward ) د ( لیست History )
۱۷	چگونه می توان صفحه وب را در حالت Full Screen مشاهده کرد؟	الف ( فشردن کلید F5 ) ب ( فشردن کلید Enter ) ج ( فشردن کلید F11 ) د ( انتخاب دکمه Refresh )
۱۸	آدرس ایمیل گیرنده نامه در کدام قسمت قرار دارد ؟	الف ( کادر To ) ب ( کادر CC ) ج ( کادر Subject ) د ( کادر Send To )
۱۹	علامت ..... نشان دهنده یک آدرس ایمیل است.	الف ( @ ) ب ( / ) ج ( - ) د ( نقطه )
۲۰	برای نگهداری نامه هایی که از قبل آماده شده ولی قصد ارسال فعلی آن ها را ندارید از کدام پوشه استفاده می کنید؟	الف ( Draft ) ب ( Inbox ) ج ( Spam ) د ( Sent )
۲۱	نامه های حذف شده در کدام پوشه ذخیره می شود؟	الف ( Draft ) ب ( Inbox ) ج ( Spam ) د ( Trash )
۲۲	از دکمه ..... برای ارسال نامه استفاده می شود.	الف ( Attach ) ب ( Move ) ج ( Checkmail ) د ( Compose )

محل مهر آموزشگاه

سرپرستی مدارس جمهوری اسلامی ایران در امارات عربی متحده

مجتمع آموزشی خدیجه کبری (س) سال تحصیلی ۸۸-۸۹

نمره با عدد

کلاس : دوم کار دانش

نام و نام خانوادگی : .....

نمره با حروف

نوبت امتحان : خرداد ماه ۱۳۸۹

نام دبیر : رحیمی نام درس : اطلاعات و ارتباطات

امضا دبیر مربوطه

صفحه : پاسخنامه

تاریخ امتحان : ۱۳۸۹/۳/۱۱

مدت آزمون : ۶۵ دقیقه

ردیف	الف	ب	ج	د	ردیف	الف	ب	ج	د
۱					۱۳				
۲					۱۴				
۳					۱۵				
۴					۱۶				
۵					۱۷				
۶					۱۸				
۷					۱۹				
۸					۲۰				
۹					۲۱				
۱۰					۲۲				
۱۱					۲۳				
۱۲					۲۴				

نمره با عدد

نمره با حروف

امضا دبیر مربوطه

کلاس : دوم کاردانش

نوبت امتحان : خرداد ماه ۱۳۸۹

صفحه : ۱

نام و نام خانوادگی : .....

نام درس : Excel 2007

نام دبیر : رحیمی

تاریخ امتحان : ۱۳۸۹/۳/۳

مدت آزمون : ۶۰ دقیقه

بارم

شماره

کلید میانبر ساخت کارپوشه جدید چیست ؟

Ctrl+K ( د

Ctrl+N ( ج

Ctrl+S ( ب

Ctrl+W ( الف

۲ در نسخه نرم افزار Excel 2007 به جای نوار ابزار از چه عنصری استفاده می شود؟

( د جعبه ابزار

( ج خط فرمان

( ب منو

( الف ریبون

۳ آدرس سلول محل برخورد سطر شماره ۲۲۰ و ستون AB چیست ؟

( د AB:220

( ج AB220

( ب 220: AB

( الف 220AB

۴ به طور پیش فرض چند کاربرگ در کارپوشه های جدید قرار دارد؟

( ب تعداد در زمان ساخت کارپوشه از کاربر دریافت می شود.

( الف صفر

( د ۱

( ج ۳

۵ منظور از رکورد چیست ؟

( د مجموع مقادیر

( ج حداکثر مقادیر

( ب ستون

( الف سطر

۶ آدرس سلول هایی که انتخاب می شوند در کدام عنصر نشان داده می شوند؟

( د ریبون

( ج نوار فرمول

( ب نوار نام

( الف داخل سلول

۷ کدام گزینه در مورد جهت کاربرگ صحیح است ؟

( الف تمام کاربرگ های یک کارپوشه جهت یکسانی دازند.

( ب وقتی کاربرگ خالی نباشد نمی توان جهت آن را عوض کرد.

( ج زمانی می توان از کاربرگ های راست به چپ استفاده کرد که نسخه فارسی Excel نصب شده باشد.

( د وقتی جهت کاربرگ عوض می شود جهت شماره گذاری ستون ها نیز عوض می شود.

۸ کدام نوع محتوا را می توان در سلول ها وارد کرد ؟

( د فرمول و تاریخ

( ج نمودار و تصویر

( ب صدا و فرمول

( الف عدد و تصویر



نمره با عدد

کلاس : دوم کار دانش

نام و نام خانوادگی : .....

نمره با حروف

نوبت امتحان : خرداد ماه ۱۳۸۹

نام درس : Excel 2007

نام دبیر : رحیمی

امضا دبیر مربوطه

صفحه : ۲

تاریخ امتحان : ۱۳۸۹/۳/۳

مدت آزمون : ۶۰ دقیقه

بارم

شماره

۹ تعیین نوع داده از چه نظر اهمیت دارد؟

ب) شیوه عملکرد محتوا

الف) شیوه نمایش محتوا

د) هیچ کدام

ج) هر دو

۱۰ کلید ترکیبی برای انتخاب هم زمان سلول ها Ctrl و Shift است. تفاوت عملکرد این دو کلید در چیست؟

الف) Ctrl برای انتخاب عناصر مجاور و Shift برای عناصر غیر مجاور است.

ب) Shift برای انتخاب عناصر مجاور و Ctrl برای انتخاب عناصر غیر مجاور است.

ج) Ctrl برای سلول ها کاربرد دارد و Shift برای نمودارها و سایر عناصر

د) Shift برای سلول ها کاربرد دارد و Ctrl برای نمودارها و سایر عناصر

۱۱ در زمان حذف یا اضافه کردن سطر ستون یا سلول آدرس سلول های قبلی چگونه تغییر می کند؟

الف) آدرس ها تغییر نمی کنند زیرا در غیر اینصورت ارجاع ها دچار مشکل خواهند شد.

ب) آدرس ها تغییر می کنند ولی ارجاع ها نیز به طور خودکار اصلاح می شوند.

ج) آدرس ها تغییر می کنند و لازم است که ارجاع ها به طور دستی اصلاح شوند.

د) آدرس ها تغییر می کنند و ارجاع ها با اجرای دستور اصلاح اصلاح می شوند.

۱۲ برای تنظیم امتداد یا جهت متن کدام مسیر صحیح است؟

ب) Home → Alignment → Orientation

الف) Home → Alignment → Wrap Text

د) Home → Alignment → Merge

ج) Home → Alignment → Direction

۱۳ تفاوت الگو و Style چیست ؟

الف) الگو کلی تر از Style است و آن را در بر می گیرد.

ب) Style کلی تر از الگو است و آن را در بر می گیرد.

ج) Style و الگو هر کدام قسمتی از تنظیم ها را ذخیره می کنند.

د) فقط Style به قالب بندی مربوط می شود و الگو قالب بندی را ذخیره نمی کند.

محل مهر آموزشگاه	سرپرستی مدارس جمهوری اسلامی ایران در امارات عربی متحده		
	مجتمع آموزشی خدیجه کبری (س) سال تحصیلی ۸۹-۸۸		
نمره با عدد	نام و نام خانوادگی :	کلاس : دوم کاردانش	.....
نمره با حروف	نام دبیر : رحیمی	نام درس : Excel 2007	
امضا دبیر مربوطه	مدت آزمون : ۶۰ دقیقه	تاریخ امتحان : ۱۳۸۹/۳/۳	صفحه : ۳

شماره	سوال	پاسخ
۱۴	برای تغییر تعداد کاربرد پیش فرض در Excel در کادر محاوره ای Excel Options کدام گزینه را انتخاب می کنیم؟	الف) Proofing ( ب) Popular ( ج) Advanced ( د) Save
۱۵	برای تعیین رنگ زبانه کاربرد کدام گزینه را انتخاب می کنیم؟	الف) Font Color ( ب) Fill Color ( ج) Sheet Color ( د) Tab Color
۱۶	برای ثابت سازی نماکدام مسیر صحیح می باشد؟	الف) View → Window → Freeze Panes ( ب) View → Window → Switch Windows ( ج) View → Window → Split ( د) گزینه های الف و ب
۱۷	مشخصه فرمول ها چیست؟	الف) علامت = ( ب) علامت های "=" ( ج) وجود عملگر ( د) وجود عملگر و تابع
۱۸	با توجه به اینکه در سلول ها خروجی فرمول ها نمایش داده می شود و نه متن آن ها کدام راه برای دیدن متن فرمول کاربرد ندارد؟	الف) با دستور Show Formulas ( ب) با قرار دادن سلول در حالت ویرایشی ( ج) با دستور Insert Function ( د) با مراجعه به نوار فرمول
۱۹	مطلق یا نسبی بودن آدرس دهی ها چه زمانی تاثیر دارد؟	الف) همواره موثر است. ( ب) در زمان کپی کردن فرمول ها ( ج) در زمان محاسبه فرمول ها ( د) در زمان عیب یابی فرمول ها
۲۰	برای حذف نمودار روی ..... کلیک کرده کلید Delete را فشار می دهیم.	الف) عنوان نمودار ( ب) محور نمودار ( ج) راهنمای نمودار ( د) کل نمودار

شماره صندلی:
تاریخ امتحان: ۱۳۸۹/۳/۲۵
مدت امتحان: ۷۰ دقیقه
نمره ورقه:

سرپرستی مدارس جمهوری اسلامی ایران - امارت

مجمع آموزشی امام خمینی (ره) - ابوظبی

نام و نام خانوادگی:

ردیف	سوال	بارم
۱	برای تامین سلامتی در یک جامعه چه دستورالعمل هایی را باید رعایت کرد؟	۱
۲	به چه دلیل باید پس از فعالیت های روزانه استراحت و تفریح کرد؟	۱
۳	تفاوت آب های سطحی و آب های زیرزمینی از نظر کیفیت را توضیح دهید؟	۱
۴	روش های کاهش آلودگی صدا را توضیح دهید.	۱/۵
۵	تباین را تعریف کنید.	۱
۶	پرتوهای یون ساز را تعریف کرده و دو مثال از این پرتوها را نام ببرید.	۱/۵
۷	راه های ورود آلاینده های هوا به بدن را نام ببرید.	۰/۷۵
۸	سه مورد از منابع تولید گاز هیدروژن سولفید را نام ببرید.	۰/۷۵
۹	عواملی که سبب تشدید عوارض ناشی از حلال ها می شود را نام ببرید.	۱

۱- موفقیت را تعریف کرده و چهار عامل رسیدن به موفقیت را نام ببرید. (۲)

۲- یک فرد پس از اتمام تحصیلات چه گزینه‌هایی را در پیش روی خوددار در نام ببرید. (۱)

۳- کسب و کار خانگی را تعریف کرده و دلایل انتخاب آن را نام ببرید. (۲)

۴- کار آفرین کیست؟ تفاوت کار آفرین با مدیر را بیان کنید. (۲)

۵- انواع کار آفرینی را نام ببرید و فرقی کلی آنها را توضیح دهید. (۱/۵)

۶- راههای تأمین منابع مالی کسب و کار را نام ببرید. (۱)

۷- چهار قلمون طلایی محصول را نام ببرید. (۲)

۸- خلاقیت را تعریف کنید. (۱)

۹- در تکنیک طوفان مغزی چه قواعدی باید رعایت شود؟ (۱)

۱۰- صفات لازم برای موفقیت در فروش را مختصر نام ببرید. (۱/۵)

۱۱- حسابداری را تعریف کرده و صورتهای مالی را نام ببرید. (۲)

۱۲- مدیریت را تعریف کنید و وظایف مدیر در علم مدیریت را نام ببرید. (۲)

۱۳- طرح کسب و کار را تعریف کنید. (۱)

نام و نام خانوادگی:

ردیف	سوال	بارم
۱	ویژگی های انسانی که از سلامتی کامل برخوردار است را نام ببرید.	۱
۲	چرا باید علاوه بر مسواک زدن، از نخ دندان نیز استفاده کرد؟ توضیح دهید.	۱
۳	چهار مورد از مهمترین اجزای تشکیل دهنده ی زیاله های شهری کدام اند؟	۱
۴	مصارف مختلف آب در صنایع را نام ببرید.	۱
۵	شاخص تجلی رنگ منابع روشنایی را تعریف کنید؟ کدام لامپ ها بهترین شاخص تجلی رنگ را دارند؟	۱/۵
۶	منابع مصنوعی پرتوهای غیر یون ساز مانند پرتوهای فرابنفش را نام ببرید.	۱/۵
۷	از موارد استعمال گاز کربن دی اکسید، سه مورد را نام ببرید.	۳/۵
۸	مسمومیت با اتانول چه خطراتی برای بدن انسان به همراه دارد؟	۳/۵

محل مهر مجتمع	شماره
سرپرستی مدارس جمهوری اسلامی ایران - امارات عربی متحده مجمع آموزشی امام خمینی (ره) ابوظبی سال تحصیلی ۸۸-۸۹	
نمره با عدد نمره با حروف امضاء دبیر	نام و نام خانوادگی : ..... کلاس : ..... نام دبیر : آقای چراغی      آزمون درس : کاربر رایانه      نوبت امتحان : شهریور زمان آزمون : ۶۰ دقیقه      تاریخ آزمون : ۱۳۸۹ / ۶ / ۱      صفحه : ۱

## مبانی

۱- برای اجراء یک برنامه داده ها از ..... خوانده و در ..... بارگذاری می شوند.

- الف) RAM - حافظه جانبی      ب) حافظه جانبی - RAM  
ج) RAM - ROM      د) RAM - ROM

۲- کدام گزینه حافظه اصلی است؟

- الف) CD\_ROM      ب) هارد دیسک  
ج) فلاپی دیسک      د) RAM

۳- کدامیک از موارد زیر برای ذخیره و بازیابی اطلاعات از خاصیت مغناطیسی استفاده نمی کنند؟

- الف) CD\_ROM      ب) هارد دیسک  
ج) فلاپی دیسک      د) نوار مغناطیسی

۴- کدام یک از وسایل زیر، ورودی و خروجی هستند؟

- الف) هارد دیسک      ب) فلاپی دیسک  
ج) اسکنر      د) الف و ب

۵- کدام یک از وسایل زیر، ورودی می باشند؟

- الف) قلم نوری      ب) ماوس  
ج) اسکنر      د) همه گزینه ها

۶- کدام یک از موارد زیر در گروه نرم افزارها می باشد؟

- الف) برنامه های کاربردی      ب) مترجم ها  
ج) برنامه های کمکی      د) همه موارد

۷- برای انتقال تصاویر، به کامپیوتر از چه دستگاهی استفاده می شود؟

- الف) قلم نوری      ب) ماوس  
ج) اسکنر      د) پرینتر

۸- معادل عدد باینری ۲ (۱۰۱۰۱۱۱۰۱) در مبنای ده کدام است؟

- الف) ۳۴۹      ب) ۳۰۹      ج) ۳۵۹      د) ۳۳۹

۹- مجموعه ای که شامل اجزایی متشکل از عناصر و مدارهای الکترونیکی است، ..... کامپیوتر نامیده می شود.

- الف) مدار مجتمع      ب) ترانزیستور      ج) سخت افزار      د) نرم افزار

محل مهر مجتمع	سرپرستی مدارس جمهوری اسلامی ایران - امارات عربی متحده مجتمع آموزشی امام خمینی (ره) ابوظبی سال تحصیلی ۸۸-۸۹	شماره
نمره با عدد نمره با حروف امضاء دبیر	نام و نام خانوادگی : ..... کلاس : ..... نام دبیر : آقای چراغی      آزمون درس : کاربرد رایانه      نوبت امتحان : شهریور زمان آزمون : ۶۰ دقیقه      تاریخ آزمون : ۱۳۸۹ / ۶ / ۲      صفحه : ۲	

## windows

۱۰- به صفحه اصلی و اولیه ویندوز ..... می گویند.

الف) Desktop      ب) Desk manager      ج) Tools      د) Desk Windows

۱۱- کدام یک از سیستم عامل های زیر تک کاربره است؟

الف) MS-DOS      ب) SUNSOLARIS      ج) LINUX      د) WINDOWS

۱۲- برای انتخاب چند آیکن مختلف در میز کار از دکمه های ..... استفاده می شود.

الف) Ctrl + Click      ب) Ctrl+Right Click  
ج) Shift+Click      د) Shift + Right Click

۱۳- ظاهر شدن علامت فلش در کنار یک آیکن نشانه چیست؟

الف) میانبر بودن آن      ب) انتخاب آن  
ج) پنجره بودن آن      د) کوچک شدن پنجره آن

۱۴- در صورت کوچک بودن اندازه یک پنجره با چه ابزاری می توان کلیه محتویات درون آن را بازدید کرد؟

الف) Drag      ب) Scroll Bar      ج) Address      د) My Computer

۱۵- کلیدهای ترکیبی فرمان Close در یک پنجره چیست؟

الف) Ctrl+M      ب) Alt+F2      ج) Alt + F4      د) Ctrl+F2

۱۶- برای نمایش انواع نوارهای ابزار ، آدرس و غیره در پنجره ویندوز کدام منو مورد استفاده قرار می گیرد؟

الف) View      ب) Edit      ج) Tools      د) File

۱۷- چگونه می توان آیکن های یک پنجره را بر حسب نوعشان مرتب کرد؟

الف) View → Arrange Icon By → Type      ب) Arrange Icon By → Type → کلیک راست  
ج) Tools → Arrange Icon By → Type      د) موارد الف و ب صحیح است

۱۸- برای سوئیچ بین پنجره های باز از کلیدهای ..... استفاده می کنیم؟

الف) Alt+Esc      ب) Ctrl+Esc  
ج) Alt+Tab      د) Ctrl+Tab

۱۹- برای تازه کردن محتوای پنجره باید از کدام فرمان استفاده کرد؟

الف) Create Shortcut      ب) Refresh  
ج) Copy      د) Restore

نام و نام خانوادگی : ..... کلاس : .....

نام دبیر : آقای چراغی      آزمون درس : کاربر رایانه      نوبت امتحان : شهریور

زمان آزمون : ۶۰ دقیقه      تاریخ آزمون : ۱۳۸۹ / ۶ / ۳      صفحه : ۳

۲۰- برای ارسال سریع فایل و یا پوشه به درایو فلاپی انتخاب کدام فرمان مناسب است؟

الف) Copy و Paste      ب) Send to      ج) Cut و Past      د) Refresh

۲۱- توسط کدام گزینه می توانیم پنهان شدن نوار کار را به صورت خود کار تعریف نماییم؟

الف) Lock the Toolbar → Properties → کلیک راست بر روی Task bar

ب) Auto hide the taskbar Toolbar → Properties → کلیک راست بر روی Task bar

ج) Hide in active icon → Properties → کلیک راست بر روی Task bar

د) Desktop → Toolbar → کلیک راست بر روی Task bar

۲۲- برای اجرای سریع برنامه ها در ویندوز (با انجام یک کلیک) باید آن برنامه با میانبر آن در ..... باشد.

الف) Quick Launch      ب) Notification Area

ج) Taskbar      د) Toolbar

۲۳- برای بازگرداندن فایلها یا پوشه های حذف شده از کدام روش باید عمل کرد؟

الف) Restore → کلیک راست روی فایل یا پوشه      ب) در پنجره سطل اشغال اجراء Restore All

ج) Restore      د) موارد الف و ب صحیح است

## شبکه و اینترنت

۲۴- به چند طریق میتوان به صفحات وب در مرورگر دسترسی پیدا کرد؟

الف) تایپ آدرس مورد نظر در کادر آدرس IE      ب) کلیک بر روی فرا پیوند

ج) کلیک بر روی هر تصویری که بر روی صفحه وب است      د) الف و ب

۲۵- آدرس هر منبع در اینترنت چه نام دارد؟

الف) URL      ب) https

ج) FTP      د) Telnet

۲۶- در آدرس <http://www.yahoo.com> عبارت http معرف چیست؟

الف) Second Level domain      ب) top level domain

ج) پروتکل      د) نام صفحه وب که باید توسط مرورگر نشان داده شود.

۲۷- کدام یک از دامنه های زیر معرف سایت نظامی است؟

الف) com      ب) mil

ج) net      د) org



شماره	سرپرستی مدارس جمهوری اسلامی ایران - امارات عربی متحده مجمع آموزشی امام خمینی (ره) ابوظبی سال تحصیلی ۸۹-۸۸
محل مهر مجمع	نام و نام خانوادگی : ..... کلاس : ..... نام دبیر : آقای چراغی      آزمون درس : کاربر رایانه      نوبت امتحان : شهریور زمان آزمون : ۶۰ دقیقه      تاریخ آزمون : ۱۳۸۹ / ۶ / ۴      صفحه : ۴
نمره با عدد نمره با حروف امضاء دبیر	

۲۸- صفحه ای که در هنگام اجرای IE بطور اتوماتیک نمایش داده می شود ، چه نامیده می شود؟	Home page (الف)	Startup page (ب)
	Last page (ج)	Final page (د)
۲۹- برای اینکه صفحات وب را در پنجره جدید باز کنیم ، چگونه باید عمل کنیم؟		
الف) می توان IE چند بار اجرا کرد و در هر کدام صفحه جدیدی باز کرد.		
ب) در هنگام کلیک بر روی یک متن فرایبوند (Hyper link text) کلید Shift را پایین نگه می داریم.		
ج) فرمان File   New   Window را کلیک کرده و در پنجره جدید آدرس صفحه جدید را وارد می کنیم.		
د) همه موارد		
۳۰- برای جستجوی عبارتهایی که دقیقاً با عبارت مورد جستجو یکی باشد از چه روشی استفاده میکنیم ، فرض کنید به دنبال "Nokia 7110" هستید.	Nokia 7110 (الف)	"Nokia 7110" (ب)
	Nokia (ج)	Nokia or 7110 (د)
۳۱- کپی فایل از روی کامپیوتری دیگر بر روی کامپیوتر شخصی چه نام دارد؟	Upload (الف)	download (ب)
	Expload (ج)	Forward (د)
۳۲- اگر بخواهیم صفحاتی جستجو شود که کلمه exercise در عبارت جستجو نباشد ، عبارت Access exercrise را چگونه می توان Search نمود؟	Access + exercise (الف)	+ Access exercise (ب)
	Access -exercise (ج)	Access AND exercise (د)
۳۳- شرکتهای ارائه دهنده خدمات اینترنت چه نام دارند؟	ICP (الف)	AOL (ب)
	ISp (ج)	MCP (د)
۳۴- برنامه ای که درون یک وب سایت را جستجو می کند چه نام دارد؟	Search bar (الف)	Search engine (ب)
	Find text (ج)	هیچکدام (د)
۳۵- حداکثر مدت زمانی که صفحات وب در پوشه history نگهداری می شود ، چقدر است؟	الف) ۱۰۰ روز	ب) ۳۰ روز
	ج) ۹۹ روز	د) ۳۱ روز

محل مهر مجتمع	شماره
نمره با عدد نمره با حروف امضاء دبیر	<p>سرپرستی مدارس جمهوری اسلامی ایران - امارات عربی متحده مجمع آموزشی امام خمینی (ره) ابوظبی سال تحصیلی ۸۹-۸۸</p> <p>نام و نام خانوادگی : ..... کلاس : .....</p> <p>نام دبیر : آقای چراغی      آزمون درس : کاربر رایانه      نوبت امتحان : شهر یور</p> <p>زمان آزمون: ۶۰ دقیقه      تاریخ آزمون: ۱۳۸۹/۶/۵      صفحه : ۵</p>

<p>۳۶- ساختار آدرس یک پست الکترونیکی کدام است؟</p> <p>الف) username @ Domain      ب) Domain @ username</p> <p>ج) نام کاربر @ نام شرکت سرویس دهنده      د) همه موارد</p>	<p>۳۷- موضوع پیام در کدام قسمت نوشته می شود؟</p> <p>الف) To      ب) CC</p> <p>ج) Bcc      د) Subject</p>
<p>۳۸- برای ضمیمه کردن فایل به نامه ، کدام مورد را باید انجام داد ؟</p> <p>الف) کلیک بر روی دکمه Insert File (علامت کلیس) از نوار</p> <p>ب) انتخاب Insert   File در هنگام نوشتن نامه</p> <p>ج) کلیک بر روی دکمه Accounts از نوار ابزار در هنگام نوشتن نامه</p> <p>د) الف و ب</p>	
<p>۳۹- کدامیک از عملگرهای زیر از عملگرهای جستجو Yahoo نیست؟</p> <p>الف) * *      ب) + و -</p> <p>ج) m: و k:      د) t: و U:</p>	
<p>۴۰- Sign in , Sign out , Sign Up به چه معناست ؟</p> <p>الف) ورود به سایت ، خروج از سایت و عضویت در سایت      ب) ورود به سایت ، عضویت در سایت و خروج از سایت</p> <p>ج) خروج از سایت ، عضویت در سایت و ورود به سایت      د) عضویت در سایت ، خروج از سایت و ورود به سایت</p>	
<p>۴۱- در هنگام عضویت در سایت yahoo ، عبارت Security Question به چه معناست ؟</p> <p>الف) سئوالی در مورد علائق شخصی ماست .</p> <p>ب) سئوالی در مورد فرستادن نامه ها به ماست.</p> <p>ج) سئوالی است که در صورت گم کردن کلمه ورود از ما پرسیده می شود.</p> <p>د) سئوالی است که در صورت گم کردن شناسه ( ID ) از ما پرسیده می شود.</p>	
<p>۴۲- برای ورود به شبکه به کدام یک از موارد زیر نیاز است؟</p> <p>الف) نام کاربر ب) کلمه عبور ج) سرور برای کنترل نام کاربر و کلمه عبور      د) همه موارد</p>	
<p>۴۳- دو شرط اساسی که بیانگر وجود یک شبکه کامپیوتری است ، کدام یک از گزینه های زیر است ؟</p> <p>الف) مستقل بودن هر کامپیوتر برای راه اندازی و سرعت      ب) سرعت و دقت</p> <p>ج) مستقل بودن هر کامپیوتر برای راه اندازی و داشتن خطوط ارتباطی      د) داشتن خطوط ارتباطی و سرعت</p>	

شماره	سرپرستی مدارس جمهوری اسلامی ایران - امارات عربی متحده
نام و نام خانوادگی : کلاس :	مجمع آموزشی امام خمینی (ره) ابوظبی سال تحصیلی ۸۹-۸۸
نام دبیر : آقای چراغی	آزمون درس : کاربر رایانه
زمان آزمون: ۶۰ دقیقه	تاریخ آزمون: ۱۳۸۹/۱/۶
نوبت امتحان : شهریور	صفحه : ۶
محل مهر مجتمع	نمره یا عدد نمره یا حروف امضاء دبیر

<p>۴۴- هدف اصلی از ایجاد شبکه های کامپیوتری چیست؟</p> <p>الف) مبادله اطلاعات بین کامپیوتر ها و استفاده اشتراکی از منابع</p> <p>ب- صرفه جویی در تعداد کامپیوترها</p> <p>ج- ایجاد ارتباط فیزیکی بین کامپیوترها برای اجرای برنامه ها</p> <p>د- دریافت و ارسال پیغام از کامپیوتر های دیگر</p>	<p>۴۵- کدام یک از شبکه های زیر معمولا برای اتصال دفاتر یک سازمان در یک شهر استفاده می شوند و می توانند اختصاصی یا عمومی باشند.</p> <p>الف- شبکه WAN      ب- شبکه LAN      ج- شبکه MAN      د- شبکه اینترنت</p>
<p>۴۶- کدام یک از گزینه های زیر در مورد نرخ انتقال صحیح نیست؟</p> <p>الف) نرخ انتقال سرعت ارسال داده بر حسب متر است.</p> <p>ب) نرخ انتقال، سرعت ارسال اطلاعات بر پایه زمان است.</p> <p>ج) نرخ انتقال، سرعت بر حسب تعداد بیت ها در ثانیه است.</p> <p>د) مودم ها بر اساس این سرعت اطلاعات را منتقل می کنند.</p>	<p>۴۷- دیجیتال زبان استاندارد و قابل فهم..... و آنالوگ زبان یا قوانین قابل فهم برای خطوط..... است.</p> <p>الف) کامپیوتر، تلفن      ب) تلفن، کامپیوتر</p> <p>ج) تلفن، مودم      د) کامپیوتر مودم</p>
<p>۴۸- شبکه های تلفنی را شبکه های..... نیز می نامند.</p> <p>الف) WAN      ب) LAN      ج) PSTN      د) اینترنت</p>	<p>۴۹- شبکه داخلی، شبکه ای است مانند..... اما با گستردگی.....</p> <p>الف) اینترنت، کمتر درون شرکت ها یا اداره ها</p> <p>ب) شبکه MAN، در حد یک شهر</p> <p>ج) شبکه تلفنی، بیشتر</p> <p>د) شبکه WAN، محدود در حد دو کامپیوتر</p>
<p>۵۰- علت محبوبیت تجارت الکترونیکی در چه مواردی خلاصه می شود؟</p> <p>الف) کاهش هزینه ها خرید بیشتر در هر مراجعه</p> <p>ب) افزایش عرضه کاهش هزینه</p> <p>ج) تغییر در بهره وری کاهش هزینه</p> <p>د) تبادلات بیشتر عرضه کمتر</p>	<p>۵۱- پس از ظهور اینترنت تکنولژی های چون..... به وجود آمدند.</p> <p>الف) شبکه کامپیوتری و تجارت الکترونیکی</p> <p>ب) پست الکترونیکی و تجارت الکترونیکی</p> <p>ج) شبکه های کامپیوتری و پست الکترونیکی</p> <p>د) جهان الکترونیکی و شبکه های کامپیوتری</p>

شماره	سرپرستی مدارس جمهوری اسلامی ایران - امارات عربی متحده	محل مهر مجتمع
نام و نام خانوادگی: .....	مجتمع آموزشی امام خمینی (ره) ابوظبی سال تحصیلی ۸۸-۸۹	نمره با عدد
نام دبیر: آقای چراغی	آزمون درس: کاربرد رایانه	نمره با حروف
زمان آزمون: ۶۰ دقیقه	تاریخ آزمون: ۱۳۸۹/۶/۷	امضاء دبیر
	نوبت امتحان: شهریور	
	صفحه: ۷	

۵۲- به وسیله ..... از طریق شبکه کاربران می توانند پیام های شخصی خود را مبادله کنند.

الف) جهان الکترونیکی

ب) تجارت الکترونیکی

ج) پست الکترونیکی

د) آموزش الکترونیکی

53- any machine which is capable of representing information from a computer:

a) input device

b) alternate input device

c) output device

d) input/output device

54- A "Multitask device" is .....

a) a device that has memory

b) a device that can produce data

c) a device that is able to computer, compare & save results.

d) a device is able to work without any hardware components.

55- floppy disk is a kind of....

a) magnetic disk

b) removable cartridge

c) hard disk

d) erasable optical disks

56- According to the text, to record sound input from a microphone, your computer should have:

a) CD-ROM

b) Disk

c) Sound card

d) Speakers

57- According to the text, which sentence is wrong?

a) Troubleshooting in external modems are easier than internal modems .

b) External modems can be connected to any kind of computer that has a serial port.

c) External modems don't cause conflicts.

d) Internal modems can be connected to any of computer that has a serial port.

58- According to the text, extensive use of e-mail in some companies is because of ..... of the e-mail.

a) connectivity and reliability

b) flexibility and connectivity

c) reliability and conductivity

d) flexibility and reliability

59- According to the text, Which of the following sentences is wrong?

a) Viruses have capability of transmitting themselves.

b) Viruses are programs that loaded onto your computer without your wishes.

c) Some viruses bring the computer to a halt.

d) Viruses are computer made

60- Copyright gives the ..... of a software exclusive right in relation to that software.

a) user

b) creator

c) hardware

d) end use

موفق باشید

شماره	سرپرستی مدارس جمهوری اسلامی ایران ( امارات عربی متحده مجمع آموزشی امام خمینی (ره) ابوظبی سال تحصیلی ۸۸/۸۹	محل مهر مجمع
نام و نام خانوادگی : نام دبیر : آقای چراغی	کلاس : آزمون درس : طرای مقدماتی صفحات وب نوبت امتحان : شهریور	نمره با عدد نمره با حروف امضاء دبیر
زمان آزمون: ۶۰ دقیقه	تاریخ آزمون: ۱۳۸۹/۶/۱	صفحه: ۱

## طراحی صفحات Web

- ۱- محل شکل گیری زبان طراحی وب ( HTML ) کجاست؟  
الف) W3C (ب) CERN  
ج) Microsoft (د) آمریکا
- ۲- در آدرس <http://www.google.com> ، بخش <http> نشانگر چیست؟  
الف) protocol (ب) Domain  
ج) Top Level Domain (د) Web Address
- ۳- به هر یک از فرامین اصلی در زبان HTML چه می گویند؟  
الف) Tag (ب) Anchor  
ج) bookmark (د) Hyperlink
- ۴- تعداد رنگ های استاندارد در طراحی وب چند عدد است؟  
الف) نامحدود (ب) ۲۵۶ (ج) ۲۱۶ (د) بستگی به نوع کارت گرافیک و نمایشگر بیننده دارد
- ۵- دقت استاندارد در فایل های گرافیک به کار رفته در صفحات وب چه میزان است؟  
الف) بستگی به تنظیمات کامپیوتر میزبان دارد (ب) نامحدود (ج) ۷۲dpi (د) ۲۵۶ dpi
- ۶- به متن قابل کلیک در صفحات وب چه گفته می شود؟  
الف) Hyperlink (ب) Hypertext  
ج) Hypermedia (د) Link
- ۷- برای بارگذاری دوباره ( Refresh ) یک صفحه در مرورگر IE از کدام کلید میانبر استفاده می شود؟  
الف) F4 (ب) F9 (ج) F5 (د) F7
- ۸- در حال حاضر سریع ترین مرورگر اینترنت کدام است؟  
الف) Netscape (ب) Opera (ج) IE (د) 1ynx
- ۹- کدام یک از فایل های گرافیکی زیر پر استفاده ترین فایل گرافیکی در وب است؟  
الف) .jpg (ب) .gif (ج) .png (د) .bmp
- ۱۰- کدام فایل صوتی کم حجم ترین فایل و متداول ترین فایل صوتی به عنوان صوت زمینه صفحات وب است؟  
الف) .wav (ب) .mid (ج) .au (د) .ra
- ۱۱- تگ <title> در کدام بخش از صفحه وب جای می گیرد؟  
الف) داخل تگ <head> (ب) بعد از تگ <head> و قبل از تگ <body>  
ج) داخل تگ <body> (د) بعد از تگ <head> و قبل از تگ </head>
- ۱۲- کدام عبارت در مورد تگ های <BR> و <P> درست است؟  
الف) هر دو تگ نیازمند تگ پایانی یا مکمل هستند. (ب) هیچ یک از تگ های نیاز به تگ پایانی یا مکمل ندارند.  
ج) تگ <BR> نیاز به تگ پایانی ندارد. (د) تگ <p> نیاز به تگ پایانی ندارد.
- ۱۳- تگ های متا ( Meta Tags ) در کدام بخش از تگ های html قرار می گیرد؟  
الف) <title> (ب) <body>  
ج) <head> (د) <html>
- ۱۴- بخش اصلی سازنده یک صفحه وب با کدام تگ مشخص می شود؟  
الف) <head> (ب) <title> (ج) <body> (د) <html>

محل مهر مجتمع	سپرستی مدارس جمهوری اسلامی ایران ( امارات عربی متحده مجتمع آموزشی امام خمینی (ره) ابوظبی سال تحصیلی ۸۸(۸۹)	شماره
نمره با عدد نمره با حروف امضاء دبیر	نام و نام خانوادگی : ..... کلاس : ..... نام دبیر : آقای چراغی آزمون درس : طرای مقدماتی صفحات وب نوبت امتحان : شهریور زمان آزمون: ۶۰ دقیقه تاریخ آزمون: ۱۳۸۹/۶/۲ صفحه : ۲	

۱۵- از کدام تگ برای تعیین رنگ زمینه صفحه وب استفاده می شود؟

- الف) <background yellow <background>
- ب) <body color="yellow">
- ج) <body bgcolor="yellow">
- د) <body background ="yellow">

۱۶- برای ذخیره یک صفحه وب در Notepad، چه پسوندی را در بخش نام فایل در زمان رخیره صفحه وارد می کنید؟  
الف) .txt ب) .htm ج) .htd د) .dos

۱۷- استفاده از تگ ها با حروف کوچک در زبان HTML .....  
الف) مجاز نیست ب) تفاوتی در اجرا ندارد ج) غیر ممکن است د) قابل نمایش نیست

۱۸- با توجه به مثال زیر کدام گزینه مربوط به دستورات ایجاد آن است؟

- 1) Main heading
- a. List I tem 1
- b. List I tem 2
- 2) Secondary heading
- a. List I tem 3
- b. Llst I tem 4

<pre> &lt;ul&gt;   &lt;li&gt; Main heading &lt;/li&gt;   &lt;li&gt; List I tem 1&lt;/li&gt;   &lt;li&gt; List I tem 2&lt;/li&gt; &lt;/ul&gt; &lt;li&gt; secondary heading&lt;ul&gt;   &lt;li&gt; List I tem 3&lt;/li&gt;   &lt;li&gt; List I tem 4&lt;/li&gt; &lt;/ul&gt; &lt;/li&gt; </pre>	ب)	<pre> &lt;ol&gt;   &lt;li&gt; Main heading &lt;/li&gt;   &lt;li&gt; List I tem 1&lt;/li&gt;   &lt;li&gt; List I tem 2&lt;/li&gt; &lt;/ol&gt; &lt;li&gt;   &lt;ol&gt;     &lt;li&gt; secondary heading&lt;ul&gt;       &lt;li&gt; List I tem 3&lt;/li&gt;       &lt;li&gt; List I tem 4&lt;/li&gt;     &lt;/ul&gt;     &lt;/li&gt;   &lt;/ol&gt; &lt;/li&gt; </pre>	الف)
--	----	--	------

<pre> &lt;ol&gt;   &lt;li&gt;Main heading &lt;/li&gt;   &lt;li type="a"&gt; List I tem 1&lt;/li&gt;   &lt;li type="a"&gt; List I tem 2&lt;/li&gt; &lt;/ol&gt; &lt;li&gt;   &lt;ol&gt;     &lt;li&gt; Secondary heading &lt;/li&gt;     &lt;li type="a"&gt; List I tem 3&lt;/li&gt;     &lt;li type="a"&gt; List I tem 4&lt;/li&gt;   &lt;/ol&gt; &lt;/li&gt; </pre>	د)	<pre> &lt;ol&gt;   &lt;li&gt;Main heading &lt;/li&gt;   &lt;li&gt; List I tem 1&lt;/li&gt;   &lt;li&gt; List I tem 2&lt;/li&gt; &lt;/ol&gt; &lt;li&gt;   &lt;ol&gt;     &lt;li&gt; Secondary heading &lt;/li&gt;     &lt;li&gt; List I tem 3&lt;/li&gt;     &lt;li&gt; List I tem 4&lt;/li&gt;   &lt;/ol&gt; &lt;/li&gt; </pre>	ج)
---	----	---	----

۱۹- کدام تگ باعث ایجاد لیست های علامت دار می شود؟

- الف) <ol>
- ب) <dl>
- ج) <ul>
- د) <llist>

۲۰- برای ایجاد لیست های شماره دار ( به صورت A, B, C, D )، از کدام تگ استفاده می کنید؟

- الف) <ol type="A">
- ب) <ul type="A">
- ج) <list type="A">
- د) <dl type="A">

شماره	سرپرستی مدارس جمهوری اسلامی ایران ( امارات عربی متحده مجتمع آموزشی امام خمینی (ره) ابوظبی سال تحصیلی ۸۹/۸۸
محل مهر مجتمع	نام و نام خانوادگی : ..... کلاس : .....
نمره با عدد نمره با حروف	نام دبیر : آقای چراغی آزمون درس : طرای مقدماتی صفحات وب نوبت امتحان : شهریور
امضاء دبیر	زمان آزمون: ۶۰ دقیقه تاریخ آزمون: ۱۳۸۹/۶/۳ صفحه: ۳

۲۱- لیست زیر را در نظر بگیرید و خروجی آن را انتخاب کنید؟

```
<ol type="I">
  <li> list item 1
  <li> list item 2
  <li> list item 3
</ol>
```

(الف) I list item 1  
I list item 2  
I list item 3

(ب) one . list item 1  
tow. list item 2  
Threæ. list item 3

(ج) 1) list item 1  
2) list item 2  
3) list item 3

(د) a) list item 1  
b) list item 2  
c) list item 3

۲۲- کدام تگ باعث ضخیم شدن متن می شود؟

(الف) <U> (ب) <B> (ج) <Strong> (د) <Small>

۲۳- کدام یک از تگ های زیر برای درج تصویر در صفحه وب صحیح است؟

(الف)  (ب) <img href="image.gif">  
(ج) <img> image.gif </img> (د) 

۲۴- کدام تگ برای درج تصویر زمینه درست است؟

(الف)   
(ب) <body background=" background.gif">  
(ج) < background img =" background.gif">  
(د) <imag src=" background.gif back">

۲۵- کدام شناسه برای مشخص کردن فاصله خالی سمت چپ و راست عکس با سایر عناصر متنی و تصویری مجاور به کار می رود؟

(الف) Div (ب) Align (ج) Hspace (د) V space

۲۶- کدام شناسه برای جایگزین شدن متن به جای تصویر ( در حالت عادی به عنوان متن کنار اشاره گر ماوس در زمان

قرار گرفتن روی تصویر ) به کار می رود؟

(الف) Alt (ب) Title (ج) text (د) Rollover text

۲۷- کدام تگ برای درج خط افقی در صفحه به کار می رود؟

(الف) <br> (ب) <hr> (ج) <img> (د) گزینه های ب و ج صحیح هستند.

۲۸- چگونه می توان هفت ردیف اضافی در جدول طراحی شده در html ایجاد کرد؟

(الف) با تغییر شناسه <colspan>

(ب) با ایجاد جدول جدید به تعداد هفت ردیف در محل مورد نظر

(ج) با استفاده از <td> به تعداد هفت عدد

(د) با استفاده از <tr> به تعداد هفت عدد

۲۹- برای تغییر پهنای یک سلول به اندازه سه ستون از کدام تگ زیر استفاده می شود؟

(الف) <tr> <td rowspan=3>&nbsp; </td> </tr>

(ب) <tr> <td colspan=3> &nbsp; </td> </tr>

(ج) <tr> <td colspan=3> <td> &nbsp; </td> </tr>

(د) <table colspan=3> <tr> <td> &nbsp; </td> </tr>

شماره	سرپرستی مدارس جمهوری اسلامی ایران ( امارات عربی متحده مجتمع آموزشی امام خمینی (ره) ابوظبی سال تحصیلی ۸۹/۸۸
محل مهر مجتمع	نام و نام خانوادگی : ..... کلاس : .....
نمره با عدد نمره با حروف	نام دبیر : آقای چراغی    آزمون درس : طرای مقدماتی صفحات وب    نوبت امتحان : شهریور
امضاء دبیر	زمان آزمون: ۶۰ دقیقه    تاریخ آزمون: ۱۳۸۹/۶/۴    صفحه: ۲

۳۰- می خواهیم یک سلول به ردیف بالا جدول اضافه کنیم که به پهنای سه ردیف جا بگیرد، کدام یک از تگ ها درست است؟  
الف) `<tr rowspan="3"> text </tr>` (الف)    `<td rowspan="3" text >/td>` (ب)  
ج) `<tr colspan="3"> text </td>` (ج)    `<td colspan="3"> text </td>` (د)

۳۱- برای تغییر رنگ قاب جدول کدام گزینه زیر درست است؟  
الف) `<table bgcolor=" " >` (الف)    `<table bordercolor=" (" >` (ب)  
ج) `<table bordercolor=" " >` (ج)    `<table border=" " >` (د)

۳۲- کدام یک از تگ های پیوند زیر از نوع پیوند مطلق است؟  
الف) `<a href="aboqut.htm">about</a>` (الف)  
ب) `<a href="http://www.w3schools.com"></a>` (ب)  
ج) `<a href="products.htm"><a>` (ج)  
د) `<a href="#product">product</a>` (د)

۳۳- در پیوند داخلی از کدام شناسه استفاده می کنیم؟ (anchor) برای ایجاد محل پیوند  
الف) `internal` (الف)    `Name` (ب)  
ج) `bookmark` (ج)    `Href="#..."` (د)

۳۴- کدام تگ برای ایجاد پیوند در صفحات وب است؟  
الف) `<href>` (الف)    `<head>` (ب)  
ج) `<link>` (ج)    `<a>` (د)

۳۵- کدام شناسه ی زیر رنگ پیوند را در زمان کلیک ماوس تا حد رها شدن مشخص می کند؟  
الف) `alink` (الف)    `Vlink` (ب)  
ج) `link` (ج)    `Text` (د)

۳۶- کدام یک از تگ های زیر بریا ایجاد یک پیوند صحیح است؟  
الف) `<a href=http://www.w3school.com>w3school</a>` (الف)  
ب) `<a href="http://www.w3school.com">` (ب)  
ج) `<a url=http://www.s3school.com>w3school</a>` (ج)  
د) `<a name=http://www.w3schools.com>w3school</a>` (د)

۳۷- به تناط تعریف شده برای پیوند در یک نقشه ی تصویری چه گفته می شود؟  
الف) `hot spot` (الف)    `Hot link` (ب)  
ج) `spot link` (ج)    `Anchor` (د)

۳۸- کدام شناسه در نقشه ی تصویری برای مشخص کردن شکل نقطه ی پیود به کار می رود؟  
الف) `area` (الف)    `Shape` (ب)  
ج) `cords` (ج)    `Anchor` (د)

۳۹- کدام شناسه در نقشه ی تصویری برای تعریف یک تصویر به کار می رود؟  
الف) `usemap` (الف)    `Useimg` (ب)  
ج) `usecode` (ج)    `Maoimg` (د)

۴۰- یک قالب (فریم).....

الف) در تمام مرورگر ها قابل نمایش است.

ب) در تگ ها `<body>` در بین سایر تگ ها قرار می گیرد.

ج) می تواند شامل نواز پیمایش باشد یا نباشد.

د) مانند یک نشانه (anchor) استفاده می شود.

۴۱- کدام تگ برای تقسیم بندی قالب (فریم) مورد استفاده قرار می گیرد؟

الف) `<frameset>` (الف)    `<frame>` (ب)    `<frameborder>` (ج)    `<framesets>` (د)



شماره	سرپرستی مدارس جمهوری اسلامی ایران ( امارات عربی متحده مجمع آموزشی امام خمینی (ره) ابوظبی سال تحصیلی ۸۸/۸۹	محل مهر مجمع
نام و نام خانوادگی : نام دبیر : آقای چراغی	..... کلاس : آزمون درس : طرای مقدماتی صفحات وب نوبت امتحان : شهریور	نمره با عدد نمره با حروف امضاء دبیر
زمان آزمون: ۶۰ دقیقه	تاریخ آزمون: ۱۳۸۹/۶/۵	صفحه: ۵

۴۲- قالب قرار می گیرد؟<body> کدام تک در قسمت	الف) <frameset>	ب) <frame>
	ج) <noframes>	د) هیچ کدام
۴۳- کدام یک از تک های زیر یک صفحه دارای قاب با دو ستون ایجاد می کند، به شرطی که پهنای هر ستون از قاب نیمی از صفحه مرورگر باشد؟	الف) <frameset cols="50,50">	ب) <frame cols="50,50">
	ج) <frameset cols="50%,50%">	د) <frame cols="50%,50%">
۴۴- کدام تک برای تعریف جایگزین بریا مرورگر های که از فریم ها پشتیبانی نمی کنند، استفاده می شود؟	الف) noframe	ب) Noborder
	ج) frameset	د) Frame
۴۵- کدام تک برای تغییر هدف پیش فرض پیوند موجود در تمام قاب ها مورد استفاده قرار می گیرد؟	الف) href	ب) Bref
	ج) base	د) Ref
۴۶- کدام شناسه برای مخفی کردن کادر های قاب در بالاترین تک frameset به کار می رود؟	الف) border	ب) Frameborder
	ج) fborder	د) Noframe
۴۷- Theme صفحات در کدام نوع از تغییر صفحات front page امکان پذیر است؟	الف) normal	ب) Web
	ج) vivid	د) Active graphics
۴۸- سبک های گرافیکی داخلی در front page چه نام دارد؟	الف) normal	ب) Wizard
	ج) theme	د) Vivid
۴۹- برای محاوره ایی که بر پایه ی پاسخ های شما به یک سری از سوالات، الگو هایی را ایجاد می کند، چه نام دارد؟	الف) normal	ب) Wizard
	ج) theme	د) Vivid
۵۰- برای تغییر تصویر زمینه ی وب کدام مسیر را انتخاب می کنیم؟	الف) File_page properties_background	ب) File_page properties_background
	ج) راست کلیک روی صفحه در منو normal view و انتخاب properties سپس Background	د) View_normal_page properties
۵۱- رنگ پیوند های موجود در صفحه ی وب درست در زمان فشرده شدن پیود و تا زمان رها شدن اشاره گر موس چه نامیده می شود؟	الف) hyperlink	ب) Active link
	ج) visited link	د) Roll link
۵۲- برای ایجاد صفحه یا سایت جدید از ترکیب کدام کلید ها استفاده می شود؟	الف) ctrl+o	ب) Ctrl+s
	ج) ctrl+n	د) Ctrl+f
۵۳- برای ذخیره ی صفحه وب از ترکیب کدام کلید ها استفاده می شود؟	الف) ctrl+o	ب) Ctrl+s
	ج) ctrl+n	د) Ctrl+f

محل مهر مجتمع	سرپرستی مدارس جمهوری اسلامی ایران ( امارات عربی متحده مجتمع آموزشی امام خمینی (ره) ابوظبی سال تحصیلی ۸۹/۸۸	شماره
نمره با عدد نمره با حروف امضاء دبیر	نام و نام خانوادگی : ..... کلاس : ..... نام دبیر : آقای چراغی آزمون درس : طرای مقدماتی صفحات وب نوبت امتحان : شهریور زمان آزمون: ۶۰ دقیقه تاریخ آزمون: ۱۳۸۹/۶/ صفحه : ۶	

۵۴- خصوصیات صفحه ایجاد شده در front page در کدام بخش قابل تغییر است؟

- الف) file\_properties  
ب) Edit\_properties  
ج) view\_properties  
د) Page\_properties

۵۵- در نرم افزار front page برای ایجاد یک نقطه ی پیوند (anchor) در یک صفحه ی وب ؛ از ترکیب کدام کلید ها استفاده می شود؟

- الف) ctrl+g  
ب) Ctrl+b  
ج) ctrl+n  
د) Ctrl+a

۵۶- در نرم افزار front page برای مدیریت قالب ها از کدام منو استفاده می شود؟

- الف) format  
ب) Frames  
ج) insert  
د) Layout

۵۷- برای ایجاد شمارنده ی صفحه کدام مسیر درست است؟

- الف) Unsert\_hit counter  
ب) Insert\_web component\_hit counter  
ج) Insert\_active component\_hit counter  
د) Edite\_web component\_hit counter

۵۸- برای افزودن یک صفحه گسترده excel کدام مسیر درست است ؟

- الف) Insert\_office spreadsheet  
ب) Insert+excel sreat sheet  
ج) Insert\_component\_office spreatshteet  
د) Insert\_data base\_office sreat sheet

۵۹- برای ایجاد پیوند از کدام روش استفاده می شود؟

- الف) Insert\_hyperlink  
ب) انتخاب متن یا تصویر، کلیک راست و انتخاب Hyperlink  
ج) انتخاب متن یا تصویر و کلیک روی ایکن link در نوار ابزار  
د) همه ی گزینه ها صحیح هستند.

۶۰- برای ارتباط با یک پایگاه داده در front page کدام مسیر را انتخاب می کنید؟

- الف) file\_data base  
ب) Insert\_data base  
ج) edit\_database  
د) Format\_data base

موفق باشید