



سؤال هماهنگ درس : ریاضی

پایه : پنجم

دوره : ابتدایی

نوبت : صبح

باسمه تعالی

سرپرستی مدارس جمهوری اسلامی ایران
در امارات عربی متحده

سال تحصیلی : ۸۸-۸۹

تاریخ امتحان : ۱۳۸۱/۲/۳

ساعت امتحان : ۳ : ۹

مدت امتحان : ۷۰ دقیقه

شماره صفحه : ۱

نمون برگ شماره ۱

نام مجتمع :

نام پدر :

نام و نام خانوادگی دانش آموز :

بارم	سؤال	ردیف
.۲۵ .۱۵	گزینه ی صحیح را علامت بزنید. • مساحت کشور ایران را با کدام واحد اندازه می گیرند؟ الف) کیلو متر ○ (ب) متر ○ (ج) کیلو متر مربع ○ (د) متر مربع ○ • در کدام یک از گزینه های زیر، هر دو عدد بر ۶ بخش پذیرند؟ الف) ۱۰ ، ۱۵ ○ (ب) ۳۰ ، ۱۸ ○ (ج) ۱۰ ، ۱۸ ○ (د) ۳۰ ، ۲۸ ○	۱
.۲۵ .۱۵ .۱۵	گزینه ی صحیح را با (ص) و گزینه ی غلط را با (غ) مشخص نمایید. ۴۰۰۰۰ متر مربع برابر است با ۴۰ هکتار (.....) در این عدد ۶۵۳۰۰۷۳۴۹ رقم ۶ بیش ترین ارزش مکانی را دارد. (.....) زاویه نیم صفحه ۱۸۰ درجه می باشد. (.....)	۲
.۲۵ .۲۵	برای شکل زیر، یک کسر بزرگ تر از واحد و یک عدد مخلوط بنویسید. کسر بزرگ تر از واحد عدد مخلوط	۳
۱	عملیات زیر را انجام دهید و در صورت امکان جواب ها را ساده کنید. $۴\frac{۷}{۱۳} + ۲\frac{۶}{۱۳} =$ $۳\frac{۵}{۶} - \frac{۳}{۷} =$	۴

امضاء

نمره : به عدد به حروف نام و نام خانوادگی صحیح :

باسمه تعالی

سرپرستی مدارس جمهوری اسلامی ایران
در امارات عربی متحده

سؤال هماهنگ درس : ریاضی

پایه : پنجم

دوره : ابتدایی

نوبت : صبح

سال تحصیلی : ۸۸-۸۹


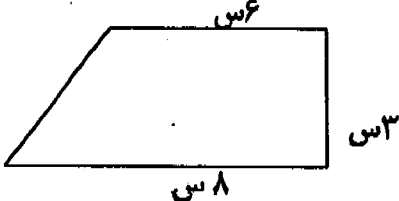
تاریخ امتحان : ۱۳۸۹ / ۲ / ۴

ساعت امتحان : ۹ : ۳۰

مدت امتحان : ۷۰ دقیقه


شماره صفحه : ۲

نمون برگ شماره ۱

۱	<p>۵ به کمک جدول تناسب نشان دهید چند درصد از شکل روبرو رنگ شده است؟</p> 	۵
۱/۵	<p>۶ ضرب های زیر را انجام دهید.</p> <p>$۴۱ \times .۲۱۵ =$ $.۱۵ \times ۱۷ =$ $.۱۶ \times .۱۱ =$</p>	۶
۱	<p>۷ رضا ساعت ۳:۰۰ صبح از منزل خارج شد و ساعت ۵:۲۵ به خانه بازگشت. او چه مدت خارج از منزل بوده است؟</p>	۷
۱	<p>۸ مساحت شکل زیر را حساب کنید.</p> 	۸
۱/۵	<p>۹ وزن یک لیوان خالی ۱۲۷ کیلوگرم است. الف) اگر وزن یک لیوان پر از آب ۳۵۴ کیلوگرم باشد، وزن آب داخل لیوان چه قدر است؟ ب) وزن دو لیوان خالی چه قدر است؟</p>	۹

امضاء

نمره : به عدد به حروف نام و نام خانوادگی مصحح:



سؤال هماهنگ درس : ریاضی

پایه : پنجم

دوره : ابتدایی

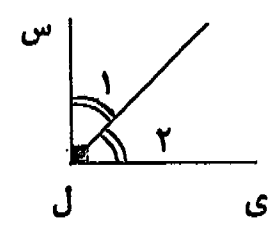
نوبت : صبح

باسمه تعالی

سرپرستی مدارس جمهوری اسلامی ایران
در امارات عربی متحده

سال تحصیلی : ۸۸-۸۹
تاریخ امتحان : ۱۳۸۹/۳/۳
ساعت امتحان : ۳ : ۹
مدت امتحان : ۷۰ دقیقه
شماره صفحه : ۳

نمون برگ شماره ۱

۱/۵	<p>ضرب های زیر را انجام دهید و جواب ها را در صورت امکان به عدد مخلوط تبدیل نمایید.</p> $\frac{۳}{۷} \times \frac{۱۳}{۵} =$ $۳ \frac{۲}{۱۱} \times ۲ \frac{۱}{۳} =$	۱۰
۱	<p>مثلی رسم کنید که اضلاع آن ۳، ۶ و ۵ سانتی متر باشد.</p>	۱۱
.۱۵	<p>نیم ساز زاویه (ی ل س) رسم شده است. اندازه ی زاویه های ۱ و ۲ را بدون استفاده از وسیله بنویسید.</p> 	۱۲
۱	<p>مقایسه کنید. ($> = <$)</p> <p>۷ کیلوگرم \bigcirc ۷۰۰ گرم</p> <p>۱/۲ کیلوگرم \bigcirc ۱۲۰۰ گرم</p> <p>۷۰ گرم \bigcirc ۰/۰۷۰ کیلوگرم</p> <p>۰/۱۵ کیلوگرم \bigcirc ۷۵۰ گرم</p>	۱۳
۱	<p>از سه درخت سیب به ترتیب ۱۰۰ کیلو و ۱۱۱ کیلو و ۲۰۰ کیلو سیب برداشت شد. میانگین برداشت شده از سه درخت چند کیلو است؟ (با راه حل)</p>	۱۴

امضاء


نمره : به عدد به حروف نام و نام خانوادگی مصحح:

سؤال هماهنگ درس : ریاضی
پایه : پنجم
دوره : ابتدایی
نوبت : صبح

باسمه تعالی
سرپرستی مدارس جمهوری اسلامی ایران
در امارات عربی متحده

سال تحصیلی : ۸۸-۸۹
تاریخ امتحان : ۱۳۸۹/۲/۳
ساعت امتحان : ۹ : ۳۰
مدت امتحان : ۷۰ دقیقه
شماره صفحه : ۴

نمون برگ شماره ۱

۱/۵	<p>جواب تقسیم های زیر را بنویسید و حاصل را تا آن جا که امکان دارد، ساده کنید.</p> $۸ \div ۲ =$ $۱۹ \div ۱۷ =$ $۱ \div \frac{۳}{۷} =$	۱۵
۲	<p>منبع آبی در روستای علی آباد وجود دارد که ابعاد آن به ترتیب ۴ و ۳ و ۲ متر است. الف) این منبع چند متر مکعب آب گنجایش دارد؟ ب) یعنی چند لیتر؟</p>	۱۶
۲	<p>مساحت قسمت رنگی را حساب کنید.</p> 	۱۷

« خسته نباشی عزیزم »

نمره : به عدد به حروف نام و نام خانوادگی مصحح: امضاء

سال تحصیلی: ۸۸-۸۹ تاریخ امتحان: ۱۳۸۹/۳/۳ ساعت امتحان: ۱۵:۳۰ مدت امتحان: ۷۰ دقیقه شماره صفحه: ۱	باسمه تعالی سرپرستی مدارس جمهوری اسلامی ایران در امارات عربی متحده	سؤال هماهنگ درس: ریاضی پایه: پنجم دوره: ابتدایی نوبت: عصر
--	---	---

نام و نام خانوادگی دانش آموز: نام پدر: نام مجتمع:

بارم	سؤال	ردیف
.۲۵	<p>گزینه صحیح را علامت بزنید.</p> <p>• مساحت استان فارس را با کدام واحد زیر اندازه می گیرند؟</p> <p>○ الف) متر مربع ○ ب) کیلو متر ○ ج) کیلو متر مربع ○ د) متر</p> <p>• در کدام یک از گزینه های زیر، هر دو عدد بر ۹ بخش پذیرند؟</p> <p>○ الف) ۵۱، ۱۸ ○ ب) ۹۸۱، ۵۴۲ ○ ج) ۶۲۱، ۵۱ ○ د) ۹۸۱، ۶۲۱</p>	۱
.۲۵ .۱۵ .۱۵	<p>گزینه ی صحیح را با (ص) و گزینه ی غلط را با (غ) مشخص نمایید.</p> <p>• ۶ هکتار برابر است با ۶۰۰۰ متر مربع (.....)</p> <p>• ارزش مکانی رقم ۳ در این عدد (۸۰۳۵۵۵۴۴۴۲۲۲)، یکان میلیارد می باشد. (.....)</p> <p>• زاویه ی نیم صفحه، دو برابر زاویه ی قائمه است. (.....)</p>	۲
۱	<p>به کمک جدول تناسب نشان دهید چند درصد از شکل روبرو رنگ شده است؟</p> <div style="text-align: center;"> </div>	۳
.۲۵ .۲۵	<p>برای شکل زیر، یک کسر بزرگ تر از واحد و یک عدد مخلوط بنویسید.</p> <p>کسر بزرگ تر از واحد</p> <p>عدد مخلوط</p> <div style="text-align: center;"> </div>	۴

جمع نمره: به عدد به حروف نام و نام خانوادگی مصحح: امضاء

سال تحصیلی: ۸۸-۸۹
تاریخ امتحان: ۱۳۸۹ / ۳ / ۳
ساعت امتحان: ۳: ۱۵
مدت امتحان: ۷۰ دقیقه
شماره صفحه: ۲

باسمه تعالی

سرپرستی مدارس جمهوری اسلامی ایران
در امارات عربی متحده

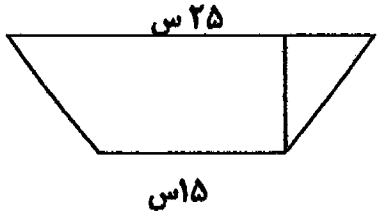
سؤال هماهنگ درس: ریاضی

پایه: پنجم

دوره: ابتدایی

نوبت: عصر

نمون برگ شماره ۱

۱	<p>۵ عملیات زیر را انجام دهید و در صورت امکان جواب ها را ساده کنید.</p> $3\frac{6}{10} + 2\frac{4}{10} =$ $5\frac{3}{4} - \frac{2}{6} =$	۵
۱/۵	<p>۶ ضرب های زیر را انجام دهید.</p> $.13 \times 17 =$ $.14 \times .12 =$ $31 \times .315 =$	۶
۱	<p>۷ روز پنج شنبه ی گذشته در یکی از شهر های کشورمان از ساعت ۴:۰۰ صبح باران شروع به باریدن کرد و در ساعت ۳:۰۰ ۱۲ ظهر تمام شد. حساب کنید چه مدت باران می باریده است.</p>	۷
۱	<p>۸ مساحت شکل زیر را حساب کنید. (ارتفاع شکل ۱۰ سانتی متر است)</p> 	۸

امضاء

جمع نمره: به عدد به حروف نام و نام خانوادگی مصحح:

سال تحصیلی: ۸۸-۸۹
تاریخ امتحان: ۱۳۸۹/۲/۳
ساعت امتحان: ۱۵:۳۰
مدت امتحان: ۷۰ دقیقه
شماره صفحه: ۳



باسمه تعالی

سرپرستی مدارس جمهوری اسلامی ایران
در امارات عربی متحده

سؤال هماهنگ درس: ریاضی
پایه: پنجم
دوره: ابتدایی
نوبت: عصر

نمون برگ شماره ۱

۱/۵	وزن زهرا $33/5$ کیلوگرم و وزن برادرش $17/47$ کیلوگرم است. وزن هر دو روی هم چه قدر است؟ وزن زهرا چه قدر بیش تر از وزن برادرش است؟	۹
۱/۵	ضرب های زیر را انجام دهید و جواب ها را در صورت امکان ساده یا به عدد مخلوط تبدیل نمایید. $3 \times \frac{4}{7} =$ $\frac{2}{7} \times 7 =$ $\frac{4}{5} \times \frac{5}{10} =$	۱۰
۱	مثلی رسم کنید که اندازه های دو ضلع آن، 4 و 7 سانتی متر و زاویه ی بین آن ها 45 درجه باشد. (قائده را 7 سانتی متر قرار دهید)	۱۱
۱/۵	الف) نام زاویه ی (ت ر م) چیست؟ این زاویه را با چه وسیله ای اندازه می گیرند؟	۱۲
۱	مقایسه کنید. ($> = <$) ۷۰۰ گرم \circ ۱۰۷۰ کیلوگرم ۷ کیلوگرم \circ ۷۰۰۰ گرم ۰/۱۵ کیلوگرم \circ ۷۵ گرم ۲/۲ کیلوگرم \circ ۳۲۰۰ گرم	۱۳


جمع نمره: به عدد به حروف نام و نام خانوادگی مصحح: امضاء

سال تحصیلی: ۸۸-۸۹
تاریخ امتحان: ۱۳۸۹/۳/۳
ساعت امتحان: ۱۵:۳۰
مدت امتحان: ۷۰ دقیقه
شماره صفحه: ۴

باسمه تعالی
سرپرستی مدارس جمهوری اسلامی ایران
در امارات عربی متحده


سؤال هماهنگ درس: ریاضی
پایه: پنجم
دوره: ابتدایی
نوبت: عصر

نمون برگ شماره ۱

۱	جمع نمرات مستمر نرگس در درس ریاضی از این قرار است: (۱۶، ۱۷، ۱۹، ۲۰، ۱۸) معدل نمرات او را حساب کنید. (با راه حل انجام دهید)	۱۴
۱/۵	جواب تقسیم های زیر را بنویسید و حاصل را تا آن جا که امکان دارد، ساده کنید یا به عدد مخلوط تبدیل کنید. $\frac{8}{9} \div \frac{4}{9} =$ $\frac{3}{4} \div \frac{2}{7} =$ $\frac{2}{5} \div 1 =$	۱۵
۲	منبع آبی داریم به شکل مکعب که هر بعد آن ۴ متر است. الف) حجم این منبع چند متر مکعب است؟ ب) گنجایش آن چند لیتر است؟	۱۶
۲	مساحت قسمت رنگی را حساب کنید.  س۴	۱۷

« خسته نباشی عزیزم »

جمع نمره: به عدد..... به حروف.....	نام و نام خانوادگی مصحح.....	امضاء.....
------------------------------------	------------------------------	------------



باسمه تعالی

سرپرستی مدارس جمهوری اسلامی ایران
در امارات عربی متحده

سؤال هماهنگ درس: ریاضی

پایه: پنجم

دوره: ابتدایی

نوبت: صبح

شماره ثبت: ۸۸-۸۹
تاریخ امتحان: ۱۳۸۹/۲/۳
ساعت امتحان: ۹:۳۰
شماره امتحان: ۲۰۰ دقیقه
شماره صفحه: ۱

نمون برگ شماره ۱

نام مجتمِع :

نام پدر :

نام و نام خانوادگی دانش آموز:

ردیف	سؤال	بارم
۱	گزینه ی صحیح را علامت بزنید. • مساحت کشور ایران را با کدام واحد اندازه می گیرند؟ (الف) کیلو متر <input type="radio"/> (ب) متر <input type="radio"/> (ج) کیلو متر مربع <input type="radio"/> (د) متر مربع <input type="radio"/> • در کدام یک از گزینه های زیر، هر دو عدد بر ۶ بخش پذیرند؟ (الف) ۱۵ ، ۱۰ <input type="radio"/> (ب) ۱۸ ، ۳۰ <input type="radio"/> (ج) ۱۸ ، ۱۰ <input type="radio"/> (د) ۲۸ ، ۳۰ <input type="radio"/>	.۲۵ .۱۵
۲	گزینه ی صحیح را با (ص) و گزینه ی غلط را با (غ) مشخص نمایید. ۴۰۰۰۰ متر مربع برابر است با ۴۰ هکتار (.....) در این عدد ۶۵۳۰۰۷۳۴۹ رقم ۶ بیش ترین ارزش مکانی را دارد. (.....) زاویه نیم صفحه ۱۸۰ درجه می باشد. (.....)	.۲۵ .۱۵ .۱۵
۳	برای شکل زیر، یک کسر بزرگ تر از واحد و یک عدد مخلوط بنویسید. کسر بزرگ تر از واحد عدد مخلوط۲۵ .۲۵
۴	عملیات زیر را انجام دهید و در صورت امکان جواب ها را ساده کنید.	۱ $4\frac{7}{13} + 2\frac{7}{13} =$ $3\frac{5}{7} - \frac{3}{7} =$

امضاء

نمره: به عدد به حروف نام و نام خانوادگی مصحح:

سؤال هماهنگ درس : ریاضی

پایه : پنجم

دوره : ابتدایی

نوبت : صبح

باسمه تعالی

سرپرستی مدارس جمهوری اسلامی ایران
در امارات عربی متحده

سال تحصیلی : ۸۸-۸۹

تاریخ امتحان : ۱۳۸۹ / ۳ / ۳

ساعت امتحان : ۹ : ۳۰

مدت امتحان : ۷۰ دقیقه

شماره صفحه : ۲

نمون برگ شماره ۱

۵ به کمک جدول تناسب نشان دهید چند درصد از شکل روبرو رنگ شده است؟



۱

۶ ضرب های زیر را انجام دهید.

$$۴۱ \times .۲۱۵ =$$

$$.۱۵ \times ۱۷ =$$

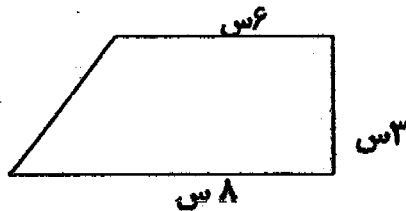
$$.۱۶ \times .۱۱ =$$

۱/۵

۷ رضا ساعت ۳:۰۰ صبح از منزل خارج شد و ساعت ۵:۲۵ به خانه بازگشت. او چه مدت خارج از منزل بوده است؟

۱۰

۸ مساحت شکل زیر را حساب کنید.



۱

۹ وزن یک لیوان خالی ۱۲۷ کیلوگرم است.

الف) اگر وزن یک لیوان پر از آب ۳۵۴ کیلوگرم

باشد، وزن آب داخل لیوان چه قدر است؟

ب) وزن دو لیوان خالی چه قدر است؟

۱/۵

امضاء

نمره : به عدد به حروف نام و نام خانوادگی مصحح

باسمه تعالی

سؤال هماهنگ درس: ریاضی

پایه: پنجم

دوره: ابتدایی

نوبت: صبح

سرپرستی مدارس جمهوری اسلامی ایران
در امارات عربی متحده

سال تحصیلی: ۸۸-۸۹

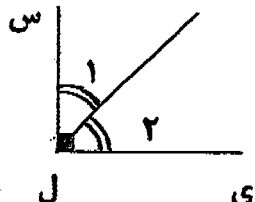
تاریخ امتحان: ۱۳۸۹/۲/۳

ساعت امتحان: ۹:۳۰

مدت امتحان: ۲۰ دقیقه

شماره صفحه: ۳

نمون برگ شماره ۱

۱/۵	ضرب های زیر را انجام دهید و جواب ها را در صورت امکان به عدد مخلوط تبدیل نمایید. $\frac{3}{7} \times \frac{13}{5} =$ $3 \frac{2}{11} \times 2 \frac{1}{3} =$	۱۰
۱	مثلی رسم کنید که اضلاع آن ۳، ۶ و ۵ سانتی متر باشد.	۱۱
۱/۵	نیم ساز زاویه (ی ل س) رسم شده است. اندازه ی زاویه های ۱ و ۲ را بدون استفاده از وسیله بنویسید. 	۱۲
۱	مقایسه کنید. ($>$ ، $=$ ، $<$) ۱/۲ کیلوگرم <input type="radio"/> ۱۲۰۰ گرم ۰/۱۵ کیلوگرم <input type="radio"/> ۷۵۰ گرم ۲ کیلوگرم <input type="radio"/> ۲۰۰ گرم ۰/۲۰ کیلوگرم <input type="radio"/> ۷۰ گرم	۱۳
۱	از سه درخت سیب به ترتیب ۱۰۰ کیلو و ۱۱۱ کیلو و ۲۰۰ کیلو سیب برداشت شد. میانگین برداشت شده از سه درخت چند کیلو است؟ (با راه حل)	۱۴
نمره: به عدد به حروف نام و نام خانوادگی مصحح: امضاء		

سال تحصیلی: ۸۸-۸۹
تاریخ امتحان: ۳ / ۳ / ۱۳۸۹
ساعت امتحان: ۳۰ : ۹
مدت امتحان: ۷۰ دقیقه
شماره صفحه: ۴


باسمه تعالی

سرپرستی مدارس جمهوری اسلامی ایران
در امارات عربی متحده

سؤال هماهنگ درس : ریاضی

پایه : پنجم
دوره : ابتدایی
نوبت : صبح

نمون برگ شماره ۱

۱/۵	<p>جواب تقسیم های زیر را بنویسید و حاصل را تا آن جا که امکان دارد، ساده کنید.</p> $۸ \div ۲ =$ $۱۹ \div ۱۷ =$ $۱ \div \frac{۳}{۷} =$	۱۵
۲	<p>منبع آبی در روستای علی آباد وجود دارد که ابعاد آن به ترتیب ۴ و ۳ و ۲ متر است. الف) این منبع چند متر مکعب آب گنجایش دارد؟ ب) یعنی چند لیتر؟</p>	۱۶
۲	<p>مساحت قسمت رنگی را حساب کنید.</p>  <p>۸ س ۶ س</p>	۱۷

« خسته نباشی عزیزم »

نمره : به عدد	به حروف	نام و نام خانوادگی مصحح:	امضاء
---------------	---------	--------------------------	-------

سؤال هماهنگ درسی : ریاضی

پایه : پنجم

دوره : ابتدایی

نوبت : صبح

باسمه تعالی

سرپرستی مدارس جمهوری اسلامی ایران
در امارات عربی متحده

سال تحصیلی : ۸۹-۸۸

تاریخ امتحان : ۱۳۸۹ / ۲ / ۳

ساعت امتحان : ۳ : ۹

مدت امتحان : ۷۰ دقیقه

شماره صفحه : ۱

نمون برگ شماره ۱

نام و نام خانوادگی دانش آموز:

نام پدر:

نام مجتبع:

ردیف

سؤال

بارم

گزینه ی صحیح را علامت بزنید.

• مساحت کشور ایران را با کدام واحد اندازه می گیرند؟

الف) کیلو متر ب) متر ج) کیلو متر مربع د) متر مربع

• در کدام یک از گزینه های زیر، هر دو عدد بر ۶ بخش پذیرند؟

الف) ۱۵ ، ۱۰ ب) ۱۸ ، ۳۰ ج) ۱۸ ، ۱۰ د) ۲۸ ، ۳۰

.۲۵

.۱۵

۱

گزینه ی صحیح را با (ص) و گزینه ی غلط را با (غ) مشخص نمایید.

۴۰۰۰۰ متر مربع برابر است با ۴۰ هکتار (.....)

در این عدد ۶۵۳۰۰۷۳۴۹ رقم ۶ بیش ترین ارزش مکانی را دارد. (.....)

زاویه نیم صفحه ۱۸۰ درجه می باشد. (.....)

.۲۵

.۱۵

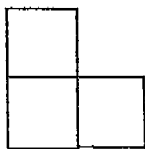
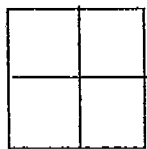

.۱۵

۲

برای شکل زیر، یک کسر بزرگ تر از واحد و یک عدد مخلوط بنویسید.

کسر بزرگ تر از واحد

عدد مخلوط



.۲۵

.۲۵

۳

عملیات زیر را انجام دهید و در صورت امکان جواب ها را ساده کنید.

$$4\frac{7}{13} + 2\frac{7}{13} =$$

$$3\frac{5}{6} - \frac{3}{7} =$$

۱


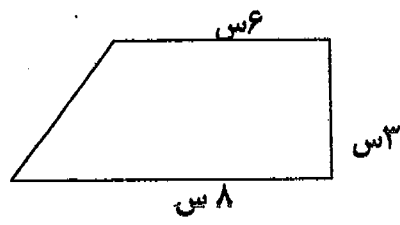
۴

امضاء

نمره : به عدد..... به حروف..... نام و نام خانوادگی مصحح:

سال تحصیلی: ۸۸-۸۹ تاریخ امتحان: ۱۳۸۹ / ۳ / ۳ ساعت امتحان: ۹ : ۲۰ مدت امتحان: ۲۰ دقیقه شماره صفحه: ۲	باسمه تعالی سرپرستی مدارس جمهوری اسلامی ایران در امارات عربی متحده	سؤال هماهنگ درس: ریاضی پایه: پنجم دوره: ابتدایی نوبت: صبح
---	---	---

نمونه برگ شماره ۱

۱	۵	به کمک جدول تناسب نشان دهید چند درصد از شکل روبرو رنگ شده است؟ 
۱/۵	۶	ضرب های زیر را انجام دهید. $۴۱ \times .۲۱۵ =$ $.۱۵ \times ۱۷ =$ $.۱۶ \times .۱۱۱ =$
۱	۷	رضا ساعت ۳:۰۰ صبح از منزل خارج شد و ساعت ۵:۲۵ به خانه بازگشت. او چه مدت خارج از منزل بوده است؟
۱	۸	مساحت شکل زیر را حساب کنید. 
۱/۵	۹	وزن یک لیوان خالی ۱۲۷/ کیلوگرم است. الف) اگر وزن یک لیوان پر از آب ۳۵۴/ کیلوگرم باشد، وزن آب داخل لیوان چه قدر است؟ ب) وزن دو لیوان خالی چه قدر است؟

نمره: به عدد..... به حروف..... نام و نام خانوادگی مصحح: امضاء

سؤال هماهنگ درس: ریاضی

پایه: پنجم

دوره: ابتدایی

نوبت: صبح

باسمه تعالی

سرپرستی مدارس جمهوری اسلامی ایران
در امارات عربی متحده

سال تحصیلی: ۸۸-۸۹

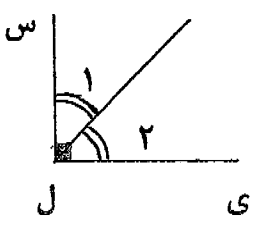
تاریخ امتحان: ۱۳۸۹/۳/۳

ساعت امتحان: ۹:۳۰

مدت امتحان: ۲۰ دقیقه

شماره صفحه: ۳

نمون برگ شماره ۱


۱/۵	ضرب های زیر را انجام دهید و جواب ها را در صورت امکان به عدد مخلوط تبدیل نمایید. $\frac{3}{7} \times \frac{13}{5} =$ $3 \frac{2}{11} \times 2 \frac{1}{3} =$	۱۰
۱	مثلی رسم کنید که اضلاع آن ۳، ۶ و ۵ سانتی متر باشد.	۱۱
۱/۵	نیم ساز زاویه (ی ل س) رسم شده است. اندازه ی زاویه های ۱ و ۲ را بدون استفاده از وسیله بنویسید. 	۱۲
۱	مقایسه کنید. ($>$ = $<$) ۷ کیلوگرم <input type="radio"/> ۲۰۰ گرم ۱/۲ کیلوگرم <input type="radio"/> ۱۲۰۰ گرم ۷۰ گرم <input type="radio"/> ۰/۰۷۰ کیلوگرم ۰/۱۵ کیلوگرم <input type="radio"/> ۷۵۰ گرم	۱۳
۱	از سه درخت سیب به ترتیب ۱۰۰ کیلو و ۱۱۱ کیلو و ۲۰۰ کیلو سیب برداشت شد. میانگین برداشت شده از سه درخت چند کیلو است؟ (با راه حل)	۱۴

امضاء

نمره: به عدد..... به حروف..... نام و نام خانوادگی مصحح:

سال تحصیلی: ۸۸-۸۹ تاریخ امتحان: ۱۳۸۹/۳/۳ ساعت امتحان: ۳۰ - ۹ مدت امتحان: ۲۰ دقیقه شماره صفحه: ۴	باسمه تعالی سرپرستی مدارس جمهوری اسلامی ایران در امارات عربی متحده	سؤال هماهنگ درس: ریاضی پایه: پنجم دوره: ابتدایی نوبت: صبح
---	---	---

نمون برگ شماره ۱

۱/۵	جواب تقسیم های زیر را بنویسید و حاصل را تا آن جا که امکان دارد، ساده کنید. $۸ \div ۲ =$ $۱۹ \div ۱۷ =$ $۱ \div \frac{۳}{۷} =$	۱۵
۲	منبع آبی در روستای علی آباد وجود دارد که ابعاد آن به ترتیب ۴ و ۳ و ۲ متر است. الف) این منبع چند متر مکعب آب گنجایش دارد؟ ب) یعنی چند لیتر؟	۱۶
۲	مساحت قسمت رنگی را حساب کنید.  <p style="text-align: center;">۸ س</p> <p style="text-align: right;">۶ س</p>	۱۷

« خسته نباشی عزیزم »

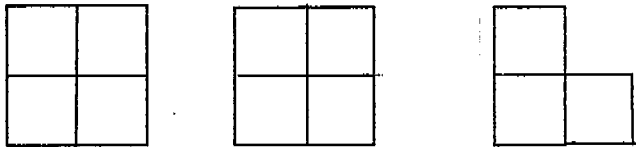
امضاء	نمره: به عدد به حروف نام و نام خانوادگی مصحح:
-------	---

سؤال هماهنگ درس: ریاضی	
پایه: پنجم	
دوره: ابتدایی	
نوبت: صبح	

باسمه تعالی
سربلندی مدارس جمهوری اسلامی ایران
در امارات عربی متحده

سال تحصیلی: ۸۸-۸۹
تاریخ امتحان: ۱۳۸۹/۲/۳
ساعت امتحان: ۹:۳۰
مدت امتحان: ۷۰ دقیقه
شماره صفحه: ۱

نمون برگ شماره ۱

نام و نام خانوادگی دانش آموز:		نام پدر:	نام مجتمع:
ردیف	سؤال	بارم	
۱	گزینه ی صحیح را علامت بزنید. • مساحت کشور ایران را با کدام واحد اندازه می گیرند؟ الف) کیلو متر ○ (ب) متر ○ (ج) کیلو متر مربع ○ (د) متر مربع ○ • در کدام یک از گزینه های زیر، هر دو عدد بر ۶ بخش پذیرند؟ الف) ۱۰ ، ۱۵ ○ (ب) ۱۸ ، ۳۰ ○ (ج) ۱۰ ، ۱۸ ○ (د) ۳۰ ، ۲۸ ○	.۲۵ .۱۵	
۲	گزینه ی صحیح را با (ص) و گزینه ی غلط را با (غ) مشخص نمایید. ۴۰۰۰۰ متر مربع برابر است با ۴۰ هکتار (.....) در این عدد ۶۵۳۰۰۷۳۴۹ رقم ۶ بیش ترین ارزش مکانی را دارد. (.....) زاویه نیم صفحه ۱۸۰ درجه می باشد. (.....)	.۲۵ .۱۵ .۱۵	
۳	برای شکل زیر، یک کسر بزرگ تر از واحد و یک عدد مخلوط بنویسید. کسر بزرگ تر از واحد عدد مخلوط۲۵ .۲۵	
۴	عملیات زیر را انجام دهید و در صورت امکان جواب ها را ساده کنید.	۱ $\frac{7}{4} + 2\frac{6}{13} =$ $3\frac{5}{6} - \frac{3}{7} =$	

امضاء

نمره: به عدد..... به حروف..... نام و نام خانوادگی مصحح:

سؤال هماهنگ درس : ریاضی

پایه : پنجم

دوره : ابتدایی

نوبت : صبح

باسمه تعالی

سرپرستی مدارس جمهوری اسلامی ایران
در امارات عربی متحده

سال تحصیلی : ۸۹-۸۸


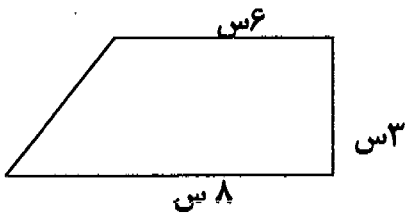
تاریخ امتحان : ۳ / ۳ / ۱۳۸۹

ساعت امتحان : ۲۰ : ۹

مدت امتحان : ۲۰ دقیقه

شماره صفحه : ۲

نمون برگ شماره ۱

۱	<p>۵ به کمک جدول تناسب نشان دهید چند درصد از شکل روبرو رنگ شده است؟</p> 
۱/۵	<p>۶ ضرب های زیر را انجام دهید.</p> $۴۱ \times .۲۱۵ =$ $.۱۵ \times ۱۷ =$ $.۱۶ \times .۱۱ =$
۱	<p>۷ رضا ساعت ۳:۰۰ صبح از منزل خارج شد و ساعت ۵:۲۵ به خانه بازگشت. او چه مدت خارج از منزل بوده است؟</p>
۱	<p>۸ مساحت شکل زیر را حساب کنید.</p> 
۱/۵	<p>۹ وزن یک لیوان خالی ۱۲۷ . کیلوگرم است. الف) اگر وزن یک لیوان پر از آب ۳۵۴ . کیلوگرم باشد، وزن آب داخل لیوان چه قدر است؟ ب) وزن دو لیوان خالی چه قدر است؟</p>

امضاء

نمره : به عدد..... به حروف..... نام و نام خانوادگی مصحح:

سال تحصیلی: ۸۸-۸۹
تاریخ امتحان: ۱۳۸۹/۳/۳
ساعت امتحان: ۳: ۹
مدت امتحان: ۷۰ دقیقه
شماره صفحه: ۳

باسمه تعالی

سرپرستی مدارس جمهوری اسلامی ایران
در امارات عربی متحده

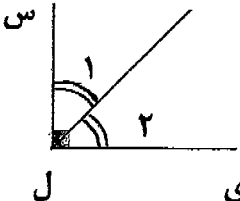
سؤال هماهنگ درس: ریاضی

پایه: پنجم

دوره: ابتدایی

نوبت: صبح

نمون برگ شماره ۱

۱/۵	ضرب های زیر را انجام دهید و جواب ها را در صورت امکان به عدد مخلوط تبدیل نمایید. $\frac{3}{7} \times \frac{13}{5} =$ $3 \frac{2}{11} \times 2 \frac{1}{3} =$	۱۰
۱	مثلی رسم کنید که اضلاع آن ۶، ۳ و ۵ سانتی متر باشد.	۱۱
۱/۵	نیم ساز زاویه (ی ل س) رسم شده است. اندازه ی زاویه های ۱ و ۲ را بدون استفاده از وسیله بنویسید. 	۱۲
۱	مقایسه کنید. (> = <) ۲ کیلوگرم ○ ۷۰۰ گرم ۱/۲ کیلوگرم ○ ۱۲۰۰ گرم ۰/۵ کیلوگرم ○ ۷۵۰ گرم ۷۰ گرم ○ ۰/۰۷۰ کیلوگرم	۱۳
۱	از سه درخت سیب به ترتیب ۱۰۰ کیلو و ۱۱۱ کیلو و ۲۰۰ کیلو سیب برداشت شد. میانگین برداشت شده از سه درخت چند کیلو است؟ (با راه حل)	۱۴

امضاء

نمره: به عدد..... به حروف..... نام و نام خانوادگی مصحح:

سؤال هماهنگ درس: ریاضی

پایه: پنجم

دوره: ابتدایی

نوبت: صبح

باسمه تعالی

سرپرستی مدارس جمهوری اسلامی ایران
در امارات عربی متحده

سال تحصیلی: ۸۹-۸۸


تاریخ امتحان: ۳ / ۳ / ۱۳۸۹

ساعت امتحان: ۳۰ : ۹

مدت امتحان: ۷۰ دقیقه

شماره صفحه: ۴

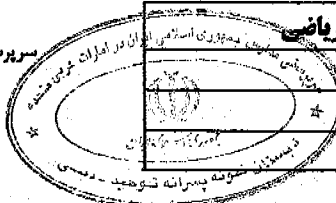
نمون برگ شماره ۱

۱/۵	<p>جواب تقسیم های زیر را بنویسید و حاصل را تا آن جا که امکان دارد، ساده کنید.</p> $۸ \div ۲ =$ $۱۹ \div ۱۷ =$ $۱ \div \frac{۳}{۷} =$	۱۵
۲	<p>منبع آبی در روستای علی آباد وجود دارد که ابعاد آن به ترتیب ۴ و ۳ و ۲ متر است. (الف) این منبع چند متر مکعب آب گنجایش دارد؟ (ب) یعنی چند لیتر؟</p>	۱۶
۲	<p>مساحت قسمت رنگی را حساب کنید.</p> 	۱۷

« خسته نباشی عزیزم »

امضاء

نمره: به عدد..... به حروف..... نام و نام خانوادگی مصحح:


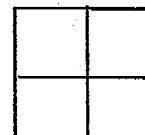
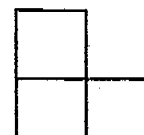
سال تحصیلی: ۸۸-۸۹ تاریخ امتحان: ۱۳۸۹/۲/۳ ساعت امتحان: ۹:۳۰ مدت امتحان: ۲۰ دقیقه شماره صفحه: ۱	باسمه تعالی سرپرستی مدارس جمهوری اسلامی ایران در امارات عربی متحده	
		سؤال هماهنگ درس: ریاضی پایه: پنجم دوره: ابتدایی نوبت: صبح

نمون برگ شماره ۱

نام و نام خانوادگی دانش آموز:

نام پدر:

نام مجتمع:

بارم	سؤال	ردیف
.۲۵	<p>گزینه ی صحیح را علامت بزنید.</p> <p>• مساحت کشور ایران را با کدام واحد اندازه می گیرند؟</p> <p>الف) کیلو متر <input type="radio"/> ب) متر <input type="radio"/> ج) کیلو متر مربع <input type="radio"/> د) متر مربع <input type="radio"/></p> <p>• در کدام یک از گزینه های زیر، هر دو عدد بر ۶ بخش پذیرند؟</p> <p>الف) ۱۵ ، ۱۰ <input type="radio"/> ب) ۱۸ ، ۳۰ <input type="radio"/> ج) ۱۸ ، ۱۰ <input type="radio"/> د) ۲۸ ، ۳۰ <input type="radio"/></p>	۱
.۲۵ .۱۵ .۱۵	<p>گزینه ی صحیح را با (ص) و گزینه ی غلط را با (غ) مشخص نمایید.</p> <p>۴۰۰۰۰ متر مربع برابر است با ۴۰ هکتار (.....)</p> <p>در این عدد ۶۵۳۰۰۷۳۴۹ رقم ۶ بیش ترین ارزش مکانی را دارد. (.....)</p> <p>زاویه نیم صفحه ۱۸۰ درجه می باشد. (.....)</p>	۲
.۲۵ .۲۵	<p>برای شکل زیر، یک کسر بزرگ تر از واحد و یک عدد مخلوط بنویسید.</p> <p>کسر بزرگ تر از واحد</p> <p>عدد مخلوط</p> <div style="display: flex; justify-content: space-around; align-items: center;">    </div>	۳
۱	<p>عملیات زیر را انجام دهید و در صورت امکان جواب ها را ساده کنید.</p> $\frac{7}{4} + \frac{7}{13} =$ $\frac{5}{3} - \frac{3}{7} =$	۴

نمره: به عدد..... به حروف..... نام و نام خانوادگی مصحح:


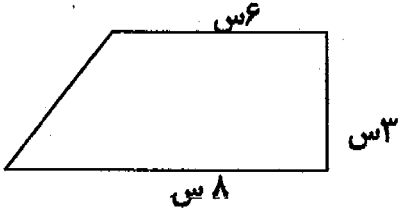
امضاء

سال تحصیلی: ۸۸-۸۹
تاریخ امتحان: ۱۳۸۹/۲/۳
ساعت امتحان: ۹:۳۰
مدت امتحان: ۷۰ دقیقه
شماره صفحه: ۲

باسمه تعالی
سرپرستی مدارس جمهوری اسلامی ایران
در امارات عربی متحده

سؤال هماهنگ درسی: ریاضی
پایه: پنجم
دوره: ابتدایی
نوبت: صبح

نمون برگ شماره ۱

۱	۵	به کمک جدول تناسب نشان دهید چند درصد از شکل روبرو رنگ شده است؟ 
۱/۵	۶	ضرب های زیر را انجام دهید. $۴۱ \times .۲۱۵ =$ $.۱۵ \times ۱۷ =$ $.۱۶ \times .۱۱ =$
۱	۷	رضا ساعت ۳:۰۰ صبح از منزل خارج شد و ساعت ۲۵:۰۰ به خانه بازگشت. او چه مدت خارج از منزل بوده است؟
۱	۸	مساحت شکل زیر را حساب کنید. 
۱/۵	۹	وزن یک لیوان خالی ۱۲۷/ کیلوگرم است. الف) اگر وزن یک لیوان پر از آب ۳۵۴/ کیلوگرم باشد، وزن آب داخل لیوان چه قدر است؟ ب) وزن دو لیوان خالی چه قدر است؟

امضاء

نمره: به عدد به حروف نام و نام خانوادگی مصحح:

سؤال هماهنگ درس: ریاضی

پایه: پنجم

دوره: ابتدایی

نوبت: صبح

باسمه تعالی

سرپرستی مدارس جمهوری اسلامی ایران
در امارات عربی متحده

سال تحصیلی: ۸۸-۸۹

تاریخ امتحان: ۱۳۸۹ / ۳ / ۳

ساعت امتحان: ۳ : ۹

مدت امتحان: ۲۰ دقیقه

شماره صفحه: ۳

نمون برگ شماره ۱

۱۰	ضرب های زیر را انجام دهید و جواب ها را در صورت امکان به عدد مخلوط تبدیل نمایید. $\frac{3}{7} \times \frac{13}{5} =$ $3\frac{2}{11} \times 2\frac{1}{3} =$	۱/۵
۱۱	مثلثی رسم کنید که اضلاع آن ۶، ۳ و ۵ سانتی متر باشد.	۱
۱۲	نیم ساز زاویه (ی ل س) رسم شده است. اندازه ی زاویه های ۱ و ۲ را بدون استفاده از وسیله بنویسید.	۱/۵
۱۳	مقایسه کنید. (> = <) ۷ کیلوگرم ○ ۷۰۰ گرم ۱/۲ کیلوگرم ○ ۱۲۰۰ گرم ۷۰ گرم ○ ۰/۰۷۰ کیلوگرم ۰/۱۵ کیلوگرم ○ ۷۵۰ گرم	۱
۱۴	از سه درخت سیب به ترتیب ۱۰۰ کیلو و ۱۱۱ کیلو و ۲۰۰ کیلو سیب برداشت شد. میانگین برداشت شده از سه درخت چند کیلو است؟ (با راه حل)	۱
نمره: به عدد..... به حروف..... نام و نام خانوادگی مصحح: امضاء		

سؤال هماهنگ درس: ریاضی

پایه: پنجم

دوره: ابتدایی

نوبت: صبح

باسمه تعالی

سرپرستی مدارس جمهوری اسلامی ایران
در امارات عربی متحده

سال تحصیلی: ۸۸-۸۹


تاریخ امتحان: ۳ / ۲ / ۱۳۸۹

ساعت امتحان: ۳۰ - ۹

مدت امتحان: ۲۰ دقیقه

شماره صفحه: ۴

نمون برگ شماره ۱

۱/۵	<p>جواب تقسیم های زیر را بنویسید و حاصل را تا آن جا که امکان دارد، ساده کنید.</p> $۸ \div ۲ =$ $۱۹ \div ۱۷ =$ $۱ \div \frac{۳}{۷} =$	۱۵
۲	<p>منبع آبی در روستای علی آباد وجود دارد که ابعاد آن به ترتیب ۴ و ۳ و ۲ متر است. (الف) این منبع چند متر مکعب آب گنجایش دارد؟ (ب) یعنی چند لیتر؟</p>	۱۶
۲	<p>مساحت قسمت رنگی را حساب کنید.</p> 	۱۷

« خسته نباشی عزیزم »

امضاء

نمره: به عدد..... به حروف..... نام و نام خانوادگی مصحح:

باسمه تعالی

سرپرستی مدارس جمهوری اسلامی ایران
در امارات عربی متحده

سوال هماهنگ درس : علوم

پایه : پنجم

دوره : ابتدایی

نویس صبح

سال تحصیلی : ۸۹-۸۸

تاریخ امتحان : ۸۹/۳/۱۰

ساعت امتحان : ۳۰ : ۹

مدت امتحان : ۷۰ دقیقه

شماره صفحه : ۱

شماره

نام و نام خانوادگی دانش آموز:

نام پدر:

نام مجتمع:

ردیف	سوال	بارم
۱	الف - پاسخ صحیح را با علامت ضربدر مشخص کنید. کدام دسته از مواد زیر عنصر هستند؟ الف - آهن - طلا - مس <input type="checkbox"/> ب - نمک - شکر - الکل <input type="checkbox"/> ج - جیوه - اکسید آهن - مس <input type="checkbox"/> د - شکر - اکسیژن - آب <input type="checkbox"/>	۰/۱۵
۲	کدام یک از موارد زیر تغییر فیزیکی است؟ الف - ذوب یخ - زرد شدن برگ در ختان <input type="checkbox"/> ب - تبخیر آب - بریدن چوب <input type="checkbox"/> ج - گوارش غذا - کپک زدن نان <input type="checkbox"/> د - تهیه مربا - حل شدن شکر در آب <input type="checkbox"/>	۰/۱۵
۳	در کدام یک از وسایل زیر انرژی الکتریکی به انرژی حرکتی تبدیل می شود؟ الف - چراغ مطالعه <input type="checkbox"/> ب - چرخ گوشت <input type="checkbox"/> ج - اطو <input type="checkbox"/> د - تلویزیون <input type="checkbox"/>	۰/۱۵
۴	چه موقع رنگین کمان در آسمان دیده می شود؟ الف - وقتی که هوا ابری باشد <input type="checkbox"/> ب - وقتی که هوا صاف باشد <input type="checkbox"/> ج - وقتی که باران ببارد <input type="checkbox"/> د - وقتی که بلافاصله پس از باران هوا آفتابی باشد <input type="checkbox"/>	۰/۱۵
۵	از بدن کدام یک از جانوران زیر فسیل بهتری ساخته می شود؟ الف - مورچه <input type="checkbox"/> ب - ماهی <input type="checkbox"/> ج - کرم خاکی <input type="checkbox"/> د - کیبوتر <input type="checkbox"/>	۰/۱۵
۶	آب در کدام نوع خاک سریع تر نفوذ می کند؟ الف - خاک بیابان <input type="checkbox"/> ب - خاک رس <input type="checkbox"/> ج - خاک مزرعه <input type="checkbox"/> د - خاک شن و ماسه <input type="checkbox"/>	۰/۱۵
۷	در کدام یک از لایه های زمین سنگ ها نرم و خمیری شکل هستند؟ الف - گوشته <input type="checkbox"/> ب - پوسته <input type="checkbox"/> ج - هسته بیرونی <input type="checkbox"/> د - هسته درونی <input type="checkbox"/>	۰/۱۵
۸	کدام یک از جانداران ساده در بستنی سازی و تهیه خمیر دندان مورد استفاده قرار می گیرند؟ الف - قارچها <input type="checkbox"/> ب - باکتریها <input type="checkbox"/> ج - جلبک ها <input type="checkbox"/> د - مخمرها <input type="checkbox"/>	۰/۱۵
۹	به موادی که میکروب ها را بیرون بدن می کشند چه می گویند؟ الف - ضد عفونی کننده ها <input type="checkbox"/> ب - پادتن <input type="checkbox"/> ج - واکسن <input type="checkbox"/> د - آنتی بیوتیک ه <input type="checkbox"/>	۰/۱۵
۱۰	بیشتر اطلاعاتی که از دنیای اطراف خود به دست می آوریم از راه کدام حس است؟ الف - بویایی <input type="checkbox"/> ب - بینایی <input type="checkbox"/> ج - چشایی <input type="checkbox"/> د - شنوایی <input type="checkbox"/>	۰/۱۵
۱۱	چشمه انرژی لازم برای بدن همه جانداران چیست؟ الف - خورشید <input type="checkbox"/> ب - غذا <input type="checkbox"/> ج - گیاهان <input type="checkbox"/> د - زمین <input type="checkbox"/>	۰/۱۵

نمره کتبی :

نمره شفاهی / عملی :

جمع نمره : به عدد به حروف نام و نام خانوادگی مصحح:

امضاء

ب - جاهای خالی را با کلمات مناسب کامل کنید .

- ۱ نام علمی زنگ آهن است . ۰/۱۵
- ۲ هرچه طول سطح شیب دار باشد برای بالا بردن جسم به نیروی بیشتری نیاز داریم. ۰/۱۵
- ۳ زمین شناسان با مطالعه اطلاعاتی در باره آب و هوای گذشته زمین بدست می آورند. ۰/۱۵
- ۴ به مواد جامد دانه ریزی که از دهانه آتش فشان خارج می شوند می گویند. ۰/۱۵
- ۵ به میکروب های کشته یا ضعیف شده بیماری ها می گویند. ۰/۱۵
- ۶ هر چیزی که صدا ایجاد می کند باعث هوا می شود. ۰/۱۵
- ۷ بیشتر نزدیک بینی ها و دوربین ها هستند. ۰/۱۵
- ۸ منابعی که در صورت مصرف خیلی زود جبران می شوند را منابع می گویند. ۰/۱۵

ج - جملات درست و نادرست را مشخص کنید.

نادرست	درست		
		شدید بودن زلزله تنها عامل خرابی ساختمان ها است	۱
		جنس پوسته زمین از سنگ است.	۲
		فراوان ترین جانداران روی زمین جلبک ها هستند.	۳
		ویروس فلج اطفال به دستگاه عصبی آسیب می رساند	۴
		گیاهان و جانوران از منابع طبیعی غیر زنده هستند.	۵

د - به سوالات زیر پاسخ کامل دهید.

- ۱ چرا گاز ها در همه جای محیط اطراف خود پخش می شوند ؟ ۰/۱۵

شماره

۲ قسمت های اصلی اهرم را بنویسید ؟

۰/۷۵

۳ کانون عدسی را تعریف کنید ؟

۰/۱۵

۴ فسیل (سنگواره) را تعریف کنید ؟

۱

۵ راه های تشکیل خاک را بنویسید ؟ (دو مورد)

۱

۶ در خرابی های حاصل از زمین لرزه چه عواملی دخالت دارند ؟ (دو مورد)

۱

۷ فایده قارچ ها را بنویسید ؟ (دو مورد)

۱

۸ طرز دفاع گلبول های سفید در برابر میکروب ها را توضیح دهید ؟ (دو مورد)

۱

۹ راه های مراقبت از چشم را بنویسید ؟ (دو مورد)

۱

۱۰ دو اندامی که از نظر احساسی بو و مزه شبیه هم عمل می کنند چه نام دارند ؟

۰/۱۵

۱۱ آلودگی صوتی چیست ؟

۱

در پناه خدا موفق باشید

امضاء

جمع نمره : به عدد به حروف نام و نام خانوادگی مصحح:

نمره شفاهی / عملی :

نمره کتبی :

سوال هماهنگ درس : علوم
پایه : پنجم
دوره : ابتدایی
نوبت صبح

باسمه تعالی
سرپرستی مدارس جمهوری اسلامی ایران
در امارات عربی متحده

سال تحصیلی : ۸۸-۸۹
تاریخ امتحان : ۸۹/۳/۱۰
ساعت امتحان : ۹:۳۰
مدت امتحان : ۲۰ دقیقه
شماره صفحه : ۱

شماره

نام و نام خانوادگی دانش آموز: نام پدر: نام مجتمع:

ردیف	سوال	بارم
۱	الف - پاسخ صحیح را با علامت ضربدر مشخص کنید. کدام دسته از مواد زیر عنصر هستند؟ الف - آهن - طلا - مس <input type="checkbox"/> ب - نمک - شکر - الکل <input type="checkbox"/> ج - جیوه - اکسید آهن - مس <input type="checkbox"/> د - شکر - اکسیژن - آب <input type="checkbox"/>	۰/۱۵
۲	کدام یک از موارد زیر تغییر فیزیکی است؟ الف - ذوب یخ - زرد شدن برگ در ختان <input type="checkbox"/> ب - تبخیر آب - بریدن چوب <input type="checkbox"/> ج - گوارش غذا - کپک زدن نان <input type="checkbox"/> د - تهیه مربا - حل شدن شکر در آب <input type="checkbox"/>	۰/۱۵
۳	در کدام یک از وسایل زیر انرژی الکتریکی به انرژی حرکتی تبدیل می شود؟ الف - چراغ مطالعه <input type="checkbox"/> ب - چرخ گوشت <input type="checkbox"/> ج - اطو <input type="checkbox"/> د - تلویزیون <input type="checkbox"/>	۰/۱۵
۴	چه موقع رنگین کمان در آسمان دیده می شود؟ الف - وقتی که هوا ابری باشد <input type="checkbox"/> ب - وقتی که هوا صاف باشد <input type="checkbox"/> ج - وقتی که باران ببارد <input type="checkbox"/> د - وقتی که بلافاصله پس از باران هوا آفتابی باشد <input type="checkbox"/>	۰/۱۵
۵	از بدن کدام یک از جانوران زیر فسیل بهتری ساخته می شود؟ الف - مورچه <input type="checkbox"/> ب - ماهی <input type="checkbox"/> ج - کرم خاکی <input type="checkbox"/> د - کبوتر <input type="checkbox"/>	۰/۱۵
۶	آب در کدام نوع خاک سریع تر نفوذ می کند؟ الف - خاک بیابان <input type="checkbox"/> ب - خاک رس <input type="checkbox"/> ج - خاک مزرعه <input type="checkbox"/> د - خاک شن و ماسه <input type="checkbox"/>	۰/۱۵
۷	در کدام یک از لایه های زمین سنگ ها نرم و خمیری شکل هستند؟ الف - گوشته <input type="checkbox"/> ب - پوسته <input type="checkbox"/> ج - هسته بیرونی <input type="checkbox"/> د - هسته درونی <input type="checkbox"/>	۰/۱۵
۸	کدام یک از جانداران ساده در بستنی سازی و تهیه خمیر دندان مورد استفاده قرار می گیرند؟ الف - قارچها <input type="checkbox"/> ب - باکتریها <input type="checkbox"/> ج - جلبک ها <input type="checkbox"/> د - مخمر ها <input type="checkbox"/>	۰/۱۵
۹	به موادی که میکروب ها را بیرون بدن می کشند چه می گویند؟ الف - ضد عفونی کننده ها <input type="checkbox"/> ب - پادتن <input type="checkbox"/> ج - واکسن <input type="checkbox"/> د - آنتی بیوتیک ه <input type="checkbox"/>	۰/۱۵
۱۰	بیشتر اطلاعاتی که از دنیای اطراف خود به دست می آوریم از راه کدام حس است؟ الف - بویایی <input type="checkbox"/> ب - بینایی <input type="checkbox"/> ج - چشایی <input type="checkbox"/> د - شنوایی <input type="checkbox"/>	۰/۱۵
۱۱	چشمه انرژی لازم برای بدن همه جانداران چیست؟ الف - خورشید <input type="checkbox"/> ب - غذا <input type="checkbox"/> ج - گیاهان <input type="checkbox"/> د - زمین <input type="checkbox"/>	۰/۱۵

نمره کتبی: نمره شفاهی / عملی: جمع نمره: به عدد..... به حروف..... نام و نام خانوادگی مصحح: امضاء

شماره

ب - جاهای خالی را با کلمات مناسب کامل کنید .

- ۱ نام علمی زنگ آهن است .
۲ هرچه طول سطح شیب دار باشد برای بالا بردن جسم به نیروی بیشتری نیاز داریم.
۳ زمین شناسان با مطالعه اطلاعاتی در باره آب و هوای گذشته زمین بدست می آورند.
۴ به مواد جامد دانه ریزی که از دهانه آتش فشان خارج می شوند می گویند.
۵ به میکروب های کشته یا ضعیف شده بیماری ها می گویند.
۶ هر چیزی که صدا ایجاد می کند باعث هوا می شود.
۷ بیشتر نزدیک بینی ها و دوربین ها هستند.
۸ منابعی که در صورت مصرف خیلی زود جبران می شوند را منابع می گویند.

ج - جملات درست و نادرست را مشخص کنید.

نادرست	درست	
		شدید بودن زلزله تنها عامل خرابی ساختمان ها است
		جنس پوسته زمین از سنگ است.
		فراوان ترین جانداران روی زمین جلبک ها هستند.
		ویروس فلج اطفال به دستگاه عصبی آسیب می رساند
		گیاهان و جانوران از منابع طبیعی غیر زنده هستند.

د - به سوالات زیر پاسخ کامل دهید.

- ۱ چرا گاز ها در همه جا ی محیط اطراف خود پخش می شوند ؟

شماره

۲ قسمت های اصلی اهرم را بنویسید ؟

۰/۷۵

۳ کانون عدسی را تعریف کنید ؟

-/۱۵

۴ فسیل (سنگواره) را تعریف کنید ؟

۱

۵ راه های تشکیل خاک را بنویسید ؟ (دو مورد)

۱

۶ در خرابی های حاصل از زمین لرزه چه عواملی دخالت دارند ؟ (دو مورد)

۱

۷ فایده قارچ ها را بنویسید ؟ (دو مورد)

۱

۸ طرز دفاع گلبول های سفید در برابر میکروب ها را توضیح دهید ؟ (دو مورد)

۱

۹ راه های مراقبت از چشم را بنویسید ؟ (دو مورد)

۱

۱۰ دو اندامی که از نظر احساس بو و مزه شبیه هم عمل می کنند چه نام دارند ؟

-/۱۵

۱۱ آلودگی صوتی چیست ؟

۱

در پناه خدا موفق باشید

امضاء


جمع نمره : به عدد به حروف نام و نام خانوادگی مصحح:

نمره شفاهی / عملی :

نمره کتبی :

سوال ماهنگ درس : علوم
پایه : پنجم
دوره : ابتدایی
نویس : صحیح

باسمه تعالی
سرپرستی مدارس جمهوری اسلامی ایران
در امارات عربی متحده



سال تحصیلی : ۸۸-۸۹
تاریخ امتحان : ۸۹ / ۳ / ۱۰
ساعت امتحان : ۹ / ۳۰
مدت امتحان : ۷۰ دقیقه
شماره صفحه : ۱

شماره

نام و نام خانوادگی دانش آموز: نام پدر: نام مجتمع:

ردیف	سوال	بارم
۱	الف - پاسخ صحیح را با علامت ضربدر مشخص کنید. کدام دسته از مواد زیر عنصر هستند؟ الف - آهن - طلا - مس <input type="checkbox"/> ب - نمک - شکر - الکل <input type="checkbox"/> ج - جیوه - اکسید آهن - مس <input type="checkbox"/> د - شکر - اکسیژن - آب <input type="checkbox"/>	۰/۱۵
۲	کدام یک از موارد زیر تغییر فیزیکی است؟ الف - ذوب یخ - زرد شدن برگ در ختان <input type="checkbox"/> ب - تبخیر آب - بریدن چوب <input type="checkbox"/> ج - گوارش غذا - کپک زدن نان <input type="checkbox"/> د - تهیه مربا - حل شدن شکر در آب <input type="checkbox"/>	۰/۱۵
۳	در کدام یک از وسایل زیر انرژی الکتریکی به انرژی حرکتی تبدیل می شود؟ الف - چراغ مطالعه <input type="checkbox"/> ب - چرخ گوشت <input type="checkbox"/> ج - اطو <input type="checkbox"/> د - تلویزیون <input type="checkbox"/>	۰/۱۵
۴	چه موقع رنگین کمان در آسمان دیده می شود؟ الف - وقتی که هوا ابری باشد <input type="checkbox"/> ب - وقتی که هوا صاف باشد <input type="checkbox"/> ج - وقتی که باران ببارد <input type="checkbox"/> د - وقتی که بلافاصله پس از باران هوا آفتابی باشد <input type="checkbox"/>	۰/۱۵
۵	از بدن کدام یک از جانوران زیر فسیل بهتری ساخته می شود؟ الف - مورچه <input type="checkbox"/> ب - ماهی <input type="checkbox"/> ج - کرم خاکی <input type="checkbox"/> د - کبوتر <input type="checkbox"/>	۰/۱۵
۶	آب در کدام نوع خاک سریع تر نفوذ می کند؟ الف - خاک بیابان <input type="checkbox"/> ب - خاک رس <input type="checkbox"/> ج - خاک مزرعه <input type="checkbox"/> د - خاک شن و ماسه <input type="checkbox"/>	۰/۱۵
۷	در کدام یک از لایه های زمین سنگ ها نرم و خمیری شکل هستند؟ الف - گوشته <input type="checkbox"/> ب - پوسته <input type="checkbox"/> ج - هسته بیرونی <input type="checkbox"/> د - هسته درونی <input type="checkbox"/>	۰/۱۵
۸	کدام یک از جانداران ساده در بستنی سازی و تهیه خمیر دندان مورد استفاده قرار می گیرند؟ الف - قارچها <input type="checkbox"/> ب - باکتریها <input type="checkbox"/> ج - جلبک ها <input type="checkbox"/> د - مخمر ها <input type="checkbox"/>	۰/۱۵
۹	به موادی که میکروب ها را بیرون بدن می کشند چه می گویند؟ الف - ضد عفونی کننده ها <input type="checkbox"/> ب - پادتن <input type="checkbox"/> ج - واکسن <input type="checkbox"/> د - آنتی بیوتیک ه <input type="checkbox"/>	۰/۱۵
۱۰	بیشتر اطلاعاتی که از دنیای اطراف خود به دست می آوریم از راه کدام حس است؟ الف - بویایی <input type="checkbox"/> ب - بینایی <input type="checkbox"/> ج - چشایی <input type="checkbox"/> د - شنوایی <input type="checkbox"/>	۰/۱۵
۱۱	چشمه انرژی لازم برای بدن همه جانداران چیست؟ الف - خورشید <input type="checkbox"/> ب - غذا <input type="checkbox"/> ج - گیاهان <input type="checkbox"/> د - زمین <input type="checkbox"/>	۰/۱۵

نمره کتبی: نمره شفاهی / عملی: جمع نمره: به عدد..... به حروف..... نام و نام خانوادگی مصحح: امضاء

ب - جاهای خالی را با کلمات مناسب کامل کنید .

- ۱ نام علمی زنگ آهن است . ۱۵-
۲ هرچه طول سطح شیب دار باشد برای بالا بردن جسم به نیروی بیشتری نیاز داریم. ۱۵-
۳ زمین شناسان با مطالعه اطلاعاتی در باره آب و هوای گذشته زمین بدست می آورند. ۱۵-
۴ به مواد جامد دانه ریزی که از دهانه آتش فشان خارج می شوند می گویند. ۱۵-
۵ به میکروب های کشته یا ضعیف شده بیماری ها می گویند. ۱۵-
۶ هر چیزی که صدا ایجاد می کند باعث هوا می شود. ۱۵-
۷ بیشتر نزدیک بینی ها و دوربین ها هستند. ۱۵-
۸ منابعی که در صورت مصرف خیلی زود جبران می شوند را منابع می گویند. ۱۵-

ج - جملات درست و نادرست را مشخص کنید.

نادرست	درست	
۱۲۵-		شدید بودن زلزله تنها عامل خرابی ساختمان ها است
۱۲۵-		جنس پوسته زمین از سنگ است.
۱۲۵-		فراوان ترین جانداران روی زمین جلبک ها هستند.
۱۲۵-		ویروس فلج اطفال به دستگاه عصبی آسیب می رساند
۱۲۵-		گیاهان و جانوران از منابع طبیعی غیر زنده هستند.

د - به سوالات زیر پاسخ کامل دهید.

- ۱ چرا گاز ها در همه جا ی محیط اطراف خود پخش می شوند ؟ ۱۵-

شماره

۰/۷۵	قسمت های اصلی اهرم را بنویسید ؟	۲
۰/۱۵	کانون عدسی را تعریف کنید ؟	۳
۱	فسیل (سنگواره) را تعریف کنید ؟	۴
۱	راه های تشکیل خاک را بنویسید ؟ (دو مورد)	۵
۱	در خرابی های حاصل از زمین لرزه چه عواملی دخالت دارند ؟ (دو مورد)	۶
۱	فایده قارچ ها را بنویسید ؟ (دو مورد)	۷
۱	طرز دفاع گلبول های سفید در برابر میکروب ها را توضیح دهید ؟ (دو مورد)	۸
۱	راه های مراقبت از چشم را بنویسید ؟ (دو مورد)	۹
۰/۱۵	دو اندامی که از نظر احساس بو و مزه شبیه هم عمل می کنند چه نام دارند ؟	۱۰
۱	آلودگی صوتی چیست ؟	۱۱

در پناه خدا موفق باشید

امضاء

جمع نمره : به عدد..... به حروف..... نام و نام خانوادگی مصحح:

نمره شفاهی / عملی :

نمره کتبی :



سازمان آموزش و پرورش
سپرستری مدارس جمهوری اسلامی ایران
در امارات عربی متحده

سوال هماهنگ درس : علوم

پایه : پنجم

دوره : ابتدایی

نویس صبح

سال تحصیلی : ۸۸-۸۹

تاریخ امتحان : ۸۹/۳/۱۰

ساعت امتحان : ۹ : ۳۰

مدت امتحان : ۷۰ دقیقه

شماره صفحه : ۱

شماره

نام مجتبع :

نام پدر :

نام و نام خانوادگی دانش آموز :

ردیف	سوال	بارم
۱	الف - پاسخ صحیح را با علامت ضربدر مشخص کنید. کدام دسته از مواد زیر عنصر هستند؟ الف - آهن - طلا - مس <input type="checkbox"/> ب - نمک - شکر - الکل <input type="checkbox"/> ج - جیوه - اکسید آهن - مس <input type="checkbox"/> د - شکر - اکسیژن - آب <input type="checkbox"/>	۰/۱۵
۲	کدام یک از موارد زیر تغییر فیزیکی است ؟ الف - ذوب یخ - زرد شدن برگ درختان <input type="checkbox"/> ب - تبخیر آب - بریدن چوب <input type="checkbox"/> ج - گوارش غذا - کپک زدن نان <input type="checkbox"/> د - تهیه مربا - حل شدن شکر در آب <input type="checkbox"/>	۰/۱۵
۳	در کدام یک از وسایل زیر انرژی الکتریکی به انرژی حرکتی تبدیل می شود ؟ الف - چراغ مطالعه <input type="checkbox"/> ب - چرخ گوشت <input type="checkbox"/> ج - اطو <input type="checkbox"/> د - تلویزیون <input type="checkbox"/>	۰/۱۵
۴	چه موقع رنگین کمان در آسمان دیده می شود ؟ الف - وقتی که هوا ابری باشد <input type="checkbox"/> ب - وقتی که هوا صاف باشد <input type="checkbox"/> ج - وقتی که باران ببارد <input type="checkbox"/> د - وقتی که بلافاصله پس از باران هوا آفتابی باشد <input type="checkbox"/>	۰/۱۵
۵	از بدن کدام یک از جانوران زیر فسیل بهتری ساخته می شود ؟ الف - مورچه <input type="checkbox"/> ب - ماهی <input type="checkbox"/> ج - کرم خاکی <input type="checkbox"/> د - کبوتر <input type="checkbox"/>	۰/۱۵
۶	آب در کدام نوع خاک سریع تر نفوذ می کند ؟ الف - خاک بیابان <input type="checkbox"/> ب - خاک رس <input type="checkbox"/> ج - خاک مزرعه <input type="checkbox"/> د - خاک شن و ماسه <input type="checkbox"/>	۰/۱۵
۷	در کدام یک از لایه های زمین سنگ ها نرم و خمیری شکل هستند ؟ الف - گوشته <input type="checkbox"/> ب - پوسته <input type="checkbox"/> ج - هسته بیرونی <input type="checkbox"/> د - هسته درونی <input type="checkbox"/>	۰/۱۵
۸	کدام یک از جانداران ساده در بستنی سازی و تهیه خمیر دندان مورد استفاده قرار می گیرند ؟ الف - قارچها <input type="checkbox"/> ب - باکتریها <input type="checkbox"/> ج - جلبک ها <input type="checkbox"/> د - مخمر ها <input type="checkbox"/>	۰/۱۵
۹	به موادی که میکروب ها را بیرون بدن می کشند چه می گویند ؟ الف - ضد عفونی کننده ها <input type="checkbox"/> ب - پادتن <input type="checkbox"/> ج - واکسن <input type="checkbox"/> د - آنتی بیوتیک ه <input type="checkbox"/>	۰/۱۵
۱۰	بیشتر اطلاعاتی که از دنیای اطراف خود به دست می آوریم از راه کدام حس است ؟ الف - بویایی <input type="checkbox"/> ب - بینایی <input type="checkbox"/> ج - چشایی <input type="checkbox"/> د - شنوایی <input type="checkbox"/>	۰/۱۵
۱۱	چشمه انرژی لازم برای بدن همه جانداران چیست ؟ الف - خورشید <input type="checkbox"/> ب - غذا <input type="checkbox"/> ج - گیاهان <input type="checkbox"/> د - زمین <input type="checkbox"/>	۰/۱۵

امضاء

جمع نمره : به عدد به حروف نام و نام خانوادگی مصحح:

نمره کتبی : نمره شفاهی / عملی :

ب - جاهای خالی را با کلمات مناسب کامل کنید .


- ۱ نام علمی زنگ آهن است .
- ۲ هرچه طول سطح شیب دار باشد برای بالا بردن جسم به نیروی بیشتری نیاز داریم .
- ۳ زمین شناسان با مطالعه اطلاعاتی در باره آب و هوای گذشته زمین بدست می آورند .
- ۴ به مواد جامد دانه ریزی که از دهانه آتش فشان خارج می شوند می گویند .
- ۵ به میکروب های کشته یا ضعیف شده بیماری ها می گویند .
- ۶ هر چیزی که صدا ایجاد می کند باعث هوا می شود .
- ۷ بیشتر نزدیک بینی ها و دوربین ها هستند .
- ۸ منابعی که در صورت مصرف خیلی زود جبران می شوند را منابع می گویند .

ج - جملات درست و نادرست را مشخص کنید .

نادرست	درست		
۰/۲۵		شدید بودن زلزله تنها عامل خرابی ساختمان ها است	۱
۰/۲۵		جنس پوسته زمین از سنگ است .	۲
۰/۲۵		فراوان ترین جانداران روی زمین جلبک ها هستند .	۳
۰/۲۵		ویروس فلج اطفال به دستگاه عصبی آسیب می رساند	۴
۰/۲۵		گیاهان و جانوران از منابع طبیعی غیر زنده هستند .	۵

د - به سوالات زیر پاسخ کامل دهید .

- ۱ چرا گاز ها در همه جا ی محیط اطراف خود پخش می شوند ؟



باسمه سرپرستی مدارس جمهوری اسلامی ایران در امر تدریس عربی متقدمه

سال تحصیلی : ۸۹-۸۸
تاریخ امتحان:
ساعت امتحان:
مدت امتحان : ۲۰ دقیقه
شماره صفحه : ۳

سوال هماهنگ درس : علوم
پایه : پنجم
دوره : ابتدایی
نویس صحیح

شماره

۰/۷۵	قسمت های اصلی اهرم را بنویسید ؟	۲
۰/۱۵	کانون عدسی را تعریف کنید ؟	۲
۱	فسیل (سنگواره) را تعریف کنید ؟	۴
۱	راه های تشکیل خاک را بنویسید ؟ (دو مورد)	۵
۱	در خرابی های حاصل از زمین لرزه چه عواملی دخالت دارند ؟ (دو مورد)	۶
۱	فایده قارچ ها را بنویسید ؟ (دو مورد)	۷
۱	طرز دفاع گلبول های سفید در برابر میکروب ها را توضیح دهید ؟ (دو مورد)	۸
۱	راه های مراقبت از چشم را بنویسید ؟ (دو مورد)	۹
۰/۱۵	دو اندامی که از نظر احساس بو و مزه شبیه هم عمل می کنند چه نام دارند ؟	۱۰
۱	آلودگی صوتی چیست ؟	۱۱

در پناه خدا موفق باشید

سوال هماهنگ درس : علوم
پایه : پنجم
دوره : ابتدایی
نویس بعد از ظهر

باسمه تعالی
سرپرستی مدارس جمهوری اسلامی ایران
در امارات عربی متحده

سال تحصیلی : ۸۸-۸۹
تاریخ امتحان : ۸۹/۳/۱۰
ساعت امتحان : ۱۵:۴۰
مدت امتحان : ۷۰ دقیقه
شماره صفحه : ۱

شماره

ردیف	سوال	نام پدر :	نام مجتمع :	بارم
۱	کدام دسته از موارد زیر ترکیب است؟ الف - آهن - کک ب - طلا - شیشه ج - آب - نفت د - نمک - اکسیژن			۰/۵
۲	کدام دسته به ترتیب تغییر فیزیکی - تغییر شیمیایی است؟ الف - پخش غذا - بریدن چوب ب - شکستن شیشه - زنگ زدن آهن ج - کپک زدن نان - زنگ زدن آهن د - تهیه مربا - حل شدن شکر در آب			۰/۵
۳	کدام دسته به ترتیب ماشین ساده - ماشین پیچیده است؟ الف - دوچرخه - ماشین لباسشویی ب - دستگیره در - چاقو ج - پیچ گوشتی - اتومبیل د - چرخ گوشت - فرغون			۰/۵
۴	نور را به کمک کدام وسیله می توان تجزیه کرد؟ الف - منشور ب - آینه ج - کانون عدسی د - تریبلیت			۰/۵
۵	با پیدایش گیاهان زندگی در کجا آغاز شد؟ الف - دریا ها ب - خشکی ها ج - جنگل ها د - اقیانوس ها			۰/۵
۶	جنس کدام لایه از زمین آهن و نیکل است؟ الف - گوشته ب - پوسته ج - هسته د - لایه میانی			۰/۵
۷	شباهت جلبکها و گیاهان در کدام یک از موارد زیر است؟ الف - سبزینه ب - برگ ج - گل د - ریشه			۰/۵
۸	عامل کدام یک از بیماریهای زیر قارچ است؟ الف - حصه ب - آبله ج - زخم لای انگشتان پا د - وبا			۰/۵
۹	کدام دو حس تقریباً شبیه به هم عمل می کنند و با هم همکاری دارند؟ الف - بویایی - بینایی ب - بینایی - لامسه ج - چشایی - بویایی د - شنوایی - چشایی			۰/۵
۱۰	از بین منابع زیر کدام منبع جبران شدنی است؟ الف - نفت ب - زغال سنگ ج - اکسیژن د - فلزات			۰/۵
۱	ب - جاهای خالی را با کلمات مناسب کامل کنید. سوختن کاغذ یک تغییر است.			۰/۵

نمره کتبی : نمره شفاهی / عملی : جمع نمره : به عدد به حروف نام و نام خانوادگی مصحح : امضاء

شماره

- ۲ هنگامی که نور خورشید به ذره بین می تابد عدسی نور خورشید را در یک نقطه جمع می کند که به این نقطه می گویند. -۱۵
- ۳ اگر سنگها ذوب شوند و راهی به بیرون بیایند و خارج شوند به وجود می آید. -۱۵
- ۴ خاک از خرد شدن به وجود می آید. -۱۵
- ۵ اگر نان و میوه ای مدتی در جای گرم نگهداری شود می زند. -۱۵
- ۶ به گروهی از داروی میکروب کش در داخل بدن می گویند. -۱۵
- ۷ حس کردن گرمی ، سردی ، زبری از کارهای است. -۱۵
- ۸ به مجموعه افراد یک نوع از جانداران که در جای خاصی زندگی می کنند می گویند. -۱۵

ج - جملات درست و نادرست را مشخص کنید.

نادرست	درست		
-۲۵		هنگام زمین لرزه باید روی میز محکم بنشینیم.	۱
-۲۵		کوه دماوند بک آتش فشان خاموش است.	۲
-۲۵		باکتری ها به وسیله دانه تولید مثل می کنند.	۳
-۲۵		ویروس ها در خارج از بدن موجودات زنده، هم زنده می مانند.	۴
-۲۵		برای هر نوع باکتری پادتن مخصوص لازم است.	۵

د - به سوالات زیر پاسخ کامل دهید.

- ۱ چرا مواد خاصیت‌های متفاوت دارند ؟ -۱۵
- ۲ از سطح شیب دار در چه جاهایی استفاده می شود (دو مورد) ؟ ۱

سال تحصیلی : ۸۸-۸۹
تاریخ امتحان : ۸۹, ۳, ۱۰
ساعت امتحان : ۱۵:۳۰
مدت امتحان : ۷۰ دقیقه
شماره صفحه : ۳

شماره

زمین شناسان با مطالعه سنگهای رسوبی چه اطلاعاتی به دست می آورند(دو مورد) ؟

۳

گیا خاک چیست ؟

۴

چرا پوسته زمین برای ما مهم است؟

۵

باکتری چه ضررهای برای ما دارند ؟

۶

واکسن چیست؟

۷

راه های مراقبت از گوش را بنویسید؟ (دو مورد)

۸

چه وقت مزه ی یک خوراکی را حس می کنیم ؟

۹

محیط زیست را تعریف کنید ؟

۱۰

زنجیره ی غذایی چیست؟

۱۱

در پناه خدا موفق باشید

امضاء

جمع نمره : به عدد..... به حروف..... نام و نام خانوادگی مصحح:

نمره شفاهی / عملی :

نمره کتبی :

سوال هماهنگ درس : علوم
پایه : پنجم
دوره : ابتدایی
نویس صبح

باسمه تعالی
سریستی مدارس جمهوری اسلامی ایران
در امارات عربی متحده

سال تحصیلی : ۸۸-۸۹
تاریخ امتحان : ۸۹ / ۲ / ۲۰
ساعت امتحان : ۹:۳۰
مدت امتحان : ۷۰ دقیقه
شماره صفحه : ۱

شماره

ردیف	سوال	نام پدر :	نام مجتمع :
۱	الف - پاسخ صحیح را با علامت ضربدر مشخص کنید. کدام دسته از مواد زیر عنصر هستند؟ الف - آهن - طلا - مس <input type="checkbox"/> ب - نمک - شکر - الکل <input type="checkbox"/> ج - جیوه - اکسید آهن - مس <input type="checkbox"/> د - شکر - اکسیژن - آب <input type="checkbox"/>		
۲	کدام یک از موارد زیر تغییر فیزیکی است؟ الف - ذوب یخ - زرد شدن برگ در ختان <input type="checkbox"/> ب - تیخیر آب - بریدن چوب <input type="checkbox"/> ج - گوارش غذا - کپک زدن نان <input type="checkbox"/> د - تهیه مربا - حل شدن شکر در آب <input type="checkbox"/>		
۳	در کدام یک از وسایل زیر انرژی الکتریکی به انرژی حرکتی تبدیل می شود؟ الف - چراغ مطالعه <input type="checkbox"/> ب - چرخ گوشت <input type="checkbox"/> ج - اطو <input type="checkbox"/> د - تلویزیون <input type="checkbox"/>		
۴	چه موقع رنگین کمان در آسمان دیده می شود؟ الف - وقتی که هوا ابری باشد <input type="checkbox"/> ب - وقتی که هوا صاف باشد <input type="checkbox"/> ج - وقتی که باران ببارد <input type="checkbox"/> د - وقتی که بلافاصله پس از باران هوا آفتابی باشد <input type="checkbox"/>		
۵	از بدن کدام یک از جانوران زیر فسیل بهتری ساخته می شود؟ الف - مورچه <input type="checkbox"/> ب - ماهی <input type="checkbox"/> ج - کرم خاکی <input type="checkbox"/> د - کیبوتر <input type="checkbox"/>		
۶	آب در کدام نوع خاک سریع تر نفوذ می کند؟ الف - خاک بیابان <input type="checkbox"/> ب - خاک رس <input type="checkbox"/> ج - خاک مزرعه <input type="checkbox"/> د - خاک شن و ماسه <input type="checkbox"/>		
۷	در کدام یک از لایه های زمین سنگ ها نرم و خمیری شکل هستند؟ الف - گوشته <input type="checkbox"/> ب - پوسته <input type="checkbox"/> ج - هسته بیرونی <input type="checkbox"/> د - هسته درونی <input type="checkbox"/>		
۸	کدام یک از جانداران ساده در بستنی سازی و تهیه خمیر دندان مورد استفاده قرار می گیرند؟ الف - قارچها <input type="checkbox"/> ب - باکتریها <input type="checkbox"/> ج - جلبک ها <input type="checkbox"/> د - مخمر ها <input type="checkbox"/>		
۹	به موادی که میکروب ها را بیرون بدن می کشند چه می گویند؟ الف - ضد عفونی کننده ها <input type="checkbox"/> ب - پادتن <input type="checkbox"/> ج - واکسن <input type="checkbox"/> د - آنتی بیوتیک ه <input type="checkbox"/>		
۱۰	بیشتر اطلاعاتی که از دنیای اطراف خود به دست می آوریم از راه کدام حس است؟ الف - بویایی <input type="checkbox"/> ب - بینایی <input type="checkbox"/> ج - چشایی <input type="checkbox"/> د - شنوایی <input type="checkbox"/>		
۱۱	چشمه انرژی لازم برای بدن همه جانداران چیست؟ الف - خورشید <input type="checkbox"/> ب - غذا <input type="checkbox"/> ج - گیاهان <input type="checkbox"/> د - زمین <input type="checkbox"/>		

امضاء

جمع نمره : به عدد به حروف نام و نام خانوادگی مصحح:

نمره شفاهی / عملی : _____

سوال هماهنگ درس : علوم
پایه : پنجم
دوره : ابتدایی
نویس صبح

باسمه تعالی
سرپرستی مدارس جمهوری اسلامی ایران
در امارات عربی متحده

سال تحصیلی : ۸۸-۸۹
تاریخ امتحان :
ساعت امتحان :
مدت امتحان : ۷۰ دقیقه
شماره صفحه : ۲

شماره

ب - جاهای خالی را با کلمات مناسب کامل کنید .

- ۱ نام علمی زنگ آهن است . ۱۵-
- ۲ هرچه طول سطح شیب دار باشد برای بالا بردن جسم به نیروی بیشتری نیاز داریم. ۱۵-
- ۳ زمین شناسان با مطالعه اطلاعاتی در باره آب و هوای گذشته زمین بدست می آورند. ۱۵-
- ۴ به مواد جامد دانه ریزی که از دهانه آتش فشان خارج می شوند می گویند. ۱۵-
- ۵ به میکروب های کشته یا ضعیف شده بیماری ها می گویند. ۱۵-
- ۶ هر چیزی که صدا ایجاد می کند باعث هوا می شود. ۱۵-
- ۷ بیشتر نزدیک بینی ها و دوربین ها هستند. ۱۵-
- ۸ منابعی که در صورت مصرف خیلی زود جبران می شوند را منابع می گویند. ۱۵-

ج - جملات درست و نادرست را مشخص کنید.

نادرست	درست		
۰۲۵-		شدید بودن زلزله تنها عامل خرابی ساختمان ها است	۱
۰۲۵-		جنس پوسته زمین از سنگ است.	۲
۰۲۵-		فراوان ترین جانداران روی زمین جلبک ها هستند.	۳
۰۲۵-		ویروس فلج اطفال به دستگاه عصبی آسیب می رساند	۴
۰۲۵-		گیاهان و جانوران از منابع طبیعی غیر زنده هستند.	۵

د - به سوالات زیر پاسخ کامل دهید.

- ۱ چرا گاز ها در همه جای محیط اطراف خود پخش می شوند ؟ ۱۵-

امضاء

جمع نمره : به عدد به حروف نام و نام خانوادگی مصحح:

نمره شفاهی / عملی :

نمره کتبی :

باسمه تعالی
سرپرستی مدارس جمهوری اسلامی ایران
در امارات عربی متحده

سوال هماهنگ درس : علوم

پایه : پنجم

دوره : ابتدایی

نویس صبح

سال تحصیلی : ۸۸-۸۹

تاریخ امتحان:

ساعت امتحان:

مدت امتحان : ۷۰ دقیقه

شماره صفحه : ۳

شماره

۲ قسمت های اصلی اهرم را بنویسید ؟

۲

۳ کانون عدسی را تعریف کنید ؟

۳

۴ فسیل (سنگواره) را تعریف کنید ؟

۴

۵ راه های تشکیل خاک را بنویسید ؟ (دو مورد)

۵

۶ در خرابی های حاصل از زمین لرزه چه عواملی دخالت دارند ؟ (دو مورد)

۶

۷ فایده قارچ ها را بنویسید ؟ (دو مورد)

۷

۸ طرز دفاع گلبول های سفید در برابر میکروب ها را توضیح دهید ؟ (دو مورد)

۸

۹ راه های مراقبت از چشم را بنویسید ؟ (دو مورد)

۹

۱۰ دو اندامی که از نظر احساسی یو و مزه شبیه هم عمل می کنند چه نام دارند ؟

۱۰

۱۱ آلودگی صوتی چیست ؟

۱۱

در پناه خدا موفق باشید

امضاء

جمع نمره : به عدد به حروف نام و نام خانوادگی مصحح:

نمره شفاهی / عملی :

نمره کتبی :

سال تحصیلی: ۸۸-۸۹
تاریخ امتحان: ۲۵/۳/۸۹
ساعت امتحان: ۹:۳۰
مدت امتحان: ۶۰ دقیقه
شماره صفحه: ۱



سوال هماهنگ درس: انشا
پایه: پنجم
دوره: ابتدایی

نمون برگ شماره ۱

ردیف	سوال	نام پدر:	نام و نام خانوادگی دانش آموز:	نام مجتمع:		
۱	با هر یک از کلمات زیر یک جمله بنویسید:					
	<table border="1"> <tr> <td>حیرت آور</td> </tr> <tr> <td>می شناسند</td> </tr> </table>	حیرت آور	می شناسند			
حیرت آور						
می شناسند						
۲	در جای خالی کلمه مناسب بنویسید: دودی غلیظ به آسمان (برخواست، برخاست)					
۳	درباره شخصیت زیر یک جمله بنویسید: - ابو علی سینا -					
۴	دو جمله را به یک جمله تبدیل کنید: آسمان آبی است. آسمان چشم را نوازش می دهد					
۵	جفت واژه زیر را در یک جمله به کار ببرید: تلخ و شیرین ..					
۶	نوشته ی ناتمام زیر را در یک جمله ادامه دهید: روز گذشته من همراه پدرم به موزه رفتم که					
۷	با کلمه های (سفینه فضایی - جارو - ماست) یک متن خنده دار بنویسید:					
۸	جمله های زیر را به نثر امروزی بنویسید: الف - نوح آن کشتی را به چهل سال تمام کرد. ب - بازرگانی را هزار دینار خسارت افتاد.					

امضاء

جمع نمره: به عدد..... به حروف..... نام و نام خانوادگی مصحح:

نمره شفاهی / عملی:

نمره کتبی:

باسمه تعالی

سرپرستی مدارس جمهوری اسلامی ایران
در امارات عربی متحده

سوال هماهنگ درس : اثنا

پایه : پنجم

دوره : ابتدایی

سال تحصیلی : ۸۸-۸۹

تاریخ امتحان : ۸۹، ۳، ۵

ساعت امتحان : ۹:۳۰

مدت امتحان : ۶۰ دقیقه

شماره صفحه : ۲

نوبت صبح

نمون برگ شماره ۱

با معنی متفاوت کلمه ی زیر دو جمله بنویسید :

رسید

رسید

کلمه های مناسب داخل کمانک را در جای خالی قرار دهید :

چشمه های از کوهساران می شوند. (جوشان - جوشنده - روان - رونده)

معا دل فارسی هر کلمه را به هم وصل کنید :

اغت شکیبایی

صبر بیشتر

پنهان

مفهوم ضرب المثل زیر را در یک سطر بنویسید :

اندک اندک خیلی شود و قطره قطره سیلی گردد .

در باره تصویر زیر دو سطر بنویسید :



امضاء

جمع نمره : به عدد به حروف نام ونام خانوادگی مصحح:

نمره شفاهی / عملی :

نمره کتبی :

سال تحصیلی: ۸۸-۸۹
تاریخ امتحان:
ساعت امتحان:
مدت امتحان: ۶۰ دقیقه
شماره صفحه:

باسمه تعالی
سریستی مدارس جمهوری اسلامی ایران
در امارات عربی متحده

سوال هماهنگ درس: انشا
پایه: پنجم
دوره: ابتدایی

نوبت بعدازظهر

نمون برگ شماره ۱

بارم	سوال	نام و نام خانوادگی دانش آموز:	نام پدر:	نام مجتمع:
۲	با هر یک از کلمات زیر یک جمله بنویسید:			
	همکاری			
	می کوشیم			
۱۵	در جای خالی کلمه ی مناسب بنویسید:			
	میرزا تقی امیر کبیر از شخصیت های بزرگ ایران است. (خوان ، خان)			
۱۵	درباره شخصیت زیر یک جمله بنویسید:			
	- حافظ			
۱۵	دو جمله را به یک جمله تبدیل کنید:			
	جنگل بزرگ است. جنگل پوشیده از برف است.			
۱۵	جفت واژه زیر را در یک جمله به کار ببرید:			
	تاریک و روشن ..			
۱	نوشته ی ناتمام زیر را در دو جمله ادامه دهید:			
	کتاب بهترین دوست انسان است زیرا			
۲	جمله ی زیر را به نثر امروزی برگردانید:			
	نوح را افزون از هزار سال زندگانی بود.			
	خویشتم را به جای در ساختم.			
۱۵	هم خانواده کلمات زیر را بنویسید:			
	صبر - حفظ -			

امضاء

جمع نمره: به عدد..... به حروف..... نام و نام خانوادگی مصحح:

نمره شفاهی / عملی:

نمره کتبی:

سال تحصیلی: ۸۸-۸۹
تاریخ امتحان:
ساعت امتحان:
مدت امتحان: ۶۰ دقیقه
شماره صفحه: ۲

باسمه تعالی
سرپرستی مدارس جمهوری اسلامی ایران
در امارات عربی متحده

سوال هماهنگ درس: انشا
پایه: پنجم
دوره: ابتدایی

نوبت بعدازظهر

نمون برگ شماره ۱

۱

با معنی متفاوت کلمه ی زیر دو جمله بنویسید:

کشید
کشید

۰/۱۵

کلمه های مناسب داخل کمانک را در جای خالی قرار دهید:
هر شب _____ تلویزیون اخبار تازه ای می شنوند. (بینایان- بینندگان)

۱

معادل فارسی هر کلمه را به هم وصل کنید:


اندازه	ترمیتال
دورنگار	سایز
پایانه	

۱

مفهوم ضرب المثل زیر را در یک سطر بنویسید:

جوینده یابنده است.

۲



درباره تصویر زیر دو سطر بنویسید:

امضاء

جمع نمره: به عدد..... به حروف..... نام و نام خانوادگی مصحح:

نمره شفاهی / عملی:

نمره کتبی:

باسمه تعالی

سرپرستی مدارس جمهوری اسلامی ایران
در امارات عربی متحده

سوال هماهنگ درس : انشا

پایه : پنجم

دوره : ابتدایی

سال تحصیلی : ۸۸-۸۹

تاریخ امتحان : ۸۹ / ۳ / ۲۵

ساعت امتحان : ۹ : ۳۰

مدت امتحان : ۶۰ دقیقه

شماره صفحه : ۱

نوبت صبح

نمون برگ شماره ۱

نام و نام خانوادگی دانش آموز:

نام مجتمع :

نام پدر :

ردیف

بارم

با هر یک از کلمات زیر یک جمله بنویسید :

حیرت آور

می شناسند

۲

۱

در جای خالی کلمه مناسب بنویسید :

دودی غلیظ به آسمان (برخواست ، برخاست)

۱۵

۲

درباره شخصیت زیر یک جمله بنویسید :

- ابو علی سینا -

۱۵

۳

دو جمله را به یک جمله تبدیل کنید :

آسمان آبی است. آسمان چشم را نوازش می دهد

۱۵

۴

جفت واژه زیر را در یک جمله به کار ببرید :

تلخ و شیرین -

۱۵

۵

نوشته ی ناتمام زیر را در یک جمله ادامه دهید :

روز گذشته من همراه پدرم به موزه رفتم که

۱

۶

با کلمه های (سفینه فضایی - جارو- ماست) یک متن خنده دار بنویسید :

۱

۷

جمله های زیر را به نثر امروزی بنویسید :

الف - نوح آن کشتی را به چهل سال تمام کرد.

۲

۸

ب - بازرگانی را هزار دینار خسارت افتاد.

امضاء

جمع نمره : به عدد به حروف نام و نام خانوادگی مصحح :

نمره شفاهی / عملی :

نمره کتبی :

سوال هماهنگ درس : انشا

پایه : پنجم

دوره : ابتدایی

باسمه تعالی

سرپرستی مدارس جمهوری اسلامی ایران
در امارات عربی متحده

سال تحصیلی : ۸۸-۸۹

تاریخ امتحان : ۸۹، ۳، ۵

ساعت امتحان : ۹:۳۰

مدت امتحان : ۶۰ دقیقه

شماره صفحه : ۲

نوبت صبح

نمون برگ شماره ۱

با معنی متفاوت کلمه ی زیر دو جمله بنویسید :

رسید

رسید

کلمه های مناسب داخل کمانک را در جای خالی قرار دهید :

چشمه های از کوهساران می شوند. (جوشان - جوشنده - روان - رونده)

معادل فارسی هر کلمه را به هم وصل کنید :

شکیبایی

اغلب

بیشتر

صبر

پنهان

مفهوم ضرب المثل زیر را در یک سطر بنویسید :

اندک اندک خیلی شود و قطره قطره سیلی گردد.

درباره تصویر زیر دو سطر بنویسید :



امضاء

جمع نمره : به عدد به حروف نام و نام خانوادگی مصحح

نمره شفاهی / عملی :

نمره کتبی :

سال تحصیلی: ۸۸-۸۹
تاریخ امتحان: ۵ خرداد ۸۹
ساعت امتحان: ۹:۳۰
مدت امتحان: ۶۰ دقیقه
شماره صفحه: ۱

باسمه تعالی
سرپرستی مدارس جمهوری اسلامی ایران
در امارات عربی متحده

سوال هماهنگ درس: انشا
پایه: پنجم
دوره: ابتدایی

نویت صبح

نمون برگ شماره ۱

ردیف	نام و نام خانوادگی دانش آموز:	نام پدر:	نام مجتمع:	سوال	بارم
۱				با هر یک از کلمات زیر یک جمله بنویسید: حیرت آور می شناسند	۲
۲				در جای خالی کلمه مناسب بنویسید: دودی غلیظ به آسمان (برخواست، برخاست)	۱۵
۳				دوباره شخصیت زیر یک جمله بنویسید: - ابو علی سینا -	۱۵
۴				دو جمله را به یک جمله تبدیل کنید: آسمان آبی است. آسمان چشم را نوازش می دهد.	۱۵
۵				جفت واژه زیر را در یک جمله به کار ببرید: تلخ و شیرین -	۱۵
۶				نوشته ی ناتمام زیر را در یک جمله ادامه دهید: روز گذشته من همراه پدرم به موزه رفتم که	۱
۷				با کلمه های (سفینه فضایی - جارو - ماست) یک متن خنده دار بنویسید:	۱
۸				جمله های زیر را به نثر امروزی بنویسید: الف - نوح آن کشتی را به چهل سال تمام کرد. ب - بازرگانی را هزار دینار خسارت افتاد.	۲

امضاء

جمع نمره: به عدد به حروف نام و نام خانوادگی مصحح:

نمره شفاهی / عملی: نمره کتبی:

سوال هماهنگ درس : انشا

پایه : پنجم

دوره : ابتدایی

باسمه تعالی

سریروستی مدارس جمهوری اسلامی ایران
در امارات عربی متحده

سال تحصیلی : ۸۸-۸۹

تاریخ امتحان : ۸۹/۳/۵

ساعت امتحان : ۹:۳۰

مدت امتحان : ۶۰ دقیقه

شماره صفحه : ۲

نوبت صبح

نمون برگ شماره ۱

با معنی متفاوت کلمه ی زیر دو جمله بنویسید :

۹

رسید

رسید

کلمه های مناسب داخل کمانک را در جای خالی قرار دهید :

۱۰

چشمه های از کوهساران می شوند. (جوشان - جوشنده - روان - رونده)

معا دل فارسی هر کلمه را به هم وصل کنید :

۱۱

شکیبایی

اعلب

بیشتر

صبر

منهان


مفهوم ضرب المثل زیر را در یک سطر بنویسید :

۱۲

اندک اندک خیلی شود و قطره قطره سیلی گردد.

درباره تصویر زیر دو سطر بنویسید :

۱۳



امضاء

نام و نام خانوادگی مصحح: به حروف جمع نمره : به عدد

نمره شفاهی / عملی :

نمره کتبی :

نوبت صبح

نمون برگ شماره ۱

نام و نام خانوادگی دانش آموز:		نام پدر :	نام مجتمع :
ردیف	سوال	بارم	
۱	با هر یک از کلمات زیر یک جمله بنویسید : حیرت آور می شناسند	۲	
۲	در جای خالی کلمه مناسب بنویسید : دودی غلیظ به آسمان (برخواست ، برخاست)	۱۵	
۳	درباره شخصیت زیر یک جمله بنویسید : - ابو علی سینا	۱۵	
۴	دو جمله را به یک جمله تبدیل کنید : آسمان آبی است. آسمان چشم را نوازش می دهد	۱۵	
۵	جفت واژه زیر را در یک جمله به کار ببرید : تلخ و شیرین ..	۱۵	
۶	نوشته ی ناتمام زیر را در یک جمله ادامه دهید : روز گذشته من همراه پدرم به موزه رفتم که	۱	
۷	با کلمه های (سفینه فضایی - جارو- ماست) یک متن خنده دار بنویسید :	۱	
۸	جمله های زیر را به نثر امروزی بنویسید : الف - نوح آن کشتی را به چهل سال تمام کرد. ب - بازرگانی را هزار دینار خسارت افتاد .	۲	

سال تحصیلی : ۸۸-۸۹
تاریخ امتحان : ۸۹، ۳، ۵
ساعت امتحان : ۹:۳۰
مدت امتحان : ۶۰ دقیقه
شماره صفحه : ۲

باسمه تعالی
سرپرستی مدارس جمهوری اسلامی ایران
در امارات عربی متحده

سوال هماهنگ درس : انشا
پایه : پنجم
دوره : ابتدایی

نوبت صبح

نمون برگ شماره ۱

با معنی متفاوت کلمه ی زیر دو جمله بنویسید :

۱

۹

رسید	
رسید	

کلمه های مناسب داخل کمانک را در جای خالی قرار دهید :

۱۵

۱۰

چشمه های از کوهساران می شوند. (جوشان - جوشنده - روان - رونده)

معا دل فارسی هر کلمه را به هم وصل کنید :

۱

۱۱

اغلب شکیبایی

صبر بیشتر

پنهان

مفهوم ضرب المثل زیر را در یک سطر بنویسید :

۱۵

۱۲

اندک اندک خیلی شود و قطره قطره سیلی گردد .

درباره تصویر زیر دو سطر بنویسید :

۲

۱۳



امضاء

جمع نمره : به عدد به حروف نام و نام خانوادگی مصحح :

نمره شفاهی / عملی :

نمره کتبی :

سال تحصیلی: ۸۸-۸۹
تاریخ امتحان: ۸۹، ۳، ۵
ساعت امتحان: ۹:۳۰
مدت امتحان: ۶۰ دقیقه
شماره صفحه: ۱

باسمه تعالی
سرهستی مدارس جمهوری اسلامی ایران
در امارات عربی متحده

سوال هماهنگ درس: انشا
پایه: پنجم
دوره: ابتدایی

نوبت صبح

نمون برگ شماره ۱

ردیف	نام و نام خانوادگی دانش آموز:	نام پدر:	نام مجتمع:	بارم	سوال
۱				۲	با هر یک از کلمات زیر یک جمله بنویسید: حیرت آور می شناسند
۲				۱۵	در جای خالی کلمه مناسب بنویسید: دودی غلیظ به آسمان (برخواست، برخاست)
۳				۱۵	درباره شخصیت زیر یک جمله بنویسید: - ابو علی سینا
۴				۱۵	دو جمله را به یک جمله تبدیل کنید: آسمان آبی است. آسمان چشم را نوازش می دهد
۵				۱۵	جفت واژه زیر را در یک جمله به کار ببرید: تلخ و شیرین -
۶				۱	نوشته ی ناتمام زیر را در یک جمله ادامه دهید: روز گذشته من همراه پدرم به موزه رفتم که
۷				۱	با کلمه های (سفینه فضایی - جارو - ماست) یک متن خنده دار بنویسید:
۸				۲	جمله های زیر را به نثر امروزی بنویسید: الف - نوح آن کشتی را به چهل سال تمام کرد. ب - بازرگانی را هزار دینار خسارت افتاد.

امضاء

جمع نمره: به عدد به حروف نام و نام خانوادگی مصحح:

نمره شفاهی / عملی:

نمره کتبی:

سال تحصیلی: ۸۸-۸۹
تاریخ امتحان: ۱۹/۳/۸۵
ساعت امتحان: ۹:۰۰
مدت امتحان: ۶۰ دقیقه
شماره صفحه: ۲

باسمه تعالی
سرپرستی مدارس جمهوری اسلامی ایران
در امارات عربی متحده

سوال هماهنگ درس: انشا
پایه: پنجم
دوره: ابتدایی

نوبت صبح

نمون برگ شماره ۱

با معنی متفاوت کلمه ی زیر دو جمله بنویسید:

۱	رسید
	رسید

کلمه های مناسب داخل کمانک را در جای خالی قرار دهید:

۱۵ چشمه های از کوهساران می شوند. (جوشان - جوشنده - روان - رونده)

معادل فارسی هر کلمه را به هم وصل کنید:


۱	شکستنی	اغلت
	بیشتر	صبر
	تختان	

مفهوم ضرب المثل زیر را در یک سطر بنویسید:

۱۵ اندک اندک خیلی شود و قطره قطره سیلی گردد.

درباره تصویر زیر دو سطر بنویسید:

۲	




امضاء

نام و نام خانوادگی مصحح: به حروف جمع نمره: به عدد به حروف

نمره شفاهی / عملی:

نمره کتبی:



سال تحصیلی: ۸۸-۸۹
تاریخ امتحان: ۸۹ / ۳ / ۱۲
ساعت امتحان: ۶۰ دقیقه
مدت امتحان:
شماره صفحه: ۱

سوال هماهنگ درس: جغرافیا
پایه: پنجم
دوره: ابتدایی

نمون برگ شماره ۱

نام و نام خانوادگی دانش آموز:	نام پدر:	نام مجتمع:
ردیف	سوال	بارم
الف	<p>جای خالی را با کلمه ی مناسب کامل کنید.</p> <p>۱- کار اصلی ایلات و عشایر..... است.</p> <p>۲- مهم ترین استان نفت خیز ایران ، استان می باشد.</p> <p>۳- سنگ آهن مورد نیاز کارخانه ی ذوب آهن ایران از معادن استان تامین می شود.</p> <p>۴- بیابان وسیع ترکمنستان نامیده می شود.</p> <p>۵- کشور پاکستان در کنار اقیانوس قرار گرفته است.</p> <p>۶- پهناورترین قاره ی جهان، قاره ی است.</p> <p>۷- خطی که مانند کمربندی به دور کره ی زمین کشیده شده است ، خط نامیده می شود.</p> <p>۸- پایتخت و بزرگ ترین شهر افغانستان است.</p>	۴
ب	<p>درست یا نادرست بودن عبارات زیر را با علامت x مشخص کنید.</p> <p>۱- جمعیت در همه جای ایران به طور یکسان پراکنده شده است . درست <input type="radio"/> نادرست <input type="radio"/></p> <p>۲- نیم کره ی جنوبی نیم کره ایی است که در بالای کره ی جغرافیایی قرار گرفته است . درست <input type="radio"/> نادرست <input type="radio"/></p> <p>۳- بیش از نیمی از جمعیت جهان در قاره ی آسیا زندگی می کنند . درست <input type="radio"/> نادرست <input type="radio"/></p> <p>۴- صنایع ماشین سازی از صنایع مادر به حساب می آید . درست <input type="radio"/> نادرست <input type="radio"/></p>	۲
ج	<p>جواب درست را با علامت x مشخص کنید .</p> <p>۱- دو قسمت جمهوری آذربایجان به وسیله ی کدام کشور از یک دیگر جدا شده اند ؟</p> <p>الف- ترکیه <input type="radio"/> ب- ایران <input type="radio"/> ج- ارمنستان <input type="radio"/> د- ترکمنستان <input type="radio"/></p> <p>۲- مهم ترین رود جمهوری ترکمنستان کدام رود است ؟</p> <p>الف- ارس <input type="radio"/> ب- آمودریا (جیحون) <input type="radio"/> ج- دجله <input type="radio"/> د- سند <input type="radio"/></p>	۲/۵

سال تحصیلی: ۸۸-۸۹
تاریخ امتحان: ۸۹ / ۳ / ۱۳
ساعت امتحان: ۶۰ دقیقه
مدت امتحان:
شماره صفحه: ۱

باسمه تعالی

سرپرستی مدارس جمهوری اسلامی ایران
در امارات عربی متحده

سوال هماهنگ درس: جغرافیا

پایه: پنجم

دوره: ابتدایی

نمون برگ شماره ۱

۳- محصول مهم کشاورزی و صادراتی کشور عراق کدام محصول است؟

الف- خرما ب- پنبه ج- گندم د- برنج

۴- بیشترین پسته‌ی ایران از کدام استان به دست می‌آید؟

الف- مازندران ب- گلستان ج- خوزستان د- کرمان

۵- کدام یک از کشورهای زیر به دریا راه ندارد؟

الف- پاکستان ب- ترکیه ج- عراق د- افغانستان

د پاسخ پرسش‌های زیر را بنویسید.

۱- بندر بصره در جنوب عراق به کدام بندر ایران نزدیک است؟

۱۵

۲- با توجه به وضع ناهمواریها، آب و هوای کشور ارمنستان شبیه کدام ناحیه آب و هوای ایران است؟

۱۵

۳- گردش زمین به دور خودش چه مدت طول می‌کشد؟

۱۵

۴- نتیجه‌ی حرکت انتقالی زمین چیست؟

۱

۵- کدام دو قاره دیرتر از قاره‌های دیگر شناخته شدند؟

۱

۶- چرا در افغانستان رودهای پر آب جریان دارند؟


۱

۷- دین و زبان مردم پاکستان چیست؟

۱

۸- چرا در قطب جنوب شرایط برای زندگی مساعد نیست؟ (یک دلیل بیاورید)

۱



سال تحصیلی: ۸۸-۸۹
تاریخ امتحان: ۸۹ / ۳ / ۱۲
ساعت امتحان: ۶۰ دقیقه
مدت امتحان:
شماره صفحه: ۲

سوال هماهنگ درس: جغرافیا
پایه: پنجم
دوره: ابتدایی

نمون برگ شماره ۱

۹- چرا کشور ترکیه از صادر کنندگان پوست و کالاهای چرمی است؟

۱۰- از صنایع مهم ارمنستان دو صنعت را نام ببرید؟

۱۱- همسایگان غربی ایران کدام کشورها هستند؟

۱۲- دو محصول از محصولات کشاورزی جمهوری آذربایجان را نام ببرید؟

۱۳- دو شهر از شهرهای زیارتی عراق را نام ببرید؟

موفق باشید

امضاء

جمع نمره: به عدد..... به حروف..... نام و نام خانوادگی صحیح:

نمره شفاهی / عملی: نمره کتبی:

باسمه تعالی

سرپرستی مدارس جمهوری اسلامی ایران
در امارات عربی متحده

سوال هماهنگ درس: جغرافیا

پایه: پنجم

دوره: ابتدایی

سال تحصیلی: ۸۸-۸۹

تاریخ امتحان: ۸۹/۳/۱۲

ساعت امتحان: ۶۰ دقیقه

مدت امتحان:

شماره صفحه: ۱

نمون برگ شماره ۱

نام و نام خانوادگی دانش آموز:	نام پدر:	نام مجتمع:
ردیف	سوال	بارم
الف	<p>جای خالی را با کلمه ی مناسب کامل کنید.</p> <p>۱- کار اصلی ایلات و عشایر..... است.</p> <p>۲- مهم ترین استان نفت خیز ایران ، استان می باشد.</p> <p>۳- سنگ آهن مورد نیاز کارخانه ی ذوب آهن ایران از معادن استان تامین می شود.</p> <p>۴- بیابان وسیع ترکمنستان نامیده می شود.</p> <p>۵- کشور پاکستان در کنار اقیانوس قرار گرفته است.</p> <p>۶- پهناورترین قاره ی جهان، قاره ی است.</p> <p>۷- خطی که مانند کمربندی به دور کره ی زمین کشیده شده است ، خط نامیده می شود.</p> <p>۸- پایتخت و بزرگ ترین شهر افغانستان است.</p>	۴
ب	<p>درست یا نادرست بودن عبارات زیر را با علامت x مشخص کنید.</p> <p>۱- جمعیت در همه جای ایران به طور یکسان پراکنده شده است . درست <input type="radio"/> نادرست <input type="radio"/></p> <p>۲- نیم کره ی جنوبی نیم کره ایی است که در بالای کره ی جغرافیایی قرار گرفته است . درست <input type="radio"/> نادرست <input type="radio"/></p> <p>۳- بیش از نیمی از جمعیت جهان در قاره ی آسیا زندگی می کنند . درست <input type="radio"/> نادرست <input type="radio"/></p> <p>۴- صنایع ماشین سازی از صنایع مادر به حساب می آید . درست <input type="radio"/> نادرست <input type="radio"/></p>	۲
ج	<p>جواب درست را با علامت x مشخص کنید .</p> <p>۱- دو قسمت جمهوری آذربایجان به وسیله ی کدام کشور از یک دیگر جدا شده اند ؟ الف- ترکیه <input type="radio"/> ب- ایران <input type="radio"/> ج- ارمنستان <input type="radio"/> د- ترکمنستان <input type="radio"/></p> <p>۲- مهم ترین رود جمهوری ترکمنستان کدام رود است ؟ الف- ارس <input type="radio"/> ب- آمودریا (جیحون) <input type="radio"/> ج- دجله <input type="radio"/> د- سند <input type="radio"/></p>	۲/۵

لطفاً سوال ترتیب عبارات را
۱- ارس که رودی در جنوب آذربایجان است
۲- کشور ترکمنستان از نظر ...

باسمه تعالی

سرپرستی مدارس جمهوری اسلامی ایران
در امارات عربی متحده

سوال هماهنگ درس: جغرافیا

پایه: پنجم

دوره: ابتدایی

سال تحصیلی: ۸۸-۸۹

تاریخ امتحان: ۸۹ / ۳ / ۱۴

ساعت امتحان: ۶۰ دقیقه

مدت امتحان:

شماره صفحه: ۲

نمون برگ شماره ۱

۳- محصول مهم کشاورزی و صادراتی کشور عراق کدام محصول است؟

الف- خرما ب- پنبه ج- گندم د- برنج

۴- بیشترین پسته ی ایران از کدام استان به دست می آید؟

الف- مازندران ب- گلستان ج- خوزستان د- کرمان

۵- کدام یک از کشورهای زیر به دریا راه ندارد؟

الف- پاکستان ب- ترکیه ج- عراق د- افغانستان

د پاسخ پرسش های زیر را بنویسید .

۱- بندر بصره در جنوب عراق به کدام بندر ایران نزدیک است؟ /۵

۲- با توجه به وضع ناهمواریها ، آب و هوای کشور ارمنستان شبیه کدام ناحیه آب و هوای ایران است؟ /۵

۳- گردش زمین به دور خودش چه مدت طول می کشد؟ /۵

۴- نتیجه ی حرکت انتقالی زمین چیست؟ ۱

۵- کدام دو قاره دیرتر از قاره های دیگر شناخته شدند؟ 1

۶- چرا در افغانستان رودهای پر آب جریان دارند؟ 1

۷- دین و زبان مردم پاکستان چیست؟ ۱

۸- چرا در قطب جنوب شرایط برای زندگی مساعد نیست؟ (یک دلیل بیاورید) ۱

سوال هماهنگ درس: جغرافیا

پایه : پنجم

دوره : ابتدایی

سرپرستی مدارس جمهوری اسلامی ایران
در امارات عربی متحده

سال تحصیلی : ۸۸-۸۹

تاریخ امتحان:

ساعت امتحان:

مدت امتحان : ۶۰ دقیقه

شماره صفحه : ۱

نمون برگ شماره ۱

نام و نام خانوادگی دانش آموز:		نام پدر :	نام مجتمع :
ردیف	سوال	بازم	
الف	<p>جای خالی را کامل کنید .</p> <p>۱- اولین کارخانه ی نوب آهن ایران در نزدیکی شهر قرار دارد .</p> <p>۲- کشور ترکمنستان از نظر تولید در جهان معروف است .</p> <p>۳- مردم پاکستان مسلمانند و به زبان صحبت می کنند .</p> <p>۴- مهم ترین استان نفت خیز ایران ، استان است .</p> <p>۵- نیم کره ایی که در بالای خط استوا قرار دارد نیم کره ی است .</p> <p>۶- پایتخت و بزرگ ترین شهر افغانستان ، شهر است .</p> <p>۷- دایره های فرضی که به موازات خط استوا رسم شده اند را می نامند .</p> <p>۸- کشور پاکستان در کنار اقیانوس قرار دارد .</p>	۴	
ب	<p>درست یا نادرست بودن عبارات زیر را با علامت x مشخص کنید .</p> <p>۱- بیش تر منابع نفت ایران در جنوب غربی کشور ما قرار دارد . درست <input type="radio"/> نادرست <input type="radio"/></p> <p>۲- کارخانه های تولید کیف و کفش از صنایع مادر به حساب می آیند . درست <input type="radio"/> نادرست <input type="radio"/></p> <p>۳- ایران بیش ترین مرز را با کشور ارمنستان دارد . درست <input type="radio"/> نادرست <input type="radio"/></p> <p>۴- ریسندگی و بافندگی از صنایع مهم افغانستان است . درست <input type="radio"/> نادرست <input type="radio"/></p> <p>۵- بیش تر مساحت پاکستان را سرزمین های کم ارتفاع و پست تشکیل می دهد . درست <input type="radio"/> نادرست <input type="radio"/></p>	۲/۵	
ج	<p>گزینه ی درست را با علامت x مشخص کنید .</p> <p>۱- استانبول و از میر از بندرهای مهم کدام کشورند ؟</p> <p>الف- آذربایجان <input type="radio"/> ب- ترکیه <input type="radio"/> ج- ارمنستان <input type="radio"/> د- پاکستان <input type="radio"/></p> <p>۲- مهم ترین فعالیت اقتصادی پاکستان چیست ؟</p> <p>الف- صنعت <input type="radio"/> ب- کشاورزی <input type="radio"/> ج- ماهی گیری <input type="radio"/> د- منابع نفت <input type="radio"/></p>	۱	

سال تحصیلی: ۸۸-۸۹
تاریخ امتحان:
ساعت امتحان:
مدت امتحان: ۶۰ دقیقه
شماره صفحه: ۳

سرپرستی مدارس جمهوری اسلامی ایران
در امارات عربی متحده

سوال هماهنگ درس: جغرافیا
پایه: پنجم
دوره: ابتدایی

نمون برگ شماره ۱

۳- کدام یک از شهرهای زیر پایتخت کشور عراق است؟

الف- آنکارا ب- ایروان ج- کابل د- بغداد

۴- کدام رود از رودهای زیر مهم ترین رود ترکمنستان است؟

الف- آمودریا (جیحون) ب- رود ارس ج- رود فرات د- رود سند

د پاسخ پرسش های زیر را بنویسید .

۱- پهناورترین قاره ی جهان کدام قاره است؟

/۵

۲- بندر بصره در جنوب عراق به کدام بندر ایران نزدیک است؟

/۵

۳- گردش زمین به دور خودش چه مدت طول می کشد؟

/۵

۴- کدام فعالیت اقتصادی درآمد زیادی را نصیب کشور ترکیه می کند؟

۱

۵- از دلایل اهمیت شهر باکو دو دلیل بنویسید؟

۱

۶- چرا کشور افغانستان به لحاظ اقتصادی پیشرفت نکرده است؟

۱

۷- بیش ترین تولید برنج ایران از کدام استان ها به دست می آید؟ (دو استان را بنویسید)

۱

۸- دو شهر از شهرهای زیارتی عراق را نام ببرید؟

۱

سوال هماهنگ درس: جغرافیا

پایه: پنجم

دوره: ابتدایی

سرپرستی مدارس جمهوری اسلامی ایران
در امارات عربی متحده

سال تحصیلی: ۸۹-۸۸

تاریخ امتحان: ۸۹/۳/۱۲

ساعت امتحان: ۶۰ دقیقه

مدت امتحان:

شماره صفحه: ۱

نمون برگ شماره ۱


نام و نام خانوادگی دانش آموز:

نام پدر:

نام مجتمع:

ردیف	سوال	بارم
الف	<p>جای خالی را با کلمه ی مناسب کامل کنید.</p> <p>۱- کار اصلی ایلات و عشایر..... است.</p> <p>۲- مهم ترین استان نفت خیز ایران ، استان می باشد.</p> <p>۳- سنگ آهن مورد نیاز کارخانه ی ذوب آهن ایران از معادن استان تامین می شود.</p> <p>۴- بیابان وسیع ترکمنستان نامیده می شود.</p> <p>۵- کشور پاکستان در کنار اقیانوس قرار گرفته است.</p> <p>۶- پهناورترین قاره ی جهان، قاره ی است.</p> <p>۷- خطی که مانند کمربندی به دور کره ی زمین کشیده شده است ، خط نامیده می شود.</p> <p>۸- پایتخت و بزرگ ترین شهر افغانستان است.</p>	۴
ب	<p>درست یا نادرست بودن عبارات زیر را با علامت x مشخص کنید.</p> <p>۱- جمعیت در همه جای ایران به طور یکسان پراکنده شده است . درست <input type="radio"/> نادرست <input type="radio"/></p> <p>۲- نیم کره ی جنوبی نیم کره ایی است که در بالای کره ی جغرافیایی قرار گرفته است . درست <input type="radio"/> نادرست <input type="radio"/></p> <p>۳- بیش از نیمی از جمعیت جهان در قاره ی آسیا زندگی می کنند . درست <input type="radio"/> نادرست <input type="radio"/></p> <p>۴- صنایع ماشین سازی از صنایع مادر به حساب می آید . درست <input type="radio"/> نادرست <input type="radio"/></p>	۲
ج	<p>جواب درست را با علامت x مشخص کنید .</p> <p>۱- دو قسمت جمهوری آذربایجان به وسیله ی کدام کشور از یک دیگر جدا شده اند ؟ الف- ترکیه <input type="radio"/> ب- ایران <input type="radio"/> ج- ارمنستان <input type="radio"/> د- ترکمنستان <input type="radio"/></p> <p>۲- مهم ترین رود جمهوری ترکمنستان کدام رود است ؟ الف- ارس <input type="radio"/> ب- آمودریا (جیحون) <input type="radio"/> ج- دجله <input type="radio"/> د- سند <input type="radio"/></p>	۲/۵

سال تحصیلی: ۸۸-۸۹
تاریخ امتحان: ۸۹ / ۳ / ۲۲
ساعت امتحان: ۶۰ دقیقه
مدت امتحان:
شماره صفحه: ۲



سوال هفدهم: درس: جغرافیا
پایه: پنجم
دوره: ابتدایی

نمون برگ شماره ۱

۳- محصول مهم کشاورزی و صادراتی کشور عراق کدام محصول است؟

الف- خرما ب- پنبه ج- گندم د- برنج

۴- بیشترین پسته‌ی ایران از کدام استان به دست می‌آید؟

الف- مازندران ب- گلستان ج- خوزستان د- کرمان

۵- کدام یک از کشورهای زیر به دریا راه ندارد؟

الف- پاکستان ب- ترکیه ج- عراق د- افغانستان

د پاسخ پرسش‌های زیر را بنویسید.

/۵

۱- بندر بصره در جنوب عراق به کدام بندر ایران نزدیک است؟

/۵

۲- با توجه به وضع ناهمواریها، آب و هوای کشور ارمنستان شبیه کدام ناحیه آب و هوای ایران است؟

/۵

۳- گردش زمین به دور خودش چه مدت طول می‌کشد؟

۱

۴- نتیجه‌ی حرکت انتقالی زمین چیست؟

1

۵- کدام دو قاره دیرتر از قاره‌های دیگر شناخته شدند؟

1

۶- چرا در افغانستان رودهای پر آب جریان دارند؟

۱

۷- دین و زبان مردم پاکستان چیست؟

۱

۸- چرا در قطب جنوب شرایط برای زندگی مساعد نیست؟ (یک دلیل بیاورید)

باسمه تعالی

سربوستانی مدارس جمهوری اسلامی ایران
در امارات عربی متحده

سوال هماهنگ درس: جغرافیا

پایه: پنجم

دوره: ابتدایی

سال تحصیلی: ۸۹-۸۸

تاریخ امتحان: ۸۹ / ۳ / ۱۲

ساعت امتحان: ۶۰ دقیقه

مدت امتحان:

شماره صفحه: ۱

نمون برگ شماره ۱

نام و نام خانوادگی دانش آموز:		نام پدر:	نام مجتمع:
ردیف	سوال	بارم	
الف	<p>جای خالی را با کلمه ی مناسب کامل کنید.</p> <p>۱- کار اصلی ایلات و عشایر..... است.</p> <p>۲- مهم ترین استان نفت خیز ایران ، استان می باشد.</p> <p>۳- سنگ آهن مورد نیاز کارخانه ی نوب آهن ایران از معادن استان تامین می شود.</p> <p>۴- بیابان وسیع ترکمنستان نامیده می شود.</p> <p>۵- کشور پاکستان در کنار اقیانوس قرار گرفته است.</p> <p>۶- پهناورترین قاره ی جهان، قاره ی است.</p> <p>۷- خطی که مانند کمربندی به دور کره ی زمین کشیده شده است ، خط نامیده می شود.</p> <p>۸- پایتخت و بزرگ ترین شهر افغانستان است.</p>	۴	
ب	<p>درست یا نادرست بودن عبارات زیر را با علامت x مشخص کنید.</p> <p>۱- جمعیت در همه جای ایران به طور یکسان پراکنده شده است . درست <input type="radio"/> نادرست <input type="radio"/></p> <p>۲- نیم کره ی جنوبی نیم کره ایی است که در بالای کره ی جغرافیایی قرار گرفته است . درست <input type="radio"/> نادرست <input type="radio"/></p> <p>۳- بیش از نیمی از جمعیت جهان در قاره ی آسیا زندگی می کنند . درست <input type="radio"/> نادرست <input type="radio"/></p> <p>۴- صنایع ماشین سازی از صنایع مادر به حساب می آید . درست <input type="radio"/> نادرست <input type="radio"/></p>	۲	
ج	<p>جواب درست را با علامت x مشخص کنید .</p> <p>۱- دو قسمت جمهوری آذربایجان به وسیله ی کدام کشور از یک دیگر جدا شده اند ؟ الف- ترکیه <input type="radio"/> ب- ایران <input type="radio"/> ج- ارمنستان <input type="radio"/> د- ترکمنستان <input type="radio"/></p> <p>۲- مهم ترین رود جمهوری ترکمنستان کدام رود است ؟ الف- ارس <input type="radio"/> ب- آمودریا (جیحون) <input type="radio"/> ج- دجله <input type="radio"/> د- سند <input type="radio"/></p>	۲/۵	

باسمه تعالی

سرپرستی مدارس جمهوری اسلامی ایران
در امارات عربی متحده

سوال هماهنگ درس: جغرافیا

پایه: پنجم

دوره: ابتدایی

سال تحصیلی: ۸۸-۸۹

تاریخ امتحان: ۸۹ / ۳ / ۱۲

ساعت امتحان: ۶۰ دقیقه

مدت امتحان:

شماره صفحه: ۲

نمون برگ شماره ۱

۳- محصول مهم کشاورزی و صادراتی کشور عراق کدام محصول است؟

الف- خرما ب- پنبه ج- گندم د- برنج

۴- بیشترین پسته‌ی ایران از کدام استان به دست می‌آید؟

الف- مازندران ب- گلستان ج- خوزستان د- کرمان

۵- کدام یک از کشورهای زیر به دریا راه ندارد؟

الف- پاکستان ب- ترکیه ج- عراق د- افغانستان

د پاسخ پرسش‌های زیر را بنویسید.

۱۵

۱- بندر بصره در جنوب عراق به کدام بندر ایران نزدیک است؟

۱۵

۲- با توجه به وضع ناهمواریها، آب و هوای کشور ارمنستان شبیه کدام ناحیه آب و هوای ایران است؟

۱۵

۳- گردش زمین به دور خودش چه مدت طول می‌کشد؟

۱

۴- نتیجه‌ی حرکت انتقالی زمین چیست؟

۱

۵- کدام دو قاره دیرتر از قاره‌های دیگر شناخته شدند؟

۱

۶- چرا در افغانستان رودهای پر آب جریان دارند؟


۱

۷- دین و زبان مردم پاکستان چیست؟

۱

۸- چرا در قطب جنوب شرایط برای زندگی مساعد نیست؟ (یک دلیل بیاورید)

سال تحصیلی: ۸۸-۸۹
تاریخ امتحان: ۸۹, ۳, ۱
ساعت امتحان: ۹:۳۰



امتحان هماهنگ درس: املا
پایه: پنجم
دوره: ابتدایی
نوبت: صبح

- اگر توانایی های خود را بشناسیم، خواهیم دید که بسیاری از ترس ها بیهوده و نادرست است. خنده بر ترس های دروغین، گام اول به سمت شجاعت است.
- خلیفه به آن مرد، در نزدیکی بغداد، چند قطعه زمین بخشید. مرد بر زمین های خود کار می کرد و از ثروت خویش به نیازمندان می بخشید.
- همیشه می توانی خورشید را در درون خود بیابی، کافی است در تکاپوی یافتن آن باشی.
- سرود ملی کشورمان با دعا و نیایش پایان می یابد؛ دعا برای پایداری و جاودانگی ملت و کشوری که با تاریخ کهن و افتخارات بزرگ خود در جهان می درخشد و در آینده نیز با گام های استوار فرزندان خویش، به توسعه و سازندگی و سربلندی به پیش خواهد رفت.
- خلیج زیبای فارس و جوش و خروش امواج کوه بیکر آن، به درازای تاریخ طبیعت، گواه جوش و خروش زندگی در ایران بوده است و باز هم تا همیشه خواهد بود. طبیعت زیبای ایران در هر فصلی تماشایی است، دشت های پر از شقایق فصل بهار، قلّه های سپید و مغرور زمستانی، جنگل های سبز تابستانی و شاخه های سرشار از میوه های پاییزی.
- در کارگاه استاد امامی، شعر های دل نشین حافظ و مولانا زمزمه می شد و محمود فرشچیان همراه با این سرودها و نقش و نگارها رشد می کرد. استاد با نگاه های تحسین آمیز، هنرمندی او را می دید و تشویق می کرد اما مراقب بود که غرور به جان شاگردش نیفتد. همیشه می گفت: « غرور آفت هنر است.»
- وقتی، به غرور جوانی بانگ بر مادر زدم؛ دل آزرده به کنجی نشست و گریان همی گفت: « مگر خردی فراموش کردی که درشتی می کنی؟»

همکار محترم خسته نباشی

امضاء

نمره به حروف: نام و نام خانوادگی مصحح:

نمره به عدد:

باسمه تعالی

سرپرستی مدارس جمهوری اسلامی ایران
در امارات عربی متحده

امتحان هماهنگ درس : املا

پایه : پنجم

دوره : ابتدایی

نوبت : عصر

سال تحصیلی : ۸۸-۸۹

تاریخ امتحان: ۸۹, ۳, ۱

ساعت امتحان: ۱۵: ۳۰

- یکی از منابع مهم تحقیق درباره ی بزرگان، زندگی نامه ها هستند. مثلاً برای آگاهی از سرگذشت فردوسی که سراینده ی شاهنامه است، به جز لغت نامه ی دهخدا، می توانید به زندگی نامه ها نیز مراجعه کنید.
- آیا می دانید قسمتی از سیاره ی زهره به نام دکتر آذر اندامی، پزشک دل سوز ایرانی نام گذاری شده است؟ این بانوی ایرانی در هنگام شیوع وبا، به یاری مردم شتافت و با تولید واکسن، جان هزاران انسان را نجات داد.
- خواجه نصیر توسی ریاضی دانان و ستاره شناسان را از نواحی مختلف سرزمین های اسلامی دعوت کرد. او در کنار رصدخانه، کتاب خانه ای نیز تأسیس کرد که شماره ی کتاب های آن را تا چهارصد هزار جلد نوشته اند.
- سرود ملی همچون آینه ای است که مردم یک کشور گذشته ها، آرزوها، پیروزی ها و اعتقادات خود را در آن می یابند.
- هرشب، قبل از خواب، مهم ترین کارهای روزانه و جالب ترین چیزی که فکرت را مشغول کرده است، بهترین حرف هایی را که گفته یا شنیده ای، و مهم ترین چیزهایی را که دیده و خوانده ای، در دفترت یادداشت کن. اگر این کار را بکنی، بعد از مدتی می بینی که هم در نوشتن مهارت بیش تری پیدا کرده ای و هم خاطرات ارزنده ای را گرد آورده ای.
- حافظ شیرازی، شاعر بلند آوازه و غزل سرای ایرانی است . او در شیراز زندگی می کرد و به این شهر بسیار دل بسته بود؛ آن چنان که هرگز میل سفر و گشت و گذار در جای دیگر نداشت.
- لقمان را گفتند: ادب از که آموختی؟ گفت از پی ادبان. هر چه از ایشان در نظرم ناپسند آمدی، از فعل آن احتراز کردم.

همکار محترم خسته نباشی

امضاء

نمره به حروف..... نام ونام خانوادگی مصحح:

نمره به عدد:

باسمه تعالی

سرپرستی مدارس جمهوری اسلامی ایران
در امارات عربی متحده

امتحان هماهنگ درس: املا

پایه: پنجم

دوره: ابتدایی

نوبت: صبح

سال تحصیلی: ۸۸-۸۹

تاریخ امتحان: ۱ / ۳ / ۸۹

ساعت امتحان: ۹:۳۰

- اگر توانایی های خود را بشناسیم، خواهیم دید که بسیاری از ترس ها بیهوده و نادرست است. خنده بر ترس های دروغین، گام اول به سمت شجاعت است.
- خلیفه به آن مرد، در نزدیکی بغداد، چند قطعه زمین بخشید. مرد بر زمین های خود کار می کرد و از ثروت خویش به نیازمندان می بخشید.
- همیشه می توانی خورشید را در درون خود بیایی، کافی است در تکاپوی یافتن آن باشی.
- سرود ملی کشورمان با دعا و نیایش پایان می یابد؛ دعا برای پایداری و جاودانگی ملت و کشوری که با تاریخ کهن و افتخارات بزرگ خود در جهان می درخشد و در آینده نیز با گام های استوار فرزندان خویش، به توسعه و سازندگی و سربلندی به پیش خواهد رفت.
- خلیج زیبای فارس و جوش و خروش امواج کوه پیکر آن، به درازای تاریخ طبیعت، گواه جوش و خروش زندگی در ایران بوده است و باز هم تا همیشه خواهد بود. طبیعت زیبای ایران در هر فصلی تماشایی است، دشت های پر از شقایق فصل بهار، قلّه های سپید و مغرور زمستانی، جنگل های سبز تابستانی و شاخه های سرشار از میوه های پاییزی.
- در کارگاه استاد امامی، شعر های دل نشین حافظ و مولانا زمزمه می شد و محمود فرشچیان همراه با این سرودها و نقش و نگارها رشد می کرد. استاد با نگاه های تحسین آمیز، هنرمندی او را می دید و تشویق می کرد اما مراقب بود که غرور به جان شاگردش نیفتد. همیشه می گفت: «غرور آفت هنر است.»
- وقتی، به غرور جوانی بانگ بر مادر زدم؛ دل آزرده به کنجی نشست و گریان همی گفت: «مگر خودی فراموش کردی که درشتی می کنی؟»

همکار محترم خسته نباشی

امضاء

نمره به حروف: نام و نام خانوادگی مصحح:

نمره به عدد:

باسمه تعالی

سرپرستی مدارس جمهوری اسلامی ایران
در امارات عربی متحده

امتحان هماهنگ درس: املا

پایه: پنجم

دوره: ابتدایی

نوبت: صبح

سال تحصیلی: ۸۸-۸۹

تاریخ امتحان: ۱/۳/۸۹

ساعت امتحان: ۳: ۹

- اگر توانایی های خود را بشناسیم، خواهیم دید که بسیاری از ترس ها بیهوده و نادرست است. خنده بر ترس های دروغین، گام اول به سمت شجاعت است.
- خلیفه به آن مرد، در نزدیکی بغداد، چند قطعه زمین بخشید. مرد بر زمین های خود کار می کرد و از ثروت خویش به نیازمندان می بخشید.
- همیشه می توانی خورشید را در درون خود بیایی، کافی است در تکاپوی یافتن آن باشی.
- سرود ملی کشورمان با دعا و نیایش پایان می یابد؛ دعا برای پایداری و جاودانگی ملت و کشوری که با تاریخ کهن و افتخارات بزرگ خود در جهان می درخشد و در آینده نیز با گام های استوار فرزندان خویش، به توسعه و سازندگی و سربلندی به پیش خواهد رفت.
- خلیج زیبای فارس و جوش و خروش امواج کوه پیکر آن، به درازای تاریخ طبیعت، گواه جوش و خروش زندگی در ایران بوده است و باز هم تا همیشه خواهد بود. طبیعت زیبای ایران در هر فصلی تماشایی است، دشت های پر از شقایق فصل بهار، قلّه های سپید و مغرور زمستانی، جنگل های سبز تابستانی و شاخه های سرشار از میوه های پاییزی.
- در کارگاه استاد امامی، شعر های دل نشین حافظ و مولانا زمزمه می شد و محمود فرشچیان همراه با این سرودها و نقش و نگارها رشد می کرد. استاد با نگاه های تحسین آمیز، هنرمندی او را می دید و تشویق می کرد اما مراقب بود که غرور به جان شاگردش نیفتند. همیشه می گفت: « غرور آفت هنر است.»
- وقتی، به غرور جوانی بانگ بر مادر زدم؛ دل آزرده به کنجی نشست و گریان همی گفت: « مگر خردی فراموش کردی که درشتی می کنی؟ »

همکار محترم خسته نباشی

امضاء

نمره به حروف: نام و نام خانوادگی مصحح:

نمره به عدد:

باسمه تعالی

سروستی مدارس جمهوری اسلامی ایران
در امارات عربی متحده

سال تحصیلی: ۸۸-۸۹
تاریخ امتحان: ۸۹، ۳، ۱
ساعت امتحان: ۹: ۳۰

امتحان هماهنگ درس: املا
پایه: پنجم
دوره: ابتدایی
نوبت: صبح

- اگر توانایی های خود را بشناسیم، خواهیم دید که بسیاری از ترس ها بیهوده و نادرست است. خنده بر ترس های دروغین، گام اوّل به سمت شجاعت است.
- خلیفه به آن مرد، در نزدیکی بغداد، چند قطعه زمین بخشید. مرد بر زمین های خود کار می کرد و از ثروت خویش به نیازمندان می بخشید.
- همیشه می توانی خورشید را در درون خود بیابی، کافی است در تکاپوی یافتن آن باشی.
- سرود ملی کشورمان با دعا و نیایش پایان می یابد؛ دعا برای پایداری و جاودانگی ملت و کشوری که با تاریخ کهن و افتخارات بزرگ خود در جهان می درخشد و در آینده نیز با گام های استوار فرزندان خویش، به توسعه و سازندگی و سربلندی به پیش خواهد رفت.
- خلیج زیبای فارس و جوش و خروش امواج کوه پیکر آن، به درازای تاریخ طبیعت، گواه جوش و خروش زندگی در ایران بوده است و باز هم تا همیشه خواهد بود. طبیعت زیبای ایران در هر فصلی تماشایی است، دشت های پر از شقایق فصل بهار، قلّه های سپید و مغرور زمستانی، جنگل های سبز تابستانی و شاخه های سرشار از میوه های پاییزی.
- در کارگاه استاد امامی، شعر های دل نشین حافظ و مولانا زمزمه می شد و محمود فرشچیان همراه با این سرودها و نقش و نگارها رشد می کرد. استاد با نگاه های تحسین آمیز، هنرمندی او را می دید و تشویق می کرد اما مراقب بود که غرور به جان شاگردش نیفتد. همیشه می گفت: «غرور آفت هنر است.»
- وقتی، به غرور جوانی بانگ بر مادر زدم؛ دل آزرده به کنجی نشست و گریان همی گفت: «مگر خردی فراموش کردی که درشتی می کنی؟»

مکار محترم خسته نباشی

امضاء

نمره به حروف: نام و نام خانوادگی مصحح:

نمره به عدد:



جمهوری اسلامی ایران
امارات عربی متحده

سوال هماهنگ درس : تاریخ ومدنی

پایه : پنجم

دوره : ابتدایی

سال تحصیلی : ۸۹-۸۸

تاریخ امتحان : ۸ خرداد ماه نوبت صبح

ساعت امتحان :

مدت امتحان : ۷۰ دقیقه

شماره صفحه : ۱

نمون برگ شماره ۱

نام و نام خانوادگی دانش آموز : نام پدر : نام مجتمع :

ردیف	سوال	بارم
۱	سوالات تاریخ الف) گزینه ی درست را علامت بزنید: کدامیک از وقایع زیر مبدا تاریخ مسلمانان جهان می باشد. الف: تولد پیامبر ○ ب: هجرت پیامبر از مکه به مدینه ○ ج: بعثت پیامبر ○ د: رحلت پیامبر ○	۰/۵
۲	در زمان کدام خلیفه مسلمانان ایران را به قلمرو اسلام افزودند? الف: عثمان ○ ب: ابوبکر ○ ج: معاویه ○ د: عمر ○	۰/۵
۳	پایتخت آقا محمدخان قاجار کدام شهر بود? الف: تهران ○ ب: شیراز ○ ج: مشهد ○ د: اصفهان ○	۰/۵
۴	وکیل الرعایا یعنی چه ولقب چه کسی بود? الف: دوست مردم - لقب امیر کبیر ○ ج: نماینده ی مردم لقب کریم خان زند ○ ب: نماینده ی مردم - لقب شاه عباس ○ د: قاضی - لقب آقا محمد خان ○	۰/۵
۵	دارالفنون را چه کسی تأسیس کرد? الف: خواجه نظام الملک ○ ب: آیت الله مدرس ○ ج: ناصرالدین شاه ○ د: امیر کبیر ○	۰/۵
۶	انقلاب مشروطیت در زمان کدام حکومت روی داد? الف: پهلوی ○ ب: قاجاریه ○ ج: زندیه ○ د: صفویه ○	۰/۵
۷	پایتخت دولت سامانی چه شهری بود? الف: بخارا ○ ب: خوارزم ○ ج: مشهد ○ د: اصفهان ○	۰/۵
۸	امام حسن به تحریک چه کسی به شهادت رسید? الف: یزید ○ ب: ابن ملجم ○ ج: معاویه ○ د: عمرو عاص ○	۰/۵

نمره کتبی : نمره شفاهی / عملی : جمع نمره : به عدد به حروف نام و نام خانوادگی مصحح : امضاء

باسمه تعالی

سرپرستی مدارس جمهوری اسلامی ایران
در امارات عربی متحده

سوال هماهنگ درس : تاریخ ومدنی

پایه : پنجم

دوره : ابتدایی

سال تحصیلی : ۸۹-۸۸

تاریخ امتحان : ۸ خرداد ماه نوبت صبح

ساعت امتحان :

مدت امتحان : ۷۰ دقیقه

تعداد صفحات : ۱

نمون برگ شماره ۱

ب) پاسخ درست را باعلامت مشخص کنید:

- ۱ بیعت کردن یعنی پیمان بستن باکسی واز دستوراتش پیروی کردن است. صحیح غلط ۰/۵
- ۲ در زمان ظهور اسلام مهمترین شهر عربستان مدینه بود. صحیح غلط ۰/۵
- ۳ معاویه خلاف صلح نامه فرزندش یزید را به جانشینی برگزید. صحیح غلط ۰/۵
- ۴ قیام مردم ایران به رهبری امام خمینی از سال ۱۳۵۸ آغاز شد. صحیح غلط ۰/۵

ج) در جاهای خالی کلمات مناسب بنویسید:

- ۱ ناصرالدین شاه به ضرب گلوله ی کشته شد. ۰/۵
- ۲ ملی شدن صنعت نفت ایران به رهبری و صورت گرفت. ۱
- ۳ پس از اینکه امام خمینی (ره) به رفتند اعلامیه های ایشان سریع تر و بهتر در اختیار مردم قرار گرفت. ۰/۵

د) به سوالات زیر پاسخ دهید.

- ۱ دو دلیل اهمیت مکه قبل از ظهور اسلام چه بود؟ ۱
- ۲ جهاد در راه خدا یعنی چه؟ ۱
- ۳ مظفرالدین شاه وام های خارجی را چگونه خرج می کرد؟ ۱
- ۴ دو ویژگی حکومت استبدادی را بنویسید؟ ۱

سوالات مدنی :

الف) گزینه ی صحیح را مشخص کنید.

- ۱ یکی از مهم ترین نشانه های جامعه ی اسلامی است. ۰/۵
- الف:شورا ب:وحدت ج:ایثار د:انفاق

نمره کتبی : نمره نهایی / عملی :

جمع نمره : به عدد..... به حروف..... نام ونام خانوادگی مصحح:

امضاء



سال تحصیلی: ۸۸-۸۹
تاریخ امتحان: ۸ خرداد ماه نوبت صبح
ساعت امتحان:
مدت امتحان: ۷۰ دقیقه
شماره صفحه: ۱

سوال هماهنگ درس: تاریخ و مدنی
پایه: پنجم
دوره: ابتدایی

نمون برگ شماره ۱

۰/۵	۲	به نظر شما اگر شیر آب بیهوده باز بماند این عمل چه نام دارد؟ الف: صرفه جویی ب: قناعت ج: مصرف به اندازه د: اسراف
۰/۵	۳	همکاری و کمک به یکدیگر چه نام دارد؟ الف: شورا ب: احترام به آسایش دیگران ج: وحدت د: تعاون
۰/۵	۱	قوه ی مجریه قوانین را تصویب می کند. ب) پاسخ درست را با علامت () مشخص کنید. ○ صحیح ○ غلط
۰/۵	۲	جمهوری اسلامی بر پایه ی ایمان به خداست. ○ صحیح ○ غلط
۰/۵	۳	ایثار نمونه ای از تعاون در جامعه است. ○ صحیح ○ غلط ج) در جاهای خالی کلمات مناسب قرار دهید.
۱	۱	حکومت ایران در فروردین سال به جمهوری اسلامی تبدیل شد.
۰/۵	۲	مسلمانان برای آنکه از نیروی فکری یکدیگر بهره مند شوند با هم می کنند.
۰/۵	۳	با گسترش در کشور بی سوادى از میان می رود. د) به سوالات زیر پاسخ دهید.
۱	۱	خداوند در قرآن درباره ی وحدت چه می فرماید؟
۱	۲	جمعیت هلال احمر در چه زمینه هایی به مردم کمک می کند؟
۱	۳	بسیج نخستین بار در چه سالی وبه فرمان چه کسی تشکیل شد؟

به امید موفقیت شما عزیزان

سوال هماهنگ درس : تاریخ ومدنی

پایه : پنجم

دوره : ابتدایی

باسمه تعالی

سرپرستی مدارس جمهوری اسلامی ایران
در امارات عربی متحده

سال تحصیلی : ۸۹-۸۸

تاریخ امتحان : ۸ خرداد ماه توبت عصر

ساعت امتحان :

مدت امتحان : ۷۰ دقیقه

شماره صفحه :

نمون برگ شماره ۱

نام و نام خانوادگی دانش آموز:

نام پدر :

نام مجتمع :

بارم	سوال	ردیف
	سوالات تاریخ	
۰/۵	الف) گزینه ی صحیح را با علامت () مشخص کنید. برگزیده شدن حضرت محمد(ص) به پیامبری را می گویند. الف: خلافت ○ ب: بعثت ○ ج: بیعت ○ د: امامت ○	۱
۰/۵	الف: بنی عباس ○ ب: صفویان ○ ج: غزنویان ○ د: سامانیان ○ در زمان چه حکومتی قبایل ترک به ایران آمدند؟	۲
۰/۵	این جمله از کدام امام بزرگوار است ؟ (من برای زنده نگه داشتن دین اسلام وامریه معروف ونهی از منکر قیام نموده ام) الف: امام علی (ع) ○ ب: امام حسن (ع) ○ ج: امام حسین (ع) ○ د: امام سجاد(ع) ○	۳
۰/۵	الف: آقامحمدخان قاجار ○ ب: محمدعلی شاه ○ ج: مظفرالدین شاه ○ د: فتحعلی شاه ○ کدام یک از پادشاهان قاجار مجبور شد حکومت مشروطه را بپذیرد ؟	۴
۰/۵	الف: نادرشاه ○ ب: کریم خان ○ ج: شاه اسماعیل ○ د: شاه سلطان حسین ○ چه کسی به حکومت افغان ها در ایران پایان داد ؟	۵
۰/۵	الف: تهران ○ ب: اصفهان ○ ج: شیراز ○ د: مشهد ○ شاه عباس پایتخت صفویه را به کدام شهر منتقل کرد ؟	۶
۰/۵	الف: چنگیز خان ○ ب: ابومسلم خراسانی ○ ج: کریم خان زند ○ د: آقامحمدخان ○ چه کسی حکومت بنی امیه را شکست داد ؟	۷
۰/۵	الف: آیت مدرس ○ ب: آیت کاشانی ○ ج: آیت شیرازی ○ د: آیت خامنه ای ○ پس از وفات امام خمینی (ره) مجلس خیرگان را به رهبری انتخاب کرد.	۸
	ب) پاسخ درست را با علامت () مشخص کنید:	
۰/۵	سال هجرت پیامبر(ص) از مکه به مدینه مبدا تاریخ مسلمانان است . ○ صحیح ○ غلط	۱
۰/۵	موسس سلسله ی صفویه شاه سلطان حسین بود. ○ صحیح ○ غلط	۲
۰/۵	رضا خان در مخالفت با اسلام و علمای دین ، زنان را از رعایت حجاب منع کرد. ○ صحیح ○ غلط	۳
۰/۵	انقلاب اسلامی ایران در روز ۲۲ بهمن سال ۱۳۶۸ به پیروزی رسید ○ صحیح ○ غلط	۴

امضاء

جمع نمره : به عدد..... به حروف..... نام ونام خانوادگی مصحح

نمره کتبی : نمره شفاهی / عملی :

باسمه تعالی

سرپرستی مدارس جمهوری اسلامی ایران
در امارات عربی متحده

سوال هماهنگ درس: تاریخ ومدنی

پایه: پنجم
دوره: ابتدایی

سال تحصیلی: ۸۸-۸۹

تاریخ امتحان: ۸ خرداد ماه نوبت عصر

ساعت امتحان:

مدت امتحان: ۷۰ دقیقه

شماره صفحه:

نمون برگ شماره ۱

ج) جاهای خالی را با کلمات مناسب پر کنید.

- ۰/۱۵ ۱ کریم خان زند لقب ... را برای خود برگزید.
- ۰/۱۵ ۲ خاندان بنی عباس خود را از نسل می دانستند.
- ۰/۱۵ ۳ به گروهی از یاران امام علی (ع) که از اطاعت او سرپیچی کردند می گویند.
- ۰/۱۵ ۴ یکی از مخالفان مهم حکومت رضا شاه ... بود.

د) به سوالات زیر پاسخ دهید.

- ۱ دو جنگ مهم پیامبر را نام ببرید.
- ۲ دو علت شکست ایران از روسیه را در زمان فتحعلی شاه بنویسید؟
- ۳ ملی شدن صنعت نفت ایران به رهبری چه کسانی صورت گرفت؟
- ۴ رفتن امام خمینی (ره) از عراق به پاریس در پیشرفت انقلاب اسلامی چه تاثیری داشت؟

سوالات مدنی:

الف) پاسخ صحیح را با علامت () مشخص کنید.

- ۰/۱۵ ۱ برای اینکه جامعه مطابق برنامه به سوی هدفهای خود حرکت کند به کدام یک نیاز بیشتری دارد؟
الف: رهبر شایسته ب: دولت ج: دادگستری د: هیچکدام
- ۰/۱۵ ۲ گسترش صنعت و کشاورزی و ایجاد شغل های بیشتر جز کدام یک از وظایف حکومت است؟
الف: پاسداری از اسلام ب: نگهداری از استقلال ج: بهبود زندگی مردم د: گسترش آموزش و پرورش
- ۰/۱۵ ۳ بالاترین درجه ی ایثار چه نام دارد؟
الف: انفاق ب: ایثار مال ج: شهادت د: وقف

امضاء

جمع نمره: به عدد..... به حروف..... نام و نام خانوادگی مصحح:

نمره شفاهی / عملی:

نمره کتبی:

باسمه تعالی

سرپرستی مدارس جمهوری اسلامی ایران
در امارات عربی متحده

سوال هماهنگ درس : تاریخ ومدنی

پایه : پنجم

دوره : ابتدایی

سال تحصیلی : ۸۸-۸۹

تاریخ امتحان : ۸ خرداد ماه نوبت عصر

ساعت امتحان :

مدت امتحان : ۷۰ دقیقه

شماره صفحه :

نمون برگ شماره ۱

ب) جملات درست یا نادرست را مشخص کنید:

- ۱ انفاق نمونه ای از تعاون است . صحیح غلط
- ۲ در کشور ما مجلس شورای اسلامی قوانین را اجرا می کند. صحیح غلط

ج) جاهای خالی را با کلمات مناسب کامل کن:

- ۱ انقلاب اسلامی ایران بر پایه ی رهبری امام خمینی و..... به پیروزی رسید.
- ۲ همگی به که ریسمان محکم الهی است چنگ بزنید واز..... بپرهیزید.

د) به سوالات زیر پاسخ دهید:

- ۱ مهمترین قانون در هر کشور چیست ؟
- ۲ چهار عامل مشترک در میان همه ی مسلمانان را نام ببرید؟
- ۳ مشورت با دیگران چه فایده ه هایی دارد؟
- ۴ کميته ی امداد امام خمینی (ره) در چه زمینه هایی به مردم کمک می کند؟

به امید موفقیت شما عزیزان

نمره کتبی : نمره شفاهی / عملی : جمع نمره : به عدد..... به حروف..... نام ونام خانوادگی مصحح: امضاء

باسمه تعالی

سرپرستی مدارس جمهوری اسلامی ایران
در امارات عربی متحده

سوال هماهنگ درس: تاریخ ومدنی

پایه: پنجم

دوره: ابتدایی

سال تحصیلی: ۸۹-۸۸

تاریخ امتحان: ۸ خرداد ماه توبت صبح

ساعت امتحان:

مدت امتحان: ۷۰ دقیقه

شماره صفحه: ۱

نمون برگ شماره ۱

ب) پاسخ درست را باعلامت مشخص کنید:

- ۱ بیعت کردن یعنی پیمان بستن باکسی وازدستوراتش پیروی کردن است. صحیح غلط ۰/۵
- ۲ در زمان ظهوراسلام مهمترین شهر عربستان مدینه بود. صحیح غلط ۰/۵
- ۳ معاویه خلاف صلح نامه فرزندش یزید را به جانشینی برگزید. صحیح غلط ۰/۵
- ۴ قیام مردم ایران به رهبری امام خمینی ازسال ۱۳۵۸ آغازشد. صحیح غلط ۰/۵

ج) در جاهای خالی کلمات مناسب بنویسید:

- ۱ ناصرالدین شاه به ضرب گلوله ی کشته شد. ۰/۵
- ۲ ملی شدن صنعت نفت ایران به رهبری و..... صورت گرفت. ۱
- ۳ پس از اینکه امام خمینی (ره) به رفتند اعلامیه های ایشان سریع تر وبهتر در اختیار مردم قرار گرفت. ۰/۵

د) به سوالات زیر پاسخ دهید.

- ۱ دو دلیل اهمیت مکه قبل ازظهور اسلام چه بود؟ ۱
- ۲ جهاد درراه خدا یعنی چه؟ ۱
- ۳ مظفردالدین شاه وام های خارجی را چگونه خرج می کرد؟ ۱
- ۴ دو ویژگی حکومت استبدادی را بنویسید؟ ۱

سوالات مدنی:

الف) گزینه ی صحیح را مشخص کنید.

- ۱ یکی از مهم ترین نشانه های جامعه ی اسلامی است. ۰/۵
- الف:شورا ب:وحدت ج:ایثار د:انفاق

امضاء

جمع نمره: به عدد..... به حروف..... نام ونام خانوادگی مصحح:

نمره شفاهی / عملی: نمره کتبی:

سال تحصیلی: ۸۸-۸۹
تاریخ امتحان: ۸ خرداد ماه نوبت صبح
ساعت امتحان:
مدت امتحان: ۷۰ دقیقه
شماره صفحه: ۱

باسمه تعالی
سرپرستی مدارس جمهوری اسلامی ایران
در امارات عربی متحده

سوال هماهنگ درس: تاریخ ومدنی
پایه: پنجم
دوره: ابتدایی

نمون برگ شماره ۱

نام و نام خانوادگی دانش آموز:	نام پدر:	نام مجتمع:
ردیف	سوال	بارم
۱	سوالات تاریخ الف) گزینه ی درست را علامت بزنید: کدامیک از وقایع زیر مبدا تاریخ مسلمانان جهان می باشد. الف: تولد پیامبر ○ ب: هجرت پیامبر از مکه به مدینه ○ ج: بعثت پیامبر ○ د: رحلت پیامبر ○	۰/۵
۲	در زمان کدام خلیفه مسلمانان ایران را به قلمرو اسلام افزودند؟ الف: عثمان ○ ب: ابوبکر ○ ج: معاویه ○ د: عمر ○	۰/۵
۳	پایتخت آقا محمدخان قاجار کدام شهر بود؟ الف: تهران ○ ب: شیراز ○ ج: مشهد ○ د: اصفهان ○	۰/۵
۴	وکیل الرعایا یعنی چه و لقب چه کسی بود؟ الف: دوست مردم - لقب امیر کبیر ○ ب: نماینده ی مردم - لقب شاه عباس ○ ج: نماینده ی مردم لقب کریم خان زند ○ د: قاضی - لقب آقا محمد خان ○	۰/۵
۵	دارالفنون را چه کسی تأسیس کرد؟ الف: خواجه نظام الملک ○ ب: آیت الله مدرس ○ ج: ناصرالدین شاه ○ د: امیر کبیر ○	۰/۵
۶	انقلاب مشروطیت در زمان کدام حکومت روی داد؟ الف: پهلوی ○ ب: قاجاریه ○ ج: زندیه ○ د: صفویه ○	۰/۵
۷	پایتخت دولت سامانی چه شهری بود؟ الف: بخارا ○ ب: خوارزم ○ ج: مشهد ○ د: اصفهان ○	۰/۵
۸	امام حسن به تحریک چه کسی به شهادت رسید؟ الف: یزید ○ ب: ابن ملجم ○ ج: معاویه ○ د: عمرو عاص ○	۰/۵

نمره کتبی: نمره شفاهی / عملی: جمع نمره: به عدد..... به حروف..... نام و نام خانوادگی مصحح: امضاء

نمون برگ شماره ۱

۰/۱۵	۲	به نظر شما اگر شیر آب بیپهوده باز بماند این عمل چه نام دارد؟
		الف: صرفه جویی <input type="radio"/> ب: قناعت <input type="radio"/> ج: مصرف به اندازه <input type="radio"/> د: اسراف <input type="radio"/>
۰/۱۵	۳	همکاری و کمک به یکدیگر چه نام دارد؟
		الف: شورا <input type="radio"/> ب: احترام به آسایش دیگران <input type="radio"/> ج: وحدت <input type="radio"/> د: تعاون <input type="radio"/>
۰/۱۵	۱	ب) پاسخ درست را با علامت () مشخص کنید. قوه ی مجریه قوانین را تصویب می کند.
		<input type="radio"/> غلط <input type="radio"/> صحیح
۰/۱۵	۲	جمهوری اسلامی بر پایه ی ایمان به خداست.
		<input type="radio"/> غلط <input type="radio"/> صحیح
۰/۱۵	۳	ایشان نمونه ای از تعاون در جامعه است.
		<input type="radio"/> غلط <input type="radio"/> صحیح
		ج) در جاهای خالی کلمات مناسب قرار دهید.
۱	۱	حکومت ایران در فروردین سال به جمهوری اسلامی تبدیل شد.
۰/۱۵	۲	مسلمانان برای آنکه از نیروی فکری یکدیگر بهره مند شوند با هم می کنند.
۰/۱۵	۳	با گسترش در کشور بی سوادى از میان می رود.
		د) به سوالات زیر پاسخ دهید.
۱	۱	خداوند در قرآن درباره ی وحدت چه می فرماید؟
۱	۲	جمعیت هلال احمر در چه زمینه هایی به مردم کمک می کند؟
۱	۳	بسیج نخستین بار در چه سالی وبه فرمان چه کسی تشکیل شد؟

به امید موفقیت شما عزیزان

باسمه تعالی

سرپرستی مدارس جمهوری اسلامی ایران
در امارات عربی متحده

سوال هماهنگ درس : تاریخ ومدنی

پایه : پنجم
دوره : ابتدایی

سال تحصیلی : ۸۸-۸۹
تاریخ امتحان : ۸ خرداد ماه نوبت صبح
ساعت امتحان :
مدت امتحان : ۷۰ دقیقه
شماره صفحه : ۱

نمون برگ شماره ۱

بارم	سوال	ردیف	نام و نام خانوادگی دانش آموز:	نام پدر:	نام مجتمع:
۰/۵	<p>سوالات تاریخ</p> <p>الف) گزینه ی درست را علامت بزنید:</p> <p>کدامیک از وقایع زیر مبدا تاریخ مسلمانان جهان می باشد.</p> <p>الف: تولد پیامبر ○ ب: هجرت پیامبر از مکه به مدینه ○ ج: بعثت پیامبر ○ د: رحلت پیامبر ○</p>	۱			
۰/۵	<p>در زمان کدام خلیفه مسلمانان ایران را به قلمرو اسلام افزودند؟</p> <p>الف: عثمان ○ ب: ابوبکر ○ ج: معاویه ○ د: عمر ○</p>	۲			
۰/۵	<p>پایتخت آقا محمدخان قاجار کدام شهر بود؟</p> <p>الف: تهران ○ ب: شیراز ○ ج: مشهد ○ د: اصفهان ○</p>	۳			
۰/۵	<p>وکیل الرعایا یعنی چه و لقب چه کسی بود؟</p> <p>الف: دوست مردم - لقب امیر کبیر ○ ب: نماینده ی مردم - لقب شاه عباس ○ ج: نماینده ی مردم لقب کریم خان زند ○ د: قاضی - لقب آقامحمد خان ○</p>	۴			
۰/۵	<p>دارالفنون را چه کسی تأسیس کرد؟</p> <p>الف: خواجه نظام الملک ○ ب: آیت الله مدرس ○ ج: ناصرالدین شاه ○ د: امیر کبیر ○</p>	۵			
۰/۵	<p>انقلاب مشروطیت در زمان کدام حکومت روی داد؟</p> <p>الف: پهلوی ○ ب: قاجاریه ○ ج: زندیه ○ د: صفویه ○</p>	۶			
۰/۵	<p>پایتخت دولت سامانی چه شهری بود؟</p> <p>الف: بخارا ○ ب: خوارزم ○ ج: مشهد ○ د: اصفهان ○</p>	۷			
۰/۵	<p>امام حسن به تحریک چه کسی به شهادت رسید؟</p> <p>الف: یزید ○ ب: ابن ملجم ○ ج: معاویه ○ د: عمروعاص ○</p>	۸			

امضاء

جمع نمره : به عدد به حروف نام و نام خانوادگی مصحح:

نمره شفاهی / عملی : نمره کتبی :

باسمه تعالی

سرپرستی مدارس جمهوری اسلامی ایران
در امارات عربی متحده

سوال هماهنگ درس : تاریخ ومدنی

پایه : پنجم

دوره : ابتدایی

سال تحصیلی : ۸۸-۸۹

تاریخ امتحان : ۸ خرداد ماه نوبت صبح

ساعت امتحان :

مدت امتحان : ۷۰ دقیقه

شماره صفحه : ۱

نمون برگ شماره ۱

ب) پاسخ درست را باعلامت مشخص کنید:

- ۱ بیعت کردن یعنی پیمان بستن باکسی واز دستوراتش پیروی کردن است. صحیح غلط ۰/۵
- ۲ در زمان ظهور اسلام مهمترین شهر عربستان مدینه بود. صحیح غلط ۰/۵
- ۳ معاویه خلاف صلح نامه فرزندش یزید را به جانشینی برگزید. صحیح غلط ۰/۵
- ۴ قیام مردم ایران به رهبری امام خمینی از سال ۱۳۵۸ آغاز شد. صحیح غلط ۰/۵

ج) در جاهای خالی کلمات مناسب بنویسید:

- ۱ ناصرالدین شاه به ضرب گلوله ی کشته شد. ۰/۵
- ۲ ملی شدن صنعت نفت ایران به رهبری و صورت گرفت. ۱
- ۳ پس از اینکه امام خمینی (ره) به رفتند اعلامیه های ایشان سریع تر و بهتر در اختیار مردم قرار گرفت. ۰/۵

د) به سوالات زیر پاسخ دهید.

- ۱ دو دلیل اهمیت مکه قبل از ظهور اسلام چه بود؟ ۱
- ۲ جهاد در راه خدا یعنی چه؟ ۱
- ۳ مظفرالدین شاه وام های خارجی را چگونه خرج می کرد؟ ۱
- ۴ دو ویژگی حکومت استبدادی را بنویسید؟ ۱

سوالات مدنی :

الف) گزینه ی صحیح را مشخص کنید.

- ۱ یکی از مهم ترین نشانه های جامعه ی اسلامی است. ۰/۵
- الف:شورا ب:وحدت ج:ایثار د:اتفاق

نمره کتبی :

نمره شفاهی / عملی :

جمع نمره : به عدد به حروف نام ونام خانوادگی مصحح:

امضاء

باسمه تعالی

سرپرستی مدارس جمهوری اسلامی ایران
در امارات عربی متحده

سوال هماهنگ درس : تاریخ ومدنی

پایه : پنجم

دوره : ابتدایی

سال تحصیلی : ۸۸-۸۹

تاریخ امتحان : ۸ خرداد ماه نوبت صبح

ساعت امتحان :

مدت امتحان : ۷۰ دقیقه

شماره صفحه : ۱

نمون برگ شماره ۱

۲ به نظر شما اگر شیر آب بیهوده باز بماند این عمل چه نام دارد؟

- الف: صرفه جویی ب: قناعت ج: مصرف به اندازه د: اسراف

۳ همکاری و کمک به یکدیگر چه نام دارد؟

- الف: شورا ب: احترام به آسایش دیگران ج: وحدت د: تعاون

۱ (ب) پاسخ درست را با علامت () مشخص کنید.

قوه ی مجریه قوانین را تصویب می کند.

- صحیح غلط

۲ جمهوری اسلامی بر پایه ی ایمان به خداست.

- صحیح غلط

۳ ایثار نمونه ای از تعاون در جامعه است.

- صحیح غلط

(ج) در جاهای خالی کلمات مناسب قرار دهید.

۱ حکومت ایران در فروردین سال به جمهوری اسلامی تبدیل شد.

۲ مسلمانان برای آنکه از نیروی فکری یکدیگر بهره مند شوند با هم می کنند.

۳ با گسترش در کشور بی سوادى از میان می رود.

(د) به سوالات زیر پاسخ دهید.

۱ خداوند در قرآن درباره ی وحدت چه می فرماید؟

۲ جمعیت هلال احمر در چه زمینه هایی به مردم کمک می کند؟

۳ بسیج نخستین بار در چه سالی وبه فرمان چه کسی تشکیل شد؟

به امید موفقیت شما عزیزان

امضاء

جمع نمره : به عدد به حروف نام ونام خانوادگی مصحح:

نمره شفاهی / عملی :

نمره کتبی :

باسمه تعالی

سرپرستی مدارس جمهوری اسلامی ایران
در امارات عربی متحده

سوال هماهنگ درس : تاریخ ومدنی

پایه : پنجم
دوره : ابتدایی

سال تحصیلی : ۸۸-۸۹

تاریخ امتحان : ۸ خرداد ماه نوبت صبح

ساعت امتحان :

مدت امتحان : ۷۰ دقیقه

شماره صفحه : ۱

نمون برگ شماره ۱

نام و نام خانوادگی دانش آموز :

نام پدر :

نام مجتمع :

بارم	سوال	ردیف
	<p>سوالات تاریخ</p> <p><u>الف) گزینه ی درست را علامت بزنید:</u></p> <p>کدامیک از وقایع زیر مبدا تاریخ مسلمانان جهان می باشد.</p>	
۰/۵	<p>الف: تولد پیامبر ○ ب: هجرت پیامبر از مکه به مدینه ○ ج: بعثت پیامبر ○ د: رحلت پیامبر ○</p>	۱
۰/۵	<p>در زمان کدام خلیفه مسلمانان ایران را به قلمرو اسلام افزودند؟</p> <p>الف: عثمان ○ ب: ابوبکر ○ ج: معاویه ○ د: عمر ○</p>	۲
۰/۵	<p>پایتخت آقا محمدخان قاجار کدام شهر بود؟</p> <p>الف: تهران ○ ب: شیراز ○ ج: مشهد ○ د: اصفهان ○</p>	۳
۰/۵	<p>وکیل الرعایا یعنی چه ولقب چه کسی بود؟</p> <p>الف: دوست مردم - لقب امیر کبیر ○ ب: نماینده ی مردم - لقب شاه عباس ○ ج: نماینده ی مردم لقب کریم خان زند ○ د: قاضی - لقب آقامحمد خان ○</p>	۴
۰/۵	<p>دارالفنون را چه کسی تأسیس کرد؟</p> <p>الف: خواجه نظام الملک ○ ب: آیت الله مدرس ○ ج: ناصرالدین شاه ○ د: امیر کبیر ○</p>	۵
۰/۵	<p>انقلاب مشروطیت در زمان کدام حکومت روی داد؟</p> <p>الف: پهلوی ○ ب: قاجاریه ○ ج: زندیه ○ د: صفویه ○</p>	۶
۰/۵	<p>پایتخت دولت سامانی چه شهری بود؟</p> <p>الف: بخارا ○ ب: خوارزم ○ ج: مشهد ○ د: اصفهان ○</p>	۷
۰/۵	<p>امام حسن به تحریک چه کسی به شهادت رسید؟</p> <p>الف: یزید ○ ب: ابن ملجم ○ ج: معاویه ○ د: عمروعاص ○</p>	۸

امضاء

جمع نمره : به عدد..... به حروف..... نام و نام خانوادگی مصحح:

نمره شفاهی / عملی :

نمره کتبی :

باسمه تعالی

سرپرستی مدارس جمهوری اسلامی ایران
در امارات عربی متحده

سوال هماهنگ درس : تاریخ ومدنی

پایه : پنجم

دوره : ابتدایی

سال تحصیلی : ۸۸-۸۹

تاریخ امتحان : ۸ خرداد ماه نوبت صبح

ساعت امتحان :

مدت امتحان : ۷۰ دقیقه

شماره صفحه : ۱

نمون برگ شماره ۱

۰/۵	۲	به نظر شما اگر شیر آب بیهوده باز بماند این عمل چه نام دارد؟
		الف:صرفه جویی <input type="radio"/> ب:قناعت <input type="radio"/> ج:مصرف به انداره <input type="radio"/> د:اسراف <input type="radio"/>
۰/۵	۳	همکاری و کمک به یکدیگر چه نام دارد؟
		الف:شورا <input type="radio"/> ب:احترام به آسایش دیگران <input type="radio"/> ج:وحدت <input type="radio"/> د:تعاون <input type="radio"/>
۰/۵	۱	ب) پاسخ درست را با علامت () مشخص کنید. قوه ی مجریه قوانین را تصویب می کند.
		<input type="radio"/> غلط <input type="radio"/> صحیح
۰/۵	۲	جمهوری اسلامی بر پایه ی ایمان به خداست.
		<input type="radio"/> غلط <input type="radio"/> صحیح
۰/۵	۳	اینار نمونه ای از تعاون در جامعه است.
		<input type="radio"/> غلط <input type="radio"/> صحیح
		ج) در جاهای خالی کلمات مناسب قرار دهید.
۱	۱	حکومت ایران در فروردین سال به جمهوری اسلامی تبدیل شد.
۰/۵	۲	مسلمانان برای آنکه از نیروی فکری یکدیگر بهره مند شوند با هم می کنند.
۰/۵	۳	با گسترش در کشور بی سوادى از میان می رود.
		د) به سوالات زیر پاسخ دهید.
۱	۱	خداوند در قرآن درباره ی وحدت چه می فرماید؟
۱	۲	جمعیت هلال احمر در چه زمینه هایی به مردم کمک می کند؟
۱	۳	بسیج نخستین بار در چه سالی وبه فرمان چه کسی تشکیل شد؟

به امید موفقیت شما عزیزان

امضاء

جمع نمره : به عدد..... به حروف..... نام ونام خانوادگی مصحح:

نمره شفاهی / عملی :

نمره کتبی :

باسمه تعالی

سرپرستی مدارس جمهوری اسلامی ایران
در امارات عربی متحده

سوال هماهنگ درس: تاریخ ومدنی

پایه: پنجم

دوره: ابتدایی

سال تحصیلی: ۸۸-۸۹

تاریخ امتحان: ۸ خرداد ماه نوبت صبح

ساعت امتحان:

مدت امتحان: ۷۰ دقیقه

شماره صفحه: ۱

نمون برگ شماره ۱

ب) پاسخ درست را با علامت مشخص کنید:

- ۱ بیعت کردن یعنی پیمان بستن با کسی و از دستوراتش پیروی کردن است. صحیح غلط ۰/۵
- ۲ در زمان ظهور اسلام مهمترین شهر عربستان مدینه بود. صحیح غلط ۰/۵
- ۳ معاویه خلاف صلح نامه فرزندش یزید را به جانشینی برگزید. صحیح غلط ۰/۵
- ۴ قیام مردم ایران به رهبری امام خمینی از سال ۱۳۵۸ آغاز شد. صحیح غلط ۰/۵

ج) در جاهای خالی کلمات مناسب بنویسید:

- ۱ ناصرالدین شاه به ضرب گلوله ی کشته شد. ۰/۵
- ۲ ملی شدن صنعت نفت ایران به رهبری و صورت گرفت. ۱
- ۳ پس از اینکه امام خمینی (ره) به رفتند اعلامیه های ایشان سریع تر و بهتر در اختیار مردم قرار گرفت. ۰/۵

د) به سوالات زیر پاسخ دهید.

- ۱ دو دلیل اهمیت مکه قبل از ظهور اسلام چه بود؟ ۱
- ۲ جهاد در راه خدا یعنی چه؟ ۱
- ۳ مظفرالدین شاه وام های خارجی را چگونه خرج می کرد؟ ۱
- ۴ دو ویژگی حکومت استبدادی را بنویسید؟ ۱

سوالات مدنی:

الف) گزینه ی صحیح را مشخص کنید.

- ۱ یکی از مهم ترین نشانه های جامعه ی اسلامی است. ۰/۵
- الف: شورا ب: وحدت ج: ایثار د: انفاق