

الف: پاسخ صحیح را با علامت \times مشخص کنید. (هر مورد ۰/۵ نمره)

۱- دو خط که دارای فاصله های مساوی باشند دو خط می گویند.

الف) متقاطع ب) عمود برهم ج) موازی د) مساوی

۲- عدد سی و چهار میلیون و دویست و چهار کدام است؟

الف) 34000240 ب) 3400024 ج) 34002004 د) 34000204

۳- تقسیم (\bigcirc) $(30 \div 6 = \bigcirc)$ نظیر کدام یک از ضرب های زیر است.

الف) $30 = 5 \times \bigcirc$ ب) $30 = 6 \times \bigcirc$ ج) $30 \times 5 = \bigcirc$ د) $30 \times 6 = \bigcirc$

۴- در کدام یک از چهار ضلعی های زیر قطر ها بر هم عمودند؟

الف) متوازی الاضلاع ب) لوزی ج) مستطیل د) ذوزنقه

۵- کدام یک از عددهای زیر بر ۲ و ۳ و ۵ بخش پذیر است؟

الف) 450 ب) 835 ج) 730 د) 846

۶- کدام یک از چهار ضلعی های زیر متوازی الاضلاعی است که زاویه های آن قائمه (راست) است

الف) مربع ب) مستطیل ج) لوزی د) ذوزنقه

ب: جاهای خالی را با کلمات مناسب کامل کنید. (هر مورد ۰/۵ نمره)

۱- گنجایش یک لیوان $\frac{1}{6}$ گنجایش پارچ است. این پارچ با لیوان آب پر می شود.

۲- واحد اندازه گیری مایعات است.

۳- خط تقارن یک زاویه آن زاویه نامیده می شود.

۴- در تقسیم همیشه باقی مانده از کوچکتر است.

۵- دو خط که زاویه بین آنها راست باشد دو خط نامیده می شود.


۶- مساحت مربعی به ضلع ۱ سانتی متر برابر با است.

ص	غ

- ج: جمله های صحیح یا غلط را با علامت × مشخص کنید. (هر مورد ۰/۲۵ نمره)
- ۱- در لوزی قطر ها عمود منصف یکدیگرند.
 - ۲- عددی که هم بر ۲ و هم بر ۵ بخش پذیر باشد بر ۱۰ هم بخش پذیر است.
 - ۳- محیط مربع برابر است با اندازه ی یک ضلع × خودش.
 - ۴- مثلث متساوی الاضلاع فقط یک خط تقارن دارد.

د: به سوالات زیر پاسخ دهید.

۱- برای شکل زیر یک تفریق کسری بنویسید و حاصل را تا جایی که ممکن است ساده کنید



(۱ نمره)

۲- برای عبارت زیر یک مساله بنویسید و سپس آن را حل کنید.

(۱ نمره)

$$\frac{9}{15} - \frac{2}{5} =$$

۳- کسره های مساوی $\frac{3}{4} = \frac{9}{12}$ را روی شکل نشان دهید. (۱ نمره)

۴- زمینی به شکل مستطیل به طول ۱۲ متر و عرض ۸ متر را می خواهیم ۳ دورسیم خاردار بکشیم

چند متر سیم خاردار لازم داریم. (۱ نمره)

۵- زمینی به شکل متوازی الاضلاع است طبق شکل می خواهیم خانه ای در آن بسازیم. خانه درون

مربع درست شده است و قسمت هاشور خورده را چمن کاشته ایم. مساحت قسمت هاشور خورده

۱۵ اس ۱۰ اس






چند متر است؟ (۱/۵ نمره)

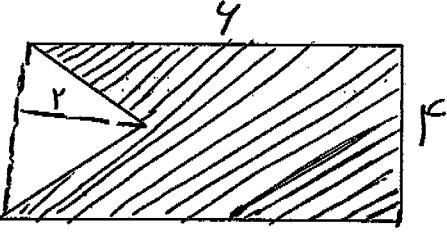
باسمه تعالی
 مجتمع آموزشی خدیجه کبری (س)
 سال تحصیلی ۸۹ - ۸۸
 نام درس: ریاضی
 مقطع تحصیلی: ابتدایی

نوبت امتحان: فرار
 مدت امتحان: ۴۰ دقیقه

نام و نام خانوادگی:
 پایه تحصیلی: چهارم

بارم	سوال	ردیف
۲	دخترم با دقت به رقم و حروف بنویس. ۳۵۴۲۰۰۹۱ ۸۴۹۰۶۷۰۰۲۷ هفتاد و شش هزار و نهصد و پنجاه و چهار پنج میلیون و دویست و دو هزار و صد و سی و شش	۱
۱/۵	جاهای خالی را با کلمات مناسب پر کنید. به نیم خطی که زاویه را به دو قسمت مساوی تقسیم می کند می گویند. هر مثلثی که یکی از زاویه های آن قائمه باشد نامیده می شود. هر چهار ضلعی که <u>فصل</u> رو ضلع موازی داشته باشد نام دارد.	۲
۲	دختر گلم با دقت ضرب ها را حل کن. $\begin{array}{r} ۲۳۴۲ \\ \times ۵۹۴ \\ \hline \end{array}$ $\begin{array}{r} ۱۲۵۵۴ \\ \times ۸۹۲ \\ \hline \end{array}$	۳
۱	نرگس ۶ بسته ی ۱۲ تایی مداد رنگی را به طور مساوی بین ۸ نفر از دوستانش تقسیم کرد به هر نفر چند مداد رنگی رسید؟	۴
۰/۵	محیط مستطیل روبرو را حساب کنید. 	۵
۱	علامت < = > بگذار. $۳۹۰۱۲ \square ۹۳۰۱۲$ $\frac{۱}{۵} \square \frac{۴}{۵}$ $\frac{۲}{۷} \square \frac{۳}{۱۴}$ $\frac{۳}{۱۱} \square \frac{۹}{۳۳}$	۶

۱/۵	<p>دخترم تقسیم روبرو را انجام بده.</p> $\begin{array}{r} 443 \\ 7 \end{array}$ <p>خارج قسمت:</p> <p>مقسوم علیه:</p> <p>مقسوم:</p> <p>باقیمانده:</p>	۷
۲	<p>استخری داریم به شکل متوازی الاضلاع که قاعده آن ۱۴ متر و ارتفاع آن ۷ متر است. مساحت این استخر را حساب کنید؟ با شکل نشان بده</p>	۸
۲	<p>حاصل عبارت های زیر را به دست آورید و تا حد امکان ساده کنید.</p> $\frac{4}{15} + \frac{2}{5} =$ $\frac{9}{14} - \frac{2}{7} =$	۹
۰/۵	<p>کدام یک از عددهای زیر بر ۲ و هم بر ۵ بخش پذیر است؟</p> <p>۳۷۱۰، ۶۲۸۵، ۵۹۰، ۸۷۳۶</p>	۱۰
۰/۵	<p>دو تفاوت متوازی الاضلاع و مستطیل را بنویس.</p> <div style="display: flex; justify-content: space-around; align-items: center;"> <div style="text-align: center;">  </div> <div style="text-align: center;"> <p>.....-۱</p> </div> </div> <div style="display: flex; justify-content: space-around; align-items: center; margin-top: 20px;"> <div style="text-align: center;">  </div> <div style="text-align: center;"> <p>.....-۲</p> </div> </div>	۱۱

۰/۷۵	<p>مساحت قسمت رنگ شده را حساب کن.</p> 	۱۲
۲	<p>تقسیم های زیر را انجام بده.</p> $9873 \overline{) 65}$ $4800 \overline{) 75}$	۱۳
۱	<p>از تولید یک مرغداری باید به بوشهر حمل شود. $\frac{4}{9}$ از تولید یک مرغداری قبلاً حمل شده است.</p> <p>چه کسر دیگری از تولید این مرغداری باید به بوشهر حمل شود؟</p>	۱۴
۱	<p>دختر نازنینم، جمع و تفریق زیر را انجام بده.</p> $\begin{array}{r} -75431 \\ 61295 \\ \hline \end{array}$ $\begin{array}{r} +25346 \\ 54892 \\ \hline \end{array}$	۱۵
۰/۷۵	<p>دختر عزیزم این عدد را در جدول ارزش مکانی قرار بده.</p> <p>۳۳۳۵۶۷۲۲۴۱</p>	۱۶

با اسمہ تعالیٰ

مدت آزمون : ۹۰ دقیقه

سرپرستی مدارس جمهوری اسلامی ایران در امارات عربی متحده

آزمون درس : ریاضی

تاریخ : ۸۹/۳/۳

000022

مجتمع آموزشی امام خمینی (ره) ابوظبی

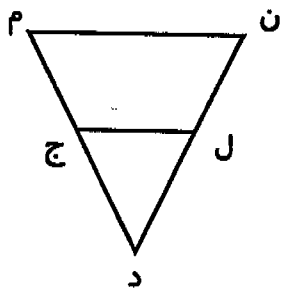

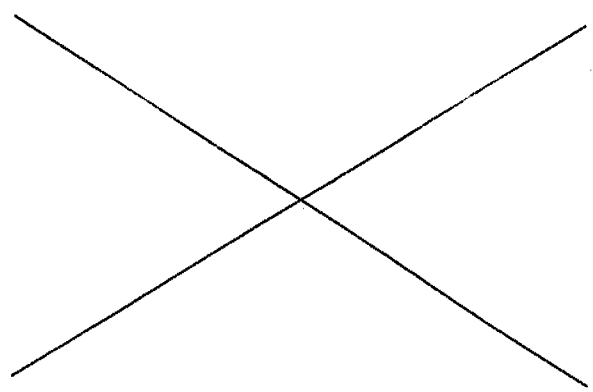
پایه : چهارم

شماره صفحه : ۱

خرداد سال تحصیلی ۸۹ - ۸۸

نام و نام خانوادگی:

بارم	سوالات	ردیف
	دستور کار الف - پاسخ درست را با علامت x مشخص کنید.	
۱	<p>۱- یک پاره خط چند نقطه وسط دارد؟ <input type="radio"/> الف) ۲ تا <input type="radio"/> ب) ۵ تا <input type="radio"/> ج) یکی <input type="radio"/> د) ۳ تا</p> <p>۲- در کدام یک از شکل های زیر قطرها بر هم عمودند؟ <input type="radio"/> الف) متوازی الاضلاع <input type="radio"/> ب) مثلث <input type="radio"/> ج) مستطیل <input type="radio"/> د) لوزی</p> <p>۳- کدام یک از اعداد زیر هم بر ۲ و هم بر ۳ بخشپذیر می باشد؟ <input type="radio"/> الف) ۴۸۰ <input type="radio"/> ب) ۳۰۹ <input type="radio"/> ج) ۲۵۵ <input type="radio"/> د) ۳۲۶</p> <p>۴- کدام یک از اعداد زیر عدد « نهصد و ده میلیون و نود هزار و نوزده » را نشان می دهد؟ <input type="radio"/> الف) ۹۱۰۹۰۰۱۰۹ <input type="radio"/> ب) ۹۱۰۹۰۰۰۱۹ <input type="radio"/> ج) ۹۰۱۰۹۰۱۰۹ <input type="radio"/> د) ۹۱۰۰۹۰۰۱۹</p>	
	دستور کار ب: در جاهای خالی کلمات مناسب بنویسید.	
۱	<p>۱- ضلع روبه رو به زاویه ی قائمه در مثلث قائم الزاویه ----- نام دارد.</p> <p>۲- لوزی که زاویه هایش قائمه باشد ----- نام دارد.</p> <p>۳- مساحت هر مربع به ضلع یک سانتی متر ----- است.</p> <p>۴- واحد اندازه گیری روغن مایع ----- است.</p>	
	دستور کار ج: به سوالات زیر پاسخ دهید.	
۱	<p>۱- با توجه به عدد مقابل به سوالات زیر پاسخ دهید. ۲۷۵۹۰۰۳۶</p> <p>الف- عدد را با حروف بنویسید. _____</p> <p>ب- کدام رقم بیشترین ارزش مکانی را دارد؟ _____</p>	
۱	<p>۲- در جاهای خالی عدد مناسب بنویسید.</p> <p>$(39 \times 4) \times 10 = 39 \times \text{-----}$</p> <p>$(5 \times 9) \times \text{-----} = \text{-----} \times (9 \times 4)$</p> <p>$170 \times \text{-----} = 170 \dots$</p>	

<p>۱/۵</p>	<p>۳- با توجه به شکل به پرسش ها پاسخ دهید. الف) یک زاویه باز نام ببرید. ب) در چهار ضلعی (م ن ل ج) ارتفاع نظیر ضلع (ن م) را بکشید. ج) دو ضلع (ل ج) و (ن م) نسبت به هم چه حالتی دارند؟</p> 	<p>-۳</p>
<p>۰/۷۵</p>	<p>۴- در جاهای خالی علامت < = > بگذارید.</p> <p>$\frac{۲}{۳} \bigcirc \frac{۲}{۶}$ $\frac{۵}{۷} \bigcirc \frac{۱۰}{۱۴}$ $\frac{۰}{۶} \bigcirc \frac{۱}{۲}$</p>	<p>-۴</p>
<p>۱</p>	<p>۵- عبارت زیر را کامل کنید و شکل مربوط به آن را بکشید.</p> <p>$۲ \times (۳ + ۴) = \text{-----}$</p>	<p>-۵</p>
<p>۰/۷۵</p>	<p>۶- در <input type="text"/> عدد مناسب بنویسید.</p> <p>$\frac{۳۵}{۴۹} = \frac{\text{input}}{۷}$ $۱ = \frac{\text{input}}{۹}$ $\frac{۳}{۴} = \frac{۱۸}{\text{input}}$</p>	<p>-۶</p>
<p>۰/۵</p>	<p>۷- برای شکل مقابل دو کسر مساوی بنویسید.</p>  <p>_____ = _____</p>	<p>-۷</p>
<p>۱</p>	<p>۸- به کمک دو خط متقاطع زیر متوازی الاضلاعی رسم کنید که طول قطرهای آن ۴ سانتی متر باشد. نام دیگر شکل چیست؟</p> 	<p>-۸</p>

۹- با توجه به عبارت درستی تقسیم، در جاهای خالی عدد مناسب بنویسید.

$$(37 \times 14) + 3 = \boxed{}$$

مقسوم علیه $\boxed{}$


$$3 < 14$$

باقی مانده $\boxed{}$

خارج قسمت $\boxed{}$

۱۰- با توجه به شکل، جمع بنویسید و سپس آنرا حل کنید.

۰/۵



$$\text{---} + \text{---} = \text{---}$$


۱۱- کسر زیر را تا جایی که ممکن است ساده کنید.

۰/۵

$$\frac{40}{120} =$$

۱۲- خط تقارن شکل های زیر را رسم کنید.

۰/۵



دستور کار د: مسئله های زیر را حل کنید.

۱- علی با یک مفتول سیمی به طول ۹۲ سانتی متر یک مربع درست کرد. مساحت این مربع چند سانتیمتر مربع است؟

۱

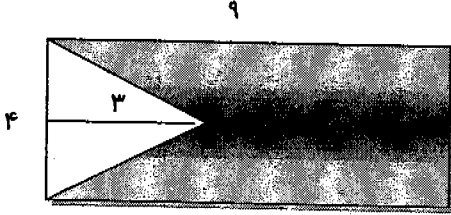
۲- رضا ۷۳۰ تومان دارد. او ۱۵۲ تومان بیشتر از محمد دارد.
الف- محمد چند تومان دارد؟

۱

ب- آنها روی هم چند تومان دارند؟

۳- ۳۲ کیسه ی ۲۰ کیلویی آرد را به طور مساوی بین ۸ ناوایی قسمت کردیم.
به هر کدام چند کیلوگرم آرد می رسد؟

۱

۱	<p>۴- مینا هفته گذشته $\frac{1}{3}$ از کتابش را خوانده است. و در این هفته $\frac{6}{12}$ از آنرا خوانده است. الف- او چه کسری از کتابش را خوانده است؟ ب- او چه کسری از کتابش را هنوز نخوانده است؟</p>	-۴
۱/۵	<p>۵- مغازه داری ۶۷ کیلو عدس را کیلویی ۷۳۰ تومان و ۳۴ کیلو روغن را کیلویی ۲۰۵ تومان فروخت. او چند تومان دریافت کرده است؟</p>	-۵
۱	<p>۶- باغداری ۳۶۷۲ کیلوگرم محصول سیب خود را در جعبه های ۳۶ کیلوگرمی بسته بندی کرده است. او چند جعبه سیب درست کرده است؟</p>	-۶
۱/۵	<p>۷- مساحت قسمت رنگ شده را حساب کنید.</p> 	-۷

موفق باشید

با سمة تعالی

آزمون درس : ریاضی

سرپرستی مدارس جمهوری اسلامی ایران در امارات عربی متحده

مدت آزمون : ۹۰ دقیقه

پایه : چهارم

مجتمع آموزشی امام خمینی (ره) ابوظبی

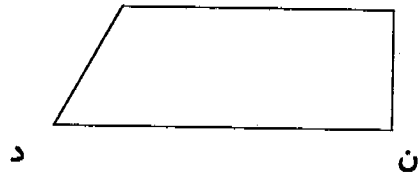


تاریخ: ۸۹/۶/۱۷

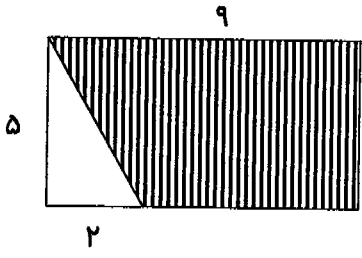
نام و نام خانوادگی:

شهریور سال تحصیلی ۸۹ - ۸۸

شماره صفحه : ۱

ردیف	سوالات
۱-۱	با توجه به عدد مقابل به سوالات زیر پاسخ دهید. الف- عدد را با حروف بنویسید. ب- ارزش مکانی رقم ۹ چیست؟
۰/۵	۲۵۷۹۰۰۱۴۶
۲-۲	کدام یک از شکل های زیر قطرهایش خط تقارن شکل می باشند؟ الف- لوزی <input type="radio"/> ب- متوازی الاضلاع <input type="radio"/> ج- ذوزنقه <input type="radio"/> د- مثلث <input type="radio"/>
۳-۳	دور اعدادی که بر ۵ بخش پذیرند خط بکشید. ۲۱۴ ۱۰۵ ۹۲ ۸۵ ۶۷
۴-۴	در جاهای خالی کلمات مناسب بنویسید. الف- ضلع رو به رو به زاویه ی قائمه در مثلث قائم الزاویه نام دارد. ب- به لوزی که زاویه هایش قائمه باشد می گویند. ج- واحد اندازه گیری روغن مایع نام دارد. د- مساحت هر مربع به ضلع ۱ متر ، است. ه- خطی که پاره خط را نصف کند و بر آن عمود شود نام دارد.
۵-۵	در جاهای خالی عدد مناسب بنویسید. $\frac{24}{40} = \frac{\square}{5}$ $\frac{7}{9} = \frac{42}{\square}$ $\frac{\square}{7} = 1$
۶-۶	در جاهای خالی < = > بگذارید. $\frac{2}{3} \bigcirc \frac{2}{5}$ $\frac{5}{6} \bigcirc \frac{1}{1}$ $\frac{9}{12} \bigcirc \frac{3}{4}$
۷-۷	۷۵ مداد را به ۵ دسته ی مساوی تقسیم کردیم، هر دسته ده تایی و یکی می شود.
۸-۸	در جاهای خالی عدد مناسب بنویسید. $5 \times (13 \times 9) = (5 \times \dots) \times 9$ $317 - (98 + 205) = 317 - \dots$ $170 \times 400 = \dots \times 1000$
۰/۷۵	

۱	<p>عبارت زیر را کامل کنید و شکل آن را بکشید.</p> $4 \times (3 + 5) =$	-۹
۱	<p>با توجه به عبارت های درستی تقسیم در جاهای خالی عدد مناسب بنویسید.</p> $(37 \times 25) + 8 = 933$ $8 < 25$ <p>مقسوم مقسوم علیه باقیمانده خارج قسمت</p>	-۱۰
۱/۵	<p>با توجه به شکل به پرسش های زیر پاسخ دهید.</p>  <p>الف- یک زاویه باز نام ببرید. ب- دو خط عمود بر هم نام ببرید..... ج- ارتفاع نظیر (ن د) را رسم کنید.</p>	-۱۱
۱	<p>برای شکل زیر دو کسر مساوی بنویسید.</p>  <p>_____ = _____</p>	-۱۲
۰/۵	<p>کسر زیر را تا جایی که امکان دارد ساده کنید.</p> $\frac{35}{70} =$	-۱۳
۱	<p>به کمک زاویه زیر متوازی الاضلاعی رسم کنید . به ضلع های ۳ و ۴ سانتیمتر . نام شکل چیست؟</p> 	-۱۴
۱	<p>مریم ۳۹۵ تومان دارد او ۷۴ تومان کمتر از فاطمه دارد. فاطمه چقدر پول دارد؟ - آن دو روی هم چقدر پول دارند؟</p>	-۱۵

<p>۱/۵</p>	<p>۱۶- علی با یک مفتول سیمی به طول ۸۴ سانتیمتر یک مربع درست کرده است. الف) اندازه ضلع مربع چند سانتیمتر است؟ ب) مساحت مربع را به دست آورید.</p>	<p>-۱۶</p>
<p>۱/۵</p>	<p>۱۷- مغازه داری ۶۷ کیلو برنج را کیلویی ۸۹۰ تومان و ۳۴ کیلو روغن را کیلویی ۲۱۵ تومان فروخت. او چند تومان دریافت کرده است؟</p>	<p>-۱۷</p>
<p>۱</p>	<p>۱۸- اکبر ۱۹ سال دارد. سن مادر اکبر از ۳ برابر سن او ۶ سال کمتر است. مادر اکبر چند سال دارد؟</p>	<p>-۱۸</p>
<p>۱/۵</p>	<p>۱۹- مساحت قسمت رنگ شده را حساب کنید.</p> 	<p>-۱۹</p>
<p>۱/۵</p>	<p>۲۰- محسن هفته گذشته $\frac{1}{3}$ از کتابش را خوانده است و در این هفته $\frac{4}{9}$ از آن را خوانده است او چه کسری از کتاب را هنوز نخوانده است؟</p>	<p>-۲۰</p>

باسمه تعالی

آزمون درس : ریاضی

سرپرستی مدارس جمهوری اسلامی ایران در امارات عربی متحده

پایه : چهارم

مجتمع آموزشی امام خمینی (ره) ابوظبی

نام و نام خانوادگی:

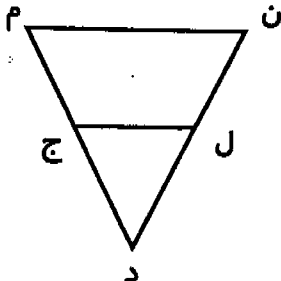

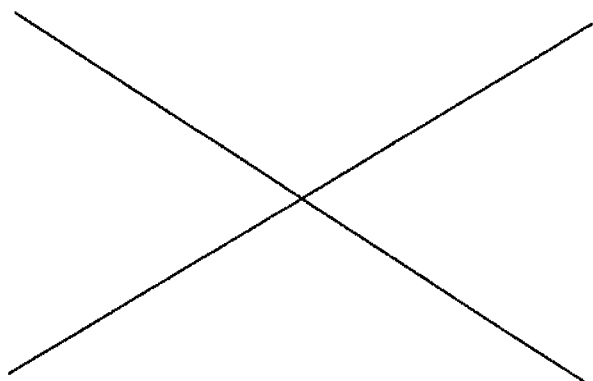
خرداد سال تحصیلی ۸۹ - ۸۸

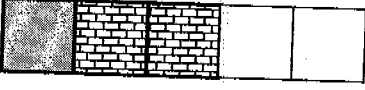
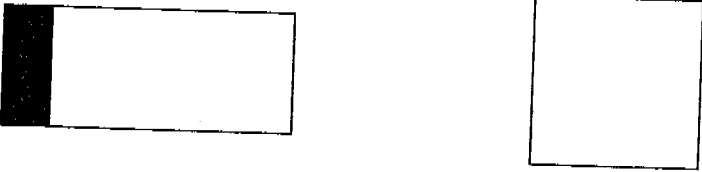
مدت آزمون : ۹۰ دقیقه

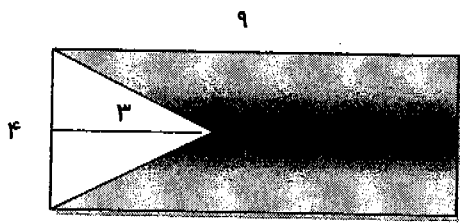
تاریخ : ۸۹/۳/۳

شماره صفحه : ۱

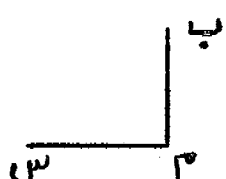

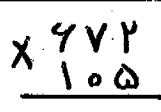
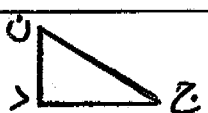

بارم	سوالات	ردیف
	دستور کار الف - پاسخ درست را با علامت x مشخص کنید.	
۱	<p>۱- یک پاره خط چند نقطه وسط دارد؟ الف) ۲ تا <input type="radio"/> ب) ۵ تا <input type="radio"/> ج) یکی <input type="radio"/> د) ۳ تا <input type="radio"/></p> <p>۲- در کدام یک از شکل های زیر قطرها بر هم عمودند؟ الف) متوازی الاضلاع <input type="radio"/> ب) مثلث <input type="radio"/> ج) مستطیل <input type="radio"/> د) لوزی <input type="radio"/></p> <p>۳- کدام یک از اعداد زیر هم بر ۲ و هم بر ۳ بخشپذیر می باشد؟ الف) ۴۸۰ <input type="radio"/> ب) ۳۰۹ <input type="radio"/> ج) ۲۵۵ <input type="radio"/> د) ۳۲۶ <input type="radio"/></p> <p>۴- کدام یک از اعداد زیر عدد « نهصد و ده میلیون و نود هزار و نوزده » را نشان می دهد؟ الف) ۹۱۰۹۰۰۱۰۹ <input type="radio"/> ب) ۹۱۰۹۰۰۰۱۹ <input type="radio"/> ج) ۹۰۱۰۹۰۱۰۹ <input type="radio"/> د) ۹۱۰۰۹۰۰۱۹ <input type="radio"/></p>	
	دستور کار ب: در جاهای خالی کلمات مناسب بنویسید.	
۱	<p>۱- ضلع روبه رو به زاویه ی قائمه در مثلث قائم الزاویه ----- نام دارد.</p> <p>۲- لوزی که زاویه هایش قائمه باشد ----- نام دارد.</p> <p>۳- مساحت هر مربع به ضلع یک سانتی متر ----- است.</p> <p>۴- واحد اندازه گیری روغن مایع ----- است.</p>	
	دستور کار ج: به سوالات زیر پاسخ دهید.	
۱	<p>۱- با توجه به عدد مقابل به سوالات زیر پاسخ دهید. ۲۷۵۹۰۰۳۶ الف- عدد را با حروف بنویسید. ب- کدام رقم بیشترین ارزش مکانی را دارد؟</p>	
۱	<p>۲- در جاهای خالی عدد مناسب بنویسید.</p> <p>$(39 \times 4) \times 10 = 39 \times \text{-----}$</p> <p>$(5 \times 9) \times \text{-----} = \text{-----} \times (9 \times 4)$</p> <p>$170 \times \text{-----} = 170 \dots$</p>	


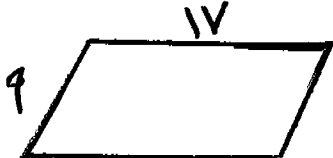
<p>۱/۵</p>	 <p>۳- با توجه به شکل به پرسش ها پاسخ دهید. الف) یک زاویه باز نام ببرید. ب) در چهار ضلعی (م ن ل ج) ارتفاع نظیر ضلع (ن م) را بکشید. ج) دو ضلع (ل ج) و (ن م) نسبت به هم چه حالتی دارند؟</p>	<p>-۳</p>
<p>۰/۷۵</p>	<p>۴- در جاهای خالی علامت < = > بگذارید.</p> <p>$\frac{2}{3} \bigcirc \frac{2}{6}$ $\frac{5}{7} \bigcirc \frac{10}{14}$ $\frac{0}{6} \bigcirc \frac{1}{2}$</p>	<p>-۴</p>
<p>۱</p>	<p>۵- عبارت زیر را کامل کنید و شکل مربوط به آن را بکشید.</p> <p>$2 \times (3 + 4) = \text{-----}$</p>	<p>-۵</p>
<p>۰/۷۵</p>	<p>۶- در <input type="text"/> عدد مناسب بنویسید.</p> <p>$\frac{35}{49} = \frac{\text{input}}{7}$ $1 = \frac{\text{input}}{9}$ $\frac{3}{4} = \frac{18}{\text{input}}$</p>	<p>-۶</p>
<p>۰/۵</p>	<p>۷- برای شکل مقابل دو کسر مساوی بنویسید.</p> <p></p> <p>_____ = _____</p>	<p>-۷</p>
<p>۱</p>	<p>۸- به کمک دو خط متقاطع زیر متوازی الاضلاعی رسم کنید که طول قطرهای آن ۴ سانتی متر باشد.</p> <p>نام دیگر شکل چیست؟</p> 	<p>-۸</p>

۱	<p>با توجه به عبارت درستی تقسیم، در جاهای خالی عدد مناسب بنویسید.</p> <p>$(37 \times 14) + 3 = \square$ \square مقسوم علیه</p> <p>$3 < 14$ \square باقی مانده \square خارج قسمت</p>	۹-
۰/۵	<p>با توجه به شکل، جمع بنویسید و سپس آنرا حل کنید.</p>  <p style="text-align: center;">_____ + _____ = _____</p>	۱۰-
۰/۵	<p>کسر زیر را تا جایی که ممکن است ساده کنید.</p> $\frac{40}{120} =$	۱۱-
۰/۵	<p>خط تقارن شکل های زیر را رسم کنید.</p> 	۱۲-
دستور کار د: مسئله های زیر را حل کنید.		
۱	<p>۱- علی با یک مفتول سیمی به طول <u>۹۲</u> سانتی متر یک مربع درست کرد. مساحت این مربع چند سانتیمتر مربع است؟</p>	۱-
۱	<p>۲- رضا <u>۷۳۰</u> تومان دارد. او <u>۱۵۲</u> تومان بیشتر از محمد دارد.</p> <p>الف- محمد چند تومان دارد؟</p> <p>ب- آنها روی هم چند تومان دارند؟</p>	۲-
۱	<p>۳- <u>۳۲</u> کیسه ی <u>۲۰</u> کیلویی آرد را به طور مساوی بین <u>۸</u> نانوايي قسمت کردیم.</p> <p>به هر کدام چند کیلوگرم آرد می رسد؟</p>	۳-

۱	<p>۴- مینا هفته گذشته $\frac{1}{3}$ از کتابش را خوانده است. و در این هفته $\frac{6}{12}$ از آنرا خوانده است. الف- او چه کسری از کتابش را خوانده است؟ ب- او چه کسری از کتابش را هنوز نخوانده است؟</p>	-۴
۱/۵	<p>۵- مغازه داری ۶۷ کیلو عدس را کیلویی ۷۳۰ تومان و ۳۴ کیلو روغن را کیلویی ۲۰۵ تومان فروخت. او چند تومان دریافت کرده است؟</p>	-۵
۱	<p>۶- باغداری ۳۶۷۲ کیلوگرم محصول سیب خود را در جعبه های ۳۶ کیلوگرمی بسته بندی کرده است. او چند جعبه سیب درست کرده است؟</p>	-۶
۱/۵	<p>۷- مساحت قسمت رنگ شده را حساب کنید.</p> 	-۷

موفق باشید

بارم	شرح سؤال	ردیف
۱,۵	عدد مقابل را به حروف بنویسید ۵۷۴۲۶۹۳ - این عدد چند رقمی است؟ رقم ۹ در چه مرتبه ای قرار دارد؟	۱
۰/۵	به زاویه ای که از زاویه ی راست بزرگ تر باشد زاویه ی می گوئیم .	۲
۱	نیمساز زاویه ی (ب م س) را رسم کنید. 	۳
۱	محصول خرماي یک نخل در چهارم ۳۰۰ کیلو گرم است . قیمت محصول خرماي این درخت از قرار کیلویی ۱۳۶۵ تومان چه قدر می شود؟	۴
۰/۵	عمود منصف پاره خط (م د) را رسم کنید. 	۵
۱	در مدرسه شارجه برای توزیع شیر این تعداد دانش آموز کمک کرده اند . یک شنبه : ۳ نفر سه شنبه : ۵ نفر پنج شنبه : ۴ نفر شما این اطلاعات را به صورت نمودار ستونی نمایش دهید .	۶
۱/۵	ضربهای زیر را حل کنید . $90 \times 100 =$ 	۷
۱	مثلث (ج د ن) چه نوع مثلثی است ؟ در این مثلث وتر را مشخص کنید . 	۸
۲/۲۵	تقسیم ها را انجام دهید و برای یکی از آن ها عبارتهای درستی بنویسید . 	۹

۱	۱۰	می خواهیم در یک اردوگاه برای ۸۹۶ دانش آموز چادر بزنیم. چند چادر ۸ نفره نیاز داریم ؟
۱	۱۱	خط تقارن شکل ها را رسم کنید. 
۲	۱۲	واحد اندازه گیری مایعات نام دارد. در هر متوازی الاضلاع هر قطر از قطر دیگر می گذرد. در هر مستطیل اضلاع روبه روبه با هم و هستند.
۰/۵	۱۳	یک لوزی رسم کنید که طول هر ضلع آن ۲ سانتی متر باشد.
۱	۱۴	دور اعدادی که هم بر ۲ و هم بر ۵ بخشید یزند خط بکشید. ۵۰ - ۷۷۷ - ۲۳۴۰ - ۸۹ - ۱۲ - ۳۰۰۰ - ۲۰ - ۵۵۴
۱	۱۵	محیط متوازی الاضلاع را حساب کنید. 
۱	۱۶	باغچه ای به شکل مثلث داریم که ارتفاع آن ۳ و قاعده اش ۴ متر است. مساحت این باغچه را حساب کنید.
۱	۱۷	علامت < = > قرار دهید. $\frac{۴}{۴} \bigcirc \frac{۶}{۶}$ $\frac{۳}{۵} \bigcirc \frac{۲}{۱۵}$ $\frac{۲}{۸} \bigcirc \frac{۳}{۸}$
۱/۲۵	۱۸	جمع و تفریق را حل کنید و در صورت امکان جواب ها را ساده کنید. $\frac{۲}{۷} + \frac{۴}{۷} =$ $\frac{۳}{۴} - \frac{۱}{۱۲} =$

موفق باشید.

الف) این عدد را به رقم بنویسید. پنج میلیارد و چهارصد و دو میلیون و سی و چهار هزار و پانزده

۱/۵

ب) رقم دهگان هزار آن را بنویسید. _____

ج) ارزش مکانی کدام عدد بیش تر است؟ _____

$$\begin{array}{r} 746 \\ \times 125 \\ \hline \end{array}$$

$$6943$$

$$33$$

ضرب و تقسیم زیر را انجام دهید.

۲

در متوازی الاضلاعی طول یک ضلع ۱۲ سانتی متر و ارتفاع آن ۵ سانتی متر است. مساحت آن را حساب کنید.

۱

برای شکل رو به رو دو کسر مساوی بنویسید.



$$\underline{\quad} = \underline{\quad}$$

۱

علی در هفته ی اول $\frac{1}{10}$ کتاب خود را خواند. در هفته ی دوم $\frac{2}{15}$ آن را خواند. او چه کسری از کتاب خود را خوانده است؟

۱

$$3 \times (2 + 4) =$$

برای عبارت زیر شکل بکشید و آن را کامل کنید.

۱/۵

می خواهیم ۱۷۶ خودکار را بین ۲۲ دانش آموز تقسیم کنیم به هر دانش آموز چند خودکار می رسد؟

۱

با سیمی به طول ۶۴ سانتی متر یک مربع ساخته ایم، اندازه ی هر ضلع مربع چقدر است؟

۱

۱۱

مجتمع آموزشی نمونه توحید دختران

سال تحصیلی ۸۹-۸۸



نام و نام خانوادگی:

کلاس: چهارم ابتدایی

نام درس: ریاضی

نمره با عدد:

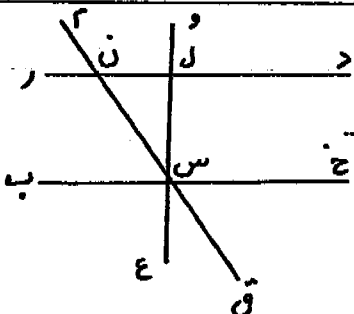
نمره با حروف:

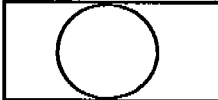
امضاء آموزگار:

نام آموزگار:

صفحه: ۱

ردیف	الف) گزینه صحیح را با علامت \bigcirc مشخص کنید.	بهرم
		هرمورد ۲۵/۰
۱-	متوازی الاضلاعی که چهار ضلع هم اندازه داشته باشند چه نام دارد؟ الف - ذوزنقه \bigcirc ب - مستطیل \bigcirc ج - لوزی \bigcirc د - مربع \bigcirc	
۲-	کدامیک از اعداد زیر هم بر ۲ و هم بر ۵ و هم بر ۳ بخشپذیر است؟ الف - ۸۰۷ \bigcirc ب - ۵۴۰ \bigcirc ج - ۱۸۵ \bigcirc د - ۲۱۶ \bigcirc	
۳-	زمینی را به ۷ قسمت مساوی تقسیم کرده و تمام آن را درخت میوه کاشته ایم چه کسری از زمین زیر کشت درخت میوه است؟ الف - $\frac{2}{7}$ \bigcirc ب - $\frac{6}{7}$ \bigcirc ج - $\frac{1}{7}$ \bigcirc د - $\frac{7}{7}$ \bigcirc	
۴-	می خواهیم مقداری شیر را اندازه بگیریم. با چه واحدی بهتر است این کار را انجام بدهیم؟ الف - کیلو گرم \bigcirc ب - لیتر \bigcirc ج - سانتی متر \bigcirc د - میلی متر \bigcirc	۱
		هرمورد ۲۵/۰
	ب) در جای خالی کلمه ی مناسب بنویسید.	
۱-	یک قوری با ۸ استکان چای پر می شود. گنجایش استکان گنجایش قوری است.	
۲-	خط تقارن هر زاویه آن زاویه نیز می باشد.	
۳-	پاره خطی که از رأس مثلث بر ضلع روبه رو عمود شود نامیده می شود.	
۴-	در تقسیم عددی بر عدد دیگر همیشه باقی مانده از کوچکتر است.	۱
		هرمورد ۱۵/۰
	ج) به سوالات زیر با دقت پاسخ دهید.	
۱-	با عدد و حروف بنویسید. ششصد و نه میلیون و صد و هفتاد و پنج ۳۹۹۷۵۰۰۸۲۴۶	۱
		هرمورد ۲۵/۰
۲-	با توجه به شکل مقابل به سوالات زیر پاسخ دهید. الف - یک نیم خط نام ببرید. کوتاهترین پاره خط کدام است؟ ب - یک زاویه ی باز نام ببرید. و - دو خط موازی نام ببرید. ج - ضلع (س ن) چه نام دارد؟ ه - یک زاویه ی تند نام ببرید.	۱/۵



ردیف	صفحه ۲	پایه
۳-	پاره خطی به طول ۴ سانتی متر بکشید و عمود منصف آن را رسم کنید .	۷۵
۴-	شکل مناسبی برای عبارت مقابل بکشید و تساوی را کامل کنید . $5 \times (3 + 4) =$	۷۵
۵-	باغبانی ۹۶۷ نهال سیب را در ۸ ردیف کاشته است . او در هر ردیف چند درخت کاشته است ؟ اگر قیمت هر نهال ۵۰۳ تومان باشد قیمت همه ی نهال ها چند تومان است ؟	۷۵
۶-	متوازی الاضلاعی رسم کنید که اندازه های دو ضلع آن ۴ و ۳ سانتی متر بوده و زاویه قائمه داشته باشد .	۱
۷-	خط تقارن شکل مقابل را رسم کنید . 	۷۵
۸-	دو تفاوت بین لوزی و مربع را بنویسید . ۱- ۲-	۷۵
۹-	تقسیم کنید و عبارت درستی آن را بنویسید . $\begin{array}{r} 63 \\ 2660 \end{array}$	۱

ردیف	صفحه ۳	بلم
۱۰-	کوچکترین عدد چهار رقمی را بنویسید که بر ۱۰ بخشپذیر باشد و ارقام آن تکراری نباشد.	۱۵
۱۱-	محیط زمین فوتبالی ۳۷۰ متر است. طول این زمین ۱۱۰ متر می باشد، عرض آن چند متر است؟	۱
۱۲-	در جای خالی عدد مناسب بنویسید. $\frac{۲۵}{۳۵} = \frac{\bigcirc}{۷}$ $\frac{\bigcirc}{۱۸} = ۱$ <u>هر مورد ۲۲۵</u> $\frac{۴}{۷} = \frac{۱۲}{\bigcirc}$ $(۴۸۰۰ - ۲۷۹۶) - ۷۵۰ = \dots - ۷۵۰ = \dots$ $(۱۹ \times ۱۷) - (۱۹ \times ۶) = ۱۹ \times \dots$	۱۵
۱۳-	با یک شکل نشان دهید که $\frac{۱}{۵} = \frac{۲}{۱۰}$ است.	۱۵
۱۴-	علی با یک مفتول سیمی به طول ۳۲۰ سانتی متر یک لوزی ساخت. اندازه ی هر ضلع این لوزی چند سانتی متر است؟	۱۵
۱۵-	کسرهای زیر را مقایسه کنید. $\frac{۹}{۱۱} \square \frac{۷}{۱۱}$ $\frac{۸}{۸} \square ۵$ $\frac{۱}{۲} \square \frac{۸}{۱۴}$ $\frac{۳}{۹} \square \frac{۳}{۱۷}$	۱
۱۶-	مسئله ای بنویسید که عبارت زیر ربر راه حل آن باشد و حاصل را به دست آورید. $\frac{۱۲ \cdot ۲}{۲۰ \cdot ۵} =$	۱

۱۷-

ساده کنید.

$$\frac{250}{400} =$$

۱

۱۸-

به اندازه ی کسر داده شده شکل مقابل را رنگ بزنید و کسر مساوی بنویسید.

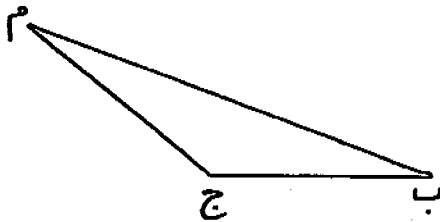


$$\frac{1}{2} = \frac{\quad}{\quad}$$

۱۵

۱۹-

در شکل زیر ارتفاع نظیر ضلع (ب ج) را رسم کنید.



۱۵

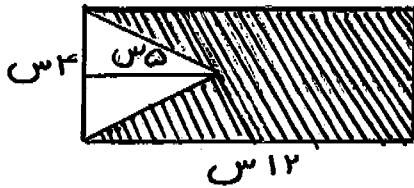
۲۰-

مساحت یک موزاییک به ضلع ۱۲ سانتی متر، چند سانتی متر مربع است؟

۱۵

۲۱-

مساحت قسمت رنگ شده را به دست آورید.



۱۵

« عزیزانم موفق و سربلند باشید »

سرپرستی مدارس جمهوری اسلامی ایران در امارات عربی متحده

مجتمع آموزشی نمونه و بین الملل توحید پسران دبی

امتحانات نوبت دوم سال تحصیلی ۸۹-۸۸

آزمون: علوم تجربی پایه و کلاس: چهارم تاریخ آزمون: ۸۹/۳/۱۰ مدت زمان:

نام و نام خانوادگی دانش آموز:

الف: پاسخ صحیح را با علامت × مشخص کنید. (هر مورد ۰/۵ نمره)

۱- دستگاه گردش خون با کدام یک از دستگاه های زیر ارتباط بیشتری دارد؟

الف) دستگاه گوارش ب) ماهیچه ها ج) دستگاه تنفس د) استخوان ها

۲- بزرگترین گروه بند پایان کدام مورد زیر است؟

الف) عنکبوت ها ب) حشرات ج) خرچنگ ها د) هزارپا

۳- کدام یک از کانی ها به صورت خالص یافت می شود؟

الف) آهن ب) مس ج) آلومینیوم د) نمک

۴- تصویر در آینه برآمده چگونه است؟

الف) کوچکتر از جسم ب) بزرگتر از جسم ج) هم اندازه جسم د) وارونه است

۵- اگر در لیوان آب مقداری نمک اضافه کنیم و به هم بزنیم در این حالت به نمک چه می گویند؟

الف: حل شونده ب) حلال ج) مخلوط د) محلول

ب: در جاهای خالی کلمه مناسب بنویسید. (هر مورد ۰/۵ نمره)

۱- به موجود زنده ای که غذای خود را از بدن موجود زنده ی دیگر می گیرد می گویند

۲- بزرگترین سیاره ی منظومه ی شمسی نام دارد.

۳- اگر قطب های هم نام آهن ربا را به هم نزدیک کنیم یک دیگر را می کنند.

۴- رگ هایی که از قلب خارج می شوند و به همه ی اندام های بدن می روند نام دارند

۵- برای قطع و وصل کردن جریان الکتریسیته از استفاده می کنیم.

۶- مواد سازنده ی عرق از گرفته می شود.

ص غ

ج: جمله های صحیح و غلط را با علامت × مشخص کنید (هر مورد ۰/۵ نمره)


۱- به وسیله زیبا بین می توانیم از زیر آب اجسام روی آب را ببینیم.

۲- رگ هایی که خون را به قلب برمی گردانند سیاهرگ نام دارند.

۳- وقتی نور به آینه تخت برخورد می کند بازتابش منظم است.

۴- پلاسمای خون اکسیژن را به سلول ها می رساند.

د: درباره ی شکل زیر توضیح دهید. (۱ نمره)



ه: مفاهیم زیر را تعریف کنید. (۲ نمره)

- ۱- منظومه شمسی :
- ۲- مخلوط :
- ۳- مهتاب :
- ۴- سنگ دگرگونی :

و: پاسخ کامل بدهید.

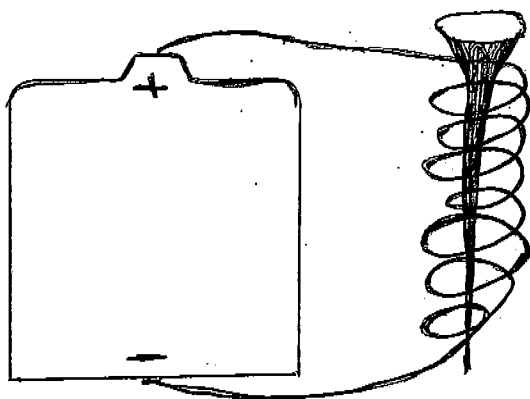
۱- خون از چه قسمت هایی تشکیل شده است. (۰/۷۵ نمره)

۲- فایده سنگ ها کانی ها را بنویسید. (۴ مورد) (۱ نمره)

۳- کرم ها چند نوع هستند؟ برای هر یک مثالی بزنید. (۱/۵ نمره)

۴- چگونگی تشکیل سنگ های رسوبی را توضیح دهید. نام دو رشته کوه را که از این نوع سنگ ها

تشکیل شده اند را نام ببرید. (۱/۵ نمره)



۵- با توجه به شکل پاسخ دهید. (۱/۵ نمره)

الف: نام شکل چیست؟

ب: چگونه می توان قدرت آن را افزایش داد.

تاریخ امتحان: ۱۳۸۹/۳/۱۵

به نام خدا

مدارس جمهوری اسلامی ایران در امارات

نام و نام خانوادگی:

نمره به حروف:

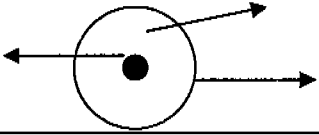
مجتمع آموزشی خدیجه کبری

نام پدر:

نمره به عدد:

نام درس: علوم نام کلاس: چهارم زمان امتحان: ۶۰ دقیقه

ردیف	صفحه اول	بارم						
۱	<p>پاسخ صحیح را با علامت (x) مشخص کنید . *در کدام قسمت گیاه غذا ساخته می شود؟</p> <p>الف) ریشه <input type="checkbox"/> ب) برگ <input type="checkbox"/> ج) دانه <input type="checkbox"/> د) ساقه <input type="checkbox"/></p> <p>• نزدیک ترین سیاره به خورشید کدام سیاره است؟</p> <p>الف) عطارد <input type="checkbox"/> ب) پلوتو <input type="checkbox"/> ج) مریخ <input type="checkbox"/> د) زمین <input type="checkbox"/></p> <p>• کدامیک از مخلوطهای زیر محلول جامد در مایع است؟</p> <p>الف) الکل در آب <input type="checkbox"/> ب) روغن در آب <input type="checkbox"/> ج) شکر در آب <input type="checkbox"/> د) سرکه در آب <input type="checkbox"/></p> <p>• فراوان ترین جانوران روی زمین کدامند؟</p> <p>الف) حشرات <input type="checkbox"/> ب) هزارپاها <input type="checkbox"/> ج) سخت پوستان <input type="checkbox"/> د) عنکبوتها <input type="checkbox"/></p> <p>• سنگهای آذرین در کدام کوهها یافت می شود؟</p> <p>الف) البرز <input type="checkbox"/> ب) البرز-زاگرس <input type="checkbox"/> ج) الوند - دماوند <input type="checkbox"/> د) شیرکوه - البرز <input type="checkbox"/></p> <p>• برای سم پاشی حشره گیاه خوار، چه موقع مناسب است؟</p> <p>الف) موقعی که در تخم است <input type="checkbox"/> ب) نوزادی <input type="checkbox"/></p> <p>ج) موقعی که به دور خود پیله می بندد <input type="checkbox"/> د) زمانی که بالغ شده است <input type="checkbox"/></p>	۳						
۲	<p>در جاهای خالی کلمات مناسب بنویسید .</p> <p>• مناسبترین آب برای گیاهان آب ----- است .</p> <p>• رگ هایی که خون رابه قلب بر می گردانند----- نام دارد .</p> <p>• در یک مدار لامپ ها را طوری بسته ایم که هم زمان با هم روشن می شوند این مدار ----- نام دارد .</p>	۱/۵						
۳	<p>جملات صحیح را با حرف (ص) و جملات غلط را با حرف (غ) مشخص کنید .</p> <p>الف) وقتی نور به سطح آینه برخورد می کند به طور نامنظم بازتابش می کند . <input type="checkbox"/> ص <input type="checkbox"/> غ</p> <p>ب) زمین بین سیاره زهره و مریخ قرار دارد . <input type="checkbox"/> ص <input type="checkbox"/> غ</p> <p>ج) کار گلبول های قرمز دفاع از بدن می باشد . <input type="checkbox"/> ص <input type="checkbox"/> غ</p>	۱/۵						
۴	<p>آوند چیست و چه کاری انجام می دهد؟</p>	۱						
۵	<p>جدول زیر را کامل کنید .</p> <table border="1" style="margin-left: auto; margin-right: auto;"> <tr> <td>آهن رسانا</td> <td>میخ آهنی -----</td> <td>نارسانا -----</td> </tr> <tr> <td>پلاستیک -----</td> <td>----- رسانا</td> <td>پارچه نارسانا</td> </tr> </table>	آهن رسانا	میخ آهنی -----	نارسانا -----	پلاستیک -----	----- رسانا	پارچه نارسانا	۱
آهن رسانا	میخ آهنی -----	نارسانا -----						
پلاستیک -----	----- رسانا	پارچه نارسانا						
۶	<p>هویج برای غذا سازی به چه چیزهایی احتیاج دارد؟</p>	۱						
۷	<p>به چه جانورانی مهره دار و به چه جانورانی بی مهره می گوئیم؟</p>	۱						

۱	چرا در سیاره پلوتو هیچ موجود زنده ای زندگی نمی کند ؟	۸
۱	سنگهای رسوبی چگونه به وجود آمده اند؟	۹
۱	قدرت یک آهن ربای الکتریکی به چه چیزهایی بستگی دارد ؟	۱۰
۱	فایده سنگ ها و کانی ها را بنویسید؟ (۲ مورد)	۱۱
۱/۷۵		۱۲
۱	دفع عرق برای بدن چه فایده ای دارد؟	۱۳
۱/۵	تخم آسکاریس چگونه وارد بدن انسان می شود ؟ و در کجای بدن انسان زندگی می کند؟	۱۴
۱/۷۵	خون دارای چند قسمت است نام ببرید؟	۱۵
۱	کلیه ها در کجا قرار دارند و چه وظیفه ای انجام می دهند؟	۱۶
۱	تنفس از راه بینی بهتر است یا دهان ؟ چرا؟	۱۷

*****موفق و سر بلند باشی فرزندم *****

نمره نهایی :

نمره مستمر :

نمره پایانی :

۸	چرا در سیاره پلوتو هیچ موجود زنده ای زندگی نمی کند ؟	۱
۹	سنگهای رسوبی چگونه به وجود آمده اند؟	۱
۱۰	قدرت یک آهن ربای الکتریکی به چه چیزهایی بستگی دارد ؟	۱
۱۱	فایده سنگ ها و کانی ها را بنویسید؟ (۲ مورد)	۱
۱۲	قسمتهای مختلف سلول را روی شکل نشان دهید ؟	۰.۷۵
۱۳	دفع عرق برای بدن چه فایده ای دارد؟	۱
۱۴	تخم آسکاریس چگونه وارد بدن انسان می شود ؟ و در کجای بدن انسان زندگی می کند؟	۱/۵
۱۵	خون دارای چند قسمت است نام ببرید؟	۰.۷۵
۱۶	کلیه ها در کجا قرار دارند و چه وظیفه ای انجام می دهند؟	۱
۱۷	تنفس از راه بینی بهتر است یا دهان ؟ چرا؟	۱

*****موفق و سر بلند باشی فرزندم *****

نمره نهایی :

نمره مستمر :

نمره پایانی :

نام و نام خانوادگی:

به نام خدا

مدارس جمهوری اسلامی ایران در امارات

تاریخ امتحان: ۱۳۸۹/۳/۱۵

نام پدر:

مجتمع آموزشی خدیجه کبری

نمره به حروف:

نام درس: علوم

نام کلاس: چهارم

زمان امتحان: ۶۰ دقیقه

نمره به عدد:

ردیف	صفحه اول	بارم						
۱	<p>پاسخ صحیح را با علامت (X) مشخص کنید . *در کدام قسمت گیاه غذا ساخته می شود؟</p> <p>الف) ریشه <input type="checkbox"/> ب) برگ <input type="checkbox"/> ج) دانه <input type="checkbox"/> د) ساقه <input type="checkbox"/></p> <p>• نزدیک ترین سیاره به خورشید کدام سیاره است؟</p> <p>الف) عطارد <input type="checkbox"/> ب) پلوتو <input type="checkbox"/> ج) مریخ <input type="checkbox"/> د) زمین <input type="checkbox"/></p> <p>• کدامیک از مخلوطهای زیر محلول جامد در مایع است؟</p> <p>الف) الکل در آب <input type="checkbox"/> ب) روغن در آب <input type="checkbox"/> ج) شکر در آب <input type="checkbox"/> د) سرکه در آب <input type="checkbox"/></p> <p>• فراوان ترین جانوران روی زمین کدامند؟</p> <p>الف) حشرات <input type="checkbox"/> ب) هزارپاها <input type="checkbox"/> ج) سخت پوستان <input type="checkbox"/> د) عنکبوتها <input type="checkbox"/></p> <p>• سنگهای آذرین در کدام کوهها یافت می شود؟</p> <p>الف) البرز <input type="checkbox"/> ب) البرز-زاگرس <input type="checkbox"/> ج) الوند - دماوند <input type="checkbox"/> د) شیرکوه - البرز <input type="checkbox"/></p> <p>• برای سم پاشی حشره گیاه خوار، چه موقع مناسب است؟</p> <p>الف) موقعی که در تخم است <input type="checkbox"/> ب) نوزادی <input type="checkbox"/></p> <p>ج) موقعی که به دور خود پیله می بندد <input type="checkbox"/> د) زمانی که بالغ شده است <input type="checkbox"/></p>	۳						
۲	<p>در جاهای خالی کلمات مناسب بنویسید .</p> <p>• مناسبترین آب برای گیاهان آب ----- است .</p> <p>• رگ هایی که خون را به قلب بر می گردانند----- نام دارد .</p> <p>• در یک مدار لامپ ها را طوری بسته ایم که هم زمان با هم روشن می شوند این مدار ----- نام دارد .</p>	۱/۵						
۳	<p>جملات صحیح را با حرف (ص) و جملات غلط را با حرف (غ) مشخص کنید .</p> <p>الف) وقتی نور به سطح آینه برخورد می کند به طور نامنظم بازتابش می کند . <input type="checkbox"/> ص <input type="checkbox"/> غ</p> <p>ب) زمین بین سیاره زهره و مریخ قرار دارد . <input type="checkbox"/> ص <input type="checkbox"/> غ</p> <p>ج) کار گلبول های قرمز دفاع از بدن می باشد . <input type="checkbox"/> ص <input type="checkbox"/> غ</p>	۱/۵						
۴	<p>آوند چیست و چه کاری انجام می دهد؟</p>	۱						
۵	<p>جدول زیر را کامل کنید .</p> <table border="1" style="margin-left: auto; margin-right: auto;"> <tr> <td>آهن رسانا</td> <td>میخ آهنی</td> <td>نارسانا</td> </tr> <tr> <td>پلاستیک</td> <td>رسانا</td> <td>پارچه نارسانا</td> </tr> </table>	آهن رسانا	میخ آهنی	نارسانا	پلاستیک	رسانا	پارچه نارسانا	۱
آهن رسانا	میخ آهنی	نارسانا						
پلاستیک	رسانا	پارچه نارسانا						
۶	<p>هویج برای غذا سازی به چه چیزهایی احتیاج دارد؟</p>	۱						
۷	<p>به چه جانورانی مهره دار و به چه جانورانی بی مهره می گوئیم؟</p>	۱						

با سمه تعالی

مدت آزمون: ۶۰ دقیقه

سرپرستی مدارس جمهوری اسلامی ایران در امارات عربی متحده

آزمون درس: علوم تجربی

تاریخ: ۸۹/۳/۱۰

مجتمع آموزشی امام خمینی (ره) ابوظبی

پایه: چهارم

شماره صفحه: ۱

خرداد سال تحصیلی ۸۹ - ۸۸

نام و نام خانوادگی:

بارم	سوالات	ردیف
دستور کار الف: گزینه مناسب را با علامت x مشخص کنید.		
۰/۵	محل غذاسازی همه ی گیاهان در کدام قسمت می باشد؟ الف) میوه <input type="radio"/> ب) ساقه <input type="radio"/> ج) برگ <input type="radio"/> د) ریشه <input type="radio"/>	۱-
۰/۵	بزرگترین سیاره ی منظومه شمسی چه نام دارد؟ الف) زحل <input type="radio"/> ب) مریخ <input type="radio"/> ج) زمین <input type="radio"/> د) مشتری <input type="radio"/>	۲-
۰/۵	کدام یک از مخلوط های زیر محلول نیست؟ الف) روغن و آب <input type="radio"/> ب) نمک و آب <input type="radio"/> ج) آبلیمو و آب <input type="radio"/> د) شکر و شیر <input type="radio"/>	۳-
۰/۵	قسمت مایع خون که بیشتر آن آب است چه نام دارد؟ الف) گلبول قرمز <input type="radio"/> ب) گلبول سفید <input type="radio"/> ج) پلاسما <input type="radio"/> د) سرخرگ <input type="radio"/>	۴-
۰/۵	کدام یک اندام اصلی تنفس است؟ الف) نای <input type="radio"/> ب) شش <input type="radio"/> ج) کیسه هوایی <input type="radio"/> د) بینی <input type="radio"/>	۵-
۰/۵	در کشور ما، سنگهای کدام کوهها از نوع سنگ های آذرین هستند؟ الف) دماوند <input type="radio"/> ب) زاگرس <input type="radio"/> ج) البرز <input type="radio"/> د) سبلان <input type="radio"/>	۶-
دستور کار ب: جاهای خالی را با کلمات مناسب پر کنید.		
۰/۵	موجودی که غذای خود را از بدن موجود زنده دیگر می گیرد نام دارد.	۱-
۰/۵	وسایلی که الکتریسیته از آنها عبور می کند می گویند.	۲-
۰/۵	برای ساختن کوره ی آفتابی از آینه ی استفاده می کنند.	۳-
۰/۵	رگ هایی که خون را به قلب بر می گردانند، نام دارند.	۴-
۰/۵	زمین در هر یک بار به دور خود می چرخد.	۵-
۰/۵	اگر دو قطب آهن را یکدیگر را جذب کنند، آن دو قطب هستند.	۶-
دستور کار ج: جملات صحیح را با (ص) و جملات غلط را با (غ) مشخص کنید.		
۰/۵	بیشتر کودکان به انگل کرم کدو دچار می شوند. ()	۱-
۰/۵	سیم کشی برق خانه ها به صورت سیم کشی موازی است. ()	۲-
۰/۵	بهترین زمان برای سم پاشی، مرحله ی تخم هاست. ()	۳-
۰/۵	عرق از راه مثانه دفع می شود. ()	۴-

دستور کار د: هر یک از مفاهیم زیر را با کشیدن خطی به پاسخ صحیح وصل کنید.

۱	کرم خاکی آذرین رسوبی دگرگونی آسکاریس کدو	<p>۱- تخم این کرم از راه آب آلوده، سبزی ها و میوه های نشسته وارد روده می شود.</p> <p>۲- ویژگی سخت و محکم بودن مخصوص این نوع سنگ هاست.</p> <p>۳- در گروه کرم های حلقوی قرار دارد.</p> <p>۴- این سنگ ها به صورت لایه لایه می باشند.</p>
---	---	---

دستور کار ه: جدول زیر را کامل کنید.

۰/۷۵	<table border="1" style="margin-left: auto; margin-right: auto;"> <thead> <tr> <th data-bbox="359 667 762 743">نام گیاه</th> <th data-bbox="762 667 1173 743">خاصیت</th> </tr> </thead> <tbody> <tr> <td data-bbox="359 743 762 819">.....</td> <td data-bbox="762 743 1173 819">رنگری</td> </tr> <tr> <td data-bbox="359 819 762 896">زعفران</td> <td data-bbox="762 819 1173 896">.....</td> </tr> <tr> <td data-bbox="359 896 762 972">.....</td> <td data-bbox="762 896 1173 972">دارویی</td> </tr> </tbody> </table>	نام گیاه	خاصیت	رنگری	زعفران	دارویی
نام گیاه	خاصیت								
.....	رنگری								
زعفران								
.....	دارویی								

دستور کار و: پاسخ پرسش های زیر را بنویسید.

۰/۷۵	<p>۱- هر سلول چند بخش دارد؟ روی شکل نشان دهید.</p>
۱	<p>۲- علف های هرز چه فایده ای دارند؟ (۲ مورد)</p>
۱	<p>۳- برای اینکه آهنربای الکتریکی را قوی تر کنیم چه راهی پیشنهاد می کنید؟</p>
۱	<p>۴- وظیفه ی گلبولهای سفید چیست؟</p>

۱	صفحه ۳:	۵- چرا تنفس از راه بینی مفیدتر است؟
۰/۵		۶- الکتریسیته در وسایل زیر چه چیزی تولید می کند؟ چراغ مطالعه:..... سماور برقی:.....
۱		۷- بازتابش نور چیست؟
۰/۵		۸- دو نوع کانی که در طبیعت به صورت خالص یافت می شود نام ببرید.
۰/۵		۹- چرا عطارد گرم ترین سیاره منظومه شمسی است؟
۱		۱۰- به نظر شما چرا افرادی که در شهرهای بزرگ زندگی می کنند بیشتر به بیماری های تنفسی مبتلا می شوند؟ (۲ مورد)
۱		۱۱- سرخرگ ها در کجای بدن قرار گرفته اند و چه وظیفه ای دارند؟
۱		۱۲- تفاوت مخلوط ماسه در آب و نمک در آب چیست؟

با سمه تعالی

مدت آزمون: ۶۰ دقیقه

آزمون درس: علوم تجربی سرپرستی مدارس جمهوری اسلامی ایران در امارات عربی متحده

تاریخ: ۸۹/۶/۹

مجتمع آموزشی امام خمینی (ره) ابوظبی

پایه: چهارم

شماره صفحه: ۱

شهریور سال تحصیلی ۸۹ - ۸۸

نام و نام خانوادگی:

بارم	سوالات	ردیف
دستور کار الف: گزینه مناسب را با علامت x مشخص کنید.		
۳	<p>۱- عرق از چه راهی دفع می شود؟ الف) ماهیچه <input type="radio"/> ب) سلول ها <input type="radio"/> ج) پوست <input type="radio"/> د) کلیه <input type="radio"/></p> <p>۲- انسان بدون چه چیزی نمی تواند بیشتر از چند دقیقه زنده بماند؟ الف) کربن دی اکسید <input type="radio"/> ب) خون <input type="radio"/> ج) غذا <input type="radio"/> د) اکسیژن <input type="radio"/></p> <p>۳- زیباترین سیاره ی منظومه شمسی کدام است؟ الف) زحل <input type="radio"/> ب) مشتری <input type="radio"/> ج) مریخ <input type="radio"/> د) زهره <input type="radio"/></p> <p>۴- اگر مواد بسیار داغ در زیر پوسته زمین آرام، آرام سرد شوند، چه نوع سنگی به وجود می آید؟ الف) سنگ رسوبی <input type="radio"/> ب) سنگ آذرین <input type="radio"/> ج) سنگ مرمر <input type="radio"/> د) سنگ دگرگون <input type="radio"/></p> <p>۵- الکتریسیته در ماشین لباسشویی چه چیزی تولید می کند؟ الف) حرکت <input type="radio"/> ب) گرما <input type="radio"/> ج) روشنایی <input type="radio"/> د) آب <input type="radio"/></p> <p>۶- هر قدر زاویه بین دو آینه تخت را بازتر کنیم تعداد تصویر ها ----- می شود. الف) بیشتر <input type="radio"/> ب) کمتر <input type="radio"/> ج) تفاوتی ندارد <input type="radio"/> د) بزرگتر <input type="radio"/></p>	
دستور کار ب: جاهای خالی را با کلمات مناسب پر کنید.		
۳	<p>۱- دفاع از بدن در برابر میکروب ها، وظیفه ----- می باشد.</p> <p>۲- هوا از راه بینی وارد ----- و سپس وارد شش ها می شود.</p> <p>۳- به خورشید و ۹ سیاره ای که به دور آن می گردند ----- می گویند.</p> <p>۴- سنگ مرمر یک نوع سنگ ----- است.</p> <p>۵- اگر قطب های غیر هم نام دو سر آهن ربا را به هم نزدیک کنیم، یکدیگر را ----- می کنند.</p> <p>۶- وقتی نور به آینه یا هر جسم شفاف دیگر برخورد کند و برگردد ----- نامیده می شود.</p>	
دستور کار ج: جملات صحیح را با (ص) و جملات غلط را با (غ) مشخص کنید.		
۱	<p>۱- تعداد ضربان های نبض و قلب با هم مساوی هستند. ()</p> <p>۲- اندام اصلی تنفس بینی است. ()</p> <p>۳- گردش زمین به دور خورشید ۳۶۵ روز طول می کشد. ()</p> <p>۴- سنگ های کوههای دماوند از نوع سنگ های رسوبی هستند. ()</p>	

دستور کار د : هر یک از مفاهیم زیر را با کشیدن خطی به پاسخ صحیح وصل کنید .

* کرمک	۱- از طریق سبزی و میوه نشسته وارد بدن انسان می شود . *
* کرم خاکی	۲- در انتهای لوله گوارش قرار دارد . *
* کرم کدو	۳- از راه دستهای آلوده منتقل می شود . *
* کرم آسکاریس	۴- برای کشاورزی مفید است . *
* زالو	

دستور کار ه : جدول را کامل کنید .

ماده	مخلوط یا محلول
-----	مخلوط مایع در مایع
جوهر در آب	-----
-----	محلول گاز در مایع

دستور کار و : پاسخ پرسشهای زیر را بنویسید .

۱	۱- وظیفه دستگاه گردش خون در بدن چیست ؟
۰/۵	۲- مواد زاید بدن ما از چند راه دفع می شود ؟ نام ببرید .
۱	۳- چرا درها و پنجره های اتاق و کلاس نباید مدّت زیادی بسته باشد ؟
۱	۴- مهتاب چیست ؟
۱	۵- دو مورد از خصوصیات سنگهای رسوبی را بنویسید .
۰/۷۵	۶- سه نوع کانی که در طبیعت به صورت خالص یافت می شود ، نام ببرید .

۰/۵	۷- شخم زدن چه فایده هایی دارد؟
۱	۸- برای قوی تر نمودن آهنربای الکتریکی دو راه بنویسید .
۰/۵	۹- اگر در یک مدار موازی یکی از لامپ ها را باز کنیم چه اتفاقی می افتد ؟ .
۱	۱۰- از اجسام زیر کدام رسانا و کدام نارسانا هستند ؟ میخ آهنی : _____ انسان : _____ کاغذ : _____ آینه : _____
۱	۱۱- در هر یک از این مکان ها از چه آینه ای استفاده می شود ؟ چراغ اتومبیل: _____ آرایشگاه : _____ سر پیچ جاده ها : _____ دندانپزشکی : _____
۱	۱۲- استفاده از کوره آفتابی چه فایده هایی دارد ؟ (چهار مورد)
۱	۱۳- آزمایشی بنویسید که ثابت کند آب از راه آوند به درون گیاه کشیده می شود .

مجمع آموزشی نمونه توحید دختران

سال تحصیلی ۸۸-۸۹

نمره با عدد:

نام درس: علوم

نام و نام خانوانگی:

نمره با حروف:

نام دبیر

مدت امتحان: ۷۰ دقیقه

پایه: چهارم

امضا آموزگار:

صفحه: ۱

تاریخ امتحان: ۸۹/۳/۸

رشته: ابتدایی

بارم

هر مورد ۰/۲۵

الف) گزینه ی صحیح را با علامت ⊗ مشخص کنید.

۱) کدام دسته از موجودات زنده ی زیر غذاسازی می کنند؟

- الف) حشرات ب) گیاهان سبز ج) پستانداران د) انسان

۲) فروان ترین نوع از گروه بند پایان کدام یک از موجودات زیر می باشد؟

- الف) عنکبوت ها ب) خرچنگ ها ج) حشرات د) هزارپاها

۳) زیباترین سیاره منظومه شمسی کدام است؟

- الف) زحل ب) مریخ ج) زهره د) مشتری

۴) مواد غذایی توسط کدام قسمت خون به سلول های بدن می رسد؟

- الف) گلبول قرمز ب) پلاسما ج) گلبول سفید د) سیاهرگ

۵) در کشور ما سنگ های کوه های نماوند و الوند از کدام نوع سنگ ها هستند؟

- الف) رسوبی ب) نگرگونی ج) آذرین د) مرمر

۶) در یک مدار موازی اگر یکی از لامپ ها خاموش شود لامپ بعدی ————— میشود.

- الف) خاموش ب) کم نورتر ج) پر نورتر د) روشن

هر مورد ۰/۵

ب) در جاهای خالی کلمه ی مناسب بنویسید.

۱) مایع غلیظی که تمام سلول را پر می کند ————— نام دارد.

۲) به اجسامی که الکتریسیته از آنها عبور نمی کند ————— می گویند.

۳) وقتی قطب های همنام دو آهنربا را به هم نزدیک کنیم یکدیگر را ————— می کنند.

۴) مهمترین وسیله ی چشم زیردریایی ————— است.

۵) اکسیژن در شش ها از دیواره ی ————— وارد خون می شود.

۶) به رگهای بسیار باریکی که در کنار سلولها وجود دارند ————— گفته می شود.

۱/۵

۳

هر مورد ۰/۲۵

ج) درستی یا نادرستی عبارات های زیر را مشخص کنید.

- ۱) ستاره ی دریایی جز گروه کیسه تنان است.
- ۲) همه مخلوط ها محلول نیستند ولی همه ی محلول ها مخلوط هستند.
- ۳) اگر زاویه دو آینه را کمتر کنیم تعداد تصاویر تغییر نمی کند.
- ۴) افزایش جمعیت نیاز بشر را به کاتی افزایش داده است.
- ۵) گاز دی اکسید کربن برای بدن ما مفید است.
- ۶) عرق از راه پوست دفع می شود.

هر مورد ۰/۵

د) مفاهیم زیر را تعریف کنید.

- ۱) آوند _____
- ۲) بازتابش _____
- ۳) مدار _____
- ۴) منظومه شمسی _____
- ۵) کانی _____
- ۶) سرخرگ _____

و) به سوالات زیر با دقت پاسخ دهید.

۱) سلول هایی که شکل آن ها را در زیر می بینید از چه نظر با هم تفاوت و از چه نظر به هم شبیه هستند. (نکر ۲ مورد)



- شبهت = ۱) _____ ۲) _____
- تفاوت = ۱) _____ ۲) _____

۲) چرا کرم خاکی برای باغچه و زمین کشاورزی مفید است؟

۳
۲) جدول زیر را کامل کنید.

نام محلول	حلال	حل شونده
چای شیرین		
سرکه در آب		


۴) بعضی از هنرمندان سنگ را برای کارهای خود انتخاب می کنند علت چیست؟

۵) یک مدار الکتریکی رسم کنید و توضیح دهید که الکتریسیته در این مدار چگونه جریان پیدا می کند؟

۶) قدرت یک آهنربای الکتریکی به چه چیزهایی بستگی دارد؟

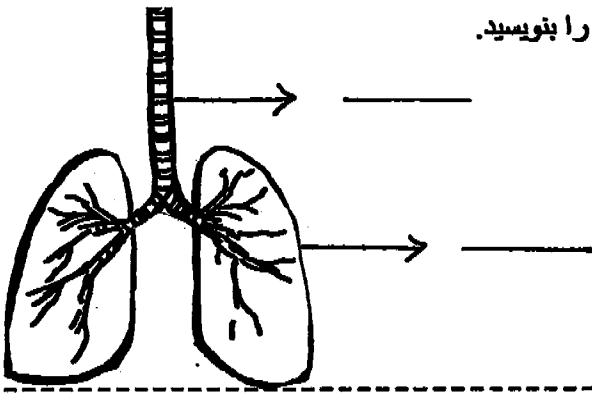
۷) فایده سنگ ها و کاتی ها را نام ببرید.

۸) نام این وسیله چیست و چه استفاده ای از آن می شود؟




۹) زمین به چند صورت حرکت می کند نام ببرید و هر یک را جداگانه توضیح دهید.

۴
۱۰ نام قسمت های فاش خورده را روی شکل بنویسید و کار این دستگاه را بنویسید.



۱۱ در شکل زیر نوع گلبولهای خون را مشخص کنید و توضیح دهید که هر یک در بدن چه وظیفه ای را بر عهده دارند؟



۱۲ مهمترین مواد دفعی که باید از بدن خارج شود را نام ببرید.

۱
۲
۳
۴
۵
۶
۷
۸
۹
۱۰
۱۱
۱۲
۱۳
۱۴
۱۵
۱۶
۱۷
۱۸
۱۹
۲۰
۲۱
۲۲
۲۳
۲۴
۲۵
۲۶
۲۷
۲۸
۲۹
۳۰
۳۱
۳۲
۳۳
۳۴
۳۵
۳۶
۳۷
۳۸
۳۹
۴۰
۴۱
۴۲
۴۳
۴۴
۴۵
۴۶
۴۷
۴۸
۴۹
۵۰

عزیزانم موفق و سربلند باشید

نام و نام خانوادگی:	باسمه تعالی	تاریخ: ۱۰/۳/۸۹
پایه: $\frac{۳}{۳}$ شعبه:	سرپرستی مدارس جمهوری اسلامی ایران در امارات متحده عربی	نام آموزگار: سرکار خانم سحر
ماده‌ی درسی: علوم	مجتمع آموزشی شارجه - نوبت دوم سال تحصیلی ۸۹-۸۸ مقطع ابتدایی	
	خرداد ماه	

۰/۵	۳- ادویه‌جات بیشتر در آب و هوای بدست می‌آیند.	۳
۱	۴- در کشور ما سنگ‌های رسوبی را در و به فراوانی می‌توان یافت.	

به سوالات زیر پاسخ دهید.

بارم		
۰/۵	۱- بهترین زمان برای سم‌پاشی آفت گیاهان چه موقع است؟	۴
۱	۲- سیم‌کشی برق منازل به چه صورتی است؟	
۱/۵	۳- به چه موادی رسانا و به چه موادی نارسانا می‌گویند؟	
۱/۵	۴- به دوسر آهن‌ربا چه می‌گویند و کدام دوسر آهن‌ربا یکدیگر را جذب می‌کنند؟	
۱	۵- چگونه می‌توان آهن‌ربای الکتریکی را قوی‌تر کرد؟	
۱/۵	۶- چگونگی تشکیل سنگ‌های آذرین را توضیح دهید؟	
۲	۷- دورترین سیاره و نزدیکترین سیاره به خورشید کدام است؟	
۲	۸- چرا تنفس با بینی بهتر از تنفس با دهان است؟	
۲	۹- خون دارای چند قسمت است؟ نام ببرید.	

نام و نام خانوادگی:	باسمه تعالی	تاریخ: ۱۰/۳/۸۹
پایه: پریم شعبه:	سرپرستی مدارس جمهوری اسلامی ایران در امارات متحده عربی	نام آموزگار: خانم علیزاده
ماده‌ی درسی: علوم	مجتمع آموزشی شارجه - نوبت دوم سال تحصیلی ۸۹-۸۸ مقطع ابتدایی	
	خرداد ماه	

بارم	جمله‌های صحیح و غلط را مشخص کنید.
۰/۵	۱- کار دفاع از بدن برعهده‌ی گلبول‌های سفید است. <input type="checkbox"/> ص <input type="checkbox"/> غ
۰/۵	۲- کلیه‌ها در بدن کار خون‌سازی را برعهده دارند. <input type="checkbox"/> ص <input type="checkbox"/> غ
۰/۵	۳- ادرار کم کم در مثانه جمع می‌شود. <input type="checkbox"/> ص <input type="checkbox"/> غ
بارم	پاسخ صحیح را با علامت (X) مشخص کنید.
۰/۵	۱- صدف در کدام گروه بی‌مهرگان قرار دارد؟ الف) خارتنان <input type="checkbox"/> ب) مرجان‌ها <input type="checkbox"/> ج) نرم‌تنان <input type="checkbox"/> د) بندپایان <input type="checkbox"/>
۰/۵	۲- کرم کدو در کدام قسمت از بدن گاو رشد می‌کند؟ الف) روده <input type="checkbox"/> ب) ماهیچه <input type="checkbox"/> ج) معده <input type="checkbox"/> د) لوله‌ی گوارش <input type="checkbox"/>
۰/۵	۳- در زیردریایی‌ها برای دیدن اجسام خارج از آب از این وسیله استفاده می‌کنند؟ الف) پریسکوپ <input type="checkbox"/> ب) ذره‌بین <input type="checkbox"/> ج) میکروسکوپ <input type="checkbox"/> د) دوربین <input type="checkbox"/>
۰/۵	۴- در کوره آفتابی از کدام آینه استفاده می‌شود؟ الف) آینه تخت <input type="checkbox"/> ب) آینه برآمده <input type="checkbox"/> ج) آینه فرورفته <input type="checkbox"/> د) دو آینه تخت <input type="checkbox"/>
۰/۵	۵- کدامیک، محلول جامد در مایع است؟ الف) نشاسته در آب <input type="checkbox"/> ب) شکر در آب <input type="checkbox"/> ج) خاک در آب <input type="checkbox"/> د) روغن در آب <input type="checkbox"/>
۰/۵	۶- مهمترین گاز تشکیل‌دهنده هوا چیست؟ الف) کربن دی‌اکسید <input type="checkbox"/> ب) نیتروژن <input type="checkbox"/> ج) هیدروژن <input type="checkbox"/> د) اکسیژن <input type="checkbox"/>
بارم	جاهای خالی را با گزینه‌ی مناسب پر کنید.
۰/۵	۱- بدن همه موجودات زنده از واحدهای کوچکی به نام تشکیل شده است.
۰/۵	۲- در ساقه‌ی گیاهان، لوله‌های باریکی به نام قرار دارد.

ادامه سسـوالـات ص ۲

بارم

-۳

جملات صحیح یا غلط را با علامت x مشخص کنید.

غ

ص

۱- سلول ها را با میکروسکوپ می توان دید .

۲

۲- جوهر در آب یک محلول است که به راحتی می توان جدا کرد.

۳- عرق از راه پوست دفع می شود .

۴- مویرگها در کنار سلول قرار دارند.

به سوالات پاسخ کوتاه دهید.

-۴

۱

۱- هر یک از مخلوط ها با چه روشی جدا می کنند؟

(ب) براده ی آهن در خاک

الف) نمک در آب

۱/۵

۲- خون انسان از چند قسمت تشکیل شده است؟

۱

۳- چرا کرم خاکی برای باغچه و زمین کشاورزی مفید است؟

۱

۴- کار گلبول سفید در بدن چیست؟

-۵

به سوالات پاسخ کامل دهید.

۱

۱- گاز کربن دی اکسید چگونه تولید می شود؟

۱

۲- انداز چیست؟

۱

۳- کار دستگاه گردش خون چیست؟

با سمه تعالی

مدت آزمون : ۶۰ دقیقه

آزمون درس : علوم تجربی سرپرستی مدارس جمهوری اسلامی ایران در امارات عربی متحده

تاریخ : ۸۹/۳/۱۰

مجتمع آموزشی امام خمینی (ره) ابوظبی

پایه : چهارم

شماره صفحه : ۱

خرداد سال تحصیلی ۸۹ - ۸۸

نام و نام خانوادگی:

بارم	سوالات	ردیف
دستور کار الف: گزینه مناسب را با علامت x مشخص کنید.		
۰/۵	محل غذاسازی همه ی گیاهان در کدام قسمت می باشد؟ الف) میوه <input type="radio"/> ب) ساقه <input type="radio"/> ج) برگ <input type="radio"/> د) ریشه <input type="radio"/>	۱-
۰/۵	بزرگترین سیاره ی منظومه شمسی چه نام دارد؟ الف) زحل <input type="radio"/> ب) مریخ <input type="radio"/> ج) زمین <input type="radio"/> د) مشتری <input type="radio"/>	۲-
۰/۵	کدام یک از مخلوط های زیر محلول نیست؟ الف) روغن و آب <input type="radio"/> ب) نمک و آب <input type="radio"/> ج) آبلیمو و آب <input type="radio"/> د) شکر و شیر <input type="radio"/>	۳-
۰/۵	قسمت مایع خون که بیشتر آن آب است چه نام دارد؟ الف) گلبول قرمز <input type="radio"/> ب) گلبول سفید <input type="radio"/> ج) پلاسما <input type="radio"/> د) سرخرگ <input type="radio"/>	۴-
۰/۵	کدام یک اندام اصلی تنفس است؟ الف) نای <input type="radio"/> ب) شش <input type="radio"/> ج) کیسه هوایی <input type="radio"/> د) بینی <input type="radio"/>	۵-
۰/۵	در کشور ما، سنگهای کدام کوهها از نوع سنگ های آذرین هستند؟ الف) دماوند <input type="radio"/> ب) زاگرس <input type="radio"/> ج) البرز <input type="radio"/> د) سبلان <input type="radio"/>	۶-
دستور کار ب: جاهای خالی را با کلمات مناسب پر کنید.		
۰/۵	موجودی که غذای خود را از بدن موجود زنده دیگر می گیرد نام دارد.	۱-
۰/۵	وسایلی که الکتریسیته از آنها عبور می کند می گویند.	۲-
۰/۵	برای ساختن کوره ی آفتابی از آینه ی استفاده می کنند.	۳-
۰/۵	رگ هایی که خون را به قلب بر می گردانند، نام دارند.	۴-
۰/۵	زمین در هر یک بار به دور خود می چرخد.	۵-
۰/۵	اگر دو قطب آهنربا یکدیگر را جذب کنند، آن دو قطب هستند.	۶-
دستور کار ج: جملات صحیح را با (ص) و جملات غلط را با (غ) مشخص کنید.		
۰/۵	بیشتر کودکان به انگل کرم کدو دچار می شوند. ()	۱-
۰/۵	سیم کشی برق خانه ها به صورت سیم کشی موازی است. ()	۲-
۰/۵	بهترین زمان برای سم پاشی، مرحله ی تخم هاست. ()	۳-
۰/۵	عرق از راه مثانه دفع می شود. ()	۴-

دستور کار د: هر یک از مفاهیم زیر را با کشیدن خطی به پاسخ صحیح وصل کنید.

۱	کرم خاکی آذین رسوبی دگرگونی آسکاریس کدو	<p>۱- تخم این کرم از راه آب آلوده، سبزی ها و میوه های نشسته وارد روده می شود.</p> <p>۲- ویژگی سخت و محکم بودن مخصوص این نوع سنگ هاست.</p> <p>۳- در گروه کرم های حلقوی قرار دارد.</p> <p>۴- این سنگ ها به صورت لایه لایه می باشند.</p>
---	--	---

دستور کار ه: جدول زیر را کامل کنید.

۰/۷۵	نام گیاه	خاصیت
	رنگرزی
	زعفران
	دارویی

دستور کار و: پاسخ پرسش های زیر را بنویسید.

۰/۷۵	<p>۱- هر سلول چند بخش دارد؟ روی شکل نشان دهید.</p>
۱	<p>۲- علف های هرز چه فایده ای دارند؟ (۲ مورد)</p>
۱	<p>۳- برای اینکه آهنربای الکتریکی را قوی تر کنیم چه راهی پیشنهاد می کنید؟</p>
۱	<p>۴- وظیفه ی گلبولهای سفید چیست؟</p>

۱	صفحه ۳:	۵- چرا تنفس از راه بینی مفیدتر است؟
۰/۵		۶- الکتریسیته در وسایل زیر چه چیزی تولید می کند؟ چراغ مطالعه:..... سماور برقی:.....
۱		۷- بازتابش نور چیست؟
۰/۵		۸- دو نوع کانی که در طبیعت به صورت خالص یافت می شود نام ببرید.
۰/۵		۹- چرا عطارد گرم ترین سیاره منظومه شمسی است؟
۱		۱۰- به نظر شما چرا افرادی که در شهرهای بزرگ زندگی می کنند بیشتر به بیماری های تنفسی مبتلا می شوند؟ (۲ مورد)
۱		۱۱- سرخرگ ها در کجای بدن قرار گرفته اند و چه وظیفه ای دارند؟
۱		۱۲- تفاوت مخلوط ماسه در آب و نمک در آب چیست؟

با سمه تعالی

آزمون درس : انشا

سرپرستی مدارس جمهوری اسلامی ایران در امارات عربی متحده

مدت آزمون : ۶۰ دقیقه

پایه : چهارم

مجتمع آموزشی امام خمینی (ره) ابوظبی

تاریخ : ۸۹/۳/۵

نام و نام خانوادگی:

خرداد سال تحصیلی ۸۹-۸۸

شماره صفحه : ۱

ردیف	سوالات	بارم								
۱-	هر سه کلمه را در یک جمله به کار ببر. افتاد- اتفاق - خیابان	۱								
۲-	دور کلمه ای که با بقیه کلمه ها هم خانواده نیست خط بکش. <table border="1" style="display: inline-table; margin-right: 20px;"> <tr> <td>شهادت - شهید - شهدا - شهرت</td> </tr> </table> <table border="1" style="display: inline-table;"> <tr> <td>قطع - قطر - قطعه - قاطع</td> </tr> </table>	شهادت - شهید - شهدا - شهرت	قطع - قطر - قطعه - قاطع	۰/۵						
شهادت - شهید - شهدا - شهرت										
قطع - قطر - قطعه - قاطع										
۳-	اصطلاح زیر را در یک جمله به کار ببر. سایه به سایه	۰/۵								
۴-	کلمه های مترادف را به هم وصل کن. <table border="1" style="display: inline-table; margin-right: 20px;"> <tr> <td>آسمان</td> <td>معاشرت</td> </tr> <tr> <td>هم نشینی</td> <td>زیر دست</td> </tr> <tr> <td>ماهر</td> <td>مقاوم</td> </tr> <tr> <td>پایدار</td> <td>سپهر</td> </tr> </table>	آسمان	معاشرت	هم نشینی	زیر دست	ماهر	مقاوم	پایدار	سپهر	۱
آسمان	معاشرت									
هم نشینی	زیر دست									
ماهر	مقاوم									
پایدار	سپهر									
۵-	برای کلمه زیر سه کلمه هم پایان (هم قافیه) بنویس. باز،	۰/۷۵								
۶-	در جمله زیر نهاد و قید و فعل را مشخص کنید. من دیروز جوراب های خود را شستم.	۰/۷۵								
۷-	کامل کنید. به کسی که خورده باشد مسموم می گویند. به برادر پدر می گویند.	۰/۵								
۸-	هر دو کلمه مربوط به یک ضرب المثل است آن را بنویس. (کفش - بیابان)	۱								

۱	<p>با استفاده از کلمه های زیر یک بند بنویس.</p> <p>قدیمی ، ارث ، موزه ، کاوشگران ، آثار ، باستانی</p> <p>.....</p> <p>.....</p> <p>.....</p> <p>.....</p>	۷
۱۰	<p>از سه موضوع زیر یکی را انتخاب کن و انشایی زیبا بنویس.</p> <p>۱- اگر روزی همه ی وسایل ارتباط جمعی نابود شود چه اتفاقی می افتد؟</p> <p>۲- خلاصه ی درس بیمار و ناشنوا را بنویس.</p> <p>۳- طبیعت محل زندگی خود را توصیف کن.</p>	۸

باسمه تعالی
 مجتمع آموزشی خدیجه کبری (س)
 سال تحصیلی ۸۹ - ۸۸
 نام درس : انشا
 مقطع تحصیلی : ابتدایی

نوبت امتحان : دوم (خرداد ۸۶)
 مدت امتحان : ۴۰ دقیقه

نام و نام خانوادگی :
 پایه تحصیلی : چهارم

ردیف	سوال	بارم												
۱	دخترم با کلمات زیر ، جملات زیبا بنویس. اتفاق افتاد : شانه به شانه : مطمئن : ثروت های ملی :	۴												
۲	جملات زیر را کامل کن. خدایا ، راهنمایم باش که به کسی بی احترامی نکنم ، زیرا من ورزش را برای آن دوست دارم که ما باید به بزرگترها بگذاریم. هوای کوهستان خیلی پاک و تمیز	۱												
۳	در جمله های زیر ، نهاد قید . فعل را مشخص کن.	۱/۵												
	<table border="1"> <thead> <tr> <th>جمله</th> <th>نهاد</th> <th>قید</th> <th>فعل</th> </tr> </thead> <tbody> <tr> <td>زهرا هر روز درس هایش را با دقت می خواند</td> <td></td> <td></td> <td></td> </tr> <tr> <td>من دیروز جوراب های خود را شستم</td> <td></td> <td></td> <td></td> </tr> </tbody> </table>	جمله	نهاد	قید	فعل	زهرا هر روز درس هایش را با دقت می خواند				من دیروز جوراب های خود را شستم				
جمله	نهاد	قید	فعل											
زهرا هر روز درس هایش را با دقت می خواند														
من دیروز جوراب های خود را شستم														
۴	مخالف کلمات زیر را بنویس. ثروتمند : عادل :	۰/۵												
۵	در دو خط بنویس که اگر مدرسه قانون نداشت ، چه اتفاقی می افتاد؟	۱												
۶	مانند نمونه کلمات هم خانواده را بنویس. اشتیاق : شوق - مشتاق محفوظ : میلاد :	۱												

بارم	سوالات	ردیف								
۱	هر سه کلمه را در یک جمله به کار ببر. افتاد - اتفاق - خیابان	۱-								
۰/۵	دور کلمه ای که با بقیه کلمه ها هم خانواده نیست خط بکش. شهادت - شهید - شهدا - شهرت قطع - قطر - قطعه - قاطع	۲-								
۰/۵	اصطلاح زیر را در یک جمله به کار ببر. سایه به سایه	۳-								
۱	کلمه های مترادف را به هم وصل کن. <table border="1" style="margin-left: auto; margin-right: auto;"> <tr> <td>آسمان</td> <td>معاشرت</td> </tr> <tr> <td>هم نشینی</td> <td>زبر دست</td> </tr> <tr> <td>ماهر</td> <td>مقاوم</td> </tr> <tr> <td>پایدار</td> <td>سپهر</td> </tr> </table>	آسمان	معاشرت	هم نشینی	زبر دست	ماهر	مقاوم	پایدار	سپهر	۴-
آسمان	معاشرت									
هم نشینی	زبر دست									
ماهر	مقاوم									
پایدار	سپهر									
۰/۷۵	برای کلمه زیر سه کلمه هم پایان (هم قافیه) بنویس. باز،	۵-								
۰/۷۵	در جمله زیر نهاد و قید و فعل را مشخص کنید. من دیروز جوراب های خود را شستم.	۶-								
۰/۵	کامل کنید. به کسی که خورده باشد مسموم می گویند. به برادر پدر می گویند.	۷-								
۱	هر دو کلمه مربوط به یک ضرب المثل است آن را بنویس. (کفش - بیابان)	۸-								

بارم	ردیف	شرح رح وال
۱/۵	۱-	قسمت دیگر کلمه های زیر را بنویسید و با آن جمله بسازید . خطر + ----- = ----- ، ----- دارو + ----- = ----- ، -----
۱	۲-	نوشته ی زیر را به دلخواه خود ادامه دهید . من ورزش را دوست دارم زیرا که ،
۱	۳-	یک ضرب المثل با معنی آن بنویسید
۲	۴-	هردسته از کلمه های زیر را مرتب کنید . کربلا ، امام حسین ، شد ، در ، شهید آفرید ، بزرگ ، حسین فهمیده ، حماسه ای ، کوچک ، بود ، که ، نوجوانی
۲	۵-	مترادف این کلمه ها را بنویسید . توصیه : معاشرت مضطرب زبردست
۱	۶-	کلمه های زیر را در جمله ای به کار ببرید . (نهال ، دهقان ، باغ ،)
۰/۵	۷-	با توجه به کلمه ی داخل کمانک جمله را تغییر دهید . علی خیلی گرفته است . (ناراحت بودن)
۱	۸	هم خانواده ی این کلمه ها را بنویس . آفریدن ----- مفتخر ----- اشکال ----- امواج -----

بارم	شرح سئوال	ردیف
۱,۵	کلمه های هم معنی را به هم وصل کن . دنیا گذشت هدف مقصود ایثار عالم	۱
۲	به کلمه های زیر (ناک) اضافه کن و با آن ها جمله بساز . درد..... نم.....	۲
۲	با کلمه ی زیر یک جمله ی خبری و یک جمله ی پرسشی بساز . عید فطر.....	۳
۱	اصطلاح زیر را در یک جمله به کار ببر . سایه به سایه.....	۴
۱	دو ضرب المثل بنویس	۵
۱,۵	درباره ی ثروت های ملی ایران دو سطر بنویس	۶
۱	به نظر تو اگر در مصرف آب یا مواد سوختنی صرفه جویی نکنیم چه می شود ؟	۷

سرپرستی مدارس جمهوری اسلامی ایران در امارات عربی متحده

مجتمع آموزشی نمونه و بین الملل توحید پسران دبی

امتحانات نوبت دوم سال تحصیلی ۸۹-۸۸

آزمون: بنویسیم پایه و کلاس: چهارم تاریخ آزمون: ۸۹/۳/۵ مدت زمان:

نام و نام خانوادگی دانش آموز:

خداوندا ما تنها بر تو تکیه می کنیم

الف: گزینه درست را با علامت × مشخص کنید. (هر مورد ۰/۲۵ نمره)

۱- به داستان هایی که از زبان موجودات بی جان یا خیالی مانند دیو و غول اند می گویند.

الف) رمان ب) افسانه ج) کنایه د) قصه

۲- در عبارت زیر کدام فعل حذف شده است؟

به لقمان گفتند: ادب از که آموختی: گفت: از بی ادبان

الف) آموختیم ب) آموختند ج) آموختم د) آموخت

۳- ضرب المثل "من یک پیراهن بیش تر از تو پاره کردم" در کدام مورد به کار می رود؟

الف) شوخی کردن ب) بی توجه بودن ج) بدشانس بودن د) با تجربه تر بودن

ب: در جاهای خالی واژه ی مناسب بنویس. (هر مورد ۰/۲۵ نمره)

الف) چرا کند کاری که باز آرد پشیمانی؟

ب) معمولا سال را به صورت (ه. ش.) می نویسند.

ج) به جمله هایی که دو معنی دارند، اما معنی اصلی و مهم آن پوشیده است می گویند.

د) کودکان اصلی هر کشورند.

ج: مخالف کلمه های داده شده را بنویس. (۱ نمره)

غم قطع کهنه ضعیف

د: برای هر اسم یک صفت مناسب بنویسید. (۱ نمره)

مدرسه آسمان قانون فکر

ه: جمع کلمه های داده شده را بنویسید. (۰/۵ نمره)

طفل ولی

و: هم خانواده ی کلمه های داده شده را بنویسید . (۵ / ۰ نمره)

جمع شاعر

ز: با هریک از کلمات داده شده جمله ی مناسبی بنویسید . (۷۵ / ۰ نمره)

..... موجودات :

..... اختراع :

..... پیشرفت :

ح: با استفاده از کلمات داده شده متن کوتاهی بنویسید . (۱ نمره)

پدر و مادر - خدایا - خشنود - موفق - درس

ط: شکل دیگر واژه های زیر را بنویس . (۵ / ۰ نمره)

سنبل جاروب

ی: درباره ی این بیت شعر توضیح دهید : (۱ نمره)

علم چندان که بیشتر خوانی چون عمل در تو نیست نادانی

ک: متن زیر را از گفتاری به نوشتاری تغییر بده . (۱ نمره)

ایشون می خواد بهم بگه : کلیه ها وظیفه شون پاکیزه کردن خون هس ، مٹ یه رفتگر

مجمع آموزشی نمونه توحید دختران

سال تحصیلی ۸۸-۸۹

نام و نام خانوادگی:

نام درس: اتشا

نمره با عدد:

پایه: چهارم

نمره با حروف:

نام دبیر:

مدت امتحان: ۷۰ دقیقه

امضا آموزگار:

صفحه: ۱

تاریخ امتحان: ۸۹/۳/۵

رشته: ابتدایی

۱) هر سه واژه را در یک جمله بکار ببرید.

الف) اذان - خوشایند - شنیدن

ب) حسین فهمیده - نوجوانی - حماسه ای

۲) واژه ی مناسب را انتخاب کنید و آن را در جای خالی بنویسید.

الف) او با شنیدن سرود ملی ایران از جای بر _____ . (خواست - خاست)

ب) پرستوها باید لانه های _____ را ترک بگویند و به جاهای معتدل تری کوچ کنند. (خیش - خویش)

۳) کلمه های زیر را مرتب کنید و با آن جمله بسازید.

کلمه های زیر را مرتب کنید و با آن جمله بسازید.

برای - شهادت - اسلام - از - دفاع - امام حسین (ع) - به - رسید.


۴) کامل کنید.

الف) هیچ فقیری گرسنه نبود، اگر _____


ب) سارا از خاتمه خارج شد زیرا _____

۵) تصریر زیر را با دقت نگاه کن. برای آن یک ضرب المثل بنویسید و

بگویند در چه مواقعی آن را به کار می بریم.



۶) برای تصویر رویه رو داستان کوتاهی بنویس. (۴ سطر)



۷) با استفاده از کلمات داده شده یک بند بنویس. (مرمت - جامه - لطافت - اوایل - همتا - کم یاب - پیشین)

۸) متن زیر را بخوان و هر جا که لازم است، نشانه های (. - ؟ - : - ! - ،) را به کار ببر.

در این هنگام گلناز از راهنمای موزه پرسید آیا میراث فرهنگی فقط به چیزهایی می گویند که در موزه ها هستند

۹) نوشته ی زیر را در چهار سطر کامل کن.

غزاله دوست من است. او نابینا است. ما هر روز

۱۰) شعر سعدی را بخوانید و درباره ی آن توضیح دهید.

علم چندان که بیشتر خوانی چون عمل در تو نیست نادانی

نمره با عدد: نمره با حروف: نام و امضای آموزگار:	سرپرستی مدارس جمهوری اسلامی ایران در امارات عربی متحده مجتمع آموزشی نمونه توحید دختران دبی سال تحصیلی ۸۹ - ۱۳۸۸ نام و نام خانوادگی: نام پدر: نام درس: تاریخ و مدنی کلاس: چهارم ابتدایی نوبت: دوم تاریخ امتحان: ۱۲/۳/۸۹ زمان پاسخ گویی: ۵۰ دقیقه صفحه: ۱
---	--

سؤالات درس تاریخ	
۲۵/	۱ حضرت ابراهیم در کدام سرزمین به دنیا آمد؟ <input type="radio"/> بابل <input type="radio"/> بین النهرین <input type="radio"/> مصر <input type="radio"/> نینوا
۲۵/	۲ چرا فرمانروایان قانون را به وجود آوردند؟ <input type="radio"/> برای گرفتن مالیات <input type="radio"/> برای اداره ی بهتر شهر ها <input type="radio"/> برای دادو ستد راحت مردم <input type="radio"/> برای رسیدگی به اموال مردم
۲۵/	۳ چه عاملی باعث شد انسان ها در یک جا ساکن شوند؟ <input type="radio"/> دامداری <input type="radio"/> شهر نشینی <input type="radio"/> کشاورزی <input type="radio"/> صنعت
۲۵/	۴ پس از مرگ اسکندر، چه کسانی فرمانروای ایران شدند؟ <input type="radio"/> هخامنشیان <input type="radio"/> سلوکیان <input type="radio"/> پارس ها <input type="radio"/> اشکانیان
۲۵/	۵ حکومت ساسانی برای تامین هزینه های جنگ چه کاری انجام می داد؟ <input type="radio"/> تولیدات کشور را افزایش می داد <input type="radio"/> به کشورهای دیگر حمله می کرد <input type="radio"/> مالیات ها را افزایش می داد <input type="radio"/> مخارج حکومت را کاهش می داد
۲۵/	۶ داریوش برای محافظت از راه ها و کاروان ها، چه کرد؟ <input type="radio"/> چاپار خانه ها را ساخت <input type="radio"/> قلعه ها را ایجاد کرد <input type="radio"/> شهر بان ها را تعیین کرد <input type="radio"/> سپاه جاویدان را تشکیل داد
۳	۷ جاهای خالی را کامل کنید. پایتخت ماد ها نام داشت. مهم ترین مشکل انسان نخستین بود. پیامبر اسلام، حضرت محمد(ص) به پادشاه ایران نامه نوشت و او را به اسلام دعوت کرد. دین زردشتی را دین رسمی کشور اعلام کرد. پارت ها به فرماندهی سلوکیان را شکست داد.

صفحه: ۲		
۱	<p>جملات صحیح را با علامت (ص) و جملات غلط را با علامت (غ) مشخص کنید.</p> <p>الف- ماد ها در غرب و جنوب غربی ایران ساکن شدند. ()</p> <p>ب- طاق کسری از آثار دوره ی ساسانیان است. ()</p> <p>ج- علت عمده ی جنگ های ایران و روم برسر تصرف تیسفون بود. ()</p> <p>د- اولین ابزار های ساخت انسان نخستین بیش تر از جنس فلز بود. ()</p>	۸
.۵	چرا آریایی ها سرزمین ایران را برای سکونت انتخاب کردند؟	۹
۱	نخستین کشور ها چگونه به وجود آمدند؟	۱۰
۱	ما با دیدن نقاشی های روی دیوار غار ها به چه چیزی پی می بریم؟	۱۱
.۵	چرا انسان های نخستین در غار ها زندگی می کردند؟	۱۲
۱	در زمان ساسانیان مردم ایران به چند طبقه تقسیم می شدند؟ توضیح دهید.	۱۳
.۵	در زمان ساسانیان کدام هنرها پیشرفت زیادی کردند؟	۱۴
.۵	سورنا که بود و چه کرد؟	۱۵

۱	صفحه : ۳	۱۶
	چه عواملی باعث ضعف حکومت اشکانی شد؟	
.۵	چرا خسرو پرویز در جنگ با رومی ها شکست خورد؟	۱۷
	سؤالات درس مدنی	
.۵	کدام یک از اعضای مدرسه، برنامه ی کار مدرسه را تنظیم می کند؟ <input type="radio"/> معلم <input type="radio"/> ناظم <input type="radio"/> مدیر <input type="radio"/> مربی پرورشی	۱۸
.۵	کدام یک از فعالیت های زیر در شهر ها دیده نمی شود؟ <input type="radio"/> کار در کارخانه ها <input type="radio"/> کشاورزی <input type="radio"/> کار در اداره ها <input type="radio"/> فروشنده گی	۱۹
۱	در جا های خالی جواب مناسب بنویسید. الف- اداره کردن هر شهر بر عهده ی است. ب- مسلمانان جهان در حدود نفر هستند. ج- کودکانی که در خانواده از تربیت، محبت و اخلاق خوب بهره مند شوند، در آینده افرادی و خواهند شد.	۲۰
.۵	جملات صحیح را با علامت (ص) و جملات غلط را با علامت (غ) مشخص کنید خانواده ی بزرگ همه ی ما ایرانیان، کشور ایران نام دارد. () همه ی مسلمانان جهان جزء امت اسلامی هستند. ()	۲۱
۱	چرا مسجد نمونه ی کوچکی از جامعه ی اسلامی است؟	۲۲
.۷۵	معنای نظم چیست؟	۲۳

بسمه تعالی

نام و نام خانوادگی:
پایه: ۳
شعبه: ۱
نام آزمون: تاریخ و مدنی
تاریخ: ۸/۳/۸۹
نام آموزگار:

سرپرستی مدارس جمهوری اسلامی ایران در امارات عربی متحده
نوبت دوم خرداد ماه سال تحصیلی ۸۸-۸۹ مجتمع آموزشی شارجه

تاریخ		الف) سوالات صحیح غلط زیر را مشخص کنید.	
ص	غ		
<input type="checkbox"/>	<input type="checkbox"/>	۱	مادها با آشوری ها همسایه بودند.
<input type="checkbox"/>	<input type="checkbox"/>	۲	پایتخت هخامنشیان تیسفون بود.
<input type="checkbox"/>	<input type="checkbox"/>	۳	اردشیر نوه ی ساسان بود.
<input type="checkbox"/>	<input type="checkbox"/>	۴	دانشگاه جندی شاپور به دستور اسکندر ساخته شد.
ب) سوالات زیر را کامل کنید.			
۰/۵		۱	رسیدگی به کار مالیات ها باعث اختراع شد.
۰/۵		۲	حضرت نوح در شهر زندگی می کرد.
ج) به سوالات زیر پاسخ دهید.			
۱/۵		۱	سه پایه دین زردشت چیست؟
۱		۲	دین اسلام مردم را به چه چیزی دعوت کرد؟
۱/۵		۳	در دوره ساسانی چه کسانی جز طبقه ی بزرگان بودند؟
۱		۴	سورنا که بود و چه کرد؟
۱		۵	علل عمده ی جنگ رومی ها با ایران چه بود؟
۱/۵		۶	سه مورد از کارهای داریوش را نام ببر.
۱		۷	چگونه روستاها به وجود آمدند؟

۱	مهم ترین مشکلات انسان ها در هزاران سال پیش چه بود؟	۸
۰/۵	راه شاهی چیست؟	۹
۰/۵	مدنی الف) سوالات صحیح غلط زیر را مشخص کنید.	
۰/۵	ص	۱ خانواده با تولد فرزندان شکل می گیرد.
۰/۵	غ	۲ در شهر فعالیت کشاورزی وجود ندارد.
	ب) سوالات زیر را کامل کنید.	
۰/۵		۱ مدرسه محل تعلیم و است.
۰/۵		۲ جمعیت روستا از شهر است.
	ج) به سوالات زیر پاسخ دهید.	
۱/۵		۱ معنی نظم چیست؟
۱		۲ کار شهرداری چیست؟
۱		۳ امت اسلام چه چیزهای مشترکی دارند؟
۱		۴ سال ایرانی چه موقع شروع می شود و چه موقع پایان می یابد؟
۱/۵		۵ در مسجد نماز جماعت چگونه برگزار می شود؟

نام خانوادگی :	باسمه تعالی	مقطع ابتدایی دختران
سوالات ماده درسی : تاریخ «مدرسه»	اداره کل مدارس خارج کشور	تعداد صفحه :
پایه ی چهارم :	سرپرستی مدارس جمهوری اسلامی ایران	نام آموزگار :
شعبه کلاس :	درامات عربی متحده	تاریخ :
زمان : ۵۰ دقیقه	مجتمع آموزشی شارجه	نوبت دوم خرداد ماه

نمره به حروف

نمره به عدد

جواب صحیح را با زدن علامت X مشخص کنید.

شماره	سوال	بار
۱	مهمترین مشکل انسان نخستین چه بود؟ فراهم کردن غذا <input type="checkbox"/> مسکن <input type="checkbox"/> پوشاک <input type="checkbox"/> شکار کردن <input type="checkbox"/>	۰/۵
۲	برای رسیدگی به کار مالیاتها و حساب کردن چه چیزی اختراع شد؟ آتش <input type="checkbox"/> خط <input type="checkbox"/> پول <input type="checkbox"/> ابزار <input type="checkbox"/>	۰/۵
۳	اولین شهرها در کجا بوجود آمدند؟ در کنار رودها <input type="checkbox"/> در اطراف دریاها <input type="checkbox"/> در اطراف کوهها <input type="checkbox"/> در اطراف اقیانوسها <input type="checkbox"/>	۰/۵
۴	پیروان حضرت نوح چه کسانی بودند؟ گروهی از مردم ستم دیده <input type="checkbox"/> ثروتمندان <input type="checkbox"/> فرمانروایان ظالم <input type="checkbox"/> ستمگران <input type="checkbox"/>	۰/۵
جاهای خالی را با کلمه مناسب پر کنید.		
۵	حضرت ابراهیم در زمان پادشاهی به دنیا آمد.	۰/۵
۶	مادها در دامنه‌ی کوه شهری ساختند و نام آن را گذاشتند.	۱
۷	یکی از بناهای معروف خسرو انوشیروان بود.	۰/۵
۸	طولانی ترین و مهمترین راهها در زمان هخامنشیان راه بود.	۰/۵
۹	کتاب مقدس زردشتیان بود.	۰/۵
۱۰	با وزود از شمال دریای خزر سرزمین ما ایران نام گرفت.	۰/۵
۱۱	انسان های نخستین نیازهای خود را از راه برطرف می کردند.	۰/۵
جمله های صحیح را با حرف «ص» و جمله های غلط را با حرف «غ» مشخص کنید.		
۱۲	انسانها برای مراقبت از زمینهای کشاورزی خانه هایشان را در کنار یکدیگر ساختند. ()	۰/۵
۱۳	علت عمده‌ی جنگهای ایران و روم بر سر تیسفون بود. ()	۰/۵
۱۴	طبقه بزرگان مالیات می پرداختند و در موقع جنگ سپاه پیاده را تشکیل می دادند. ()	۰/۵
۱۵	اعراب مسلمان شهر تیسفون را فتح کردند. ()	۰/۵
به سوالات زیر با دقت پاسخ دهید.		
۱۶	۱ خداوند در مقایسه با بقیه جانوران دو نعمت بزرگ به انسان عطا کرده است آنها را نام ببرید.	۱

۱	چگونه می توانیم به زندگی انسانهای غار نشین و ابزار و وسایل آنها پی ببریم؟	۱۷
۱	در زمان ساسانیان چه هنرهایی پیشرفت کرد؟	۱۸
۱	چرا در زمان هخامنشیان در بین راهها قلعه می ساختند؟	۱۹

سوالات هفتی: جواب صمیم را با زدن علامت X مشخص کنید.

۰/۵	نام جامعه جهانی مسلمان چیست؟ <input type="checkbox"/> ملت <input type="checkbox"/> امت <input type="checkbox"/> مسجد <input type="checkbox"/> امت اسلامی	۲۰
۰/۵	تهیه خوراک و لباس و سایر وسایل زندگی فرزندان وظیفه کیست؟ <input type="checkbox"/> مادر <input type="checkbox"/> مادر پدر <input type="checkbox"/> فرزندان <input type="checkbox"/> خویشاوندان	۲۱
۰/۵	دومین جامعه ای که ما در آن زندگی می کنیم چه نام دارد؟ <input type="checkbox"/> خانه <input type="checkbox"/> مدرسه <input type="checkbox"/> مسجد <input type="checkbox"/> محله	۲۲

جاهای خالی را با کلمه مناسب پر کنید.

۰/۵	خانواده هایی که بیش از دو فرزند دارند در گروه خانواده های قرار می گیرند.	۲۳
۰/۵	زبان و خط رسمی ملت ایران نام دارد.	۲۴
۰/۵	کسی که با همکاری کارکنان مدرسه برنامه کار مدرسه را تنظیم می کند نام دارد.	۲۵
۱	کودکانی که در خانواده از تربیت و محبت و اخلاق خوب بهره مند شوند در آینده افرادی و خواهند شد.	۲۶

به سوالات زیر با دقت پاسخ دهید.

۱	مسلمانان جهان در چه چیزهایی با هم مشترک هستند؟	۲۷
۱	با تلاش جهاد سازندگی در بیشتر روستاها چه امکاناتی فراهم شده است؟	۲۸
۱	معنی نظم چیست؟	۲۹
۰/۵	یکی از وظایف شهرداری چیست؟	۳۰
۰/۵	مردم برای حل مشکلات خود در مسجد چه می کنند؟	۳۱

ردیف	سوالات	بارم
دستور کار الف: پاسخ صحیح را با علامت × مشخص کنید.		
۱-	حضرت موسی در کجا زندگی می کرد؟ الف) فلسطین <input type="radio"/> ب) بین النهرین <input type="radio"/> ج) بابل <input type="radio"/> د) مصر <input type="radio"/>	
۲-	کدام یک از اقوام زیر آریایی نبودند؟ الف) پارت ها <input type="radio"/> ب) پارس ها <input type="radio"/> ج) مادها <input type="radio"/> د) آشوری ها <input type="radio"/>	
۳-	چه کسی تخت جمشید را به آتش کشید؟ الف) خسرو پرویز <input type="radio"/> ب) اردشیر <input type="radio"/> ج) داریوش <input type="radio"/> د) اسکندر <input type="radio"/>	
۴-	جنگ بین ایران و روم بر سر چه سرزمین هایی بود؟ الف) بابل <input type="radio"/> ب) تخت جمشید <input type="radio"/> ج) ارمنستان <input type="radio"/> د) لیدی <input type="radio"/>	۳/۵
۵-	چه کسی دین زردشت را دین رسمی ایران اعلام کرد؟ الف) یزدگرد <input type="radio"/> ب) اردشیر <input type="radio"/> ج) داریوش <input type="radio"/> د) خسرو پرویز <input type="radio"/>	
۶-	ملت ایران در کدام مورد با هم مشترک نیستند؟ الف) قانون اساسی <input type="radio"/> ب) پرچم <input type="radio"/> ج) سرود <input type="radio"/> د) آداب و رسوم <input type="radio"/>	
۷-	معمولاً ----- در اطراف شهرها قرار دارند. الف) اداره ها <input type="radio"/> ب) فروشگاه ها <input type="radio"/> ج) کارگاه ها <input type="radio"/> د) بیمارستان ها <input type="radio"/>	
دستور کار ب: جاهای خالی را با کلمات مناسب پر کنید.		
۱-	وقتی انسان ها خانه هایشان را در کنار هم ساختند اولین ----- بوجود آمد.	
۲-	پادشاه ستمگر زمان حضرت ابراهیم (ع) ----- نام داشت.	
۳-	پارس ها به رهبری ----- به جنگ با مادها پرداختند.	
۴-	حضرت عیسی در شهر ----- به دنیا آمد.	۳/۵
۵-	دین اسلام مردم را به پرستش خدای یگانه، برادری و ----- دعوت می کرد.	
۶-	سه پایه ی اصلی دین زردشت پندار نیک و گفتار نیک و ----- است.	
۷-	مدرسه محلّ تعلیم و ----- است.	
دستور کار ج: جملات صحیح را با (ص) و جملات غلط را با (غ) مشخص کنید.		
۱-	دانشگاه جندی شاپور به دستور انوشیروان ساخته شد. ()	
۲-	سورنا فرمانده ی ایرانی در جنگ با کراسوس شکست خورد. ()	
۳-	زمانی که آریایی ها به سرزمین ما آمدند، این سرزمین ایران نام گرفت. ()	۲
۴-	پایتخت معروف هخامنشیان شهر هگمتانه بود. ()	

ردیف	سوالات	بارم
دستور کار الف: پاسخ صحیح را با علامت x مشخص کنید.		
۱-	حضرت موسی در کجا زندگی می کرد؟ الف) فلسطین <input type="radio"/> ب) بین النهرین <input type="radio"/> ج) بابل <input type="radio"/> د) مصر <input type="radio"/>	۳/۵
۲-	کدام یک از اقوام زیر آریایی نبودند؟ الف) پارت ها <input type="radio"/> ب) پارس ها <input type="radio"/> ج) مادها <input type="radio"/> د) آشوری ها <input type="radio"/>	
۳-	چه کسی تخت جمشید را به آتش کشید؟ الف) خسرو پرویز <input type="radio"/> ب) اردشیر <input type="radio"/> ج) داریوش <input type="radio"/> د) اسکندر <input type="radio"/>	
۴-	جنگ بین ایران و روم بر سر چه سرزمین هایی بود؟ الف) بابل <input type="radio"/> ب) تخت جمشید <input type="radio"/> ج) ارمنستان <input type="radio"/> د) لیدی <input type="radio"/>	
۵-	چه کسی دین زردشت را دین رسمی ایران اعلام کرد؟ الف) یزدگرد <input type="radio"/> ب) اردشیر <input type="radio"/> ج) داریوش <input type="radio"/> د) خسرو پرویز <input type="radio"/>	
۶-	ملت ایران در کدام مورد با هم مشترک نیستند؟ الف) قانون اساسی <input type="radio"/> ب) پرچم <input type="radio"/> ج) سرود <input type="radio"/> د) آداب و رسوم <input type="radio"/>	
۷-	معمولاً ----- در اطراف شهرها قرار دارند. الف) اداره ها <input type="radio"/> ب) فروشگاه ها <input type="radio"/> ج) کارگاه ها <input type="radio"/> د) بیمارستان ها <input type="radio"/>	
دستور کار ب: جاهای خالی را با کلمات مناسب پر کنید.		
۱-	وقتی انسان ها خانه هایشان را در کنار هم ساختند اولین ----- بوجود آمد.	۳/۵
۲-	پادشاه ستمگر زمان حضرت ابراهیم (ع) ----- نام داشت.	
۳-	پارس ها به رهبری ----- به جنگ با مادها پرداختند.	
۴-	حضرت عیسی در شهر ----- به دنیا آمد.	
۵-	دین اسلام مردم را به پرستش خدای یگانه ، برادری و ----- دعوت می کرد.	
۶-	سه پایه ی اصلی دین زردشت پندار نیک و گفتار نیک و ----- است.	
۷-	مدرسه محلّ تعلیم و ----- است.	
دستور کار ج: جملات صحیح را با (ص) و جملات غلط را با (غ) مشخص کنید.		
۱-	دانشگاه جندی شاپور به دستور انوشیروان ساخته شد. ()	۲
۲-	سورنا فرمانده ی ایرانی در جنگ با کراسوس شکست خورد. ()	
۳-	زمانی که آریایی ها به سرزمین ما آمدند، این سرزمین ایران نام گرفت. ()	
۴-	پایتخت معروف هخامنشیان شهر هگمتانه بود. ()	



به نام خدا

نام و نام خانوادگی :

مدارس جمهوری اسلامی ایران در امارات

تاریخ امتحان: ۱۳۸۹،۳/۸

نام پدر:

مجتمع آموزشی خدیجه کبری

نمره به حروف:

نام درس: تاریخ و مدنی

نام کلاس: چهارم

زمان امتحان: ۶۰ دقیقه

نمره به عدد:

نمره	سوالات تاریخ	ردیف										
۲/۵	<p>کدام پاسخ صحیح را با علامت (x) مشخص کنید.</p> <p>• مهمترین مشکل انسان نخستین چه بود؟</p> <p>الف) شکار <input type="checkbox"/> ب) فراهم کردن غذا <input type="checkbox"/> ج) تهیه ی مسکن <input type="checkbox"/> د) کشف آتش <input type="checkbox"/></p> <p>• اولین ابزارهای انسان نخستین بیشتر از جنس بود.</p> <p>الف) سفالی <input type="checkbox"/> ب) چوبی <input type="checkbox"/> ج) سنگی <input type="checkbox"/> د) فلزی <input type="checkbox"/></p> <p>• فرمانروایان برای برقراری نظم و اداره بهتر شهرها را به وجود آوردند.</p> <p>الف) مالیات <input type="checkbox"/> ب) قانون <input type="checkbox"/> ج) خط <input type="checkbox"/> د) پول <input type="checkbox"/></p> <p>• حضرت موسی (ع) در به دنیا آمد.</p> <p>الف) بابل <input type="checkbox"/> ب) فلسطین <input type="checkbox"/> ج) بین النهرین <input type="checkbox"/> د) مصر <input type="checkbox"/></p> <p>• پایتخت هخامنشیان نام داشت.</p> <p>الف) تخت جمشید <input type="checkbox"/> ب) هگمتانه <input type="checkbox"/> ج) تیسفون <input type="checkbox"/> د) صد دروازه <input type="checkbox"/></p>	۱										
۲/۵	<p>کدام در جاهای خالی کلمه های مناسب بنویسید.</p> <p>به فرمانروایان مصر می گفتند.</p> <p>نام جد کوروش بود.</p> <p>مهمترین و طولانی ترین راه ها راه بود.</p> <p>خداوند به انسان در مقایسه با جانوران عقل و عطا کرده است.</p> <p>ضرب سکه در زمان پادشاهی رواج پیدا کرد.</p>	۲										
۲	<p>کدام پاسخ صحیح را با ص و پاسخ غلط را با خ مشخص کنید.</p> <p>الف) در دوره ی شکار وظیفه ی زنان نگهداری از بچه ها و جمع آوری گیاهان خوراکی بود.</p> <p>ب) آریایی ها حدود چهار صد سال پیش به سرزمین ما آمدند.</p> <p>ج) انسانهای نخستین از راه مبادله کالا با کالا به داد و ستد می پرداختند.</p> <p>د) خسرو پرویز دعوت به اسلام را نپذیرفت.</p> <table border="1" style="display: inline-table; vertical-align: middle;"> <tr> <td>ص</td> <td>خ</td> </tr> <tr> <td> </td> <td> </td> </tr> <tr> <td> </td> <td> </td> </tr> <tr> <td> </td> <td> </td> </tr> <tr> <td> </td> <td> </td> </tr> </table>	ص	خ									۳
ص	خ											
۲	<p>کدام جمله را با یک خط به عبارت مناسب وصل کنید.</p> <p>دانشگاه جندی شاپور به دستور او ساخته شد. اسکندر</p> <p>پادشاه یونان و مقدونیه که به ایران حمله کرد. نمرود</p> <p>سردار شجاع ایرانی که رومی ها را شکست داد. سورنا</p> <p>حضرت ابراهیم (ع) به دستور او به آتش انداخته شد. فرعون</p> <p>انوشیروان</p>	۴										
۱/۵	<p>کشف آتش چه فایده هایی داشت؟ (سه مورد)</p>	۵										

۰/۷۵	چرا مردم ایران دین اسلام را پذیرفتند؟	۶
۰/۷۵	شعارهای سه گانه ی دین زردشت را بنویسید؟	۷
۱/۵	<p>((بخش سئوالات مدنی))</p> <p>کج پاسخ صحیح را با علامت (x) مشخص کنید .</p> <ul style="list-style-type: none"> • دومین خانه ای که ما در آن زندگی می کنیم چه نام دارد؟ الف) مدرسه <input type="checkbox"/> ب) خانواده <input type="checkbox"/> ج) مسجد <input type="checkbox"/> د) کتابخانه <input type="checkbox"/> • اداره ی شهر به عهده ی کجاست؟ الف) فرمانداری <input type="checkbox"/> ب) آموزش و پرورش <input type="checkbox"/> ج) شهرداری <input type="checkbox"/> د) دادگاه <input type="checkbox"/> • اسلام به کدامیک از جامعه های زیر اهمیت زیادی داده است؟ الف) مسجد <input type="checkbox"/> ب) خانواده <input type="checkbox"/> ج) مدرسه <input type="checkbox"/> د) مسجد و خانواده <input type="checkbox"/> 	۸
۱	<p>کعبه سئوالات زیر با دقت پاسخ دهید .</p> <p>روز جمعه مخصوص چه کارهایی است؟ (۲ مورد)</p>	۹
۰/۵	چرا بیشتر مردم روستاها همدیگر را می شناسند؟	۱۰
۰/۷۵	سه مورد از خوبیهای زندگی شهر ی را بنویسید؟	۱۱
۱/۵	ملت ایران در چه چیزهایی با هم مشترکند؟ (۳ مورد)	۱۲
۰/۷۵	حضرت محمد (ص) در مورد یاری به مظلومان چه فرموده اند؟	۱۳
۲	معنای نظم چیست؟ (۲ مورد)	۱۴

سرپرستی مدارس جمهوری اسلامی ایران در امارات عربی متحده

مجتمع آموزشی نمونه و بین الملل توحید پسران دبی

امتحانات نوبت دوم سال تحصیلی ۸۹-۸۸

نام و نام خانوادگی دانش آموز: آزمون: تاریخ و مدنی پایه و کلاس: چهارم تاریخ آزمون: ۸۹/۳/۸ مدت زمان:

الف: پاسخ صحیح را با علامت × مشخص کنید. (هر مورد ۰/۵ نمره)

۱- به پادشاهان کدام سرزمین فرعون می گفتند؟

الف) بابل ب) مصر ج) بین النهرین د) فلسطین

۲- مادها با چه کسانی همسایه بودند؟

الف) پارس ها ب) پارت ها ج) بابلی ها د) آشوری ها

۳- جنگ ایران و روم بر سر چه سرزمینهایی بود؟

الف) بابل ب) تخت جمشید ج) ارمنستان د) لیری

ب: در جاهای خالی کلمات مناسب بنویسید. (هر مورد ۰/۵ نمره)

۱- فرمانروایان برای برقراری نظم و اداره ی بهتر شهر ها را به وجود آوردند.

۲- طولانی ترین و مهم ترین راهی که به دستور داریوش ساخته شد راه نام داشت.

۳- کتاب مقدس زردشتیان نام داشت.

۴- به دستور انوشیروان دانشگاه بزرگی در ساخته شد.

۵- حکومت ساسانی پس از سال برچیده شد.

ج: با توجه به جملات ، صحیح یا غلط بودن آنها را با علامت × مشخص کنید. (هر مورد ۰/۵ نمره)

۱- مسلمانان شهر تیسفون را فتح کردند.

۲- نخستین کشورها در کنار رودهای نیل - دجله - فرات - کارون به وجود آمد.

ص غ

		۱
		۲
		۳

۳- پارس ها در دامنه ی کوه الوند ، شهر هگمتانه را ساختند.

مدنی

الف : پاسخ صحیح را با علامت x مشخص کنید . (هر مورد ۰/۵ نمره)

۱- دومین جامعه ای که در آن زندگی می کنیم ، کدام است ؟

الف : مدرسه ب : مسجد ج : خانواده د : کشور

۲- جهاد سازندگی کدام یک از امکانات زیر را در روستاها فراهم کرده است ؟

الف : ساختن مدرسه ب : خانه بهداشت ج : ساختن حمام د : هر سه مورد

۳- کدام یک از مکان های زیر در مرکز شهر قرار ندارد؟

الف : فروشگاه ها ب : اداره ها ج : کارگاه ها د : بیمارستانها

۴- زبان و خط رسمی ایران کدام است ؟

الف : عربی ب : فارسی ج : کردی د : ترکی

ب : در جاهای خالی ، کلمات مناسب را بنویسید . (هر مورد ۰/۵ نمره)

۱- ملت ایران دارای قانون اساسی و و و تقویم مشترک هستند .

۲- همه مسلمانان جهان جزء هستند .

ج : به سئوالات زیر پاسخ دهید .

۱- زنان شهری معمولا در چه جاهایی کار می کنند ؟ (دو مورد) (۰/۵ نمره)

۲- معنی نظم چیست ؟ (۱ نمره)

۳- مسجد محل برگزاری چه مراسمی است ؟ (دو مورد) (۱ نمره)

۴- مسلمانان جهان در چه چیزهایی با هم مشترک هستند ؟ (۱ نمره)

۵- اگر مسلمانان جهان با هم متحد شوند ، چه می شود ؟ (۱ نمره)

موفق باشید

سرپرستی مدارس جمهوری اسلامی ایران در امارات عربی متحده

مجمع آموزشی نمونه و بین الملل توحید پسران دبی

امتحانات نوبت دوم سال تحصیلی ۸۹-۸۸

آزمون: جغرافی پایه و کلاس: چهارم تاریخ آزمون: ۸۹/۳/۱۲ مدت زمان:

نام و نام خانوادگی دانش آموز:

الف: جواب درست را با علامت × مشخص کنید. (هر مورد ۰/۵ نمره)

۱- دریاچه ی شمال غربی ایران چه نام دارد؟

الف) قم ب) ارومیه ج) بختگان د) جازموریان

۲- رود جاجرود به کجا می ریزد؟

الف) دریاچه بختگان ب) دریای خزر ج) دریاچه نمک د) دریاچه ارومیه

۳- فرودگاه بین المللی کدام شهر از نظر تعداد پرواز های داخلی و خارجی در کشور مقام اول را دارد

الف) اصفهان ب) تهران ج) شیراز د) مشهد

۴- به خرید و فروش در داخل کشور یا با کشورهای دیگر چه می گویند؟

الف) واردات ب) صادرات ج) بازرگانی د) حمل و نقل

۵- طولانی ترین رود ایران کدام است؟

الف) سفید رود ب) رود چالوس ج) زاینده رود د) رود کارون

۶- وسیع ترین ناحیه آب و هوایی ایران کدام است؟

الف) ناحیه خزری ب) کوهستانی ج) ناحیه گرم و خشک د) ناحیه بیابانی

ب: در جاهای خالی کلمه مناسب بنویسید. (هر مورد ۰/۵ نمره)

۱- به محل رفت و آمد کشتی های کوچک و بزرگ در کنار دریا می گویند.

۲- راه آهن سراسری در شمال کشور به بندر مربوط می شود.

۳- به وسایلی که مردم و کالا را جابجا می کنند، وسایل می گویند.

۴- خلیج فارس و دریای عمان از نظر و اهمیت دارد.

۵- شن، ماسه و گل و لای که رود ها به همراه خود می برند می گویند.

ص	غ

- ج: جمله های صحیح یا غلط را با علامت x مشخص کنید (هر نمره ۰/۵ نمره)
- ۱- یکی از راه های شناخت محیط زندگی خود و دیگران مطالعه ی تاریخ است.
 - ۲- هر نقشه راهنما و علامت های مخصوص به خود دارد.
 - ۳- جهت حرکت زمین از غرب به شرق است.
 - ۴- بلند ترین قلّه ی ایران زرد کوه است.
 - ۵- در ناحیه خزری گرما و سرمای شدید وجود ندارد.

د: به پرسش های زیر پاسخ دهید.

۱- اصطلاحات زیر را تعریف کنید. (۱/۵ نمره)

الف : رشته کوه :

ب : آب و هوا :

ج : صادرات :

۲- راه آهن چه ویژه گیهایی دارد ؟ (۱ نمره)

۳- چرا در کناره های دریای خزر جنگل های انبوه و چمنزارها ی زیادی روئیده اند ؟ (۱ نمره)

۴- چرا راه ها برای کشور ها اهمیت دارند ؟ (۱ نمره)

۵- رود های ناحیه گرم و خشک چه ویژه گی هایی دارند ؟ (۲ مورد) (۱ نمره)

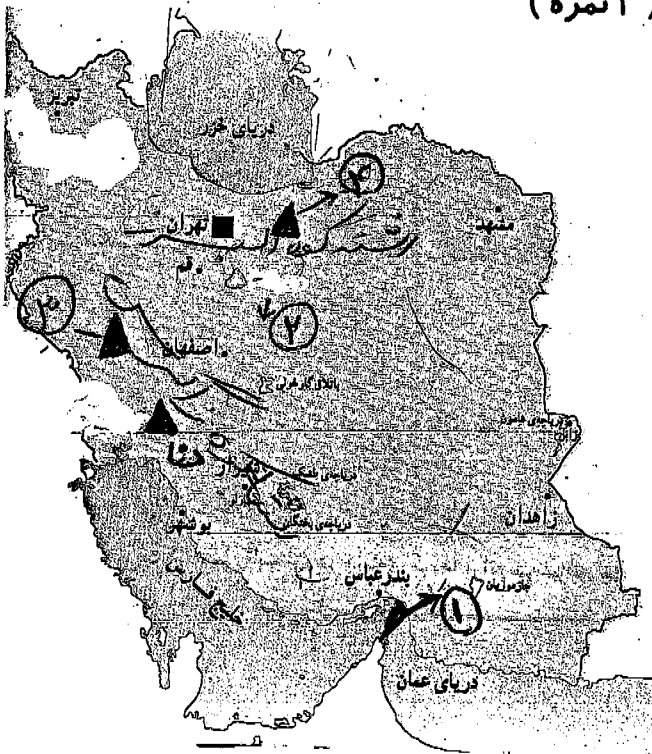
۶- نام چهار رود که به دریای خزر می ریزند را نام ببرید. (۱ نمره)

۷- جلگه چگونه بوجود می آید . نام دو جلگه از کشورمان را بنویسید . (۱/۵ نمره)

۸- چرا ناحیه کوهستانی برای کشور ما اهمیت زیادی دارد؟ (۱ نمره)

۹- قطب نما چیست ؟ (۰/۵ نمره)

۱۰- با توجه به نقشه جاهای خالی آن را پر کنید . (۲ نمره)



- - ۱
- - ۲
- - ۳
- - ۴

موفق و پیروز باشید

به نام خدا

نام و نام خانوادگی:

مدارس جمهوری اسلامی ایران در امارات

مجتمع آموزشی خدیجه کبری

نام پدر:

نام کلاس: بهار ۳

نام درس: جغرافی

تاریخ امتحان: ۱۳۸۹/۳/۱۲

نمره به عدد:

زمان امتحان: ۶۰ دقیقه

نمره به حروف:

الانکراسه تپشن القلوب

بارم	صفحه اول	ردیف
۲/۵	<p>که پاسخ صحیح را با علامت (X) مشخص کنید.</p> <p>بلندترین قله ی رشته کوه البرز کدام یک از موارد زیر است؟</p> <p>الف) سبلان <input type="checkbox"/> (ب) دماوند <input type="checkbox"/> (ج) سهند <input type="checkbox"/> (د) علم کوه <input type="checkbox"/></p> <p>بین جهت های مشرق و جنوب کدام جهت اصلی قرار دارد؟</p> <p>الف) شمال غربی <input type="checkbox"/> (ب) جنوب شرقی <input type="checkbox"/> (ج) شمال شرقی <input type="checkbox"/> (د) جنوب غربی <input type="checkbox"/></p> <p>بزرگترین دریاچه داخلی ایران چه نام دارد؟</p> <p>الف) بختگان <input type="checkbox"/> (ب) هامون <input type="checkbox"/> (ج) خزر <input type="checkbox"/> (د) ارومیه <input type="checkbox"/></p> <p>در این ناحیه باران فراوان می بارد و گرما و سرمای شدید وجود ندارد؟</p> <p>الف) ناحیه کوهستانی <input type="checkbox"/> (ب) ناحیه خزری <input type="checkbox"/> (ج) ناحیه گرم و خشک <input type="checkbox"/></p> <p>رود کارون به کجا می ریزد؟</p> <p>الف) خلیج فارس <input type="checkbox"/> (ب) دریای خزر <input type="checkbox"/> (ج) دریای عمان <input type="checkbox"/></p>	۱
۲	<p>که در جاهای خالی کلمه های مناسب بنویسید.</p> <p>به کوههایی که مانند زنجیر به یکدیگر متصل شده اند می گویند.</p> <p>از به هم پیوستن جویبارها به وجود می آید.</p> <p>به خرید و فروش در داخل کشور یا با کشورهای دیگر را می گویند.</p> <p>راه آهن سراسری ایران در شمال به بندر مربوط می شود.</p>	۲
۲	<p>که جمله های صحیح را با حرف (ص) و جمله های غلط را با حرف (غ) مشخص کنید.</p> <p>الف) به پستی ها و بلند های زمین ناهمواری می گویند. <input type="checkbox"/> ص <input type="checkbox"/> غ</p> <p>ب) در شهر یزد بیشتر ماههای سال هوا گرم است. <input type="checkbox"/> ص <input type="checkbox"/> غ</p> <p>ج) کم وسعت ترین ناحیه آب و هوایی ایران ناحیه کوهستانی است. <input type="checkbox"/> ص <input type="checkbox"/> غ</p> <p>د) از ته نشین شدن آبرفت ها در نزدیکی دریا پس از سالهای زیاد جلگه بوجود می آید. <input type="checkbox"/> ص <input type="checkbox"/> غ</p>	۳
۱/۵	<p>که به سئوالات زیر با دقت پاسخ دهید.</p> <p>طولانی ترین رود ایران چه نام دارد؟</p>	۴

ردیف	سوالات	بارم
دستور کار الف: پاسخ صحیح را با علامت x مشخص کنید.		
۱-	هر روز صبح خورشید از ----- طلوع می کند. الف) شمال <input type="radio"/> ب) جنوب <input type="radio"/> ج) مغرب <input type="radio"/> د) مشرق <input type="radio"/>	۳
۲-	بلندترین قله ی ایران چه نام دارد؟ الف) دنا <input type="radio"/> ب) زردکوه <input type="radio"/> ج) دماوند <input type="radio"/> د) سهند <input type="radio"/>	
۳-	بزرگترین دریاچه ی داخلی ایران چه نام دارد؟ الف) دریاچه ارومیه <input type="radio"/> ب) دریاچه ی نمک <input type="radio"/> ج) دریاچه ی بختگان <input type="radio"/> د) دریاچه ی هامون <input type="radio"/>	
۴-	از کدام یک از بندرهای زیر مواد نفتی فرستاده می شود؟ الف) بندر ماهشهر <input type="radio"/> ب) بندر چاه بهار <input type="radio"/> ج) بندر عباس <input type="radio"/> د) بندر خرمشهر <input type="radio"/>	
۵-	طولانی ترین رود ایران چه نام دارد؟ الف) چالوس <input type="radio"/> ب) کارون <input type="radio"/> ج) سفیدرود <input type="radio"/> د) اترک <input type="radio"/>	
۶-	به کالاهایی که در یک سرزمین تولید و به جاهای دیگر فرستاده می شود ----- می گویند. الف) صادرات <input type="radio"/> ب) واردات <input type="radio"/> ج) بازرگانی <input type="radio"/> د) حمل و نقل <input type="radio"/>	
دستور کار ب: جاهای خالی را با کلمات مناسب پر کنید.		
۱-	یکی از راه های شناخت محیط زندگی خود و دیگران مطالعه است.	۳
۲-	بین دو جهت اصلی جنوب و مغرب جهت فرعی وجود دارد.	
۳-	به کوه هایی که مانند زنجیر به یکدیگر متصل شده اند می گویند.	
۴-	خلیج فارس و دریای عمان از نظر صید ماهی و اهمیت دارند.	
۵-	زرینه رود به می ریزد.	
۶-	شهر مهم ترین محل اتصال راه های زمینی کشور است.	
دستور کار ج: جملات صحیح را با (ص) و جملات غلط را با (غ) مشخص کنید.		
۱-	وقتی هوا سرد می شود عشایر به بیلاق کوچ می کنند. ()	۲
۲-	در خلیج فارس نفت و گاز استخراج می شود. ()	
۳-	زاینده رود از اهواز عبور می کند. ()	
۴-	هوایما برای حمل و نقل مسافر و کالاهای سبک بسیار مناسب است. ()	

دستور کار د: کلمه های سمت راست را با کشیدن خطی به جمله های سمت چپ وصل کنید

۱	<ul style="list-style-type: none"> • از به هم پیوستن جویبارها به وجود می آید. • از انباشته شدن آبرفت ها به وجود می آید. • از جاری شدن آبها به وجود می آید. • از شن و ماسه و گل و لای رودها به وجود می آید. 	آبرفت رود جلگه جویبار
---	--	--------------------------------

دستور کار ه: پاسخ پرسش های زیر را بنویسید.

۱	۱- نقشه چیست؟
۱	۲- پر وسعت ترین و کم وسعت ترین ناحیه ی آب و هوایی ایران را نام ببرید.
۱	۳- دریا چیست؟
۰/۵	۴- چرا آب همه ی رودها برای کشاورزی مناسب نیستند؟
۱	۵- خصوصیات آب و هوایی ناحیه ی گرم و خشک چیست؟
۱	۶- بازرگانی را تعریف کنید.

مقطع ابتدایی دختران
تعداد صفحه :
نام آموزگار :
تاریخ :
نوبت دوم خرداد ماه

باسمه تعالی
اداره کل مدارس خارج کشور
سرپرستی مدارس جمهوری اسلامی ایران
درامات عربی متحده
مجمع آموزشی شارجه

نام :
نام خانوادگی :
سوالات ماده درسی : جغرافیا
پایه ی چهارم :
شعبه کلاس :
زمان : ۵۰ دقیقه

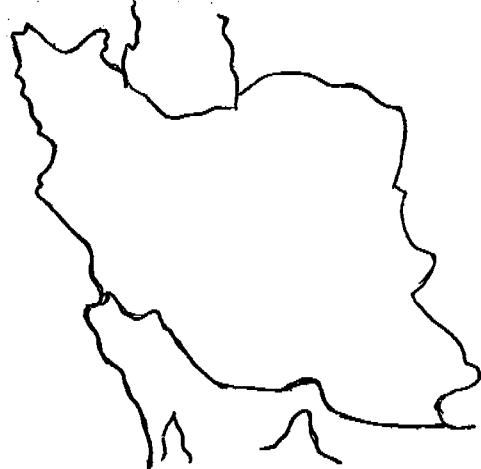
نمره به حروف

نمره به عدد

جواب صحیح را با (د) علامت X مشخص کنید.

شماره	سوال	بارم
۱	کدام یک از کالاهای زیر از صادرات ما هستند؟ اتومبیل <input type="checkbox"/> قالی و نفت <input type="checkbox"/> کاغذ <input type="checkbox"/> دارو <input type="checkbox"/>	۰/۵
۲	برای استفاده بهتر از نقشه باید به چه چیز آن توجه کرد؟ رنگ <input type="checkbox"/> شکل <input type="checkbox"/> اندازه <input type="checkbox"/> راهنما <input type="checkbox"/>	۰/۵
۳	جهتی که خورشید هر روز صبح از آنجا طلوع می کند چه نام دارد؟ شمال <input type="checkbox"/> مشرق <input type="checkbox"/> مغرب <input type="checkbox"/> جنوب <input type="checkbox"/>	۰/۵
۴	در کدام یک از شهرهای زیر دوره گرما طولانی تر است؟ شهرکرد <input type="checkbox"/> بندر انزلی <input type="checkbox"/> یزد <input type="checkbox"/> همدان <input type="checkbox"/>	۰/۵
۵	بلندترین قلهی رشته کوه البرز چه نام دارد؟ دماوند <input type="checkbox"/> دنا <input type="checkbox"/> زرد کوه <input type="checkbox"/> سبلان <input type="checkbox"/>	۰/۵
جاهای فالی را با کلمه مناسب پر کنید.		
۶	وسیله ای که جهت قطب شمال و جنوب زمین را نشان می دهد نام دارد.	۰/۵
۷	به کوههایی که مانند زنجیر به هم متصل شده اند می گویند.	۰/۵
۸	به پستی ها و بلندی های زمین گفته می شود.	۰/۵
۹	دو قله بلند زاگرس و می باشند.	۱
۱۰	شن و ماسه و گل و لایی که رودها با خود می برند نام دارد	۰/۵
۱۱	وقتی هوا رو به گرمی می گذارد عشایر دامهای خود را به جاهای و می برند.	۱
۱۲	از به هم پیوستن جویبارها بوجود می آید.	۰/۵
جمله های صحیح را با حرف «ص» و جمله های غلط را با حرف «غ» مشخص کنید.		
۱۳	به خشکی هایی که سر از آب بیرون آورده اند جزیره می گویند.	۰/۵
۱۴	تندرو ترین وسیله برای حمل مسافر قطار است.	۰/۵
۱۵	طولانی ترین رود ایران کارون است.	۰/۵
۱۶	به وسایلی که مردم و کالاها را جا به جا می کند وسایل حمل و نقل می گویند.	۰/۵

به سوالات زیر با دقت پاسخ دهید.

۱/۵	<p>جدول را کامل کنید.</p> <table border="1" data-bbox="518 199 1268 431"> <tr> <th colspan="3">خلیج فارس و دریای عمان</th> </tr> <tr> <th>نام بندر نفتی</th> <th>نام بندر بازرگانی</th> <th>نام جزیره</th> </tr> <tr> <td> </td> <td> </td> <td> </td> </tr> </table>	خلیج فارس و دریای عمان			نام بندر نفتی	نام بندر بازرگانی	نام جزیره				۱۷
خلیج فارس و دریای عمان											
نام بندر نفتی	نام بندر بازرگانی	نام جزیره									
۱	چه وسایلی به یادگیری جغرافیا کمک می کند؟ (۴ مورد)	۱۸									
۱	چرا در ناحیه خزری جنگلهای انبوه و چمنزارهای سبز و زیبا پدید آمده اند؟	۱۹									
۱	چرا آب همهی رودها برای کشاورزی قابل استفاده نیست؟	۲۰									
۱	بازرگانی را تعریف کنید.	۲۱									
۱	فرودگاه بین المللی با فرودگاه داخلی چه تفاوتی دارد؟	۲۲									
۱/۵	<p>جدول را کامل کن.</p> <table border="1" data-bbox="518 1205 1284 1448"> <tr> <th colspan="3">بردن نفت و زغال سنگ به کشورهای دور</th> </tr> <tr> <th>راه</th> <th>وسیله حمل و نقل</th> <th>علت</th> </tr> <tr> <td> </td> <td> </td> <td> </td> </tr> </table>	بردن نفت و زغال سنگ به کشورهای دور			راه	وسیله حمل و نقل	علت				۲۳
بردن نفت و زغال سنگ به کشورهای دور											
راه	وسیله حمل و نقل	علت									
۳	<p>جواب سؤالهای زیر را روی نقشه بنویسید.</p> <p>بزرگترین دریاچه در شمال غربی پهناترین جلگه ایران</p> <p>نام دو بندر در کنار دریای خزر</p> <p>چهار جهت اصلی</p> 	۲۴									

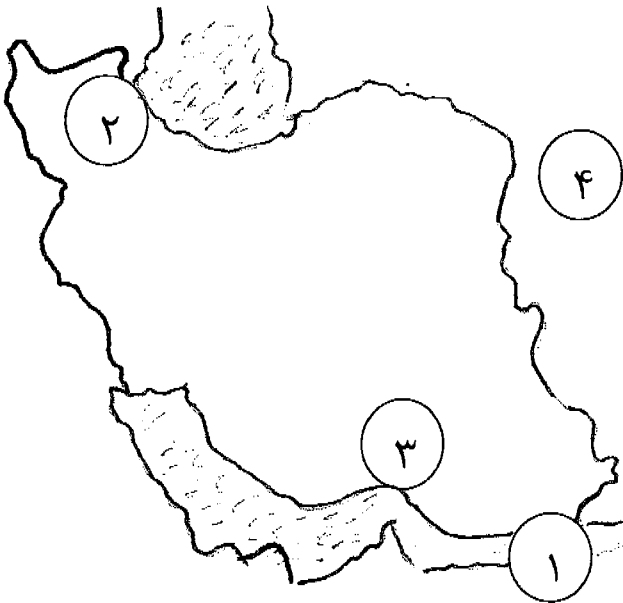
بارم	سوالات	ردیف
	دستور کار الف: پاسخ صحیح را با علامت x مشخص کنید.	
۳	<p>۱- هر روز صبح خورشید از ----- طلوع می کند. (الف) شمال <input type="radio"/> (ب) جنوب <input type="radio"/> (ج) مغرب <input type="radio"/> (د) مشرق <input type="radio"/></p> <p>۲- بلندترین قله ی ایران چه نام دارد؟ (الف) دنا <input type="radio"/> (ب) زردکوه <input type="radio"/> (ج) دماوند <input type="radio"/> (د) سهند <input type="radio"/></p> <p>۳- بزرگترین دریاچه ی داخلی ایران چه نام دارد؟ (الف) دریاچه ارومیه <input type="radio"/> (ب) دریاچه ی نمک <input type="radio"/> (ج) دریاچه ی بختگان <input type="radio"/> (د) دریاچه ی هامون <input type="radio"/></p> <p>۴- از کدام یک از بندرهای زیر مواد نفتی فرستاده می شود؟ (الف) بندر ماهشهر <input type="radio"/> (ب) بندر چاه بهار <input type="radio"/> (ج) بندرعباس <input type="radio"/> (د) بندرخرمشهر <input type="radio"/></p> <p>۵- طولانی ترین رود ایران چه نام دارد؟ (الف) چالوس <input type="radio"/> (ب) کارون <input type="radio"/> (ج) سفیدرود <input type="radio"/> (د) اترک <input type="radio"/></p> <p>۶- به کالاهایی که در یک سرزمین تولید و به جاهای دیگر فرستاده می شود ----- می گویند. (الف) صادرات <input type="radio"/> (ب) واردات <input type="radio"/> (ج) بازرگانی <input type="radio"/> (د) حمل و نقل <input type="radio"/></p>	
	دستور کار ب: جاهای خالی را با کلمات مناسب پر کنید.	
۳	<p>۱- یکی از راه های شناخت محیط زندگی خود و دیگران مطالعه است.</p> <p>۲- بین دو جهت اصلی جنوب و مغرب جهت فرعی وجود دارد.</p> <p>۳- به کوه هایی که مانند زنجیر به یکدیگر متصل شده اند می گویند.</p> <p>۴- خلیج فارس و دریای عمان از نظر صید ماهی و اهمیت دارند.</p> <p>۵- زرينه رود به می ریزد.</p> <p>۶- شهر مهم ترین محل اتصال راه های زمینی کشور است.</p>	
	دستور کار ج: جملات صحیح را با (ص) و جملات غلط را با (غ) مشخص کنید.	
۲	<p>۱- وقتی هوا سرد می شود عشایر به بیلاق کوچ می کنند. ()</p> <p>۲- در خلیج فارس نفت و گاز استخراج می شود. ()</p> <p>۳- زاینده رود از اهواز عبور می کند. ()</p> <p>۴- هواپیما برای حمل و نقل مسافر و کالاهای سبک بسیار مناسب است. ()</p>	

دستور کار د: کلمه های سمت راست را با کشیدن خطی به جمله های سمت چپ وصل کنید

۱	<ul style="list-style-type: none"> • از به هم پیوستن جویبارها به وجود می آید. • از انباشته شدن آبرفت ها به وجود می آید. • از جاری شدن آبها به وجود می آید. • از شن و ماسه و گل و لای رودها به وجود می آید. 	<p>آبرفت</p> <p>رود</p> <p>جلگه</p> <p>جویبار</p>
---	--	---

دستور کار ه: پاسخ پرسش های زیر را بنویسید.

۱		-۱	نقشه چیست؟
۱	پر وسعت ترین و کم وسعت ترین ناحیه ی آب و هوایی ایران را نام ببرید.	-۲	
۱		-۳	دریا چیست؟
۰/۵	چرا آب همه ی رودها برای کشاورزی مناسب نیستند؟	-۴	
۱	خصوصیات آب و هوایی ناحیه ی گرم و خشک چیست؟	-۵	
۱		-۶	بازرگانی را تعریف کنید.

۰/۷۵	صفحه ۳: سه رود نام ببرید که به دریای خزر می ریزد؟	۷-
۱	جزیره را تعریف کنید و دو جزیره در خلیج فارس را نام ببرید.	۸-
۰/۷۵	راه آهن سراسری ایران بندر ترکمن را به کدام بندرهای جنوبی متصل می کند؟	۹-
۱	فرودگاه داخلی و فرودگاه بین المللی چه تفاوتی دارند؟	۱۰
دستور کار و : با توجه به نقشه به سوالات زیر پاسخ دهید.		
۲	<p>۱- نام دریایی در جنوب ایران است. ()</p> <p>۲- نام جلگه ای در شمال غربی ایران می باشد. ()</p> <p>۳- نام بندری در جنوب ایران . ()</p> <p>۴- نام یکی از همسایه های شرقی ایران. ()</p> 	<p>۱-</p> <p>۲-</p> <p>۳-</p> <p>۴-</p>

بسمه تعالی

نام و نام خانوادگی:
پایه: ۶
شعبه:

سرپرستی مدارس جمهوری اسلامی ایران در امارات عربی متحده
نویت دوم خرداد ماه سال تحصیلی ۸۸ - ۸۹ مجتمع آموزشی شارجه

نام آزمون: جغرافی
تاریخ: ۱۳/۳/۸۹
نام آموزگار:

	الف) سوالات صحیح غلط زیر را مشخص کنید.	
/۵	۱ زمینی که ما در روی آن زندگی می کنیم به شکل کره است .	۱
/۵	۲ گونیا یکی از وسایلی است که به یادگیری جغرافیا کمک می کند.	۲
/۵	۳ شمال و جنوب از جهت های اصلی هستند .	۳
/۵	۴ بلندترین قله ی رشته کوه البرز دنا نام دارد .	۴
/۵	۵ در بعضی از دشت ها روستاها و شهر به وجود آمده اند .	۵
/۵	۶ دمای هوا همیشه یکسان نیست .	۶
/۵	۷ دریای خزر از نظر صید ماهی خویار اهمیت دارد .	۷
	ب) گزینه درست را انتخاب کنید .	
/۷۵	۱ از به هم پیوستن جویبارها به وجود می آید .	۱
	الف) دریاچه <input type="checkbox"/> (ب) دریا <input type="checkbox"/> (ج) رود <input type="checkbox"/> (د) آبرفت <input type="checkbox"/>	
/۷۵	۲ به پستی ها و بلندی های زمین می گویند .	۲
	الف) کوه <input type="checkbox"/> (ب) ناهمواری <input type="checkbox"/> (ج) همواری <input type="checkbox"/> (د) کوهپایه <input type="checkbox"/>	
/۷۵	۳ شورترین دریاچه ی ایران است .	۳
	الف) دریاچه نمک <input type="checkbox"/> (ب) دریاچه ارومیه <input type="checkbox"/> (ج) دریاچه بختگان <input type="checkbox"/> (د) دریاچه طشک <input type="checkbox"/>	
/۷۵	۴ در کدام یک از شهرهای زیر باران زیاد می بارد ؟	۴
	الف) یزد <input type="checkbox"/> (ب) اهواز <input type="checkbox"/> (ج) بندر انزلی <input type="checkbox"/> (د) مشهد <input type="checkbox"/>	
/۷۵	۵ رود کارون از کدام شهر می گذرد ؟	۵
	الف) اهواز <input type="checkbox"/> (ب) شیراز <input type="checkbox"/> (ج) اصفهان <input type="checkbox"/> (د) تهران <input type="checkbox"/>	
/۷۵	کدام شهر محل مهم اتصال راه های زمینی کشور است ؟	
	الف) بندر ترکمن <input type="checkbox"/> (ب) تهران <input type="checkbox"/> (ج) شهر کرد <input type="checkbox"/> (د) آذربایجان <input type="checkbox"/>	
	ج) به سوالات زیر پاسخ دهید .	
/۱۵	۱ کدام فرودگاه ها از نظر تعداد پرواز های داخلی و خارجی مقام اول در کشور را دارند ؟	۱

مجتمع آموزشی نمونه توحید دختران

سال تحصیلی ۸۸-۸۹

نمره با عدد:

نام درس: جغرافی

نام و نام خانوادگی:

نمره با حروف:

نام دبیر

مدت امتحان: ۷۰ دقیقه

پایه: چهارم

امضا آموزگار:

صفحه: ۱

تاریخ امتحان: ۸۹/۳/۳

رشته: ابتدایی

بازم

هر مورد ۰/۲۵

الف) گزینه ی صحیح را با علامت \otimes مشخص کنید.

۱) از انباشته شدن آبرفت ها روی هم پس از سال های زیاد چه چیزی بوجود می آید؟

الف) رود ب) جلگه ج) نشت د) جویبار

۲) کدام شهر محل اتصال راه های زمینی کشور است؟

الف) تبریز ب) اصفهان ج) تهران د) شیراز

۳) کدام وسیله ی نقلیه مسافت های طولانی را در مدت کمی طی می کند؟

الف) قطار ب) هواپیما ج) اتومبیل د) کشتی

۴) شهر یزد چه نوع آب و هوایی دارد؟

الف) خزری ب) کوهستانی ج) گرم و خشک د) معتدل و مرطوب

۵) کدام رود از شهر اصفهان می گذرد؟

الف) زاینده رود ب) رود کارون ج) سفید رود د) رود کر

۶) دریای خزر از چه نظر برای ایران اهمیت فراوان دارد؟

الف) صید ماهی خاویار ب) خرید و فروش کالا ج) صید میگو د) استخراج نفت و گاز

۱/۵

هر مورد ۰/۵

ب) در جاهای خالی کلمه ی مناسب بنویسید.

۱) ما به کمک _____، معنای رنگ ها و علامت هایی را که در نقشه به کار رفته است، می فهمیم.

۲) بین دو جهت مشرق و جنوب، جهت فرعی _____ دیده می شود.

۳) با آب شدن برف کوه ها و جاری شدن آب بر روی زمین، _____ بوجود می آید.

۴) بندر _____ نزدیک دریای عمان قرار دارد.

۵) رود _____ به دریاچه ی بختگان می ریزد.

۶) راه آهن سراسری ایران در شمال به بندر _____ مربوط می شود.

۳

هر مورد ۰/۲۵

ج) درستی یا نادرستی عبارات های زیر را مشخص کنید.

- ۱) تنگه ی هرمز، دریای عمان را به خلیج فارس متصل می کند.
- ۲) جهت حرکت کره ی زمین از شرق به غرب است.
- ۳) کاغذ و دارو جز واردات کشور ما می باشد.
- ۴) سفید رود از به هم پیوستن دو رود شاهرود و قزل اوزن بوجود می آید.
- ۵) در هر کشوری وجود راه ها برای جابه جایی مردم و کالا لازم است.
- ۶) طولانی ترین رود ایران رود چالوس است.

۱/۵

د) اصطلاحات زیر را تعریف کنید.

هر مورد ۰/۵

- ۱) رشته کوه _____
- ۲) آبرفت _____
- ۳) بیلاق _____
- ۴) جزیره _____
- ۵) بازرگانی _____
- ۶) صادرات _____

۲

و) به سوالات زیر پاسخ کامل دهید.

۱) دانش جغرافیا چه کمکی به ما می کند؟

۱

۲) برای تعیین آب و هوای یک منطقه چه چیزهایی را اندازه گیری می کنند؟

۰/۵

۳) چرا در کناره های دریای خزر، جنگل های انبوه روئیده اند؟

۰/۵

۴) دو بندر خارجی در کنار دریای خزر را نام ببرید.

۰/۵

۵) آب و هوای ناحیه ی کوهستانی چگونه است؟

۰/۵

۶ جدول زیر را کامل کنید.

نام استان	گلستان		
مرکز استان		اراک	سنندج

۷ چه عاملی موجب آلودگی دریاها می شود؟ (نکر ۲ مورد)

۸ جدول زیر را کامل کنید.

«خلیج فارس و دریای عمان»

جزیره	بندر بازرگانی	بندر نفتی
_____ (۱)	_____ (۱)	_____ (۱)

۹ رودها در زندگی ما چه اهمیتی دارند؟

۱۰ دو فایده و دو عیب حمل و نقل با کشتی را بنویسید.

۱۱ فرودگاه بین المللی با فرودگاه داخلی چه تفاوتی دارد؟

۱۲ بندر چگونه شهری است؟

۱۳) به سوالات زیر با دقت روی نقشه پاسخ دهید.



۱) جلگه

۲) دریاچه و رود

۳) رشته کوه و قله

۴) نشت

۵) رود

عزیزانم موفق و سربلند باشید.

با سمه تعالی

آزمون درس : املا

سرپرستی مدارس جمهوری اسلامی ایران در امارات عربی متحده

مدت آزمون : ۴۵ دقیقه

پایه : چهارم

مجمع آموزشی امام خمینی (ره) ابوظبی

تاریخ: ۸۹/۳/۱

خرداد سال تحصیلی ۸۹-۸۸

نام و نام خانوادگی:

شماره صفحه : ۱

می دانیم که کودکان سرمایه های اصلی هر کشورند . آنان آینده ی کشور خود را می سازند و سبب پیشرفت آن می شوند . کشور ما ایران ، همواره پیشتاز صلح و دوستی و همکاری بوده است .

غلام رضا تختی ، مظهر مهربانی و آزادگی ، یکی از بزرگترین پهلوانان و ورزش کاران ایرانی است . او به ورزش کاران ایرانی آموخت که پهلوان بودن ، مهم تر از قهرمان شدن است .

میراث فرهنگی متعلق به یک نفر یا یک خانواده نیست بلکه مال همه ی مردم یک کشور است ، میراث فرهنگی شناسنامه ی یک ملت است .

ایران عزیز ما نویسندگان و انسان های نام آور و بزرگی را در دامان خویش پرورده است . انسان های بزرگی که چون آفتاب در آسمان تاریخ می درخشند و نه تنها ما ایرانیان که همه ی جهانیان از آثار درخشان آنان استفاده می کنند .

پرستو ها ، این پرنده های کوچک ، پس از سپری شدن زمانی دراز و پیمودن راهی طولانی ، بی آن که اشتباه کنند ، دوباره به لانه های پیشین خود باز می گردند .

در کلیله و دمنه ، در ضمن داستان ها ، دستورهای زندگی ، مسائل اخلاقی و نکته های سودمند دیگری از زبان جانوران گفته شده است .

مدت آزمون : ۴۵ دقیقه

تاریخ: ۸۹/۳/۱

شماره صفحه : ۱

سرپرستی مدارس جمهوری اسلامی ایران در امارات عربی متحده

مجتمع آموزشی امام خمینی (ره) ابوظهبی

خریدار: سیال تحصیلی ۸۹ - ۸۸

آزمون درس : املا

پایه : چهارم

نام و نام خانوادگی:

می دانیم که کودکان سرمایه های اصلی هر کشورند . آنان آینده ی کشور خود را می سازند و سبب پیشرفت آن می شوند . کشور ما ایران ، همواره پیشتاز صلح و دوستی و همکاری بوده است .

غلام رضا تختی ، مظهر مهربانی و آزادگی ، یکی از بزرگترین پهلوانان و ورزش کاران ایرانی است . او به ورزش کاران ایرانی آموخت که پهلوان بودن ، مهم تر از قهرمان شدن است .

میراث فرهنگی متعلق به یک نفر یا یک خانواده نیست بلکه مال همه ی مردم یک کشور است ، میراث فرهنگی شناسنامه ی یک ملت است .

ایران عزیز ما نویسندگان و انسان های نام آور و بزرگی را در دامن خویش پرورده است . انسان های بزرگی که چون آفتاب در آسمان تاریخ می درخشند و نه تنها ما ایرانیان که همه ی جهانیان از آثار درخشان آنان استفاده می کنند .

پرستوها ، این پرنده های کوچک ، پس از سپری شدن زمانی دراز و پیمودن راهی طولانی ، بی آن که اشتباه کنند ، دوباره به لانه های پیشین خود باز می گردند .

در کلیله و دمنه ، در ضمن داستان ها ، دستورهای زندگی ، مسائل اخلاقی و نکته های سودمند دیگری از زبان جانوران گفته شده است .

ترتیب ترین جایز به توانم خدا را در کن بیدار کنم، طلب حق است
ما برای جمع آوری مطالب تحقیق به صورت گروهی طرح کردیم و هر جا امکانی

بود برو می شدیم، به سماع افراطی می رفتیم

در دفتر عیض فطر، فطرت را باید بر همان به مستحق دریافت آن هستند به هم
ماه سال در راه محترم، به یاد آوری رویدادهای گریه های بیداریم و می گوئیم تا در راه

اما همین دم قدم برداریم

صراط فرخنده، بنا ساقی یک ملت است پس باید از آن راه خوبی طریقت

و این طریقت کنیم تا اسب نیند

دانش افروزان بالند سیری بیدار گوش و دستار مبارکشان دینده ای این سر زمین

فقدش هستند

خداوند قدرت راه با می و همچون این راه طولانی راه پر سته ها داده است

دستان عالم اندست قرن ها هم چنان سینه سینه نقل شده اند و هر کس چیزی بزرگ

مجمع آموزشی خدیجه کبری (س)

نام و نام خانوادگی:
نام کلاس:
شماره کارت:

نام درس:
مدت امتحان:
تاریخ امتحان:

شماره:

بارم

ردیف

افزودن است، تا بدست ما برسد، ما رسیده اند، آن ها از آن در هر جا و عقیده های پسندان

ما ما سخن می گویند

در زبان ما می بینیم، زبان روزگارهای تو را، سینه دل و لب، اصل با قدر اصل

می گویند

نام و نام خانوادگی:

باسمه تعالی

تاریخ: ۸۹/۳/۱

پایه: چهارم شعبه:

سرپرستی مدارس جمهوری اسلامی ایران در امارات متحده عربی
مجتمع آموزشی شارجه - نوبت دوم سال تحصیلی ۸۹-۸۸ مقطع ابتدایی

خرداد ماه

ماده‌ی درسی: املاسی فارسی

نام آموزگار: خانم علیزاده

من کودکی کنجکاو و فعال بودم. کتاب می خواندم، شعرهای کودکانه می سرودم و به نقاشی عشق می ورزیدم. شبها وقتی همه می خوابیدند، بیدار می ماندم و در اندیشه های دور و درازی فرو می رفتم.

در مراسم گشایش بازی های المپیک، در ورزشگاه، جای سوزن انداختن نبود، مردمی که به مسابقه های ورزشی علاقه داشتند، از همه ی کشورهای دنیا گرد آمده بودند.

مردم به طرف شیرهای آب دویدند اما همه خیلی با دقت، مقدار کمی آب برداشتند، چون می ترسیدند اگر صرفه جویی نکنند، آب دوباره قهر کند و در لوله پنهان شود.

آرش نام خدا را بر زبان آورد و با همه ی توان، کمان را کشید. می گویند هنوز هم کسانی که از البرز کوه می گذرند، نام آرش را با افتخار صدا می کنند.

ایران عزیز ما دانشمندان، هنرمندان، شاعران و نویسندگان و انسان های نام آور و بزرگی را در دامان خویش پروده است. انسان های بزرگی که چون آفتاب در آسمان تاریخ می درخشند.

مهر مادری پرستوها در میان جانوران دیگر همتا ندارد. پرستوهایی دیده شده اند که وقتی لانه ی آنها در آتش می سوخته است، بی پروا خود را به آتش زده اند تا جوجه ها را نجات دهند.

«باسمه تعالی»

سرپرستی مدارس جمهوری اسلامی ایران در امارات عربی متّحده

مجتمع آموزشی توحید دختران- دوره ابتدایی سال تحصیلی ۱۳۸۸-۸۹

متن آزمون املا ی فارسی چهارم ابتدایی در خرداد ماه ۱۳۸۹

۸۹، ۲/۱

در حال حاضر بیشتر کشورهای جهان عضو سازمان ملل متّحدند. کشور ما ایران، همواره پیشتاز صلح و دوستی و همکاری بوده است.

اگر قرار بود هر کس تنها نام خودش را صدا کند، سلام و خداحافظی در میان نبود. هیچ کس انتظار کسی را نمی کشید و نیمکت پارک ها یک نفره بودند.

زنگ تفریح بچه ها که از تشنگی بی طاقت شده بودند، بی دلیل جلوی شیر آب صف ایستادند.

زمانی که انسان هنوز به کره ی ماه قدم نگذاشته بود، ثول ورن این سفر را پیش بینی کرد و پیش از

اختراع سفینه ی فضایی ساختمان آن را حدس زد.

غلطی زدم و سعی کردم دوباره بخوابم، اما صدای تکبیر گوش نوازی که مدام تکرار می شد، توجّهم را جلب کرد.

عبد الله دست خود را سپر کرد. شمشیر دستش را قطع کرد. بعد هم خود را روی بدن امام انداخت تا

ضربه های دشمنان به بدن امام اصابت نکند.

پس از سخنان شنیدنی راهنما، بچه ها گروه گروه به سراغ اشیای موزه رفتند تا این بار، با آگاهی بیشتر،

میراث فرهنگی خود را بشناسند.

همه نگران و منتظر، پای کوه دماوند ایستاده بودند. کودکان با بی تابی آر ش کمان گیر را که با قامتی

رشید پای کوه ایستاده بود نگاه می کردند.

وقتی با اتومبیل یا قطار مسافت میان شهر ها را طی می کنید، صدها بنای با شکوه تاریخی و هنر های

ملّی شما را به شگفتی و تحسین وا می دارند.

اصل کتاب کلّیله و دمنه به زبان هندی است و در آن ضمن داستان ها دستور های زندگی و مسائل

اخلاقی از زبان جانوران گفته شده است.

از آن جا که ذهن خواننده و شنونده با ضرب المثل ها آشناست، خیلی زود مقصود گوینده را درک

می کند.

سرپرستی مدارس جمهوری اسلامی ایران در امارات عربی متحده

مجمع آموزشی نمونه و بین الملل توحید پسران دبی

امتحانات نوبت دوم سال تحصیلی ۸۹-۸۸

آزمون: املا پایه و کلاس: چهارم تاریخ آزمون: ۸۹/۲/۱ مدت زمان: ۴۰د

بیمار از شدت عصبانیت، درد ناراحتی خود را فراموش کرد. او که نمی دانست گوش های همسایه اش سنگین است، فکرمی کردمی خواهد سربه سرش بگذارد یا با او دشمنی دارد. در روزگار پیشین، توانگران و زورمندان ستمگر، تهی دستان درمانده را به بیگاری وامی داشتند و به رایگان بامزدی ناچیز، از کار و دسترنج آنان بهره مند می شدند. مهر مادری پرستوها، در میان جانوران دیگر همتا ندارد. پرستوهایی دیده شده اند که وقتی لانه ی آنها در آتش سوخته است، بی پروا خود را به آتش زده اند تا جوجه هارا نجات دهند. شورش و شوق بچه هاپس از ورود به موزه وصف شدنی نبود. همه با علاقه و اشتیاق به سکه ها، شمشیرهای جواهر نشان، ظروف قدیمی سفالی و مسی، قلمدان و مجسمه ها نگاه می کردند.

عبدالله این نوجوان فداکار، تا آخرین لحظه از امام دفاع کرد و سرانجام، روی سینه ی امام حسین (ع) به شهادت رسید. او آخرین نوجوان شهید کربلاست.

فطریه را باید به کسانی که مستحق دریافت آن هستند بدهیم.

ژول ورن نویسنده ی معروف فرانسوی بسیاری از اختراعات و اکتشافات امروزی را پیشگویی کرد. برای مثال، او پیش از اختراع سفینه ی فضایی، ساختمان آن را حدس زد.

موفقیت شما آرزوی قلبی ماست