

سرپرستی مدارس جمهوری اسلامی ایران در امارات عربی متحده

مجتمع آموزشی نمونه و بین الملل توحید پسران دبئی

امتحانات نوبت دوم سال تحصیلی ۸۹-۸۸

آزمون: ریاضی پایه و کلاس: سوم تاریخ آزمون: ۸۹/۳/۳ مدت زمان:

نام و نام خانوادگی دانش آموز:

الف) پاسخ صحیح را با علامت (x) مشخص کنید. (هر مورد ۰/۲۵ نمره)

۱- با چهار رقم ۴ و ۰ و ۷ و ۹ بزرگ ترین عدد چهار رقمی که می توان نوشت، کدام گزینه است؟

الف) ۷۴۰۹ ب) ۹۴۷۰ ج) ۹۷۴۰ د) ۹۰۷۴

۲- کدام شکل بیشترین خط تقارن را دارد؟

الف) مربع ب) مثلث متساوی الاضلاع ج) مستطیل د) دایره

ب- جاهای خالی را پر کنید. (هر مورد ۰/۲۵ نمره)

۱- بهترین وسیله برای اندازه گیری گوشه راست است.

۲- قطر دایره ای ۱۲ سانتی متر است شعاع آن سانتی متر است.

۳- ۲۳۵۰ میلی متر مساوی است با متر و سانتی متر و میلی متر.

۴- $\frac{2}{4}$ یعنی قسمت از قسمت.

۵- دو خطی که همدیگر را در یک نقطه قطع کنند دو خط می گویند.

ج) پاسخ را با (ص) و (غ) مشخص کنید. (هر مورد ۰/۲۵ نمره)

غ	ص

۱- حاصل ضرب هر عدد در صفر برابر است با صفر

۲- اندازه ی دور هر شکل را مساحت آن شکل می گویند.

۳- عدد ۲۲ بر عدد ۴ قابل قسمت است.

۴- ثلث عدد ۱۸، ۶ می شود.

۱- عدد را به حروف بنویسید (۰/۵)

۲- رقم یکان هزار آن چند است؟ (۰/۲۵)

۳- کدام رقم کمترین ارزش مکانی را دارد؟ (۰/۲۵)

۴- کوچکترین رقم کدام است؟ (۰/۲۵)

(۱) برای شکل مقابل یک ضرب و دو تقسیم بنویسید. (۱/۵ نمره)



.....

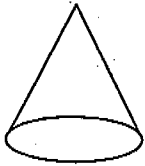


.....

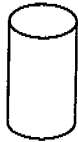


.....

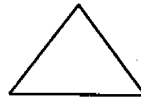
(۲) نام شکل های زیر را بنویسید. (۱ نمره)



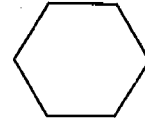
.....



.....



.....



.....

(۳) سنّ علی ۱۲ سال است سنّ پدر علی از ۴ برابر سنّ او ۲ سال کمتر است. سنّ پدر علی چند سال است؟ (۱/۵ نمره)

(۴) در جاهای خالی عدد مناسب بنویسید. (۱ نمره)

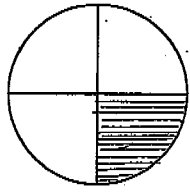
$۲ \times ۸ \times ۵ = \bigcirc$

$۵۸ \times ۱ \times ۰ = \bigcirc$

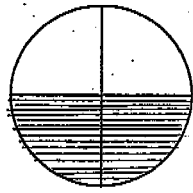
$۵ \times ۴ = (۳ \times ۴) + (\bigcirc \times ۴)$

$۱۵ \div ۳ = \bigcirc$

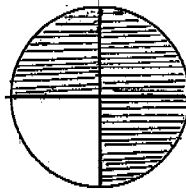
۵) برای شکل زیر کسر بنویسید. (۱ نمره)



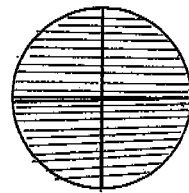
.....



.....



.....



.....

۶) خمس دانش آموزان یک کلاس در یک گردش علمی حضور داشتند. اگر تعداد دانش آموزان کلاس ۳۰ نفر باشد، چند نفر در گردش علمی شرکت کرده اند؟ (۱ نمره)

۷) علامت ($>$ = $<$) بگذارید. (۱ نمره)

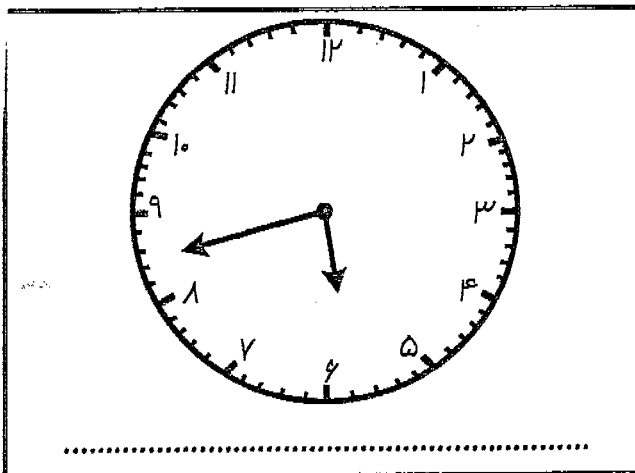
۱۰۰۰ میلی متر ۱۰۰ سانتی متر

$\frac{2}{6}$ $\frac{4}{6}$

$\frac{1}{5}$ $\frac{1}{8}$

3×8 4×6

۸) ساعت را بخوانید. (۵/۰ نمره)



.....

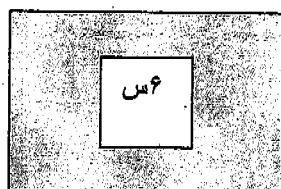
۹) تقسیم های زیر را حل کنید. (۱/۵ نمره)

$$\begin{array}{r} 59 \\ \hline 7 \end{array}$$

$$\begin{array}{r} 48 \\ \hline 5 \end{array}$$

۲۵س

۱۰) مساحت قسمت رنگ شده را بدست آورید. (۱/۵ نمره)



۹س

۱۱) برای شکل های زیر خط تقارن بکشید. (۰/۵ نمره)



۱۲) ضرب کنید. (۱/۷۵ نمره)

$$\begin{array}{r} 896 \\ \times 7 \\ \hline \end{array}$$

$$\begin{array}{r} 10468 \\ \times 5 \\ \hline \end{array}$$

۱۳) برنامه کودک تلویزیون ساعت ۱۷ پخش می شود. پخش این برنامه ساعت چند بعد از ظهر است؟

(۱ نمره)

۱۴) محیط مربعی ۳۲ سانتی متر است. اندازه طول یک ضلع آن را بدست آورید. (۰/۵ نمره)

موفق و پیروز باشید

نمره یا عدد:

شماره کارت:

کلاس: سوم

نام و نام خانوادگی:

نمره با حروف:

نوبت امتحان: حرار ما

نام درس: ریاضی

نام دبیر:

امضاء دبیر مربوطه

صفحه:

تاریخ آزمون:

مدت آزمون:

بارم	سوال	ردیف
۱	<p>با رقم و حروف بنویسید. (۱)</p> <p>چهارصد و هشتاد و سه هزار و هفتصد و نه.....</p> <p>۹۰۴۲۵۱.....</p>	۱-
۱	<p>مسططیلی که طول آن ۸ سانتی متر و عرض آن ۳ سانتی متر است. مساحت آن را حساب کنید؟ (۱)</p>	۲-
۰.۷۵	<p>مریم روزی ۲۷ آیه می خواند. در یک هفته چند آیه می خواند؟ (۰.۷۵)</p>	۳-
۱.۵	<p>طرف دیگر تساوی را بنویسید. (۱.۵)</p> <p>$(6 \times 7) - (2 \times 9) = \dots - \dots = \dots$</p> <p>$(4 \times 8) + (1 \times 4) = \dots + \dots = \dots$</p>	۴-
۱	<p>اندازه ی محیط مثلثی ۲۱ سانتی متر است. اندازه ی یک ضلع آن چند سانتی متر است؟ (۱)</p>	۵-
۱.۵	<p>جاهای خالی را پر کنید. (۱.۵)</p> <p>۸ کیلو گرم و ۳۵۰ گرم برابر است با گرم.</p> <p>۴۲۰۰ متر کیلومتر و متر است.</p> <p>۹۷ میلی متر سانتی متر و میلی متر است.</p> <p>د) هر مثلثی را که دو ضلع هم اندازه داشته باشد می گویند.</p>	۶-
۰.۷۵	<p>رقم صدگان هزار ۴۵۲۸۷۹ چند است؟ (۰.۷۵)</p> <p>ا) رقم یکان آن چند است؟</p> <p>ب) رقم یکان هزار آن چند است؟</p>	۷-

بارم	سوال	ردیف
۷۵	<p>(۱)</p> <p>(۲)</p>	۸- خط او نسبت به هم چه وضعی دارند؟ (۷۵) نقطه ی تقاطع را پر رنگ کن.
۱		۹- اگر شعاع دایره ای ۹ سانتی متر باشد، قطر دایره را حساب کن؟ (۱)
۱		۱۰- سارا ۳۶ کتاب داستان داشت. ربع آن را به دوستش داد. (۱) آ) دوستش چند کتاب داستان دارد؟ ب) حالا سارا چند کتاب برایش باقی مانده است؟
۷۵		۱۱- برنامه ی کودک ساعت ۱۷ پخش می شود. پخش این برنامه ساعت چند بعد از ظهر است؟ (۷۵)
۷۵		۱۲- مربعی رسم کن که طول هر ضلع آن ۳ سانتی متر باشد. سپس محیط آن را حساب کن؟ (۷۵)
۱	<p>$۷ \times ۲ = ۲ \times ۷$</p>	۱۳- با توجه به تساوی ضرب، محور را کامل کن. (۱)
۲	<p> $\begin{array}{r} ۷۳۰۹ \\ + ۲۱۶۴ \\ \hline \end{array}$ $\begin{array}{r} ۱۹۵۱۴ \\ + ۶۷۳۹۲ \\ \hline \end{array}$ </p>	۱۴- جمع و تفریق زویر را انجام بده. (۲)
۱		۱۵- زهرا به مغازه ای رفت و وسایل زیر را خرید. و یک اسکناس ۵۰۰ تومانی به فروشنده داد. چقدر باید پس بگیرد؟ (۱) ۳۰ تومان = مداد ۲۵۰ تومان = کتاب



نمره با عدد :
نمره با حروف :
امضاء آموزگار :

سال تحصیلی ۸۸-۸۹
خرداد ماه
مدت امتحان : ۶۰ دقیقه
تاریخ امتحان : ۸۹/۳/۴

نام و نام خانوادگی :
کلاس : سوم
نام درس : ریاضی

<p>بارم ۲</p>	<p>دستور کار الف) پاسخ درست را با علامت (x) مشخص کنید.</p> <p>۱) کدام یک از اجسام زیر به شکل زیر به شکل استوانه است؟</p> <p>الف) قوطی چای <input type="checkbox"/> ب) قوطی کمپوت <input type="checkbox"/> ج) توپ <input type="checkbox"/> د) بستنی قیفی <input type="checkbox"/></p> <p>۲) کدام یک از اعداد زیر فرد است؟</p> <p>الف) ۳۸۶ <input type="checkbox"/> ب) ۹۶۰ <input type="checkbox"/> ج) ۱۷۵ <input type="checkbox"/> د) ۲۳۴ <input type="checkbox"/></p> <p>۳- حاصل ضرب عدد ۱۹ در صفر برابر با چه عددی است؟</p> <p>الف) یک <input type="checkbox"/> ب) صفر <input type="checkbox"/> ج) ۱۹ <input type="checkbox"/> د) ۲۹ <input type="checkbox"/></p> <p>۴) به کمک چه وسیله ای می توانید یک پاره خط را رسم کنید.</p> <p>الف) گونیا <input type="checkbox"/> ب) خط کش <input type="checkbox"/> ج) متر خطی <input type="checkbox"/> د) پرگار <input type="checkbox"/></p>
<p>۱/۵</p>	<p>دستور کار ب) در جاهای خالی اعداد مناسب بنویسید.</p> <p>۱) ۳۷۲۵ گرم برابر با کیلو گرم و گرم است.</p> <p>۲) ۴ متر و ۲۶ سانتی متر و ۷ میلی متر برابر با میلی متر است.</p> <p>۳) ساعت ۸ بعد از ظهر ، ساعت است.</p>
<p>۱/۵</p>	<p>دستور کار ج) در جاهای خالی کلمات مناسب بنویسید.</p> <p>۱) به مثلثی که سه ضلع آن با هم مساوی باشد ، مثلث نام دارد.</p> <p>۲) عدد ۴۸ بر ۲ قابل قسمت است چون عددی است.</p> <p>۳) برای رسم گوشه ی راست از وسیله ای به نام استفاده می کنیم.</p>

ه) مسئله های زیر را با دقت حل کنید.

۱- در یک کارتن ۲۶۵ جعبه مداد رنگی و در کارتن دوم ۲ برابر کارتن اول جعبه ی مداد رنگی می باشد.

الف- در کارتن دوم چند جعبه مداد رنگی است؟

ب- در این دو کارتن ، روی هم چند جعبه مداد رنگی می باشد؟

۲- زمینی به شکل مستطیل داریم که طول آن ۵۳ متر و عرض آن ۸ متر است. می خواهیم در این زمین چمن

بکاریم. حساب کنید چند متر مربع زمین چمن کاری شده داریم؟

۳- محیط مربعی ۲۴ سانتی متر است. طول یک ضلع آن چند سانتی متر است؟

۴- محمد حسین می خواهد ۸۴ شکلات را به طور مساوی به ۹ نفر از دوستانش بدهد، او به هر دوستش چند

شکلات می دهد و چند شکلات برایش باقی می ماند؟

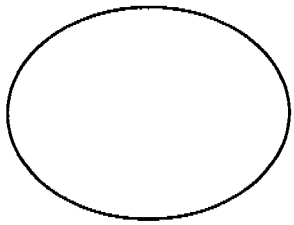

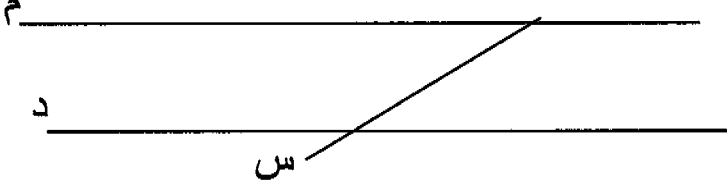
۵- برای ضرب زیر مسئله ای بسازید و آن را بنویسید، و سپس ضرب را حل کنید.

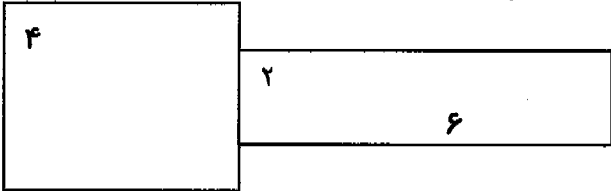
$$10 \times 8 = \square$$

موفق باشید.

تاریخ: ۸۹/۳/۳	با سمه تعالی سرپرستی مدارس جمهوری اسلامی ایران در امارات عربی متحده مجتمع آموزشی شارجه - مقطع پسران	نام آزمون: ریاضی پایه: سوم نام و نام خانوادگی:
زمان: ۶۰ دقیقه		

ردیف	شرح سوال	بارم
۱	<p>عدد <u>۳۴۰۲۰۵</u> را با حروف بنویسید.</p> <p>رقم ۲ در کدام مرتبه قرار دارد.</p>	۱
۲	<p>تفریق زیر را انجام دهید و سپس آن را امتحان کنید.</p> $\begin{array}{r} ۳۰۲۴ \\ - ۳۱۴ \\ \hline \end{array}$	۱/۵
۳	<p>برای تساوی مقابل یک تساوی ضرب بنویسید.</p> $۴ + ۴ + ۴ = \dots\dots\dots$	۰/۵
۴	<p>یک پنج ضلعی بکشید و قطر های آن را نیز رسم کنید.</p>	۱

۱	<p>ساعت ۳:۵۰ را نشان بدهید.</p> 	۵
۱	<p>تقسیم زیر را روی محور نشان دهید.</p>  <p>$۱۵ : ۳ =$</p>	۶
۱	<p>اتاقی است به شکل مستطیل که طول آن ۵۳ متر و عرض آن ۲۲ متر است محیط این اتاق را بدست آورید (فرمول محیط مستطیل را بنویسید).</p>	۷
۱	<p>خط (م - د) نسبت به هم هستند خط (س - د) نسبت به هم هستند</p> 	۸
۰/۵	<p>برنامه ی فتیله جمعه تعطیله در ساعت ۱۵ از تلویزیون پخش می شود . پخش این برنامه برابر ساعت چند بعداز ظهر است؟</p>	۹

۱	<p>۴۵۳۸ متر = کیلومتر و متر</p> <p>۹ سانتی متر = میلیمتر</p> <p>۶ کیلوگرم و ۲۵۰ گرم = گرم</p>	۱۰
۲	<p>در جاهای خالی عدد مناسب بنویسید.</p> <p>$۵۳ \times \square = ۵۳۰$ $۴۲ \times \square = ۴۲$</p> <p>$(۸ \times ۳) + (۸ \times ۵) = (۸ \times \square)$</p> <p>$۳ \times (۶ \times ۷) = (\square \times ۶) \times ۷$</p>	۱۱
۱/۵	<p>خارج قسمت و باقی مانده هر تقسیم را تعیین کنید.</p> <p>$۴۵ \overline{) ۶}$ $۶۷ \overline{) ۸}$</p>	۱۲
۲	<p>مساحت شکل زیر را حساب کنید.</p> 	۱۳
۱	<p>احمد یک کتاب داستان ۲۵ صفحه ای دارد او ۱ آن را خوانده</p> <p>۵</p> <p>است. احمد چند صفحه از کتابش را خوانده است؟</p>	۱۴

۲	<p>حاصل ضرب های زیر را بدست آورید .</p> $\begin{array}{r} 1765 \\ \times 4 \\ \hline \end{array}$	۱۵
۱	<p>علی ۲۵ تومان دارد و پول حسن ۳ برابر پول علی است . پول حسن چقدر است ؟</p>	۱۶
۱	<p>علامت < = > بگذارید .</p> $\frac{4}{5} \bigcirc \frac{1}{5}$ $\frac{4}{9} \bigcirc \frac{4}{5}$ <p>موفق باشید</p>	۱۷

باسمه تعالی

سرپرستی مدارس جمهوری اسلامی ایران در امارات عربی متحده





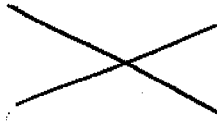
نام و نام خانوادگی:

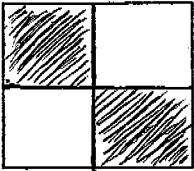

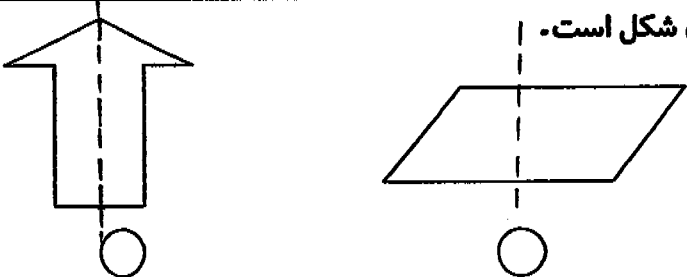
تاریخ: ۸۹/۳/۳ مجتمع آموزشی شارجه نوبت دوم سال تحصیلی ۸۸-۸۹ دوره ابتدایی

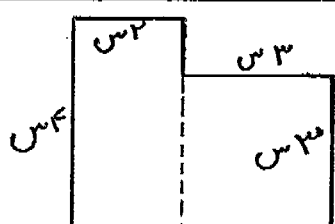
پایه: شعبه:

نام آموزگار:

ماده درسی: ریاضی

ردیف	شرح سوال	بارم
۱	<p>عددهای زیر را با رقم یا حروف بنویسید</p> <p>۸۲۵۰.....</p> <p>پنجاه و شش هزار و نه صد و نود و هفت.....</p>	۱
۲	<p>تفریق زیر را انجام دهید و امتحان کنید.</p> $\begin{array}{r} ۵۴۸۰ \\ - ۱۲۹۰ \\ \hline \end{array}$	۱
۳	<p>در جای خالی عدد مناسب بنویسید.</p> $۹ \div ۹ = \square$ $۷ + ۷ + ۷ + ۷ = \square \times ۷$ $۳۵ \times \square = \dots$ $۶ \times ۱ = \square$ $(۸ \times ۴) + (۸ \times ۳) = (۸ \times \square)$ $۴۲ \times \square = ۴۲۰$	۱/۵
۴	<p>ساعت زیر را با استفاده از کلمات ربع و نیم بخوانید.</p>  <p>.....</p>	۱
۵	<p>نام شکل های زیر را بنویسید.</p>  <p>.....</p>  <p>.....</p>	۱
۶	<p>نام خط های زیر را بنویسید.</p>  <p>.....</p>  <p>.....</p>	۱

۱	<p>کسر مربوط به قسمت رنگی هر شکل را بنویسید.</p>  <p>● ● ○ ○ ● ○ ○ ○</p> <p>_____</p>	۷
۱/۵	<p>برای شکل زیر یک ضرب و دو تقسیم بنویسید.</p>  <p>_____</p> <p>_____</p> <p>_____</p>	۸
۲	<p>در جای خالی علامت $<=>$ بگذارید.</p> <p>$\frac{1}{3}$ □ $\frac{2}{5}$ □ $\frac{4}{5}$</p> <p>ثلث □ $\frac{2}{5}$ □ $\frac{4}{5}$</p> <p>۷۹۹۰ □ ۷۹۰۹</p> <p>۴۲ ÷ ۷ □ ۳۶ ÷ ۶</p>	۹
۱	<p>احمد ۳۷ گردو داشت آن ها را بین ۵ نفر از دوستانش تقسیم کرد به هر نفر چند گردو می رسد و چند تا باقی می ماند؟</p>	۱۰
۰/۵	<p>در کدام شکل خط چین تقارن شکل است.</p> 	۱۱

۱	۷ کیلو گرم و ۴۵۰ گرم برابر است با..... گرم ۸۲۵۰ متر برابر است با کیلومتر و..... متر ۳ سانتیمتر و ۷ میلیمتر برابر است با.....میلیمتر	۱۲
۱	باغچه ای است به شکل مستطیل که طول آن ۹ متر و عرض آن ۵ متر است محیط این باغچه چند متر است؟	۱۳
۰/۵	اگر قطر دایره ای ۱۰ سانتیمتر باشد شعاع آن سانتیمتر است .	۱۴
۱	ضرب های زیر را انجام دهید. $\begin{array}{r} ۳۲۴ \\ \times ۲ \\ \hline \end{array}$ $\begin{array}{r} ۸۷۰ \\ \times ۵ \\ \hline \end{array}$	۱۵
۰/۵	دور مضرب های عدد ۵ خط بکشید. ۴۵-۴۲-۲۸-۳۰	۱۶
۱	علی در هر روز ۱۲ صفحه کتاب می خواند او در ۸ روز چند صفحه کتاب می خواند؟	۱۷
۱	کلاس سوم ۳۰ دانش آموز دارد اگر خمس آن ها عضو کتاب خانه باشند چند نفر عضو کتاب خانه هستند ؟	۱۸
۱/۵	مساحت شکل زیر را حساب کنید . 	۱۹

با سمه تعالی

آزمون درس : ریاضی

سرپرستی مدارس جمهوری اسلامی ایران در امارات عربی متحده

پایه : سوم

مجتمع آموزشی امام خمینی (ره) ابوظبی

نام و نام خانوادگی:

سال تحصیلی ۸۹ - ۸۸

مدت آزمون : ۷۰ دقیقه

تاریخ: ۸۹/۳/۳

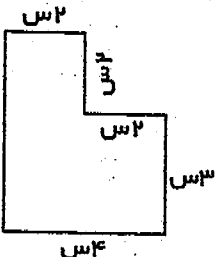
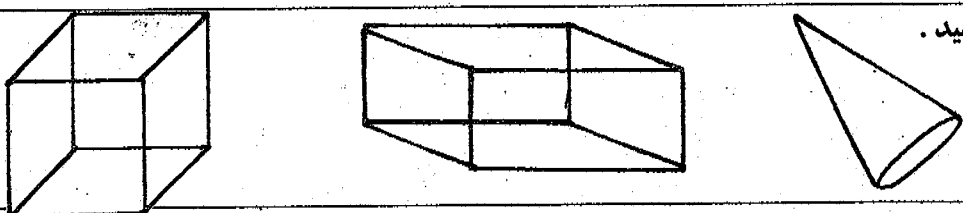

شماره صفحه : ۱

ردیف	سوالات	بارم
۱	با توجه به عدد ۸۵۲۶۹۷ به سؤالات زیر پاسخ دهید: الف) این عدد چند رقمی است؟ ب) ارزش رقم ۶ چیست؟ ج) کدام رقم بیشترین ارزش را دارد؟ د) عدد را با حروف بنویسید.	۲
۲	زمینی است به شکل مستطیل که طول آن ۲۳ متر و عرض آن ۱۷ متر است محیط این زمین چند متر است؟	۱
۳	در جاهای خالی عدد مناسب بنویسید. ۷ کیلوگرم گرم است. ۵۰ میلی متر سانتی متر است. ۲۶۸۰ متر کیلومتر و متر است.	۱
۴	جمع و تفریق کنید.	۲
	$\begin{array}{r} ۲۶۰۹ \\ - ۱۳۲۶ \\ \hline \end{array}$ $\begin{array}{r} ۵۰۸۳۹ \\ + ۳۴۳۵۸ \\ \hline \end{array}$	
۵	در داخل مربع عدد مناسب بنویسید . $(۴ \times ۷) + (۲ \times ۷) = \square \times ۷$ $۹ \times ۳ = \square \times ۹$ $۵۸ \times ۱۰۰ = \square$ $۶ + ۶ + ۶ + ۶ = \square \times ۶$	۱
۶	اگر قیمت یک جلد دفتر ۳۴۵ تومان باشد. قیمت ۶ جلد دفتر چند تومان است؟	۱
۷	زمانی را که ساعت های زیر نشان می دهند را با استفاده از کلمات ربع و نیم بنویسید.	۱

۸	مقایسه کنید و علامت \lt ، $=$ یا \gt بگذارید:	۲	$۸۷۹۰۵ \square ۹۴۴۶$ $۶ \times ۱۰ \square ۶۴ \times ۱$ $۸ \times ۰ \square ۵ \times ۰$ $\frac{۲}{۵} \square \frac{۳}{۵}$
۹	مساحت شکل روبرو چند سانتی متر مربع است؟	۲	
۱۰	خارج قسمت و باقی مانده تقسیم های زیر را به دست آورید.	۲	$\begin{array}{r} ۶۷ \\ ۸ \overline{) ۶۷} \\ \underline{۵۶} \\ ۱۱ \end{array}$ $\begin{array}{r} ۴۳ \\ ۷ \overline{) ۴۳} \\ \underline{۲۸} \\ ۱۵ \end{array}$
۱۱	یک مثلث بکشید که یک گوشه ی راست داشته باشد.	۰/۵	
۱۲	هر یک از شکل های زیر چند ضلع، چند قطر و چند خط تقارن دارد؟	۱/۵	<div style="display: flex; justify-content: space-around;"> <div style="text-align: center;"> <p>ضلع : قطر : خط تقارن :</p> </div> <div style="text-align: center;"> <p>ضلع : قطر : خط تقارن :</p> </div> </div>
۱۳	دور اعدادی که بر ۵ قابل قسمت است خط بکشید.	۰/۵	۳۹ ۲۰ ۳۵ ۶۴
۱۴	در شکل روبرو چند پاره خط می بینید؟ آیا خط های (س) و (د) موازیند؟ آیا خط های (م) و (د) متقاطعند؟ نقطه ی مشترک خط های (س) و (م) را پررنگ کنید.	۱	
۱۵	کتاب داستان علی ۴۵ صفحه دارد. او خمس کتابش را خوانده است. علی چند صفحه از کتاب را خوانده است؟ چند صفحه نخوانده است؟	۱/۵	

موفق باشید

آزمون درس : ریاضی سرپرستی مدارس جمهوری اسلامی ایران در امارات عربی متحده مدت آزمون : ۶۰ دقیقه
 پایه : سوم مجتمع آموزشی امام خمینی (ره) ابوظبی تاریخ : ۸۹/۳/۳
 نام و نام خانوانگی : سال تحصیلی ۸۸ - ۸۹ شماره صفحه : ۲


۱	بهترین وسیله برای کشیدن دایره است .	۸
۱/۵	مساحت شکل زیر را به دست آورید. 	۹
۱/۵	در جاهای خالی عدد مناسب بگذارید. ۴۶۰۰ کیلومتر و متر است . ۷ کیلوگرم و ۲۰۰ گرم گرم است . ۳۶ میلی متر سانتی متر و میلی متر است . ۸ متر سانتی متر است .	۱۰
۱	نام شکل های زیر را بنویسید . 	۱۱
۱/۵	مریم ۳۲۰۰ تومان پول دارد . ۴۰۰ تومان آن را دفتر و ۸۴۰ تومان آن را کتاب خرید . چند تومان خرج کرده است؟ و چند تومان برایش مانده است؟	۱۲
۱	ساعت چند است ؟ 	۱۳
۱/۵	بزرگترین عدد را در جای خالی بنویسید تا نامساوی زیر درست شود . $..... \times 9 < 78$ $..... \times 7 < 45$ $..... \times 6 < 56$	۱۴
۱	دو خط متوازی را تعریف کنید و شکل آن را بکشید .	۱۵

باسمه تعالی

آزمون درس : ریاضی سرپرستی مدارس جمهوری اسلامی ایران در امارات عربی متحده مدت آزمون : ۶۰ دقیقه

پایه : سوم مجتمع آموزشی امام خمینی (ره) ابوظبی تاریخ : ۸۹/۳/۳

نام و نام خانوادگی : سال تحصیلی ۸۹ - ۸۸ شماره صفحه : ۱

ردیف	سؤالات	نمره
۱	عدد ۲۸۰۴۵ چند رقمی است؟ رقم دهگان هزار آن چندانست؟ ارزش مکانی کدام عدد بیشتر است؟ این عدد را با حروف بنویسید.	۱
۱	عدد های زیر از بزرگ به کوچک مرتب کنید. ۲۲۷۴ - ۲۲۹۷۸ - ۲۴۵۸ - ۲۴۹۸۷	۲
۲	در جای خالی علامت < = > بگذارید. 3×4 <input type="checkbox"/> 6×2 $20 \div 5$ <input type="checkbox"/> $0 \div 7$ $\frac{4}{8}$ <input type="checkbox"/> $\frac{5}{8}$ $165 - 36$ <input type="checkbox"/> $49 + 54$	۳
۲	در تساوی های زیر در جای خالی عدد مناسب بنویسید. $\dots \times 10 = 170$ $2 \times 8 \times 10 = \dots$ $9 + 9 + 9 = \dots \times 9$ $72 + 8 = \dots$	۴
۱	فرهاد روزی ۴۰ صفحه کتاب می خواند او در ۴ هفته چند صفحه کتاب می خواند؟	۵
۱	ثلث شکل زیر را رنگ بزنید. 	۶
۲	حاصل تمرین های زیر را به دست آورید. $62 \times 200 =$ $78 \overline{) 9}$ $7806 - 43$ 796×4	۷

سرپرستی مدارس جمهوری اسلامی ایران در امارات عربی متحده

مجتمع آموزشی نمونه وین الملل توحید پسران دبئی

امتحانات نوبت دوم سال تحصیلی ۸۹-۸۸

نام و نام خانوادگی دانش آموز: آزمون: بنویسیم پایه و کلاس: سوم تاریخ آزمون: ۸۹/۳/۵ مدت زمان:

۱- با کلمات زیر جمله بسازید. (هر مورد ۰/۵ نمره)

آهسته :

شرشر :

لذت ببرید :

بلندتر:

۲- با کلمه های " آسمان ، آبی ، خدا " جمله بساز. از هر کلمه ی دیگری هم که لازم است ، استفاده کن . (در دو سطر بنویس) (۲ نمره)

.....

.....

۳- جاهای خالی را کامل کنید . (۲ نمره)

مسعود نماینده ی گروه دوم ، گزارش گروه را
دانشمندان با فراوان به همه چیز نگاه می کنند .
حرف های مخصوص کودکان ، حرف های است .
پدرم هفته ی بعد به مسافرت رفت .

۴- جمله های زیر را مرتب کن و کامل بنویس . (۲ نمره)

با - دستگاه - آموزگار - یک - وارد - تلفن - کلاس - شد .

.....

همه چیز - دقیق - آفریده - را - خداوند - و - منظم - است .

.....

همه ی ما - به - سمت - باید - سفر - خوبی ها - کنیم .

.....
کاری - باید - نقاشی - بهزاد - کنیم - نمایشگاه - فردا - آماده - شود - تا - برای

۵- درباره ی تصویر روبه رو ، دو سطر بنویس . (۲ نمره)




۶- هر شخصیت را به جمله ی مربوط به آن وصل کن . (۲ نمره)

- | | |
|-----------------------------------|--|
| <input type="radio"/> ابوریحان | <input type="radio"/> پدر علم فیزیک است . |
| <input type="radio"/> دکتر حسابی | <input type="radio"/> از دانشمندان بزرگ ایران است . |
| <input type="radio"/> تختی | <input type="radio"/> او کاشف الکل است . |
| <input type="radio"/> زکریای رازی | <input type="radio"/> یکی از کشتی گیران نامدار ایران است . |

۷- نوشته ی زیر را کامل کن . (۱ نمره)

اگر جنگلبان بودم



نمره با عدد :
نمره با حروف :
امضاء آموزگار :

سال تحصیلی ۸۸-۸۹
خرداد ماه
مدت امتحان : ۶۰ دقیقه
تاریخ امتحان : ۸۹/۳/۶

نام و نام خانوادگی :
کلاس : سوم
نام درس : بنویسیم

بارم

۱/۵

۱- در جای خالی کلمات مناسب قرار دهید.

* ما فقط یک کره ی زمین

* امروز به مدرسه می آیند.

* علی دیروز مدرسه به خانه برگشت.

* همیشه برای خواهر کوچکم ، داستان می گویم.

* خرگوش از لای سبزه ها بیرون پرید.

* قدّ زهرا از همه ی هم کلاسی هایش است.

۱

۲- کلمات هم معنی را به هم وصل کنید.

- | | |
|--------------------------------|----------------------------------|
| <input type="checkbox"/> تحمل | <input type="checkbox"/> احتیاج |
| <input type="checkbox"/> نیاز | <input type="checkbox"/> عجله |
| <input type="checkbox"/> لیاقت | <input type="checkbox"/> صبر |
| <input type="checkbox"/> آغاز | <input type="checkbox"/> شایستگی |
| <input type="checkbox"/> شتاب | |

۱

۳- مخالف کلمات زیر را بنویسید.

خنده () طلوع () شب () با ادب ()

۴- واحد شمارش کلمات زیر را بنویسید.

لباس () هواپیما ()

۵- جمع کلمات زیر را بنویسید.

درخت () تغییر ()

۶- با کلمه ی (خانه) مانند نمونه دو کلمه ی جدید بسازید.



۷- مرتب شده ی کلمات درهم ریخته ی زیر را بنویسید.


* برای ، خدا ، خانه ی ، به ، مگه ، سعدی ، زیارت ، سفر کرد

۸- ضرب المثلی بنویسید که در آن کلمه ی (کوه) به کار رفته باشد.

۹- با هر کلمه جمله ای معنی دار بنویسید.

- * خورشید : _____
- * ثروتمند : _____
- نشسته بود : _____
- * جنگلبان : _____
- * ما : _____

۱/۵



۱۰- برای تصویر زیر داستانی در دو خط بنویسید.

۱/۵

۱۱- در دو خط داستان نیمه تمام زیر را کامل کنید.

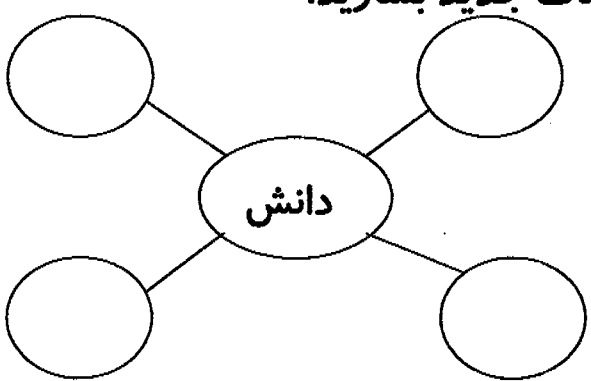
یک روز علی به همراه دوستش در خیابان قدم می زدند ، که ناگهان

۴

۱۲- خلاصه ی حکایت (خارکن و حاتم طایی) را بنویسید.





دختر خوبم موفق باشی.

۱	<p>گزینه ی صحیح را با علامت (x) مشخص کنید.</p> <p>الف) ما به انسانهای بزرگ و دوست داشتنی احترام <input type="radio"/> می گذاریم <input type="radio"/> می گذاریم <input type="radio"/> بگذارید <input type="radio"/> می گذارند</p> <p>ب) خداوند همه ی چیزها دقیق و منظم آفریده است . <input type="radio"/> و <input type="radio"/> به <input type="radio"/> را <input type="radio"/> در</p>	۱
۱/۵	<p>هر یک از کلمه ها را به جمله ای وصل کنید که با آن ارتباط دارد .</p> <p>نماینده ▪ به طرف اتوبوس رفتیم. پزشک ▪ مشغول جراحی شد. ما ▪ مسئول حفظ نظم در کلاس است. ادیسون ▪</p>	۲
۱	<p>معنی کلمات زیر را بنویسید.</p> <p>نمکزار : بیمارستان: ثروتمند: هنرمند :</p>	۳
.۱/۵	<p>جمله های زیر را با کلمات داخل کمانک کامل کنید .</p> <p>الف) شاید شما یکی از فضا باشید. (رانندگان - مسافران - خلبانان) ب) ما باید به بزرگترها به پیرها احترام بگذاریم (مخصوصا - تقریبا - معمولا)</p>	۴
۱	<p>مخالف کلمه های زیر را بنویسید.</p> <p>پیر ≠ ناراحت ≠ دوست ≠ شجاع ≠</p>	۵

۲	<p>در جاهای خالی کلمه مناسب قرار بدهید. (سعدی-رفت-از-مهربانی)</p> <p>توماس کوچولو پس از خوردن ناهار به زیر زمینگلستان و بوستان را در شیراز نوشت. جنگل هوا را تمیز و پر.....اکسیژن می کند. امام علی (ع) با.....به بچه ها عسل می داد.</p>	۶
۲	<p>با کلمه داده شده کلمات جدید بسازید.</p> 	۷
۱	<p>جمله های زیر را مرتب کنید.</p> <p>الف) را-پرت-تو-حواس-می-کنی-بقیه-</p> <p>ب) احتیاج-فوری-شما-به-جراحی-عمل-دارید-</p>	۸
۲	<p>با کلمات داده شده جمله بسازید.</p> <p>..... : درخت</p> <p>..... : فداکاری</p> <p>..... : شهید</p> <p>..... : تعطیل</p>	۹

با تصویر های زیر یک داستان بنویسید.

۲



۲

نوشته زیر را در چند سطر ادامه بدهید.

زهرة کوچولو در یک روز بارانی وقتی به حیاط آمد چشمش به یک پرنده زخمی

افتاد

.....

.....

.....

.....

۱۱

۴

خلاصه ی یکی از درس های زیر را بنویسید .

امام و پروانه ها

ادیسون

۱۲

باسمه تعالی

نام و نام خانوادگی:

سرپرستی مدارس جمهوری اسلامی ایران در امارات عربی متحده

پایه:

مجتمع آموزشی شارجه_ نوبت دوم سال تحصیلی ۸۹-۸۸ دوره ابتدایی

تاریخ: ۸۹/۳/۵

ماده درسی: انشا

نام آموزگار:

ردیف	شرح سوال	بارم
۱	کلمه های هم معنی را به هم وصل کنید. احتیاج تعاون محبت آرامگاه	۲
۲	کلمات زیر را مرتب کنید و با آن جمله های درست بنویسید. باید - بزرگ ترها - احترام - و - پیرها - مخصوصا" - بگذاریم - به زندگی - سمت - خوبی ها - پاکی هاست - و - سفر - به	۲
۳	مخالف کلمات زیر را بنویسید. سرما = آغاز = تمیز = رفت =	۱
۴	با کلمات داده شده کلمات جدید بسازید. دانش نماز	۱
۵	جملات زیر را با استفاده از کلمات داده شده کامل کنید. عادل - باغبان - می کنند - زیبا - بچه ها - لبخند صورت ها را می کند. درختان هر سال در بهار شکوفه در حیاط مدرسه بازی می کنند. به کسی که از باغ نگه داری می کند..... می گویند.	۲
۶	با کلمات زیر جمله های مناسب بنویسید. اشک ریزان : آموزگار: قله: دروازه بان:	۴

با سمه تعالی

مدت آزمون : ۶۰ دقیقه

سرپرستی مدارس جمهوری اسلامی ایران در امارات عربی متحده

آزمون درس : بنویسیم

تاریخ: ۸۹/۳/۵

مجتمع آموزشی امام خمینی (ره) ابوظبی

پایه : سوم ابتدایی

شماره صفحه : ۱

سال تحصیلی ۸۹ - ۸۸

نام و نام خانوادگی :

ردیف	سوالات	بارم
۱	کلمه های هم معنی را به هم وصل کنید. شروع * نیاز * شجاع * پهناور * احتیاج * آغاز * وسیع * دلیر *	۲
۲	با کلمه های زیر جمله بسازید. نم نم:..... آموزگار:..... ایستادند:.....	۳
۳	این کلمه ها برای شمارش چه چیز هایی به کار می روند؟ فروند: تخته:	۱
۴	با هر یک از نشانه های زیر یک کلمه بسازید: مند : نا:..... زار: گاه:.....	۲
۵	مخالف کلمه های زیر را بنویسید. ابتدا : گرسنه : زود : پنهان :	۲
۶	هر یک از کلمه ها را به جمله ای وصل کنید که با آن ارتباط دارد. لبخند * * یک ثروت ملی است. نفت * * هر سال شکوفه می دهند. درختان * * با آن دنیا گلستان می شود.	۰/۷۵

۰/۷۵	<p>هر کدام از کلمه های زیر جمع چه کلمه ای است.</p> <p>زحمات () کرات () مادر بزرگان ()</p>	۷
۱	<p>در جاهای خالی فعل مناسب بنویسید.</p> <p>مسعود نماینده ی گروه اول گزارش گروه را</p> <p>سعدی با قرآن و احادیث آشنایی کامل</p>	۸
۰/۱۵	<p>کدام کلمه با کلمه های ردیف خودش ارتباط ندارد. (علامت بزنیید)</p> <p>رنگ <input type="checkbox"/> کاغذ <input type="checkbox"/> قلم مو <input type="checkbox"/> میز <input type="checkbox"/></p>	۹
۰/۱۵	<p>کدام یک از کلمه های زیر هم خانواده ی کلمه ی «علم» است. (علامت بزنیید)</p> <p>عادل <input type="checkbox"/> عالم <input type="checkbox"/> عدالت <input type="checkbox"/> عهد <input type="checkbox"/></p>	۱۰
۱/۵	<p>با شنیدن کلمه های زیر به یاد چه چیزهایی می افتید برای هر مورد دو مثال بزنیید.</p> <p>خورشید : طبیعت : برق :</p>	۱۱
۵	<p>از دو موضوع زیر یکی را به دلخواه انتخاب کنید و چند خط درباره ی آن بنویسید.</p> <p>۱- جنگل و فایده های آن.</p> <p>۲- به کدام شهر یا روستای ایران سفر کرده اید گزارش کوتاهی درباره ی آن بنویسید.</p> <p>.....</p> <p>.....</p> <p>.....</p> <p>.....</p> <p>.....</p> <p>.....</p> <p>.....</p>	۱۲

محل مهر آموزشگاه	سرپرستی مدارس جمهوری اسلامی ایران در امارات عربی متحده		
	مجتمع خدیجه کبری (س) - سال تحصیلی ۸۹-۸۸		
	نام و نام خانوادگی:	کلاس: هجتم	شماره کارت:
	نام دبیر:	نام درس: ادبنا	نوبت امتحان:
مدت آزمون:	تاریخ آزمون:	صفحه:	امضاء دبیر مربوطه

ردیف	سوال	بارم
۵	درباره ی سعدی چه می دانید ؟ در دو خط توضیح دهید.	۲
۶	کلمات داده شده را در جمله به کار ببرید. اوقات فراغت: پاکیزگی: دوبیند: تکلیف: مخترع: عرق ریزان	۴
۷	به قبل و بعد کلمات داده شده کلماتی اضافه کن تا جمله معنی دار شود. (أ).....شوق و ذوق..... ب) در سرزمین ما ایران، دانشمندان بزرگی چون ابوعلی سینا و شاعرانی مانند.....زندگی کرده اند.	۱/۵
۸	یک ضرب المثل بنویسید و درباره ی آن توضیح دهید	۲

ردیف	سوال	بارم
۱	کامل کنید. (ا) هوای آلوده گل ها را می کند. (ب) با لبخند صورت ها می شود. (ج) به کسی که هنر دارد می گویند. (د) داشتند از خیابان عبور (ه) ما به زبان فارسی می خوانیم و می نویسیم.	۲/۵
۲	با هر کلمه دو کلمه ی تازه بنویسید. نماز) و (دانش) و (شنو) و (گزار) و (۲
۳	هر کلمه را به کلمه ی مناسب وصل کن. شتاب آمیز فردوسی کشور (وطن) افتخار عجله ابرار شاهنامه	۱
۴	مرتب کن. نما پیاده - حفظ - مسئول - کلاس - نظم - است - در - گذاشت - تک تک - عسل - امام علی (ع) - دهان - در - بچه ها - پرواز - انسان - آسمان ها - در - دین - پرواز - را - فکر - به - پرندگان - انداخت	۳



ای خدای مهربان ، ما را یاری کن تا فقط تو را بپرستیم و در راه رضای تو گام برداریم. قدر پدر و مادر خود را بدانیم و به آنها احترام بگذاریم.

هوا گرم و آفتابی بود. بچه ها مثل پروانه ها در سایه ی نخل ها بازی می کردند. قنبر به امام علی (ع) گفت: چرا شما به این کودکان تا این اندازه محبت می کنید؟

امام علی (ع) فرمود: آن ها فرزندان بهترین مردم هستند. فرزند مردانی که در راه خدا و برای کمک به دین رسول خدا شهید شدند. دلم می خواهد برای آن ها پدری مهربان باشم.

زندگی مثل یک سفر است. همه ی ما باید به سوی خوبی ها و پاکی ها سفر کنیم. یکی از کارهای خوب خواندن نماز است. همه ی ما وقتی به سن تکلیف می رسیم سفر خود را شروع می کنیم و هنگام نماز در حال سفر به سوی خدا هستیم.

جنگل وسیع و زیباست. درختان بلند و انبوه شاخه ها و برگ هایی که گاهی مانع عبور نور خورشید می شوند ، و صدای آرام نسیم که در همه جا شنیده می شود. جنگل یکی از بهترین مکان های استراحت و گردش انسان ها است، که باید در حفظ و مواظبت از آن تلاش کنیم.

ای ایران ، ای سرزمین من ، امروز با دلی شاد و با نشاط درس می خوانم و تلاش می کنم تا در راه آباد کردن تو از جان و دل بکوشم ، و با دشمنان تو بجنگم و قدر شاعرانی مانند سعدی که از افتخارات ملی و ادبی ما ایرانیان است را بدانم.

باسمه تعالی

نام و نام خانوادگی: سرپرستی مدارس جمهوری اسلامی ایران در امارات عربی متحده
پایه: شعبه: مجتمع آموزشی شارجه_ نوبت دوم سال تحصیلی ۸۹-۸۸ دوره ابتدایی تاریخ: ۸۹/۳/۱
ماده درسی: املا نام آموزگار:

خدایا ما را موفق کن تا قدر پدر مادر و آموزگار خود را بدانیم و به آن ها احترام بگذاریم.
ای کاش خودروها و کارخانه ها حرف ما را می فهمیدند و هوا را آلوده نمی کردند.
شهید محمد حسین فهمیده نوجوان فداکاری بود که نارنجک به کمر بست و زیر زنجیرهای تانک
دشمن جان خود را فدا کرد تا از پیشروی آنان به سوی خاک ایران جلوگیری کند.
امام فرمود آن ها فرزندان بهترین مردم هستند فرزندان مردانی که در راه خدا و برای پشتیبانی از
دین رسول خدا شهید شدند. دلم می خواهد برای آن ها پدری مهربان باشم.
زندگی مثل یک سفر است همه ی ما مسافریم باید به سمت خوبی ها و پاکی ها سفر کنیم .
ای ایران ای سرزمین من امروز با دلی پر از امید و نشاط درس می خوانم و تلاش می کنم تا در
آینده ایرانی زیباتر پیش رفته تر سربلند تر و آبادتر داشته باشیم.
اگر جنگل نباشد اکسیژن مورد نیاز انسان فراهم نمی شود و مواد سمی هوا از بین نمی رود .
سعدی با قرآن و احادیث آشنایی کامل داشت . بسیاری از مردم دنیا هم آثار او را می خوانند و به
آن ها علاقه دارند.

با سمة تعالی

مدت آزمون: ۶۰ دقیقه

سرپرستی مدارس جمهوری اسلامی ایران در امارات عربی متحده

آزمون درس : املا

تاریخ: ۸۹/۳/۱

مجتمع آموزشی امام خمینی (ره) ابوظبی

پایه : سوم

شماره صفحه: ۱

سال تحصیلی ۸۹ - ۸۸

نام و نام خانوادگی:

تماشای قلّه و نفس کشیدن در هوای پاکیزه و لطیف کوهستان چه قدر لذت بخش بود بوی پونه های وحشی و صدای دل نشین چشمه ای که در دامنه ی کوه روان بود ، ما را غرق شادی و نشاط کرد.

روی شاخه های خشکیده ی درختان ، جوانه های سبز خوش رنگی روئیده اند ، شکوفه های سفید و زیبا شاخه ها را تزیین کرده اند. آسمان صاف و هوا آفتابی است. فضا پر از صدای آب رودخانه و جیک جیک گنجشک ها است.

حالا اگر قول بدهید که تا آخر راه با ما باشید می خواهیم شما را به یک کوه نوردی ببریم که خستگی ندارد. خیلی خوب راه بفتید. باید از تپّه ها بگذریم تا به کوه ها برسیم. در این میان معمولاً رود هایی جاری هستند که از کوه ها سر چشمه می گیرند. مخصوصاً اگر در آنجا جنگل وسیع و زیبا با درختان بلند و تناور که گاه مانع عبور تابش خورشید می شوند وجود داشته باشد ، منظره خیلی زیباتر می شود.

ای خدای خوب ، برای این همه نعمت از تو سپاس گزارم. از تو می خواهیم به من کمک کنی تا رفتاری پسندیده داشته باشم، بیش تر درس بخوانم تا در آینده به مردم خوب کشورم و همه ی مردم جهان خدمت کنم.

ب	سوالات	ب
	<p>خدایا تو را سپاس می گوئیم که آسمان آبی، ستارگان درخشان، آفتاب روشن، مهتاب زیبا وابر های پراز باران را آفریدی .</p> <p>ما دوست داریم که همه ی بچه ها از اوقات فراغت به خوبی استفاده کنند و ذوق و استعداد آن ها پرورش پیدا کند</p> <p>سناچاقک گفت : > به دوستانت بگو وقتی به جنگل می آیند آشغال را داخل کیسه ی زیباله بریزند ، به لانه ی پرندگان و لانه ی مورچه ها و کندوی زنبور های عسل کاری نداشته باشند . <</p> <p>پزشک با عجله مشغول فراهم کردن وسایل برای جراحی شد . وقتی او مشغول شد توماس دست های کوچکش را به طرف آسمان بلند کرد و از خدای بزرگ خواست تا مادرش از درد و بیماری نجات یابد .</p> <p>کوه نورد ها برای سلامتی و دیدن مناظر زیبا به کوه می روند یک منظره ی تماشایی خستگی را از تن بیرون می کند .</p> <p>اگر جنگل نباشد ، یکی از بهترین محل های استراحت و گردش از انسان گرفته می شود پس باید جنگل را حفظ کنیم و مراقب باشیم که درختان از بین نروند .</p> <p>سعدی اهل شیراز بود او دوران کودکی و نوجوانی را در شیراز گذراند اما از آن پس به سفر رفت تا چیز های بیش تری یاد بگیرد . او دو کتاب گلستان و بوستان را نوشته است .</p>	

نام:

نام خانوادگی:

کلاس: سوم

سرپرستی مدارس جمهوری اسلامی ایران در امارات عربی متحده

مجتمع آموزشی حضرت خدیجه کبری (س)

امتحان املا نوبت دوم

شماره:

بارقم و حروف:

امضا آموزگار:

عبدالمنعم

به نام خداوند بخشنده مهربان

ما دوست داریم که هر یک یکم هاله از اوقات فراغت به خوبی استفاده کنند و زود و استوار آن ها

سپردن به یاد کنند در صبح دلتنیز و گرمی آفتاب و هوای پاکیزه و لطیف کویت بی چه قدر لذت بخش بود
حسن امیرزاده معلم غذاکاری است که در یک واقعه ای آتش سوزی به جایل دانش آموزان را
نجات داد.

عبور هواپیما از میان آبرها بسیار لذت بخش است به روزی براید سه ساله از زندگانی
گرمی ماه فروردی باید

ای ایران ای سرزمین باغی ها و درختی ها به اتفاقا درین باغی های خود کهدو میان می بینیم به
در راه آبا در گذردن تواز جان و دل بگویم

جنگل وسیع و زیارت صدای آرام نسیم در هر جای جنگل شنیده می شود گاه نیز غرغری و زوزه ای
جانوران و سکوت و آرامش جنگل را می شنود

سعدی در بیان کودکان و نوجوانان را در سیر از بزرگانند حاصل می شود و کتاب بزرگ طمان
و بوستان است سعدی با قرآن و احادیث نیز آشنایی کامل داشت

سرپرستی مدارس جمهوری اسلامی ایران در امارات عربی متحده

مجمع آموزشی نمونه و بین الملل توحید پسران دبی

امتحانات نوبت دوم سال تحصیلی ۸۹-۸۸

آزمون: املاء پایه و کلاس: سوم تاریخ آزمون: ۸۹/۳/۱ مدت زمان:

نام و نام خانوادگی دانش آموز:

درس هایی که نیکو آموخت

نیکو، ایران، این خانه ی پرشکوه را با همه ی زیبایی هایش دوست دارد و با دلی پراز امید و نشاط درس می خواند تا در آینده ایرانی زیبا تر، پیش رفته تر، سربلند تر و آباد تر داشته باشد. او با دو کتاب بزرگ گلستان و بوستان سعدی آشنایی دارد و می داند که این کتاب از افتخارات ملی و مذهبی ما ایرانیان است. او می خواهد یک نقاشی از جنگل های کشورمان با درختان بلند و تناور و انبوه شاخه ها و برگ هایی که گاه مانع عبور تابش خورشید می شوند، بکشد و پس از رنگ آمیزی در نمایشگاه مدرسه شرکت کند. امروز، پس از پایان درس امام و پروانه ها نیکو فهمید که امیرالمومنین برای فرزندان مردانی که در راه خدا و برای پشتیبانی از رسول خدا شهید شدند، پدری مهربان بود. بعد از ظهر، نرگس، یکی از دوستان نیکو که در مدرسه ی دیگری درس می خواند، به او تلفن کرد. نیکو می خواست خاطره ی شیرین هفته ی قبل را تعریف کند که خودش و هم کلاسی هایش با آن چادرهای سفید و گل های قشنگی که به سرشان زده بودند، مثل فرشته ها شده بودند و در دست هر کدام یک شمع روشن بود و همه با هم سرود جشن تکلیف را می خواندند. ناگهان یادش آمد که نباید با تلفن زیاد صحبت کرد؛ شاید کسی پشت خط باشد و کارلازمی داشته باشد. پس صحبت های خود را خلاصه کرد و خداحافظی نمود و چون قرار بود فردا همراه با پدر و مادرش برای سلامتی خود و دیدن مناظر زیبا به کوه نوردی بروند، سریع رفت تا درس هایش را بخواند.