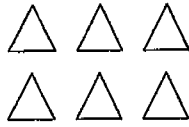
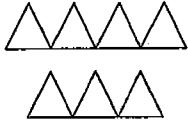


۱- برای شکل زیر یک جمع و دو تفریق بنویسید. (۱/۵ نمره)



..... + =

..... - =

..... - =

۲- در جاهای خالی عدد مناسب بنویسید. (۱/۵ نمره)

$9 + (1 + 5) = (\dots + \dots) + 5 = \square$

$8 + 3 = 10 + \dots = \square$

$17 - \square = 10$

۳- علامت مناسب $> = <$ قرار دهید. (۱/۵ نمره)

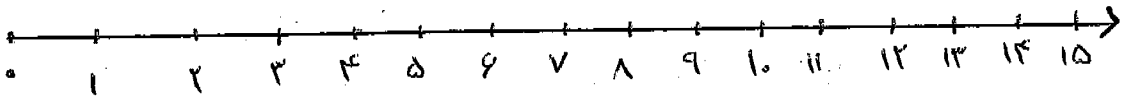
$7 + 7 \square 77$

$504 \square 540$

$200 \square 199$

۴- جمع زیر را روی محور نشان دهید. (۱ نمره)

$5 + 7 = \square$



۵- ادامه دهید. (۱ نمره)

$300 - 305 - \dots - \dots - \dots - \dots$

۶- یک عدد زوج سه رقمی بنویسید. (۵/۰ نمره)



۷- چند ریال می شود؟ (۰/۷۵ نمره)

۸- ۶۱۵ سانتی متر متر و سانتی متر است . (۱ نمره)
 ۳متر و ۹ سانتی متر سانتی متر است .

۹- جمع کنید . (۱/۵ نمره)

۲۷۵

۸۷

۱۴۵

+ ۱۴۶

+ ۳۹

+ ۲۳۵

+ ۳۱۳

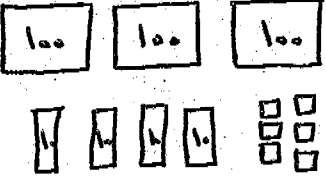


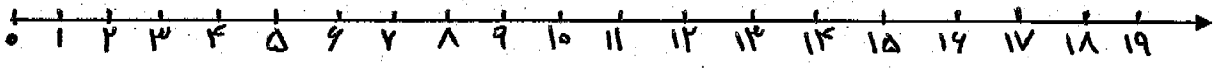
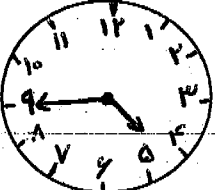
۱۰- عددها را با حروف و رقم بنویسید . (۱ نمره)


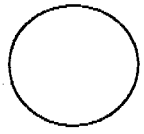
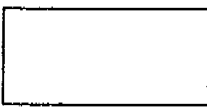
چهار صد و پنجاه و سه

۶۰۱

۱۱- ماه خرداد ۳۱ روز است . ۵ روز از خرداد گذشته است . چند روز دیگر از این ماه باقی مانده است ؟ (۱/۵ نمره)

۱۲- یک خط راست و یک خط خمیده بکشید که یکدیگر را در دو نقطه قطع کنند . (۰/۷۵ نمره)
 نقطه های مشترک را شماره گذاری کنید .

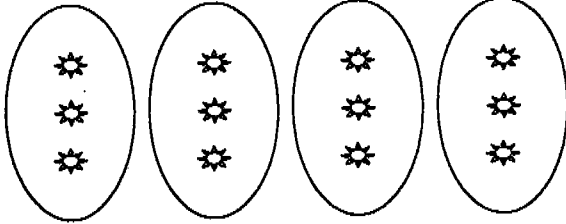
بارم	سوال	ردیف								
۰/۵	با دو رقم ۶ و ۹ دو عدد دو رقمی بنویسید :	۱								
۱/۲۵	عدد مربوط به شکل را در جدول نوشته سپس به رقم و حروف بنویسید.  <table border="1" data-bbox="678 504 933 683"> <tr> <td>یکی</td> <td>ده‌تایی</td> <td>صدتایی</td> </tr> <tr> <td></td> <td></td> <td></td> </tr> </table> <p>با رقم : _____ با حروف : _____</p>	یکی	ده‌تایی	صدتایی				۲		
یکی	ده‌تایی	صدتایی								
۲	عدهای زیر را با رقم و یا حروف بنویسید. <table border="1" data-bbox="199 817 1428 952"> <tr> <td>سی صد و چهارده</td> <td></td> <td>نهصد و هشتاد</td> <td></td> </tr> <tr> <td></td> <td>۴۷۵</td> <td></td> <td>۶۲۷</td> </tr> </table>	سی صد و چهارده		نهصد و هشتاد			۴۷۵		۶۲۷	۳
سی صد و چهارده		نهصد و هشتاد								
	۴۷۵		۶۲۷							
۲	برای شکل زیر دو جمع و دو تفریق بنویسید:  جمع تفریق	۴								
۱	عدد قبل و بعد عدد داده شده را بنویسید. 	۵								
۰/۷۵	جمع زیر را روی محور اعداد نشان دهید.  $7 + 8 =$	۶								
۱	ساعت و دقیقه است. دقیقه مانده به ساعت 	۷								

۰/۵	<p>دور اعداد زوج خط بکشید.</p> <p>۲۲۳ - ۴۵۹ - ۵۶۰ - ۲۳۴</p>	۸
۱/۵	<p>نام شکل های زیر را بنویسید. و قطر آن ها را رسم کنید.</p> <div style="display: flex; justify-content: space-around; align-items: center;"> <div style="text-align: center;">  </div> <div style="text-align: center;">  </div> <div style="text-align: center;">  </div> </div>	۹
۱/۲۵	<p>در جای خالی عدد های مناسب بنویسید.</p> <p>$۷ + ۹ = ۱۰ + \text{-----} = \square$</p> <p>$۳ + (۷ + ۴) = (\text{.....} + \text{.....}) + ۴ = \square$</p>	۱۰
۱/۲۵	<p>مریم در مزرعه به پدرش کمک می کند. آن ها ۵۷۹ بوته ی هندوانه کاشته بودند. ۵۶ تای آن ها خشک شد. چند بوته هندوانه باقی مانده است؟</p>	۱۱
۱	<p>یک خط راست و یک خط خمیده بکشید که همدیگر را در دو نقطه قطع کنند.</p>	۱۲
۱	<p>علامت <=> بگذارید.</p> <p>$۷ + ۸ \square ۱۰ + ۵$ $۸۰۰ \square ۸۰۹$</p> <p>$۶۱۵ \square ۵۶۱$ $۸ - ۱ \square ۷ + ۱$</p>	۱۳
۱/۲۵	<p>در یک گل فروشی ۶۸ شاخه گل آبی و ۷۳ گل زرد و ۴۳ گل قرمز وجود دارد. در این گل فروشی چند گل وجود دارد؟</p>	۱۴

باسمه تعالی
 مجتمع آموزشی خدیجه کبری (س)
 سال تحصیلی ۸۹ - ۸۸
 نام درس : ریاضی
 مقطع تحصیلی : ابتدایی

نام و نام خانوادگی :
 پایه تحصیلی : دوم

نوبت امتحان : خرداد ۸۹
 مدت امتحان : ۶۰ دقیقه

۱	<p>با توجه به شکل در جای خالی عدد مناسب بنویسید.</p>  <p>..... سه تا می شود تا</p>	۱۵												
۰/۷۵	<p>۲۹۷ سانتی متر متر و سانتی متر است. ۳ متر و ۳۷ سانتی متر سانتی متر.</p>	۱۶												
۲	<p>جمع و تفریق های زیر را انجام دهید.</p> <table style="width: 100%; text-align: center;"> <tr> <td>۱۹۴</td> <td>۷۲۴</td> <td>۵۶</td> <td>۴۳۵</td> </tr> <tr> <td><u>+۲۳۶</u></td> <td><u>+۲۲۳</u></td> <td><u>- ۲۹</u></td> <td><u>- ۲۱۴</u></td> </tr> <tr> <td></td> <td><u>+ ۸۴</u></td> <td></td> <td></td> </tr> </table> <p>دختر گلم موفق باشی</p>	۱۹۴	۷۲۴	۵۶	۴۳۵	<u>+۲۳۶</u>	<u>+۲۲۳</u>	<u>- ۲۹</u>	<u>- ۲۱۴</u>		<u>+ ۸۴</u>			۱۷
۱۹۴	۷۲۴	۵۶	۴۳۵											
<u>+۲۳۶</u>	<u>+۲۲۳</u>	<u>- ۲۹</u>	<u>- ۲۱۴</u>											
	<u>+ ۸۴</u>													

به نام خدا

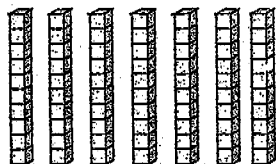
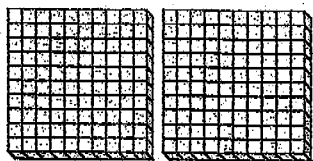
سرپرستی مدارس جمهوری اسلامی ایران - امارات عربی متحده تاریخ: ۱۳۸۹/۳/۳
 مجتمع آموزشی امام خمینی (ره) - ابوظبی امتحان درس: ریاضی

نام و نام خانوادگی:
 پایه: دوم ابتدایی دختران
 نام معلم: غلامی نیا

بام

۱- عدد مربوط به شکل را در جدول نوشته، سپس به رقم و حروف بنویس:

۱/۵



یک	ده تایی	صد تایی
.....
بارقم
با حروف

۱

۲- ۵ یکی ۷ صدتایی و ۴ ده تایی می شود؟

۱

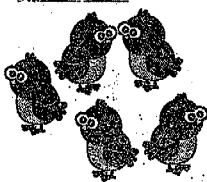

۳- بزرگترین عدد یک رقمی.....کوچکترین عدد سه رقمی.....

۱

۱۵ - ۱۸ -
 ۲۵ - ۳۰ -

۴- ادامه بده:

۲



۵- برای شکل زیر دو جمع دو تفریق بنویس:

..... + =
 + =
 - =
 - =

۱/۵

$7 + 6 = 10 + \dots = \dots$

$5 + (8 + 2) = (\dots + \dots) + 2 = \dots$

۶- در جای خالی عدد مناسب بنویس:

$\dots + 7 = 9$

۲



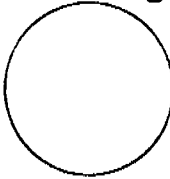
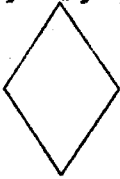






$41 \square 14$



$299 \square 350$





۷- علامت > = < بگذار:

$26 \square 14 + 12$

$20 + 5 \square 20 - 5$

۱	۸- دو خط خمیده بکش که هم دیگر را در دو نقطه قطع کنند:
۱	۹- زیر اعداد زوج خط بکش: ۳۹ - ۴۲ - ۶۷ - ۱۲۰ - ۸۳ - ۲۵۴ - ۷۳۸
۱	۱۰- نام هر یک از شکل های زیر را بنویس:    
۲	۱۱- جمع و تفریق های زیر را انجام بده: $\begin{array}{r} ۷۳۹ \\ + ۴۵ \\ \hline \end{array}$ $\begin{array}{r} ۵۹۱ \\ + ۲۷۰ \\ \hline \end{array}$ $\begin{array}{r} ۷۴۲ \\ - ۵۴۰ \\ \hline \end{array}$ $\begin{array}{r} ۵۲ \\ - ۲۵ \\ \hline \end{array}$
۱	۱۲- کامل کن: ۳ متر، چند سانتی متر است؟..... ۲ متر و ۵۴ سانتی متر، چند سانتی متر است؟.....
۱	۱۳- با توجه به شکل در جای خالی عدد مناسب بنویس: سه تا می شود تا 
۱	۱۴- در یک گل فروشی ۵۳ شاخه گل قرمز ۴۵ شاخه گل سفید و ۲۴ شاخه گل زرد وجود دارد. در این گل فروشی چند شاخه گل وجود دارد؟
۱	۱۵- سارا ۵۴ کیلوگرم وزن دارد و برادرش رضا ۲۹ کیلوگرم. وزن سارا چند کیلوگرم بیش تر از وزن رضا است؟
۱	۱۶- چند ریال است؟ریال     
۲۰	موفق باشی گل زیبا

بارم	سوالات	ردیف								
۱/۵	<p>با توجه به شکل جاهای خالی را کامل کن.</p> <div style="display: flex; justify-content: space-around; align-items: center;"> <div style="border: 1px solid black; padding: 5px;">۳۰</div> <div style="border: 1px solid black; padding: 5px;">۱۰</div> <div style="border: 1px solid black; padding: 5px;">۳۰</div> <div style="border: 1px solid black; padding: 5px;">۱۰</div> <div style="border: 1px solid black; padding: 5px;">۱۰</div> <div style="border: 1px solid black; padding: 5px;">۱۰</div> <div style="border: 1px solid black; padding: 5px;">۱۰</div> <div style="border: 1px solid black; padding: 5px;">۱۰</div> <div style="border: 1px solid black; padding: 5px;">۱۰</div> </div> <table border="1" style="width: 100%; margin-top: 10px;"> <tr> <td style="text-align: center;">یکان</td> <td style="text-align: center;">دهگان</td> <td style="text-align: center;">صدگان</td> </tr> <tr> <td style="text-align: center;">.....</td> <td style="text-align: center;">.....</td> <td style="text-align: center;">.....</td> </tr> </table> <p>با رقم با حروف</p>	یکان	دهگان	صدگان	۱		
یکان	دهگان	صدگان								
.....								
۰/۵	<p>دهگان عددی <input type="text" value="۶"/> ، صدگان <input type="text" value="۸"/> و یکانش <input type="text" value="۲"/> است. این عدد را بنویسید.</p>	۲								
۲	<p>برای شکل روبرو دو جمع و دو تفریق بنویسید.</p> <div style="display: flex; justify-content: space-around; align-items: center;"> <div style="text-align: center;">  <p>..... + =</p> <p>..... + =</p> </div> <div style="text-align: center;">  <p>..... - =</p> <p>..... - =</p> </div> </div>	۳								
۰/۵	<p>دور اعداد زوج خط بکشید.</p> <p>۳۸ - ۴۵ - ۲۶ - ۷۹</p>	۴								
۱/۵	<p>در جاهای خالی عدد مناسب بنویسید.</p> <p>۵ + ۸ = ۱۰ + =</p> <p>۸ + = ۱۳</p> <p>۱۷ - ۹ =</p>	۵								
۲	<p>علامت < = > بگذارید.</p> <table style="width: 100%; text-align: center;"> <tr> <td>۷۵۳ <input type="text" value=""/></td> <td>۲۵۱</td> <td>۶۸۸ <input type="text" value=""/></td> <td>۹۴۲</td> </tr> <tr> <td>۷ - ۸ <input type="text" value=""/></td> <td>۱۵</td> <td>۸۳ <input type="text" value=""/></td> <td>۳۸</td> </tr> </table>	۷۵۳ <input type="text" value=""/>	۲۵۱	۶۸۸ <input type="text" value=""/>	۹۴۲	۷ - ۸ <input type="text" value=""/>	۱۵	۸۳ <input type="text" value=""/>	۳۸	۶
۷۵۳ <input type="text" value=""/>	۲۵۱	۶۸۸ <input type="text" value=""/>	۹۴۲							
۷ - ۸ <input type="text" value=""/>	۱۵	۸۳ <input type="text" value=""/>	۳۸							
۲	<p>جمع و تفریق های زیر را انجام دهید.</p> <table style="width: 100%; text-align: center;"> <tr> <td> $\begin{array}{r} ۳۶۵ \\ + ۲۲۹ \\ \hline \end{array}$ </td> <td> $\begin{array}{r} ۴۹ \\ + ۴۷ \\ \hline \end{array}$ </td> <td> $\begin{array}{r} ۵۸۰ \\ - ۲۳۸ \\ \hline \end{array}$ </td> <td> $\begin{array}{r} ۹۷ \\ - ۴۶ \\ \hline \end{array}$ </td> </tr> </table>	$\begin{array}{r} ۳۶۵ \\ + ۲۲۹ \\ \hline \end{array}$	$\begin{array}{r} ۴۹ \\ + ۴۷ \\ \hline \end{array}$	$\begin{array}{r} ۵۸۰ \\ - ۲۳۸ \\ \hline \end{array}$	$\begin{array}{r} ۹۷ \\ - ۴۶ \\ \hline \end{array}$	۷				
$\begin{array}{r} ۳۶۵ \\ + ۲۲۹ \\ \hline \end{array}$	$\begin{array}{r} ۴۹ \\ + ۴۷ \\ \hline \end{array}$	$\begin{array}{r} ۵۸۰ \\ - ۲۳۸ \\ \hline \end{array}$	$\begin{array}{r} ۹۷ \\ - ۴۶ \\ \hline \end{array}$							
۱/۵	<p>در یک دبستان کلاس اول ۳۸ دانش آموز، کلاس دوم ۴۳ دانش آموز و کلاس سوم ۲۷ دانش آموز دارد. کلاس های اول، دوم و سوم با هم چند دانش آموز دارند؟</p>	۸								

۱/۵	اعداد زیر را ادامه دهید. ۱۲ - ۱۵ - ۱۸ , ۲۲ - ۲۴ - ۲۶ ,	۹
۱/۵	کامل کنید. ۲۳۸ سائتی متر متر و سائتی متر است. ۴ متر سائتی متر است.	۱۰
۰/۵	 ریال	۱۱
۱/۵	 نام شکل روبرو را بنویسید. چند ضلع دارد؟ قطرهای آن را بکشید.	۱۲
۱/۵	درخت سیب فانه ی رضا ۷۴ سیب داشت. رضا ۳۲ تای آن ها را چید. چند تا سیب به درخت مانده است؟	۱۳
۱	 چهار تا می شود تا	۱۴
۱	 ساعت و دقیقه است. دقیقه ی دیگر ساعت می شود.	۱۵

موفق باشید

مجتمع آموزشی نمونه توحید دختران
سال تحصیلی ۸۸-۸۹

نمره با عدد:
نمره با حروف:
امضاء آموزگار:

نام آموزگار:
تعداد صفحه:

مدت امتحان:
تاریخ امتحان: ۸۹، ۳، ۴

نام و نام خانوادگی:
کلاس: سوم
نام درس: ریاضی

بارم

۱/۱۵

۱- جواب صحیح را با علامت X مشخص کنید.

الف) عدد بعد از ۲۰۹ کدام است؟ ۲۹۰ ۲۰۸ ۲۱۰

ب) ۱۶۰ سانتی متر می شود؟

۱ متر و ۶ سانتی متر ۱ متر و ۶۰ سانتی متر ۱ سانتی متر و ۶۰ متر

پ) از دو نقطه چند خط راست می گذرد؟ یکی بسیار زیاد دو تا

۲- جاهای خالی را با کلمه یا عدد مناسب کامل کنید.

۷۴ برابر است با ----- ده تایی و ----- یکی


عددی هستم سه رقمی که رقم یکانم زوج است :: -----

برای اندازه گیری طول های بزرگ از ----- استفاده می کنیم.

واحد پول ایران ----- است.

هر سال ----- ماه دارد و هر فصل ----- ماه دارد.

۱/۱۵



۳- با استفاده از پرائتز برای شکل زیر یک جمع بنویسید.

مجتمع آموزشی نمونه توحید دختران
سال تحصیلی ۸۹-۸۸

نام و نام خانوادگی:

کلاس:

نام درس: ریاضی

مدت امتحان:

تاریخ امتحان:

نام آموزگار:

تعداد صفحه:

نمره با عدد:

نمره با حروف:

امضاء آموزگار:

بارم

۱/۵

۴- برای شکل زیر یک جمع و یک تفریق بنویسید.



۵- برای تفریق زیر یک مسئله بنویسید.

$$۱۶ - ۹ = ۷$$

۶- عبارت های زیر را کامل کنید.

$$۸ + (۲ + ۵) = (----- + -----) + ۵ = \square$$

$$۷ + ۶ = ۱۰ + ----- = \square$$

$$۷ + \square = ۱۵$$

$$۱۲ - \square = ۸$$

۷- در مربع علامت < = > بگذارید.

$$۶۳۱ \square ۶۱۳$$

$$۱۷۰ \text{ سانتی متر} \square ۲ \text{ متر}$$

$$\text{پانصد} \square ۵۰۰$$

$$۴ + ۸ \square ۹ - ۳$$

مجتمع آموزشی نمونه توحید دختران
سال تحصیلی ۸۸-۸۹

نام و نام خانوادگی:

کلاس:

نام درس: ریاضی

مدت امتحان:

تاریخ امتحان:

نام آموزگار:


تعداد صفحه:

نمره با عدد:

نمره با حروف:

امضاء آموزگار:

پارم



۸- با توجه به شکل ساعت جاهای خالی را کامل کن .

ساعت ----- و ----- دقیقه

----- دقیقه مانده به ساعت -----

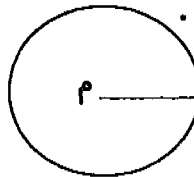
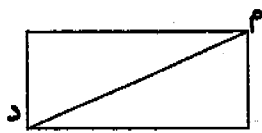
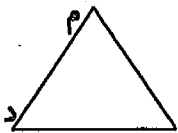
۹- دور اعداد زوج خط بکش .

۱۹ - ۴۲ - ۶۰۰ - ۴۷۳

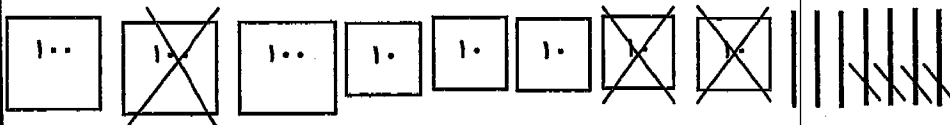
۱۰- دبستان حافظ ۲۶۵ دانش آموز و دبستان سعدی ۱۵۴ دانش آموز و دبستان فردوسی ۳۶۷ دانش آموز

دارند . این سه مدرسه چند دانش آموز دارند ؟

۱۱- در هر شکل نام خط (د - م) را بنویسید .



۱۲- تفریق مربوط به شکل زیر را بنویسید .



مجتمع آموزشی نمونه توحید دختران
سال تحصیلی ۸۹-۸۸

نمره یا عدد:
نمره با حروف:
امضاء آموزگار:

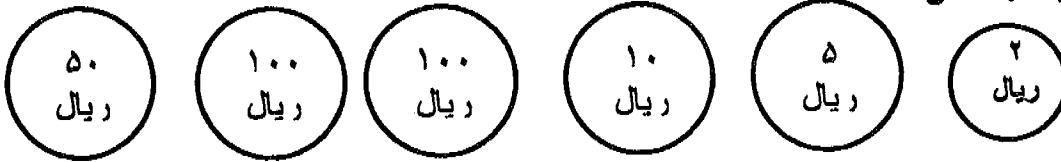
نام آموزگار:
تعداد صفحه:

مدت امتحان:
تاریخ امتحان:

نام و نام خانوادگی:
کلاس:
نام درس: ریاضی

بازم

۱۳- از بین پول ها ۱۶۵ ریال جدا کن .



۳/۵

۱۴- رضا ۴۵ کیلوگرم وزن دارد . علی ۸ کیلوگرم بیش تر از رضا وزن دارد . وزن علی چند کیلوگرم است ؟

۱

۱۵- با استفاده از کلمه های بلندتر ، مساوی ، کوتاه تر جمله های زیر را کامل کنید .




در مستطیل

ضلع های رو به رو با هم ----- هستند .

هر ضلع از هر قطر ----- است .

۳/۵

۱۶- ضرب مربوط به شکل زیر را بنویسید .



۳/۵

----- پنج تا می شود ----- تا


۱۷- با عدد و حروف بنویسید .

۳/۵

چهار صد و هیجده		نه صد و بیست
	۶۱۶	

<p>مقطع ابتدایی - پسران تعداد صفحه: ۶ نام آموزگار: نام و نام خانوادگی تاریخ: ۸۹/۳/۳ نوبت نوم خرداد ۸۹</p>	<p>باسمه تعالی اداره کل مدارس خارج کشور سرپرستی مدارس جمهوری اسلامی ایران درامرات عربی متحده مجتمع آموزشی شارجه</p>	<p>نام: نام خانوادگی: سوالات ماده درسی: ریاضی پایه: دوم شعبه کلاس: زمان: ۵۰ دقیقه</p>
---	---	--

نمره به عدد نمره به حروف

بارم	شرح	رتیف						
۱/۲۵ ۱	<p style="text-align: center;">درجای خالی عدد مناسب را بنویس.</p> <div style="display: flex; justify-content: space-around; align-items: center;"> <div style="display: flex; gap: 10px;"> <div style="border: 1px solid black; border-radius: 50%; width: 40px; height: 40px; display: flex; align-items: center; justify-content: center;">۱۰۰</div> <div style="border: 1px solid black; border-radius: 50%; width: 40px; height: 40px; display: flex; align-items: center; justify-content: center;">۱۰۰</div> <div style="border: 1px solid black; border-radius: 50%; width: 40px; height: 40px; display: flex; align-items: center; justify-content: center;">۱۰۰</div> <div style="border: 1px solid black; border-radius: 50%; width: 40px; height: 40px; display: flex; align-items: center; justify-content: center;">۱۰۰</div> <div style="border: 1px solid black; border-radius: 50%; width: 30px; height: 30px; display: flex; align-items: center; justify-content: center;">۱۰</div> <div style="border: 1px solid black; border-radius: 50%; width: 30px; height: 30px; display: flex; align-items: center; justify-content: center;">۱۰</div> <div style="border: 1px solid black; border-radius: 50%; width: 30px; height: 30px; display: flex; align-items: center; justify-content: center;">۱۰</div> </div> <table border="1" style="margin-left: auto; margin-right: auto; text-align: center;"> <tr> <td style="width: 30%; padding: 5px;">یکان</td> <td style="width: 30%; padding: 5px;">دهگان</td> <td style="width: 30%; padding: 5px;">صدهگان</td> </tr> <tr> <td style="height: 40px;"> </td> <td style="height: 40px;"> </td> <td style="height: 40px;"> </td> </tr> </table> <p style="text-align: right; margin-top: 20px;"> بأحروف: بأرقم: </p> </div>	یکان	دهگان	صدهگان				۱
یکان	دهگان	صدهگان						
۱	<p>بأرقم های ۳-۸-۷- بزرگترین و کوچکترین عدد سه رقمی را بنویس.</p> <p style="text-align: center;">ب: ک:</p>	۲-						
۱	<p>بأرقم ۹۸ یک عدد دو رقمی دیگر بنویس.</p> <p>یک عدد سه رقمی بنویس که ارقام آن تکراری باشد.</p>	۳-						
۱/۵	<p>بأشکل زیر یک جمع و یک تفریق بنویس.</p> <div style="display: flex; justify-content: space-around; align-items: center; margin-top: 20px;">  <div style="margin-left: 20px;"> </div> </div>	۴-						

حاصل جمع های زیر را بنویس.

-۵

۲

$10 + 5 = \square$

$8 + 8 = \square$

274

25

$+ 175$

$+ 21$

.....

.....

۱

دو خط شکسته بکش که همدیگر را در دو نقطه قطع کنند.

-۶

۱

در دبستان شهید عادل کلاس اول ۲۷ دانش آموز و کلاس دوم ۲۴ دانش آموز دارد. کلاس های اول و دوم چند دانش آموز دارند.

-۷

۱/۵

عددهای زیر را ادامه دهید.

-۸

$20 - 25 - \square - \square - \square$

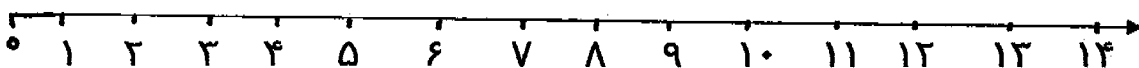
$278 - 279 - \square - \square - \square$

۱/۵

جمع زیر را روی محور انجام بده و تساوی را کامل کن.

-۹

$8 + 4 = \dots\dots\dots$




۱۰- علامت $< = >$ بگذار.

۱۴ ○ $۱۰ + ۴$ ۴۵۲ ○ ۴۵۱ $۷ + ۸$ ○ $۸ + ۲$

۱۱- تفریق های زیر را انجام بده.

۱۷ - □ = ۱۰ ۱۳ - ۴ = □ ۳۷۱ ۱۹۳
 - ۲۴۹ - ۱۲۳


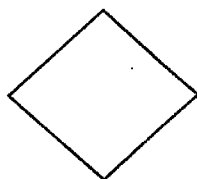


۱۲- ساعت زیر را بخوان و بنویس.

ساعت و دقیقه

..... دقیقه ی دیگر ساعت می شود.

۱۳- در جای خالی عدد مناسب را بنویس.



.....

.....

تعداد ضلع:

.....

.....


تعداد قطر:

۱۴- ۵۱۹ سانتی متر برابر است بامتر و سانتی متر

۱۵-

حسین باید در کارگاه خود ۱۶ صندلی درست کند . او تعدادی از

۱ صندلی ها را که در شکل می بینید آماده کرده است . چند صندلی دیگر باید تهیه کند؟



۱۶-

۱ در جای خالی عدد مناسب را بنویس.



..... دو تا می شود

پسر گلم موفق باشی .

بارم

تاریخ :
نمره به عدد:
نمره به حروف:
نام دبیر:

بسمه تعالی
سرپرستی مدارس ایران در امارات عربی متحده
مجتمع آموزشی شارجه
سال تحصیلی ۱۳۸۹-۱۳۸۸
امتحان خرداد ماه ۸۹

نام :
نام خانوادگی:
کلاس : دوم ابتدایی
درس : ریاضی

۲,۵

۱- در جای خالی عدد مناسب بگذارید:

$$\square + 9 = 12$$

$$7 + (3 + 2) = (\quad + \quad) + 3 = \square$$

$$11 + 4 = \square$$

$$9 + 9 = 10 + \square = \square$$

$$13 - 8 = \square$$

$$(6 + 3) + 5 = \square$$

$$10 - 2 = \square$$

۱

۲- قبل و بعد این اعداد را بنویسید:

	۶۳۰	
--	-----	--

	۵۹۹	
--	-----	--

۱

۳- این اعداد را به حروف و عدد بنویسید:

..... : ۴۲۵

..... نهصدوسی و چهار:

..... : ۶۸۹

..... سی صد و هفت:

۱

۴- علامت مناسب ($>$ $=$ $<$) بگذارید:

$$17 \square 15 - 2$$

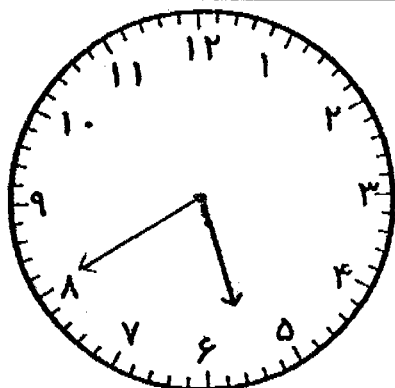
$$640 \square 460$$

$$6 + 7 \square 13$$

$$153 \square 127$$

۱

۵- ساعت چند است ؟



ساعت و دقیقه

..... دقیقه مانده است به ساعت

۶- عدد هر ردیف را ادامه دهید:

..... ۳۰ - ۳۳ - ۳۶ -

..... ۵ - ۱۰ - ۱۵ -

۷- ۱۵۳ سانتی متر برابر است با متر و سانتی متر .


یک متر و ۲۰ سانتی متر چند سانتی متر است ؟

۳ متر چند سانتی متر است ؟

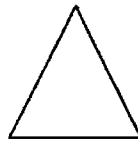
۸- نام هر شکل را بنویسید و برای هر کدام یک قطر بکشید:



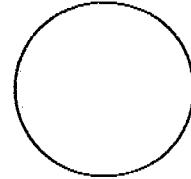
.....



.....

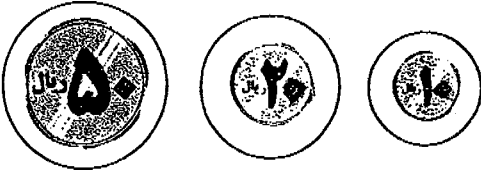


.....



.....

۹- پول ها چند ریال است؟



..... ریال

۱۰- جمع و تفریق های زیر را انجام دهید :

$$\begin{array}{r} ۴۰۹ \\ + ۲۱۱ \\ \hline \end{array}$$

$$\begin{array}{r} ۲۸۸ \\ - ۱۱۹ \\ \hline \end{array}$$

$$\begin{array}{r} ۶۵ \\ - ۸ \\ \hline \end{array}$$

$$\begin{array}{r} ۴۳ \\ + ۲۷ \\ \hline \end{array}$$

۱۱- در جای خالی عدد مناسب بنویسید:

@@@

@@@

@@@

..... سه تا می شود

۱,۰


۱۲- در روز دانش آموز از دبستان سعدی ۳۷۵ دانش آموز و از دبستان حافظ ۲۴۲ دانش آموز و از دبستان مولوی ۲۸۴ دانش آموز در راه پیمایی شرکت کردند. از این سه مدرسه چند دانش آموز به راه پیمایی رفتند؟

۱,۰

۱۳- نجاری باید ۷۸ نیمکت دبستان را تعمیر کند. ۲۶ تای آن ها را تعمیر کرد. چند تا نیمکت باقی مانده است؟

۱,۰

۱۴- برای شکل زیر یک جمع و یک تفریق بنویسید:

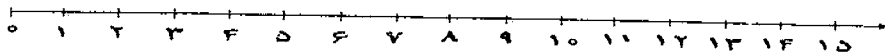


..... + =

..... - =

۱

۱۵- محور زیر را انجام دهید و در جای خالی عدد مناسب قرار دهید:



$7 + 6 = \square$

مجتمع آموزشی نمونه توحید دختران
سال تحصیلی ۸۹-۸۸

نام و نام خانوادگی:

کلاس: ۶م

نام درس: جمله نویسی

نمره با عدد:

نمره با حروف:

امضاء آموزگار:

نام آموزگار:

تعداد صفحه: ۴ ص

مدت امتحان: ۴۰ دقیقه

تاریخ امتحان: ۱۹،۳،۶

بارم

۲

۱- با کلمات زیر جملات مناسب بنویسید .

دعا :

مواظبت :

آمدند :

حوصله :

۲- جملات به هم ریخته زیر را مرتب کنید .

کسی را - مهربانی - که - خدا - حیوانات - کند - به - دوست - و محبت - دارد .

پیر تلاش - زنان - و با ایمان - هستند - ایرانی - مردان - و .

۳- با توجه به کلمه ی داخل کمانک جمله زیر را تغییر دهید .

او با لذت به پرچم زیبای ایران نگاه می کرد . (آن ها)

.....
من هر شب قبل از خواب مسواک می زنم . (تو)
.....

مجتمع آموزشی نمونه توحید دختران
سال تحصیلی ۸۸-۸۹

نام و نام خانوادگی:

نمره با عدد:

کلاس:

مدت امتحان:

نمره با حروف:

نام آموزگار:

نام درس: جمله نویسی

تاریخ امتحان:

امضاء آموزگار:

تعداد صفحه:

بارم

۴- جمله ی زیر را پررشی کنید و در پایان جمله علامت مناسب بگذارید .

۱

بسیاری از مردم جهان اولین روز سال جدید خود را جشن می گیرند .

۵- مخالف کلمه های زیر را بنویسید .

۱

بی سواد

آشکار

زیبا

پایان

۶- با هر کلمه دو جمله بنویس که در هر جمله معنای آن متفاوت باشد .

۱

سیر :

سیر :

۷- به پرسشهای زیر پاسخ کوتاه دهید .

۱

الف) رنگ سبز پرچم نشانه ی چیست ؟

ب) حرم امام رضا ، امام هشتم (ع) در کدام شهر قرار دارد ؟

۸- در کلمات زیر حرفی که تشدید دارد را داخل کمانک بنویس .

۷۵

(موقِّق) ()

(جمعیت) ()

مجتمع آموزشی نمونه توحید دختران
سال تحصیلی ۸۸-۸۹

نام و نام خانوادگی:

کلاس:

نام درس: جمله نویسی

مدت امتحان:

تاریخ امتحان:

نام آموزگار:

تعداد صفحه:

نمره یا عدد:

نمره یا حروف:

امضاء آموزگار:

بارم

۱

۹- جاهای خالی را با کلمات مناسب پر کنید .

به کسی که اهل ایران است ----- می گویند .

به محل آزمایش ----- می گویند .

به جایی که در آن نماز می خوانند ----- می گویند .

به کسی که مجسمه می سازد ----- می گویند .

۷۵

۱۰- دو کلمه بنویس که « ی » در آخر آن ها صدای « آ » بدهد .

۷۵

۱۱- دور کلمه هایی که صدای آخر آن ها « ه » است را خط بکش .

نگاه - آفریده - شبیه - شاخه

۳

۱۲- کلمات زیر را با (بی - با - نا - دان) ترکیب کنید و معنای هر کلمه را بنویسید .

سواد = ----- یعنی -----

حجاب = ----- یعنی -----

بینا = ----- یعنی -----

زباله = ----- یعنی -----

۷۵

۱۳- کلمه های زیر را با « ان » و « ها » جمع ببندید و با هر کلمه جمله ی مناسب بنویسید .

گرسنه + ----- = -----

گل + ----- = -----

مجتمع آموزشی نمونه توحید دختران
سال تحصیلی ۸۹-۸۸

نام و نام خانوادگی:

نمره با عدد:

کلاس:

مدت امتحان:

نمره با حروف:

نام آموزگار:

نام درس: جمله نویسی

تاریخ امتحان:

تعداد صفحه:

امضاء آموزگار:

بارم

۱۴- دو کلمه بنویس که آخر آن نشانه ی « آ » داشته باشد .

۷۵

۱۵- کامل کن .

من پرچم کشورم را دوست ----- .

----- امروز به کتاب خانه رفتند .

دخترک یعنی -----

به جایی که در آن دارو می فروشند ----- می گویند .

من هر روز ----- خواندن نماز ----- نمازخانه می روم .

۲

۱۶- دنباله داستان را ادامه بده .

تابستان سال گذشته برای گردش و تفریح همراه با خانواده ام به شهر شیراز رفته بودیم .

در آن جا -----

۱

۱۷- هم معنی کلمات زیر را بنویسید .

آموزگار =

سؤال =

صبر =

عجله =

موفق باشید

سرپرستی مدارس جمهوری اسلامی ایران در امارات عربی متحده

مجتمع آموزشی نمونه وین الملل توحید پسران دبی

امتحانات نوبت دوم سال تحصیلی ۸۹-۸۸

نام و نام خانوادگی دانش آموز: آزمون: انشا پایه و کلاس: دوم تاریخ آزمون: ۸۹/۳/۱ مدت زمان:

۱- با کلمات زیر جمله بسازید. (۶ نمره)

موفق :
نظم :
اذان :
پرچم :
شاداب :
لذت :

۲- هم معنی کلمات زیر را بنویسید. (۱ نمره)

تشکر آهسته احتیاج شکوه

۳- چهار کلمه بنویسید که در آن ها " خود " بکار رفته باشد (۱ نمره)

.....

۴- جای خالی را با کلمه مناسب پر کنید. (۲ نمره)

به محل آموزش می گویند .

به کسی که در اداره کار می کند می گویند .

به لباسی که از جنس پشم باشد می گویند .

به کسی که اهل شیراز باشد می گویند .

۵- مرتب کنید. (۲ نمره)

دقت - هنرمند - باید - کند - نگاه - همه - چیز - به - با

مادرم - کودکی ام - عکس های - آورد - را

.....
.....

۶- به کلمات زیر " تر - ترین " اضافه کنید. (۱ نمره)

دور =

زیبا =

۷- با هر سه کلمه ی زیر یک جمله بسازید. (۱ نمره)

نوروز - فصل - بهار

.....

۸- جمله ها را با کلمه های مناسب زیر کامل کنید. (۱ نمره)

با - از - به - برای - تا

من زنده ام کشورم دفاع می کنم .

ابر کوچولو خورشید نزدیک شد .

۹- مخالف کلمه های زیر را بنویسید. (۱ نمره)

سود تاریک تمیز ناراحت

۱۰- کلمات زیر را با " ان " جمع بنیدید. (۱ نمره)

ستاره چشم درخت تشنه

۱۱- جای خالی کلمات مناسب بنویسید. (۲ نمره)

او رفتند

شما ما

۱۲- درباره پرچم دو خط بنویسید. (۱ نمره)

.....

.....



باسمه تعالی
مجتمع آموزشی خدیجه کبری (س)
سال تحصیلی ۸۹ - ۸۸
نام درس : جمله سازی
مقطع تحصیلی : ابتدایی

نوبت امتحان : خرداد ۸۹
مدت امتحان : % دقیقه

نام و نام خانوادگی :
پایه تحصیلی : دوم

۱	۸	دو کلمه تشدید دار بنویس.
۱	۹	در دو جمله بنویس چرا خدا مهربان است.
۱	۱۰	دو کلمه بنویس که در آن ی صدای (آ) بدهد.
۱	۱۱	جاهای خای را کامل کن. علی و مادرش به پارک خدا آدم راستگو را دعا یعنی مریم با زهرا از مدرسه

موفق باشید

باسمه تعالی
 مجتمع آموزشی خدیجه کبری (س)
 سال تحصیلی ۸۸ - ۸۹
 نام درس : جمله سازی
 مقطع تحصیلی : ابتدایی

نام و نام خانوادگی :
 پایه تحصیلی : دوم

نوبت امتحان : فروردین ۸۹
 مدت امتحان : ۴۰ دقیقه

ردیف	سوال	بارم
۱	با هر یک از کلمه های زیر جمله بسازید. خدا : خوش رفتار : عبور : دندان شیری : رنگین کمان : با ادب : آموزگار : جشن :	۸
۲	جاهای خالی را با کلمات مناسب کامل کن. به کسی که شعر می گوید می گویند. به کسی که اهل تهران باشد می گویند. به ظرفی که از گل ساخته شده باشد می گویند. پسرک یعنی	۲
۳	مخالف کلمه های زیر را بنویس. زشت : بالا : باسلیقه : گرسنه :	۱
۴	با کلمه ی « سیر » دو جمله بنویس که معنای متفاوت داشته باشد. سیر : سیر :	۱
۵	معنی کلمه های زیر را بنویسید. تازه : پایان : آرام : آغاز :	۱
۶	کلمات زیر را مرتب کن. است - پدر بزرگ - مرد - مهربان و خوبی باشد - هنرمند - فرزندم - دارم - دوست - من - یک	۲
۷	کلمات زیر را با « ان » جمع ببندید. درخت = تشنه =	۱

با سمه تعالی

مدت آزمون : ۶۰ دقیقه

سرپرستی مدارس جمهوری اسلامی ایران در امارات عربی متحده

آزمون درس : جمله نویسی

تاریخ : ۸۹/۳/۵

مجتمع آموزشی امام خمینی (ره) ابوظبی

پایه : دوم

شماره صفحه : ۱

خرداد سال تحصیلی ۸۹ - ۸۸

نام و نام خانوادگی :

ردیف	سوالات	بارم
۱	با کلمه های زیر جمله بسازید. پرچم : نوزاد : دعا :	۳
۲	کلمات زیر را به صورت یک جمله مرتب کنید . الف- است ، قله ی ، ایران ، دماوند ، بلند ترین ب- دقت ، هنرمند ، باید ، کند ، نگاه ، همه ، چیز ، به ، با	۲
۳	جمله های زیر را کامل کنید . الف- موج کوچلو آرام آرام ب- اگر رضا هر روز مسواک	۲
۴	به جای کلمه ی داخل کمانک کلمه ی هم معنی بنویس . الف- یکی از رسم های (زیبای) نوروز دید و بازدید است ب- پدرم خیلی (تند) رانندگی می کند ج- هوای روستا (تمیز) است د- من از خواهرم (مواظبت) می کنم	۲
۵	با توجه به کلمه ی داخل کمانک جمله را تغییر دهید . من کتابم را امانت دادم . (آن ها)	۱

۲	<p>۶ در دو خط بنویس از خدا چه می خواهی ؟</p> <p>.....</p> <p>.....</p>	۶
۲	<p>۷ در جاهای خالی کلمه ی مناسب بنویس .</p> <p>الف- به کسی که سواد دارد می گویند .</p> <p>ب- آن که نمی بیند است .</p> <p>ج- به جایی که در آن موها را کوتاه می کنند می گویند .</p> <p>د- به کسی که اهل تهران است می گویند .</p>	۷
۱	<p>۸ هر سه کلمه ی (پرچم ، ایران ، افتخار) را در یک جمله به کار ببرید .</p> <p>.....</p>	۸
۲	<p>۹ با استفاده از کلمه های داخل کمانک جمله ها را کامل کنید .</p> <p>الف- هوای بهار بسیار خوب و است . (سرد ، سوزناک ، دلپذیر)</p> <p>ب- به کسی که با چوب وسیله می سازد می گویند . (آهن گر ، نجار ، سفالگر)</p> <p>ج- رنگ سفید پرچم نشانه ی است . (صلح و دوستی ، سرسبزی ، دفاع از کشور)</p> <p>د- شما به مسافرت (رفتیم ، رفتند ، رفتید)</p>	۹
۱	<p>۱۰ به آخر جمله ی زیر « ترین » اضافه کنید و با آن جمله بسازید .</p> <p>قوی (.....) :</p>	۱۰
۲	<p>۱۱ در باره ی این شکل دو خط بنویسید .</p> <p>.....</p> <p>.....</p>	۱۱



نمره به عدد

نمره به حروف

بارم	ردیف	سوال
۲/۵	۱-	در جای خالی کلمات مناسب را بنویس. به جایی که در آن موها را کوتاه می کنند _____ می گویند. صندوقچه یعنی _____ . به کسی که از هوش می رود یعنی او _____ می شود. به دستمالی که از جنس کاغذ باشد _____ می گویند. _____ کسی است که با گل ظرف های سفالی می سازد.
۲	۲-	مرتب کن. دقت - هنرمند - باید - کند - نگاه - همه - چیز - به - با. هستند - خطرناک - خرس - میکروب ها - شنیده بود - کوچولو - که
۱/۵	۳-	در جای خالی کلمه ی مناسب را بنویس. درس خواندم درس خواند درس خواندید تو درس ما درس آن ها درس

بارم

۴- جمله ی زیر را پرسشی کن وبا علامت مناسب دوباره بنویس.
 علی به مسافرت رفت

۱/۵

۵- مخالف کلمات زیر را بنویس.
 آقا(.....) زشت(.....) خنده(.....)

۱/۷۵

۶- با توجه به کلمه ی داخل کمانک جمله را تغییر بده.
 تو کتابت را امانت دادی. (آن ها)

۱/۵

۷- به آخر هر کلمه ، کلمه ای اضافه کن و معنای آن را بنویس.
 کلید :
 دانش :

۱

۸- یکی از کلمات داخل کمانک را انتخاب کن و در جای خالی قرار بده.
 هوای بهار بسیار است. (سوزناک - دلپذیر)
 مینا جلوی آینه (نشسته بود - نشانده بود)

۱/۷۵

۹- هر سه کلمه را در یک جمله به کار ببر.
 خدا - مهربان - بچه ها

۱۰- جمله ها را کلمه های مناسب زیر کامل کن .

(از- برای - به - با - تا)

پرچم هر کشور مردم آن کشور عزیز است .

من زنده ام ، کشورم دفاع می کنم.

وقتی پرچم کشورم نگاه می کنم احساس غرور می کنم.



۱۱- برای تصویر زیر یک جمله بنویس.

.....

۱۲- کلمات زیر را با (آن) جمع ببند.

گرسنه (.....) درخت (.....) پرنده (.....)

۱۳- با کلمات زیر جمله بساز.

شاهنامه:

هنرمند:

ناراحت:

دعا:

پسر گلم موفق باشی

بارم	<p>نام : نام خانوادگی: کلاس : دوم ابتدایی درس : انشاء (بنویسیم)</p> <p>بسمه تعالی سرپرستی مدارس ایران در امارات عربی متحده مجتمع آموزشی شارجه سال تحصیلی 1388-1389 امتحان خرداد ماه 89</p> <p>تاریخ : نمره به عدد: نمره به حروف: نام دبیر:</p>				
1	<p>1- هم معنی کلمات زیر را بنویسید:</p> <table border="1" data-bbox="370 353 1455 488"> <tr> <td>مرد ها :</td> <td>نیرومند :</td> </tr> <tr> <td>سعی :</td> <td>پرسیدم :</td> </tr> </table>	مرد ها :	نیرومند :	سعی :	پرسیدم :
مرد ها :	نیرومند :				
سعی :	پرسیدم :				
2	<p>2- با یکی از کلمه های داخل کمانک جمله را کامل کنید:</p> <p>رنگ پرچم کشورها با هم دارد. (شبهت - فرق)</p> <p>وقتی به پرنده ها غذا می دهیم آن ها از ما می کنند. (محبت - تشکر)</p> <p>خرس کوچولو می خواست با میکروب ها (بجنگم - بجنگد)</p> <p>آیا هر سال به مسافرت می روی؟ (آن ها - تو)</p>				
2	<p>3- در جاهای خالی کلمات مناسب قرار دهید:</p> <p>به جایی که سبزه می روید می گویند .</p> <p>..... یعنی کسی که با گل ظرف های سفالی می سازد .</p> <p>کسی که از هوش می رود یعنی او است .</p> <p>اتاقک یعنی</p>				
1	<p>4 - مخالف کلمات زیر را بنویسید:</p> <table border="1" data-bbox="370 1469 1455 1603"> <tr> <td>زود :</td> <td>بلند :</td> </tr> <tr> <td>کوچک :</td> <td>شبانه :</td> </tr> </table>	زود :	بلند :	کوچک :	شبانه :
زود :	بلند :				
کوچک :	شبانه :				
2	<p>5- کلمه ی شیر را در دو جمله ی متفاوت به کار ببرید:</p> <p>..... ●</p> <p>..... ●</p>				

2	<p>6- مرتب کنید:</p> <ul style="list-style-type: none"> • دقت هنرمند باید کند نگاه همه چیز به با • است داستان های همه ی شاهنامه به شعر
1	<p>7- به آخر هر کلمه یک کلمه ی دیگر اضافه کنید و معنای آن را بنویسید:</p> <ul style="list-style-type: none"> • کار: • گل:
2	<p>8- دو خط درمورد پرچم ایران بنویسید:</p> <ul style="list-style-type: none"> • •
7	<p>9- با کلمات زیر جمله بسازید:</p> <ul style="list-style-type: none"> • پارسال : • دلپذیر : • با : • دعا : • شهیدان: • آرام : • سپاس گزاریم :

عزیزانم در پناه خداوند موفق باشید.

بنام خدا

سرپرستی مدارس جمهوری اسلامی ایران

مجتمع نمونه توحید دختران دبی

متن املا نوبت دوم خردادماه ۱۳۸۹ کلاس دوم ابتدایی

*تو باید بدانی که میکروب هادر دست های کثیف لانه می کنند. پس برای جنگیدن با آن ها، بهتر است همیشه خود را پاکیزه نگه داری .

*بچه های رنگین کمان هم خوش حال شدند و تصمیم گرفتند همیشه با هم مهربان باشند و دیگر هیچ وقت با هم دعوا نکنند.

*خدا یا، مادرم می گوید تو از همه مهربان تر هستی . حتی از پدر بزرگ من هم مهربان تری . من می دانم که توانسان های مهربان را دوست داری . پس همیشه سعی می کنم با بچه های کوچک تر از خودم وهم کلاسی هایم مهربان باشم تا تو مرا بیش تر دوست بداری !

*من به داشتن کشوری با این همه زیبایی افتخار می کنم . مردان و زنان ایرانی ، پرتلاش و باایمان هستند . آنان کشور خود را از حمله ی دشمنان حفظ می کنند .

*پرچم ایران سه رنگ دارد . رنگ سبز نشانه ی سرسبزی ، رنگ سفید نشانه ی صلح و دوستی و رنگ سرخ نشانه ی این است که ما از میهن خود و آزادی آن دفاع می کنیم .

*نوروز آغاز فصل سرسبزی و خرمی باغ ها و دشت ها و کشتزارهاست . هنگام شکوفه کردن و گل دادن درختان و وقت بیدار شدن جانوران از خواب زمستانی است .

فردوسی سی سال زحمت کشید تا این داستان ها را جمع آوری کرد و به شعر در آورد تا زبان فارسی را که ما امروز با آن حرف می زنیم ، زنده نگه دارد .

با سمه تعالی

تاریخ: ۸۹/۳/۱

سرپرستی مدارس جمهوری اسلامی در

نام آزمون: املاء

زمان: ۶۰ دقیقه

امارات عربی متحده

پایه: دوم

مجتمع آموزشی شارجه - مقطع ابتدایی پسران

خدایا، خوش حالم که می توانم کتاب های خوب بخوانم و از خواندن قصه های شیرین لذت ببرم .

خانم آموزگار گفت : " ببینید بچه های عزیز ، شما باید به سراغ کتاب ها و مجله های مخصوص خودتان بروید .

این گل های شاداب را چه کسی پرورش داده است ؟ معلم ؛ همان معلم دانایی که دوست ماست .

زینب نماز خواندن با چادر گلی ، در کنار ما در ، آن هم در حرم امام رضا (ع) را هرگز فراموش نمی کند .

پرچم ایران سه رنگ دارد . رنگ سبز نشانه ی سرسبزی ، رنگ سفید نشانه ی صلح و دوستی و رنگ سرخ ، نشانه ی دفاع از میهن خود و آزادی آن است .

مردم ما پیش از نوروز ، خانه تکانی می کنند ، لباس نو تهیه می کنند و برای تحویل سال سفره ی هفت سین می چینند .

غذای پروانه ها شهد گل ها و شیره ی گیاهان است .

شاهنامه کتاب بزرگی است که در آن داستان های زیادی در باره ی ایران و پهلوانان بزرگ آن می خوانیم .

نام خانوادگی:	بسمه تعالی	تاریخ:
کلاس: دوم ابتدایی	سرپرستی مدارس ایران در امارات عربی متحده	نمره به عدد:
درس: املاء	مجتمع آموزشی شارجه	نمره به حروف:
	سال تحصیلی ۱۳۸۸-۱۳۸۹	نام دبیر:
	امتحان خرداد ماه ۸۹	

خدایا، بسیار خوش حالم که در مدرسه، دوستان تازه ای پیدا کرده ام.

پدرم گفت: «در نزدیکی شهر مشهد، شهر قدیمی توس و آرامگاه فردوسی، شاعر بزرگ ایران قرار دارد.»

این کرم ها با آب دهانشان رشته هایی درست می کنند و دور خودشان پیله می سازند تا پروانه شوند.

هنرمند باید خوب فکر کند و با دقت به همه چیز نگاه کند، صبر و حوصله داشته باشد تا در کارهایش موفق شود.

چه خیابان های منظمی! چه رفت و آمد مرتبی! مأمور راهنمایی و رانندگی این نظم و ترتیب را ایجاد کرده است.

پرچم زیبای ایران در حیاط مدرسه همراه با نسیم تکان می خورد. احساس کردم آن را بیش تر از گذشته دوست دارم.

مادر گفت: «زینب جان، اذان مغرب را گفتند، بهتر است نمازتان را اول وقت بخوانیم.»

بچه های رنگین کمان حرف خورشید را گوش دادند و باهم در آسمان یک رنگین کمان هفت رنگ درست کردند.

املاي کلاس دوم مجتمع امام خميني ابوظبي خرداد ۸۹

میکروب ها موجودات خطرناکی هستند ، خرس کوچولو تصمیم گرفت که با آن ها بجنگد .
کشاورز کوشا ، گندم می کارد . ناتوای سحر خیز، نان می پزد . رفتگر مهربان ، کوچه و خیابان ها را
تمییز و پاکیزه می کند .
دعا یعنی حرف زدن با خدا ، در موقع دعا با خدا سخن می گوئیم و از او یاری می خواهیم .
نام کشور ما ایران است . من به داشتن کشوری با این همه زیبایی افتخار می کنم . مردان و زنان ایرانی
پر تلاش و با ایمان هستند .
من یکی از این پروانه ها هستم . من و دوستانم در یک باغ پر گل زندگی می کنیم . روی گل ها می نشینیم و
با شاخک هایمان آن ها را نوازش می کنیم و از شهد آن ها می خوریم .
عکاسی هم هنر است، پس برای این که بتوانیم یک عکس خوب بگیری باید هنرمند باشی .
تحویل سال ، لحظه ای است که سال کهنه به پایان می رسد و سال نو شروع می شود .

نام و نام خانوادگی: کلاس: شماره: رشته:
نام پدر:
نام دبیر: آزمون درس: **املا** نوبت امتحان: **دویم (خرداد)**
مدت آزمون: دقیقه تاریخ آزمون: / / صفحه:
نمره یا عدد:
نمره یا حروف:
امضا دبیر مربوطه:

خدایا خوشن حالم که می توانم کتابهای خوب بخوانم و از خواندن قصه های شیرین لذت ببرم.
آن گاه اعضای گروه با هم گفت و گو کردند و نظر خود را روی کاغذ نوشتند و به خانم آموزگار دادند.
بچه خردوش ها دوست داشت منتظر سوال دیگری بودند.
من هم تصمیم گرفتم که هر وقت از مدرسه به خانه می آیم مواظب فاطمه باشم.
بهر آنکه نویسنده بالا هم برکت و در آن جا نوشتار داد که بزرگش ماهی شده بود.
خوب رسید گفت بچه های زبانی که این خدای بزرگ همه ی شما را از نیافریده است این طور که همیشه
در کنار هم باشی و
این غایب گم و خوشن مزه راهبان ناخوانی بخر خیریه رویت ما است و ختم است
اگر بگویم که آن دور بالا رفت و به خوب رسید نزدیک شد و صورت طلایی و قشنگ خود پیدا کرد
دعا کنی حرف زدن با خدا در موقع دعا با خدا سخن می گویم و از او یاری می خواهم
ایران خانه ی بزرگ ما است من به داستان کشوری با این همه زیبایی افتخار من کنم

سرپرستی مدارس جمهوری اسلامی ایران در امارات عربی متحده

مجتمع آموزشی نمونه وین الملل توحید پسران دبی

امتحانات نوبت دوم سال تحصیلی ۸۹-۸۸

آزمون: املاء پایه و کلاس: دوم تاریخ آزمون: ۸۹/۳/۱ مدت زمان:

نام و نام خانوادگی دانش آموز:

خدایا ، بسیار خوش حالم که در مدرسه ، دوستان تازه ای پیدا کرده ام .
آموزگار گفت : داشتن گوش های سالم در زندگی ما خیلی مهم است پس باید از آن ها خوب مواظبت کنیم .
خدا کسانی را که به دیگران محبت و مهربانی می کنند ، دوست دارد .
زینب نماز خواندن ، در کنار مادر ، آن هم در حرم امام رضا (ع) را هرگز فراموش نمی کند .
مردان و زنان ایرانی ، پرتلاش و با ایمان هستند .
پرچم نشانه ی وجود یک کشور و آزادی و سربلندی آن است .
در نوروز مردم به زیارت امامان و آرامگاه شهیدان و در گذشتگان می روند .
نسیمی آرام می وزید و پرندگان پرواز می کردند و صدای چهچه بلبل ها به گوش می رسید .
غذای پروانه ها شهد گل ها و شیره ی گیاهان است .
هنرمند باید صبر و حوصله داشته باشد تا در کارهایش موفق شود .
فردوسی سی سال زحمت کشید تا زبان فارسی را که ما امروز با آن حرف می زنیم ، زنده نگه دارد .