

مهر مقطع

امتحان درسی:	کلاس: اول	تاریخ امتحان: ۸۹/۳/۲۴
نام و نام خانوادگی:	شماره صندلی:	سال تحصیلی: ۸۸/۸۹
نام دبیر:		وقت امتحان: ۸۰ دقیقه

((موفقیت شما آرزوی ماست))

No,

26. Does Mrs. Alavi have a bicycle?

Yes,

2

4 برای پاسخ های زیر سوال مناسب بسازید.

27.?

Yes, I do. I have a watch.

28.?

No, Anna doesn't. Anna doesn't have a radio.

2

5 برای جملات زیر سوال بسازید.

29. What? It is a blackboard.

30. What? You are teachers.

1

6 مناسب ترین گزینه را انتخاب کنید.

31. Those are (bus - glass - boxes - dress)

32. This is an (hat - ears - orange - eyes)

3

7 با هر گروه از کلمات زیر یک جمله صحیح بسازید.

33. a car / that / has / teacher / . /

34. five / these / notebooks / have / girls / . /

35. does / sisters / have / Mr. Sharifi / ? /

Comprehension

درک مطلب

B

هر یک از کلمات زیر را در ستون مناسب قرار دهید.

1

pen - bus - scarf - apple - ruler - car - school - orange - mosque - dress

میوه	مکان	لوازم التحریر	پوشاک	وسیله نقلیه
36.	38.	40.	42.	44.
37.	39.	41.	43.	45.

4

حرف مربوط به پاسخ هر سوال را روبروی آن سوال بنویسید .

2

46. Is he a doctor ? (.....)

a. No, she doesn't

47. Does she have a book? (.....)

b.No, she isn't

48. Does he have a book? (.....)

c. Yes, he is

49. Is she a dentist? (.....)

d. Yes, he does

Conversation

مکالمه

5

برای پاسخ های زیر سوال های مناسب بسازید.

50.A: ?

B: No, I am not a doctor.

51.A: ?

B: I am a teacher.

52.A: ?

B: No, you aren't a teacher.

53.A: ?

B: You are a doctor.

54.A: ?

B: He is a doctor.

2

Pronunciation

تلفظ

طرز تلفظ کدام کلمه با بقیه کلمات متفاوت است؟

55. a) she

b) bell

c) yes

d) pen

56. a) arm

b) car

c) scarf

d) and

4

نمره با حروف :

نمره با عدد :

نام و نام خانوادگی صحیح :

امضا

مهر مقطع

امتحان درس:	کلاس: اول راهنمایی	تاریخ امتحان: ۸۹/۳/۲۴
نام و نام خانوادگی:		سال تحصیلی ۸۸/۸۹
نام دبیر: ج. انگری - فلیلی	شماره صندلی:	وقت امتحان: ۴۵ دقیقه

((موفقیت شما آرزوی ماست))

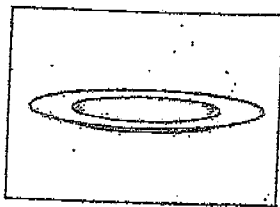
بارم

Spelling


املا

ردیف

با توجه به تصاویر کلمات ناقص را کامل کنید.



1. p --- e



2. t --- l ---

کلمات ناقص زیر را به صورت کامل شده در جای خالی بنویسید.

3. He has two s - st - rs. (.....)
4. He has th - rt - en pen -- ls. (.....) (.....)
5. Are yo - fin - tod - y? (.....) (.....) (.....)
6. This is le - s - n e --- t (.....) (.....)

Vocabulary

واژگان

مناسب ترین گزینه را انتخاب کنید.

7. This has five windows.
a. fan b. map c. book d. house
8. This is a student.
a. doctor b. teacher c. girl d. dentist

با استفاده از کلمات داده شده جملات زیر را کامل کنید. (یک لغت اضافه است)


too - these - arm - are - windows - is - window

9. This is an
10. That is a
11. Are desk?
12. Is that an egg, ?
13. Those are
14. David a student.


3

با توجه به تصاویر داده شده جملات زیر را کامل کنید .

15. This is a



16. That is an



4

کلمه ناهماهنگ را مشخص کرده آنرا در نقطه چین بنویسید .

17. hand – arm – eye – hat

18. school – mosque – classroom – computer

Grammar

کلمات

1

جاهای خالی را با کلمات مناسب کامل کنید . (have – has)

19. This doctor a car.

20. I two brothers.

21. He and I a ball.

1

2

گزینه صحیح را انتخاب کنید .

22. has a hat.

a. boys

b. doctors

c. Mr Ahmadi

d. dentists

23. Miss Irani a brother.

a. is

b. has

c. are

d. have

24. "Does girl have a glass? "Yes, she does."

a. this

b. these

c. those

d. that's

3

پاسخ های کوتاه و کامل بدهید.

25. Do Tom and I have a ball?

2


نمره با حروف :

نمره با عدد :

نام و نام خانوادگی مصحح :

امضا

"key"



سرپرستی مدارس جمهوری اسلامی ایران در امارات عربی متحده

مجتمع آموزشی پسرانه نمونه توحید دبی

مقطع راهنمایی نمونه توحید دبی

امتحان درسی: (انگلیسی)	کلاس: اول راهنمایی	تاریخ امتحان: ۸۹/۳/۲۰
نام و نام خانوادگی:	شماره صندلی:	سال تحصیلی ۸۸/۸۹
نام دبیر:		وقت امتحان: ۸۰ دقیقه

((موفقیت شما آرزوی ماست))

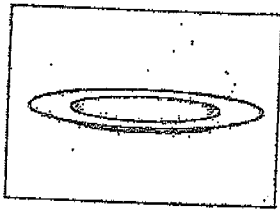
بارم

Spelling

ردیف
A

1

با توجه به تصاویر کلمات ناقص را کامل کنید.



1. p---e



2. t---ve

4

کلمات ناقص زیر را به صورت کامل شده در جای خالی بنویسید.

- He has two s - st - rs. (sisters)
- He has th - rt - en pen - - ls. (thirteen) (pencils)
- Are yo - fin - tod - y? (you) (fine) (Today)
- This is le - s - n e - - - t (lesson) (eight)

Vocabulary

واژگان

1

مناسب ترین گزینه را انتخاب کنید.


- This has five windows.
a. fan b. map c. book d. house
- This is a student.
a. doctor b. teacher c. girl d. dentist

3

با استفاده از کلمات داده شده جملات زیر را کامل کنید. (یک لغت اضافه است)

too - these - arm - are - windows - is - window

- This is an arm.
- That is a window.
- Are these desk?
- Is that an egg, too ?
- Those are windows.
- David is a student.




امتحان درسی :	کلاس :	تاریخ امتحان : ۸۹/۳/۶
نام و نام خانوادگی :		سال تحصیلی ۸۸/۸۹
نام دبیر :	شماره صندلی :	وقت امتحان :

((موفقیت شما آرزوی ماست))


1

با توجه به تصاویر داده شده جملات زیر را کامل کنید . 3

15. This is a wall



16. That is an apple



کلمه ناهماهنگ را مشخص کرده آنرا در نقطه چین بنویسید . 4

17. hand - arm - eye - hat hat

18. school - mosque - classroom - computer computer

Grammar

کلمات

جاهای خالی را با کلمات مناسب کامل کنید . (have - has) 1

19. This doctor has a car.

20. I have two brothers.

21. He and I have a ball.

گزینه صحیح را انتخاب کنید . 2

22. has a hat.

a. boys

b. doctors

c. Mr Ahmadi

d. dentists

23. Miss Irani a brother.

a. is

b. has

c. are

d. have

24. "Does girl have a glass?" "Yes, she does."

a. this


b. these

c. those

d. that's

25. Do Tom and I have a ball?

پاسخ های کوتاه و کامل بدهید. 3



سروستی مدارس جمهوری اسلامی ایران در امارات عربی متحده

مجتمع آموزشی پسرانه نمونه توحید دبی

مقطع راهنمایی نمونه توحید دبی

تاریخ امتحان: ۲۰/۳/۸۹	کلاس: : امتحان درسی
سال تحصیلی ۸۸/۸۹		م و نام خانوادگی:
وقت امتحان: ۰۰:۰۰ دقیقه	شماره صندلی:	م دبیر:

((موفقیت شما آرزوی ماست))

No, we haven't

26. Does Mrs. Alavi have a bicycle?

Yes, she has

برای پاسخ های زیر سوال مناسب بسازید.

27. ~~Does~~ do you have a watch?

Yes, I do. I have a watch.

28. ~~Does~~ does Anna have a radio?

No, Anna doesn't. Anna doesn't have a radio.

برای جملات زیر سوال بسازید.

29. What is that? It is a blackboard.

30. What are we? You are teachers.

مناسب ترین گزینه را انتخاب کنید.

31. Those are (bus - glass - boxes - dress)

32. This is an (hat - ears - orange - eyes)

با هر گروه از کلمات زیر یک جمله صحیح بسازید.

33. a car / that / has / teacher / . /

That teacher has a car

34. five / these / notebooks / have / girls / . /

These girls have five notebooks

35. does / sisters / have / Mr. Sharifi / ? /


Does Mr. Sharifi have sisters

Comprehension

هر یک از کلمات زیر را در ستون مناسب قرار دهید.

pen - bus - scarf - apple - ruler - car - school - orange - mosque - dress

میوه	مکان	لوازم التحریر	پوشاک	وسیله نقلیه
36. orange	38. School	40. Pen	42. dress	44. Bus
37. apple	39. mosque	41. ruler	43. scarf	45. car



سپرستی مدارس جمهوری اسلامی ایران در امارات عربی متحده

مجتمع آموزشی پسرانه نمونه توحید دبی

مقطع راهنمایی نمونه توحید دبی

تاریخ امتحان: ۸۹/۳/۲۰	کلاس:	امتحان درس:
سال تحصیلی ۸۸/۸۹		نام و نام خانوادگی:
وقت امتحان: ۴۰ دقیقه	شماره صندلی:	نام دبیر:

((موفقیت شما آرزوی ماست))

4

حرف مربوط به پاسخ هر سوال را روبروی آن سوال بنویسید.

46. Is he a doctor? (..... ^c)

a. No, she doesn't

47. Does she have a book? (..... ^a)

b. No, she isn't

48. Does he have a book? (..... ^d)

c. Yes, he is

49. Is she a dentist? (..... ^b)

d. Yes, he does

Conversation

مکالمه

5

برای پاسخ های زیر سوال های مناسب بسازید.

50.A: Are you a doctor? ?

B: No, I am not a doctor.

51.A: What are you? ?

B: I am a teacher.

52.A: Am I a teacher? ?

B: No, you aren't a teacher.

53.A: What am I? ?

B: You are a doctor.

54.A: What is she? ?

B: He is a doctor.

2

Pronunciation

تلفظ

طرز تلفظ کدام کلمه با بقیه کلمات متفاوت است؟

55. a) she

b) bell

c) yes

d) pen



56. a) arm


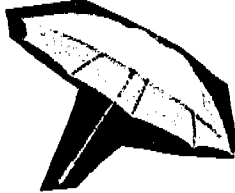
b) car

c) scarf

d) and

مدت امتحان: ۷۵ دقیقه تاریخ امتحان: ۱۳۸۹/۳/۵	پایه تحصیلی: راهنمایی	نام و نام خانوادگی:
نام دبیر: خاتم ترکمنی	نام درس: زبان انگلیسی	نام کلاس: اول
امضا دبیر:	نمره به حروف:	نمره به عدد:

بارم	
1	<p>A. در هر گروه کلمه های داده شده کلمه ی ناهماهنگ را پیدا کنید و در جای خالی بنویسید .</p> <p>1. cat – dog – bus – hen (.....)</p> <p>2. mosque – class room – chair- house (.....)</p>
2	<p>B. جملات زیر را با استفاده از کلمات داده شده کامل کنید. (یک کلمه اضافی است) (basket – nurse – pens – seven – egg)</p> <p>3. It is an.....</p> <p>4. They have a</p> <p>5. Maryam is a.....</p> <p>6. This house has doors</p>
1	<p>C. با توجه به تصاویر ، جمله های زیر را کامل کنید .</p> <p>7. It </p> <p>8. You have </p>
1	<p>D. گزینه صحیح را انتخاب و در جای خالی بنویسید .</p> <p>9. We are(books – fans – boys)</p> <p>10. This doctor has a (morning – window – computer)</p>
1	<p>E. کدام کلمه از نظر تلفظ ، با کلمه های دیگر تفاوت دارد ؟ آن را در جای خالی قرار دهید .</p> <p>11. <u>h</u>at – <u>a</u>m – ca<u>t</u> – <u>a</u>rm (.....)</p> <p>11. cup<u>s</u> – dog<u>s</u> – desk<u>s</u> – map<u>s</u> (.....)</p>
2	<p>F. کلمه های ناقص را کامل کنید .</p> <p>12. Ali has a bicy— le .</p> <p>13. It is a bla — kbo — rd .</p> <p>14. I have a not — book .</p> <p>15. That is a rad — o .</p>

1	<p>G. با توجه به تصویرها کلمه ناقص را کامل کنید .</p>   <p>16. tw—lv— .</p> <p>17. u—brel—a.</p>															
1/5	<p>H. مکالمه ستون A را با کمک ستون B کامل کنید . (در ستون B یک کلمه اضافی است)</p> <table border="0" style="width: 100%;"> <tr> <td style="text-align: center; width: 50%;"><u>A</u></td> <td style="width: 10%;"></td> <td style="text-align: center; width: 50%;"><u>B</u></td> </tr> <tr> <td>18. Has this boy a car?</td> <td>(.....)</td> <td>a. It's OK .</td> </tr> <tr> <td>19. What are you ?</td> <td>(.....)</td> <td>b. No, he has a car .</td> </tr> <tr> <td>20. How is school ?</td> <td>(.....)</td> <td>c. No, he has a computer</td> </tr> <tr> <td></td> <td></td> <td>d. I'm a doctor .</td> </tr> </table>	<u>A</u>		<u>B</u>	18. Has this boy a car?	(.....)	a. It's OK .	19. What are you ?	(.....)	b. No, he has a car .	20. How is school ?	(.....)	c. No, he has a computer			d. I'm a doctor .
<u>A</u>		<u>B</u>														
18. Has this boy a car?	(.....)	a. It's OK .														
19. What are you ?	(.....)	b. No, he has a car .														
20. How is school ?	(.....)	c. No, he has a computer														
		d. I'm a doctor .														
1/5	<p>I . مکالمه سمت چپ را با استفاده از جمله های سمت راست کامل کنید .</p> <table border="0" style="width: 100%;"> <tr> <td style="width: 50%;">22. A : Good afternoon .</td> <td style="width: 50%;">a: What a bout you ?</td> </tr> <tr> <td>23. B : How are you ?</td> <td>b : How is school ?</td> </tr> <tr> <td>24. A : Thank you .</td> <td>c: Good afternoon .</td> </tr> <tr> <td>25. I have a watch ?</td> <td>d: very well</td> </tr> </table>	22. A : Good afternoon .	a: What a bout you ?	23. B : How are you ?	b : How is school ?	24. A : Thank you .	c: Good afternoon .	25. I have a watch ?	d: very well							
22. A : Good afternoon .	a: What a bout you ?															
23. B : How are you ?	b : How is school ?															
24. A : Thank you .	c: Good afternoon .															
25. I have a watch ?	d: very well															
2	<p>L. پاسخ درست را انتخاب کنید و در جای خالی بنویسید.</p> <p>26. What are you?are nurses (I - They – We – She)</p> <p>27. Are pencils ? (this – that – these – it)</p> <p>28. Mahdi and Ione brother and two sisters . (have – has – are-is)</p> <p>29. Has Mina a scarf?Yes,.....(she has-you have-he has-I have)</p>															
2	<p>K. هر گروه از کلمات به هم ریخته زیر را بصورت جمله ای بنویسید .</p> <p>30. sisters-has-two-not-Mr.Sharifi .</p> <p>31. Reza – are - doctors – Amir – and ?</p>															
1	<p>L. جمله های ناقص را با استفاده از دانش گرامری خود کامل کنید .</p> <p>32. This is an appleare apples</p> <p>33. Are Mina and Maryam dentists ? Yes are .</p>															

1

M. با توجه به تصویرها پاسخ کوتاه و کامل دهید.

34. Is that girl a doctor ?



35. Have you a ball ?



2

N. شماره جمله مربوط به هر تصویر را در زیر آن بنویسید.

36. Those are baskets .

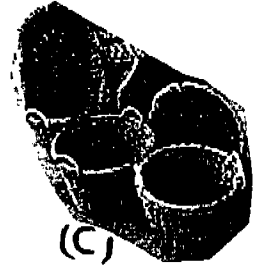
37. Maryam has a bag .

38. These are glasses .

39. He has a ruler . .



(a)



(c)



(b)



(d)

Good luck


** دیکته (۶ نمره)

الف: کلمات ناقص زیر را کامل کنید. (۴)

1. I have a wa-c-.
2. Is this a m-sq-e
3. We have ei- - t pens.
4. It is a clas-ro-m.

ب: باتوجه به تصاویر کلمات ناقص زیر را کامل کنید. (۲)

d- - r



h- - -



** واژگان (۱۲ نمره)

پ: در هر قسمت کلمه ی ناهماهنگ را مشخص کنید. (۲)

1. ear/ egg/ arm/ eye
2. Pencil/ notebook/ pen/ plate

ت: با کلمات داده شده جملات زیر را کامل کنید. (۴)

boy- brothers- eyes- fine- girl- today

1. Pari is a
2. How are you
3. Ali and Reza are
4. We have two

ث: گزینه مناسب را انتخاب کنید. (۴)

1. Thishas five doors. (fan- map- house)
2. This school has seven (teachers- houses- mosques)
3. One and three are (four- five- six)

4. Ali and Reza are (baskets- girls- students)

ج: ستون A را با B ارتباط دهید. (۲)

- | A | B |
|--------------|---------------|
| 1. house | a. egg |
| b. student | b. window |
| 3. hen | c. book |
| 4. classroom | d. blackboard |

**دستور (۲ انمره)

ج: گزینه مناسب را انتخاب کنید. (۴)

-a doctor.
a. We're b. They're c. You're d. It's
- What are you?nurses.
a. I am b. You are c. They are d. We are
- This is an
a. apple b. wall c. table d. basket
- Miss Hamidifive sisters.
a. is b. are c. have d. has

ح: با هر گروه از کلمات زیر یک جمله صحیح بسازید. (۲)

- doctors/ these/ not/ are/ .
- Mrs Naderi/ houses/ two/ has/.

خ: به سؤالات زیر پاسخ کوتاه و کامل بدهید. (۲)

- Has Ali a car? Yes,
- Are you a student? No,

د: برای جوابهای زیر سؤالهای مناسب بسازید. (۲)

- ? No, we haven't pencils.
-? Yes, they are students.

ذ: جملات زیر را منفی کنید. (۲)

1. It is a jacket.

2. Reza has a bag.

**مکالمه (۳ نمره)

ر: مکالمه زیر را مرتب کنید. (۳)

A:

B:

A:.....?

B:?

A:?

B:

A: Fine, Thanks I have an English book. What about you?

B: Hello, Maryam.

B: Very well, thank you and you?

A: Hello, Zahra.

B: I have an English book, too.

A: How are you today?

**درک مطلب (۷ نمره)

متن زیر را بخوانید و به سؤالات آن پاسخ دهید.

Maryam and Zahra are sisters. They have one brother. He is a doctor. Maryam is a nurse and Zahra is a student. They have a house and two cars.

ز: با توجه به متن بالا به سؤالات زیر پاسخ کامل دهید. (۳)

1. Are Maryam and Zahra sisters?

2. Is Maryam a student?

3. Have they a house?

نام و نام خانوادگی:		کلاس: اول		رشته:		شماره صندلی:	
نام درس: زبان انگلیسی		تاریخ امتحان:		نام دبیر:			
تصحیح اول		نمره باعدد:		نمره باحروف:		تجدید نظر	
نام و نام خانوادگی مصحح اول:		امضا		مهر امتحانات		نام و نام خانوادگی مصحح دوم:	
		امضا				امضا	

Spelling

الف) به تصاویر نگاه کنید و حروف حذف شده را در جای خالی بنویسید. (نمره)



b - s - et



umbr - l - a

ب) در متن زیر حروف بعضی از کلمات حذف شده اند حروف حذف شده را جایگزین کنید. (نمره ۲)

۱- Mina has a w - t - h .

۲- She has a p - n - il and a ru - er.

۳- She has a c - mp - t - r, too .

Vocabulary

الف) جملات ناقص را با استفاده از کلمات داده شده کامل کنید. یک کلمه اضافی است. (نمره ۲)

English- students- box-apple- sister

۴- They have today .

۵- Maryam has a and a brother .

۶- That boy has an

۷- They are

ب) کلمات ناقص جملات زیر را کامل کنید. (نمره ۱/۵)

۸- A: Are you a doctor ?

B: No, I'm a n - - - - .

۹- A: Is this a door ?

B: No, it's a w - - - .

۱۰- A: Has he a cat ?

B: No, he has a d - - .

ج) جملات ناقص را با استفاده از تصاویر کامل کنید . (۱نمره)



۱۱- A: What are they ?

B: They are

۱۲- A: Has he a book ?

B: No, he has a



د) واژه غیر مرتبط را از میان واژگان دیگر پیدا کنید . (۵/نمره)

۱۳- bicycle house bus car

۱۴- six you four ten

ه) بهترین گزینه را انتخاب کنید . (۱نمره)

۱۵- A: Is Ali a teacher ? B: No, he is a

a) dentist b) girl c) sister

۱۶- A: What is she ? B: She is a

a) Maryam b) doctor c) fine

۱۷- A: What are they ? B: They are

a) brother b) doctor c) students

۱۸- A: What is it ? B: It is a

a) boy b) teacher c) shirt

structure

الف) جملات ناقص را با استفاده از کلمات مناسب از خودتان کامل کنید . (۵/۱نمره)

۱۹- Thisan orange .

۲۰- I a student .

۲۱- Mona a dress .

ب) بهترین گزینه را انتخاب کنید. (۲نمره)

۲۲- Mr.and Mrs.Tabana house .

a) has b)have c) are

۲۳-A: Has Ali a bicycle ? B: yes ,..... has .

a) he b) she c) it

۲۴A: What are? B: They are eggs.

a) that b) these c)this

۲۵- A: Are you a doctor? B: No ,..... a nurse .

a) you are b)I am c)She is


ج) کلمات در هم ریخته را مرتب کنید. (۱نمره)

۲۶- bicycle – Mahdi – a – has .


۲۷-windows – those – are ?

د) با توجه به تصاویر به سوالات پاسخ دهید. (۱/۵نمره)


۲۸- Has Reza a car?



۲۹-What are those ?




۳۰-Are they teachers?



teachers

Reading

الف) جمله مربوط به هر تصویر را پیدا کنید و شماره آن را داخل پرانتزها بنویسید. (۲نمره)



()



()



()



()

۳۱- It is a map.

۳۲- These are eyes .

۳۳- Ahmad has a hat.

۳۴- They have a house.

ب) جملات ستون A را با جملات ستون B جور کنید و شماره آنها را در محل مناسب بنویسید. (۵/۱نمره)

A

B

۳۵- How are you?

()- It's O.K.

۳۶- How is school?

()- Yes, we have.

۳۷- Have you English today?

()- Very well, thank you.

ج) جملات زیر را مرتب کنید و یک جمله بسازید. (۵/۱نمره)

• Yes, I have .What about you?

۳۸-A:

• Just fine.

۳۹-B:

• Hello, Ali.

۴۰-A:

• No, I haven't.

۴۱-B:

• Hello. Reza. How are you?

۴۲-A:


• Have you a car?

۴۳-B:

محل مهر آموزشگاه	سرپرستی مدارس جمهوری اسلامی ایران	شماره :
	امارات عربی متحده	
	مجتمع خدیجه کبری (س) - سال تحصیلی ۸۹-۸۸	
نمره با عدد:	کلاس: اول	نام و نام خانوادگی:
نمره با حروف:	تاریخ آزمون / / ۱۳۸۹	نام درس: زبان انگلیسی
امضا دبیر مربوطه	صفحه: ۱	نوبت امتحان: خرداد
		مدت آزمون: ۷۰ دقیقه

- ۱) کلمه ی ناهماهنگ از نظر معنی با بقیه ی کلمات را بنویسید. (۲ نمره)
1. shirt , chair , jacket , hat (.....)
2. brother , sister , father , doctor (.....)
- ۲) جاهای خالی را با توجه به حرف اول آن کامل کنید. (۲ نمره)
3. Is this an apple ? No , it's an o - - - - .
4. Has Ali a w - - - - ? Yes , he has .

۳) با توجه به تصاویر جای خالی را کامل کنید. (۲ نمره)



5. What is he ?
He's a

6. Has Mina a glass ?
No , she has a

۴) با کلمات داده شده جملات زیر را کامل کنید (یک کلمه اضافی است). (۴ نمره)

((scarf , tables , egg , nine , fine))

7. They aren't desks . They're
8. Mr. Ahmadi is today .
9. Miss Irani has a
10. Four and five is

۵) بهترین پاسخ را انتخاب کنید. (۴ نمره)

11. Ali and I a radio .
- a) am b) have c) are d) has
12. This is a box . Are boxes , too ?
- a) those b) we c) that d) you
13. Are Mina and I students ? Yes ,
- a) I am b) you are c) they are d) we are
14. Have they a car ? No , a TV .
- a) they aren't b) they haven't c) they are d) they have

۶) جملات ناقص ستون A را با استفاده از عبارات ستون B کامل نمایید. (در ستون B یک عبارت اضافی است) (۳ نمره)

A

B

15. What are you ? ()
16. Have I a ball ? ()
17. I'm fine . And you ? ()
18. What are these ? ()
19. Are you doctors ? ()
20. What's that ? ()
- a) They're maps .
- b) No , we're students .
- c) It's a wall .
- d) No , I'm a teacher .
- e) Yes , you have .
- f) We're teachers .
- g) Just fine .

نمره با عدد:

۲ کلاس: اول

نام و نام خانوادگی:

نمره با حروف:

تاریخ آزمون / / ۱۳۸۹

نوبت امتحان: خرداد

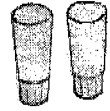
نام درس: زبان انگلیسی

امضا دبیر مربوطه

صفحه: ۲

مدت آزمون: ۷۰ دقیقه

(۷) با توجه به تصاویر جمله ی جدید بسازید . (۲ نمره)



21. That is a glass .

.....



22. She is a girl .

.....

(۸) برای تصاویر داده شده جمله بسازید . (۲ نمره)



23. Mr. Hamidi

24. Mina

(۹) با توجه به تصاویر پاسخ مناسب دهید . (۲ نمره)



25. Is this a chair ?

26. Has Amin a car ?

(۱۰) کدام کلمه از نظر تلفظ حرف پر رنگ، با بقیه تفاوت دارد ؟ آن را داخل پرانتز بنویسید . (۲ نمره)

27. ruler - cup - bus - umbrella ()

28. bags - dogs - desks - pens ()

(۱۱) مکالمه زیر را با استفاده از دانش خود کامل کنید . (۳ نمره)

A : Hello . How you today ?

B : Very , thank you .

A :is school ?

B : It is OK .

A : Have English today ?

B : No , we What you ?


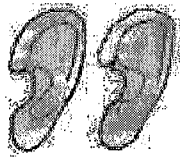
A : Yes , we have .

<p>محل مهر آموزشگاه</p> <p>نمره با عدد:</p> <p>نمره با حروف:</p> <p>امضا دبیر مربوطه</p>	<p>سرپرستی مدارس جمهوری اسلامی ایران امارات عربی متحده مجتمع خدیجه کبری (س) - سال تحصیلی ۸۸ - ۸۹</p> <p>نام و نام خانوادگی: نام درس: زبان انگلیسی مدت آزمون: ۷۰ دقیقه</p> <p>کلاس: اول نوبت امتحان: فرداد صفحه: ۲</p> <p>تاریخ آزمون: ۱۳۸۹ / /</p>	<p>شماره:</p>
--	--	---------------

(۱۲) شماره ی جمله ی مربوط به هر تصویر را در زیر آن بنویسید . (یک جمله اضافی است) (۴ نمره)

29. This boy has a ball .
31. Those are ears .
33. These are eyes .

30. Amin has a book .
32. We have a teacher .



()

()

()

()

(۱۳) متن زیر را به دقت بخوانید و سپس به سنوالات پاسخ دهید .

Hello . I am Mina . I have one brother . He is Reza . I have one sister , too . She is Zahra . We are students .
My father is a dentist and my mother is a nurse .

(الف) با توجه به متن پاسخ صحیح را انتخاب کنید . (۲ نمره)

34. Mina's father is a nurse . (Yes - No)
35. Mina and Zahra are (teachers - brothers - sisters)

(ج) با توجه به متن به سنوالات زیر پاسخ کامل دهید . (۲ نمره)


36. Has Reza one sister ?

37. What is Mina ?

دیگته - الف) با توجه به تصاویر کلمات ناقص را کامل کنید . (هر خط تیره نشانه ی یک حرف است) (۲ نمره)



wat - h



mos - ue



c - mputer



blackbo - rd

(ب) کلمات ناقص زیر را با حرف مناسب کامل کنید . (۲ نمره)

38. Good afterno - n , Maryam .

39. I haven't a bicy - le .

40. They have a ho - se .

41. That girl has a dres - .

امضا دبیر:

نمره به حروف:

نمره به عدد:

IN THE NAME OF GOD


الف) - در هر جمله کلمات ناقص را با حروف مناسب کامل کنید. (هر خط تیره نشانه ی یک حرف است). (۲نمره)

1. Have you Engl__sh today ?
2. Those are ap__les .
3. That is an umbre__la .
4. Mr Hamidi has a c__mputer .

ب) - با توجه به تصاویر کلمات ناقص زیر را کامل کنید. (۲نمره)

14

fo__rte__n



blac__bo__rd



ho__s__



ra__i__

ج) - مکالمه ی به هم ریخته ی زیر را مرتب و در نقطه چین های مقابل آن باز نویسی کنید: (۲نمره)

- | | |
|------------------------------------|-----------|
| A : Just fine . Thank you . | A : |
| B : How is school ? | B : |
| A : Hello , Maryam . How are you ? | A : |
| B : It is OK . | B : |
| A : No , we haven't . | A : |
| B : Have you Arabic today ? | B : |
| A : Yes , we have .What about you? | A : |

د) - با استفاده از لغات داده شده جملات زیر را کامل کنید. (یک لغت اضافه است) (۲نمره)

have - scarf - oranges - has - arm

1. Miss Ahmadi five dresses .
2. Are those ?
3. It is an
4. Sara and Reza two bicycles .


هـ) - زیر کلمه ی ناهماهنگ از لحاظ معنی خط بکشید . (۱/۵نمره)

1. (EAR - EYE - ONE - HAND)
2. (BOOK - CUP - NOTEBOOK - PEN)
3. (SISTER - DOCTOR - TEACHER - NURSE)

و) - با توجه به تصاویر به سوالات زیر اول پاسخ کوتاه و سپس پاسخ کامل بدهید . (۳نمره)

1. A : Are they glasses ?

B : Yes ,



2. A : Has Amin a box ?

B : No ,



ز) - زیر مناسب ترین لغت درون پرانتز خط بکشید . (۲نمره)

1. These are (shirts - dress - glass) .
2. Mr Abbasi (have - are - has) two cars .
3. That is an (ears - eye - eggs) .
4. A : Are you a girl ? B : No , (you aren't - I amn't - I'm not)

ح) - برای جواب های زیر جملات سوالی صحیح بسازید . (۲نمره)

1. A :

B : He is a student .

2. A :

B : Yes , they are watches .

ط) - جملات به هم ریخته ی زیر را مرتب و در مقابل آنها پانویسی کنید . (۱نمره)

1. (have / plates / they / not)

2. (today / are / how / you) ?

آزمون درس :

نام و نام خانوادگی :

شعبه کلاس :

پایه :

کلاس :

باسمه تعالی

اداره کل مدارس خارج از کشور

سرپرستی مدارس جمهوری اسلامی ایران در امارات عربی متحده

مجتمع آموزشی شارجه - مقطع راهنمایی

سال تحصیلی ۸۸-۸۹ نوبت دوم

تعداد صفحه :

تاریخ :

نام دبیر : سخرآوی

مدت پاسخگویی :

نمره به عدد :

نمره به حروف :

تاریخ / / ۸۹ امضاء دبیر :

بارم	ردیف
3	A
1	B
1	C
0/5	D
1	E

حروف حذف شده را بنویس .


1) - He- lo . How are you ?

2) - I have two gl- sses .

3) - J- st fine , Thank you .



4) - It is a m- sq- e .



5) - I have an umbr- lla

1) -(Blackboard - chair - table - bicycle .

زیر کلمه های ناهماهنگ خط بکشید .

2) - (dress - shirt - scarf - dentist) .

جملات زیر را با کلمات داده شده کامل کنید یک کلمه اضافه است .

(House - Nurse - today - watches - arm)

1) - We have English - ----- .

2) - They have ^a green ----- .

2) - My sister is a ----- .

3) - It is an ----- .

با استفاده از حروف داده شده کلمه ی ناقص را کامل کنید .

1) - You haven't a pen . you have a pen- - le .

با توجه به تصاویر جملات زیر را کامل کنید .

1) - She has a -----

2) - It is an ----- .



بارم	ادامه سوالات زبان کلاس اول راهنمایی دخترانه - نوبت دوم - سال ۸۹-۸۸ - صفحه ۲	ردیف				
1	<p>جملات ستون (A) را با جملات ستون (B) کامل کنید .</p> <table border="1" data-bbox="135 235 1380 593"> <thead> <tr> <th data-bbox="135 235 758 280">A</th> <th data-bbox="758 235 1380 280">B</th> </tr> </thead> <tbody> <tr> <td data-bbox="135 280 758 593"> 1) - That is an 2)- what are those ? are hens . 3) - Miss Irani has a 4)- These are </td> <td data-bbox="758 280 1380 593"> a)- Those b) - eggs c) - three d) - sister e) - orange </td> </tr> </tbody> </table>	A	B	1) - That is an 2)- what are those ? are hens . 3) - Miss Irani has a 4)- These are	a)- Those b) - eggs c) - three d) - sister e) - orange	F
A	B					
1) - That is an 2)- what are those ? are hens . 3) - Miss Irani has a 4)- These are	a)- Those b) - eggs c) - three d) - sister e) - orange					
2	<p>جای خالی را با کلمات مناسب پر کنید .</p> <p>1) - Are they teachers ? No teachers 2) - It is apple . 3) - It a bag . 4) - I am a student . what about you ? I am a student</p>	G				
2	<p>با هر گروه کلمات بهم ریخته زیر جمله بساز .</p> <p>1) - not - is - this - hand - a 2) - hat - a - has - Mr Taban</p>	G				
1	<p>زیر بهترین جواب خط بکش و در جای خالی بنویس .</p> <p>1) - Has Mina a scarf ? No Hasn't (Mina - she - he) 2) - Mona and Mina sisters . (have - is - are) 3) - What is ? He is a dentist (he - she - it) 4) - It is ear . (a - an - two)</p>	H				
0/5	<p>به دو کلمه زیر چند کلمه ی دیگر اضافه کن و جمله سوالی بساز .</p> <p>You / teacher</p>	I				

J

با توجه به تصویر پاسخ کوتاه و بلند بدهید

2/5

1) - What are they ?

.....


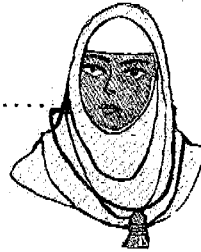

2) - Is she a teacher ?

.....

3) - Have they a TV ?

.....

.....




1.

K


شماره ی مربوط به هر تصویر را زیر آن بنویس .



()



()



()



()

1) - Those are hats .

3) - They have a car

2) - Mina has a plate

4) - He has a bicycle

0/5

L

در جای خالی کلمه مناسب بنویس

1) - That is an eye are eyes

2) - This is a bag are bags

0/5

M

با توجه به تصویر جلوی جمله صحیح علامت (✓) بگذارید

1) - They are teachers ()

2) - They are nurses ()

3) - They are students ()



نام و نام خانوادگی:	پایه تحصیلی: اول راهنمایی	مدت امتحان: 75 دقیقه * تاریخ امتحان: ۱/ ۳/ ۸۷
نام کلاس:	نام درس: قرآن	نام دبیر: ستوده
نمره به عدد:	نمره به حروف:	امضا دبیر:

بدرم	رف	1
4	<p>این ترکیب ها را مانند نمونه کامل کنید .</p> <p> </p> <p> </p>	

7	2
<p>آیات و عبارات قرآنی زیر را ترجمه کنید .</p> <p>1) وَ أَنَّ اللَّهَ بِمَا تَعْمَلُونَ خَبِيرٌ 2) إِنَّ اللَّهَ عَلِيمٌ خَبِيرٌ 3) إِنَّ اللَّهَ هُوَ الْغَنِيُّ الْحَمِيدُ 4) إِنَّ الشِّرْكَ لَظُلْمٌ عَظِيمٌ 5) وَأُولَئِكَ هُمُ الْمُفْلِحُونَ 6) وَاللَّهُ نَوْ فَضْلٍ عَلَى الْمُؤْمِنِينَ 7) لَقَدْ جَاءَكَ الْحَقُّ مِنْ رَبِّكَ</p>	

به نام خدا
سرپرستی مدارس جمهوری اسلامی ایران در امارات عربی متحده
مجتمع آموزشی نمونه توحید دختران

نام و نام خانوادگی:	پایه تحصیلی: اول راهنمایی	مدت امتحان: 75 دقیقه * تاریخ امتحان: ۱ / ۳ / ۸۹
نام کلاس:	نام درس: قرآن	نام دبیر: ستوده
نمره به عدد:	نمره به حروف:	امضا دبیر:

بهرم	ترکیب های زیر را ترجمه کنید .	ریف
3	<p>(1) نَذِيرٌ مُّبِينٌ) (</p> <p>(2) أَنْزَلْنَا إِلَيْكَ) (</p> <p>(3) عِنْدَ اللَّهِ) (</p> <p>(4) فِي سَبِيلِ اللَّهِ) (</p> <p>(5) لَقَدْ آتَيْنَا) (</p> <p>(6) مَغْفِرَةً لِلنَّاسِ) (</p>	3

2	<p>ترجمه ی صحیح عبارت ها را علامت بزنید .</p> <p>(1) برای آن ها ، پاداششان نزد پروردگارشان است .</p> <p>الف) لهم اجرهم عند ربهم <input type="radio"/> (ب) فله اجره عند ربه ی <input type="radio"/></p> <p>(2) خدا به آن چه عمل می کنید بیناست .</p> <p>الف) و الله بما تعملون خبير <input type="radio"/> (ب) و الله بما تعملون بصير <input type="radio"/></p> <p>(3) و آمرزشی از پروردگارشان</p> <p>الف) و مغفرة من ربهم <input type="radio"/> (ب) و مغفرة من الله <input type="radio"/></p> <p>(4) قطعا خدا بسیار آمرزنده و مهربان است .</p> <p>الف) و كان الله عفوا رحیما <input type="radio"/> (ب) ان الله كان عفورا رحیما <input type="radio"/></p>	4
---	---	---

4	<p>با توجه به کلمات داده شده معنی لغات زیر را بنویسید .</p> <p>آمرزش - نمی دانند - شکر کن - نیکوکاران - قرار داد - گناهان - توانا - می اندیشد</p> <p>صالحات) (</p> <p>جَعَلَ) (</p> <p>ذُنُوبَ) (</p> <p>يُعْقِلُونَ) (</p> <p>مَغْفِرَاتٍ) (</p> <p>لَا يَعْلَمُونَ) (</p> <p>أَشْكُرُ) (</p> <p>قَدِيرٌ) (</p> <p>فرزندانی عزیز ، در پناه حق موفق باشید . ستوده</p>	5
---	---	---

نام و نام خانوادگی:

سرپرستی مدارس جمهوری اسلامی ایران - ادارات

تاریخ: ۱۳۸۹/۳/۱

مجتمع آموزشی امام خمینی (ره) ابوظبی

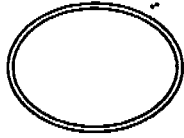
امتحان درس: قرآن

پایه و رشته تحصیلی: اول راهنمایی

وقت: ۴۰ دقیقه

نام دبیر: علی ایزدی

شماره صندلی:



بارم	سوالات	ردیف
۱	معنی کلمات زیر را بنویسید . لا یهدی : رزق : والدی : غنی :	۱
۱	ترکیب های زیر را کامل کنید . کلمه لِ + الذین <==> انفس + هم <==>	۲
۳	ترکیب های زیر را معنا کنید . الف) ذات الصدور : ب) جنات النعیم : ج) لقد أرسلنا : د) من الظلمات : هـ) یحیی الارض : و) اغیر لی :	۳
۰/۵	ترجمه ی صحیح را با علامت × مشخص کنید . ۱- خدا به آنچه عمل می کنید بینا است . □ الف) و الله بما تعملون خبیر □ ب) و الله بما تعملون بصیر ۲- قطعا خدا بسیار آمرزنده و مهربان است . □ الف) و كان الله عفورا رحیماً □ ب) ان الله كان عفورا رحیماً	۴

۰/۵	با توجه به معنی « جاءَ » عبارت زیر را ترجمه کنید . قَدْ جَاءَنَا نَذِيرٌ	۵
۴	آیات و عبارات زیر را ترجمه کنید . الف) إِنَّ الشَّرْكَاءَ لَظُلْمٌ عَظِيمٌ ب) إِنَّ اللَّهَ عَلِيمٌ خَبِيرٌ ج) وَ تُجَاهِدُونَ فِي سَبِيلِ اللَّهِ د) يَغْفِرُ لَكُمْ مِنْ ذُنُوبِكُمْ	۶

موفق باشید

نام و نام خانوادگی:

سرپرستی مدارس جمهوری اسلامی ایران - ادارات

مجتمع آموزشی امام خمینی (ره) ابوظبی

تاریخ: ۱۳۸۹/۳/۱

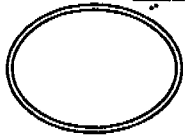
امتحان درس: قرآن

پایه و رشته تحصیلی: اول راهنمایی

وقت: ۴۰ دقیقه

نام دبیر: علی ایزدی

شماره صندلی:



ردیف	سوالات	بارم
۱	معنی کلمات زیر را بنویسید . لا یهدی : والدی : رزق : غنی :	۱
۲	ترکیب های زیر را کامل کنید . کلمه لِ + الذین <==> معنی أنفس + هُم <==> معنی	۱
۳	ترکیب های زیر را معنا کنید . الف) ذات الصدور : ب) جنات النعیم : ج) لقد أرسلنا : د) من الظلمات : هـ) يحيى الأرض : و) اغفر لی :	۳
۴	ترجمه ی صحیح را با علامت × مشخص کنید . ۱- خدا به آنچه عمل می کنید بینا است . □ الف) وَ اللهُ بِمَا تَعْمَلُونَ خَبِيرٌ □ ب) وَ اللهُ بِمَا تَعْمَلُونَ بَصِيرٌ ۲- قطعا خدا بسیار آمرزنده و مهربان است . □ الف) وَ كَانَ اللهُ غَفُوراً رَحِيماً □ ب) إِنَّ اللهَ كَانَ غَفُوراً رَحِيماً	۰/۵

۰/۵	<p>۵ با توجه به معنی « جاءَ » عبارات زیر را ترجمه کنید . قد جاءَنَا نَذِيرٌ</p>
۴	<p>۶ آیات و عبارات زیر را ترجمه کنید . الف) إِنَّ الشَّرْكََ لظُلْمٌ عَظِيمٌ ب) إِنَّ اللَّهَ عَلِيمٌ خَبِيرٌ ج) وَ تُجَاهِدُونَ فِي سَبِيلِ اللَّهِ د) يَغْفِرُ لَكُمْ مِنْ ذُنُوبِكُمْ</p> <p>موفق باشید</p>

مجمع آموزشی خدیجه کبری (س)

سال تحصیلی ۸۹ - ۸۸

نام درس : قرآن

مقطع تحصیلی : راهنمایی

نام و نام خانوادگی :
پایه تحصیلی : اول

نوبت امتحان : خردادماه

مدت امتحان : ۴۵ دقیقه

ردیف	سوال	بارم
۱	معنای صحیح کلمات را انتخاب کنید. غنی : سمیع : مفلحون : ثواب : جعل : قدیر :	۳
	شنوا - بی نیاز - ستکاران - توانا - قراردار - نماز - پاداش	
۲	« الیهم » یعنی چه؟ الف) به سوی او <input type="checkbox"/> ب) به سوی شما <input type="checkbox"/> ج) به سوی آنها <input type="checkbox"/> د) برای شما <input type="checkbox"/>	۰/۵
۳	معنای ترکیب « فی سبیلی » را علامت بزنید. الف) در راه من <input type="checkbox"/> ب) در راهی <input type="checkbox"/> ج) من در راهم <input type="checkbox"/> د) از راه من <input type="checkbox"/>	۰/۵
۴	از کدام آیه می فهمیم که « خدا » به آنچه عمل می کنید بیناست. الف) والله بما تعملون خبیر <input type="checkbox"/> ب) ان الله کان غفوراً رحیماً <input type="checkbox"/> ج) والله بما تعملون بصیر <input type="checkbox"/> د) و کان الله غفوراً رحیماً <input type="checkbox"/>	۰/۵
۵	کدام کلمه مربوط به ترجمه است. « بگو او پروردگار من است، نیست خدایی جز او الف) قال <input type="checkbox"/> ب) الذین <input type="checkbox"/> ج) اذا <input type="checkbox"/> د) خبیر <input type="checkbox"/>	۰/۵
۶	برای جای خالی کلمه مناسب انتخاب کنید ان الله هو الغنی حمید . قطعاً خدا بی نیاز است. الف) آمرزنده <input type="checkbox"/> ب) آفریننده <input type="checkbox"/> ج) ستوده <input type="checkbox"/> د) با عظمت <input type="checkbox"/>	۰/۵
۷	با توجه به آیات و عبارات قرآنی ترجمه زیر را کامل کنید. الف) و ان الله هو العلی کبیر « و بلند مرتبه ی ب) الذین یقیمون الصلاه « کسانی که ج) یغفر لکم من ذنوبکم « می آمرزد د) فیحیی به الارض بعد موتها « ه) و له الحمد فی السماوات و الارض » را	۰/۵ ۰/۵ ۰/۵ ۰/۵ ۰/۵
۸	ترکیب های زیر را معنا کنید. الف) لا یهدی : ب) هو الذی : ج) لقد ءتینا : د) فائماً یشکر :	۲

<p>باسمه تعالی</p> <p>اداره کل مدارس خارج از کشور</p> <p>سرپرستی مدارس جمهوری اسلامی ایران در امارات عربی متحده</p> <p>مجتمع آموزشی شارجه (خرداد ۸۹ پسران)</p>	<p>جای مهر</p>	<p>نام دبیر: درزی</p> <p>شماره ی کلاس:</p> <p>نام درس: قرآن</p> <p>تعداد صفحه: ۱</p> <p>مدت پاسخگویی: ۴۵ دقیقه</p> <p>پایه: اول راهنمایی</p>
--	----------------	--

ردیف	سئوالات	نوع
------	---------	-----

۱	<p>معنای کلمات زیر را بنویسید.</p> <p>الف) ولی ب) جنات</p> <p>ج) رُسُل د) آتینا</p>	۱
۲	<p>معنای ترکیبات زیر را بنویسید.</p> <p>الف) الَّذِينَ آمَنُوا ب) أَرْسَلَ رَسُولَهُ</p> <p>د) اُعْبُدُوا اللَّهَ ه) كَيْفَ خُلِقَ</p> <p>ز) وَعَدَ اللَّهُ ح) أَنْزَلْنَا إِلَيْكَ</p> <p>ك) لَهُ الْحَمْدُ ل) إِلَهَ النَّاسِ</p>	۳
۳	<p>کلمه "جاء" بعد از چه کلماتی معنای "آمد برای" می دهد؟</p>	۱
۴	<p>ترجمه کنید:</p> <p>الف) لا اله الا الله ب) يا ايها الذين آمنوا</p> <p>ج) الله ولي المومنين د) ومن آياته منامكم بالليل والنهار</p> <p>ه) فَانظُرْ إِلَى آثَارِ رَحْمَةِ اللَّهِ و) أَنْ اُعْبُدُوا اللَّهَ</p> <p>ز) رَبِّ اغْفِرْ لِي وَلِوَالِدَيَّ ح) إِنَّ اللَّهَ عَزِيزٌ حَكِيمٌ</p> <p>ط) وَسَخَّرَ الشَّمْسَ وَالْقَمَرَ ك) وَيُولِجُ النَّهَارَ بِاللَّيْلِ</p> <p style="text-align: center;">موفق باشید</p>	۵

نام و نام خانوادگی :

باسمه تعالی

جای مهر

اداره کل مدارس خارج از کشور

تاریخ : ۸۹/۳/

نام پدر :

سرپرستی مدارس جمهوری اسلامی ایران در امارات عربی متحده

نام دبیر : خانمحمدی

شعبه ی کلاس :

مجمع آموزشی شارجه (دوره راهنمایی دختران) خردادماه ۸۹

تعداد صفحه : ۲

نام درس : قرآن

پایه : اول

مدت پاسخگویی : ۶۰ دقیقه

نمره به عدد :

نمره به حروف :

نام و نام خانوادگی مصحح و امضاء :

س	سؤالات	ث
۲	معنای لغات زیر را بنویسید. يَجْرِي : أَجَلَ : صُدُور : يُوقِنُونَ : جَعَلَ : تَذِير : أَنْفُس : لَايَهْدِي :	۱
۶	ترکیب های زیر را هم گروه خود معنا کنید. الَّذِينَ آمَنُوا : يَأْتِي إِسْرَائِيلَ : فِي سَبِيلِ اللَّهِ : يُحْيِي الْأَرْضَ : عِنْدَ اللَّهِ : يُنزِّلُ مِنَ السَّمَاءِ : إِنَّا أَرْسَلْنَاكَ : عَذَابَ الْيَمِّ :	۲
۱	هر یک از عبارات فارسی، ترجمه ی کدام عبارت قرآنی است ؟ ۱- برای آنها ، پاداششان نزدیکتر است . □ الف- لَهُمْ أَجْرُهُمْ عِنْدَ رَبِّهِمْ □ ب- قَلَّ أَجْرُهُ عِنْدَ رَبِّهِ ۲- و آمرزشی از پروردگارش □ الف- وَمَغْفِرَةٌ مِنَ اللَّهِ □ ب- وَمَغْفِرَةٌ مِنْ رَبِّهِمْ ۳- خدا به آن چه عمل می کنید، بیناست . □ الف- وَاللَّهُ بِمَا تَعْمَلُونَ خَبِيرٌ □ ب- وَاللَّهُ بِمَا تَعْمَلُونَ بَصِيرٌ ۴- قطعا خدا بسیار آمرزنده و مهربان است . □ الف- وَكَانَ اللَّهُ غَفُورًا رَحِيمًا □ ب- إِنَّ اللَّهَ كَانَ غَفُورًا رَحِيمًا	۳
۱/۵	کلمات « را » ، « برای » ، « و است » را در جای مناسب بنویسید. ۱- إِنَّ اللَّهَ رَبِّي وَرَبَّكُمْ فَاعْبُدُوهُ : قطعاً الله پروردگار من و پروردگار شما پس عبادت کنید او ۲- وَلِلَّهِ مَا فِي السَّمَاوَاتِ وَمَا فِي الْأَرْضِ : خدا است آنچه در آسمان ها و آنچه در زمین ۳- يَا أَيُّهَا النَّاسُ اعْبُدُوا رَبَّكُم : ای مردم عبادت کنید پروردگار تان ۴- قَدْ جَاءَكُمْ رَسُولٌ مِنْ أَنْفُسِكُمْ : قطعاً آمد شما پیامبری از خودتان .	۴

۱	پیام قرآنی زیر را ترجمه کامل کنید. اللَّهُ نَزَلَ أَحْسَنَ الْحَدِيثِ	۵
۱/۵	باتوجه به عبارات قرآنی ترجمه را کامل کنید. ۱- إِنْ لِلْمُتَّقِينَ عِنْدَ رَبِّهِمْ جَنَّاتُ النَّعِيمِ : قطعا برای افراد باتقوا در..... ۲- قُلْ هُوَ رَبِّي لَا إِلَهَ إِلَّا هُوَ : بگو او پروردگار من است..... ۳- فَالَّذِينَ ءَامَنُوا وَعَمِلُوا الصَّالِحَاتِ : پس کسانی که ایمان.....	۶
۷	عبارات قرآنی زیر را ترجمه کامل کنید. ۱- أَلَمْ تَرَ أَنَّ اللَّهَ يُولِجُ اللَّيْلَ فِي النَّهَارِ ۲- وَأَنَّ اللَّهَ يَمَّا تَعْمَلُونَ خَبِيرٌ ۳- إِنْ الشِّرْكَاءَ لَظُلْمٌ عَظِيمٌ ۴- وَهُمْ بِالْآخِرَةِ هُمْ يُوقِنُونَ ۵- وَاللَّهُ ذُو فَضْلٍ عَلَى الْمُؤْمِنِينَ ۶- فَانظُرْ كَيْفَ كَانَ عَاقِبَةُ الظَّالِمِينَ ۷- إِنْ فِي ذَلِكَ لآيَاتٍ لِقَوْمٍ يَعْقِلُونَ	۷
۲۰	جمع بارم	«موفق باشی»

امتحان درس : قرآن	پایه : اول راهنمایی	تاریخ امتحان : ۸۹/۳/۱
نام و نام خانوادگی :	سال تحصیلی ۸۸/۸۹	
نام دبیر : اکبری - گودرزی	شماره صندلی :	وقت امتحان : ۳۰ دقیقه

۱- کلمات قرآنی زیر را با استفاده از کلمات داده شده ترجمه کنید. (۱ نمره)

مردم - ایمان آوردند - آگاه - ستوده - بهشت ها - شنوا -

ءآقنوا (.....) جَنَات (.....) ناس (.....) حَمِيد (.....)

۲- ترجمه ی صحیح هر عبارت را علامت بزنید. (۱ نمره)

- *** خدا به آن چه عمل می کنید، بیناست. (الف) وَاللَّهُ بِمَاتَعْمَلُونَ خَبِيرٌ
- *** و نازل می کند از آسمان آب را (ب) وَنَزَلَ مِنَ السَّمَاءِ مَاءٌ
- (ب) وَاللَّهُ بِمَاتَعْمَلُونَ بَصِيرٌ
- (الف) وَأَنْزَلَ مِنَ السَّمَاءِ مَاءً

۳- ترکیب های زیر را ترجمه کنید. (۲ نمره)

الف - اِغْفِرْلِي..... ب- خَلَقَ السَّمَاوَاتِ.....

ج- اِلَهِ النَّاسِ..... د- اَلَّذِينَ يَعْمَلُونَ.....

۴- از ۷ آیه زیر فقط ۶ آیه را اختیاری ترجمه نمایید. (۶ نمره)

و جعل القمر فيهن نورا.....

وَأَنَّ اللَّهَ بِمَاتَعْمَلُونَ خَبِيرٌ.....

إِنَّ اللَّهَ عَلِيمٌ بِذَاتِ الصُّدُورِ.....

والله ذو فضل على المومنين.....

أَنْ اِشْكُرْ لِي وَلِوَالِدَيْكَ.....

اَلَّذِينَ يَتَّبِعُونَ الصَّلَاةَ.....

رَبِّ اِغْفِرْ لِي وَلِوَالِدَيْ.....

نمره با حروف :

نمره با عدد :

نام و نام خانوادگی مصحح :

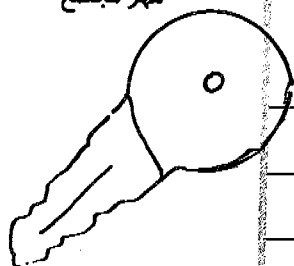
امضا

کلید سوالات

باسمه تعالی

سرپرستی مدارس جمهوری اسلامی ایران در امارات عربی متحده
مجتمع آموزشی نمونه و بین الملل توحید پسران

مهر مجتمع



امتحان درس : قرآن	پایه : اول راهنمایی	تاریخ امتحان : ۸۹/۳/۱
نام و نام خانوادگی :		سال تحصیلی ۸۸/۸۹
نام دبیر : اکبری - گودرزی	شماره صندلی :	وقت امتحان : ۳۰ دقیقه

۱- کلمات قرآنی زیر را با استفاده از کلمات داده شده ترجمه کنید. (۱ نمره)

مردم - ایمان آوردند - آگاه - ستوده - بهشت ها - شنوا -

عانتوا (ایمان آوردند) جنات (بهشت ها) ناس (مردم) حمید (ستوده)

۲- ترجمه ی صحیح هر عبارت را علامت بزیند. (۱ نمره)

- *** خدا به آن چه عمل می کنید، بیناست. الف) وَاللّٰهُ بِمَا تَعْمَلُونَ خَبِيرٌ
- *** و نازل می کند از آسمان آب را الف) وَأَنْزَلَ مِنَ السَّمَاءِ مَاءً
- ب) وَاللّٰهُ بِمَا تَعْمَلُونَ بَصِيرٌ
- ب) (ب) وَتَنْزَلَ مِنَ السَّمَاءِ مَاءً

۳- ترکیب های زیر را ترجمه کنید. (۲ نمره)

- الف - إغفرلی بیامرز مرا - ببخش مرا ب- خَلَقَ السَّمَاوَاتِ خَلق کرد آسمانها را - آفرید آسمانها را
- ج- إله الناس، خدای مردم د- الَّذِينَ يَعْمَلُونَ و کسانی که عمل می کنند - و کسانی که انجام می دهند

۴- از ۷ آیه زیر فقط ۶ آیه را اختیاری ترجمه نمایید. (۶ نمره)

- و جعل القمر فیهن نورا و قرار داد ماه را در میان آنها روشن
- وَأَنَّ اللّٰهَ بِمَا تَعْمَلُونَ خَبِيرٌ و خداوند به آنچه که انجام می دهید آگاه است

إِنَّ اللّٰهَ عَلِيمٌ بِذَاتِ الصُّدُورِ همانا خداوند آگاه است بدرون سینه ها (بدلها آگاه ست)

وَاللّٰهُ ذُو فَضْلٍ عَلَی الْمُؤْمِنِیْنَ و خداوند صاحب بخشش بر مومنین است

أَنْ اِشْكُرْ لِيْ وَلِوَالِدَيْكَ شکر کنید مرا و والدینتان را

الَّذِیْنَ یُقِیْمُونَ الصَّلَاةَ کسانی که نماز می خوانند - کسانی که نماز به پا می دارند

رَبِّ اِغْفِرْ لِيْ وَلِوَالِدَیَّ خداوند مرا ببخش و پدر و مادرم - ببخش مرا و والدینم

نام و نام خانوادگی مصحح :

نمره با عدد :

نمره با حروف :

امضا

به نام خدا
سرپرستی مدارس جمهوری اسلامی ایران در امارات عربی متحده
مجتمع آموزشی نمونه توحید دختران

		نام و نام خانوادگی:	پایه تحصیلی: اول راهنمایی	مدت امتحان: ۹۰ دقیقه تاریخ امتحان: ۸ / ۳ / ۸۹
		نام کلاس:	نام درس: ریاضی	نام دبیر: خسروی - پای
		نمره به عدد:	نمره به حروف:	امضا دبیر:
ردیف		(۱) جملات درست را با نماد \surd و جملات نادرست را با نماد \times مشخص کنید.		
۱		الف) شعاع بزرگترین وتر دایره است. ب) متمم زاویه 67° زاویه 33° است. ج) قرینه ی هر عدد از آن کوچکتر است. د) با پاره خط هایی به طول ۳ و ۳ و ۶ سانتی متر می توان یک مثلث رسم کرد.		
۱		(۲) جاهای خالی را با کلمه یا عدد مناسب کامل کنید. الف) ۱ سانتی متر میکرون است. ب) معکوس $4\frac{1}{5}$ می شود ج) عدد بزرگترین عدد صحیح منفی است. د) هر نقطه که روی یک پاره خط باشد از دو سر پاره خط به یک اندازه است.		
۱		(۳) مجموعه مقسوم علیه های ۲۱ را نوشته، سپس نمودارش را رسم کنید.		
۱/۵		(۴) ابتدا ب.م.م. دو عدد داده شده را از روش نردبانی بدست آورید. سپس ک.م.م. آنها را حساب کنید. $140 \overline{) 91}$ $91 \quad \underline{) 140} =$		
۱		(۵) الف) حاصل عبارت زیر را بدست آورید. $(\frac{1}{2})^3 + 4^2 =$ ب) حاصل را به صورت عدد توان دار بنویسید. $(\frac{1}{2})^6 \times (\frac{5}{10})^4 \times \frac{1}{5} =$		

۶ الف) حاصل عبارات زیر را بدست آورید.

$$(5 - 2/7) \times . / 5 =$$

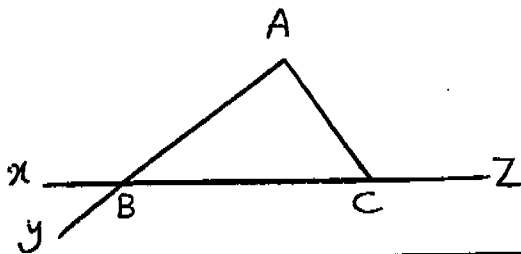
$$\left(\frac{2}{9} + \frac{5}{6} \right) \div \frac{7}{36} =$$

ب) مقدار x را بدست آورید.

$$\frac{x}{5} = \frac{21}{25}$$

۷ $\frac{3}{4}$ گنجایش ظرفی ۷۵ لیتر است. گنجایش کل ظرف را بدست آورید.

۸ در شکل مقابل نام یک نیم خط و یک پاره خط را بنویسید.



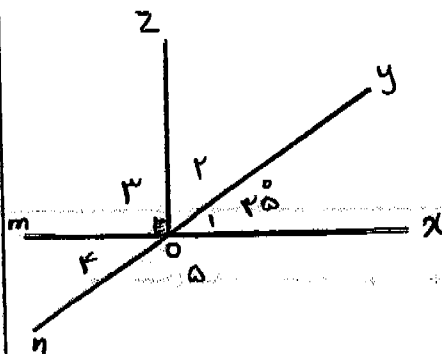
نیم خط =

پاره خط =

۹ با توجه به شکل مقابل:

الف) نام دو زاویه متقابل به راس را بنویسید.

ب) اگر $\hat{O}_1 = 35^\circ$ باشد اندازه ی زاویه های خواسته شده را بدست آورید.



$$\hat{O}_2 =$$

$$\hat{O}_4 =$$

$$\hat{O}_5 =$$

۱۰ مثلث ABC را با مشخصات زیر رسم کنید.

$$BC = 5cm, AC = 4cm, AB = 3cm$$

۱۱) تقسیم را تا دو رقم اعشار در خارج قسمت انجام داده و باقی مانده را مشخص کنید.

$$\begin{array}{r} 47/23 \quad | \quad 3/1 \\ \hline \end{array}$$

۱۲) بردار ۷- ابتدا از ۴+ را رسم کرده و جمع متناظر با آن را بنویسید.

۱۳) حاصل جمع و تفریق های زیر را بدست آورید.

$$(+70) + (-13) =$$

$$(-12) + (-19) =$$

$$(-20) - (-35) =$$

۱۴) ساعت ۸ صبح دمای هوای گرگان ۷ درجه بالای صفر است و هوای شیراز ۳ درجه گرمتر از گرگان است. دمای هوای شیراز چند درجه است؟

۱۵) جدول زیر را کامل کنید.

گرد شده ی عدد	قطع شده ی عدد	با تقریب کمتر از	عدد
		۱/	۲۴/۳۲
		۱۰۰	۳۷۸۹

۱۶) برای جدول داده های زیر نمودار میله ای رسم کنید.


نام درس	نمره
قرآن	۲۰
ریاضی	۱۸
فارسی	۱۴
تاریخ	۱۳

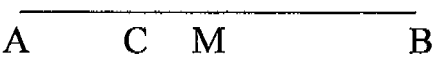
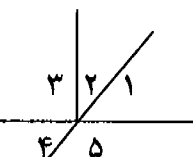
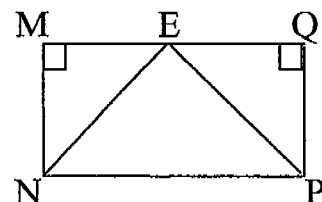
باسمه تعالی

مجمع آموزشی امام خمینی (ره) پسرانه - ابوظبی


سؤالات امتحان درس:	ریاضی	کلاس: اول	دوره ی تحصیلی: راهنمایی	شماره ی صندلی:
نام و نام خانوادگی:			تاریخ امتحان: ۱۳۸۹ / ۰۳ / ۰۳	مدت امتحان: ۱۰۰ دقیقه
تصحیح اول: نمره با حروف:	نمره با عدد:	امضاء:	تصحیح دوم: نمره با حروف:	نمره با عدد:

ردیف	سؤالات	نمره
۱	عدد روبرو را طوری کامل کنید که بر ۲ و ۵ و ۹ بخش پذیر باشد:	۰/۵
۲	بزرگ ترین مقسوم علیه مشترک و کوچک ترین مضرب مشترک دو عدد ۲۴ و ۳۰ را بیابید.	۱
۳	الف - حاصل را به صورت عددی توان دار بنویسید: ب - حاصل عبارت روبرو را بیابید:	۱
۴	الف - کسر مقابل را ساده کنید: ب - حاصل عبارت روبرو را بیابید:	۱/۵
۵	نسبت دو عدد ۳ به ۲ است؛ اگر مجموع آنها ۳۰ باشد، آن اعداد کدامند؟	۱
۶	الف - مقایسه کنید: ب - حاصل عبارت روبرو را بیابید:	۱

ردیف	سؤالات	نمره												
۷	تا دورقم اعشار، در خارج قسمت پیشروی کرده و باقی مانده را تعیین کنید:	۱/۵												
	$\frac{۱۳}{۲۵} \div \frac{۵}{۲}$													
۸	بردار +۳ ابتدا در -۴ را رسم کرده و برای آن یک جمع بنویسید:	۱												
														
۹	الف - یکی از خاصیت های جمع را بیان کرده و برای آن مثالی بنویسید. ب - حاصل جمع و تفریق های روبرو را بیابید:	۲												
	$(+۲۵) + (-۲۱) =$ $-۱۳ - (+۱۰) =$													
۱۰	جدول را کامل کنید:	۱												
	<table border="1"> <thead> <tr> <th>عدد</th> <th>با تقریب کمتر از</th> <th>مقدار تقریبی (قطع شده)</th> <th>مقدار تقریبی (گرد شده)</th> </tr> </thead> <tbody> <tr> <td>۲۵/۱۴</td> <td>۱۰</td> <td></td> <td></td> </tr> <tr> <td>۳۲/۲۵۳</td> <td>۰/۰۱</td> <td></td> <td></td> </tr> </tbody> </table>	عدد	با تقریب کمتر از	مقدار تقریبی (قطع شده)	مقدار تقریبی (گرد شده)	۲۵/۱۴	۱۰			۳۲/۲۵۳	۰/۰۱			
عدد	با تقریب کمتر از	مقدار تقریبی (قطع شده)	مقدار تقریبی (گرد شده)											
۲۵/۱۴	۱۰													
۳۲/۲۵۳	۰/۰۱													
۱۱	الف - علم.....، علم جمع آوری اطلاعات عددی و بررسی آنهاست. ب - برای داده های روبرو نمودار میله ای را رسم کنید: ۱۶ و ۲۰ و ۱۲	۱												

نمره	سؤالات	ردیف
۱	<p>الف - ۵ میلی متر برابر است با.....میکرون .</p> <p>ب - بزرگترین وتر دایره ،نام دارد .</p> <p>پ - نقطه ی M وسط پاره خط AB است . در تساوی های زیر نام پاره خط های مناسب را بنویسید :</p> <p style="text-align: center;">  $AB - AM = \dots\dots\dots$ و $AC + CB = \dots\dots\dots$ </p>	۱۲
۱	<p>در شکل مقابل زاویه های \hat{A} و \hat{B} متمم یکدیگرند ، اندازه های زوایای زیر را بدست آورید : ($\hat{A} = 70^\circ$)</p> <p style="text-align: center;">  $\hat{A} = \dots\dots\dots$ ، $\hat{B} = \dots\dots\dots$ ، $\hat{C} = \dots\dots\dots$ ، $\hat{D} = \dots\dots\dots$ </p>	۱۳
۱/۵	<p>الف - مثلث ABC را با مشخصات زیر رسم کنید : $A = 40^\circ$ ، $AC = 1 \text{ cm}$ ، $C = 50^\circ$</p> <p>ب - دایره ای به شعاع ۱ سانتی متر رسم کرده و روی آن دو وتر به اندازه های ۲ و ۱/۵ سانتی متر بیابید .</p>	۱۴
۱/۵	<p>چهار ضلعی MNPQ یک مستطیل است و نقطه ی E وسط ضلع MQ است . چرا مثلث ENP متساوی الساقین است؟</p> <p style="text-align: center;">  </p>	۱۵

ردیف	سوال	ص ۱	پارم
۱	جملات صحیح را با "ص" و جملات غلط را با "غ" مشخص کنید.	<p><input type="checkbox"/> الف) اگر عددی بر ۵ بخش پذیر باشد، آن عدد به صفر یا ۵ ختم می شود.</p> <p><input type="checkbox"/> ب) عدد ۱۳ عددی اول نیست.</p> <p><input type="checkbox"/> ج) حاصل جمع یک عدد با قرینه اش مساوی صفر است.</p> <p><input type="checkbox"/> د) عدد (۳۷-) از صفر کوچکتر است.</p> <p><input type="checkbox"/> ه) عمود منصف یک پاره خط، خطی است که بر پاره خط عمود باشد.</p>	۱/۲۵
۲	جملات زیر را با نوشتن عدد یا کلمه ای مناسب کامل کنید.	<p>الف) اگر پاره خطی را از یک طرف امتداد دهیم، یک بدست می آید.</p> <p>ب) بزرگترین وتر دایره نام دارد.</p> <p>ج) بزرگترین عدد منفی عدد می باشد.</p> <p>د) مثلثی که فقط دو ضلع مساوی داشته باشد، مثلث می گویند.</p> <p>ه) مجموع دو زاویه متقابل به رأس ۸۴ درجه است. اندازه ی هر کدام درجه است.</p> <p>ز) علم علم جمع آوری اطلاعات عددی و بررسی آنهاست.</p> <p>ح) نمایش اعشاری عدد عدد می باشد.</p> <p>۷۳۸</p> <p>۱۰۰</p>	۱/۲۵
۳	هر نقطه که از دو سر پاره خط به یک فاصله باشد، روی آن پاره خط قرار دارد.	<p><input type="checkbox"/> نیمساز <input type="checkbox"/> ارتفاع <input type="checkbox"/> عمود منصف <input type="checkbox"/> عمود</p>	۰/۲۵
۴	به سوالات زیر پاسخ کوتاه بدهید.	<p>الف) وسیله اندازه گیری زاویه چه نام دارد؟</p> <p>ب) مقسوم علیه های اول عدد ۱۸ را بنویسید.</p> <p>ج) متمم زاویه ۳۵ درجه را حساب کنید.</p> <p>د) قطع شده عدد ۳۵۷۲ با تقریب کمتر از ۱۰۰ چه عددی است؟</p>	۱

بارم	ص ۲	سوال	ردیف
۱/۷۵	$5^2 - 2^3 =$ $\left(\frac{4}{3} - \frac{5}{8}\right) \div \left(\frac{-7}{3}\right) =$	حاصل عبارات زیر را بدست آورید.	۵-
۱	<p>الف) بردار (+۴) ابتدا در (-۱) را روی محور زیر رسم کنید و سپس برای آن یک جمع بنویسید.</p>  <p>ب) دمای هوای مشهد در یک صبح بهاری ۱۲ درجه بالای صفر و دمای هوای شیراز ۱۶ درجه سردتر از مشهد است. دمای هوای شیراز چند درجه است؟</p> <p>ج) حاصل عبارات زیر را بدست آورید.</p> $(-17) + (+17) =$ $(-38) + (+23) =$ $(-19) - (+8) =$		۶-
۰/۵	$(5/83 - 2/19) \times 0.04 =$ $25/87 \quad \underline{2/1}$	<p>الف) حاصل عبارت زیر را بدست آورید.</p> <p>ب) تقسیم زیر را تا دو رقم اعشار در خارج قسمت انجام دهید.</p>	۷-
۱		در جعبه ای تعدادی مهره به رنگهای آبی و قرمز داریم به نسبتهای ۳ و ۲. اگر تعداد کل مهره ها ۲۴۰ عدد باشد، از هر رنگ چند مهره وجود دارد؟	۸-

ص ۳


سوال

۹- الف) جدول تقریبی زیر را کامل کنید.

گرد شده	با تقریب کمتر از	عدد
	۱۰۰	۱۳۸۹
	۰/۱	۱۳/۸۹

ب) نمودار میله ای جدول زیر را رسم کنید.

جمعه	پنج شنبه	یک شنبه	شنبه	روزهای هفته
۱	۱۰	۷	۵	تعداد نقطه ها



۱۰- با توجه به شکل مقابل پاسخ دهید.

الف) نام دو پاره خط: و

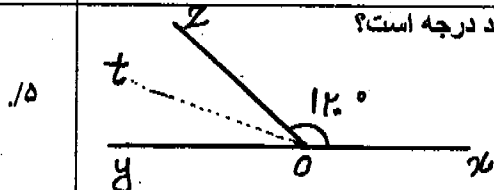
ب) نام یک نیم خط:

ج) رابطه زیر را کامل کنید.




$$AS + \dots + LN = AN$$

۱۱- در شکل زیر Ot نیمساز زاویه zOy است اندازه زاویه $\angle yot$ چند درجه است؟

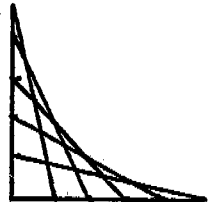


۱۲- الف) دلیل تساوی دو مثلث ABC و ABD را بیان کنید.



ب) زاویه ای ۶۵ درجه رسم کرده، سپس با استفاده از پرگار و خط کش، نیمساز آنرا رسم کنید.

ادامه سوالات ص ۴

ردیف	سوال	ص:۴	بارم
۱۳-	مثلث ABC را با معلومات داده شده رسم کنید.	$\hat{A} = 40^\circ$ $AB = 3 \text{ Cm}$ $\hat{B} = 55^\circ$	۱
۱۴-	بزرگترین مقسوم علیه 90° و 25° را بدست آورید.		۱
۱۵-	رسم: ۱- با استفاده از گونیا ابتدا یک زاویه 90° درجه رسم کنید. ۲- هر ضلع زاویه قائمه را ۵ سانتی متر بگیرید. ۳- هر ضلع را به ۵ قسمت مساوی تقسیم کنید. ۴- مانند نمونه داده شده، رسم را کامل کنید.		۱

موسسه تخصصی

لسبیری

نام و نام خانوادگی:

باسمه تعالی

تاریخ: ۱۳۸۹/۳/۳

نام پدر:

اداره کل مدارس خارج از کشور

نام دبیر: زهره ای

جای مهر

نام درس: ریاضی

سرپرستی مدارس جمهوری اسلامی ایران در امارات عربی متحده

تعداد صفحه: ۴

شعبه ی کلاس:

مجتمع آموزشی شارجه (دوره راهنمایی) خرداد (۸۹)

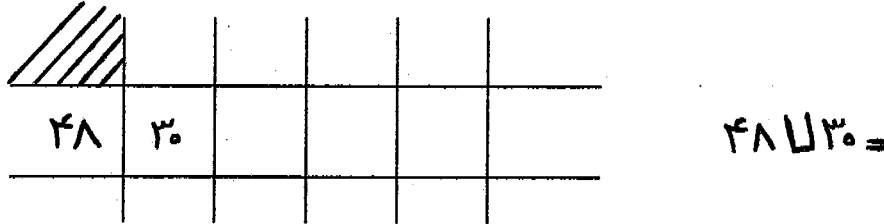
مدت پاسخ گویی: ۱۲۰ دقیقه

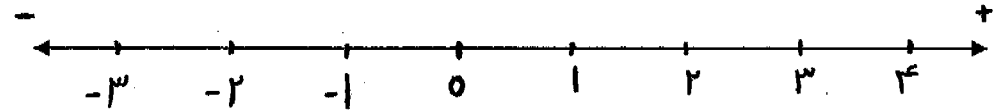
پایه: اول

نمره به عدد:

نمره به حروف:

نام و نام خانوادگی مصحح و امضا:

بارم	ردیف
۱/۲۵	۱
	ابتدا از روش جدول نردبانی بزرگترین مقسوم علیه مشترک دو عدد ۴۸ و ۳۰ را به دست آورید سپس ک.م.م این دو عدد را حساب کنید.
	
۱/۲۵	۲
	ابتدا مجموعه ی مقسوم علیه های عدد ۲۴ را بنویسید سپس نمودار مقسوم علیه های آن را رسم کنید.
۱/۲۵	۳
	الف) حاصل عبارت زیر را به دست آورید.
	$7^2 - 2^2 + 1^2 =$
	ب) حاصل عبارت های زیر را به صورت یک عدد توان دار بنویسید.
۱/۵	$(\frac{2}{3})^5 \times (\frac{2}{3}) \times (\frac{2}{3})^4 =$
	$(1\frac{2}{10})^5 \times (1/2)^3 =$
۱	۴
	یک نقاش برای تهیه رنگ سبز هر ۷ کیلوگرم رنگ زرد را با ۴ کیلوگرم رنگ آبی مخلوط می کند. او برای تهیه ۶۶ کیلوگرم رنگ سبز به چند کیلوگرم از هر رنگ نیاز دارد؟

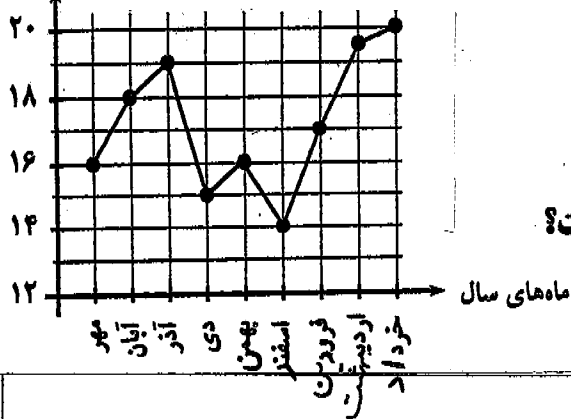
۲	<p>۵ حاصل عبارتهای زیر را به دست آورید و تا جایی که امکان دارد جواب را ساده کنید.</p> <p>الف) $4 \frac{2}{5} \div \frac{11}{10} =$</p> <p>ب) $\frac{5}{8} + \frac{7}{12} - \frac{5}{24} =$</p> <p>ج) $(7/35 - 4/3) \times 1/4$</p>	۵
/۷۵	<p>۶ در تساوی زیر مقدار X را حساب کنید.</p> $\frac{25}{x} = \frac{10}{12} \Rightarrow x =$	۶
۱	<p>۷ حاصل تقسیم زیر را تا ۲ رقم اعشار در خارج قسمت حساب کنید و باقیمانده اصلی را بنویسید.</p> $13/58 \overline{) 1/2}$	۷
۱	<p>۸ بر روی محور زیر بردار ۵- ابتدا در ۳+ را رسم کرده و برای آن بردار یک تفریق بنویسید.</p>  <p style="text-align: center;">تفریق:</p>	۸
۱	<p>۹ حاصل جمعهای زیر را به دست آورید و هر کجا لازم است قرینه یابی انجام دهید.</p> <p>$(-73) + (-12) =$</p> <p>$(-15) + (+23) =$</p> <p>$(+17) + (+17) =$</p> <p>ب) حاصل تفریق زیر را به دست آورید.</p> <p>$(-19) - (-6) =$</p>	۹
/۷۵	<p>۱۰ در صبح یک روز زمستانی دمای هوای شیراز ۴- درجه و دمای هوای شارجه ۱۳+ درجه گزارش شده است. هوای شیراز چند درجه از هوای شارجه سردتر است؟</p>	۱۰

جدول زیر را کامل کنید.

عدد داده شده	باتقريب كمتر از	به روش قطع كردن	به روش گرد كردن
۴۷۲۲	۱۰۰		
۲۷ / ۳۶	/۱		

۱۱

۱۲ علی نمودار خط شکسته نمرات ریاضی خود را به صورت زیر رسم کرده است:



- الف) در چه ماهی علی بیشترین نمره را گرفته است؟
 ب) نمره علی در چه ماهی از سایر ماهها کمتر است؟
 ج) در چه ماههایی نمره علی از ۱۷ بیشتر است؟
 د) چه نمره ای را دو بار در امتحان به دست آورده است؟

۱۲

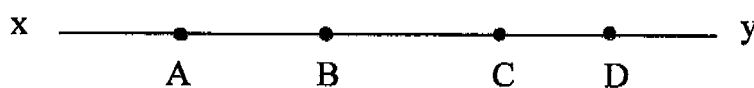
۱/۲۵

جملات زیر را با کلمه ها یا عددهای مناسب کامل کنید.

- الف) بزرگترین مقسوم علیه هر عدد می باشد.
 ب) مجذور عدد $\frac{3}{8}$ برابر است با
 ج) متمم زاویه ی ۷۲ درجه زاویه درجه است.
 د) علم علم جمع آوری اطلاعات عددی و بررسی آنهاست.
 ه) هر نقطه که روی یک پاره خط باشد فاصله اش تا دو سر آن پاره خط به یک اندازه می باشد.

۱۳

/۷۵



باتوجه به شکل مقابل

۱۴

الف) در مجموع چندتا نیم خط را می توانیم نام ببریم؟

ب) با توجه به شکل رابطه های زیر را کامل کنید.

$$AB + \dots + CD = AD \quad AD - BD = \dots$$

/۷۵

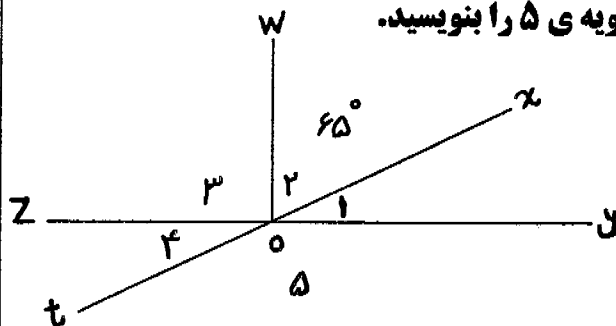
در شکل روبرو زاویه های ۱ و ۲ متمم اند.

الف) اگر $\hat{2} = 65^\circ$ باشد اندازه ی زاویه ی ۴ و زاویه ی ۵ را بنویسید.

$$\hat{4} = \dots \quad \hat{5} = \dots$$

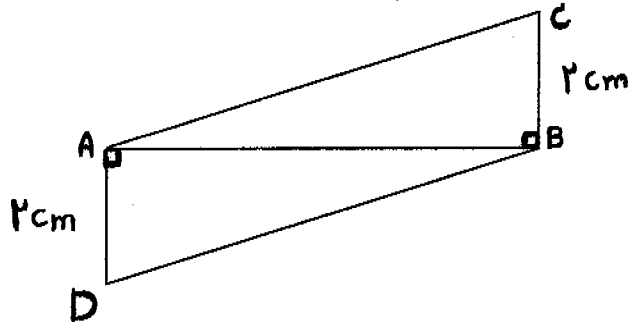
ب) زاویه ی ۲ را با سه حرف بنویسید.

$$\hat{2} = \dots$$



۱۵

الف) دلیل تساوی دو مثلث ABC و ABD را بیان کنید. (بنا به کدام حالت)



ب) ضلع نظیر پاره خط AC کدام است؟

۱,۲۵

۱۶

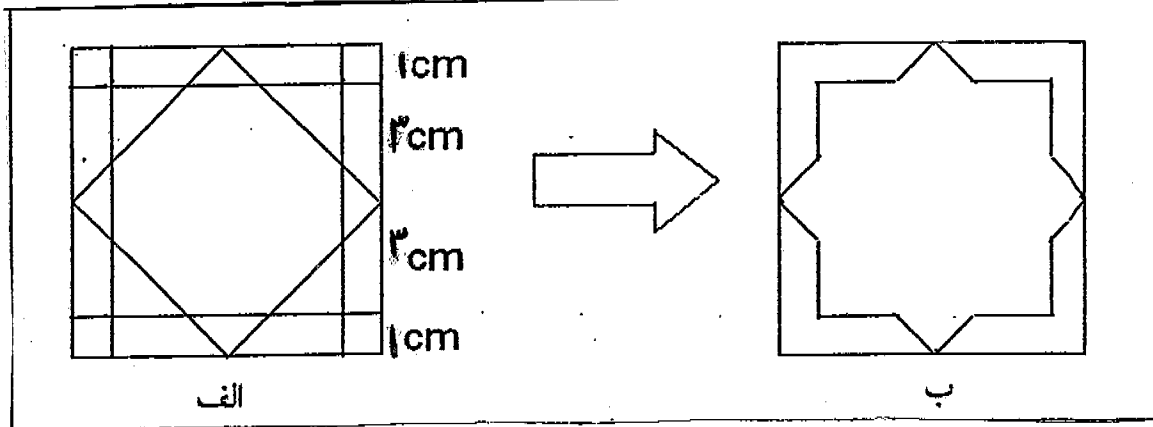
۱۷ الف) ابتدا یک پاره خط به طول ۵ سانتی متر رسم نموده سپس به کمک خط کش و پرگار عمود منصف آن را بکشید.

ب) یک زاویه ۱۲۰ درجه رسم کرده و با استفاده از خط کش و پرگار آن را به چهار قسمت مساوی تقسیم کند.

۱/۲۵

۱۷

۱۸ رسم : ۱) مربعی به ضلع ۸ سانتیمتر رسم کنید.
 ۲) نقاطی به فاصله ۱ و ۳ و ۳ و ۱ روی هر ضلع آن مشخص کنید.
 ۳) نقاط تقسیم را مانند شکل الف به هم وصل کنید.
 ۴) خطوط اضافی را پاک کنید تا شکل نهایی (ب) بدست آید.



۱

۱۸



سرپرستی مدارس جمهوری اسلامی ایران در امارات عربی متحده
مجتمع آموزشی نمونه و بین الملل توحید پسران - دبي
امتحانات نیمسال اول سال تحصیلی ۸۹ - ۸۸

دوره تحصیلی : راهنمایی
کلاس : اول
مدت آزمون : ۱۰۰ دقیقه

سوالات درس: تاریخ ۸۹/۳/۳
نام و نام خانوادگی:

نام دبیر : میرزایی

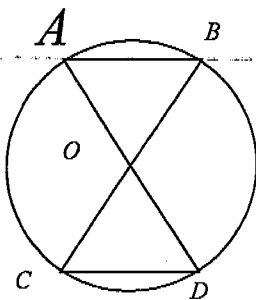
۱۹- عمود منصف پاره خط AB را رسم نمایید. (۵/۵ نمره)

A _____ B رسم گمانها ۲۵/۰، رسم عمود منصف ۲۵/۰

۲۰- در شکل مقابل O مرکز دایره است. (۵/۱ نمره)


الف) دلیل تساوی دو مثلث را بیان نمایید.

ب) تساوی های روبرو را کامل نمایید.



$$\begin{cases} OA = OC \\ \hat{O}_1 = \hat{O}_2 \Rightarrow \Delta OCD = \Delta OAB \quad (1) \\ OB = OD \end{cases}$$

$$\hat{B} = \hat{D}, AB = CD \quad (۰/۲۵ - ۰/۲۵)$$



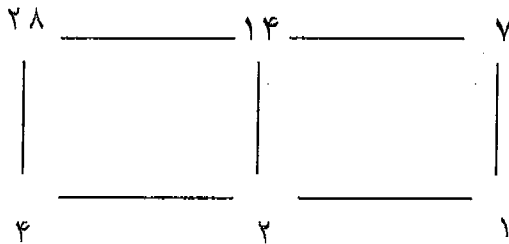
دوره تحصیلی : راهنمایی
کلاس : اول
مدت آزمون : ۱۰۰ دقیقه

سوالات درس: تاریخ: ۸۹/۳/۳
نام و نام خانوادگی:
نام دبیر: میرزایی

۱- با ارقام (۷, ۰, ۵, ۰, ۵, ۳) کوچکترین عدد چهار رقمی را بنویسید که بر ۵ بخش پذیر باشد. (۵/۰ نمره)

جواب: ۳۰۲۵ (۵/۰)

۲- نمودار مقسوم علیه های یک عدد به صورت مقابل است. آن را تکمیل کنید. (۵/۰ نمره)



جواب: (۵/۰)

۳- کوچکترین مضرب مشترک (ک.م.م) دو عدد ۵۴ و ۲۴ را بدست آورید. (با عملیات) (۱ نمره)

$$۵۴ \mid ۲۴ = \frac{۵۴ \times ۲۴}{۶} = ۲۱۶ \quad (۵/۰)$$

۲	۴		
۵۴	۲۴	۶	
۴۸	۲۴		

(۵/۰)

۴- جمله های درست را با نماد ✓ و جمله های نادرست را با نماد × مشخص کنید. (۵/۱ نمره)

- (الف) بزرگترین مقسوم علیه هر عدد، خود آن عدد است. ✓
 (ب) اگر عددی زوج باشد اول نیست. ×
 (ج) مضرب از هر عدد صحیح منفی کوچکتر است. ×
 (د) دو میکرون برابر است با ۰/۰۰۲ میلیمتر. ✓
 (ه) بزرگترین وتر دایره قطر آن است. ✓
 (و) از دو نقطه بی شمار خط راست می گذرد. ×

۱/۵

$$\frac{۵۴^۱ \times ۲۴^۱}{۲۴^۲ \times ۲۴^۱} = \frac{۹}{۶} \quad (۵/۰)$$

۵- کسر مقابل را ساده کنید. (۵/۰ نمره)

۶- حاصل عبارت های زیر را بدست آورید. جواب ها را ساده کنید. (۱ نمره)



دوره تحصیلی: راهنمایی
کلاس: اول
مدت آزمون: ۱۰۰ دقیقه

سوالات درس: تاریخ: ۸۹/۳/۳
نام و نام خانوادگی:
نام دبیر: میرزایی

$$\frac{7}{8} + \frac{1}{6} - \frac{5}{12} = \frac{21+4-10}{24} = \frac{15}{24} \quad (0/5)$$

$$8 \div \frac{2}{9} = 8 \times \frac{9}{2} = 36 \quad (0/5)$$

۷- تساوی های زیر را کامل کنید. (۰/۵ نمره)

$$2^5 \div 2^2 = 2^{\square} \quad (0/25)$$

$$\left(\frac{2}{7}\right)^{\square} = \left(\frac{2}{7}\right)^2 \times \left(\frac{2}{7}\right)^5 \quad (0/25)$$

۸- الف) مقدار x را در تساوی زیر پرست آورید. (۱ نمره)

$$\frac{4}{5} = \frac{24}{x} \quad x = \frac{5 \times 24}{4} = 30 \quad (0/5)$$

ب) $\frac{2}{5}$ یعنی چند درصد؟

۱۰% ۸۰% ۴۰% ۲۰% (۰/۵)

۹- حاصل عبارت های زیر را پرست آورید. (۱/۵ نمره)

$$\frac{4}{5} \div \frac{28}{25} = \frac{14}{5} \times \frac{25}{28} = \frac{5}{2} \quad (0/75)$$

$$\frac{7}{35} \times \frac{7}{7} = \frac{1}{5} \quad (0/75)$$

۱۰- الف) حاصل ضرب دو عدد زیر را با استفاده از کسر اعشاری به دست آورید. (۱/۲۵ نمره)

$$0/42 \times 0/7 = \frac{42}{100} \times \frac{7}{100} = 0/294 \quad (0/75)$$


ب) اختلاف دو عدد $17/17$ و $16/793$ را پرست آورید.

$$17/17 - 16/793 = 0/377 \quad (0/5)$$

۱۱- بردار $+5$ را با ابتدا از -3 رسم کرده و جمع و تفریق متناظر با آن را بنویسید. (۰/۷۵ نمره)



$$-3 + 5 = +2 \quad (0/75)$$



دوره تحصیلی: راهنمایی
کلاس: اول
مدت آزمون: ۱۰۰ دقیقه

سوالات درس ریاضی تاریخ: ۸۹/۳/۳
نام و نام خانوادگی:
نام دبیر: میرزایی

۱۲- حاصل جمع و تفریق زیر را بدست آورید. (۱ نمره)

$$(-10) + (-5) = -((+10) + (+5)) = -15 \quad (0/5) \quad (+11) + (-5) = 11 - 5 = 6 \quad (0/5)$$

۱۳- در یک روز زمستانی هوای تهران ۷ درجه زیر صفر و هوای اهواز ۱۷ درجه بالای صفر بود. هوای اهواز چند درجه گرم تر از تهران بوده است؟ (۰/۷۵ نمره)

$$(+17) + (-7) = 17 + 7 = 24 \quad (0/75)$$

۱۴- الف) اعداد جدول زیر را کامل نمایید. (۲ نمره)

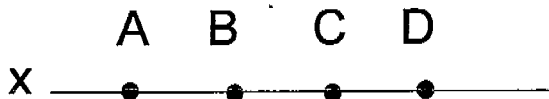
گرد شده	قطع شده	تقریب کمتر از	عدد
۵۰۰	۶۰۰	۱۰۰	۵۷۶
۴۷/۳	۴۷/۴	۰/۱	۴۷/۳۹

هر مورد ۰/۲۵ نمره

ب) جدول زیر میانگین دمای ماه های فصل بهار در شهر شیراز است. نمودار خط شکسته دما را رسم نمایید:


ماه	فروردین	اردیبهشت	خرداد
دما	۲۱	۳۰	۱۵

رسم نمودار ۱ نمره



۱۵- با توجه به شکل: $(AB = BC = CD)$ (۱ نمره)

الف) نام یک پاره خط را بنویسید. AB (۰/۲۵)



دوره تحصیلی : راهنمایی
کلاس : اول
مدت آزمون : ۱۰۰ دقیقه

سوالات درس : تاریخ : ۸۹/۳/۳
نام و نام خانوادگی :

نام دبیر : میرزایی

ب) نام یک خط را بنویسید. x (۰/۲۵)

ج) تساوی های زیر را کامل کنید.

$$AD - CD = \boxed{AC} \quad (۰/۲۵)$$

$$AB + BC + CD = \boxed{AD} \quad (۰/۲۵)$$

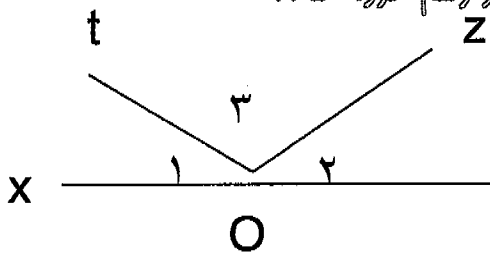
۱۶- کامل کنید (انمره)

الف) زاویه تند از زاویه باز کوچکتر است. ۰/۲۵

ب) مجموع دو زاویه متقابل به راس روی هم ۸۲ درجه می باشد. اندازه هر کدام چند است؟ ۴۱ ۰/۲۵

ج) فاصله ی هر نقطه روی عمود منصف یک پاره خط تا دو سر آن پاره خط با هم مساوی اند. ۰/۲۵

د) از یک نقطه روی خط تنها یک خط می توان عمود رسم کرد. ۰/۲۵



۱۷- در شکل مقابل $\hat{A} + \hat{Z} = 60^\circ$ (۰/۵ نمره)

الف) زاویه \hat{Z} چند درجه است؟ 120° (۰/۲۵)

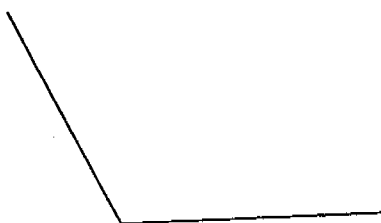
ب) زاویه \hat{Z} را با سه حرف بنویسید. $\hat{Z} = \widehat{toz}$ (۰/۲۵)

۱۸- الف) مثلث ABC را با مشخصات داده شده رسم نمایید. (۱ نمره)

$$\hat{A} = 60^\circ, \hat{B} = 40^\circ, AB = 4 \text{ cm}$$

رسم ضلع ۰/۲۵، رسم دو زاویه در دو سر آن (۰/۲۵-۰/۲۵) نام گذاری راس سوم ۰/۲۵

ب) نیمساز زاویه مقابل را رسم نمایید. (۰/۵ نمره)



رسم گمانها ۰/۲۵، رسم نیم خط زاویه ۰/۲۵

محل مهر

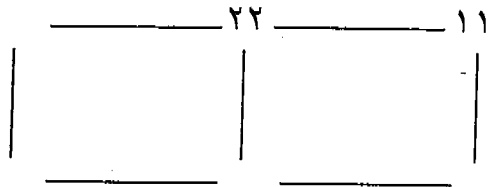
دوره تحصیلی : راهنمایی
کلاس : اول
مدت آزمون : ۱۰۰ دقیقه صفحه ۱

تاریخ : ۸۹/۳/۳ ریاضی
نام و نام خانوادگی :

نام دبیر : میرزایی

۱- با ارقام (۷ و ۵ و ۳ و ۰) کوچکترین عدد چهار رقمی را بنویسید که بر ۵ بخش پذیر باشد. (۵/۰ نمره)

۲- نمودار مقسوم علیه های یک عدد به صورت مقابل است. آن را تکمیل کنید. (۷۵/۰ نمره)



۳- کوچکترین مضرب مشترک (ک.م.م) دو عدد ۵۴ و ۲۴ را بدست آورید. (با عملیات) (۱ نمره)

۴- جمله های درست را با نماد \checkmark و جمله های نادرست را با نماد \times مشخص کنید. (۵/۱ نمره)

- (الف) بزرگترین مقسوم علیه هر عدد ، خود آن عدد است.
(ب) اگر عددی زوج باشد اول نیست.
(ج) صفر از هر عدد صحیح منفی کوچکتر است.
(د) دو میکرون برابر است با ۰/۰۰۲ میلیمتر.
(ه) بزرگترین وتر دایره قطر آن است.
(و) از دو نقطه بی شمار خط راست می گذرد.

$$\frac{54 \times 36}{24 \times 72} =$$

۵- کسر مقابل را ساده کنید. (۵/۰ نمره)

۶- حاصل عبارت های زیر را بدست آورید. جواب ها را ساده کنید. (۱ نمره)

$$\frac{7}{8} + \frac{1}{6} - \frac{5}{12} =$$

$$8 \div \frac{2}{9} =$$

۷- تساوی های زیر را کامل کنید. (۵/۰ نمره)

$$2^5 \div 2^3 = 2^{\square}$$

$$\left(\frac{2}{7}\right)^{\square} = \left(\frac{2}{7}\right)^2 \times \left(\frac{2}{7}\right)^5$$

محل مهر

۸- الف) مقدار x را در تساوی زیر بدست آورید. (۱ نمره)

$$\frac{4}{5} = \frac{24}{x}$$

ب) $\frac{2}{5}$ یعنی چند درصد؟

۱۰%

۸۰%

۴۰%

۲۰%

۹- حاصل عبارت های زیر را بدست آورید. (۱/۵ نمره)

$$2\frac{4}{5} \div \frac{28}{25} =$$

$$\frac{3}{35} \times \frac{7}{6} =$$

۱۰- الف) حاصل ضرب دو عدد زیر را با استفاده از کسر اعشاری به دست آورید. (۱/۲۵ نمره)

$$0.47 \times 0.7 =$$

ب) اختلاف دو عدد $17/17$ و $16/793$ را بدست آورید.

۱۱- بردار $+5$ را با ابتدا از -3 را رسم کرده و جمع و تفریق متناظر با آن را بنویسید. (۰/۷۵ نمره)

۱۲- حاصل جمع و تفریق زیر را بدست آورید. (۱ نمره)

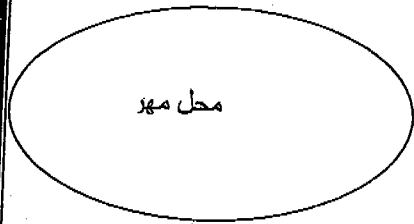
$$(-10) + (-5) =$$

$$(+11) + (-5) =$$

۱۳- در یک روز زمستانی هوای تهران ۷ درجه زیر صفر و هوای اهواز ۱۷ درجه بالای صفر بود. هوای اهواز چند درجه گرم تر از تهران بوده است؟ (۰/۷۵ نمره)

۱۴- الف) اعداد جدول زیر را کامل نمایید. (۲ نمره)

گرد شده	قطع شده	تقریب	عدد
		۱۰۰	۵۷۶
		۰/۱	۴۷/۳۹



محل مهر

سرپرستی مدارس جمهوری اسلامی ایران در امارات عربی متحده
مجتمع آموزشی نمونه و بین الملل توحید پسران- دبي
امتحانات نیمسال دوم سال تحصیلی ۸۹-۸۸

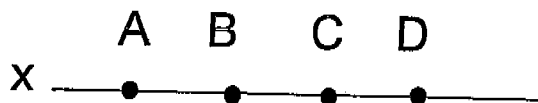
دوره تحصیلی: راهنمایی
کلاس: اول
مدت آزمون: ۱۰۰ دقیقه صفحه ۳

سوالات درس: ریاضی تاریخ: ۸۹/۳/۳
نام و نام خانوادگی:

نام دبیر: میرزایی

ب) جدول زیر میانگین دمای ، ماه های فصل بهار در شهر شیراز است . نمودار خط شکسته دما را رسم نمایید:

ماه	فروردین	اردیبهشت	خرداد
دما	۲۱	۳۰	۱۵



۱۵- با توجه به شکل: $(AB = BC = CD)$ (نمره)

الف) نام یک پاره خط را بنویسید.

ب) نام یک خط را بنویسید.

ج) تساوی های زیر را کامل کنید.

$$AD - CD = \square$$

$$AB + BC + CD = \square$$

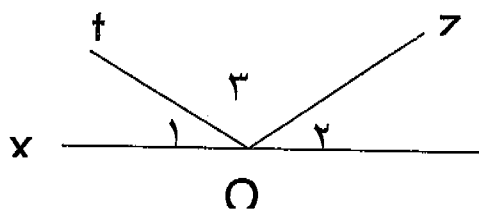
۱۶- کامل کنید (۲۵ / نمره)

الف) زاویه تند از زاویه باز است.

ب) مجموع دو زاویه متقابل به راس روی هم ۸۲ درجه می باشد. اندازه هر کدام چقدر است؟

ج) فاصله ی هر نقطه روی عمود منصف یک پاره خط تا دو سر آن پاره خط مساوی است .

د) از یک نقطه روی خط تنها..... خط بر آن خط می توان عمود رسم کرد.



۱۷- در شکل مقابل $\hat{A} + \hat{B} = 60^\circ$ (۵ / نمره)

الف) زاویه \hat{C} چند درجه است؟

ب) زاویه \hat{C} را با سه حرف بنویسید.

۱۸- الف) مثلث ABC را با مشخصات داده شده رسم نمایید. (۱ نمره)

$$\hat{A} = 60^\circ, \hat{B} = 40^\circ, AB = 4 \text{ cm}$$

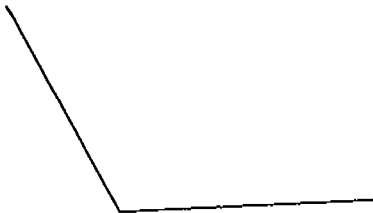
محل مهر

دوره تحصیلی: راهنمایی
کلاس: اول
مدت آزمون: ۱۰۰ دقیقه صفحه ۴


سوالات درس: ریاضی تاریخ: ۸۹/۳/۳
نام و نام خانوادگی:

نام دبیر: میرزایی

ب) نیمساز زاویه مقابل را رسم نمایید. (۵/۰ نمره)



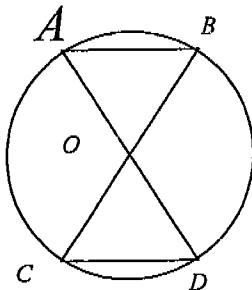
۱۹- عمود منصف پاره خط AB را رسم نمایید. (۵/۰ نمره)



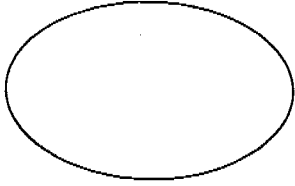
۲۰- در شکل مقابل O مرکز دایره است. (۵/۱ نمره)

الف) دلیل تساوی دو مثلث را بیان نمایید.

ب) تساوی های روبرو را کامل نمایید. $\widehat{B} = \dots, AB = \dots$



گلزار زندگیتان با گلهای طراوت و شادی و تلاش آراسته باد



سرپرستی مدارس جمهوری اسلامی ایران در امارات عربی متحده
مجتمع آموزشی پسرانه نمونه توحید دبئی
مقطع راهنمایی نمونه توحید دبئی

تجان درس: انشا و نگارش | کلاس: اول راهنمایی | تاریخ امتحان: ۸۹/۳/۱۰

ام و نام خانوادگی: | سال تحصیلی: ۸۸/۸۹

ام دبیر: | شماره صندلی: | وقت امتحان: ۸۰ دقیقه

((موفقیت شما آرزوی ماست))

الف) انشاء (۲ نمره)

از دو موضوع زیر یکی را به اختیار بنویسید:

۱- مادر ای مریم بزرگ زمان روشن از تو بهار ایمان است
قلب سرشار از عطوفت تو روشن از آفتاب قرآن است

۲- آرزوی شما در آینده؟

ب) نگارش (۸ نمره)

۱- با هر یک از ترکیب های زیر جمله ای بسازید:

(مصاحبت دوستان ، عطش مطالعه)

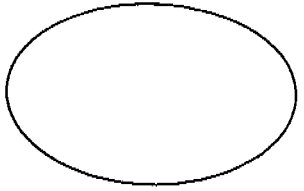
۲- درباره ی این سخن زیبای نهج البلاغه توضیح دهید:

((فرصت ها مثل گذشتن ابرها می گذرند فرصت های خوب و عزیز را دریابید))

۳- نشانه های اختصاری زیر را به صورت کامل همراه با معنی آن ها بنویسید:

(ع ، س ، ره ، ص)

۴- کلاس محل تحصیل تان را در یک بند توصیف کنید.

	سرپرستی مدارس جمهوری اسلامی ایران در امارات عربی متحده مجتمع آموزشی پسرانه نمونه توحید دبلی مقطع راهنمایی نمونه توحید دبلی		
	تاریخ امتحان: ۸۹/۳/۳۰	کلاس: اول راهنمایی	امتحان درس: سوالات املائی
	سال تحصیلی: ۸۸/۸۹	نام و نام خانوادگی:	
	وقت امتحان: ۳۰ دقیقه	شماره صندلی:	نام دبیر:

((موفقیت شما آرزوی ماست))

۱- برای هر یک از واژه های ((جوان)) و ((درس)) یک هم خانواده بنویسید.

۲- شکل درست املائی واژه را با توجه به معنای جمله برای جای خالی انتخاب کنید:

- آیا منظور از خوش بودن در این شعر خنده های بیهوده و است (خوش گزرائی - خوش گذرائی)

- زندگی همین لحظه هاست و از دست دادن فرصت ها جز و اندوه چیزی همراه ندارد (غصه - قصه)

- در همان حال به اسلامی که انسان ها را می سازد عمل کنید (وظایف - وظایف)

- دوست دارد شعر را بر شاگردان ببیند (تأثیر - تعثیر - تأ صیر)

۳- در متن زیر واژه های نادرست املائی را پیدا کنید و شکل صحیح آن ها را بنویسید:

" شهید رجایی معلمی متواضع و صمیمی و در کارش بسیار دقیق و منظم و جدی بود. من به هر غولی که به شما می دهم وفا می کنم - نخست برای زیارت هرم حضرت معصومه از اتومبیل پیاده شدیم.

۴- معنی کدام واژه ((درنگ)) می باشد: (مکص - مکس - مکث)

۵- املائی همه ی گزینه ها به جز گزینه ی با توجه به معنی درست است.

الف) مسرت: شادمانی ب) قندیل: چراغدان ج) سلته: چیرگی د) عجز: ناتوانی

بسمه تعالی	
نام درس: انشا و آیین نگارش	وزارت آموزش و پرورش
پایه تحصیلی: اول	دفتر مدارس خارج از کشور
نام دبیر: حسین	مجتمع آموزشی دخترانه نمونه توحید
تاریخ برگزاری امتحان:	تعداد کل سوالات: ۱۳
مدت زمان پاسخگویی: ۴۵ دقیقه	
نام و نام خانوادگی دانش آموز: نام پدر: نام کلاس:	
ردیف	بارم
	۱
۱- جمله ی گفتاری زیر را به زبان نوشتاری بنویسید :	
	نمی خوام برم دوستانو ببینم .
	۱
۲- با ترکیب های زیر جمله بسازید :	
	- صدای خشن - معروف و مشهور
	۱
۳- کلمات هماهنگ و هم معنا را در جمله های زیر مشخص کنید :	
	- دانش آموزان در کارهای گروهی اندیشه و تفکر می کنند. - بازار مباحثه و مناظره میان دانشمندان گرم بود.
	۱
۴- با استفاده از تخیل خود درباره ی دریای خزر یا خلیج فارس سه سطر بنویسید :	
	۱
۵- عبارت زیر را با زاویه ی دید سوم شخص بنویسید :	
	- من قلب کوچولویی دارم، مادر بزرگم می گوید : قلب خالی مثل یک گلدان خالی زشت است و آدم را اذیت می کند. - مدتی است دارم فکر می کنم این قلب کوچولو را به چه کسی باید بدهم.
	۱
۶- برای ارتباط با دیگران و بیان مقصود از استفاده می کنیم، یکی از راه های پرورش ذهن خلاق است.	
	۱
۷- در بیت زیر کدام آرایه به کار رفته است .	
	چادر من چلچراغی از صفاست چادر من باغی از آینه هاست
	(۱) تخیل (۲) تضاد (۳) آدم نمایی (۴) مترادف <input type="checkbox"/>
	۰.۵
۸- عنوان نامه های رسمی و اداری در کدام گزینه آمده است :	
	(۱) دوست خوبم (۲) مادر مهربان (۳) پدر گرامی (۴) مدیر محترم <input type="checkbox"/>
	۰.۵
۹- نوجوانی چه چیزهایی را به یاد شما می آورد ؟	
	۰.۵

1	۱۰- با واژه ي "مرواريد" يك جمله ي ادبي و يك جمله ي زباني بنويسيد:
0.5	۱۱- مهم ترين و پيچيده ترين ركن زبان است. (۱) زبان گفتار <input type="checkbox"/> (۲) زبان نوشتار <input type="checkbox"/> (۳) گوش دادن <input type="checkbox"/> (۴) سخن گفتن <input type="checkbox"/>
1	۱۲- نشانه هاي اختصاري "ع و س" به جاي و به كار مي رود.
۱۰	۱۳- از سه موضوع زير يكي را انتخاب كنيد و درباره ي آن انشا بنويسيد : ۱- يك داستان خيالي بنويسيد . ۲- خاطره اي از دوران كودكي خود و يا پدر و مادرتان بنويسيد. ۳- يكي از زيبايي هاي طبيعت را توصيف كنيد.
جمع نمره به عدد: به حروف: نام و نام خانوادگي مصحح: امضاء:	

میتمع آموزشی خدیجه گبری (س)

سال تحصیلی ۸۹ - ۸۸

نام درس : نگارش

مقطع تحصیلی : راهنمایی

نام و نام خانوادگی :

پایه تحصیلی : اول

نام دبیر : جمشیدی

نوبت امتحان : خرداد ماه

مدت امتحان : ۵ دقیقه

ردیف	سوال	پارم
۱	درباره خلیج فارس با استفاده از زیبایی های ادبی که تاکنون خوانده اید (تشبیه - تضاد - مترادف و شبکه معنایی) یک بند بنویسید.	۲
۲	با ترکیب های زیر یک جمله بسازید. عطش مطالعه : خیر و صلاح :	۲
۳	عبارت ناتمام زیر را در دو سطر کامل کنید. فرصت های خوب و عزیز می گذرند و	۲
۴	بیت زیر را به نثر روان و امروزی برگردانید. مادر ای آفتاب هستی بخش زیر پایت بهشت جاوید است	۲
	موفق باشید	

نام و نام خانوادگی :

باسمه تعالی

تاریخ : ۸۹/۳/۵

نام پدر :

جای مهر

اداره کل مدارس خارج از کشور

نام دبیر: نکویی

نام درس : انشا و نگارش

سرپرستی مدارس جمهوری اسلامی ایران در امارات عربی متحده

تعداد صفحه: ۲

شعبه ی کلاس : اول راهنمایی

مجتمع آموزشی شارجه (دوره راهنمایی) خرداد ماه (۸۹)

مدت پاسخگویی : ۸۰

رقیم

نمره به عدد :

نمره به حروف :

نام و نام خانوادگی مصحح و امضاء :

الف- پرسش ها (۱۰ نمره)

۱ برای هر یک از واژه های زیر ، یک جمله ی ادبی بسازید. (۲)

ایران :

معلم :

۲ عبارت ناتمام زیر را تا یک بند (حدود ۳ سطر) ادامه دهید . (۱/۵)

اگر من روزی

۳ واژه های (آرش کمان گیر ، مادر ، وطن دوستی ، عشق) را در یک بند ادبی به کار ببرید. (۲)

۴ با استفاده از عنصر (توصیف) مدرسه ی خود را در سه سطر وصف کنید. ؟ (۱/۵)

۵ نوشته ی زیر را با زاویه ی دید (سوم شخص) بازنویسی کنید. (۱ نمره)

« من قلب کوچکی دارم ، خیلی کوچولو ، مادر بزرگم می گوید : قلب آدم نباید خالی بماند. اگر خالی بماند ، مثل یک گلدان خالی ، زشت است و آدمی را اذیت می کند.»

۶ بیت زیر را به نثر ساده ، بازنویسی کنید. (۱)

« آشنایم با زبان سادگی عاشقم من ، عاشق افتادگی »

نام و نام خانوادگی :

باسمه تعالی

جای مهر

تاریخ : 89/3/5

اداره کل مدارس خارج از کشور

نام دبیر : خانم اسمعیل نژاد

سرپرستی مدارس جمهوری اسلامی ایران در امارات عربی متحده
مجتمع آموزشی شارجه (دوره رانمایی دختران) خرداد ماه (89)

نام پدر :

تعداد صفحه : 2 صفحه

شعبه ی کلاس :

مدت پاسخگویی : 75 دقیقه

پایه : اول راهنمایی

نام درس : انشا و نگارش فارسی

نام و نام خانوادگی مصحح و امضاء :

نمره به حروف :

نمره به عدد :

الف: نگارش (10 نمره)

ردیف	سوال	نمره
1	در جاهای خالی کلمات مناسب بنویسید؟ - وقتی در نثر کلمات هماهنگ بیاید به آن می گویند. - یکی از راه های پرورش ذهن خلاق است.	.15
2	برای نوشتن یک نامه به چه نکاتی باید توجه کنیم؟ (4 مورد کافی است)	1
3	با هر یک از واژه های زیر جمله ی ادبی بنویسید ؟ - دانشمند : - آسمان :	1
4	برای واژه های زیر همراه با بدل جمله بسازید؟ الف) قرآن : ب) فردوسی :	1
5	جمله ادبی زیر را به صورت جمله ساده ی زیباتی بنویسید؟ - پیامبر چون نسیم نرم و مهربان و چون گل متبسم و خندان بود.	.15
6	در بیت زیر دو آرایه ی ادبی مشخص کنید؟ من این جا چون نگهبانم تو چون گنج تو را آسودگی باید مرا رنج	.15
7	دو کلمه ی " هم آوا " بنویسید و با آن ها جمله بسازید؟	1





0/5	با شبکه‌ی معنایی زیر یک جمله بنویسید ؟ - گل ، غنچه ، پروانه	8
1/5	جمله ی اول را ویرایش و جمله ی دوم را نشانه گذاری کنید؟ - خبر خوشی را تلفناً به من دادند. (ویرایش) - رئیس آن هیئت جهانی به من گفت امروز در دنیا وضع شما با یک سال پیش از زمین تا آسمان تفاوت کرده است (نشانه گذاری)	9
.15	بیت زیر را به نثر روان بازگردانی کنید؟ " به جان زنده دلان ، سعدیا، که ملک وجود نیرزد آن که دلی را ز خود بیازاری "	10
1	در باره ی یکی از موضوعات زیر با بهره گیری از عنصر تشبیه و تخیل یک بند بنویسید؟ - خلیج فارس - کودک فلسطینی	11
1	پرچم ایران را در یک بند (حدود سه سطر) توصیف کنید؟	12
10	ب : انشا (10نمره) از موضوعات زیر یکی را انتخاب کنید و درباره آن انشا بنویسید (15 تا 12 سطر) - نامه ای به خدا بنویسید و با او درد و دل کنید . - شرح خاطرات شیرین یک روز خود را بنویسید . (با بهره گیری از عناصر زیبایی سخن) - بنی آدم اعضای یکدیگرند که در آفرینش زیک گوهرند	13
20	موفق باشید	جمع

به نام خدا

سرپرستی مدارس جمهوری اسلامی ایران در امارات عربی متحده

مجتمع آموزشی نمونه توحید دختران

نام و نام خانوادگی:	پایه تحصیلی: راهنمایی	مدت امتحان: ۴۰ دقیقه تاریخ امتحان: ۱۳۸۹/۳/۲۴
نام کلاس: اول	نام درس: حرفه و فن	نام دبیر: خانم ترکمنی
نمره به عدد:	نمره به حروف:	امضا دبیر:

بارم	ردیف	سوال
۰/۲۵	۱-	الف - در سوالات زیر گزینه درست را مشخص کنید. کدامیک از موارد زیر محصول فناوری می باشد؟ الف - کوه <input type="checkbox"/> ب - چشمه <input type="checkbox"/> ج - خودکار <input type="checkbox"/> د - جنگل <input type="checkbox"/>
۰/۲۵	۲-	کدامیک از گزینه های زیر شمای فنی جعبه تقسیم را نشان میدهد؟ الف -  <input type="checkbox"/> ب -  <input type="checkbox"/> ج -  <input type="checkbox"/> د -  <input type="checkbox"/>
۰/۲۵	۳-	در غذای مرغ از پو در صدف و استخوان برای تامین چه مواردی استفاده می شود؟ الف - تولید انرژی <input type="checkbox"/> ب - تامین پروتئین <input type="checkbox"/> ج - تامین ویتامین <input type="checkbox"/> د - تامین مواد معدنی <input type="checkbox"/>
۰/۲۵	۴-	ب- جاهای خالی را با کلمات مناسب پر کنید. آچه اطراف ماست و بر ما تاثیر می گذارد و از ما تاثیر می گیرد نامیده می شود.
۰/۲۵	۵-	به رعایت پیش بینی هایی که برای جلوگیری از آسیب دیدن و تخریب ساختمان ها انجام می گیرد گفته می شود.
۰/۲۵	۶-	برای آماده سازی زمین ابتدا آن را می زنند.
۰/۲۵	۷-	افزایش تولیدات نسل آینده را با استفاده از قوانین ژنتیک می گویند.
۰/۲۵	۸-	ج- صحیح و غلط بودن عبارت زیر را مشخص کنید. مزرعه کشاورزی یک سیستم است . صحیح <input type="checkbox"/> غلط <input type="checkbox"/>
۰/۲۵	۹-	الکترون ها در داخل هسته اتم قرار دارند . صحیح <input type="checkbox"/> غلط <input type="checkbox"/>
۰/۲۵	۱۰-	فلزات بلافاصله پس از استخراج از معدن قابل استفاده هستند . صحیح <input type="checkbox"/> غلط <input type="checkbox"/>
۰/۲۵	۱۱-	د- به سوالات زیر پاسخ کوتاه دهید . برای جلوگیری از زنگ زدن ورقه های آهنی از چه فلزی استفاده می کنند؟

۰/۲۵	۱۲- از پختن و آسیاب کردن سنگ آهک ، خاک رس و درصد کمی از مواد دیگر کدامیک از مصالح ساختمانی به دست می آید ؟										
۰/۲۵	۱۳- رنگ پره های آبشش ماهی فاسد چگونه است ؟										
۰/۲۵	۱۴- هر یک از مفاهیم زیر مربوط به کدامیک از فرآورده های چوبی می باشد ؟ از ذرات فشرده شده چوب مخلوط با آب همراه با فشار به دست می آید ؟										
۰/۲۵	۱۵- از بهم چسباندن چند لایه روکش نازک چوبی ساخته می شود ؟										
۰/۱۵	۱۶- س - به سوالات زیر پاسخ کامل بدهید . بهترین راه تشخیص فساد مواد غذایی چیست ؟										
۰/۱۵	۱۷- در جوجه کش مصنوعی ظرفیت ماشینهای کوچک و بزرگ چند عدد تخم مرغ می باشد ؟										
۰/۱۵	۱۸- چه عواملی موجب تغییر و تحول در لباس شده است ؟ (۲ مورد)										
۰/۱۵	۱۹- برای نابودی حشرات و جوندگان موزی از چه روش هایی استفاده می شود ؟ (۲ مورد)										
۰/۷۵	۲۰- چه عواملی در نظم یافتن ساختمان ها در شهر و روستاها موثر هستند ؟										
۰/۷۵	۲۱- جدول زیر را کامل کنید .										
	<table border="1"> <thead> <tr> <th>وظایف</th> <th>عملیات</th> </tr> </thead> <tbody> <tr> <td>از بین بردن علفهای هرز</td> <td></td> </tr> <tr> <td>حذف تعدادی از گیاهان اصلی به منظور ایجاد فاصله ی مناسب بین بوته ها</td> <td></td> </tr> <tr> <td></td> <td>واکاری</td> </tr> </tbody> </table>	وظایف	عملیات	از بین بردن علفهای هرز		حذف تعدادی از گیاهان اصلی به منظور ایجاد فاصله ی مناسب بین بوته ها			واکاری		
وظایف	عملیات										
از بین بردن علفهای هرز											
حذف تعدادی از گیاهان اصلی به منظور ایجاد فاصله ی مناسب بین بوته ها											
	واکاری										
۰/۷۵	۲۲- هر یک از مواد مغذی زیر چه وظیفه ای در بدن دارند . با فلش نشان دهید . (در عبارات سمت چپ یک کلمه اضافه است) .										
	<table border="1"> <thead> <tr> <th>وظایف</th> <th>مواد مغذی</th> </tr> </thead> <tbody> <tr> <td>رشد و ترمیم</td> <td>چربی</td> </tr> <tr> <td>محافظ</td> <td>پروتئین</td> </tr> <tr> <td>انرژی زا</td> <td>ویتامین</td> </tr> <tr> <td>کم کالری</td> <td></td> </tr> </tbody> </table>	وظایف	مواد مغذی	رشد و ترمیم	چربی	محافظ	پروتئین	انرژی زا	ویتامین	کم کالری	
وظایف	مواد مغذی										
رشد و ترمیم	چربی										
محافظ	پروتئین										
انرژی زا	ویتامین										
کم کالری											
	امام رضا (ع) فرمودند : هیچ پارسایی سودمند تر از ترک گناهان و خودداری از آزار مومن نیست . به امید موفقیت										

شماره: نام دبیر:

به نام خداوند بخشنده مهربان

کلاس: ۱ /

نام و نام خانوادگی:

مدرسه راهنمایی اعظمی ابرطی

مدت: ۵۰ دقیقه

تاریخ: ۸۷/۳/۰۰

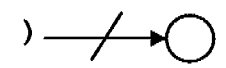
نوبت دوم خرداد ماه

امتحان: حرفه و فن

صفحه: ۱

پایه اول

ردیف « بهترین علوم، آن است که سودمند باشد . (رسول اکرم (ص)) »

- ۱- به مجموعه هایی که اجزای آن ها بطور..... با یکدیگر کار می کنند را سیستم می گویند. ۰/۲۵
- ۲- هر چه اجزاء یک سیستم بیشتر باشد سیستم پیچیده تر است. ص غ ۰/۲۵
- ۳- فناوری را تعریف کنید. ۰/۲۵
- ۴- مولد الکتریکی را تعریف کنید یک مثال بزنید. ۰/۱۵
- ۵- به سیمی که دارای ولتاژ یا فشار الکتریکی است سیم می گویند. ۰/۲۵
- ۶- کدام وسیله زیر از عبور جریان غیر مجاز در مدار جلوگیری می کند؟
الف) کلید ب) پریز ج) سرپیچ د) فیوز ۰/۲۵
- ۷- شمای فنی یا نام وسیله را بنویسید. ۰/۱۵
- ۸- محیط زیست را تعریف کنید.  () سرپیچ () ۰/۲۵
- ۹- بهداشت را تعریف کنید. ۰/۲۵
- ۱۰- مهم ترین عامل آلودگی محیط زیست کنترل جمعیت است. ص غ ۰/۲۵
- ۱۱- بازیافت را تعریف کنید. ۰/۲۵
- ۱۲- کدام مورد چوب های ورقه شده نازکی هستند که رنگ های طبیعی دارند و در کارهای هنری استفاده می شوند؟
الف) فیبر ب) تخته سه لایی ج) روکش چوب د) نئوپان ۰/۲۵
- ۱۳- خصوصیات فلز آلومینیم را بنویسید. (۲مورد) ۰/۱۵
- ۱۴- چرا درو پنجره های آهنی را رنگ می زنند ولی آلومینیمی را خیر؟ ۰/۲۵
- ۱۵- برنز و برنج آلیاژ های کدام فلز است؟
الف) آهن ب) آلومینیم ج) روی د) مس ۰/۲۵
- ۱۶- منظور از نقشه ساختمانی چیست؟ ۰/۲۵

ردیف

« بهترین علوم، آن است که سودمند باشد . (رسول اکرم (ص)) »

بارم

- ۱۷- کدام یک از مصالح زیر وقتی با آب مخلوط شود سفت می شود؟
الف) ماسه ب) آجر ج) گچ د) شن
- ۱۸- بهترین روش پخت سبزی ها را بنویسید.
۰/۲۵
- ۱۹- کدام ماده مغذی زیر وظیفه رشد و ترمیم را در بدن برعهده دارند؟
الف) چربی ها ب) پروتئین ها ج) مواد قندی و نشاسته د) ویتامین ها
- ۲۰- یکی از مهم ترین عوامل استفاده از پوشاک برای انسان از بدن است.
۰/۲۵
- ۲۱- نخ تار را در پارچه تعریف کنید.
۰/۲۵
- ۲۲- ویژگی های یک کشاورز خوب را بنویسید. (دو مورد)
۰/۵
- ۲۳- از کدام دوخت زیر برای تزئین پارچه استفاده می کنند؟
الف) کوک ساده ب) پس دوزی ج) زیگزاگ د) زنجیره ای
- ۲۴- واژه های زیر را تعریف کنید.
الف) تنک کردن:
ب) وجین کردن:
- ۲۵- در کدام سبزی زیر از ریشه استفاده می شود؟
الف) کاهو ب) کلم ج) نخود د) هویج
- ۲۶- جوجه کشی طبیعی را شرح دهید.
۰/۵

موفق باشید

مجمع آموزشی خدیجه کبری (س)

سال تحصیلی ۸۹ - ۸۸

نام درس : حرفه و فن

مقطع تحصیلی : راهنمایی

نام و نام خانوادگی :

پایه تحصیلی : اول

نوبت امتحان : خردادماه

مدت امتحان : ۴۵ دقیقه

بارم	سوال	ردیف
۰/۷۵	<p>گزینه صحیح را مشخص کنید.</p> <p>۱- کدام یک از وسایل زیر از عبور جریان غیر مجاز در مدار جلوگیری می کند.</p> <p>الف) پریز <input type="checkbox"/> ب) لامپ <input type="checkbox"/> ج) فیوز <input type="checkbox"/> د) کلید <input type="checkbox"/></p> <p>۲- کدام یک وظیفه رشد و ترمیم بدن را بر عهده دارد؟</p> <p>الف) مواد قندی <input type="checkbox"/> ب) ویتامین ها <input type="checkbox"/> ج) مواد پروتئینی <input type="checkbox"/> د) نشاسته ای <input type="checkbox"/></p> <p>۳- کدام یک از موارد زیر از برگ و ساقه آن مورد استفاده دیگران قرار می گیرد؟</p> <p>الف) کاهو - گوجه <input type="checkbox"/> ب) کرفس - لوبیا <input type="checkbox"/> ج) نخود - اسفناج <input type="checkbox"/> د) کاهو - اسفناج <input type="checkbox"/></p>	الف-
۰/۷۵	<p>۱- نتوپان از خرده های چوب است که از ذرات چوب با فشار و حرارت ساخته می شود. ص <input type="checkbox"/> غ <input type="checkbox"/></p> <p>۲- نخ هایی که در عرض پارچه قرار دارند تار گفته می شود. ص <input type="checkbox"/> غ <input type="checkbox"/></p> <p>۳- برای آماده سازی زمین ابتدا آن را شخم می زنند. ص <input type="checkbox"/> غ <input type="checkbox"/></p>	ب-
۱	<p>۱- برنج و برنز از آلیاژهای هستند.</p> <p>۲- ماده مغذی صرف بدن می شود.</p> <p>۳- از پودر صدف و استخوان برای تأمین مواد مورد نیاز مرغ استفاده می شود.</p> <p>۴- اولین مرحله از مراحل طراحی و ساخت یک عینک می باشد.</p>	ج-
۰/۵	<p>پاسخ کامل دهید.</p> <p>۱- مولد الکتریکی چیست؟</p>	د
۰/۵	<p>۲- برای جلوگیری از پخش آلودگی زباله های بیمارستانی چه کاری باید انجام داد.</p>	
۰/۵	<p>۳- اصطلاح « تنک کردن » را توضیح دهید؟</p>	
۰/۵	<p>۴- موارد استفاده از سوهان فلز را بنویسید.</p>	

نام و نام خانوادگی :
نام پدر :
نام درس : حرفه و فن
پایه : اول (پسران)
شعبه کلاس :

باسمه تعالی
اداره کل مدارس خارج از کشور
سرپرستی مدارس جمهوری اسلامی ایران در امارات عربی متحده
مجتمع آموزشی شارجه (دوره راهنمایی) خرداد ماه ۸۹

تاریخ : ۸/۳/۸۹
نام دبیر : آقای حسینی
تعداد صفحه : ۲ صفحه
مدت پاسخگویی : ۴۵ دقیقه



نمره به عدد : نمره به حروف : نمره عملی کارگاه : جمع نمره : امضاء دبیر :

ردیف	شرح سوالات	بارم
الف	واحد یک : فناوری و سیستم	۰/۵
۱	سیستم مصنوعی را تعریف کنید . و یک مثال بزنید .	۰/۵
ب	واحد دو : کار با برق	۰/۷۵
۲	با توجه به کلمات داخل پرانتز جاهای خالی را کامل کنید . (دو کلمه در داخل پرانتز اضافی است .) (سیم چین - مولد الکتریکی - پیچ گوشتی - مدار الکتریکی - سیم لخت کن) الف - به مسیر بسته ای که جریان الکتریکی در آن جاری است می گویند . ب - برای باز کردن پیچ از ابزاری به نام استفاده می شود . ج - وسیله ای که سایر انرژی ها را به انرژی الکتریکی تبدیل می کند نام دارد .	۰/۷۵
ج	واحد سه : بهداشت	۰/۷۵
۳	زیستگاه اصلی انسان و دیگر موجودات زنده کجاست ؟	۰/۲۵
۴	به جز استفاده از سموم دو مورد از روش های ساده برای نابودی حشرات و جوندگان موزی را بیان کنید .	۰/۵
د	واحد چهار : کار با چوب	۰/۵
۵	یکی از فراورده های چوب تخته ی خرده چوب (نئوپان) است . توضیح دهید تخته نئوپان چگونه ساخته می شود .	۰/۵
ه	واحد پنج : کار با فلز	۰/۵
۶	روی بدنه سوهان دندان هایی به نام ایجاد شده است .	۰/۲۵
۷	کدام فلز را از نوعی خاک رس به نام بوکسیت به دست می آورند . الف (روی) <input type="checkbox"/> ب (آلومینیوم) <input type="checkbox"/> ج (مس) <input type="checkbox"/> د (آهن) <input type="checkbox"/>	۰/۲۵

۱	واحد شش : ساختمان سازی	و
۰/۵	چه عواملی در نظم یافتن ساختمان ها در شهر و روستا اثر دارد . (دو مورد)	۸
۰/۵	سیمان چگونه به دست می آید .	۹
۱/۷۵	واحد هفت : خوراک - پوشاک	ز
۰/۲۵	بهتر است قوطی کنسرو ماهی را قبل از مصرف به مدت در آب بجوشانید و سپس مصرف کنید .	۱۰
۰/۵	شیر آلوده ممکن است دارای چه نوع میکروب های بیماریزایی باشد . (دو مورد)	۱۱
۰/۵	به کدام یک از مواد مغذی غذا انرژی را می گویند . (دو مورد)	۱۲
۰/۲۵	در پارچه بافی نخ هایی که در جهت عرض پارچه قرار می گیرند نام دارد .	۱۳
۰/۲۵	از کدام نوع دوخت برای کار های تزئینی استفاده می شود . الف) کوک ساده <input type="checkbox"/> ب) زیگزاگ <input type="checkbox"/> ج) زنجیره دوزی <input type="checkbox"/> د) پس دوزی <input type="checkbox"/>	۱۴
۲/۲۵	واحد هشت : کشاورزی - دامپروری	ح
۰/۲۵	آخرین مرحله پرورش گیاه مرحله است .	۱۵
۰/۲۵	کدام نوع سبزی ساقه و برگشان مورد استفاده قرار می گیرد . الف) گوجه فرنگی <input type="checkbox"/> ب) هویج <input type="checkbox"/> ج) سیب زمینی <input type="checkbox"/> د) کرفس <input type="checkbox"/>	۱۶
۰/۷۵	در پرورش گیاهان منظور از مرحله داشت چیست . دو مثال بزنید .	۱۷
۰/۵	در ایران پرورش چه حشراتی رونق فراوان دارد . دو مورد را بیان کنید .	۱۸
۰/۵	در جوجه کشی مصنوعی به چه چیزهایی نیاز است . (دو مورد)	۱۹
۸	جمع بارم	

موفق باشید.

نام و نام خانوادگی :
نام پدر :
نام درس : حرفه و فن
پایه : اول (دختران)
شعبه کلاس :

باسمه تعالی

اداره کل مدارس خارج از کشور
سرپرستی مدارس جمهوری اسلامی ایران در اماکن عربی متحده
مجتمع آموزشی شازجه (دوره راهنمایی) خرداد ماه ۸۹

جای مهر

تاریخ : ۸۹/۳/۲۴
نام دبیر : آقای حسینی
تعداد صفحه : ۲ صفحه
مدت پاسخگویی : ۴۵ دقیقه

نمره به عدد : نمره به حروف : نمره عملی کارگاه : جمع نمره : امضاء دبیر :

ردیف	شرح سوالات	بارم
الف	واحد یک : فناوری و سیستم	۰/۵
۱	سیستم طبیعی را تعریف کنید . یک مثال بزنید .	۰/۵
ب	واحد دو : کار با برق	۰/۷۵
۲	در برق کثی وسیله حفاظتی که از عبور جریان غیر مجاز در مدار جلوگیری می کند نام دارد .	۰/۲۵
۳	منظور از الکترون آزاد چیست ؟	۰/۵
ج	واحد سه : بهداشت	۰/۷۵
۴	ابعاد و جنبه های مختلف سلامت را نام ببرید . (سه مورد)	۰/۷۵
د	واحد چهار : کار با چوب	۰/۵
۵	یکی از فرآورده های چوب فیبر است . توضیح دهید فیبر چگونه ساخته می شود ؟	۰/۵
ه	واحد پنج : کار با فلز	۰/۵
۶	فلز آلومینیوم از نوعی خاک رس به نام به دست می آید .	۰/۲۵
۷	از کدام ابزار هنگام سوراخ کاری یا مته برای نشان زدن محل قرار گرفتن مته استفاده می شود .	۰/۲۵
	الف) سوزن خط کش <input type="checkbox"/> ب) سمبه نشان <input type="checkbox"/> ج) سوهان <input type="checkbox"/> د) لره آهن بر <input type="checkbox"/>	

۱	واحد شش: ساختمان سازی	۹
۰/۵	چه عواملی امنیت انسان و ساختمان هایش را تهدید می کند. (چهار مورد)	۸
۰/۵	آجر چگونه به دست می آید؟	۹
۱/۷۵	واحد هفت: خوراک - پوشاک	ز
۰/۲۵	کنسرو ممکن است حاوی این سم خطرناک باشد. الف) باکتری <input type="checkbox"/> ب) ویروس <input type="checkbox"/> ج) بوتولیسم <input type="checkbox"/> د) انگل <input type="checkbox"/>	۱۰
۰/۵	برای تشخیص فاسد بودن شیر چه باید کرد؟	۱۱
۰/۵	به کدام یک از مواد مغذی غذا محافظ می گویند. (دو مورد)	۱۲
۰/۲۵	در پارچه بافی نخ هایی که در جهت طول پارچه قرار می گیرند نام دارد.	۱۳
۰/۲۵	از کدام نوع نوحه برای ترفین لبه ی دستمال و جانماز استفاده می شود. الف) دندان موشی <input type="checkbox"/> ب) زنجیره دوزی <input type="checkbox"/> ج) زیگزاگ <input type="checkbox"/> د) پس دوزی <input type="checkbox"/>	۱۴
۲/۲۵	واحد هشت: کشاورزی - دامپروری	ح
۰/۵	اهمیت خوردن سبزی در زندگی انسان را بیان کنید.	۱۵
۰/۷۵	با توجه به کلمات داخل پرانتز جاهای خالی را کامل کنید. (یک کلمه در داخل پرانتز اضافی است.) (وجین کردن - تنک کردن - واکاری - سله شکنی) الف - حذف تعدادی گیاه اصلی به منظور تامین فاصله بین بوته ها می گویند. ب - نرم کردن سطح خاک کشت شده پس از آبیاری که سخت شده است نام دارد. ج - کندن و از بین بردن علف های هرز را می گویند.	۱۶
۰/۲۵	پرورش حیوانات اهلی را می گویند.	۱۷
۰/۲۵	افزایش تولیدات نسل آینده را با استفاده از قوانین ژنتیک می گویند.	۱۸
۰/۵	در جوجه کشی طبیعی به چه چیزهایی نیاز است. (دو مورد)	۱۹
۸	جمع بارم	

موفق باشید.

مهر مجتمع

باسمه تعالی

سرپرستی مدارس جمهوری اسلامی ایران در امارات عربی متحده

مجتمع آموزشی نمونه و بین الملل توحید پسران

مقطع راهنمایی مجتمع توحید

امتحان درس: حرفه و فن	پایه: اول	تاریخ امتحان: ۸۹/۳/۸
نام و نام خانوادگی:		سال تحصیلی: ۸۸/۸۹
نام دبیر: علی محمدی - روحانی	شماره صندلی:	وقت امتحان: ۴۰ دقیقه

((موفقیت شما آرزوی ماست))

۰/۵

- ۱- جاهای خالی زیر را با کلمات مناسب پر کنید.
الف- به چوب های بریده شده از تنه درختان گفته می شود.
ب- فلز آلو مینیوم را از نوعی خاک رس به نام بدست می آورند.

۰/۵

- xxx در داخل مربع جلوی گزینه درست علامت x بزنید.
۲- کدام یک از مواد غذایی زیر در گروه غذای محافظ قرار نمی گیرد؟

۰/۵

- الف- ویتامین ها ب- مواد معدنی ج- چربی ها د- آب
۳- حذف تعدادی از گیاهان اصلی به منظور تامین فاصله ی مناسب بین بوته ها را چه می گویند؟

- الف- واکاری ب- سله شکنی ج- تنک کردن د- وجین کردن

۰/۵

- ۴- برای هر یک از سیستم های زیر یک مثال بزنید
خنک کننده (.....)
هشدار دهنده (.....)

۰/۵

- ۵- سیم های برق را معمولا از فلز مس می سازند . چرا؟

۰/۵

- ۶- اگر شما روزی یکی از مسئولین محیط زیست شوید چه راه هایی را برای جلوگیری از نابودی محیط زیست در دستور کار خود قرار خواهید داد؟ ۲ مورد

۰/۵

- ۷- سیمان را چگونه بدست می آورند؟

۰/۵

- ۸- چه عواملی امنیت ساختمان ها را تهدید می کند؟ ۲ مورد

۰/۵

- ۹- فرق شن با ماسه چیست؟

به نام خدا
 سرپرستی مدارس جمهوری اسلامی ایران در امارات عربی متحده
 مجتمع آموزشی نمونه توحید دختران

نام و نام خانوادگی :	پایه تحصیلی: اول راهنمایی	مدت امتحان: 75 دقیقه * تاریخ امتحان: ۱۰ / ۳ / ۸۹
نام کلاس :	نام درس : دینی	نام دبیر: ستوده
نمره به عدد :	نمره به حروف :	امضا دبیر:

ردیف	1	با توجه به آیه ی شریفه پاسخ دهید :
بازم	1	<div style="border: 1px solid black; padding: 5px; text-align: center;"> <p>و فی الارض آيات للموقنین . و فی انفسکم افلا تبصرون</p> </div> <p>در چه چیز هایی نشانه هایی بر وجود خداست؟ (ترجمه ی کامل آیه)</p>

ردیف	2	با کلمات داده شده ، جاهای خالی را کامل کنید .
بازم	5	<div style="border: 1px solid black; padding: 5px; text-align: center;"> <p>سن بلوغ - تقلید - نیت - وحدت کلمه - پرهیز کار - ایمان به خدا - پیروی از رهبری - غصبی - مرجع تقلید - نماز فرادی</p> </div> <p>الف) امام رضا می فرماید : یک رکعت نماز جماعت ثواب هزار رکعت را دارد.</p> <p>ب) هنگامیکه انسان به می رسد ، مکلف نامیده می شود .</p> <p>ت) در اصول دین جایز نیست .</p> <p>پ) به مجتهدی که مردم از آن تقلید می کنند ، گفته می شود .</p> <p>ث) تمام غسل ها چه مستحب و چه واجب فقط در با هم تفاوت دارند .</p> <p>ج) تیمم بر چیزهای باطل است .</p> <p>د) جامعه ی اسلامی بر سه رکن و استوار است .</p> <p>ذ) امام جماعت ، باید نماز را درست بخواند و باشد و از گناه دوری کند و عادل باشد .</p>

نام و نام خانوادگی :	پایه تحصیلی: اول راهنمایی	مدت امتحان: 75 دقیقه * تاریخ امتحان: ۱۰ / ۳ / ۱۹
نام کلاس :	نام درس : دینی	نام دبیر: ستوده
نمره به عدد :	نمره به حروف :	امضا دبیر:

ریف
3

در سوالات زیر ، گزینه ی صحیح را انتخاب کنید

1. مهم ترین تصمیم حضرت ابراهیم چه بود ؟

- الف) دعوت مومنین مشتاق بسوی خدا
- ب) ایجاد پایگاه مرکزی توحید
- ج) بازسازی خانه ی کعبه
- د) رهایی همه ی انسان ها از ظلم و ستم

2. پیامبر عامل سیه روزی و بد بختی مردم را در چه می دانست ؟

- الف) نداشتن رهبر و شرک
- ب) فقر و تنگدستی
- ج) شرک و بت پرستی
- د) جهل و نادانی

3. غیبت و بد گویی موجب :

- الف) همبستگی بین مسلمانان
- ب) جدایی مسلمانان می شود.
- ج) اختلاف گروه های اسلامی
- د) فقر و تنگدستی بین مسلمانان می شود.

4. چرا همه ی افراد قوم سبا مورد خشم خدا قرار گرفتند ؟

- الف) زیرا همه بت پرست بودند.
- ب) زیرا به مخالفت با مومنان و خدا پرستان پرداختند .
- ج) زیرا خدا را فراموش کرده بودند و نعمت های او را کفران نمودند .
- د) زیرا عده ای خدا را فراموش کردند و عده ای هم امر به معروف و نهی از منکر نمی کردند .

2

به نام خدا
 سرپرستی مدارس جمهوری اسلامی ایران در امارات عربی متحده
 مجتمع آموزشی نمونه توحید دختران

نام و نام خانوادگی :	پایه تحصیلی: اول راهنمایی	مدت امتحان: 75 دقیقه * تاریخ امتحان: ۱۰ / ۳ / ۸۱
نام کلاس :	نام درس : دینی	نام دبیر: ستوده
نمره به عدد :	نمره به حروف :	امضا دبیر:

ردیف	سوال	پاسخ
	<p>5. توشه ی سفر آخرت چیست ؟</p> <p>الف) ایمان <input type="radio"/></p> <p>ب) تقوا <input type="radio"/></p> <p>ج) عمل صالح <input type="radio"/></p> <p>د) همه ی موارد <input type="radio"/></p>	
	<p>6. دو اصل اساسی که پیامبر در کنار کوه صفا بیان فرمودند ، چه بود ؟</p> <p>الف) 1- زندگی دوباره ی انسان و قیامت و کفر و پاداش آخرت 2- توحید و یگانگی خدا در عبادت و لا اله الا الله <input type="radio"/></p> <p>ب) 1- لا اله الا الله 2- انتقاد آشکار از بت ها <input type="radio"/></p> <p>ج) 1- عبادت و پرستش خدا 2- انتقاد آشکار از بت ها <input type="radio"/></p> <p>د) 1- توحید و پرستش خدا 2- نفی هر گونه سازش کاری <input type="radio"/></p>	
2	<p>7. پیامبران اولوالعزم چند نفر هستند ، نام ببرید .</p> <p>الف) 124 هزار نفر - نوح - ابراهیم - موسی - آدم - حضرت محمد <input type="radio"/></p> <p>ب) 5 نفر - نوح - ابراهیم - موسی - عیسی - حضرت محمد <input type="radio"/></p> <p>ج) 104 نفر - نوح - ابراهیم - موسی - عیسی - حضرت محمد <input type="radio"/></p> <p>د) 5 نفر - آدم - نوح - عیسی - موسی - حضرت محمد <input type="radio"/></p>	
	<p>8. بر اساس سخن پیامبر ، عبادت هفتاد جزء دارد و بهترین آن ؟</p> <p>.....</p> <p>الف) نماز است ، نمازی که با توجه خوانده شود . <input type="radio"/></p> <p>ب) جهاد است ، جهاد در راه خدا <input type="radio"/></p> <p>ج) کار است ، کاری که با آن روزی حلال طلب شود . <input type="radio"/></p> <p>د) سوال کردن است ، چیزی را که نمی دانیم از از دانایی بپرسیم . <input type="radio"/></p>	

به نام خدا
 سرپرستی مدارس جمهوری اسلامی ایران در امارات عربی متحده
 مجتمع آموزشی نمونه توحید دختران

نام و نام خانوادگی :		پایه تحصیلی: اول راهنمایی	مدت امتحان: 75 دقیقه * تاریخ امتحان: ۳۰/۱/۸۷
نام کلاس :		نام درس : دینی	نام دبیر: ستوده
نمره به عدد :		نمره به حروف :	امضا دبیر:
بدم	رف	جاهای خالی را با کلمات مناسب کامل کنید .	
3	4	<p>الف) پیامبر فرمودند : من همانند شهری از دانش هستم و درب آن است .</p> <p>ب) امام صادق فرمودند : کسی که برای کسب روزی خانواده اش می کوشد مانند کسی است که</p> <p>ج) پیامبر (ص) در راه باز گشت از حج وداع در مکانی به نام توقف کردند .</p> <p>د) خداوند کسی را که به برادر مسلمانش خیانت کند و به او تهمت بزند از دور می کند .</p> <p>ذ) کتابی که سخنان حضرت علی (ع) در آن گرد آوری شده ، نام دارد .</p> <p>ر) پیامبران اولوالعزم دارای بودند .</p>	
1	5	" همه در برابر قانون مساوی هستند " یعنی چه ؟	
1	6	در فرهنگ اسلامی سوال کردن یعنی چه ؟ (2 معنی بیان شود.)	
1	7	" این جهان مزرعه ی آخرت است " یعنی چه ؟	
1	8	ترجمه ی حدیث ثقلین را بنویسید .	
1	9	جهاد حضرت علی چگونه بود ؟	
1	10	شهادت یعنی چه؟	
1	11	وظیفه ی ما در برابر پروردگارمان چیست؟	
		فرزندان عزیز ، در پناه حق موفق باشید. ستوده	

نام و نام خانوادگی:

سرپرستی مدارس جمهوری اسلامی ایران - ادارات

مجتمع آموزشی امام خمینی (ره) ابوظبی

تاریخ: ۱۳۸۹/۳/۱۰

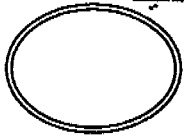
امتحان درس: دینی

پایه و رشته تحصیلی: اول راهنمایی

وقت: ۷۰ دقیقه

نام دبیر: علی ایزدی

شماره صندلی:



بارم	سوالات	ردیف
۲	ترجمه ی آیه ی ۱۵ سوره ی سبأ را بنویسید . لَقَدْ كَانَ لِسَبَإٍ فِي مَسْكِنِهِمْ آيَةٌ جَنَّتَانِ عَنْ يَمِينٍ وَ شِمَالٍ كُلُوا مِن رِّزْقِ رَبِّكُمْ وَ اشْكُرُوا لَهُ بَلَدَهُ وَ رَبُّ غَفُورٌ .	۱
۰/۵	تعداد پیامبران اولوالعزم چند نفر است ؟ الف (۴ نفر) <input type="checkbox"/> ب (۱۲ نفر) <input type="checkbox"/> ج (۶ نفر) <input type="checkbox"/> د (۵ نفر) <input type="checkbox"/>	۲
۰/۵	این سخن از کیست ؟ « یک رکعت نماز جماعت ثواب هزار رکعت نماز فرادی را دارد . » الف) پیامبر اکرم (ص) <input type="checkbox"/> ب) امام رضا (ع) <input type="checkbox"/> د) حضرت علی (ع) <input type="checkbox"/> د) امام باقر (ع) <input type="checkbox"/>	۳
۰/۵	تیمم بر چیز های نجس باطل است اما بر چیز های غصبی اشکالی ندارد . صحيح <input type="checkbox"/> غلط <input type="checkbox"/>	۴
۰/۵	سلول های دستگاه گوارشی برای همه ی سلول های بدن غذا درست می کنند . صحيح <input type="checkbox"/> غلط <input type="checkbox"/>	۵
۰/۵	آب غسل باید پاکیزه و پاک و باشد .	۶
۰/۵	اسرار آمیز ترین سفری که در پیش داریم سفر است .	۷

۰/۵	مهم ترین تصمیم حضرت ابراهیم چه بود؟	۸
۰/۵	پیامبر خدا چه چیزی را عامل اصلی سیه روزی و بد بختی مردم می دانست؟	۹
۱	پیامبر (ص) در باره ی کار کردن و به دست آوردن روزی حلال چه فرمود؟	۱۰
۱	چرا بهتر این بود که پیامبر دعوت آشکار خود را از خویشاوندانش آغاز کند؟	۱۱
۱/۵	سه رکن اساسی که جامعه ی اسلامی بر آن استوار است کدامند؟	۱۲
۱/۵	چرا همه ی افراد قوم سبا مورد خشم خدا قرار گرفتند؟	۱۳
۱/۵	توشه ی سفر آخرت چیست؟	۱۴
۱/۵	نماز گزار در چه مواردی به جای وضو تیمم می کند؟	۱۵
۲	پیامبر اکرم در مورد غسل جمعه به حضرت علی (ع) چه فرمود؟	۱۶
۲	سفارش پیامبر (ص) را در باره ی برخی از وظایف مسلمانان نسبت به یکدیگر بنویسید.	۱۷
۲	حضرت رسول (ص) در باره ی دانش حضرت علی (ع) چه فرموده است؟	۱۸

نام و نام خانوادگی:
پایه و رشته تحصیلی: اول راهنمایی

باسمه تعالی
سرپرستی مدارس جمهوری اسلامی ایران در امارات
مجتمع آموزشی امام خمینی (ره) ابوظبی

تاریخ امتحان: ۱۳۸۹/۶/
امتحان درس: دینی
وقت: ۶۰ دقیقه

ردیف	سوالات	بارم
۱	ترجمه ی آیه ی ۱۲۷ سوره بقره را بنویسید . « وَ إِذْ يَرْفَعُ إِبْرَاهِيمُ الْقَوَاعِدَ مِنَ الْبَيْتِ وَ إِسْمَاعِيلُ رَبَّنَا تَقَبَّلْ مِنَّا إِنَّكَ أَنْتَ السَّمِيعُ الْعَلِيمُ »	۲
۲	در حدیثی از پیامبر اسلام تعداد پیامبران ذکر شده است . الف) ۱۲۴ نفر <input type="checkbox"/> ب) ۱۴۲۰۰۰ نفر <input type="checkbox"/> ج) ۱۱۴ نفر <input type="checkbox"/> د) ۱۲۴۰۰۰ نفر <input type="checkbox"/>	۰/۵
۳	این سخن از کیست ؟ «من از کسی که نماز واجبش را نخواند بیزارم» الف) حضرت علی (ع) <input type="checkbox"/> ب) پیامبر اکرم (ص) <input type="checkbox"/> ج) امام رضا (ع) <input type="checkbox"/> د) امام باقر (ع) <input type="checkbox"/>	۰/۵
۴	در غسل کردن باید بدن از بالا به پایین شسته شود . صحيح <input type="checkbox"/> غلط <input type="checkbox"/>	۰/۵
۵	سلول های ماهیچه ای عامل حرکت اندام های بدن هستند . صحيح <input type="checkbox"/> غلط <input type="checkbox"/>	۰/۵
۶	تیمم بر چیزهای غصبی یا نجس است .	۰/۵
۷	نخستین پیامبر خدا است .	۰/۵
۸	نام کتابی که قسمتی از سخنان ارزشمند حضرت علی(ع) در آن جمع آوری شده است چیست؟	۰/۵
۹	اسرار آمیز ترین سفری که در پیش داریم ، کدام سفر است ؟	۰/۵
۱۰	نوجوان پسر و دختر در چه سنی شایسته ی تکلیف می شوند ؟	۱

۱	امام جماعت باید چه خصوصیتی داشته باشد؟	۱۱
۱/۵	امام صادق (ع) در مورد غسل چه فرمودند؟	۱۲
۱/۵	«قرآن و عترت هرگز از یکدیگر جدا نمیشوند» یعنی چه؟	۱۳
۲	پیامبر به مردی که برای سوال کردن به حضور ایشان آمده بود چه فرمود؟	۱۴
۲	آیین مقدس اسلام در مورد معاشرت مسلمانان با یکدیگر چه رهنمودهایی می دهد؟	۱۵
۲	امام صادق (ع) در باره ی خوش رفتاری با پدر و مادر و محکم کردن پیوند خویشی با خویشاوندان چه فرمودند؟	۱۶
۱	چرا بت پرستان بعد از آشکار شدن دعوت همگانی هم به مقابله با پیامبر اقدام نکردند؟	۱۷
۱	چرا بهتر این بود که پیامبر(ص) دعوت آشکار خویش را از خویشاوندانش شروع کند؟	۱۸
۱	شهیدان انقلاب اسلامی چه درس هایی به ما دادند؟	۱۹
موفق باشید		

باسمه تعالی
 مجتمع آموزشی خدیجه کبری (س)
 سال تحصیلی ۸۹ - ۸۸
 نام درس : دینی
 مقطع تحصیلی : راهنمایی

نام و نام خانوادگی :
 پایه تحصیلی : اول

نوبت امتحان : خرداد
 مدت امتحان : ۶۰ دقیقه
 تاریخ امتحان : ۱۰، ۳، ۸۹

ردیف	سوال	بارم
۱	حدیث زیر را ترجمه کنید. أنا المدینه العلم و علی بابها فمن أراد العلم فلیاتیه من بابہ. رسول اکرم (ص)	۱
۲	سوالات کامل کردنی الف) پیامبر در اولین دعوت آشکار خود را به اسلام دعوت کرد. ب) اسلام دین و است.	۱/۵
۳	سوالات صحیح و غلط الف) پیامبر در هنگام بازگشت از حج الوداع در کنار کوه احد توقف کرد. <input type="checkbox"/> ص <input type="checkbox"/> غ ب) نام کتابی که سخنان ارزشمند حضرت علی (ع) در آن گردآوری شده است نهج البلاغه نام دارد. <input type="checkbox"/> ص <input type="checkbox"/> غ	۱
۴	سوالات چهار گزینه ای کدام یک از پیامبر زیر اوالعزم هستند؟ الف) حضرت یونس ب) حضرت یعقوب ج) حضرت موسی د) حضرت یوسف بهترین عبادت از نظر پیامبر چه چیزی است؟ الف) نماز خواندن ب) کار کردن ج) دعا کردن د) مهربانی کردن	۱
۵	جواب کوتاه پاسخ همکاری و هماهنگی میان پدیده ها نشان و گواه چیست؟	۰/۵
۶	پیامبران چه چیزهایی را به مردم می آموزند؟	۱
۷	هدف از زیارت خانه کعبه چیست؟ دو مورد	۱
۸	پیامبر در سخنان خود با مردم در کنار کوه صفا به دو اصل اساسی اسلام اشاره کرد این دو اصل اساسی کدامند؟	۱
۹	مقام شهید را در این جهان و جهان آخرت بیان کنید؟	۱

باسمه تعالی
مجتمع آموزشی خدیجه کبری (س)
سال تحصیلی ۸۹ - ۸۸
نام درس : دینی
مقطع تحصیلی : راهنمایی

نوبت امتحان : خرداد
مدت امتحان : ۶۰ دقیقه

نام و نام خانوادگی :
پایه تحصیلی : اول

۱	آیین مقدس اسلام در مورد معاشرت مسلمانان با یکدیگر چه رهنمودهایی می دهد؟	۱۰
۱	سبحان ربی العظیم و بحمدہ یعنی چه؟ و در کجای نماز خوانده می شود؟	۱۱
۱	امام صادق چه کسانی را همانند مجاهدان در راه خدا می داند؟	۱۲
۰/۵	وقت نماز ظهر و عصر چه هنگام است؟	۱۳
۰/۵	دوامت گران قدر پیامبر اسلام که از یکدیگر جدا نمی شوند را نام ببرید؟	۱۴
سوالات تشریحی:		
۲	حضرت علی در میدان جهاد چگونه بود؟ توضیح دهید؟	۱۵
۲	امام جماعت چه خصوصیتی باید داشته باشد؟ (چهار مورد)	۱۶
۱/۵	سه رکن اساسی که جامعه اسلامی بر آن ها استوار است. کدامند؟	۱۷
۱/۵	اجرای صحیح و عادلانه قانون در اجتماع چه آثار دارد؟ (سه مورد)	۱۸
موفق باشید		

جای مهر

باسمه تعالی

اداره کل مدارس خارج از کشور

سرپرستی مدارس جمهوری اسلامی ایران در امارات عربی متحده

مجتمع آموزشی شارجه (خرداد ۸۹ پسران)

نام دبیر: درزی

تعداد صفحه: ۱

مدت پاسخگویی: 75 دقیقه

شماره ی کلاس:

پایه: اول راهنمایی

نام درس: تعلیمات دینی

ردیف	سؤالات	نم
۱	از مقایسه بدن با یک ساختمان چگونه درس خدا شناسی میگیریم؟ توضیح دهید.	۱
۲	همکاری و هماهنگی موجود میان پدیده ها نشان از چیست؟ توضیح دهید.	۱
۳	مقام شهیدان را در این جهان و جهان آخرت بیان کنید.	۱
۴	پیامبران چه چیزهایی را به مردم می آموزند؟	۱
۵	اخلاق، رفتار، عبادت و کار قوم سبا را تشریح کنید.	۱
۶	هنگامی که کار ساختمان کعبه به پایان رسید حضرت ابراهیم چه دعایی کرد؟	۱
۷	پیامبران اولوالعزم چه کسانی بودند؟ ویژگی های آنان چیست؟	۱
۸	دو اصل اساسی اسلام که پیامبر در سخنانش آن را برای مردم بیان کرد چه بود؟	۲
۹	در باره رفتار با پدر و مادر آیه ۲۳ اسری چه میفرماید؟	۲
۱۰	از نظر پیامبر اکرم (ص) هر مسلمان نسبت به مسلمان دیگر چه وظایفی دارد؟	۲
۱۱	در فرهنگ اسلامی سؤال کردن چند معنی دارد؟	۲
۱۲	متن حدیث ثقلین را همراه با ترجمه بنویسید.	۲
۱۳	ویژگیهای مرجع تقلید را بنویسید.	۱
۱۴	چگونگی غسل کردن را توضیح دهید.	۱
۱۵	ویژگیهای امام جماعت را بنویسید.	۱

موفق باشید

نام و نام خانوادگی :

باسمه تعالی

جای مهر

تاریخ : ۸۹/۳/

اداره کل مدارس خارج از کشور

نام دبیر : خانم محمدی

سرپرستی مدارس جمهوری اسلامی ایران در امارات عربی متحده

نام پدر :

مجتمع آموزشی شارجه (دوره راهنمایی دختران) خردادماه ۸۹

شعبه ی کلاس :

تعداد صفحه : ۲

پایه : اول

نام درس : تعلیمات دینی

مدت پاسخگویی : ۷۰ دقیقه

نام و نام خانوادگی مصحح و امضاء :

نمره به حروف :

نمره به عدد :

ردیف	سؤالات	نمره
	پاسخ صحیح را با علامت x مشخص کنید.	
۱	کدامیک از پیامبران زیر پایگاه مرکزی توحید را ایجاد کرد؟ (۱) حضرت محمد(ص) <input type="checkbox"/> (۲) حضرت ابراهیم (ع) <input type="checkbox"/> (۳) حضرت عیسی(ع) <input type="checkbox"/> (۴) حضرت موسی(ع) <input type="checkbox"/>	۰/۵
۲	حدیث «عبادت هفتاد جزء دارد و بهترین آن کار است» از کیست؟ (۱) امام صادق(ع) <input type="checkbox"/> (۲) حضرت محمد(ص) <input type="checkbox"/> (۳) امام علی(ع) <input type="checkbox"/> (۴) امام باقر(ع) <input type="checkbox"/>	۰/۵
۳	در کدامیک از جنگ های پیامبر با کفار، حضرت علی (ع) عمرو بن عبدود را به هلاکت رساند؟ (۱) احد <input type="checkbox"/> (۲) خیبر <input type="checkbox"/> (۳) احزاب <input type="checkbox"/> (۴) نهروان <input type="checkbox"/>	۰/۵
۴	سخنان ارزشمند حضرت علی(ع) در کتاب نهج الفصاحه گردآوری شده است. صحیح <input type="checkbox"/> غلط <input type="checkbox"/>	۰/۵
۵	حدیثی که پیامبر در آن درباره دو امر گران بها به مردم توصیه کرده است به حدیث ثقلین معروف است. صحیح <input type="checkbox"/> غلط <input type="checkbox"/>	۰/۵
	در جای خالی کلمات مناسب بگذارید.	
۶	پیچیده ترین و دشوارترین سفر، است.	۰/۵
۷	کلید درهای بسته علم است.	۰/۵
۸	ایمان به خدا و و سه رکن اساسی هستند که جامعه اسلامی بر آنها استوار است.	۱
	به سوالات زیر پاسخ دهید.	
۹	وظیفه ی ما در برابر پروردگارمان چیست؟	۱
۱۰	شهادت یعنی چه؟	۱
۱۱	پیامبر درباره دانش حضرت علی (ع) چه فرموده است؟	۱
۱۲	ویژگی های مهم پیامبران را بیان کنید؟	۲

۱	دواصل اساسی که پیامبر در نخستین دعوت عمومی خود درباره آن با مردم صحبت کرد کدامند؟ نام ببرید.	۱۳
۱	اجرای صحیح و عادلانه قانون در اجتماع چه آثاری دارد؟	۱۴
۱	امام صادق (ع) چه کسانی را همانند مجاهدان راه خدای دانست؟	۱۵
۱/۵	اخلاق و رفتار حضرت علی (ع) چگونه بود؟	۱۶
۱	امام جماعت باید چه خصوصیتی داشته باشد؟	۱۷
۱	تقلید یعنی چه؟	۱۸
۱	نماز گزار در چه مواردی به جای وضو تیمم می کند. (ذکر دو مورد)	۱۹
۱	پیامبر اکرم در مورد غسل جمعه به حضرت علی (ع) چه فرمود؟	۲۰
۲	پیامبر (ص) درباره وظایف هر فرد مسلمان نسبت به مسلمان دیگر چه فرمودند. (ذکر ۴ مورد)	۲۱
۲۰	جمع بارم	«موفق باشی»

مهر مجتمع

باسمه تعالی

سرپرستی مدارس جمهوری اسلامی ایران در امارات عربی متحده
مجتمع آموزشی نمونه و بین الملل توحید پسران
مقطع راهنمایی مجتمع توحید

تاریخ امتحان: ۸۹/۳/۰۰

پایه: اول

امتحان درس: دینی

سال تحصیلی: ۸۸/۸۹

نام و نام خانوادگی:

وقت امتحان: ۷۰ دقیقه

شماره صندلی:

نام دبیر: علی محمدی - نعمت زاده

۱/۵

۱- آیه زیر را ترجمه کنید.

«لم یلد و لم یولد و لم یکن له کفوا احد»

۰/۵

۲- جاهای خالی را با کلمات مناسب پر کنید.

۰/۵

الف- نام کتابی که قسمتی از سخنان ارزشمند حضرت علی(ع) در آن گردآوری شده است نام دارد.
ب- یکی از نیکوترین و پرثوابترین غسلها، غسل است که در اسلام بر انجام آن تاکید بسیار شده است.

۰/۵

xxxx در داخل مربع جلوی پاسخ درست علامت x بزنید.

۳- این سخن از کدام معصوم است: «مرگ برای مومن نیکو کار به منزله ی خارج کردن لباس های کثیف و پوشیدن لباس های زیبا است.»

الف- امام سجاد (ع) ب- امام باقر (ع) ج- امام صادق (ع) د- امام حسین (ع)

۰/۵

۴- مهم ترین تصمیم حضرت ابراهیم چه بود؟

الف- ایجاد پایگاه مرکزی توحید ب- مبارزه با ستمگران ج- دعوت به ایمان به آخرت د- نابود کردن بت ها

۰/۵

۵- به عقیده ی پیامبر (ص) علت بدبختی و سیه روزی مردم چیست؟

۰/۵

۶- «این جهان مزرعه ی آخرت است» یعنی چه؟

۰/۵

۷- ارتباط و همکاری و هماهنگی میان پدیده ها نشان دهنده چیست؟

۰/۵

۸- چرا بت پرستان بعد از آشکار شدن دعوت همگانی به مقابله با پیامبر اقدام نکردند؟

۰/۷۵

۹- وظیفه ما در برابر پروردگاران چیست؟

۱۰- توشه ی سفر آخرت چیست؟

۰/۷۵

۱۱- در فرهنگ اسلامی سوال دو معنا دارد آن دو را بنویسید.

۱/۵

۱۲- حضرت رسول اکرم (ص) در باره ی دانش امام علی (ع) چه فرموده است؟

۱

۱۳- قرآن و عترت از یکدیگر جدایی ناپذیرند یعنی چه؟

۲

۱۴- امام صادق (ع) چه کسانی را همانند مجاهدان در راه خدا می دانند؟

۱

۱۵- همه در برابر قانون مساوی اند یعنی چه ؟

۱

۱۶- هدف امام علی(ع) از کشتن ستمگران چه بود؟ ۳ مورد

۱

۱۷- از چه مجتهدی می توان تقلید کرد؟ ۴ مورد

۱

۱۸- نماز گزار در چه مواردی به جای وضو تیمم می کند؟ ۲ مورد

۱

۱۹- سه رکن اساسی را که جامعه اسلامی بر آن ها استوار است بیان کنید.

۱/۵

۲۰- بنا به سفارش پیامبر (ص) هر فرد مسلمان نسبت به مسلمان دیگر چه وظایفی دارد؟ ۴ مورد را ذکر کنید.

۲

نام و نام خانوادگی مصحح :

امضا

نمره با عدد :

نمره با حروف :

سال تحصیلی: ۸۸-۸۹
تاریخ امتحان: ۲۰/۳/۸۹
شماره صفحه:




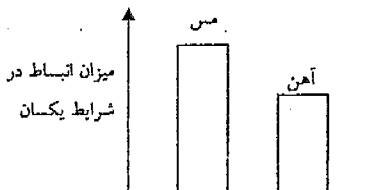
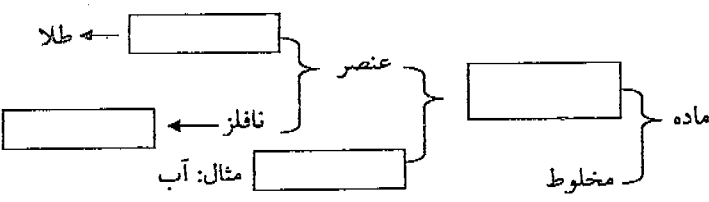
راهنمای تصحیح درس: ریس
پایه: اول
دوره:
رشته:

نمون برگ شماره ۲

۱- لطفاً پاسخ سوالات بطور کامل قید گردد (با ذکر ریز بارم) ۲- از دادن آدرس بعنوان مثال (مراجعه به متن ص ۲۰ و یا... خودداری شود)

بارم	راهنمای تصحیح	دیف
	<p>۱- او فرزندی نزاره و زاده هم نشده است و هیچ کس همانند او نیست ۱.۵</p> <p>۲- الف) پنج البلاغه ۱.۵ ب- همه ۱.۵</p> <p>۳- الف- نام بشار ۱.۵ ۴- ایجاد پایگاه مرکزی توحید ۱.۵</p> <p>۵- شرکت بیت پرستی ۱.۵</p> <p>۶- مانیته‌ی تلاش خود را به طور کامل در جهان آخرت برداشتی می‌کنیم ۱.۵</p> <p>۷- وجود خداوند دانا و توانا ۱.۵</p> <p>۸- به بیان ضرورت خداپرستی می‌پردازت و کم‌تر از بت‌ها انتقاد می‌کردی ۱.۵</p> <p>۹- به ادا ایمان آوریم - فریادهاش را بشناسیم - از آن‌ها پیروی کنیم ۱.۷۵</p> <p>۱۰- ایمان - تقوی - عمل صالح ۱.۷۵</p> <p>۱۱- پرسیدن (کسی چیزی را نمی‌داند از فرد دانا می‌پرسد) - نگ‌خواستن و از دیگران چیزی را در امکان طلب کردن ۱.۵</p>	
	<p>۱۲- من شهر علم و علم در آن است (انا مدینه العلم و علم باب‌ها) ۱</p> <p>۱۳- بهمان‌ک برای سعادت دنیا و آخرت به این دنیا نیاز دارند به تر آن نیاز دارند تا بر نامه و دستورهای زندگی خود را از آن دریابند و عبرت نیاز دارند تا احکام و معارف قرآن را بیاموزند</p> <p>۱۴- کسی که برای مدیت آوردن روزی خانواده اش می‌کوشد ۱</p> <p>۱۵- همه باید به قانون احترام بگذارند و برای حل مشکلات خویش به آن نگاه ببرند</p> <p>۱۶- قصاص مجربان - برقراری امنیت - کسب رضای خدا</p> <p>۱۷- شعیب - عاقل - بالغ - عادل - زنده - اعلم ۱</p> <p>۱۸- آب‌یکر و مباح در دسترس نباشد - و غیرت نفس برای آن فرود آید - وقت نماز نیست ۱</p> <p>۱۹- ایمان به خدا - پیروی از رهبری - وحدت نظر ۱.۵</p> <p>۲۰- هنگام ملاقات سلام کنند - اگر بیمار شد به عیادتش برود</p> <p>اگر وفات کرد جنازه اش را شمع کند - اگر در جهانی دولت کند بهر سرود</p>	

سال تحصیلی: ۱۳۸۸-۸۹	باسمه تعالی	نمون برگ شماره ۱	
تاریخ امتحان: ۸۹/۳/۲۵		سؤال درس: علوم تجربی	پایه: اول
ساعت امتحان: ۱۰ صبح به وقت تهران	<small>وزارت آموزش عالی و تحقیقات علمی EDUCATION DEPARTMENT OF SCIENCE & ADOVANCE</small>	دوره: راهنمایی	رشته:
مدت امتحان: ۶۰ دقیقه			
شماره صفحه: ۱			
نام و نام خانوادگی دانش آموز / داوطلب آزاد: کشور: شهر:			

بازم		ردیف
۱	<p>جملات زیر را با کلمات مناسب کامل کنید.</p> <p>الف) به تبدیل مستقیم جامد به گاز گویند.</p> <p>ب) ابرهای معمولاً در ارتفاع بالا تشکیل می شوند و بارندگی ندارند.</p> <p>پ) خزه ها از رویش بوجود می آیند.</p> <p>ت) به خاک یا سنگی که آب بتواند در آن داخل شود می گویند.</p>	۱
۰/۷۵	<p>یک پیچ مسی و یک مهره ی آهنی را به هم بسته ایم؛ با توجه به نمودار مقابل اگر آنها را تا دمای نسبتاً زیادی گرم کنیم، به نظر شما مهره آسان تر باز می شود یا سخت تر؟ چرا؟</p> <div style="text-align: center;">  </div>	۲
۱	<p>نقشه ی مفهومی زیر را کامل کنید.</p> <div style="text-align: center;">  </div>	۳
۱	<p>در هر مورد زیر کدام یک از این نیروها مؤثر هستند؟ (نیروی گرانش- نیروی تکیه گاه- نیروی الکتریکی- نیروی مغناطیسی- نیروی اصطکاک)</p> <p>الف) کتاب روی میز قرار دارد.</p> <p>ب) اتومبیل در حال حرکت با ترمز کردن می ایستد.</p> <p>پ) در یخچال به آسانی باز نمی شود.</p> <p>ت) باران به زمین می بارد و در زمین فرو می رود.</p>	۴
۰/۷۵	<p>صادق در استخر کمی شنا می کند و از استخر بیرون می آید. او احساس سرما می کند. به نظر شما علت چیست؟</p>	۵
۰/۷۵	<p>برای هر یک از تبدیل های انرژی زیر یک مثال بنویسید.</p> <p>الف) مکانیکی به الکتریکی</p> <p>ب) الکتریکی به مکانیکی</p> <p>پ) شیمیایی به گرما و نور</p>	۶

سال تحصیلی: ۸۸-۸۹
تاریخ امتحان: ۸۹/۳/۲۵
ساعت امتحان: ۱۵ صبح به اواخر ظهر
مدت امتحان: ۴۵ دقیقه
شماره صفحه: ۲



سوال درس: علوم تجربی
پایه: اول
دوره: راهبردی
رشته: -

نام و نام خانوادگی دانش آموز / داوطلب آزاد : کشور : شهر :

۷	برای جدا کردن مخلوط آب و روغن آزمایشی را طراحی کنید؛ سپس نتیجه ی آزمایش را توضیح دهید.	۱
۸	یک قطره جوهر را در لیوان پر از آب می اندازیم؛ به نظر شما چرا پس از مدتی آب لیوان کاملاً به رنگ جوهر در می آید؟	۱
۹	الف) منظور از سرعت چیست؟ ب) اگر یک دوندۀ مسافت ۱۰۰ متر را در ۲۰ ثانیه طی کند، سرعت او چند متر بر ثانیه است؟ (با راه حل)	۱
۱۰	مسافت و جابه جایی بین دو نقطه ی A و B را در شکل مشخص و محاسبه کنید.	۱
۱۱	الف) منظور از چرخه ی آب چیست؟ ب) چرخه ی آب چه تأثیری بر شوری آب دریا دارد؟	۱
۱۲	الف) ابرفت چیست؟ ب) دو خصوصیت ابرفت ها را بنویسید. ۱- ۲-	۱
۱۳	مشخص کنید هر یک از جانوران زیر به کدام گروه تعلق دارند. الف) هیدر ب) ستاره ی دریایی پ) هشت پا	۰/۷۵



سوال درس: علوم تجربی
پایه: اول
دوره: راهنمایی
رشته: -

سال تحصیلی: ۸۸-۸۹



تاریخ امتحان: ۸۹، ۳، ۲۵

ساعت امتحان: ۱۵ صبح بر روی برگه

مدت امتحان: ۴۰ دقیقه

شماره صفحه: ۳

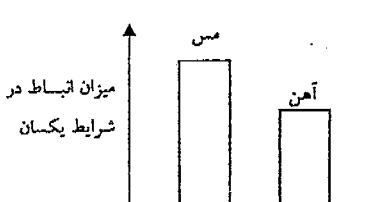
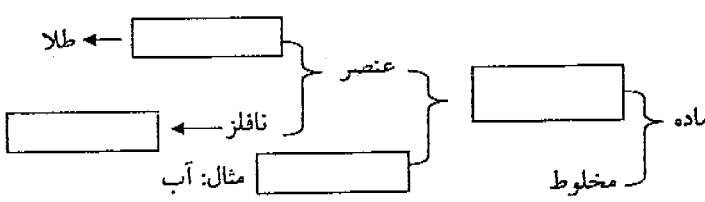
نام و نام خانوادگی دانش آموز / داوطلب آزاد : کشور : شهر :

۱	<p>با توجه به خصوصیات نوشته شده درون پراکنش زیر، اسکلت داخلی و خارجی را مقایسه کرده و هر خصوصیت را در ستون مربوط خود در جدول زیر بنویسید. (کمک به دفاع- تکیه گاه ماهیچه ها- تشکیل شده از استخوان یا غضروف- محافظت بدن در محیط های خیلی خشک یا آبی)</p> <table border="1" data-bbox="347 577 1220 728"> <thead> <tr> <th>اسکلت خارجی</th> <th>اسکلت داخلی</th> </tr> </thead> <tbody> <tr> <td>.....</td> <td>.....</td> </tr> <tr> <td>.....</td> <td>.....</td> </tr> </tbody> </table>	اسکلت خارجی	اسکلت داخلی	۱۴
اسکلت خارجی	اسکلت داخلی							
.....							
.....							
۰/۷۵	<p>در شکل های زیر دو نوع برگ را مشاهده می کنید با دقت در شکل آن ها به سوال های زیر پاسخ دهید. ۰/۷۵</p> <div style="display: flex; justify-content: space-around; align-items: center;"> <div style="text-align: center;">  <p>ب</p> </div> <div style="text-align: center;">  <p>الف</p> </div> </div> <p>الف) کدام برگ نور خورشید را بیش تر جذب می کند؟ ب) تبخیر آب از روزنه های کدام برگ بیش تر است؟ پ) کدام برگ مربوط به یک گیاه دو لپه است؟</p>	۱۵						
۰/۵	<p>جمله ی زیر را تفسیر کنید. " ویروس ها انگل اجباری درون سلول هستند."</p>	۱۶						
۰/۷۵	<p>باکتری ها غذای خود را به سه طریق به دست می آورند. آن سه طریق را بنویسید.</p>	۱۷						
۱۵	جمع بارم	موفق باشید						



وزارت آموزش و پرورش
EDUCATION DEPARTMENT
OF SCHOOL & BOARD

نام و نام خانوادگی دانش آموز / داوطلب آزاد: کشور: شهر:

ردیف	سؤال	بارم
۱	جملات زیر را با کلمات مناسب کامل کنید. الف) به تبدیل مستقیم جامد به گاز گویند. ب) ابرهای معمولاً در ارتفاع بالا تشکیل می شوند و بارندگی ندارند. پ) خزه ها از رویش بوجود می آیند. ت) به خاک یا سنگی که آب بتواند در آن داخل شود می گویند.	۱
۲	یک پیچ مسی و یک مهره ی آهنی را به هم بسته ایم؛ با توجه به نمودار مقابل اگر آنها را تا دمای نسبتاً زیادی گرم کنیم، به نظر شما مهره آسان تر باز می شود یا سخت تر؟ چرا؟ 	۰/۷۵
۳	نقشه ی مفهومی زیر را کامل کنید. 	۱
۴	در هر مورد زیر کدام یک از این نیروها مؤثر هستند؟ (نیروی گرانش - نیروی تکیه گاه - نیروی الکتریکی - نیروی مغناطیسی - نیروی اصطکاک) الف) کتاب روی میز قرار دارد. ب) اتومبیل در حال حرکت با ترمز کردن می ایستد. پ) در یخچال به آسانی باز نمی شود. ت) باران به زمین می بارد و در زمین فرو می رود.	۱
۵	صادق در استخر کمی شنا می کند و از استخر بیرون می آید. او احساس سرما می کند. به نظر شما علت چیست؟	۰/۷۵
۶	برای هر یک از تبدیل های انرژی زیر یک مثال بنویسید. الف) مکانیکی به الکتریکی ب) الکتریکی به مکانیکی پ) شیمیایی به گرما و نور	۰/۷۵






نام و نام خانوادگی دانش آموز / داوطلب آزاد: کشور: شهر:

۷	برای جدا کردن مخلوط آب و روغن آزمایشی را طراحی کنید؛ سپس نتیجه ی آزمایش را توضیح دهید.	۱
۸	یک قطره جوهر را در لیوان پر از آب می اندازیم؛ به نظر شما چرا پس از مدتی آب لیوان کاملاً به رنگ جوهر در می آید؟	۱
۹	الف) منظور از سرعت چیست؟ ب) اگر یک دوندۀ مسافت ۱۰۰ متر را در ۲۰ ثانیه طی کند، سرعت او چند متر بر ثانیه است؟ (با راه حل)	۱
۱۰	مسافت و جابه جایی بین دو نقطه ی A و B را در شکل مشخص و محاسبه کنید.	۱
۱۱	الف) منظور از چرخه ی آب چیست؟ ب) چرخه ی آب چه تأثیری بر شوری آب دریا دارد؟	۱
۱۲	الف) آبرفت چیست؟ ب) دو خصوصیت آبرفت ها را بنویسید. ۱- ۲-	۱
۱۳	مشخص کنید هر یک از جانوران زیر به کدام گروه تعلق دارند. الف) هیدر ب) ستاره ی دریایی پ) هشت پا	۰/۷۵



نام و نام خانوادگی دانش آموز / داوطلب آزاد: کشور: شهر:

۱	<p>با توجه به خصوصیات نوشته شده درون پرانتز زیر، اسکلت داخلی و خارجی را مقایسه کرده و هر خصوصیت را در ستون مربوط به خود در جدول زیر بنویسید. (کمک به دفاع - تکیه گاه ماهیچه ها - تشکیل شده از استخوان یا غضروف - محافظت بدن در محیط های خیلی خشک یا آبی)</p> <table border="1" data-bbox="335 582 1228 739"> <thead> <tr> <th>اسکلت خارجی</th> <th>اسکلت داخلی</th> </tr> </thead> <tbody> <tr> <td>.....</td> <td>.....</td> </tr> <tr> <td>.....</td> <td>.....</td> </tr> </tbody> </table>	اسکلت خارجی	اسکلت داخلی	۱۴
اسکلت خارجی	اسکلت داخلی							
.....							
.....							
۰/۷۵	<p>در شکل های زیر دو نوع برگ را مشاهده می کنید با دقت در شکل آن ها به سوال های زیر پاسخ دهید. ۰/۷۵</p> <div style="display: flex; justify-content: space-around; align-items: center;"> <div style="text-align: center;">  <p>ب</p> </div> <div style="text-align: center;">  <p>الف</p> </div> </div> <p>الف) کدام برگ نور خورشید را بیش تر جذب می کند؟ ب) تبخیر آب از روزنه های کدام برگ بیش تر است؟ پ) کدام برگ مربوط به یک گیاه دو لپه است؟</p>	۱۵						
۰/۵	<p>جمله ی زیر را تفسیر کنید. "ویروس ها انگل اجباری درون سلول هستند"</p>	۱۶						
۰/۷۵	<p>باکتری ها غذای خود را به سه طریق به دست می آورند. آن سه طریق را بنویسید.</p>	۱۷						
۱۵	موفق باشید	جمع بارم						



سؤال درس: علوم تجربی

پایه: اول

دوره: راهنمایی

رشته:

نام و نام خانوادگی دانش آموز / داوطلب آزاد: کشور: شهر:

ردیف	سؤال	پارام
۱	<p>جملات زیر را با کلمات مناسب کامل کنید.</p> <p>الف) به تبدیل مستقیم جامد به گاز گویند.</p> <p>ب) ابرهای معمولاً در ارتفاع بالا تشکیل می شوند و بارندگی ندارند.</p> <p>پ) خزّه ها از رویش بوجود می آیند.</p> <p>ت) به خاک یا سنگی که آب بتواند در آن داخل شود می گویند.</p>	۱
۲	<p>یک پیچ مسی و یک مهره ی آهنی را به هم بسته ایم؛ با توجه به نمودار مقابل اگر آنها را تا دمای نسبتاً زیادی گرم کنیم، به نظر شما مهره آسان تر باز می شود یا سخت تر؟ چرا؟</p>	۰/۷۵
۳	<p>نقشه ی مفهومی زیر را کامل کنید.</p>	۱
۴	<p>در هر مورد زیر کدام یک از این نیروها مؤثر هستند؟ (نیروی گرانش - نیروی تکیه گاه - نیروی الکتریکی - نیروی مغناطیسی - نیروی اصطکاک)</p> <p>الف) کتاب روی میز قرار دارد.</p> <p>ب) اتومبیل در حال حرکت با ترمز کردن می ایستد.</p> <p>پ) در یخچال به آسانی باز نمی شود.</p> <p>ت) باران به زمین می بارد و در زمین فرو می رود.</p>	۱
۵	<p>صادق در استخر کمی شنا می کند و از استخر بیرون می آید. او احساس سرما می کند. به نظر شما علت چیست؟</p>	۰/۷۵
۶	<p>برای هر یک از تبدیل های انرژی زیر یک مثال بنویسید.</p> <p>الف) مکانیکی به الکتریکی ب) الکتریکی به مکانیکی پ) شیمیایی به گرما و نور</p>	۰/۷۵



نام و نام خانوادگی دانش آموز / داوطلب آزاد : کشور : شهر :

۷	برای جدا کردن مخلوط آب و روغن آزمایشی را طراحی کنید؛ سپس نتیجه ی آزمایش را توضیح دهید.	۱
۸	یک قطره جوهر را در لیوان پر از آب می اندازیم؛ به نظر شما چرا پس از مدتی آب لیوان کاملاً به رنگ جوهر در می آید؟	۱
۹	الف) منظور از سرعت چیست؟ ب) اگر یک دوندۀ مسافت ۱۰۰ متر را در ۲۰ ثانیه طی کند، سرعت او چند متر بر ثانیه است؟ (با راه حل)	۱
۱۰	مسافت و جابه جایی بین دو نقطه ی A و B را در شکل مشخص و محاسبه کنید.	۱
۱۱	الف) منظور از چرخه ی آب چیست؟ ب) چرخه ی آب چه تأثیری بر شوری آب دریا دارد؟	۱
۱۲	الف) آبرفت چیست؟ ب) دو خصوصیت آبرفت ها را بنویسید. ۱- ۲-	۱
۱۳	مشخص کنید هر یک از جانوران زیر به کدام گروه تعلق دارند. الف) هیدر ب) ستاره ی دریایی پ) هشت پا	۰/۷۵

سوال درس: علوم تجربی

پایه: اول


دوره: راهنمایی

رشته: -

پاسمه تعالی



وزارت آموزش و پرورش جمهوری اسلامی ایران
Ministry of National Education of the Islamic Republic of Iran



سال تحصیلی: ۸۹-۸۸



تاریخ امتحان: ۸۹، ۱۳، ۲۵

ساعت امتحان: ۱۵ صبح

مدت امتحان: ۴۰ دقیقه

شماره صفحه: ۳

نام و نام خانوادگی دانش آموز / داوطلب آزاد : کشور : شهر :

۱	<p>۱۴- با توجه به خصوصیات نوشته شده درون پرانتز زیر، اسکلت داخلی و خارجی را مقایسه کرده و هر خصوصیت را در ستون مربوط به خود در جدول زیر بنویسید.</p> <p>(کمک به دفاع - تکیه گاه ماهیچه ها - تشکیل شده از استخوان یا غضروف - محافظت بدن در محیط های خیلی خشک یا آبی)</p> <table border="1" data-bbox="335 571 1228 728"> <thead> <tr> <th>اسکلت خارجی</th> <th>اسکلت داخلی</th> </tr> </thead> <tbody> <tr> <td>.....</td> <td>.....</td> </tr> <tr> <td>.....</td> <td>.....</td> </tr> </tbody> </table>	اسکلت خارجی	اسکلت داخلی	۱۴
اسکلت خارجی	اسکلت داخلی							
.....							
.....							
۰/۷۵	<p>۱۵- در شکل های زیر دو نوع برگ را مشاهده می کنید با دقت در شکل آن ها به سوال های زیر پاسخ دهید. ۰/۷۵</p> <div style="display: flex; justify-content: space-around; align-items: center;">   </div> <p>الف) کدام برگ نور خورشید را بیش تر جذب می کند ؟</p> <p>ب) تیغیر آب از روزنه های کدام برگ بیش تر است ؟</p> <p>پ) کدام برگ مربوط به یک گیاه دو لپه است ؟</p>	۱۵						
۰/۵	<p>۱۶- جمله ی زیر را تفسیر کنید. " ویروس ها انگل اجباری درون سلول هستند. "</p>	۱۶						
۰/۷۵	<p>۱۷- باکتری ها غذای خود را به سه طریق به دست می آورند. آن سه طریق را بنویسید.</p>	۱۷						
۱۵	جمع بارم	موفق باشید						

سوال درس: علوم تجربی
پایه: اول
دوره: راهنمایی
رشته:

با سمه تعالی



سال تحصیلی: ۸۸-۸۹
تاریخ امتحان: ۱۳۸۹/۳/۲۵
ساعت امتحان: ۲ عصر (وقت تفریح)
مدت امتحان: ۲۰ دقیقه
شماره صفحه: ۱

نام و نام خانوادگی: دانش آموز/ داوطلب آزاد..... کشور: شهر:

ردیف	بارم	سوال
	۱/۵	• جاهای خالی را با کلمات مناسب کامل کنید.
۱		همه ی مواد از ذره های بسیار کوچکی به نام ساخته شده اند.
۲		وقتی حجم ماده ای در اثر گرم شدن افزایش یابد می گوئیم شده است.
۳		به دمایی که ماده ی جامد در آن دما ذوب می شود، می گویند.
۴		به موادی که تنها از یک جزء ساخته شده باشند، ماده ی می گویند.
۵		به فاصله ی مستقیم میان مبدأ و مقصد می گویند.
۶		مسافتی که یک متحرک در واحد زمان طی می کند را می گویند.
۱		• جملات صحیح را با (ص) و جملات غلط را با (غ) مشخص کنید.
۷		از اتصال دو یا چند اتم، مولکول به وجود می آید. ()
۸		برای ساختن بیش تر دماسنج های پزشکی از الکل استفاده می شود. ()
۹		به کربن دی اکسید جامد، یخ خشک می گویند. ()
۱۰		استون، مهم ترین حلال است. ()
۱		• گزینه ی صحیح را با علامت (x) انتخاب کنید.
۱۱		در یک حبه ی قند ، کدام صورت انرژی وجود دارد؟ الف) انرژی الکتریکی <input type="radio"/> ب) انرژی حرکتی <input type="radio"/> ج) انرژی شیمیایی <input type="radio"/> د) انرژی گرمایی <input type="radio"/>
۱۲		کدام صورت از انرژی در زندگی ما بیش ترین استفاده را دارد؟ الف) انرژی الکتریکی <input type="radio"/> ب) انرژی حرکتی <input type="radio"/> ج) انرژی شیمیایی <input type="radio"/> د) انرژی گرمایی <input type="radio"/>
۱۳		چه نیرویی موجب می شود که میخ آهنی جذب آهن ربا شود؟ الف) نیروی الکتریکی <input type="radio"/> ب) نیروی گرانش <input type="radio"/> ج) نیروی تکیه گاه <input type="radio"/> د) نیروی مغناطیسی <input type="radio"/>
۱۴		واحد اندازه گیری جرم کدام است؟ الف) متر <input type="radio"/> ب) کیلو گرم <input type="radio"/> ج) نیوتن <input type="radio"/> د) متر بر ثانیه <input type="radio"/>
		• به سوالات زیر پاسخ کامل بدهید.
۱۵	۰/۵	مشخصه های نیرو را نام ببرید. (۲ مورد)
۱۶	۱	نوع هر یک از ابرهای زیر را بنویسید. الف) این نوع ابر، در ارتفاع بالا تشکیل می شود و بارندگی ندارد. () ب) این نوع ابر، به صورت توده های سفید و به شکل گل کلم در می آید. ()
۱۷	۱	آبرفت چیست؟

نمره کتبی: نمره شفاهی/ عملی: جمع نمره به عدد: به حروف: نام و نام خانوادگی مصحح: امضاء

با سمه تعالی



سوال درس: علوم تجربی
پایه: اول
دوره: راهنمایی
رشته:

سال تحصیلی: ۸۸-۸۹
تاریخ امتحان: ۱۳۸۹/۳/۲۵
ساعت امتحان: ۱/۵
مدت امتحان: ۲۰ دقیقه
شماره صفحه: ۲

نام و نام خانوادگی: دانش آموز/ داوطلب آزاد..... کشور: شهر:

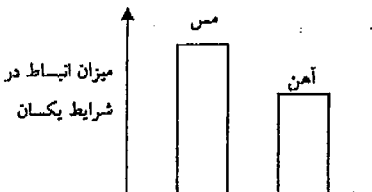
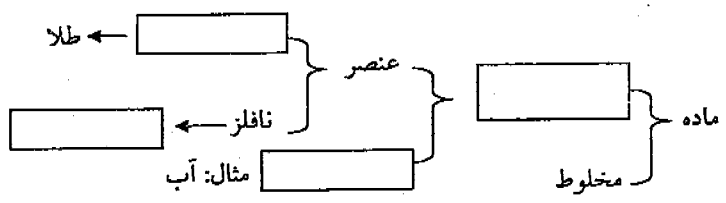
ردیف	سوال	بارم						
۱۸	با استفاده از کلمات داخل پرانتز، جدول زیر را کامل کنید. (مار-مگس-کرم خاکی)	۱/۵						
	<table border="1"><thead><tr><th>اسکلت خارجی</th><th>بدون اسکلت</th><th>اسکلت داخلی</th></tr></thead><tbody><tr><td></td><td></td><td></td></tr></tbody></table>	اسکلت خارجی	بدون اسکلت	اسکلت داخلی				
اسکلت خارجی	بدون اسکلت	اسکلت داخلی						
۱۹	کرم ها، بر اساس ساختمان بدن به چند گروه تقسیم می شوند؟ نام ببرید.	۱/۵						
۲۰	یکی از ویژگی های مشترک پستانداران را بنویسید.	۰/۵						
۲۱	کار اصلی ریشه ی گیاه را بنویسید. (۲ مورد)	۱						
۲۲	آوند چیست؟	۱						
۲۳	دو محصول فتوسنتز را نام ببرید.	۱						
۲۴	سه مرحله ی یک بیماری سخت میکروبی را بیان کنید.	۱/۵						
۲۵	مشهور ترین گروه میکروب ها را نام ببرید.	۰/۵						
۲۶	عامل اصلی به وجود آورنده ی امواج را نام ببرید؟	۰/۵						
	پیروز و سربلند باشید							

نمره شفاهی/ عملی: جمع نمره به عدد: به حروف: نام و نام خانوادگی مصحح: امضاء



وزارت آموزش و پرورش
EDUCATION DEPARTMENT
TEHRAN & ABROAD

نام و نام خانوادگی دانش آموز / داوطلب آزاد: کشور: شهر:

ردیف	سؤال	بارم
۱	جملات زیر را با کلمات مناسب کامل کنید. الف) به تبدیل مستقیم جامد به گاز گویند. ب) ابرهای معمولاً در ارتفاع بالا تشکیل می شوند و بارندگی ندارند. پ) خزه ها از رویش بوجود می آیند. ت) به خاک یا سنگی که آب بتواند در آن داخل شود می گویند.	۱
۲	یک پیچ مسی و یک مهره ی آهنی را به هم بسته ایم؛ با توجه به نمودار مقابل اگر آنها را تا دمای نسبتاً زیادی گرم کنیم، به نظر شما مهره آسان تر باز می شود یا سخت تر؟ چرا؟ 	۰/۷۵
۳	نقشه ی مفهومی زیر را کامل کنید. 	۱
۴	در هر مورد زیر کدام یک از این نیروها مؤثر هستند؟ (نیروی گرانش - نیروی تکیه گاه - نیروی الکتریکی - نیروی مغناطیسی - نیروی اصطکاک) الف) کتاب روی میز قرار دارد. ب) اتومبیل در حال حرکت با ترمز کردن می ایستد. پ) در بیخچال به آسانی باز نمی شود. ت) باران به زمین می بارد و در زمین فرو می رود.	۱
۵	صادق در استخر کمی شنا می کند و از استخر بیرون می آید. او احساس سرما می کند. به نظر شما علت چیست؟	۰/۷۵
۶	برای هر یک از تبدیل های انرژی زیر یک مثال بنویسید. الف) مکانیکی به الکتریکی ب) الکتریکی به مکانیکی پ) شیمیایی به گرما و نور	۰/۷۵





نام و نام خانوادگی دانش آموز / داوطلب آزاد : کشور : شهر :

۷	برای جداکردن مخلوط آب و روغن آزمایشی را طراحی کنید؛ سپس نتیجه ی آزمایش را توضیح دهید.	۱
۸	یک قطره جوهر را در لیوان پر از آب می اندازیم؛ به نظر شما چرا پس از مدتی آب لیوان کاملاً به رنگ جوهر در می آید؟	۱
۹	الف) منظور از سرعت چیست؟ ب) اگر یک دوندۀ مسافت ۱۰۰ متر را در ۲۰ ثانیه طی کند، سرعت او چند متر بر ثانیه است؟ (با راه حل)	۱
۱۰	مسافت و جابه جایی بین دو نقطه ی A و B را در شکل مشخص و محاسبه کنید.	۱
۱۱	الف) منظور از چرخه ی آب چیست؟ ب) چرخه ی آب چه تأثیری بر شوری آب دریا دارد؟	۱
۱۲	الف) آبرفت چیست؟ ب) دو خصوصیت آبرفت ها را بنویسید. ۱- ۲-	۱
۱۳	مشخص کنید هر یک از جانوران زیر به کدام گروه تعلق دارند. الف) هیدر ب) ستاره ی دریایی پ) هشت پا	۰/۷۵



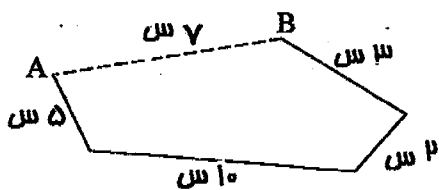
نام و نام خانوادگی دانش آموز / داوطلب آزاد : کشور : شهر :

۱	<p>با توجه به خصوصیات نوشته شده درون پراتز زیر، اسکلت داخلی و خارجی را مقایسه کرده و هر خصوصیت را در ستون مربوط به خود در جدول زیر بنویسید. (کمک به دفاع- تکیه گاه ماهیچه ها- تشکیل شده از استخوان یا غضروف- محافظت بدن در محیط های خیلی خشک یا آبی)</p> <table border="1" data-bbox="347 600 1235 743"> <thead> <tr> <th>اسکلت خارجی</th> <th>اسکلت داخلی</th> </tr> </thead> <tbody> <tr> <td>.....</td> <td>.....</td> </tr> <tr> <td>.....</td> <td>.....</td> </tr> </tbody> </table>	اسکلت خارجی	اسکلت داخلی	۱۴
اسکلت خارجی	اسکلت داخلی							
.....							
.....							
۰/۷۵	<p>در شکل های زیر دو نوع برگ را مشاهده می کنید با دقت در شکل آن ها به سوال های زیر پاسخ دهید. ۰/۷۵</p> <div style="display: flex; justify-content: space-around; align-items: center;">   </div> <p>الف) کدام برگ نور خورشید را بیش تر جذب می کند؟ ب) تبخیر آب از روزنه های کدام برگ بیش تر است؟ پ) کدام برگ مربوط به یک گیاه دو لپه است؟</p>	۱۵						
۰/۵	<p>جمله ی زیر را تفسیر کنید. " ویروس ها انگل اجباری درون سلول هستند."</p>	۱۶						
۰/۷۵	<p>باکتری ها غذای خود را به سه طریق به دست می آورند. آن سه طریق را بنویسید.</p>	۱۷						
۱۵	جمع بارم	موفق باشید						



ردیف	سوال	پاسخ
۱	<p>جملات زیر را با کلمات مناسب کامل کنید.</p> <p>الف) به تبدیل مستقیم جامد به گاز گویند.</p> <p>ب) ابرهای معمولاً در ارتفاع بالا تشکیل می شوند و بارندگی ندارند.</p> <p>پ) خزه ها از رویش بوجود می آیند.</p> <p>ت) به خاک یا سنگی که آب بتواند در آن داخل شود می گویند.</p>	
۲	<p>یک بیج مسی و یک مهره ی آهنی را به هم بسته ایم؛ با توجه به نمودار مقابل اگر آنها را تا دمای نسبتاً زیادی گرم کنیم، به نظر شما مهره آسان تر باز می شود یا سخت تر؟ چرا؟</p>	<p>مهره سخت تر باز می شود.</p> <p>زیرا بیج از جنس مس است و انبساطش کمتر نسبت به آهن باعث شکستن اتصال بیج مهره می شود.</p>
۳	<p>نقشه ی مفهومی زیر را کامل کنید.</p>	
۴	<p>در هر مورد زیر کدام یک از این نیروها مؤثر هستند؟ (نیروی گرانش - نیروی تکیه گاه - نیروی الکتریکی - نیروی مغناطیسی - نیروی اصطکاکی)</p>	<p>الف) کتاب روی میز قرار دارد. نیروی تکیه گاه.</p> <p>ب) اتومبیل در حال حرکت با ترمز کردن می ایستد. نیروی اصطکاکی.</p> <p>پ) در یخچال به آسانی باز نمی شود. نیروی مغناطیسی.</p> <p>ت) باران به زمین می بارد و در زمین فرو می رود. نیروی گرانش.</p>
۵	<p>صادق در استخر کمی شنا می کند و از استخر بیرون می آید. او احساس سرما می کند. به نظر شما علت چیست؟</p>	<p>بدن صادق خنثی است. آب موجود روی بدن صادق برای ترمز نیازی به گرما ندارد که بخشی از این گرما را از بدن صادق می گیرد و وی احساس سرما می کند.</p>
۶	<p>برای هر یک از تبدیل های انرژی زیر یک مثال بنویسید.</p> <p>الف) مکانیکی به الکتریکی</p> <p>ب) الکتریکی به مکانیکی</p> <p>پ) شیمیایی به گرما و نور</p>	
۷	<p>برای جدا کردن مخلوط آب و روغن آزمایشی را طراحی کنید؛ سپس نتیجه ی آزمایش را توضیح دهید.</p>	<p>آب و روغن دو مايع هستند که اگر آنها را در یک ظرف بریزیم روغن بالاتر از آب قرار می گیرد. در این صورت می توانیم با کج کردن ظرف روغن را درون ظرف دیگر بریزیم (روش سرد کردن)</p>



۱	<p>۸ یک قطره جوهر را در لیوان پر از آب می اندازیم؛ به نظر شما چرا پس از مدتی آب لیوان کاملاً به رنگ جوهر در می آید؟ مولکول های جوهر و مولکول های آب هر دو دارای جنبش هستند و تیر فاصله ای بین مولکول های آب و جوهر وجود دارد که پس از مدتی باعث بخش شدن جوهر در آب می شود.</p>	۸
۱	<p>۹ الف) منظور از سرعت چیست؟ به مسافتی که متحرک در واحد زمان (ثانیه) می پیماید سرعت می گویند. ب) اگر یک دوندۀ مسافت ۱۰۰ متر را در ۲۰ ثانیه طی کند، سرعت او چند متر بر ثانیه است؟ (با راه حل)</p> <p>مسافت = ۱۰۰ متر زمان = ۲۰ ثانیه سرعت = $\frac{۱۰۰}{۲۰} = ۵$ متر بر ثانیه</p>	۹
۱	<p>۱۰ مسافت و جابه جایی بین دو نقطه ی A و B را در شکل مشخص و محاسبه کنید.</p>  <p>مسافت = ۵ + ۱۰ + ۲ + ۳ + ۱۰ = ۳۰ متر جابه جایی = ۱۰ متر</p>	۱۰
۱	<p>۱۱ الف) منظور از چرخه ی آب چیست؟ به جابه جایی دائمی آب بین دریا، هوا و خشکی، چرخه ی آبی می گویند. ب) چرخه ی آب چه تأثیری بر شوری آب دریا دارد؟ چرخه ی آب با تجمیع آب دریا و حمل مواد به درون دریا بر روی شوری تأثیری ندارد.</p>	۱۱
۱	<p>۱۲ الف) آبرفت چیست؟ به مواد درشت و ریزی که توسط رود حمل می شوند، آبرفت می گویند. ب) دو خصوصیت آبرفت ها را بنویسید. ۱- تقریباً در همه رودها وجود دارند. ۲- در بخش های مختلف هستند.</p>	۱۲
۰/۷۵	<p>۱۳ مشخص کنید هر یک از جانوران زیر به کدام گروه تعلق دارند. الف) هیدر کوسه ب) ستاره ی دریایی نجار پ) هشت پا نمکدان</p>	۱۳

سال تحصیلی: ۸۸-۸۹
تاریخ امتحان: ۸۹، ۳، ۲۰
ساعت امتحان: ۱۰ صبح
مدت امتحان: ۴۰ دقیقه
شماره صفحه: ۳



سوال درس: علوم تجربی
پایه: اول
دوره: راهپای
رشته: -

۱	<p>با توجه به خصوصیات نوشته شده درون پراتنز زیر، اسکلت داخلی و خارجی را مقایسه کرده و هر خصوصیت را در ستون مربوط به خود در جدول زیر بنویسید.</p> <p>(کمک به دفاع - تکیه گاه ماهیچه ها - تشکیل شده از استخوان یا غضروف - محافظت بدن در محیط های خیلی خشک یا آبی)</p> <table border="1" data-bbox="347 448 1257 600"> <thead> <tr> <th>اسکلت خارجی</th> <th>اسکلت داخلی</th> </tr> </thead> <tbody> <tr> <td>محافظت بدن در محیط های خیلی خشک یا آبی</td> <td>تشکیل شده از استخوان یا غضروف</td> </tr> </tbody> </table>	اسکلت خارجی	اسکلت داخلی	محافظت بدن در محیط های خیلی خشک یا آبی	تشکیل شده از استخوان یا غضروف	۱۴
اسکلت خارجی	اسکلت داخلی					
محافظت بدن در محیط های خیلی خشک یا آبی	تشکیل شده از استخوان یا غضروف					
۰/۷۵	<p>در شکل های زیر دو نوع برگ را مشاهده می کنید با دقت در شکل آن ها به سوال های زیر پاسخ دهید. ۰/۷۵</p> <div style="display: flex; justify-content: space-around;"> <div data-bbox="255 728 422 907"> <p>الف</p> </div> <div data-bbox="430 739 582 907"> <p>ب</p> </div> </div> <p>الف) کدام برگ نور خورشید را بیش تر جذب می کند؟ الف</p> <p>ب) تبخیر آب از روزنه های کدام برگ بیش تر است؟ الف</p> <p>پ) کدام برگ مربوط به یک گیاه دو لپه است؟ الف</p>	۱۵				
۰/۵	<p>جمله ی زیر را تفسیر کنید. " ویروس ها انگل اجباری درون سلول هستند."</p> <p>هر ویروس، فقط هنگامی می تواند تولید مثل کند که در داخل یک سلول زنده قرار گرفته باشد.</p>	۱۶				
۰/۷۵	<p>باکتری ها غذای خود را به سه طریق به دست می آورند. آن سه طریق را بنویسید.</p> <p>۱- غذا ساز</p> <p>۲- گو در ست</p> <p>۳- انگل</p>	۱۷				
۱۵	جمع بارم	موفق باشید				

به نام خدا
سرپرستی مدارس جمهوری اسلامی ایران در امارات عربی متحده
مجتمع آموزشی نمونه توحید دختران

نام و نام خانوادگی :	پایه تحصیلی: اول راهنمایی	مدت امتحان: ۶۰ دقیقه * تاریخ امتحان: ۱۸ / ۳ / ۸۹
نام کلاس :	نام درس : تاریخ	نام دبیر: وطن خواه
نمره به عدد :	نمره به حروف :	امضا دبیر:

بدرم

ریف

الف) گزینه مناسب را انتخاب کنید. هر مورد ۰/۵ نمره

- ۱- کسانی که درباره ی زندگی گذشته ی انسان مطالعه می کنند را چه می نامند.
الف: دانشمند ب: فیلسوف ج: مورخان د: عالمان
- ۲- کار اصلی کوچ نشینان چه بود؟
الف: شکار ب: کشاورزی ج: جنگجوی د: دامداری
- ۳- وظیفه اصلی ریش سفید چه بود؟
الف: داوری ب: صلح بین قبیله ج: شروع کردن جنگ د: هیچکدام
- ۴- خط را چه کسانی اختراع کردند؟
الف: بابلی ها ب: سومری ها ج: آشوری ها د: ایلامی ها
- ۵- در کنار رود کارون مردم چه کشوری زندگی می کردند؟
الف: لیدی ب: فنیقیه ج: سومر د: ایلام
- ۶- مادها در کدام قسمت فلات ایران ساکن شدند؟
الف: شمال ب: جنوب ج: غرب د: شرق

ب) جملات زیر را کامل کنید. هر مورد ۰/۵ نمره

- ۱- سرزمین سومر در بین دو رودخانه و بود که بین النهرین می نامیدند.
۲- پایتخت دیاکو دهکده بود که در محل همدان امروزی قرار داشت.
۳- در دوره ی هخامنشی در حقیقت استاندار منطقه بود.
۴- فرمانده شجاع ایرانی به نام در فارس به همراه یارانش در برابر اسکندر مقاومت کرد.

ج) جملات درست و نادرست را مشخص کنید. هر مورد ۰/۵ نمره

- ۱- فنیقیه در محل کشور ترکیه ای امروزی واقع شده بود. صحیح غلط
- ۲- پایتخت ایلام شهر شوش بود. صحیح غلط
- ۳- کتاب مقدس زرتشتیان ارژنگ نام دارد. صحیح غلط
- ۴- شهر اکباتان پایتخت تابستانی هخامنشیان بود. صحیح غلط

د) گزینه های مناسب را بهم وصل کنید. هر مورد ۰/۵ نمره

- | | |
|------------|-------------------|
| - موبدان | - کارمندان حکومت |
| - جنگاوران | - روحانیون زرتشتی |
| - دبیران | - فرماندهان سپاه |

۵) به سوالات زیر پاسخ دهید.

۱- کتاب معروف مانی چه نام داشت؟ / ۵

.....

۲- در زمان اشکانیان کدام دولت در قسمت شرق ایران تاسیس شد؟ / ۵

.....

.....

۳- گنومات چگونه به حکومت رسید؟ / ۱

.....

.....

۴- هدف اردشیر از ایجاد سپاه دائمی چه بود؟ / ۱

.....

.....

۵- چرا در قلمرو اسکندر ایران از یونان و مصر مهم تر بود؟ / ۱

.....

.....

۶- چرا امپراتوری روم به دو قسمت شرقی و غربی تقسیم شد؟ / ۱

.....

.....

۷- سه مورد از اشتباهات خسرو پرویز را بنویسید. / ۵

.....

.....

۸- در زمان اشکانیان چه دین هایی رایج بود؟ / ۵

.....

.....

۹- دووظیفه چارها در زمان هخامنشیان چه بود؟ / ۵

.....

.....

۱۰- چرا رومی ها در بیشتر جنگ ها از اشکانیان شکست می خوردند. / ۵

.....

.....

موفق باشید

باسمه تعالی			
مجتمع آموزشی امام خمینی (ره) پسرانه - ابوظبی			
سؤالات امتحان درس :	تاریخ	کلاس : اول	دوره تحصیلی : راهنمایی
شماره ی سندلی :			
نام و نام خانوادگی :			تاریخ امتحان : ۱۸ / ۰۳ / ۱۳۸۹
مدت امتحان : ۶۰ دقیقه			
تصحیح اول : نمره با حروف.....	نمره با عدد.....	امضاء.....	تصحیح دوم : نمره با حروف.....
	نمره با عدد.....	امضاء.....	

ردیف	سؤالات	نمره
	<p>الف - گزینه ی صحیح را انتخاب کنید :</p> <p>(۱) کدام یک از شهرهای زیر پایتخت <u>آشور</u> بوده است ؟</p> <p>اور <input type="checkbox"/> شوش <input type="checkbox"/> شهر سوخته <input type="checkbox"/> نینوا <input type="checkbox"/></p> <p>(۲) کدام دین در زمان اشکانیان در <u>مشرق</u> ایران رواج داشت ؟</p> <p>مسیحی <input type="checkbox"/> بودایی <input type="checkbox"/> زردشتی <input type="checkbox"/> اسلام <input type="checkbox"/></p>	۰/۵
	<p>ب - کامل کنید : (هر مورد ۰/۵ نمره)</p> <p>(۱) کار اصلی کوچ نشینان ،بود .</p> <p>(۲) داناترین و با تجربه ترین و سال خورده ترین فرد روستا ،نامیده می شد .</p> <p>(۳) صنعتگرانبا استفاده از سنگ ، ظروف زیبا و مجسمه و مهر و غیره می ساختند .</p> <p>(۴) مردم لیدی در مغربساکن شدند .</p> <p>(۵) کتاب مقدس زردشتیان ،نام دارد .</p> <p>(۶) پایتخت مادها ، شهر بود .</p> <p>(۷) در زمان هخامنشیان ، استاندار هر منطقه ،نام داشت .</p> <p>(۸) در زمان اشکانیان ، دو مجلس و با هم مجلس مهستان را تشکیل می دادند .</p> <p>(۹) به محلّ عبادت زردشتی ها ،می گویند .</p> <p>(۱۰) معروف ترین بنای تیسفون ،نام داشت .</p> <p>(۱۱) مشهورترین پادشاه ساسانی ،نام داشت .</p>	

سؤالات		
۱	پ- پاسخ درست را در پراگماتز بنویسید : غرب فلات ایران () ، گئومات () ، رئیس قبیله ی پارت () ، آیین جدید مانی ()	
۱	ت- پاسخ دهید : مهم ترین فایده ی تاریخ چیست ؟	۱
۰/۷۵	چرا کوچ نشینان به کناره های آب های دائمی روی می آوردند ؟	۲
۰/۷۵	چرا روستانشینان خانه های خود را نزدیک به هم می ساختند ؟	۳
۱	حمورابی که بود و چه کرد ؟	۴
۰/۵	دو اقدام مهم مردم لیدی چه بود ؟	۵
۰/۷۵	چرا آریای ها تصمیم به مهاجرت گرفتند ؟ (سه مورد)	۶
۰/۷۵	سه دلیل قدرتمند شدن مادها را بیان کنید .	۷
۱	تصرف شمال خوزستان برای هخامنشیان چه نتیجه ای داشت ؟	۸

	سؤالات	
۰/۷۵	در کتیبه ی بیستون درباره ی چه موضوعاتی سخن گفته شده است ؟	۹
۱/۲۵	چرا اسکندر توانست بر یونان مسلط شود ؟	۱۰
۱/۲۵	چرا رومی ها در بیش تر جنگ ها از اشکانیان شکست می خوردند ؟	۱۱
۱/۲۵	هدف های اردشیر از ایجاد سپاه دائمی چه بود ؟	۱۲
۰/۷۵	در دوره ی ساسانی وظیفه ی دبیران چه بود ؟	۱۳
۰/۷۵	چرا حکومت ساسانی سقوط کرد ؟ (یک مورد)	۱۴
۲۰	موفق باشید	جمع

باسمه تعالی			
مجتمع آموزشی امام خمینی (ره) پسرانه - ابوظبی			
الات امتحان درس :	تاریخ	کلاس : اوّل	دوره تحصیلی : راهنمایی
شماره ی سندلی :			
ونام خانوادگی :		تاریخ امتحان : ۱۳۸۹ / ۰۳ / ۱۸	مدت امتحان : ۶۰ دقیقه
صحیح اول : نمره با حروف.....	نمره با عدد..... امضاء	تصحیح دوم : نمره با حروف.....	نمره با عدد..... امضاء

بف	سؤالات	نمره
	<p>الف - گزینه ی صحیح را انتخاب کنید :</p> <p>(۱) کدام یک از شهرهای زیر پایتخت <u>بابل</u> بوده است ؟</p> <p>اور <input type="checkbox"/> شوش <input type="checkbox"/> شهر سوخته <input type="checkbox"/> نینوا <input type="checkbox"/></p> <p>(۲) کدام دین در زمان اشکانیان در <u>مغرب</u> ایران رواج داشت ؟</p> <p>مسیحی <input type="checkbox"/> بودایی <input type="checkbox"/> زردشتی <input type="checkbox"/> اسلام <input type="checkbox"/></p>	۰/۵
	<p>ب - کامل کنید : (هر مورد ۰/۵ نمره)</p> <p>(۱) کار اصلی کوچ نشینان ، بود .</p> <p>(۲) داناترین و با تجربه ترین و سال خورده ترین فرد روستا ، نامیده می شد .</p> <p>(۳) صنعتگران با استفاده از سنگ ، ظروف زیبا و مجسمه و مهر و غیره می ساختند .</p> <p>(۴) مردم لیدی در مغرب ساکن شدند .</p> <p>(۵) کتاب مقدّس زردشتیان ، نام دارد .</p> <p>(۶) پایتخت مادها ، شهر بود .</p> <p>(۷) در زمان هخامنشیان ، استاندار هر منطقه ، نام داشت .</p> <p>(۸) در زمان اشکانیان ، دو مجلس و با هم مجلس مهستان را تشکیل می دادند .</p> <p>(۹) به محلّ عبادت زردشتی ها ، می گویند .</p> <p>(۱۰) معروف ترین بنای تیسفون ، نام داشت .</p> <p>(۱۱) مشهورترین پادشاه ساسانی ، نام داشت .</p>	

سؤالات		
	پاسخ دهید :	
۱	چرا کوچ نشینان از جایی به جای دیگر می رفتند؟	۱
۱	چرا کوچ نشینان به کناره های آب های دائمی روی می آوردند؟	۲
۱	دلایل ضعیف شدن حکومت ماد کدام اند؟	۳
۱	حمورابی که بود و چه کرد؟	۴
۰/۵	دو اقدام مهم مردم لیدی چه بود؟	۵
۱	چرا آریای ها تصمیم به مهاجرت گرفتند؟ (سه مورد)	۶
۰/۷۵	سه دلیل قدرتمند شدن مادها را بیان کنید.	۷
۱	تصرف شمال خوزستان برای هخامنشیان چه نتیجه ای داشت؟	۸

سؤالات		
۰/۷۵	در کتیبه ی بیستون درباره ی چه موضوعاتی سخن گفته شده است ؟	۹
۱/۲۵	چرا اسکندر توانست بر یونان مسلط شود ؟	۱۰
۱/۵	چرا رومی ها در بیش تر جنگ ها از اشکانیان شکست می خوردند ؟	۱۱
۱/۵	هدف های اردشیر از ایجاد سپاه دائمی چه بود ؟	۱۲
۰/۷۵	در دوره ی ساسانی وظیفه ی دبیران چه بود ؟	۱۳
۱	چرا حکومت ساسانی سقوط کرد ؟ (یک مورد)	۱۴
۲۰	موفق باشید	جمع

مجمع آموزشی حدیبه تحریری (س)

سال تحصیلی ۸۹ - ۸۸

نام درس : تاریخ

مقطع تحصیلی : راهنمایی

نام و نام خانوادگی :

پایه تحصیلی : اول

نوبت امتحان : خردادماه

مدت امتحان : ۶۰ دقیقه

۱	۳- تصرف شمال خوزستان برای هخامنشیان چه نتیجه ای داشت؟
۱	۴- چرا در زمان اشکانیان دین واحدی وجود نداشت؟
۱	۵- مجلس مهستان از چه کسانی تشکیل شده بود و در چه مواقعی تشکیل جلسه می دادند؟
۱	۶- حکومت حیره چه وظیفه ای داشت؟
۱	۷- چرا به تدریج افراد نالایق و ضعیف در حکومت هخامنشی به پادشاهی رسیدند؟ ۲ مورد
۱/۵	۸- پس از مرگ اسکندر متصرفات او به چند دسته تقسیم شد؟ نام ببرید.
۱/۵	۹- طبقه اشراف یا بزرگان در زمان ساسانی به چند دسته تقسیم می شدند نام ببرید.
۱/۵	۱۰- هدف اردشیر از ایجاد سپاه دائمی چه بود؟
۲	۱۱- دلایل سقوط دولت ساسانی را نام ببرید.
	۱۲- رابطه بین گزینه ها را پیدا کنید .
	۱- موبدان
	۲- خسرو پرویز
	۳- حمورابی
	۴- کاخ کسرا
	حکومت کوشانی
	پاره کردن نامه پیامبر
	حاکم بابل
	روحانیون زردتشتی

ردیف	سئوالات	بارم
الف	<p>جاهای خالی را با کلمات مناسب کامل کنید (هر کدام ۰/۵ نمره)</p> <p>۱- تاریخ سرگذشت است .</p> <p>۲- کار اصلی کوچ نشینان بود .</p> <p>۳- داناترین و با تجربه ترین و سال خورده ترین فرد روستا نامیده می شد .</p> <p>۴- به کسی که حکومت را در دست داشت می گفتند .</p> <p>۵- مردم لیدی در مغرب ساکن شدند .</p> <p>۶- نام پیامبر ایران باستان بود .</p> <p>۷- حکومتی که کورش به وجود آورد به نام جدش نامیده شد .</p> <p>۸- رومی ها پادشاه خود را می نامیدند .</p>	۴
ب	<p>جملات صحیح را با (ص) و غلط را با (غ) مشخص کنید (هر سؤال ۰/۵ نمره)</p> <p>۱- اردشیر با یکان با کمک بزرگان آخرین پادشاه اشکانیان را شکست داد .</p> <p>۲- به محل عبادت زردشتی ها کلیسا می گفتند .</p> <p>۳- در زمان پادشاهی انوشیروان پیامبر اسلام (ص) در مدینه مردم را به دین اسلام دعوت می کرد .</p> <p>۴- پس از مرگ اسکندر ایران نصیب یکی از سرداران او به نام آریو برزن شد .</p> <p>۵- تخت جمشید معروفترین پایتخت هخامنشیان بود .</p> <p>۶- کتاب مقدس زردتشتیان اهورا مزدا نام دارد .</p>	۳
ج	<p>پاسخهای درست را با علامت x نشان دهید (هر سؤال ۰/۵ نمره)</p> <p>۱- کدامیک از دانشمندان زیر در میان آتنی ها زندگی نمی کردند .</p> <p>الف - ارسطو ب- سقراط ج- ابوعلی سینا د- افلاطون</p> <p>۲- کدامیک از پادشاهان زیر موفق شد پادشاه سلوکیان را به قتل برساند .</p> <p>الف - مهرداد دوم ب- فرهاد دوم ج- اشک نهم د- کراموس</p> <p>۳- نام مجلس که شاه و خانواده اشکانی برای مشورت با یکدیگر داشتند چه بود ؟</p> <p>الف - مجلس شاهی ب- مجلس بزرگان ج- مجلس مهستان د- هیچکدام</p> <p>۴- کدام یک از علت های زیر علت مهاجرت آریایی ها نیست .</p> <p>الف - کمبود چراگاه ب- گرم شدن ناگهانی هوا ج- افزایش جمعیت د- هجوم اقوام همسایه</p>	۲

بارم	سئوالات	ردیف
۲	<p>رابطه بین گزینه ها را پیدا کنید و با خطی به یکدیگر وصل نمائید. (هر سؤال ۱/۵ نمره)</p> <p>حاکم بابل</p> <p>اشک</p> <p>آسان شدن کارها</p> <p>فنیقیه</p> <p>لیدی</p>	د
۱/۵	<p>به سئوالات زیر به اختصار جواب دهید.</p> <p>۱- چرا در دوره ساسانیان میان ایران و روم شرقی جنگ های سختی در گرفت .</p>	هـ
۱	<p>۲- در دوره ساسانی وظیفه جنگاوران چه بود ؟</p>	
۱/۵	<p>۳- چرا به تدریج افرادی نالایق و ضعیف در حکومت هخامنشی به پادشاهی رسیدند .</p>	
۱/۵	<p>۴- تصرف شمال خوزستان برای هخامنشیان چه نتیجه ای داشت ؟</p>	
۲	<p>۵- چرا چادر نشینان توانستند به راحتی کشور سومر را تصرف کنند .</p>	
۱/۵	<p>۶- چرا روی ها در بیش تر جنگ ها از اشکانیان شکست می خوردند .</p>	

نام و نام خانوادگی :

بسمه تعالی

تاریخ : ۸۹ / ۳ / ۱

نام پدر :

اداره کل مدارس خارج از کشور

نام دبیر : علیپور

نام درس : تاریخ

سرپرستی مدارس جمهوری اسلامی ایران در امارات عربی متحده

تعداد صفحه : ۲ صفحه

شعبه کلاس :

مجتمع آموزشی شارجه - (خرداد ۸۹-۸۸)

مدت پاسخگویی : ۶۰ دقیقه

رشته :

پایه : اول راهنمایی

نمره به عدد :

نمره به حروف :

نام و نام خانوادگی مصحح و امضاء :

ردیف	سوال	بار
۱	به کسانیکه درباره گذشته انسان مطالعه می کنند گویند ؟	۲۵
۲	مورخان دریافته اند که انسانها پس از یک دوره زندگی کوچ نشینی و صحرا گردی به یکجا نشینی و سپس روی آوردند .	۱۵
۳	کوچ نشینان به دسته های بزرگی که نامیده می شد تقسیم می شوند .	۲۵
۴	کار اصلی کوچ نشینان بود .	۲۵
۵	وظیفه اصلی ریش سفیدان میان مردم بود .	۲۵
۶	چیزی که بیش از همه زندگی یکجا نشینی را رونق بخشید شروع بود .	۲۵
۷	یکی از مهمترین اختراعات بشر در روزگاران قدیم اختراع بود .	۲۵
۸	رابطه بین گزینه های زیر را پیدا کنید ؟	۱۵
	سومر حمورابی	
	حاکم بابل شمال کشور بابل	
	آشور جنوب بین النهرین	
۹	دو دلیل از دلایل ضعف مادها را بنویسید ؟	۱
۱۰	کدامیک از عبارات زیر صحیح و کدام غلط است ؟ (ص - غ بگذارید)	
۱۵	الف) همه شهرهای مصر معبد داشتند اما بیشترین معبدها در شهر تب قرار داشتند . ص --- غ ---	
۱۵	ب) در قدیم به حاکمان مصر شاه می گفتند . ص --- غ ---	
۱۵	ج) مردم بابل با اختراع پول در بازرگانی موفقیتهای بیشتری کسب کردند . ص --- غ ---	
۱۵	د) پایتخت ایلام شهر شوش بود . ص --- غ ---	
۱۱	مورخان چه دلایلی برای مهاجرت آریایی ها ذکر می کنند ؟	۱۵
۱۲	پارسها چه چیزهایی از ایلامیها و بابلیها آموختند ؟	۱۵
۱۳	در دوره هخامنشی منظور از چاپار که بود ؟	

تاریخ امتحان : ۸۹/۳/۱۸	کلاس : اول راهنمایی	متخان درس : تاریخ
سال تحصیلی ۸۸/۸۹		ام و نام خانوادگی :
وقت امتحان : ۷۰ دقیقه	شماره صندلی :	نام دبیر : محمد شایگان

((موفقیت شما آرزوی ماست))

- ۱- معروف ترین بنای شهر تیسفون چه نام داشت؟ (۱)
 - الف- تخت جمشید
 - ب- کاخ کسری
 - ج- صد دروازه
 - د- سلوکیه
- ۲- کدام یک از تمدن های زیر در کنار رود کارون پدید آمد؟ (۱)
 - الف- ایلام
 - ب- سومر
 - ج- جیرفت کهن
 - د- شهر سوخته
- ۳- کار اصلی کوچ نشینان ، و کار اصلی یکجانشینان بود. (۱)
- ۴- وظیفه اصلی ریش سفید میان مردم بود. (۱)
- ۵- به دستور حاکم بابل که نام داشت ، شهر را روی سنگ بزرگی نوشتند و در میدان شهر قرار دادند. (۱)
- ۶- مهرداد دوم برای جلوگیری از حمله ، پایتخت خود را به شهر انتقال داد. (۱)
- ۷- فایده و اهمیت مطالعه تاریخ را بنویسید. (دو مورد کافی است). (۱)
- ۸- لقب حاکمان مصر چه بود و چرا مردم به قیام علیه آنان می پرداختند؟ (۱)
- ۹- دو مورد از علل مهاجرت آریایی ها را بنویسید. (۱)
- ۱۰- نام بنیانگذار دولت ماد و نام پایتخت آن را بنویسید. (۱)
- ۱۱- چرا کمبوجیه دستور داد بردیا را به قتل برسانند؟ (۱)

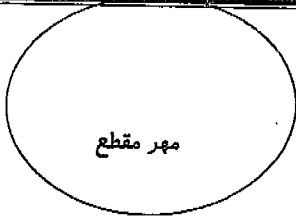
کلید راهنمای تصحیح ادراک اسماء

سرپرستی مدارس جمهوری اسلامی ایران در امارات عربی متحده

مقطع راهنمایی نمونه

مجتمع آموزشی پسرانه نمونه توحید دبی

توحید دبی



تاریخ امتحان : ۸۹/۳/...	کلاس : اول راهنمایی	تاریخ : تاریخ
سال تحصیلی ۸۸/۸۹		نام خانوادگی :
وقت امتحان : ۷۰ دقیقه	شماره صندلی :	م دبیر : محمد شایگان

((موفقیت شما آرزوی ماست))

۱- معروف ترین بنای شهر تیسفون چه نام داشت؟ (۱)

الف- تخت جمشید ب- کاخ کسری ج- صد دروازه د- سلوکیه

۲- کدام یک از تمدن های زیر در کنار رود کارون پدید آمد؟ (۱)

الف- ایلام ب- سومر ج- جیرفت کهن د- شهر سوخته

۳- کار اصلی کوچ نشینان دیلمی ، و کار اصلی یکجانشینان کسری بود. (۱)

۴- وظیفه اصلی ریش سفید داری میان مردم بود. (۱)

۵- به دستور حاکم بابل که شورایی نام داشت ، هوانین شهر را روی سنگ بزرگی نوشتند و در میدان شهر قرار دادند. (۱)

۶- مهرداد دوم برای جلوگیری از حمله رومیان ، پایتخت خود را به شهر سلوکیه انتقال داد. (۱)

۷- فایده و اهمیت مطالعه تاریخ را بنویسید. (دو مورد کافی است). (۱)

آشنایی با سیرت جامع بشری - آشنایی با عقاید و آداب و رسوم دوره های مختلف - و با سیرت انبیا، زهد، حکمت، استقامت و ... آنها - شنیدن سخنان بزرگان و آرزوی جهان رفتن از آنها - آموختن درس عبرت از آنها - در هر حال می توان از سیرت و ساد و مودت زبان بزرگ - در عمل اسباب سعادت بزرگ و ... ۳-۴/۱

۸- لقب حاکمان مصر چه بود و چرا مردم به قیام علیه آنان می پرداختند؟ (۱)

فرعون - بر بنی ظلم و ستم آنها ... ۲/۱

۹- دو مورد از علل مهاجرت آریایی ها را بنویسید. (۱)

۱- افزایش جمعیت ۲- کمبود چراگاه ۳- هجوم اقوام مهاجم

۴- سردسری شدن مناطق شمالی و تابودن چراگاهها، دامها و انسانها ... ۱/۱

۱۰- نام بنیانگذار دولت ماد و نام پایتخت آن را بنویسید. (۱)

دیاکو - هگمتانه ۵-۶/۱

۱۱- چرا کمبوجیه دستور داد بردیا را به قتل برسانند؟ (۱)

زیرا تصمیم داشت مصر را فتح کند و متاز سید روزمان گفتند ادب مصر، برادرش بردیا در مصر رسیده است هر سال ... ۲/۱

۱۲- اهداف اردشیر از ایجاد سپاه دائمی چه بود؟ (۱)

۱- جلوگیری از قدرت یافتن حکمرانان در نواحی مختلف ایران

۲- جنبیدن بار دشمنان که به سرزمین ایران حمله کرده بودند و نهبی رویه ها ۶۱/۰۰ - ۶۰

۱۳- سه مورد از اقدامات داریوش برای اداره قلمرو هخامنشیان را بنویسید. (۱/۵)

بزرگان ایرانی را در رأس امور قرار داد بزرگان کشور را بجزمت نواحی مختلف کشور (استهراک) منصوب کرد
ما موران مختار به نطقه تشریح می فرستاد جایزه های ارزنده در دست کرد و ۴۵/۰۰۰

۱۴- پس از مرگ اسکندر، قلمرو او به چه قسمت هایی تقسیم شد؟ (۱/۵)

به مقدونیان، مصر، ایران تقسیم شد. ۵/۰

۱۵- اشکانیان برای اداره امور کشور چه مجلس هایی ایجاد کرده بودند؟ (۱/۵)

مجلس بزرگان - مجلس مهر و مجلس هستان (ترکیب دو مجلس بزرگان و مهر) . . . ۵۷/۰

۱۶- اشراف یا بزرگان ساسانی به چند دسته تقسیم می شدند؟ آن ها را نام ببرید. (۱/۵)

۱- موبدان ۲- جنگاوران

۳- بزرگان ۶۶

۱۷- نام موارد خواسته شده در زیر را بنویسید: (۲)

پ- مشهورترین پادشاه ساسانی: انوشیروان

الف- نام کتاب معروف مانی: ارژنگ

ث- محل عبادت زرتشتی ها: آتشکده

ت- نام پادشاه ساسانی که نامه پیامبر را پاره کرد: خسرو پرویز

(موفق باشید)

به نام خدا
 سرپرستی مدارس جمهوری اسلامی ایران در امارات عربی متحده
مجتمع آموزشی نمونه توحید دختران

نام و نام خانوادگی:	پایه تحصیلی: اول راهنمایی	مدت امتحان: ۶۰ دقیقه * تاریخ امتحان: ۱۲ / ۳ / ۸۹
نام کلاس:	نام درس: جغرافی	نام دبیر: خاتم وطن خواه
نمره به عدد:	نمره به حروف:	امضا دبیر:

بترم

ریف

الف) گزینه مناسب را انتخاب کنید. هر مورد ۰/۵ نمره

- ۱- نزدیک ترین اقیانوس به کشور ایران کدام است؟
 الف: اقیانوس هند ب: اقیانوس اطلس
 ج: اقیانوس آرام د: اقیانوس منجمد شمالی
- ۲- بلندترین قله جهان در کدام فلات واقع شده است؟
 الف: آناتولی ب: تبت ج: ایران د: مغولستان
- ۳- در کدام یک از کشورهای زیر در خاورمیانه به زبان عربی صحبت نمی کنند؟
 الف: ترکیه ب: عربستان ج: مصر د: قطر
- ۴- پوشش گیاهی استپ در کدام ناحیه است؟
 الف: ناحیه ی بیابانی ب: ناحیه ی خزری
 ج: ناحیه کوهستانی د: ناحیه ی نیمه کوهستانی
- ۵- چه رودهایی از دامنه های جنوبی البرز سرچشمه می گیرد؟
 الف: شاهرود- قزل اوزن ب: کرج- جاجرود
 ج: کرج- تجن د: سیمینه رود- زرینه رود

ب) جملات زیر را کامل کنید. هر مورد ۰/۵ نمره

- ۱- رشته کوه سلیمان در قسمت فلات ایران است.
 ۲- زعفران در استان تولید می شود.
 ۳- رشته کوه البرز و رشته کوه زاگرس در به یکدیگر متصل شده اند.
 ۴- در ناحیه ی بیابانی با بستن و کندن آب مورد نیاز خود را تأمین می کنید.
 ۵- هلیل رود به تالاب و هیرمند به می ریزد.

ج) جملات درست و نادرست را مشخص کنید. هر مورد ۰/۵ نمره

- ۱- ارتفاع جلگه از کوهپایه کم تر است. صحیح غلط
- ۲- پوشش گیاهی هر منطقه به شرایط آب و هوایی به خصوص میزان بارندگی و درجه حرارت بستگی دارد. صحیح غلط
- ۳- بادهای گرم و خشک از جنوب ایران می وزد؟ صحیح غلط
- ۴- بریدگی ها در کناره های خلیج فارس خور نامیده می شود. صحیح غلط
- ۵- خورها به علت عمق زیاد برای کشتی های بزرگ و بازرگانی قابل استفاده هستند. صحیح غلط

شماره:

نام دبیر:

به نام خداوند بخشنده مهربان

کلاس: ۱ /

نام و نام خانوادگی:

مدرسه راهنمایی امام خمینی (ره) - ارباب

مدت: ۶۰ دقیقه

تاریخ: ۸۸/۳/۱۲

نوبت دوم خرداد ماه

امتحان: جغرافیا

صفحه: ۱

پایه اول

بارم

« جهان بازار زبان است . (حضرت علی (ع)) »

ردیف

۲

⊗ گزینه صحیح را انتخاب کنید.

۱- کدام یک از قاره های زیر از قطب شمال تا نزدیکی قطب جنوب کشیده شده است؟

الف) آسیا ب) آمریکا ج) آفریقا د) اروپا

۲- شرقی ترین فلات آسیا چه نام دارد؟

الف) آناتولی ب) تبت ج) مغولستان د) ایران

۳- چای بیشتر در کدام شهر ناحیه خزری کشت می شود؟

الف) گرگان ب) لاهیجان ج) رودبار د) ساری

۴- مهمترین محصول کشاورزی ناحیه خزری چیست؟

الف) پنبه ب) گندم ج) برنج د) چای

۲

غلط

صحیح

⊗ جملات صحیح و غلط را مشخص کنید.

۱- کم وسعت ترین ناحیه آب و هوایی ناحیه کوهستانی است.

۲- به آب و هوای نیمه بیابانی ، کوهپایه ای نیز می گویند.

۳- صید ماهی خاویار برای کشور ما اهمیت صادراتی دارد.

۴- اراک پر جمعیت ترین شهر ناحیه کوهستانی است.

⊗ در جاهای خالی کلمات مناسب بگذارید.

۱- به هوای گرمی که رطوبت آن زیاد است می گویند.

۲- به بریدگی های کناره های خلیج فارس و دریای عمان می گویند.

⊗ به سوالات زیر پاسخ دهید.

۱- کشت دیم چیست و در کدام نواحی رواج دارد؟

۲- خانه باغ را تعریف کنید.

۳- انواع آب و هوای ناحیه کوهستانی را نام ببرید.

۴- خاورمیانه را تعریف کنید.

۵- چرا وسعت تالاب جازموریان و گاوخونی در طول سال تغییر می کند؟

بارم

« جهان بازار زبان است . (حضرت علی (ع)) »

ردیف

۱

۶- علت رونق دامپروری در ناحیه کوهستانی را بیان کنید.

۱

۷- دو مورد از عواملی که موجب ریزش فراوان باران در ناحیه خزری می شود را نام ببرید.

۱

۸- دو مورد اهمیت راه های ارتباطی را بنویسید.

۱

۹- دو علت گسترش بیابان را بیان کنید.

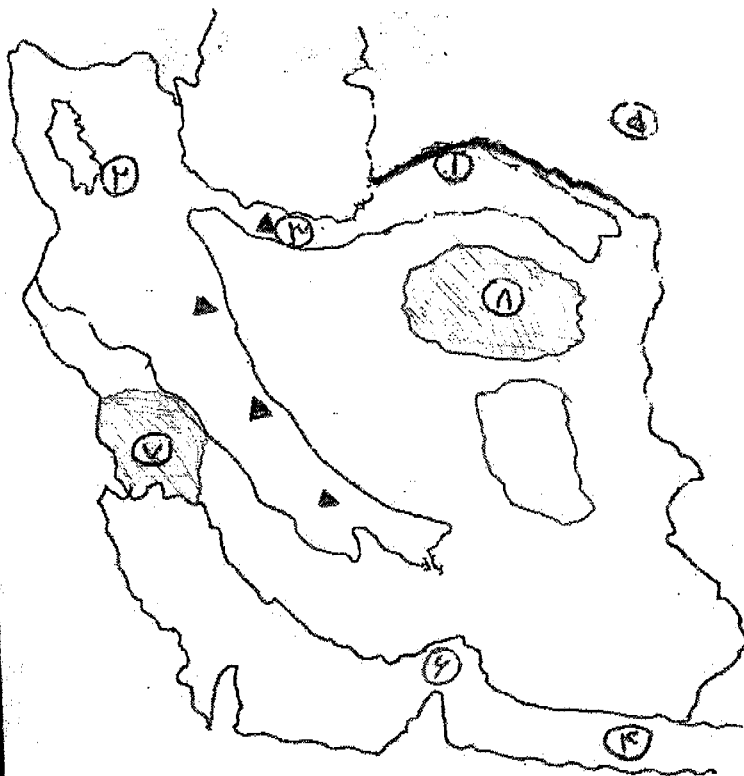
۱

۱۰- استپ چه نوع پوشش گیاهی است؟

۱

۱۱- چهار کشور عمده تولید کننده نفت را بنویسید.

(و) به سوالات نقشه پاسخ دهید.



۱- نام رود مرزی:

۲- نام دریاچه:

۳- نام قله:

۴- نام دریا:

۵- نام کشور همسایه:

۶- نام تنگه:

۷- نام جلگه:

۸- نام دشت:

موفق باشید

شماره:	نام دبیر:	به نام خداوند بخشنده مهربان	کلاس: ۱ /
نام و نام خانوادگی:	نوبت دوم شهریورماه	مدرسه راهنمایی امام خمینی (ره) ابرقویی	مدت: ۶۰ دقیقه
تاریخ: ۸۷/۳/۱	امتحان: جغرافیا	بایه اول	صفحه: ۱

بارم ردیف « جهان بازار زبان است . (حضرت علی (ع)) »

۲ * جواب صحیح را علامت بزنید.

- ۱- اغلب راه های کشور به کدام قسمت کشور ما منتهی می شود؟
الف) بنادر شمال ب) نواحی شرقی ج) بنادر جنوبی د) شهرهای غربی ترکیه و عراق
- ۲- نکا چوب ساری در کدام ناحیه آب و هوای کشور قرار دارد؟
الف) خزری ب) کوهستانی ج) بیابانی د) نیمه بیابانی
- ۳- پرجمعیت ترین شهر ناحیه کوهستانی کدام شهر است؟
الف) همدان ب) تبریز ج) بیجار د) زنجان
- ۴- شروع منطقه ناحیه کوهستانی از می باشد.
الف) جنوب دره ی سیمینه رود ب) شمال دره زرینه رود ج) شمال غرب دره سیمینه رود د) جنوب دریای خزر

۲ * جاهای خالی را پر کنید.

- ۱- پسته کوهی در زاگرس رشد می کند و بار می دهد.
- ۲- راه آهن شرق آسیا را به غرب اروپا وصل می کند.
- ۳- پس از انقلاب اسلامی توسعه روستاها و عمرانی آن جا را برعهده دارد.
- ۴- قله آتشفشانی جنوب شرقی ایران نام دارد.

۴ * به سوالات زیر پاسخ کوتاه دهید.

- ۱- اکثر بارندگی داخل ایران وزش ناشی از کدام بادهای می باشد؟
- ۲- خاورمیانه را تعریف کنید.
- ۳- آب و هوای سرد کوهستانی کدام منطقه را پوشانده است؟
- ۴- چهار بندر ماهی گیری در دریای خزر را نام ببرید.

۱/۵ د) به سوالات پاسخ کامل دهید.

۱/۵ ۱- دو مورد از اهمیت راه ها را بیان کنید.

۱/۵ ۲- در ناحیه خزری سه عامل موجب ریزش باران می شود توضیح دهید.

۱/۵ ۳- کشت دیم چه نوع کشتی است در کدام بخش ناحیه کوهستانی رواج دارد؟

۴- در گذشته و حال آب منطقه روستایی را چگونه تأمین می کردند؟

۵- خور را تعریف کنید.

۶- چهار شهر پرجمعیت ناحیه خزری را نام ببرید.

سوالات نقشه :

* با توجه به نقشه به سوالات زیر پاسخ دهید.

۱- نام رودی است.

۲- کشور همسایه شرقی ایران است.

۳- نام دریاچه ای است.

۴- نام دشتی است.

۵- نام بندری است.

* روی نقشه نشان دهید.

۶- کشور همسایه عراق را نشان دهید.

۷- رود مرزی ارس را نشان دهید.

۸- جزیره قشم را نشان دهید.

* با توجه به نقشه مورد صحیح را انتخاب کنید.

۹- نام روی است : کارون - هیرمند

۱۰- دریاچه داخلی ایران است . ارومیه - بختگان

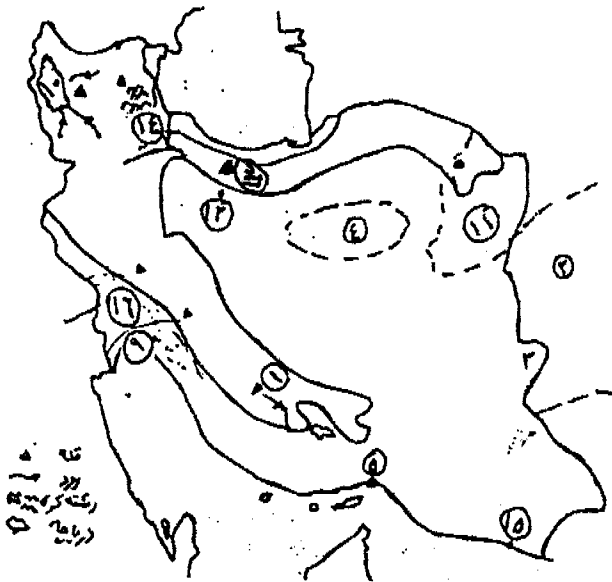
۱۱- مشهد مرکز این استان است . گلستان - خراسان رضوی

۱۲- پرجمعیت ترین شهر ایران است . تبریز - تهران

۱۳- بلندترین قله ایران - دماوند - علم کوه

۱۴- رودی در جلگه گیلان . سفید رود - سیمینه رود

۱۵- نام بندری در جنوب ایران است . بندر امام خمینی (ره) - چاه بهار



موفق باشید

ردیف	سوال	بارم
۱	<p>جاهای خالی را با کلمات مناسب کامل کنید.</p> <p>الف- خلیج فارس و دریای عمان به وسیله به یکدیگر مربوط می شوند.</p> <p>ب) بلندترین فلات آسیا نام دارد.</p> <p>ج) بادهایی که از جنوب و جنوب غرب به ایران می وزند هستند.</p>	۱/۵
۲	<p>صحیح یا غلط بودن جملات زیر را مشخص کنید.</p> <p>الف- اقیانوس هند نزدیک ترین اقیانوس به کشور ایران است . <input type="checkbox"/> ص <input type="checkbox"/> غ</p> <p>ب- بندرعباس به چهار راه هوایی، زمینی، دریایی و آسفالته دسترسی دارد. <input type="checkbox"/> ص <input type="checkbox"/> غ</p> <p>ج- مهم ترین محصول کشاورزی ناحیه بیابانی و نیمه بیابانی پسته است. <input type="checkbox"/> ص <input type="checkbox"/> غ</p>	۱/۵
۳	<p>در سئوالات زیر صحیح ترین گزینه را انتخاب کنید.</p> <p>۱- کشت چای در کدام شهر ناحیه خزری رایج است.</p> <p>الف- گرگان <input type="checkbox"/> ب- ساری <input type="checkbox"/> ج- رودبار <input type="checkbox"/> د- لاهیجان <input type="checkbox"/></p> <p>۲- کدام یک از بخش های زیر در ناحیه ی کوهستانی پرجمعیت تر است؟</p> <p>الف- دره های آبرفتی <input type="checkbox"/> ب- قله های بسیار بلند <input type="checkbox"/></p> <p>ج- شیب های تند و سنگلاخی <input type="checkbox"/> د- دامنه های پر شیب <input type="checkbox"/></p> <p>۳- کدام یک از نواحی زیر پر باران تر است؟</p> <p>الف- بیابانی و نیمه بیابانی <input type="checkbox"/> ب- کوهستانی <input type="checkbox"/> ج- خزری <input type="checkbox"/> د- معتدل کوهستانی <input type="checkbox"/></p>	۱/۵
۴	<p>دو کشور خاورمیانه که به زبان عربی صحبت نمی کنند را نام ببرید.</p>	۰/۵
۵	<p>رود و قله ی مهم زاگرس خشک را نام ببرید.</p>	۰/۵
۶	<p>جلگه های گیلان و چالوس از آبرفت چه رودهایی به وجود آمده اند؟</p>	۰/۵

باسمه تعالی
مجتمع آموزشی خدیجه کبری (س)
سال تحصیلی ۸۹ - ۸۸
نام درس : جغرافی
مقطع تحصیلی : راهنمایی

نوبت امتحان : خرداد ماه
مدت امتحان : ۵۰ دقیقه

نام و نام خانوادگی :
پایه تحصیلی : اول

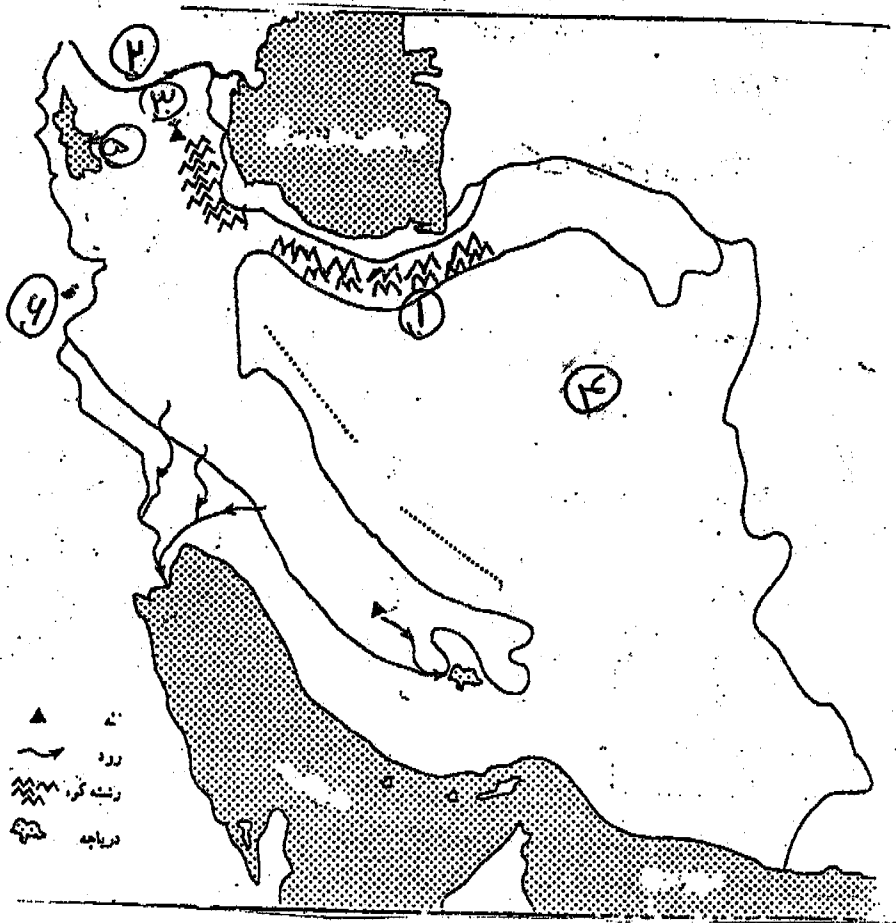
۷	سه شهر پر جمعیت ناحیه ی بیابانی و نیمه بیابانی را نام ببرید.	۰/۷۵
۸	مسافرانی که به ناحیه ی خزری سفر می کنند کدام صنایع دستی را به عنوان سوغات می توانند خریداری کنند. (۳ مورد)	۰/۷۵
۹	بازارهای هفتگی در شهرهای کوچک و بزرگ ناحیه معتدل خزری به چه منظوری تشکیل می شود؟	۱
۱۰	خلیج فارس چه اهمیتی برای کشور ما دارد. (۲ مورد)	۱
۱۱	دو علت گسترش بیابان در ناحیه ی بیابانی و نیمه بیابانی را بنویسید.	۱
۱۲	کشت دیم چه نوع کشتی است؟ در کدام بخش های ناحیه کوهستانی بیشتر رواج دارد؟	۱
۱۳	دو مورد از اهمیت پوشش گیاهی استب کوهی را بنویسید؟	۱
۱۴	علت رونق دامپروری در ناحیه ی کوهستانی چیست؟	۱
۱۵	عواملی که در ناحیه ی خزری موجب ریزش باران فراوان می شود را نام ببرید.	۱/۵
۱۶	اصطلاحات زیر را تعریف کنید. جلگه چیست؟ تالاب چیست؟	۲

باسمه تعالی
مجتمع آموزشی خدیجه کبری (س)
سال تحصیلی ۸۹ - ۸۸
نام درس : جغرافی
مقطع تحصیلی : راهنمایی

نوبت امتحان : خرداد ماه
مدت امتحان : ۵۰ دقیقه

نام و نام خانوادگی :
پایه تحصیلی : اول

۱۷ یا توجه به نقشه پاسخ دهید.



۱- رشته کوه

۲- رود مرزی

۳- قله ی آتشفشانی

۴- نام دشت

۵- دریاچه

۶- کشور همسایه

موفق باشید

تاریخ: ۸۹ / ۱

باسمه تعالی

اداره کل مدارس خارج از کشور

آزمون درس: جغرافیا

تعداد صفحه: ۲

نام و نام خانوادگی:

نام دبیر: **خواج**

سرپرستی مدارس جمهوری اسلامی ایران در امارات عربی متحده

مدت پاسخگویی: دقیقه

مجمع آموزشی شارجه - سال تحصیلی ۸۹ دوره راهنمایی

پایه: اول راهنمایی

کلاس: رشته:

بارم	سئوالات	ردیف
۲/۵	<p>الف - پاسخ صحیح را با علامت x نشان دهید. (هر سؤال ۵/۰ نمره)</p> <p>۱- بلندترین فلات آسیا چه نام دارد؟</p> <p>الف - آناتولی <input type="checkbox"/> ب- تبت <input type="checkbox"/> ج- ایران <input type="checkbox"/> د- مغولستان <input type="checkbox"/></p> <p>۲- شرجی در کدام نوع از آب و هوا به وجود می آید؟</p> <p>الف - بیابانی کناره ای <input type="checkbox"/> ب- بیابانی داخلی <input type="checkbox"/> ج- نیمه بیابانی <input type="checkbox"/> د- کوهپایه ای <input type="checkbox"/></p> <p>۳- محصولی که با گرما و خشکی سازگاری زیادی دارد کدام است؟</p> <p>الف - پسته <input type="checkbox"/> ب- گندم <input type="checkbox"/> ج- خرما <input type="checkbox"/> د- جو <input type="checkbox"/></p> <p>۴- کوه های شمالی که از مغرب به مشرق کشیده شده است چه نام دارد؟</p> <p>الف - البرز <input type="checkbox"/> ب- زاگرس <input type="checkbox"/> ج- آذربایجان <input type="checkbox"/> د- زردکوه <input type="checkbox"/></p> <p>۵- کدامیک از بخشهای ناحیه کوهستانی خالی از جمعیت است؟</p> <p>الف - قله های بسیار بلند <input type="checkbox"/> ب- دره های کم شیب <input type="checkbox"/> ج- دره های آبرفتی <input type="checkbox"/> د- شیب های تندو سنگلاخ <input type="checkbox"/></p>	الف
۵	<p>ب - جاهای خالی را با کلمات مناسب پر کنید.</p> <p>۱- با احداث فاصله بین شهرهای ناحیه ی کوهستانی کوتاه می شود.</p> <p>۲- به علت فراوانی جنگل ها در ناحیه معتدل خزری صنایع مهم چوب و کاغذ مانند در این منطقه توسعه یافته اند.</p> <p>۳- از قله های مهم زاگرس مرطوب می توان و نام ببرید.</p> <p>۴- راه ها به سه قسمت تقسیم می شوند که عبارتند از راه های زمین و راه های و راههای</p> <p>۵- کشت در استان گیلان به ویژه شهرستان لاهیجان بیش از استان مازنداران رونق دارد.</p> <p>۶- از مهمترین رودهای دامنه شمالی البرز ، و دامنه جنوبی می توان نام برد</p> <p>۷- به مجموعه ی کشورهای جنوب غرب آسیا و کشور مصر در آفریقا می گویند.</p>	ب

بارم	سئوالات	ردیف
۲	<p>ج- جملات صحیح را با (ص) و غلط را با (غ) مشخص کنید (هر سؤال ۰/۵ نمره)</p> <p>۱- در استان گلستان ، کشت پنبه توسعه بسیار یافته است. <input type="checkbox"/></p> <p>۲- دریاچه خزر بزرگترین دریاچه جهان است. <input type="checkbox"/></p> <p>۳- یکی از مهمترین محصولات صادراتی ایران پسته است که بیش تر آن در استان اصفهان تولید می شود. <input type="checkbox"/></p> <p>۴- خاورمیانه محل پیدایش دین های بزرگ الهی است. <input type="checkbox"/></p>	ج
	<p>د- به هر یک از سئوالات زیر به اختصار جواب دهید .</p> <p>۱- جلگه را تعریف کنید. (۱)</p> <p>۲- سه نوع باد که به ناحیه بیابانی و نیمه بیابانی می وزد را نام ببرید. (۱/۵)</p> <p>۳- استپ را تعریف کنید. (۱)</p> <p>۴- پرجمعیت ترین شهرهای ایران را به ترتیب نام ببرید (۳) (۱/۵)</p> <p>۵- آب و هوای کوهستانی به دو نوع تقسیم می شود آنها را نام برده و مختصراً توضیح دهید ؟ (۲)</p> <p>۶- چه عواملی در ناحیه ی خزری موجب ریزش فراوان باران می شود. (۱/۵)</p> <p>۷- شرکت سهامی شیلات دریای خزر ماهی گیری در رودها و کناره ها را به چهار بخش تقسیم کرده است . آنها را نام ببرید . (۲)</p>	د

نام و نام خانوادگی :
نام پدر :
نام درس :
شعبه کلاس :
پایه :
اول راهنمایی

بسمه تعالی
اداره کل مدارس خارج از کشور
سرپرستی مدارس جمهوری اسلامی ایران در امارات عربی متحده
مجتمع آموزشی شارجه - (خرداد ۸۹-۸۸)
رشته :

تاریخ :
نام دبیر :
تعداد صفحه :
مدت پاسخگویی :
علیپور
۲ صفحه
۶۰ دقیقه



نمره به عدد :
نمره به حروف :
نام و نام خانوادگی مصحح و امضاء :

ردیف	بارم	سوال
۱	۱	به این پرسشها پاسخ دهید ؟ الف) دو کشور خاورمیانه که به زبان عربی صحبت نمی کنند ب) غربی ترین فلات ایران ج) شرقی ترین فلات ایران
۲	۱/۵	کدام بادها به ناحیه بیابانی و نیمه بیابانی می وزند ؟ الف) ب) ج)
۳	۰/۵	هلیل رود به تالاب <input type="text"/> و رود هیرمند به دریاچه <input type="text"/> می ریزند .
۴	۰/۵	اهمیت خلیج فارس در چیست ؟
۵	۰/۵	عبارت زیر را کامل کنید ؟
۶	۱	دو گیاه ناحیه بیابانی <input type="text"/> <input type="text"/> جمله ها را کامل کنید ؟ الف) یکی از مهمترین مشکلات روستائیان در نواحی بیابانی و نیمه بیابانی است . ب) یکی از محصولات ناحیه بیابانی و نیمه بیابانی ایران که صادراتی است است . ج) پست ترین نقطه آذربایجان است . د) در زاگرس مرطوب جنگل های وسیع وجود دارد .
۷	۱	در دره های آبرفتی ناحیه کوهستانی چه محصولاتی کشت می شود ؟
۸	۰/۵	علت افزایش جمعیت در شهرهای مثل اراک ، زنجان و تبریز چیست ؟
۹	۰/۵	ناحیه معتدل خزری سرزمین کم وسعتی است که میان رشته کوه و دریای قرار دارد .
۱۰	۰/۵	طول ناحیه خزری از مغرب به مشرق و عرض آن است .
۱۱	۰/۵	ناحیه خزری ، سرزمینی و است .
۱۲	۱	شرکت شیلات دریای خزر ماهیگیری در رودها و کناره ها را به چند بخش تقسیم کرده است ؟

سرپرستی مدارس جمهوری اسلامی ایران درامارات عربی متحده

مجتمع آموزشی پسرانه نمونه توحید دبی

مقطع راهنمایی نمونه توحید دبی

مهر مقطع

امتحان درس : جغرافیا	کلاس : اول راهنمایی	تاریخ امتحان : ۸۹/۳ / ۰۱۶
نام و نام خانوادگی :		سال تحصیلی ۸۸/۸۹
نام دبیر : محمد شایگان	شماره صندلی :	وقت امتحان : ۷۰ دقیقه

((موفقیت شما آرزوی ماست))

۱- ارتفاع نقاط مختلف زمین را نسبت به چه چیزی اندازه می گیرند؟(۱)

۲- نام بلندترین قله جهان چیست و در چه فلاتی قرار گرفته است؟(۱)

۳- جلگه را تعریف کرده و یک نمونه آن را نام ببرید.(۱)

۴- چند ناحیه آب و هوایی در ایران وجود دارد؟ آن ها را نام ببرید.(۱)

۵- ویژگی های هوای شرجی را نام ببرید.(۱)

۶- وسیع ترین سرزمین های پست ناحیه بیابانی ایران کدامند؟(۱)

۷- تنگه هرمز چه نقاتی را به هم وصل می کند؟(۱)

۸- چه محصولاتی در ناحیه بیابانی و نیمه بیابانی امکان رشد دارند؟ دو نمونه از آن ها را بنویسید.(۱)

۹- سه بخش مشخص ناحیه کوهستانی ایران را نام ببرید.(۱/۵)

۱۰- چه رابطه ای بین ارتفاع و دما وجود دارد؟(۱)

۱۱- علل تخریب و نابودی جنگل ها را بنویسید. (۱/۵)

۱۲- علل ریزش فراوان باران در ناحیه خزری را بنویسید. (۱/۵)

۱۳- سه مورد از مهم ترین بنادر ماهیگیری دریای مازندران را نام ببرید. (۱/۵)

۱۴- کشتزارهای گیلان به وسیله چه سدی آبیاری می شوند؟ (۱)

۱۵- صنایع مهم ناحیه معتدل خزری از نظر مواد اولیه به چه منابعی وابسته هستند. (۱)

۱۶- احداث تونل در چه مناطقی و با چه هدفی صورت می گیرد؟ (۱)

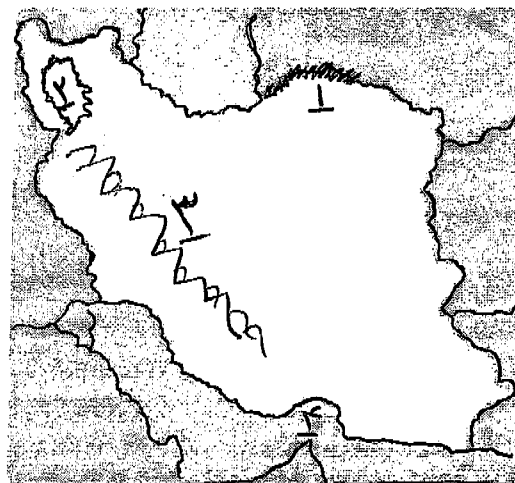
۱۷- نام موارد شماره گذاری شده بر روی نقشه را در پاسخ نامه خود بنویسید: (۲)

۴- تنگه:

۳- رشته کوه های:

۲- دریاچه:

۱- رود مرزی:



کتاب راهنمای تصحیح اوراق امتحان

سرپرستی مدارس جمهوری اسلامی ایران در امارات عربی متحده

مجتمع آموزشی پسرانه نمونه توحید دبی

مقطع راهنمایی نمونه توحید دبی

مهر مقطع

امتحان درس : جغرافیا	کلاس : اول راهنمایی	تاریخ امتحان : ۸۹/۳/...
نام و نام خانوادگی :		سال تحصیلی ۸۸/۸۹
نام دبیر : محمد شایگان	شماره صندلی :	وقت امتحان : ۷۰ دقیقه

((موفقیت شما آرزوی ماست))

۱- ارتفاع نقاط مختلف زمین را نسبت به چه چیزی اندازه می گیرند؟ (۱)

نسبت به سطح اقیانوس ها و دریا ها ۳۱

۲- نام بلندترین قله جهان چیست و در چه فلاتی قرار گرفته است؟ (۱)

قله اورست در فلات تبت ۲

۳- جلگه را تعریف کرده و یک نمونه آن را نام ببرید. (۱)

سرزمین پست و هموار است که از آب گرفتار رودها بوجود آمده و به دریا یا دریاچه راه منتهی می شود. ۹/

۴- چند ناحیه آب و هوایی در ایران وجود دارد؟ آن ها را نام ببرید. (۱)

۱- بیابان و نیمه بیابان ۲- کوهستان ۳- خزانه (حوضه ها و گدازه ها دریاها مانده) ۱۵/

۵- ویژگی های هوای شرجی را نام ببرید. (۱)

گرم و مرطوب... (و آلوده تر است) ۱۹/

۶- وسیع ترین سرزمین های پست ناحیه بیابانی ایران کدامند؟ (۱)

رخت کوه و رخت لوت ۲۲/

۷- تنگه هرمز چه نقاتی را به هم وصل می کند؟ (۱)

خلیج فارس را به دریا عمان وصل می کند. ۲۵/

۸- چه محصولاتی در ناحیه بیابانی و نیمه بیابانی امکان رشد دارند؟ دو نمونه از آن ها را بنویسید. (۱)

محصولات باغی و خشک سازگار با زیاد درخت مانند خرما و انگور (سیب، پسته، جعفرقند، نخل، زردآلو) است. ۲۵/

۹- سه بخش مشخص ناحیه کوهستانی ایران را نام ببرید. (۱/۵)

۱- کوه های آذربایجان ۲- رشته کوه های شمال (البرز و همدان و خراسان) ۳- رشته کوه های زاگرس ۴۷/

۱۰- چه رابطه ای بین ارتفاع و دما وجود دارد؟ (۱)

هرچه ارتفاع اقصای یابد از دما همرا کاسته می شود. ۴۱/

۱۱- علل تخریب و نابودی جنگل‌ها را بنویسید. (۱/۵)

استفاده بی‌رویه انسان، مانند قطع درختان، کندن سوراخ‌ها، حراش بیش از حد نام‌ها... ۴۷
[سه مورد کاملاً مثبت]

۱۲- علل ریزش فراوان باران در ناحیه خزری را بنویسید. (۱/۵)

۱- تغییر آب دریاها مانند دریا
۲- وزش باران‌ها باران‌ها در آن‌ها و در آن‌ها
۳- استخوان کوه‌ها البرز... ۵۶

۱۳- سه مورد از مهم‌ترین بنادر ماهیگیری دریای مازندران را نام ببرید. (۱/۵)

۱- بندر انزلی ۲- بندر کاسه ۳- بندر بابلسر ۴- بندر قرمقین ۵۹

۱۴- کشتزارهای گیلان به وسیله چه سدی آبیاری می‌شوند؟ (۱)

سرخیز رود ۶۴

۱۵- صنایع مهم ناحیه معتدل خزری از نظر مواد اولیه به چه منابعی وابسته هستند. (۱)

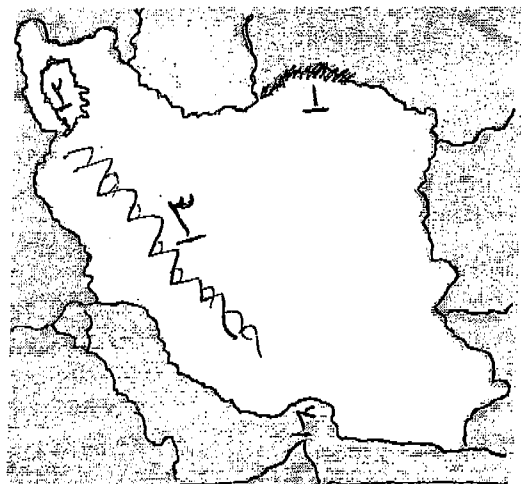
سنگ گرانیت و جنبل و آب معدنی ۶۷

۱۶- احداث تونل در چه مناطقی و با چه هدفی صورت می‌گیرد؟ (۱)

رهنما هم کوهستان و برای کوتاه کردن راه‌ها ۷۷

۱۷- نام موارد شماره گذاری شده بر روی نقشه را در پاسخ نامه خود بنویسید: (۲)

۱- رود مرزی: آترن ۲- دریاچه: ارومیه ۳- رشته کوه‌های: زاگرس ۴- تنگه: هرمز



Iran Map

به نام خدا
 سرپرستی مدارس جمهوری اسلامی ایران در امارات عربی متحده
مجتمع آموزشی نمونه توحید دختران

نام و نام خانوادگی :	پایه تحصیلی: اول راهنمایی	مدت امتحان: ۶۰ دقیقه * تاریخ امتحان: ۲۲/۳/۸۹
نام کلاس :	نام درس : اجتماعی	نام دبیر: خاتم وطن خواه
نمره به عدد :	نمره به حروف :	امضا دبیر:

بازم
 ریف

الف) جملات زیر را کامل کنید. هر مورد ۰/۵ نمره صفحه اول

- ۱- خوراك و و از جمله ي مهم ترين نیازهاي ماست.
- ۲- اولین گروهی که ما عضو آن می شویم نام دارد.
- ۳- حاصل احساس مسئولیت داشتن است.
- ۴- کسی که سرپرستی و هدایت يك گروه را بر عهده می گیرد یا نامیده می شود.
- ۵- در بیشتر خانواده ها سرپرست خانواده است.

ب) گزینه مناسب را انتخاب کنید. هر مورد ۰/۵ نمره

- ۱- کدامیک از موارد زیر جز نیازهای معنوی (غیرمادی) نیست؟
 الف- احساس امنیت ب- زیبایی ج- پوشاک د- کمال
- ۲- کدامیک از گزینه های جزء وظیفه در خانواده است؟
 الف: مشورت ب: نظم ج: رهبری د: هر سه مورد
- ۳- گروهی که می تواند با همکاری و هم فکری اعضای خود به حل مشکلات محله اقدام کند چه نام دارد؟
 الف: گروه خانواده ب- گروه دوستان ج- گروه محلی د- هیچکدام
- ۴- کدام يك از گروه های زیر غیر داوطلبانه است؟
 الف: گروه دوستان ب- گروه مدرسه ج- گروه خانواده د- گروه بسیج

ج) به سوالات زیر پاسخ دهید.

۱- خانواده ی روستایی و عشایری را با خانواده ی شهری مقایسه کنید؟ ۱/۵

۲- عمل کرد به نقش یعنی چه؟ ۱

۳- نظم را تعریف کنید؟ ۱

۴- منظور از برنامه خانواده را با مثال توضیح دهید؟ ۱/۵

شماره:

نام دبیر:

به نام خداوند بخشنده مهربان

کلاس: ۱ /

نام و نام خانوادگی:

مدرسه راهنمایی امام خمینی - ابرقوی

مدت: ۶۰ دقیقه

تاریخ: ۸۸/۳/

نوبت دوم خرداد ماه

امتحان: اجتماعی

پایه اول

صفحه: ۱

ردیف

« دوستی با مردم نصف عقل است . (رسول اکرم (ص)) »

بارم

الف) گزینه مناسب را انتخاب کنید.

۱/۵

۱- کدام یک از موارد زیر جزء نیازهای مادی است؟

الف) خوراک ب) پوشاک ج) احساس محبت د) مسکن

۲- کدام یک از گروه های زیر غیر داوطلبانه است؟

الف) خانواده ب) گروه درسی ج) بسیج د) مدرسه

۳- نخستین گروهی که عضو آن می شویم کدام است؟

الف) مدرسه ب) همسالان ج) دوستی د) خانواده

ب) جملات صحیح و غلط را مشخص کنید.

۱/۵

غلط

صحیح

۱- به کسی که به تنهایی در یک خانه زندگی می کند خانواده می گویند.

۲- برای رفع احتیاجات و نیازهایمان با دیگران رابطه برقرار می کنیم.

۳- بازی کردن جزء نیازهای مادی است.

۱

ج) جاهای خالی را با کلمات مناسب پر کنید.

۱- کسی که سرپرستی و هدایت تیم کوهنوردی را برعهده می گیرد می گویند.

۲- ترجیح دادن خود بر دیگران را می گویند.

د) به سوالات زیر پاسخ دهید.

۱

۱- خانواده روستایی و عشایری را با خانواده شهری مقایسه کنید.

۱

۲- گروه محلی را تعریف کنید.

۳- نظم را تعریف کنید.

۱

۴- در یک سفر کوهنوردی چه مسائلی ممکن است موجب از دست رفتن مقاومت افراد شود؟

۱

۵- آیا بسیج یک گروه محلی است؟ چرا؟

۱/۵

۶- گروه دوستی را با خانواده مقایسه کنید.

نام دبیر:	به نام خداوند بخشنده مهربان	کلاس: ۱ /
نام و نام خانوادگی:	مدرسه راهنمایی امام خمینی - ابوطبی	تاریخ: ۸۹/۲/۱
مدت: ۴۵ دقیقه	امتحان: اجتماعی	صفحه: ۱

بارم

اول راهنمایی

ردیف

- ۱- ویژگی های افرادی که احساس مسئولیت نمی کنند را بنویسید. ۱/۵
- ۲- اگر پدر و مادر احساس مسئولیت نکنند چه مشکلاتی بوجود می آید؟ ۱/۵
- ۳- افرادی که نظم را رعایت نمی کنند با چه مشکلاتی روبه رو می شوند بنویسید. (۳ مورد) ۱/۵
- ۴- چه وظایفی بر عهده رهبر یک تیم کوهنوردی است؟ (سه مورد) ۱/۵
- ۵- چرا وجود سختی ها در زندگی امری طبیعی است؟ ۱/۵
- ۶- مادر خانواده چه وظایفی بر عهده دارد؟ ۱/۵
- ۷- گروه دوستی چه ویژگی هایی دارد؟ ۱/۵
- ۸- گروه های محلی به چه منظوری تشکیل می شود؟ ۱/۵
- ۹- آیا بسیج یک گروه محلی است؟ چرا؟ ۱/۵
- ۱۰- مشورت رهبر گروه با اعضا چه فایده هایی دارد؟ ۱/۵
- ۱۱- گروه مدرسه چه تفاوت هایی با گروه محلی دارد؟ (۴ مورد) ۲
- ۱۲- چهار نمونه گروه های داوطلبانه را نام ببرید؟ ۱
- ۱۳- نظم یعنی چه؟ ۱
- ۱۴- از خود گذشتگی یعنی چه؟ ۱

موفق باشید

باسمه تعالی
 مجتمع آموزشی خدیجه کبری (س)
 سال تحصیلی ۸۹ - ۸۸
 نام درس : اجتماعی
 مقطع تحصیلی : راهنمایی

نام و نام خانوادگی :
 پایه تحصیلی : اول

نوبت امتحان : خرداد ماه
 مدت امتحان : ۶۰ دقیقه

بارم	سوال	ردیف
۳	الف- جاهای خالی را با کلمات مناسب بنویسید. ۱- انجمن اسلامی یک گروه ، است. ۲- شرکت در گروه های ، ، به صورت داوطلبانه است. ۳- قرار دادن وسایل در جای مخصوص خود را می نامند. ۴- کسی که سرپرستی یک گروه را بر عهده دارد نامیده می شود.	
۲	ب- جملات صحیح یا غلط را مشخص کنید. ۱- نیاز به محبت یک نیاز مادی است. ص <input type="checkbox"/> غ <input type="checkbox"/> ۲- نخستین گروهی که عضو آن هستیم گروه خانواده است. ص <input type="checkbox"/> غ <input type="checkbox"/> ۳- گروه محلی از افراد هم سن و سال تشکیل شده است. ص <input type="checkbox"/> غ <input type="checkbox"/> ۴- رهبر گروه در مواقع حساس تصمیمات لازم را می گیرد. ص <input type="checkbox"/> غ <input type="checkbox"/>	
۱	ج- پاسخ کامل دهید. ۱- چرا نتیجه ی کار انسان ها با هم تفاوت دارد؟	
۱	۲- مهم ترین فعالیت درونی خانواده چیست؟	
۱	۳- نقش مادر یک خانواده عشایری چیست؟	
۱	۴- همکاری یعنی چه؟	
۱	۵- نتیجه احساس مسئولیت در خانواده چیست؟	
۱	۶- افرادی که نظم را رعایت نمی کنند با چه مشکلاتی روبه رو می شوند؟ ۲ مورد	

تاریخ: ۸۹ / ۱

باسمه تعالی

آزمون درس: تعلیمات اجتماعی

تعداد صفحه: ۲

اداره کل مدارس خارج از کشور

نام و نام خانوادگی:

سرپرستی مدارس جمهوری اسلامی ایران در امارات عربی متحده

نام دبیر: **خواجه**

مجتمع آموزشی شارجه - سال تحصیلی ۸۹ دوره راهنمایی

مدت پاسخگویی: دقیقه ۴۵

پایه: اول راهنمایی
کلاس: رشته:

بارم	سئوالات	ردیف
۳	<p>۱- جمله های صحیح را با (ص) و غلط را با (غ) مشخص کنید. (هر مورد ۰/۵ نمره)</p> <p>الف - محبت کردن و مورد محبت قرار گرفتن یکی از نیازهای مادی می باشد.</p> <p>ب- خانواده نخستین گروهی رفیع کننده نیاز های ما هستیم</p> <p>ج- در خانواده هایی که بین اعضا همکاری وجود دارد بیشتر کارهای منزل بر عهده یک نفر مثلاً مادر خانواده قرار می گیرد.</p> <p>د- اندیشه های انسانها در انجام کارهای یکسان متفاوت است.</p> <p>ه - افراد منظم و با برنامه در زندگی خود موفق ترند.</p> <p>و - هر گروهی برای رسیدن به اهداف خود نیازی به رهبر ندارد.</p>	۱-
۲	<p>جاهای خالی را با کلمات مناسب پر کنید (هر مورد ۰/۵ نمره)</p> <p>الف - گروه هایی که ما داوطلب عضویت در آنها هستیم ، گروه های نام دارند.</p> <p>ب- کسی که سرپرستی و هدایت یک گروه کوه نوردی را بر عهده دارد و همه اعضای گروه از او اطاعت می کنند گروه نام دارد.</p> <p>ج- به ما کمک می کند که کارهای خود را بهتر انجام دهیم و از انجام کارهای ضروری غافل نشویم .</p> <p>د- گروه می تواند با همکاری و هم فکری اعضای خود به حل مشکلات محله اقدام کند .</p>	۲
۲	<p>هر یک از کلمه های ستون یک ، مربوط به کدامیک از کلمه های ستون ۲ می باشد) (هر مورد ۰/۵ نمره)</p> <p>وظیفه هر فرد در خانواده</p> <p>اولین گروهی که عضو آن می شویم</p> <p>قرار دادن هر چیزی در جای مخصوص خود</p> <p>استفاده از رای نظر دیگران در انجام یک تصمیم</p> <p>رهبری</p> <p>نظم</p> <p>نقش</p> <p>مشورت</p> <p>خانواده</p>	۳

ردیف	سئوالات	بارم
	به هر یک از سئوالات به صورت خلاصه جواب دهید .	
۴	آیا یک گروه کلاسی را می توان یک گروه دولتی نامید چرا ؟	۱
۵	در یک خانواده عشایری مادر چه وظایفی بر عهده دارد . (۳ مورد)	۱/۵
۶	چهار ویژگی از افراد مورد مشورت را بنویسید .	۲
۷	کسانی که تنها به فکر خود هستند و از هیچ چیز خود به خاطر دیگران نمی گذرنند چه مشکلاتی دارند (۲ مورد)	۱
۸	در چه مواردی می توانیم به دوستان خود کمک کنیم .	۲
۹	اگر وظیفه آب دادن به گل ها و گیاهان منزل بر عهده شما باشد . اگر شما احساس مسئولیت داشته باشید چه کارهایی انجام می دهید و چه پیش خواهد آمد . و اگر احساس مسئولیت نداشته باشید چگونه ؟	۲
۱۰	چرا خانواده به رهبر نیاز دارد (۳ مورد)	۱/۵
۱۱	دو مورد از نیازهای غیر مادی و ۲ مورد از نیازهای مادی انسانها را نام ببرید .	۲

نام و نام خانوادگی:	باسمه تعالی	تاریخ: ۸۹/۳/۱۳
نام پدر:	اداره کل مدارس خارج از کشور	نام دبیر: علیپور
نام درس:	سرپرستی مدارس جمهوری اسلامی ایران در امارات عربی متحده	شماره صفحه: ۲/۱
شعبه ی کلاس:	مجتمع آموزشی شارجه (دوره راهنمایی) پایان نیم سال دوم (خرداد ۸۹)	مدت پاسخگویی: ۶۰ دقیقه
پایه:		
نمره به عدد:	نمره به حروف:	نام و نام خانوادگی مصحح و امضاء:
ردیف	پرسشهای اجتماعی سال اول راهنمایی	
۱	نیازهای انسان به چند دسته تقسیم میشود؟ برای هر کدام يك مثال بزنید.	۱
۲	چرا باید در خانواده به همدیگر كمك كنیم؟	۱
۳	دو مورد از فایده های مشورت را بنویسید.	۱
۴	احساس مسئولیت در انجام وظایف چه نتایج دارد؟	۱
۵	خانواده را از چه جهاتی می توان به ساعت تشبیه کرد؟	۲
۶	اعضای خانواده نسبت به رهبر خانواده چه وظایفی بر عهده دارند؟	۲
۷	رهبر گروه در مقابل اظهار نارضایتی عده ای چه می کند؟	۲
۸	توجه به کارهای "مادر" توجه ما را به چه نکاتی جلب می کند؟	۲

نام و نام خانوادگی:		باسمه تعالی	تاریخ: ۸۹/۳/۱۳
نام پدر:		اداره کل مدارس خارج از کشور	نام دبیر: علیپور
نام درس:		سرپرستی مدارس جمهوری اسلامی ایران در امارات عربی متحده	شماره صفحه: ۲/۲
شعبه ی کلاس:		مجتمع آموزشی شارجه (دوره راهنمایی) پایان نیم سال دوم (خرداد ۸۹)	مدت پاسخگویی: ۶۰ دقیقه
پایه:			
نمره به عدد:		نمره به حروف:	نام و نام خانوادگی مصحح و امضاء:
پرسشهای اجتماعی سال اول راهنمایی			ردیف
۲	۹	رابطه ی دوستان صمیمی نسبت به یکدیگر چگونه است؟	
۲	۱۰	منظور از گروه محلی چیست؟	
۲	۱۱	گروههای داوطلبانه چه گروههایی هستند؟ با مثال بنویسید.	
۲	۱۲	در صورتیکه اعضای گروه به وظایف خود عمل نکنند با چه مشکلاتی مواجه میشوند؟	

سرپرستی مدارس جمهوری اسلامی ایران در امارات عربی متحده

مجتمع آموزشی پسرانه نمونه توحید دبی

مقطع راهنمایی نمونه توحید دبی

مهر مقطع

متجان درس : تعلیمات اجتماعی	کلاس : اول راهنمایی	تاریخ امتحان : ۸۹/۳/۰۶
نام و نام خانوادگی :		سال تحصیلی ۸۸/۸۹
نام دبیر : محمد شایگان	شماره صندلی :	وقت امتحان : ۷۰ دقیقه

((موفقیت شما آرزوی ماست))

۱- دو مورد از نیازهای غیرمادی انسان را نام ببرید. (۱)

۲- نخستین گروهی که ما عضو آن می شویم چه گروهی است و شامل چه کسانی می شود. (۱)

۳- دو مورد از ویژگی های گروه خانواده را بنویسید. (۱)

۴- دو نمونه از فعالیت های مشترک یک گروه محلی را مثال بزنید. (۱)

۵- نمونه ای از همکاری اعضای خانواده در انجام امور منزل (برای مثال هنگام صرف صبحانه) را شرح دهید. (۱/۵)

۶- مشاورین (افراد مورد مشورت) باید چه ویژگی هایی داشته باشند؟ (۳ مورد). (۱/۵)

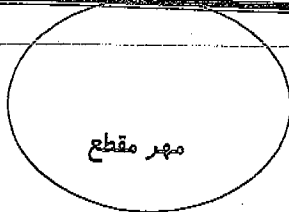
۷- سه مورد از فایده های داشتن یک برنامه منظم روزانه را بنویسید. (۱/۵)

طی راهمای تصحیح امرای آسمان

سرپرستی مدارس جمهوری اسلامی ایران در افتارات عربی متحده

مجتمع آموزشی پسرانه نمونه توحید دبی

مقطع راهنمایی نمونه توحید دبی



امتحان درس : تعلیمات اجتماعی	کلاس : اول راهنمایی	تاریخ امتحان : ۸۹/۳/۰۰۰
نام و نام خانوادگی :		سال تحصیلی ۸۸/۸۹
نام دبیر : محمد شایگان	شماره صندلی :	وقت امتحان : ۷۰ دقیقه

((موفقیت شما آرزوی ماست))

۱- دو مورد از نیازهای غیرمادی انسان را نام ببرید. (۱)

حسرت خدا - ارتباط با خدا - زیبایی - کمال - آگاهی
احساس امنیت - احساس مفید بودن - محبت - بازگشت به خدا و ... ۷/۱

۲- نخستین گروهی که ما عضو آن می شویم چه گروهی است و شامل چه کسانی می شود. (۱)

گروه خانواده است - شامل : پدر ، مادر ، خواهر و برادر ... ۱۱-۱۲/

۳- دو مورد از ویژگی های گروه خانواده را بنویسید. (۱)

به عنوان یک گروه به یکدیگر وابسته اند - یک واحد را تشکیل می دهند
هدف های مشترک بسیار دارند ... ۱۷/

۴- دو نمونه از فعالیت های مشترک یک گروه محلی را مثال بزنید. (۱)

برگزاری جشن رهد انجمن ...
حل مسئله محله و ...
برگزاری مراسم عزاداری و ...
۵۸-۹۶

۵- نمونه ای از همکاری اعضای خانواده در انجام امور منزل (برای مثال هنگام صرف صبحانه) را شرح دهید. (۱/۵)

پدر جان را آماده می کند ؛ برادرمان می خورد ؛
خواهر سفره صبحانه را پهن می کند ؛ مادر نیز وسایل صبحانه را در سفره می چیند . ۲۷/

۶- مشاورین (افراد مورد مشورت) باید چه ویژگی هایی داشته باشند؟ (۳ مورد). (۱/۵)

۱- علم و آگاهی ۲- تجربه ۳- تقوا ۴- احساس مسئولیت و تعهد
۵- دورانی بودن ۶- دلسوزی و علاقه مند ۷- بازگشت به خدا و ... ۲۸/

۷- سه مورد از فایده های داشتن یک برنامه منظم روزانه را بنویسید. (۱/۵)

فراستش کردن کارها ، ضرورت خود ... انجام موقع تکالیف ...
داشتن کارها که باید انجام دهند ... احساس سرزندگی ... ۲۹/

۸- چه مسائلی می تواند موجب شکست یک گروه کوهنوردی در رسیدن به اهداف خود شود؟ (۳ مورد). (۱/۵)


- ۱- بران تصمیم گیری و تنظیم مقررات، برهبرها نداشته باشند.
 - ۲- مریدان از اعضا تا آن بخواهد از نظر شخص خود بیرون کند.
 - ۳- نوری بران خود سر جداگانه از این اشتباه نماید. ۴۹/۰۰۰
 - ۴- اعضا گروه از دستورات و مقررات رهبر گروه سرپیچی نکنند. ۴۰/۰۰۰
- ۹- سه مورد از فداکاری ها و از خودگذشتگی های مادران برای موفق شدن فرزندان خود را نام ببرید. (۱/۵)

- ۱- تلاش بران موفقیت هم در مدرسه ۱ - ۲- یادگیری در درس ها
 - ۳- تیم و سایر راجع هم ۴- موفقیت هم را موفقیت خود میدانند
 - ۵- از شکست بگریزد، اصل شکست برنده - ۶- صفتها از علاقه خود نیا حاشی ۴۸۷
- ۱۰- سه مورد از گروه هایی را که در یک مدرسه می تواند وجود داشته باشد، نام ببرید. (۱/۵)
- گروه کلاسی (همکلاسی) - گروه سرود - گروه ستاره -
گروه ورزشی - انجمن اسلام و ... ۶۴۰/۰۰۰

۱۱- چه عواملی می تواند منجر به شکست فعالیت های گروه شود؟ مثال بزنید. (۱/۵)

عدم پیروی از مقررات گروه
مثلاً اگر در کلاس مقررات نباشد، نظم چگونه برقرار می شود. ۷۴/۰۰۰

۱۲- کدام یک از گزینه های الف با گزینه های ب ارتباط دارند؟ (۱/۵)



۱۳- چهار مورد از وظایف فرد در خانواده را نام ببرید. (۲)

- ۱- مشورت ۲- احساس مسئولیت ۳- نظم ۴- همکاری
- ۵- تحمل مسئولیت و تکلیف ها ۶- رهبری ۷- از خودگذشتگی ۱۱ و ۱۱

۱۴- چهار مورد از ویژگی های گروه دوستان را بنویسید. (۲)

- ۱- اعضا آنرا را بشناسند، احساس رکنش می کنند.
- ۲- از کس آنرا را بیازارد، از گروه ما شوهر و از آنجا خارج می کنند.
- ۳- کارهای زیاد را با هم انجام می دهند و از یکدیگر هم بزرگترت می بینند.
- ۴- آنها را دوست دارند و آنرا نیز هم را دوست دارند.
- ۵- دوست دارند در بازنشان شرکت کنند.
- ۶- از زندگی خود و دیگران رکنش می کنند.

(موفق باشید)

۵۴/

بسمه تعالی

املائی تقریری اول راهنمایی

از صحرا باز می گشتم و نسیم مانند مادری مهربان و آداب دان که به کودکان خویش

حق شناسی و ادب می آموزد سرهای نهال های جوان و بوته های نوزاد خویش را

به نشانه ی احترام و وداع با من خم کرده بود و من در آخرین نقطه ی دید که اندک

اندک صحرا از نظرم ناپدید می شد بار دیگر سرم را برگرداندم.

کم حوصلگی ، حساسیت ، استقلال طلبی ، حادثه جویی و بهانه جویی نوجوان را نا

آرام جلوه می دهد اما این جلوه های گوناگون نوجوانی هیچ کدام بیهوده و بیمار

گونه نیستند . هر کدام ریشه در نیازها و علایق نوجوان دارند .

کسی در زندگی موفق است که اکنون و فرصت حال را دریابد و همیشه فکر کند که

بهترین فرصت من امروز است امروز را به فردا افکندن و به امید آینده نشستن کار

درستی نیست هم چنان که امروز را به یادآوری گذشته های از دست رفته گذراندن و

افسوس خوردن نیز شایسته نیست .

معلم با همان لحن گرمش ادامه می دهد: خیلی عالی است ، نظامی در آرایش صحنه

های شوش استاد بی نظیری است.

خدایا ای بینای شنوا ای دانای توانا ما را به راه راست هدایت فرما خدایا زبان ما را

به پاکی و خوبی بینا و گام هایمان را در مسیر رستگاری پویا گردان .

نام درس: املا		پایه تحصیلی: اول		نام دبیر: حسین	
بسمه تعالی		وزارت آموزش و پرورش		دفتر مدارس خارج از کشور	
تاریخ برگزاری امتحان:		مدت زمان پاسخگویی: ۲۰ دقیقه		تعداد کل سوالات: ۹	
نام و نام خانوادگی دانش آموز:		نام پدر:		نام کلاس:	
بارم	ردیف	۱- املاي کدام گزینه با توجه به معني آن درست نمي باشد:			
0.5		(۱) قفلت- بي خبري <input type="checkbox"/> (۲) تقصير- کوتاهي <input type="checkbox"/> (۳) سپهر- آسمان <input type="checkbox"/> (۴) شکوه- بزرگي <input type="checkbox"/>			
0.5		۲- کدام گزینه درست است: (۱) مصطفا (۲) مصطفي (۳) موصطفي (۴) گزینه ۲ و ۳			
۱		۳- با هريك از تركيبات زیر جمله بسازید: خیر و صلاح - عطش مطالعه			
0.5		۴- شکل درست املاي واژه ها را با توجه به معنای جمله در جاهای خالی بنویسید: خداوند به اعمال نيك انسان مي دهد. (صواب- ثواب) انسان های درستکار در قیامت نمی شوند (خار- خوار)			
0.5		۵- بدل در کدام گزینه درست است (۱) امیرالمومنین - علي "ع" <input type="checkbox"/> (۲) قرآن - کتاب آسمانی مسلمانان <input type="checkbox"/> (۳) ابوعلی سینا - پزشک ماهر <input type="checkbox"/> (۴) تمام موارد <input type="checkbox"/>			
0.5		۶- کدام گزینه درست است (۱) حتماً <input type="checkbox"/> (۲) حتمناً <input type="checkbox"/> (۳) حتمان <input type="checkbox"/> (۴) گزینه ۱ و ۲ <input type="checkbox"/>			
0.5		۷- املاي کدام گزینه درست است (۱) هیأت- هیئت <input type="checkbox"/> (۲) هیعت- هیت <input type="checkbox"/> (۳) حیات- حیئت <input type="checkbox"/> (۴) هیأت- حیئت <input type="checkbox"/>			
0.5		۸- در نوشتن املا و موجب می شود تا متن آن از هر گونه خطا دور باشد.			
0.5		۹- در نوشتن املا به نحوه ي و مطابقت آن با شکل دقت شود.			
جمع نمره به عدد: به حروف: نام و نام خانوادگی مصحح: امضاء:					

- ایرانیان خدمات بسیار شایانی به اسلام کرده اند و آن خدمات از روی صمیمیت و اخلاص و ایمان بوده است.

- اکنون جمهوری اسلامی ایران که میراث گرانبهائی اوست ، به دست همه ی مردم ایران به ویژه نوجوانان و جوانان سپرده شده تا از آن مانند جان خویش نگهبانی کنند.

- متخصصان و دانشمندان جهانی مجبور شده اند اعتراف کنند که جوانان ما با پشتوانه ی ایمان و همت و غیرت ، توانسته اند استعداد جوشان و پنهان خود را آشکار سازند.

- نوجوان در رؤیاسازی ها و خیال پردازی هایش در جستجوی آینده و کشف استعداد ها و آرمان های نهایی خویش است.

- زندگی مجموعه ای از روزها و ماه ها و سال هاست ؛ روزهایی که به شتاب می گذرند و هرگز باز نمی گردند.

- او تعجب می کرد که چرا بعضی از بچه ها درس را به اندازه ی بازی کردن دوست ندارند و موقع شنیدن و خواندن شعر ، احساس شادی نمی کنند.

- پروین و سروده هایش آنقدر شگفت انگیز بودند که بزرگترین شاعران روزگار ، او را تحسین و تشویق می کردند.

- تسلط بر حکومت های جبار و فاسد ، اکثر مردم را سخت ترسو بار آورده و روح شهامت را در آنان کشته بود.

- این حرکت شکوهمند نمادین ، چیزی بود که برای همه ی عمر به یاد آن ها می ماند و در ذهن آن ها نقش می بست.

نام و نام خانوادگی:

باسمه تعالی

تاریخ:

۸۵/۳

پایه و رشته تحصیلی: اول راهنمایی

سرپرستی: مداری جمهوری اسلامی ایران

امتحان درس: املا

مجتمع آموزشی امام خمینی (ره) - ابوظبی

وقت:

بارم

سؤالات

ردیف

روزهای تیره به دنیا آمدیم. هیچ کس فکر نکرد که سال‌های نقره و مسی تاریخ

ایران و اسلام را عوض خواهد کرد و می‌بینیم که انسان آزادی خواه و مظلوم جهان را

تاریخ را یک بار فریاد خواهند زد. (در جهان) (دوران) جوانی مردم خصوصاً است

اخلاق و اعتقادی خاصه شده

هیچ یک از شما جز به پروردگار خود امید نیندند و جز از نگاه خود نترسند و جوان

کس را چیزی بر سر ندارد. شرم ندارند که گویند ندانم. ای کبیر و نجوایان

کمال مرده اند. اگر هم زنده اند و دانشمندانی که فنیان کم روزگار باید پانته اند

در ایران اسلام با مسجد نه فقط محلی برای عبادت خدا و باز و نیاید و نمازها

بلکه محلی فراگیری علم و ادب نیز بوده است. در بیمارستان‌ها نیز علاوه

بر آن که بیمارانی دستوری و درمان می‌شدند دانشجوایان نیز در آنجا

بزرگ درس می‌آموختند

سنگه‌ها غلتیدند و داخل دست‌بیس پرورد قرار گرفتند بعضی‌ها یکی روی

لبه‌های او نشستند و مطلق می‌توانست برق خوش حالی برادر جمهوری او بنشیند

باسمه تعالی

مجتمع آموزشی امام خمینی (ره) پسرانه - ابوظبی

سؤالات امتحان درس : املا	کلاس : اول	رشته :	دوره تحصیلی : راهنمایی
نام و نام خانوادگی :	تاریخ امتحان : ۸۹/۳/	مدت امتحان :	

ردیف	سؤالات	نمره
۱	برای هریک از واژه های (مظلوم - مرجعیت - نوشتن - تدریس) یک هم خانواده بنویسید .	۱
۲	شکل درست املاي واژه را با توجه به معنای جمله برای جای خالی انتخاب کن . الف- بازارمباحثه وبین دانشمندان گرم بود . (مناظره - مناظره) ب- این عمل خوب شما بسیاردارد . (صواب - ثواب) ج- امام فرمود از کسی چیزی نخواهید چونمی شوید . (خوار - خار) د- من به شمامی کنم که درس تان را بخوانید . (توسیه - توصیه)	۲
۳	در متن زیر واژه های نادرست املاي را پیدا کنید و شکل درست آن ها را بنویسید . آب ، این روح مذاب امید و زندگی ، تازه نفس ، جوان و ذلال و نیرومند با گام های استوار می رفت و من باقرور و مهربانی صحرا را تماشا می کردم و با دست هایم به سبزه های معسوم پاسخ می گفتم . یاد دارم که در ایام طفولیت مسحف عزیز برکنار گرفته و تایفه ای گرد ما خفته ...	۵
۴	الف- معنی کدام واژه (تناسب) است ؟ (اعتدال - اعطال) ب- معنی کدام واژه (الگو) است (أصوه أسوه) ج- معنی کدام واژه (شادایی) است (تراوت - طراوت)	۱/۵
۵	املاي همه ی گزینه ها جز گزینه ی درست است واژه ی غلط را پیدا کنید و درست آن را بنویسید . الف- سوء ظن (بدگمانی) ب- بحایم (چهار پایان) ج- بدیع (تازه) د- بار و بندیل (اسباب و اثاثیه)	۱/۵
	سر بلند باشید	
		۱۰

باسمه تعالی

مجمع آموزشی امام خمینی (ره) پسرانه - ابو ظبی

سوالات امتحان درسی : املا	کلاس : اول	رشته :	دوره تحصیلی : راهنمایی
نام و نام خانوادگی :	تاریخ امتحان :	۸۹/۶/	مدت امتحان :

ردیف	سوالات	نمره
۱	برای هریک از واژه های (شاعر-طیب-گفتن-ضربت) یک هم خانواده بنویسید .	۱
۲	شکل درست املاي واژه را با توجه به معنای جمله برای جای خالی انتخاب کن . الف- برایعطش در تابستان باید همراه خود آب بیاورید (رفه - رفح) ب- امروز در سراسر ایران هزاراندر حوزه های علمیه درس می خوانند . (طلبه - طلبج) ج- دانه آرام بر زمین غلتید رفت و کوچکش را خواند (انشاء - انشای) د- برایآخرت کارها را انجام می دهیم (ثواب - صواب)	۲
۳	در متن زیر واژه های نادرست املايي را پیدا کنید و شکل درست آن ها را بنویسید . اطاعت و خدمت به پدران و مادرانتان را غنیمت شمارید و آن ها را از خود رازی کنید و به معلم هایتان احترام زیاد بگذارید . من و فرزندانم مرگ را به شکست و خاری ترجیح می دهیم . شهر هرات آماده ی دفاع نیست . ما تا مدتی لشکریان مغول را معطل می کنیم تا هموطنان ما برای مبارزه با این لشکر خون خوار آماده شوند . سوار که تازه به مقسود آن ها پی برده بود . تگاهی از روی تحصین به ایشان افکند .	۵
۴	الف- معنی کدام واژه (درخشان) است ؟ (برآغ - برآق) ب- معنی کدام واژه (اندک اندک) است (تفاریق - تفاریغ - طفاریق) ج- معنی کدام واژه (سرشت) است (تبع - طبع)	۱/۵
۵	املاي همه ی گزینه ها جز گزینه ی درست است واژه ی غلط را پیدا کنید و درست آن را بنویسید . الف- سوء ظن (بد گمانی) ب- هک کردن (تراشیدن) ج- بدیع (تازه) د- بار و بندیل (اسباب و اثاثیه) سر بلند باشید	۱/۵
		۱۰

مجمع آموزشی خدیجه کبری (س)

سال تحصیلی ۸۹ - ۸۸

نام درس : املا

مقطع تحصیلی : راهنمایی

نام و نام خانوادگی :

پایه تحصیلی : اول

نام دبیر : جمشیدی

نوبت امتحان : خرداد ماه

مدت امتحان : ۳۰ دقیقه

بسیار اتفاق افتاده است که دانشمندی برای دست یافتن به یک کتاب و یا استفاده از مجلس درس یک استاد عالی قدر ، از شهر خود مسافرت کند و با تحمل رنج و سختی در راه های پر خوف و خطر خود را به شهری دیگر برساند.

نوجوان در رؤیا سازی ها و خیال پردازی هایش در جست و جوی آینده و کشف استعدادها و آرمان های نهایی خویش است.

فرزندان عزیزم، نامه محبت آمیز شما را قرائت کردم.

امید است با نشاط و خرمی درس هایتان را خوب بخوانید. از خداوند تعالی ، سلامت و سعادت و ترقی در علم و عمل برای شما نور چشمان آرزو می کنم.

لشکر جرّار مغول تا خانه ی آن ها فاصله ی زیادی نداشت. این جا خانه ی هرمز ، دهقان شجاعی بود که اعتقاد داشت یک مسلمان هرگز در برابر دشمن تسلیم نمی شود.

خدمات ذوقی و هنری نشان دهنده ی احساسات پاک و خالصانه ی ایرانیان است. زیرا سروکارش با عشق و ایمان است.

پیروز باشید

نام و نام خانوادگی:

باسمه تعالی

تاریخ: ۵ / ۳ / ۸۹

نام پدر:

نام دبیر: نکویی

اداره کل مدارس خارج از کشور

نام درس: املاء فارسی

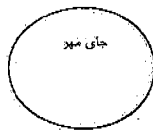
سرپرستی مدارس جمهوری اسلامی ایران در امارات عربی متحده

شعبه ی کلاس: اول راهنمایی

مجتمع آموزشی شارجه (دوره راهنمایی) خرداد ماه (۸۹)

تعداد صفحه: ۱

مدت پاسخگویی:



نمره به عدد:

نمره به حروف:

نام و نام خانوادگی مصحح و امضاء:

الف- متن املای تقریری (۲۰ نمره)

آری به زبان فارسی عشق می ورزم ، چون با دانستن این زبان می توانم احساسات و افکار ایرانیان و فارسی زبانان دیروز و امروز را درک کنم و در غم ها و شادی ها و بیم ها و امیدهای آنان شریک شوم وهم چون آنان به آن چه دوست داشته اند ، مهر بورزم و آن چه را دشمن می شناخته اند ، دشمن بدارم.

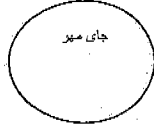
نوجوان اگر دقیق و باریک اندیش است ، برای این است که حس داوری و تشخیص او رو به توسعه است و می خواهد معنا و مفهوم درست زندگی را دریابد.

کسی در زندگی موفق است که اکنون و فرصت حال را دریابد و همیشه فکر کند که بهترین فرصت من امروز است . امروز را به فردا افکندن و به امید آینده نشستن ، کار درستی نیست . هم چنان که امروز را به یاد آوری گذشته های ازدست رفته ، گذراندن و افسوس خوردن نیز شایسته نیست.

در اولین ساعات حضورش در قم به حرم حضرت معصومه (س) پناه برد . سر بر ضریح آن حضرت گذاشت و آرام اشک ریخت . از خداوند خواست به او در راهی که انتخاب کرده است اخلاص و همت بلند عطا کند و به قلب نگران مادر نیز آرامش و نشاط بخشد و بیماری و کسالت او را شفا دهد.

با آرزوی توفیق روز افزون

والسلام



نمره به عدد :

نمره به حروف :

نام و نام خانوادگی مصحح و امضاء :

بارم	
	ب- پرسش ها (۱۰ نمره) برای هر یک از واژه های زیر ، یک هم خانواده بنویسید. (۱) احساس : کتاب :
۱	
	شکل درست املاي واژه ها را با توجه به معنای جمله از میان واژه های زیر پیدا کنید. (۱) الف- برای شما خداوند متعال قرار می دهد. (عمل ، عجر) ، (امل ، اجر) (عمل ، اجر) ب- او داشت که شما را ببیند. (اصرار - اسرار)
۲	
	با توجه به معنا، املاي کدام واژه نادرست است ؟ (۰/۵) الف- حیات : زندگی ب- امارت : ساختمان ج- عذر : بهانه د- نغز : خوش
۳	
	املاي صحیح واژه های مشخص شده را بنویسید. (۲) « ناگهان پیزمرد از کلبه خارج شد و با صدایی که به قرش شیر شباحت داشت ، فریاد زد : ای موغان ناپاک ! دور شوید. تسلط حکومت جبّار و فاصد ، اکثر مردم را ترسو بار آورده بود.
۴	
	با هریک از حروف زیر ، واژه ای بنویسید. (۱) ک، ا، ب، ت () م، ر، س، ه، د ()
۵	
	واژه ی (منصوب) با کدام واژه هم خانواده نیست . (۰/۵) الف- نصب ب- منصب ج- نصیب د- نصیر
۶	
	صدای (ت) چند شکل دارد ؟ برای هر کدام ، کلمه ای بنویسید. (۱)
۷	
	نام دبیر (عربی) و دبیر (ریاضی) خود را بنویسید. (۱) الف- عربی () ب- ریاضی ()
۸	
	در متن زیر ، غلط های املايي را بیابید و صحیح هر یک را زیر آن بنویسید. (۲) لرزشی در صدای او احساس می شود ولی کم کم جای خود را به حرارت و شور و نشات می دهد. متخصصان و دانشمندان جهانی مجبور شده اند اعطراف کنند که جوانان ما با پشتوانه ی ایمان و حمت و غیرت ، توانسته اند استعداد جوشان و پنهان خود را آشکار کنند.
۹	

نام و نام خانوادگی :

باسمه تعالی

تاریخ : ۸۹/۳/۵

جای مهر

نام پدر :

اداره کل مدارس خارج از کشور

نام دبیر : خانم اسمعیل نژاد

سرپرستی مدارس جمهوری اسلامی ایران در امارات عربی متحده

شعبه ی کلاس :

مجمع آموزشی شارجه (دوره راهنمایی دختران) خرداد ماه (۸۹)

تعداد صفحه : ۲ صفحه

نام درس : املا ی فارسی

پایه : اول راهنمایی

مدت پاسخگویی : ۲۰ دقیقه

نمره به عدد :

نمره به حروف :

نام و نام خانوادگی مصحح و امضاء :

شماره	سؤالات	نمره
۱	املا ی کدام گزینه درست نیست؟ الف) جوی های مزرعه ب) کودکان پرنشات ج) رگ های خشکیده د) کشته های سیراب	۱/۵
۲	املا ی همه گزینه ها بجز گزینه ی با توجه به معنی درست است؟ الف) ظلال: سایه ب) سدر: بالا ج) غریب: نزدیک د) سلاح: درستی	۱/۲۵
۳	شکل درست املا ی واژه را با توجه به معنای جمله برای جای خالی انتخاب کنید؟ با وقت می توان طلا به دست آورد ولی دقایق شده را با طلا نمی توان خرید. الف) صرف/ تلف ب) سرف/ تلف ج) صرف/ تلف دکتر حسابی از خداوند به او در راهی که انتخاب کرده است ، اخلاص و همت عطا کند. الف) خواست ب) خاست با آمدن بهار، طبیعت را از سر می گیرد و گل ها دوباره به میهمانی خانه ی ما می آیند. الف) حیات / حیاط ب) حیاط / حیات ج) هیات / حیاط	۱/۲۵
۴	در متن زیر واژه های نادرست املا یی را پیدا کنید و شکل صحیح آن ها را بنویسید؟ حکومت شاه در پانزدهم خرداد ۴۲ ، آیت الله خمینی، رهبر نهضت اسلامی ایران را دستگیر و زندانی کرد. مردم به نشانه ی اعتراض و حمایت از امام در بسیاری از شهرهای ایران تظاهرات کردند و شمار فراوانی از آن ها به دست معمران شاه ، به شهادت رسیدند. تسلط حکومت های جبار و فاسد، اکسر مردم را سخت ترسو بار آورده و روح شهامت را در آنان کشته بود. بنابراین قدرت دفاع نداشتند. فقط اعضای یک خانواده تصمیم داشتند تا آخرین لحظات از خانه ی خود دفاع کنند.	۰۲

۲	املاي درست واژه هاي زير را بنويسيد؟ الف) فساهت () ب) كم حوصله گي () ج) آب هاي ضلال () د) شور وشوغ ()	5
.۱۵	كدام گزينه مترادف كلمه "زيور" است؟ الف) فشنگ ب) پيرايه ج) جوهر د) زيپ	۶
.۱۵	دو واژه بنويسيد كه با حرف "ع" آغاز شده باشد؟	۷
۱	كلمات زير جزء واژه هاي دو املايي هستند شكل ديگر آن ها را بنويسيد؟ الف) جرنط: ب) مسئله: ج) هيات: د) مسول:	8
.۱۵	كدام يك از كلمات زير بهتر است با "ت" نوشته شود؟ الف) طوس ب) طبل ج) صراط د) بلوط	۹
.۱۵	صدای "ن" در کدام گزینه به صورت تتوین (ا) نوشته می شود؟ الف) آموختن ب) معمولن ج) دانستن د) سياختن	۱۰
۱	علامت تشديد را روی حروف مشدد بگذاريد؟ الف) تمدن: ب) علميه: ج) تحمل: د) خصوصيات:	11
۱۰	موفق باشيد	جمع بارم



نام و نام خانوادگی :	باسمه تعالی	تاریخ : ۱۳۸۹/۳/۵
نام پدر :	اداره کل مدارس خارج از کشور	نام دبیر : خانم اسمعیل نژاد
شعبه ی کلاس :	سرپرستی مدارس جمهوری اسلامی ایران در امارات عربی متحده	تعداد صفحه : اصفحه
نام درس : املا	مجتمع آموزشی شارجه (دوره راهنمایی دختران) خرداد ماه (۸۹)	مدت پاسخگویی :
نمره به عدد :	پایه : اول راهنمایی	

نمره به عدد :	نمره به حروف :	نام و نام خانوادگی مصحح و امضاء :
---------------	----------------	-----------------------------------

ردیف	متن املائی تقریری	ردیف
	<p>ای حلال مشکلات پنهان ، درمان آن دردها که به هیچ کس نمی توان گفت ، در دست های توست اما را محتاج دست های درد نا شناس مکن .</p> <p>ای کمیل ، گنجوران مال ، مرده اند ، گر چه زنده اند ودانشمندان ،چندان که روزگار باید ، پاینده اند . تن ها شان نا پایدار است ونشانه هاشان دردل ها آشکار .</p> <p>آب ،این روح مذاب امید و زندگی ، تازه نفس ،زلال ونپرومند با گام های استوار شتابان می رفت تا خود رابه دهان خشک زمین وصدها کشتزار سوخته ونگاه های پژمرده ی هزاران درخت تشنه برساند ودر رگ های خشکیده ی جوی های مزرعه و کوچه باغ های مرده ، جاری گردد.</p> <p>فرزندان عزیزم، اطاعت وخدمت پدران ومادراتان را غنیمت شمارید وآن ها را از خود راضی کنید وبه معلم هایتان احترام زیاد بگذارید.</p> <p>پروین از کودکی کوشا واهل تفکر بود. وی کودکی آرام وبا استعداد ، با راهنمایی وکمک پدرش،سرودن شعر را آغاز کرد. پدر از پروین هم چون مرواریدی در صدف، با دقت مراقبت می کرد.</p> <p>شهید رجایی ، معلمی متواضع وصمیمی ودر کارش بسیار دقیق ومنظم وجدی بود . وقتی رئیس جمهور هم شد ، مردم او را دوست داشتند.</p> <p>دونا گفت : خداوند "نمی توانم" را قرین رحمت خود کند وبه همی آن هایی که حضور دارند ، قدرت عنایت فرماید که بی حضور او به سوی آینده ی بهتر حرکت کنند.</p>	

به نام خدا
سرپرستی مدارس جمهوری اسلامی ایران در امارات عربی متحده
مجتمع آموزشی نمونه توحید دختران

مدت امتحان: ۵۰ دقیقه * تاریخ امتحان: ۸۹/۳/۱۶	پایه تحصیلی: اول راهنمایی	نام و نام خانوادگی:
نام دبیر: واثق	نام درس: عربی	نام کلاس:
امضا دبیر:	نمره به حروف:	نمره به عدد:

ردم	ردیف	سوال
۱۵	۱	<p>نام هر تصویر را زیر آن بنویسید.</p> <div style="display: flex; justify-content: space-around; align-items: center;"> <div style="border: 1px solid black; padding: 5px; text-align: center;">  </div> <div style="border: 1px solid black; padding: 5px; text-align: center;">  </div> </div>
۱۵	۲	<p>فقط کلمات مشخص شده را ترجمه کنید.</p> <p>الف) درجوی آب افتاد. (.....)</p> <p>ب) عَلَى المائدة طعام. (.....)</p>
۱۵	۳	<p>جاهای خالی را با کلمات مناسب پر کنید.</p> <p>الف) سَقَطَت الشجرة الباسقة. درخت افتاد.</p> <p>ب) نه، ثروت از بین رفته است. لا، الثروة</p>
۱۵	۴	<p>ترجمه صحیح را با علامت (x) مشخص کنید.</p> <p>الف) يَذْهَبُ الوالد الى البيت.</p> <p>۱- پدریه خانه بازگشت. <input type="checkbox"/></p> <p>۲- پدریه خانه می رود. <input type="checkbox"/></p> <p>ب) این کیست؟ این معلم است.</p> <p>۱- مَنْ هذا؟ هذا معلم. <input type="checkbox"/></p> <p>۲- ما هذا؟ هو معلم. <input type="checkbox"/></p>
۲۵	۵	<p>جمله های عربی را به فارسی و جمله فارسی را به عربی ترجمه کنید.</p> <p>الف) قالت النحلة: هذا عمود.</p> <p>ب) انا افضل، ولا شك.</p> <p>ج) ولدى! أين الكنز؟</p> <p>د) رَسَمَ نهراً صغيراً.</p> <p>ه) این هواپیما است.</p>
۱۵	۶	<p>با کلمات پراکنده زیر یک جمله صحیح بسازید.</p> <p>القلم / التلميذة / أخذت</p> <p>.....</p>

۷) کدام کلمه با بقیه ناهماهنگ است؟

- الف) طیب □ صفحه □ فتحت □ القلم □
ب) فوق □ تحت □ هی □ أمام □

۸) غلط‌های مشخص شده را اصلاح کنید.

الف) هذه الامهات صابرات .


ب) هاتان المسلم ناجحتان .

۹) با توجه به دوری و نزدیکی تصویر در جای خالی اسم اشاره مناسب بنویسید.

الف) _____ بقرة



ب) _____ الاطفال



۱۰) پاسخ مناسب ستون الف را در ستون ب بیابید. (یک پاسخ اضافه است)

ب

الف

صورة

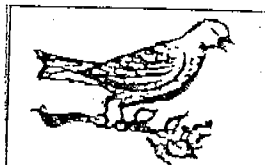
من فی الصف؟

الكتاب

ما هذه؟

الطالبة

۱۱) با توجه به تصاویر به سوالات زیر پاسخ دهید.



این الطائر؟



هل هذان واقفان؟

۱۲) انواع کلمه (اسم، فعل، حرف) را از میان کلمات مشخص شده معلوم کنید.

نجح اخي فی الامتحان.



۱۳) هر جمله را زیر تصویر مناسب آن قرار دهید. (دو جمله اضافه است)

الف) هاتان جالستان .

ب) هذان جالستان .

ج) اولنک واقفات .

د) اولنک واقفون .



۱۴) جمع مکسر کلمات زیر را بنویسید.

الف) فريضة: ب) شمس:

۱۵) هر کلمه را در جای مناسب آن بنویسید. (دو کلمه اضافه است).

مؤمتان / صادقات / اعلام / صالحه / فاضل / حافظان

مثنى مؤنث	جمع مکسر	مفرد مذکر	مفرد مؤنث

۱۶) برای پاسخهای زیر سوال مناسب بنویسید.

الف)؟ تلك الفاكهة.

ب)؟ التلميذ في الصف .

۱۷) کلمات داده شده را در عبارت زیر قرار داده و با تغییرات لازم جمله را بازنویسی کنید .

هذا الطالب في الغرفة

الف . الحديقة :

ب . التلميذة :

۱۸) ☀️ الدراسة القرآنية :

باتوجه به معنی هر آیه جاهای خالی را با کلمه های مناسب پر کنید .

جنة من نخيل و طيب □ عنب □ رمان □

باغی از خرما و انگور

و اذا ال سيرت . انهار □ بحار □ جبال □

هنگامی که کوه ها به حرکت درآیند .

نام و نام خانوادگی:

سرپرستی مدارس جمهوری اسلامی ایران - ادارات

تاریخ: ۱۳۸۹/۳/۱۶

مجتمع آموزشی امام خمینی (ره) ابوظبی

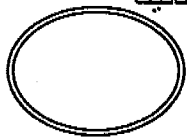
امتحان درسی: عربی

پایه و رشته تحصیلی: اول راهنمایی

وقت: ۷۰ دقیقه

نام دبیر: علی ایزدی

شماره صندلی:



ردیف	سوالات	بارم
۱	معنی واژه های زیر را بنویسید . الف) العُصن : ب) فاکهة : ج) سماء : د) لیس :	۱
۲	در میان هر دسته ، هر کلمه با کلمات دیگر فرق دارد ؛ آن را مشخص کنید . الف) ساعة □ دفتر □ سفينة □ نافذة □ ب) امام □ جنب □ ذلك □ فوق □ ج) نعم □ من □ هل □ ما □ د) جالسون □ مؤمنات □ صادقین □ مجتهدون □	۱
۳	در مقابل جمله ی صحیح (ص) و در مقابل جمله ی غلط (غ) قرار دهید . هذا مسجد □ تلك بحر □ تلك نجمة □ هذه صخرة □	۱
۴	جملات زیر را به فارسی ترجمه کنید .	۴

٤	<p>٤ جملات زیر را به فارسی ترجمه کنید .</p>
	<p>الف) أَنْظِرْ إِلَى هَاتَيْنِ الشَّجَرَتَيْنِ .</p> <p>ب) نَعَمْ الْجِدُّ مِفْتَاحُ النَّجَاحِ .</p> <p>ج) ثُمَّ جَاءَ مُعَلِّمُ الرَّسْمِ .</p> <p>د) الْكَنْزُ تَحْتَ تِلْكَ الْخَرْبَةِ .</p>
١	<p>٥ به عربی ترجمه کنید : آیا کتاب کنار کیف است ؟</p>
٠/٥	<p>٦ غلط های موجود در عبارت زیر را مشخص کرده و صحیح آنرا بنویسید .</p> <p>مَنْ تِلْكَ ؟ ذَلِكَ سَيَّارَةٌ</p>
٠/٥	<p>٧ جاهای خالی را با یکی از کلمات داده شده پر کنید .</p> <p>الف) تِلْكَ فَرَاشَةٌ ؟ (مَنْ ، نَا ، هَل)</p> <p>ب) كَانَتِ الشَّجَرَتَانِ الْغَابَةِ . (تَحْتَ ، فِي ، إِلَى)</p>
٠/٥	<p>٨ سؤال مناسبی را برای پاسخ زیر بنویسید .</p> <p>..... هِيَ طَبِيبَةٌ ؟</p>
١	<p>٩ هر یک از کلمات زیر را در جای مناسب خود قرار دهید و تغییرات لازم را انجام دهید .</p> <p>تلك طالبة في البيت</p> <p>الف) الْمُعَلِّمُ :</p> <p>ب) الْمَسْجِدُ :</p>

۱	<p>با اسم اشاره ی مناسب جاهای خالی را پر کنید .</p> <p>الف) رجالّ</p> <p>ب) حديقة</p> <p>ج) عالمان المحترمان</p> <p>د) وردتان جميلتان</p>	۱۰
۰/۵	<p>مفرد اسم های مثنی و مثنای اسم های مفرد زیر را بنویسید .</p> <p>نَمْلَةٌ:</p> <p>رَجُلَان :</p>	۱۱
۰/۵	<p>اسم های زیر را با در نظر گرفتن مذکر و مؤنث بودن آنها جمع ببندید .</p> <p>صالحة :</p> <p>مسلم :</p>	۱۲
۱/۵	<p>با استفاده از کلمات زیر جمله بسازید .</p> <p>الف) نَجَحَ ، فی الامتحان اخي</p> <p>ب) مدينة ، جميلة ، هذه</p>	۱۳
۱	<p>جاهای خالی را با استفاده از معنی آیات پر کنید .</p> <p>إِنَّ الدِّينَ الإسلامُ . (همانا دین نزد خداوند اسلام است .)</p> <p>جَنَّةٌ مِنْ نَخِيلٍ و (باغی از خرما و انگور)</p> <p>و من ... توفیق</p>	۱۴

ردیف	سوال	بارم
۱	عبارت های زیر را ترجمه کنید. الف) تَوَقَّعْتُ فِي سَاقِيهِ مَاءٍ ب) هَلْ تُحِبُّ الطَّيُورَ الْقَفْصَ؟ ج) يَا لَيْتَنِي كُنْتُ صَغِيرَةً. د) النَّمْلَةُ فِي الْحَدِيقَةِ.	۲
۲	جواب دهید الرَّسْمُ (بالفارسيه) دانه (بالعربيه)	۰/۵
۳	هر یک از کلمات داده شده زیر را به اسم اشاره مناسب وصل کنید. سقینه ماء قوم شجره ورده هَذَا هَذِهِ شمس ثوب سیاره قمر	۳/۲۵
۴	با توجه به تصویر پاسخ مناسب بدهید. الف) هل هذا جَبَلٌ؟ ب) هل هذه وردة؟	۱
۵	شمسی یا قمری بودن کلمات زیر را مشخص نمایید. هدهد - أسد - صحیح - جمیل - زارع	۱/۲۵
۶	جاهای خالی را با کلمات داده شده پر کنید. التجاح العمل (فوق ، فی ، تحت) اولئك ؟ (ما - هذا - من) الکعبه المسلمین (بیت ، قبله)	۱/۵
۷	الف) جمع مذکر سالم از عالم ب) جمع مونث سالم از مومنه ج) جمع مکسر از مسجد	۱/۵
	د) جمع مکسر رگن و) جمع عبد ه) مفرد ائمه	

۱	<p>۸ با اسم اشاره مناسب جاهای خالی را پر کنید.</p> <p>(الف) معلمات (ب) مدینه جمیله (ج) عالمان محترمان (د) تفاحتان</p>
۱	<p>۹ هم خانواده کلمه های داخل دایره را در آیات پیدا کنید.</p> <div style="display: flex; justify-content: space-around; align-items: center;"> <div style="text-align: center;"> <p>و الله عنده حسن ثواب</p> <p>قولوا للناس حسناً</p> </div> <div style="font-size: 2em;">}</div> <div style="text-align: center;"> <p>حسنأ</p> </div> <div style="text-align: center;"> <p>و عنده مفتاح التیب</p> <p>انت خیر الفاتحین</p> </div> <div style="font-size: 2em;">}</div> <div style="text-align: center;"> <p>مفتاح</p> </div> </div>
۱۵	<p>۱۰ جمله زیر را به عربی ترجمه کنید. دانش آموزان کوشا هستند:</p>
۱۵	<p>۱۱ با توجه به شکل به سئوالات زیر پاسخ دهید .</p> <p>(الف) فی السماء (ب) جالسان (ج) این مدرسه؟ (د) السیاره</p>
	<p>۱۲ نوع کلمات زیر را مشخص کنید. </p> <p>سَقَطَتْ - النساء - یلعب - فی</p> 

باسمه تعالی

اداره کل مدارس خارج از کشور
سرپرستی مدارس جمهوری اسلامی ایران در امارات عربی متحده
مجتمع آموزشی شارجه - مقطع راهنمایی
نوبت دوم - سال تحصیلی ۱۳۸۹ - ۱۳۸۸

نام خانوادگی :
سوالات درس : عربی ایران
کلاس : اول راهنمایی

تاریخ : ۸۹ / ۳ / ۲۴
نام دبیر : حیدری
تعداد صفحه : ۲
مدت پاسخ گویی : ۶۰ دقیقه


نمـره :

شماره ی برگه :

شرح سـوالـات

نـمـره

۴	<p>عبارات زیر را به فارسی ترجمه کنید؟</p> <p>۱- بدأ التلاميذ بالرسم.</p> <p>۲- يَحْمِلُ هَذَانِ الرَّجُلَانِ فَاسِينَ..</p> <p>۳- الكنزُ خلفَ الجبالِ و في البحارِ .</p> <p>۴- الأفضلُ صاحبُ الصفاتِ الحسنةِ.</p> <p>۵- هل على المائدةِ طعامٌ .</p> <p>۶- هل هذا لو لوّ لا ، هذا غيبٌ .</p> <p>۷- لا تقريبا هذه الشجرة .</p> <p>۸- هذا بسيطٌ جداً .</p>	۱
۱	<p>جمله های زیر را به عربی ترجمه کنید؟</p> <p>۱- کتاب کنار کیف است.</p> <p>۲- آیا این ماشین است؟</p>	۲
۱	<p>کلمه های عربی را به فارسی و فارسی را به عربی برگردانید.</p> <p>غزاة..... باسقة.....</p> <p>کلید..... دانه.....</p>	۳
۵	<p>هم خانواده ی کلمات داده شده را در آیات مقابل بنویسید؟</p> <p>كبيرة و رضوان من الله أكبر.</p> <p>شدید و الذين آمنوا أشد حياء لله.</p>	۴
۱	<p>جمع مکسر اسم های زیر را بنویسید؟</p> <p>شخص..... رجل.....</p> <p>امر..... باب.....</p>	۵
۱	<p>مفرد اسم های زیر را بنویسید؟</p> <p>مومنات..... مخلصون.....</p> <p>ایام..... فاسین.....</p>	۶

۲	<p>برای هر جمله اسم اشاره مناسب انتخاب کنید؟</p> <p>۱- عالمان محترمان (هاتان- هذان- هذین). ۲- شجرة (هذا- هذه- تلك) ۳- مدینتان (هاتان- هذان). ۴- جبل (تلك- تلكا- هولاء)</p>	۷									
۱	<p>هر کدام از کلمات جمله را در جای مناسب قرار دهید؟ نظرن سعيداً الى الرسم.</p> <table border="1" data-bbox="175 537 1388 739"> <thead> <tr> <th data-bbox="175 537 510 627">اسم</th> <th data-bbox="510 537 941 627">فعل</th> <th data-bbox="941 537 1388 627">حرف</th> </tr> </thead> <tbody> <tr> <td data-bbox="175 627 510 672"></td> <td data-bbox="510 627 941 672"></td> <td data-bbox="941 627 1388 672"></td> </tr> <tr> <td data-bbox="175 672 510 739">////////////////////</td> <td data-bbox="510 672 941 739">////////////////////</td> <td data-bbox="941 672 1388 739">////////////////////</td> </tr> </tbody> </table>	اسم	فعل	حرف				////////////////////	////////////////////	////////////////////	۸
اسم	فعل	حرف									
////////////////////	////////////////////	////////////////////									
۵/۵	<p>کدام کلمه با بقیه هماهنگی ندارد؟</p> <p>صابرين مسلمون کتابين حافظون</p>	۹									
}	<p>سوال های مناسبی برای پاسخ های زیر بنویسید؟</p> <p>۱-؟ تلك طبيب. ۲-؟ كانت النملة في الحديقة.</p>	۱۰									
۱	<p>غلط های موجود را تصحیح کنید؟</p> <p>۱- هذا بقرة كبيرة. ۲- هذان المسلمون ناجحون. ۳- تلك كتاب مفيد. ۴- هو مومنة بالله.</p>	۱۱									
۵/۵	<p>با توجه به تصویر پاسخ دهید؟</p> <p>من هو؟</p> 	۱۲									
۵/۵	<p>کلمات مشخص شده را به صورت جمع منکر بنویسید؟</p> <p>تلك الطالب في الصف.</p>	۱۳									

نام و نام خانوادگی:

باسمه تعالی

تاریخ: ۱۳۸۹ / ۳ / ۱۶

نام پدر:

اداره کل مدارس خارج از کشور

نام دبیر: فرجام

نام درس: عربی

سرپرستی مدارس جمهوری اسلامی ایران در امارات عربی متحده

تعداد صفحه: ۳

مجمع آموزشی شارجه (دوره راهنمایی) خرداد ماه (۸۹)



مدت پاسخ گویی: ۶۰ دقیقه

پایه: اول راهنمایی

نمره به عدد:

نمره به حروف:

نام و نام خانوادگی مصحح و امضا:

۰/۵	<p>۱ در مقابل جمله ی صحیح (ص) و در مقابل جمله غلط (غ) بنویسید:</p> <p>الف - ذلكَ غرفةٌ. ()</p> <p>ب - برای ساختن جمع مکسر قاعده ی خاصی وجود ندارد. ()</p>	۱
۰/۵	<p>۲ گزینه صحیح را مشخص کنید:</p> <p>الف - معنای کدام گزینه <u>غلط</u> است ؟</p> <p>ساقية : جوی <input type="checkbox"/> كُنتَ : گفت <input type="checkbox"/> يَحْمِلُ : حمل می کند <input type="checkbox"/> سَبِيل : راه <input type="checkbox"/></p> <p>ب - کدام کلمه پرسشی جمله مقابل را کامل می کند ؟ « الجندی ؟ - الجندی فی الشارع . »</p> <p>مَنْ <input type="checkbox"/> أَيْنَ <input type="checkbox"/> مَا <input type="checkbox"/> هَلْ <input type="checkbox"/></p>	۲
۱/۷۵	<p>۳ جای خالی را با یکی از کلمات داده شده پر کنید</p> <p>الف - ذَهَبَ التلاميذُ المدرسةَ. (إلى - على - و)</p> <p>ب - النملتانِ على الجدارِ. (هذان - هاتان - هؤلاء)</p> <p>ج - المؤمنُ يدعو (قبلة - الله - أحبُّ)</p>	۳
۱	<p>۴ جای خالی را با کلمات مناسب پر کنید:</p> <p>الف - هو ؟</p> <p>هو .</p> <p>ب - تلكَ نَمَلَةٌ ؟</p> <p>لا ، تلكَ</p>  	۴
۱	<p>۵ در جای خالی اسم اشاره نزدیک مناسب بنویسید:</p> <p>..... وارثونَ. عالمةٌ. مُجتهدانَ. رجالٌ.</p>	۵

۰/۱۵	هم خانواده کلمات داخل پرانتز را در آیات زیر مشخص کنید: الف - (ناصر) كونوا أنصارَ الله. ب - (حسنة) قولوا للناسِ حسناً.	۶
۰/۱۵	با توجه به ترجمه ی آیات، در جای خالی کلمه مناسب بنویسید. الف - اللهُ الَّذِي سَخَّرَ لَكُمْ ال..... « خداوند است که دریا را برای شما رام کرد. » ب - جَنَّةٍ مِنْ نَخِيلٍ وَ..... « باغی از خرما و انگور »	۷
۰/۱۵	در هر سطر کلمه ناهماهنگ را مشخص کنید. الف - تحت <input type="checkbox"/> خلف <input type="checkbox"/> ذلك <input type="checkbox"/> جنب <input type="checkbox"/> ب - فی <input type="checkbox"/> أخذ <input type="checkbox"/> إلى <input type="checkbox"/> من <input type="checkbox"/>	۸
۰/۱۵	ترجمه ناقص را کامل کنید: سَقَطَتِ الشَّجَرَةُ الْبَاسِقَةَ. درخت	۹
۱۷۵	این لغات را ترجمه کنید: فأس () جاء () کلید ()	۱۰
۳/۱۵	این جملات را به فارسی ترجمه کنید الف - الغزاة في الغابة. ب - الفراشة فوق الغصن. ج - رسم صورة الشمس في السماء. د - تسعت النحلة يد الصياد.	۱۱
۱	جملات زیر را به عربی ترجمه کنید: الف - این کشتی است. ب - راستگویان در بهشتند. (مذکر)	۱۲
۰/۱۵	مفرد این کلمات را بنویسید: واقفون () ایام ()	۱۳
۰/۱۵	مثنی این کلمات را بنویسید: صالح () سیارة ()	۱۴

سرپرستی مدارس جمهوری اسلامی ایران در امارات عربی متحده

مجتمع آموزشی پسرانه نمونه توحید دبی

مقطع راهنمایی نمونه توحید دبی

مهر مقطع

امتحان درس: عربی	کلاس اول	تاریخ امتحان: ۸۹/۳/۱۴
نام و نام خانوادگی:		سال تحصیلی ۸۸/۸۹
نام دبیر:	شماره صندلی:	وقت امتحان: ۶۰ دقیقه

((موفقیت شما آرزوی ماست))

{ ۱ } ترجمه کنید: { ۳ }

الف { تَمَّ رَسَمٌ نَهْرًا صَغِيرًا :

ب { يَحْمِلُ هَذَانِ الرَّجُلَانِ قَاسِينَ :

ج { الْجِدُّ مِفْتَاحُ النَّجَاحِ وَ التَّعَاوُنُ مِفْتَاحُ السَّعَادَةِ :

{ ۲ } کلمات زیر را به عربی ترجمه کنید: { ۳ }

الف: راستگویان { مرد } ب: کوهها ج: کبوتر د: ابر
ب: او کیست؟ او معلم است: { مذکر }

ج: دانش آموزان کوشا هستند: { مونث }

{ ۳ } با اسم اشاره مناسب کامل کنید: { ۱ }

..... ناجحان قانعات تلميذة معلمتان .

{ ۴ } جمع مکسر کلمات زیر را بنویسید: { ۱ }

قمر : یوم امین امام

{ ۵ } در هر سطر کلمه ای که با بقیه هماهنگی ندارد را مشخص کنید: { ۱ }

مومنون - صادقین - عالمین - صابرون .

مِن - الی - فی - مِّن .

باسمه تعالی

سال تحصیلی: ۸۸-۸۹
تاریخ امتحان: ۱۳۸۹
شماره صفحه:



راهنمای تصحیح درس: عربی
پایه: لول راهنمای
دوره: راهنمای
رشته:

نمون برگ شماره ۲

بل توجه طراحان: ۱- لطفاً پاسخ سوالات بطور کامل قید گردد (با ذکر ریز بارم) ۲- از دادن آدرس بعنوان مثال (مراجعه به متن ص ۲۰ و یا... خودداری شود)

بارم	راهنمای تصحیح	دیف
	<p>الف: سپین رودخانه که چلی را کشید ب: این دو در نتیجه حمل می کنند. ج: کوشش کلیه موفقیت و همکاری کلیه خوشبختی است.</p> <p>۲- صادقین - جبال - حمایه - سفایه / سه هو، هو معلم . التلیذات مجتهدات ۳- هذان - اولنگ - هذیه - هاتان ۴- اقرار - ایام - اسناد . ائمه ۵- عالین . سن ۶- معلین - هولاد - سائلک - نلک حدیقه ۷- سمنی > الاملاب / الصانع / حمرا > حاب ۸- سه ذلک ؟ ذلک طیب ب: هل هذیه سغیره ؟ نلح هذیه سغیره ۹- سغیرتان / کتابان ۱۰- حافظون / وارثون کتابات / مسلمات</p>	